

تم تحميل هذا الملف من موقع المناهج العمانية



تجميع أسئلة اختبارات نهائية لدرس النقل

[موقع المناهج](#) ⇨ [المناهج العمانية](#) ⇨ [الصف الحادي عشر](#) ⇨ [جغرافيا](#) ⇨ [الفصل الثاني](#) ⇨ [الملف](#)

تاريخ إضافة الملف على موقع المناهج: 09:55:39 2024-06-01

إعداد: لخيار سعيد العمري

التواصل الاجتماعي بحسب الصف الحادي عشر



اضغط هنا للحصول على جميع روابط "الصف الحادي عشر"

روابط مواد الصف الحادي عشر على تلغرام

[الرياضيات](#)

[اللغة الانجليزية](#)

[اللغة العربية](#)

[التربية الاسلامية](#)

المزيد من الملفات بحسب الصف الحادي عشر والمادة جغرافيا في الفصل الثاني

[تجميع اسئلة اختبارات نهائية لدرس الاتصالات](#)

1

[تجميع أسئلة اختبارات نهائية لدرس التجارة الدولية](#)

2

[تجميع أسئلة اختبارات نهائية لدرس السياحة المفهوم والأهمية](#)

3

[تجميع أسئلة اختبارات نهائية لدرس أنواع السياحة](#)

4

[تجميع أسئلة اختبارات نهائية لدرس النظام السياحي مخرجات](#)

5

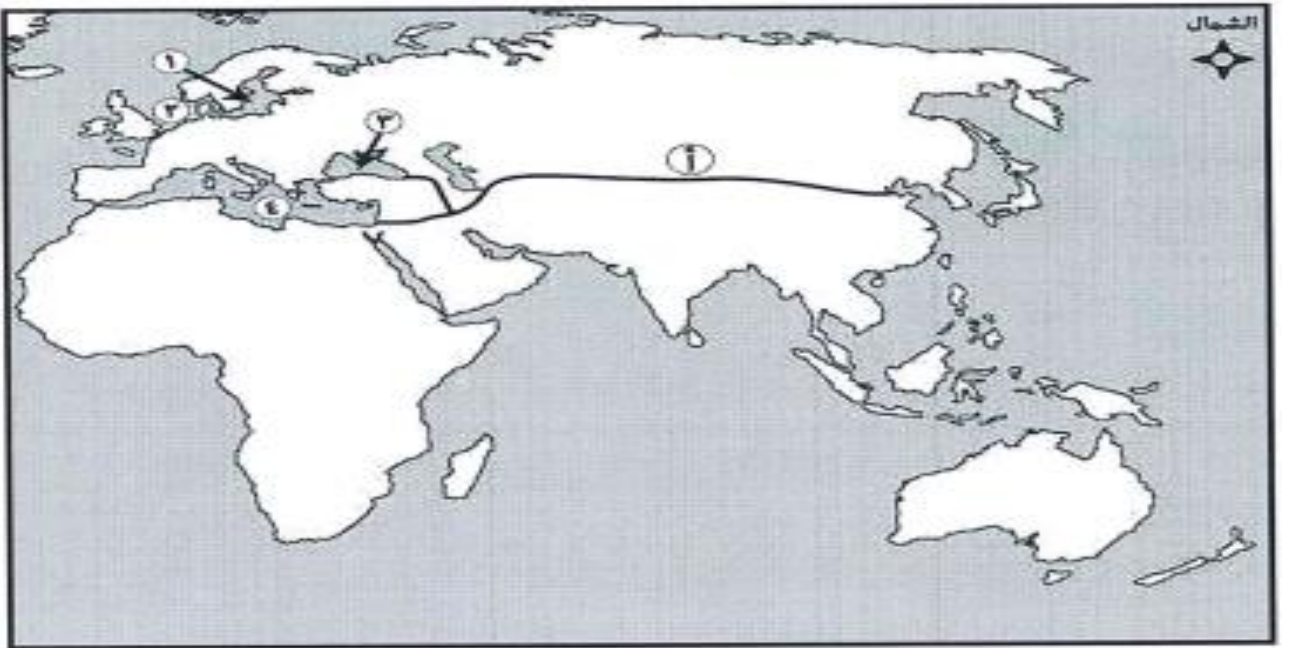
تجميع اختبارات نهاية في مادة الجغرافيا الاقتصادية للصف الحادي عشر الدرس : النقل
الأستاذة: لخيار سعيد العمري مدرسة خديجة بنت خويلد للتعليم الأساسي (٥-١٢) محافظة ظفار

السؤال الأول: ضع دائرة حول رمز الإجابة الصحيحة لكل مفردة من المفردات الآتية:-

- ١- أفضل وسيلة مستخدمة لنقل مورد الطاقة () المشار إليه بالرمز من الموقع (أ) إلى الموقع (ب) في الخريطة المقابلة:-
أ-الشاحنات ب- السفن ج- الأنابيب د- الطائرات



مستعيناً بالخريطة التي أمامك أجب عن المفردتين (٢ و ٣):-



- ٢- أهم السلع التي كانت تنقل عبر الطريق القديم والمشار إليه بالرمز (أ):
أ-الملح ب- القمح ج- الحرير د- اللبان
٣- الأرقام التي تشير إلى البحار التي كانت تربط تجارة العنبر بين الشمال والجنوب في سواحل قارة أوروبا:-
أ- ١ و ٤ ب- ٣ و ٤ ج- ١ و ٢ د- ٢ و ٣

٤- أي الأنهار التالية يعد الأفضل للملاحة النهرية :-

النهر الأول	النهر الثاني	النهر الثالث	النهر الرابع
مصب النهر عريضاً يخلو من الجنادل كثير التعرج	دائم الجريان مصب النهر عريضاً يخلو من الجنادل	يخلو من الشلالات كثير الانحدار كثير الجنادل	متقطع الجريان مصب النهر عريضاً يخلو من الجنادل

(أ) (ب) (ج) (د)

٥- الشكل الصحيح الذي يمثل نسبة ما يتم نقله بواسطة النقل البحري من حجم التجارة العالمية :-



٦- الدولة التي يوجد بها أكبر شبكة نقل عن طريق الأنابيب في العالم :-

أ-روسيا ب- بريطانيا ج- الصين د-الولايات المتحدة الأمريكية

٧-النهر الذي يتميز بأكثف حركة نقل نهري في العالم :-

أ-الأمازون ب-الراين ج- الفولجا د- المسيسيبي

٨- الخط الملاحي البحري الرئيسي الذي يصل بين موانئ شمال غرب أوروبا وموانئ أمريكا الجنوبية :-

أ-الأطلسي الشمالي ب- قناة السويس ج- رأس الرجاء الصالح د- الأطلس الجنوبي

٩-الدولة التي يوجد فيها أطول خطوط سكك حديدية :-

أ-المانيا ب- الولايات المتحدة الأمريكية ج- فرنسا د- جمهورية روسيا الاتحادية

١٠- التقنية الحديثة المستخدمة في تخطيط شبكات الطرق وإجراء دراسات تحليلية عنها :-

أ-GIS ب-GPC ج-RS د-Google Earth

١١- نظام يساعد السفن على تحديد مواقع البحار والمحيطات عن طريق الاتصال بالأقمار الصناعية :-

أ-GIS ب-RS ج-ICOMOS د-GPS

١٢-يربط خط رأس الرجاء الصالح بين :-

أ-أوروبا وآسيا ب-أمريكا وأستراليا ج-أمريكا وآسيا د- أوروبا وأستراليا

١٣- من أكثر الشعوب القديمة شهرة في تمهيد كبيرة من الطرق البرية:-


أ-اليونان ب- الفراعنة ج-الرومان د- الفرس

١٤-من العوائق التي تواجه النقل الجوي:-

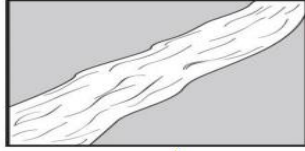
أ-السلاسل الجبلية ب- الغطاءات الجليدية ج-غزارة تساقط الثلوج د-امتداد الغابات الكثيفة

١٥-الشكل الصحيح الذي يوضح المجرى المائي المناسب


للملاحة المائية:



ب



ا



د



ج

الحمولة	خفيفة
المسافة	طويلة
السرعة	عالية

ب

الحمولة	ثقيلة
المسافة	طويلة
السرعة	عالية

ا

الحمولة	ثقيلة
المسافة	قصيرة
السرعة	عالية

د

الحمولة	ثقيلة
المسافة	طويلة
السرعة	بطيئة

ج

١٦-الجدول الصحيح الذي يمثل مميزات النقل

بالسكك الحديدية:-

الكمية	كبيرة
تكلفة الصيانة	قليلة
تكلفة النقل	قليلة

١٧-الجدول المقابل يبين مميزات النقل بواسطة:-

أ-الشاحنات ب-الطائرات ج-ال سفن د-السكك الحديدية

١	الولايات المتحدة الأمريكية
٢	الصين
٣	روسيا

ب

١	روسيا
٢	الولايات المتحدة الأمريكية
٣	الصين

د

١	الولايات المتحدة الأمريكية
٢	روسيا
٣	الصين

ا

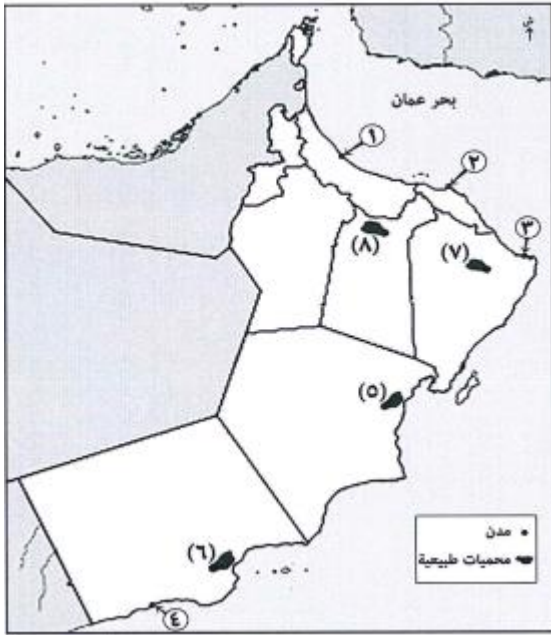
١	الصين
٢	روسيا
٣	الولايات المتحدة الأمريكية

ج

١٨-الجدول الذي يمثل أكبر ثلاث دول في

العالم من حيث أطول خطوط سكك حديد:-

١٩- الرقم الذي يشير إلى المدينة العمانية التي يوجد فيها ميناء لتصدير الغاز :-



٢٠- الجدول الصحيح الذي يمثل مميزات النقل بالأنابيب :-

أرخص أنواع النقل
يتأثر بالظروف الجوية
يمتد لمسافة طويلة

ب

أرخص أنواع النقل
لا يتأثر بالظروف الجوية
يمتد لمسافة طويلة

أ

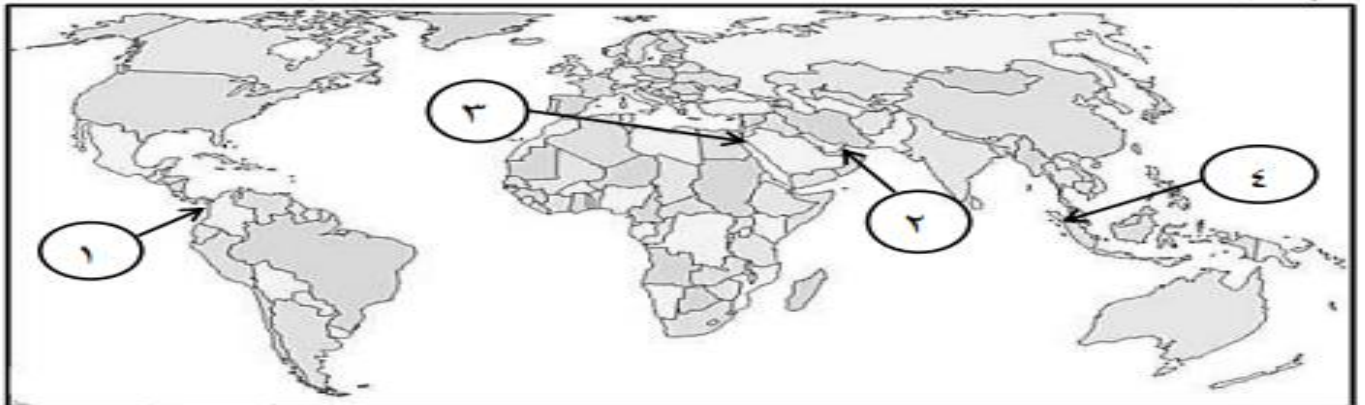
أغلى أنواع النقل
يتأثر بالظروف الجوية
يمتد لمسافة طويلة

د

أغلى أنواع النقل
لا يتأثر بالظروف الجوية
يمتد لمسافة قصيرة

ج

٢١- الرقم الذي يشير إلى الممر المائي الذي يربط بين قارات العالم القديم من خلال الخريطة المقابلة



أ- ١ ب- ٢ ج- ٣ د- ٤

السؤال الثاني: أجب عن الأسئلة التالية :-

١- اذكر مما يأتي:

أ- مميزات النقل بالسكك الحديدية

ب- إجراءات تتبعها دول العالم للتقليل من الآثار البيئية التي تخلفها وسائل النقل

ج- أهمية النقل في المجال الاقتصادي

د- المميزات الاقتصادية للنقل بالأنابيب

هـ- تطبيقاً واحداً في نظم المعلومات الجغرافية (GIS) استفادت منها بعض دول العالم في مجال النقل

تابع : السؤال الثاني :

٢-فسر :

أ-استخدام جهاز GPS في الملاحة البحرية

ب-يجب أن يكون مصب النهر عريضاً ليكون صالحاً للملاحة

٣-تؤثر وسائل النقل بأنواعها المختلفة سلباً على البيئة إذ تسهم في زيادة الانبعاثات المسببة للاحتباس الحراري " في ضوء العبارة السابقة :

أ-وضح الإجراءات المتبعة للتقليل من الآثار البيئية التي تخلفها وسائل النقل

ب-علل : تسبب ناقلات النفط العملاقة تلوثاً لمياه البحار والمحيطات

٤-عرف ما يلي : -النقل المستدام-طريق العنبر

٥- دلل على كلا من : أثر وسائل النقل في زيادة ظاهرة الاحتباس الحراري

٦-قارن بين النقل الجوي والنقل بالأنابيب من حيث التكلفة وطبيعة المواد المنقولة :-

أوجه المقارنة	النقل الجوي	النقل بالأنابيب
التكلفة	تكلفة عالية	(١).....
طبيعة المواد المنقولة	(٢).....	النفط والغاز

٧-وضح في جدول مميزات وعيوب النقل بالأنابيب :-

مميزات النقل بالأنابيب	عيوب النقل بالأنابيب
.....
.....

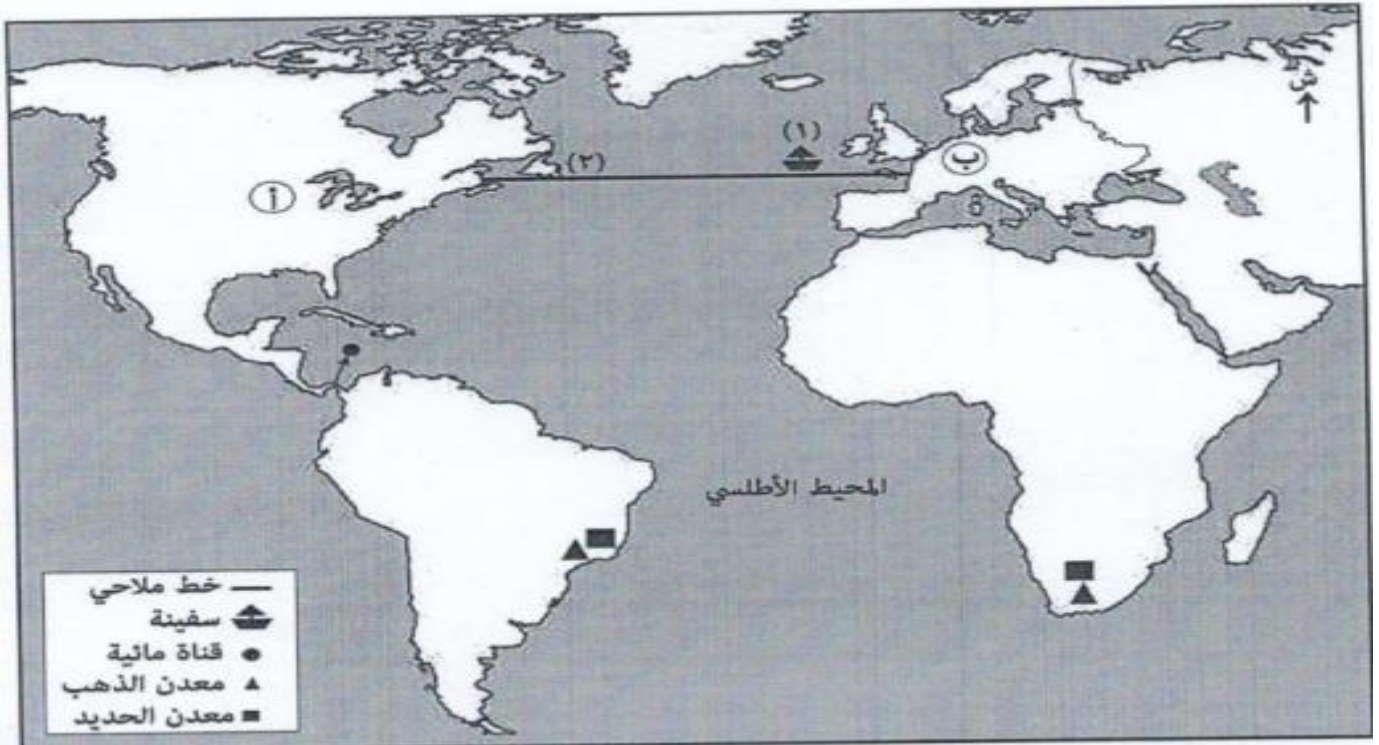
٨-صنف السلع التجارية التي كانت تنقل عبر الطرق البرية في العالم القديم في الجدول أدناه :

(العاج - الحرير - الفيروز - الجلود)

السلع	الطرق البرية
.....	طرق القوافل القديمة في قارة آسيا
.....	طرق القوافل العربية

٩- التعامل مع الخرائط:

١- استعن بالخریطة التي أمامك ثم أجب عن الأسئلة التي تليها:



أ- ارسم الخط الملاحي البحري (الأطلس الجنوبي) في الخريطة باستخدام الرمز الخطي ()

ب- " تعد القناة المشار إليها بالرمز () في الخريطة أعجوبة هندسية في طريقة انتقال السفن عبرها " فسر هذه العبارة

ج- " تتجه السفينة المشار إليها بالرقم (١) غرباً نحو السواحل الشرقية للقارة (أ) وفي أثناء خط سيرها يمكن أن تواجه كتلاً جليدية عائمة في الموقع (٢) "

١- ما التقنية المناسبة التي تكشف للسفينة الكتل الجليدية في الموقع (٢)

GIS -

GPS -
ضع إشارة (✓) على الإجابة الصحيحة

٢- ولماذا؟

د- تشتهر بعض دول القارة المشار إليها في الخريطة بالرمز (ب) بإنتاج وتصدير منتجات صناعية إلكترونية يدخل في

صناعتها المعدن المشار إليه بالرمز (▲)

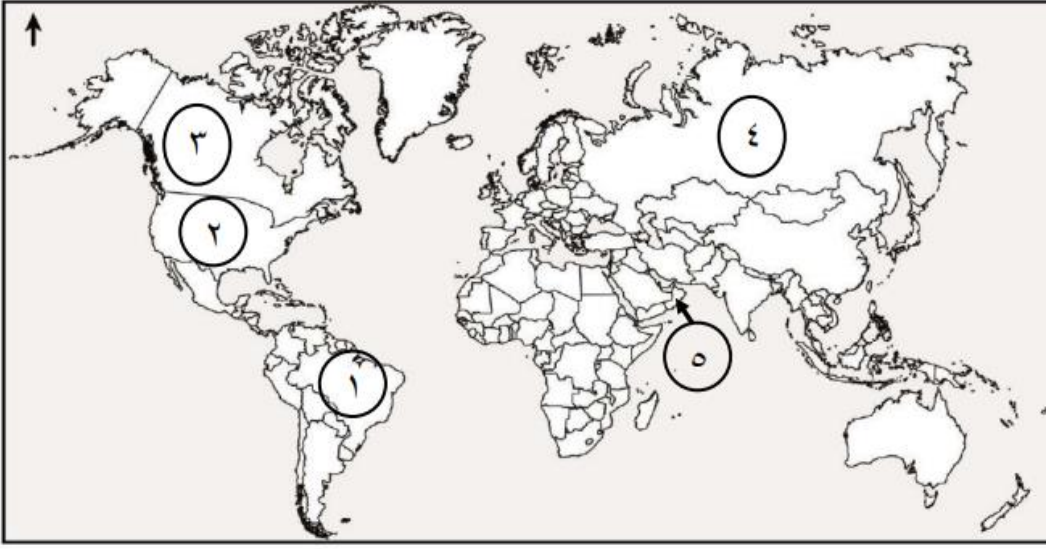
١- ما نوع وسائل النقل المناسبة لتصدير تلك المنتجات إلى مختلف دول العالم؟

النقل الجوي -

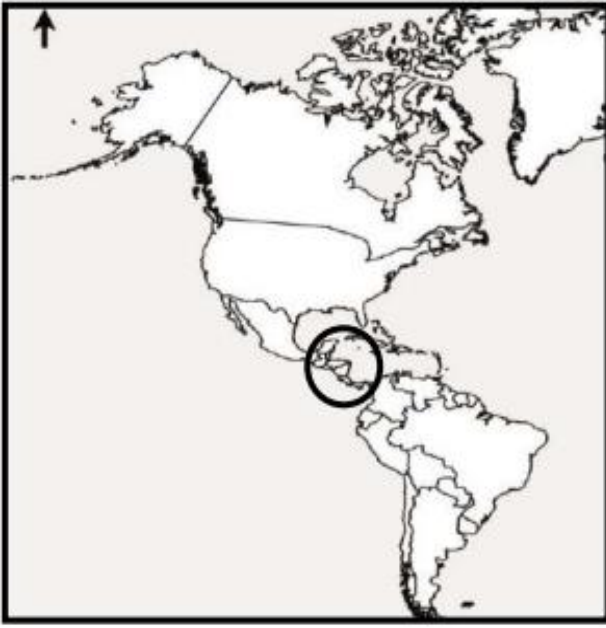
النقل البحري -

النقل البري -
ضع إشارة (✓) على الإجابة الصحيحة

٢- فسر إجابتك:



٢- من الخريطة التي أمامك الرقم الذي يشير إلى الدولة التي يوجد بها أكبر مطار في العالم من حيث أعداد المسافرين ()



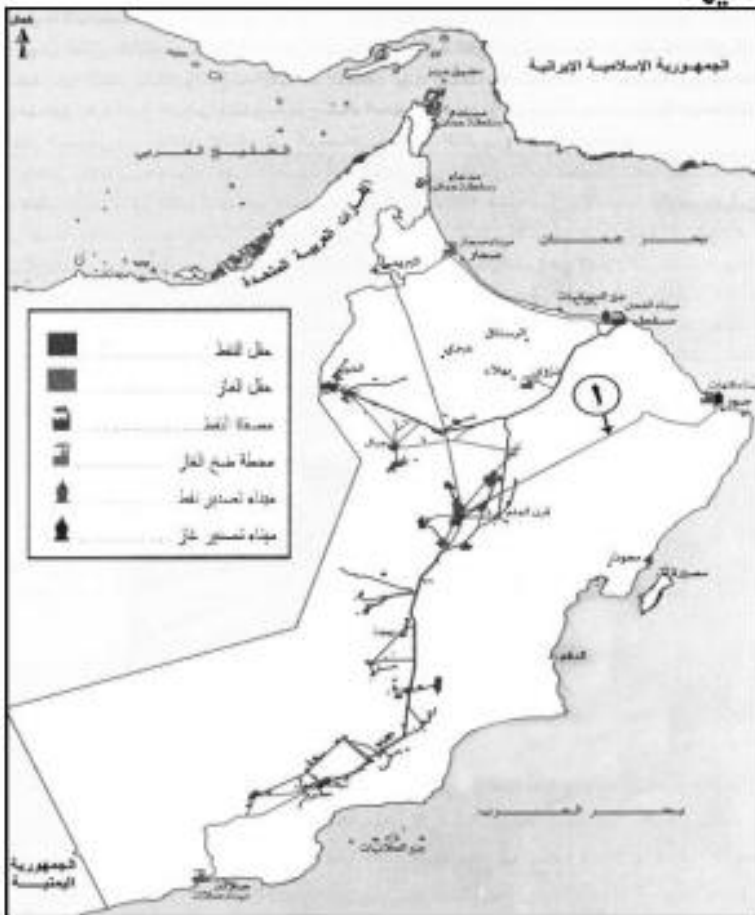
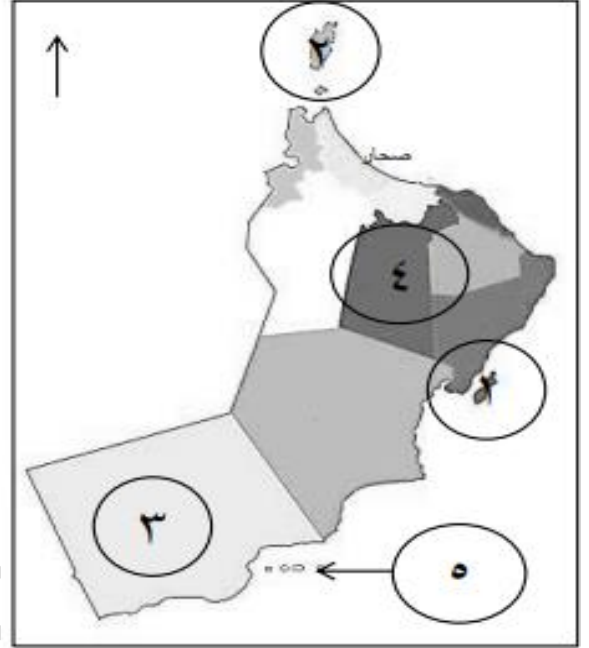
٣- الخريطة التي أمامك توضح إحدى القنوات المائية في العالم ادرسها جيداً ثم أجب عن الأسئلة الآتية:-
أ- ما اسم هذه القناة المائية
ب- وضح أهميتها الاستراتيجية
ج- فسر (تعتبر القناة أعجوبة هندسية في طريقة انتقال السفن عبرها)



٤- أمامك خريطة سلطنة عمان أدرسها جيداً ثم أجب عن الأسئلة التالية:
أ- ما نوع وسيلة النقل السياحية المناسبة بين المنطقتين (١ و ٢)
ب- ما الرقم الذي يشير إلى موقع ميناء تصدير الغاز الطبيعي

٥- أمامك خريطة سلطنة عمان أدرسها جيداً ثم أجب عن الأسئلة التالية

- أ- اكتب أهمية الممر المائي الذي تشرف عليه المحافظة المشار إليها بالرقم (٢)
ب- بإستخدام الرمز Δ حدد موقع المحافظة التي يقع فيها ميناء الفحل



٦- أمامك خريطة سلطنة عمان أدرسها جيداً ثم أجب عن الأسئلة التالية:

- أ- ما وسيلة النقل الموضحة في الخريطة
ب- ما الذي يتم نقله عبر الخط المشار إليه بالرقم (١)
ج- اذكر مميزات استخدام هذه الوسيلة في النقل

٧- أمامك خريطة توضح عدد الممرات المائية في العالم. ادرسها جيدا ثم أجب عن الأسئلة التي تليها:-



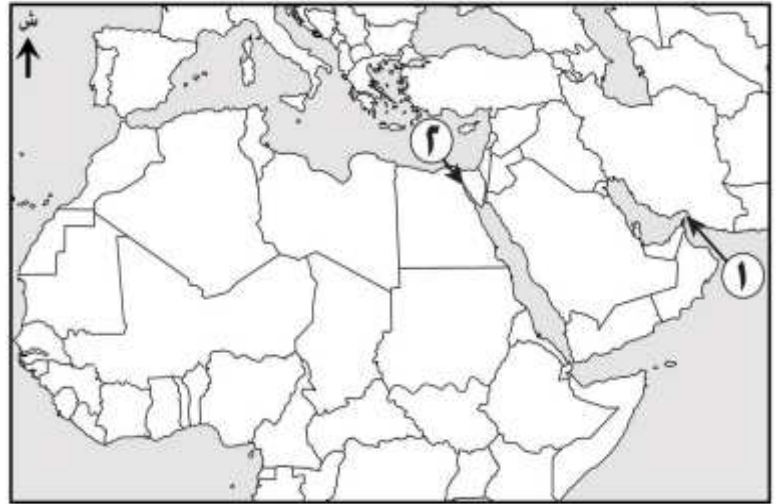
أ- ما الأهمية الاستراتيجية للمضيق المشار إليه بالرقم (١)

ب- سم البحار التي تربط بين القناة المشار إليها بالرقم (٢)

ج- تعد القناة المشار إليها بالرقم (٣) أعجوبة هندسية وضح ذلك.

٨٢- قارن بين الممرات المائية التي تظهر في الخريطة التي أمامك في الجدول التالي:-

٢	١	الممر المائي وجه المقارنة
_____	_____	المسطحات المائية التي يربط بينها
_____	_____	الأهمية الاستراتيجية



٩- استعن بخريطة العالم التي أمامك ثم أجب عن الأسئلة التي تليها:-



أ- اكتب الرقم الذي يشير إليه كلاً مما يلي:-

- ١- الدولة التي يوجد بها أكبر شبكة نقل عن طريق الأنابيب في العالم
- ٢- النهر الذي يتركز فيه حركة النقل النهري في الدولة المشار إليها بالرقم (١)
- ٣- اذكر أسماء المسطحات المائية التي تربط بينها القناة المشار إليها بالرقم (٥)
- ١٠- استعن بخريطة العالم التي أمامك ثم أجب عن الأسئلة التي تليها:-



- أ- استخراج رقم الدولة الأوروبية التي ينتهي إليها طريق الحرير الجديد القادم من مدينة شونكينغ الصينية
- ب- ميناء أوروبي كانت تصل إليه بعض السلع القادمة من الموانئ المطلة على البحر المتوسط في غربي آسيا والقادمة من المناطق الشرقية الوسطى من للقارة (ب)
- ج- ارسم في الخريطة الخط الملاحي البحري الرئيسي الذي يعبر الممر المائي المشار إليه بالرمز (أ) باستخدام الرمز الخطي (—)
- ج- ما نوع وسيلة النقل المستخدمة في طريق الحرير الجديد

١٠- التعامل مع الصور والأشكال:-

١- ادرس الشكل المقابل ثم اكتب فقرة مترابطة مراعيًا الآتي:-


١- مميزات هذا النقل

ب- المشكلات الطبيعية التي تواجه هذا النوع من النقل باستثناء المشكلة

الظاهرة في الصورة

ج- دور التطور التقني في التغلب على المشكلات التي تواجه هذا النوع من

النقل



٢- أمامك صورة لأحدى أنواع النقل ادرسها جيداً ثم أجب عن الأسئلة

التي تليها:-

أ- ما خاصية البضائع والسلع التي يتم نقلها باستخدام هذا النوع من

النقل

ب- ما أهم ميزة لهذا النوع من النقل

ج- اكتب الظروف الطبيعية التي تؤثر على هذا النوع من النقل



٣- أمامك صورة توضح أحد أنواع النقل ادرسها جيداً ثم أجب عن الأسئلة التي تليها:-

أ- ما نوع النقل الموضح في الصورة

ب- اكتب مميزات هذا النقل

ج- أكبر قارة العالم من حيث استخدام هذا النوع من النقل

أمريكا الشمالية وأوروبا أمريكا الشمالية وأوروبا

(اختر الصواب)

