

شكراً لتحميلك هذا الملف من موقع المناهج العمانية



امتحان تجريبي نهائي

موقع المناهج ← المناهج العمانية ← الصف الحادي عشر ← هذا وطني ← الفصل الثاني ← الملف

التواصل الاجتماعي بحسب الصف الحادي عشر



روابط مواد الصف الحادي عشر على تلغرام

[الرياضيات](#)

[اللغة الانجليزية](#)

[اللغة العربية](#)

[التربية الاسلامية](#)

المزيد من الملفات بحسب الصف الحادي عشر والمادة هذا وطني في الفصل الثاني

الامتحان النهائي الرسمي	1
نموذج إجابة الامتحان الرسمي النهائي	2
حصاد درس الجهاز الإداري للدولة ومؤسساتها	3
امتحان تجريبي نموذج ثاني	4
امتحان تجريبي نهائي	5

امتحان تجريبي في مادة الدراسات الاجتماعية (هذا وطني) للصف الحادي عشر للعام الدراسي
٢٠٢١/٢٠٢٢م - الفصل الدراسي الثاني / إعداد: مدرسة يعرب بن بلعرب (١١-١٢)

أجب عن جميع الأسئلة الآتية:

السؤال الأول: ضع دائرة حول رمز الإجابة الصحيحة لكل مفردة من المفردات الآتية:

(١) يتأثر الاقتصاد العماني كثيراً بالتقلبات التي تحدث في أسعار قطاع:

أ- الزراعة ب- الأسماك ج- الصناعة د- النفط

(٢) المنهج الذي اتخذه السلطان قابوس بن سعيد -طيب الله ثراه- ركيزة أساسية في السياسة العمانية على المستويين المحلي والعالمي:

أ- الصدام والصراع ب- التسامح والسلام ج- التدخل والنزاع د- التكبر والاستعلاء

(٣) المحافظة التي أنشئ فيها منتجع شاطئ صلالة مشار إليها بالرقم:



أ- ١
ب- ٢
ج- ٣
د- ٤

(٤) صدر المرسوم السلطاني الذي تضمن جميع القوانين واللوائح المتعلقة بقطاع النفط والغاز في العام الميلادي:

أ- ٢٠٠٩ ب- ٢٠١٠ ج- ٢٠١١ د- ٢٠١٢

(٥) محاكم درجة أولى تتألف من قاض أو ثلاثة قضاة حيث يعرض النزاع أمامها لأول مرة:

أ- العليا ب- الاستئناف ج- العام د- الابتدائية

امتحان تجريبي في مادة الدراسات الاجتماعية (هذا وطني) للصف الحادي عشر للعام الدراسي
٢٠٢١/٢٠٢٢م - الفصل الدراسي الثاني / إعداد: مدرسة يعرب بن بلعرب (١١-١٢)

تابع/ السؤال الأول:

٦) القطاع الاقتصادي العماني الذي يساهم بأعلى نسبة في الناتج المحلي الإجمالي عام ٢٠١٧م من خلال الجدول الآتي:

القطاع	النفط	الغاز الطبيعي	الصناعة	الزراعة والأسماك	الخدمات
نسبة المساهمة في الناتج المحلي الإجمالي عام ٢٠١٧م	٢٤,١	٤,٩	٢٠,٥	٢,٣	٥١,٦

د- الخدمات

ج- الصناعة

ب- الغاز الطبيعي

أ- النفط

٧) يوجد المشروع الاقتصادي العماني الذي توضحه الصورة في قطاع:



ب- التجارة

أ- الصناعة

د- السياحة

ج- اللوجستيات

٨) كل ما يأتي من المجالس المتخصصة في السلطنة ما عدا:

د- محافظي البنك المركزي

ج- الشورى

ب- الأمن الوطني

أ- الدفاع

٩) الهواية التي توضحها الصورة الآتية للسلطان قابوس طيب الله ثراه:

ب- الفروسية

أ- الرماية

د- القراءة

ج- التصوير



امتحان تجريبي في مادة الدراسات الاجتماعية (هذا وطني) للصف الحادي عشر للعام الدراسي
٢٠٢١/٢٠٢٢م - الفصل الدراسي الثاني / إعداد: مدرسة يعرب بن بلعرب (١١-١٢)

تابع/ السؤال الأول:

١٠) ارتفعت مساهمة القطاع غير النفطي في الناتج المحلي الإجمالي للسلطنة في الفترة (١٩٩٨ - ٢٠١٧م) بسبب:

أ- ارتفاع أسعار النفط ب- سياسة التنويع الاقتصادي ج- ارتفاع دخل الزراعة د- نجاح الرؤية المستقبلية

١١) من السلع التي كان العمانيون يستوردونها من الساحل الشرقي لأفريقيا في العصور الإسلامية والحديثة:

أ- الزجاج ب- النحاس ج- الحديد د- العاج

١٢) بلغ أعلى إنتاج سنوي لنفط عمان من خلال الشكل الآتي في العام الميلادي:



د- ٢٠١٧

ج- ٢٠١٦

ب- ٢٠١٥

أ- ٢٠١٤

امتحان تجريبي في مادة الدراسات الاجتماعية (هذا وطني) للصف الحادي عشر للعام الدراسي
٢٠٢١/٢٠٢٢م - الفصل الدراسي الثاني / إعداد: مدرسة يعرب بن بلعرب (١١-١٢)

السؤال الثاني: أجب عن الأسئلة الآتية:

أولاً: اعط مثالين لكل ما يأتي:

أ- الأنشطة الاقتصادية العمانية التي ظهرت في العصور الإسلامية والحديثة.

١-
٢-

ب- أبرز المنتجات العمانية غير النفطية المصدر.

١-
٢-

ثانياً: عرّف المفاهيم الآتية: موقع المناهج العمانية

أ- الحوكمة.

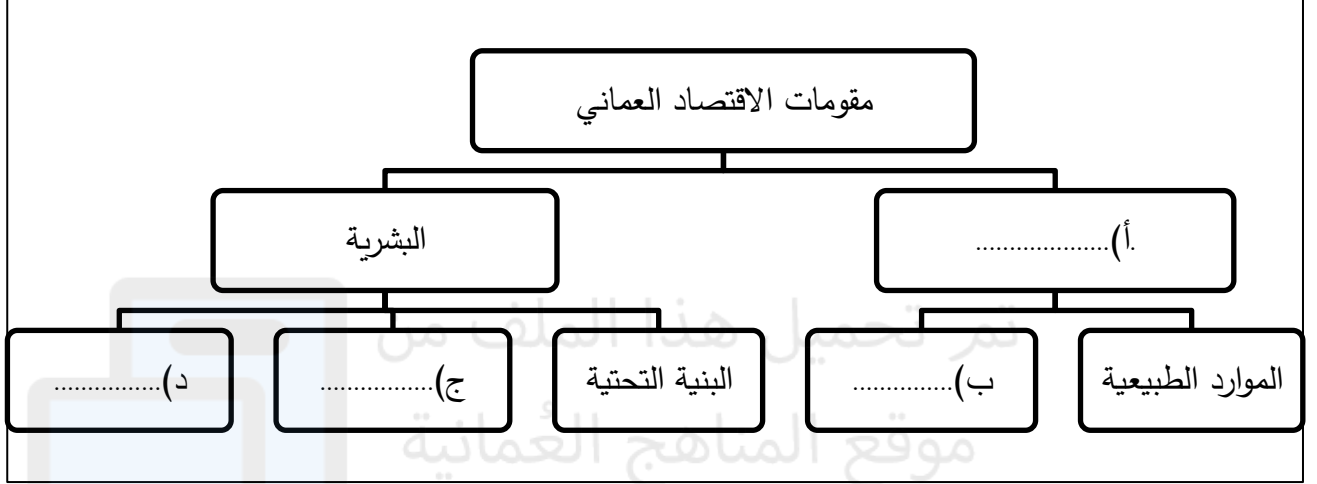
ب- التنوع الاقتصادي.
.....

ثالثاً: اكتب اسم المدينة العمانية التي وقع فيها كل حدث من الأحداث التي يوضحها الجدول الآتي:

المدينة العمانية	الحدث
	أ- شهدت مولد السلطان قابوس بن سعيد طيب الله ثراه.
	ب- يوجد بها المعهد العالي للقضاء الذي أفتتح عام ٢٠١٠م.
	ج- من مدن محافظة جنوب الشرقية اشتهرت في العصور الإسلامية والحديثة بصناعة السفن.
	د- أفتتح بها مشروعاً استراتيجياً ومجمعاً للصناعات البلاستيكية.

السؤال الثالث: أجب عن الأسئلة الآتية:

أولاً: أكمل الخريطة الذهنية الآتية:



ثانياً: أ- حدّد ثلاثة أسس وقواعد قامت عليها النهضة العمانية.

١- ٢- ٣-

ب- بم تفسر اكتساب المنتجات العُمانية سمعة جيدة في الأسواق المحلية والعالمية.

.....

ثالثاً: دّل ما يأتي:

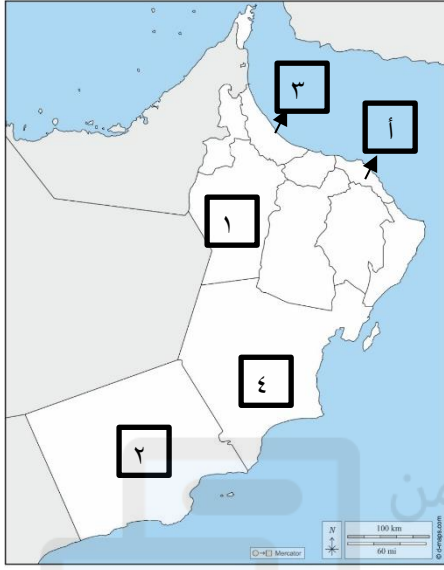
أ- التقدير الدولي لجهود السلطان قابوس بن سعيد-طيب الله ثراه- في عملية إرساء السلام والتعاون الدولي.

.....

ب- تقليل الحكومة العمانية حدة المعوقات والتحديات التي تواجه المنتج العماني.

.....

امتحان تجريبي في مادة الدراسات الاجتماعية (هذا وطني) للصف الحادي عشر للعام الدراسي
٢٠٢١/٢٠٢٢م - الفصل الدراسي الثاني / إعداد: مدرسة يعرب بن بلعرب (١١-١٢)



السؤال الرابع: أجب عن الأسئلة الآتية:

أولاً: أمامك خريطة سلطنة عمان، ادرسها جيداً، ثم أجب عن الأسئلة التي تقابلها:

أ- المحافظة التي أنشئ فيها ميناء صحار الصناعي مشار إليها بالرقم () .

ب- اذكر مشروعاً اقتصادياً لوجستياً واحداً في المحافظة المشار إليها بالرمز (أ) .

ثانياً: رتب الأحداث الآتية من الأقدم إلى الأحدث باستخدام الأرقام (١، ٢، ٣، ٤):

() - صدور قانون استثمار رأس المال الأجنبي بسلطنة عمان.

() - إنشاء مجلس عمان.

() - تولي جلالة السلطان قابوس بن سعيد -طيب الله ثراه- الحكم في سلطنة عمان.

() - إنشاء مجلس الشورى العماني.

ثالثاً: علل ما يأتي:


أ- منح جلالة السلطان قابوس -طيب الله ثراه- جائزة الإنسان العربي الدولية عام ٢٠١٦م.

ب- نشاط وازدهار التجارة العمانية مع الدول المطلة على سواحل المحيط الهندي في العصور الإسلامية والحديثة.

امتحان تجريبي في مادة الدراسات الاجتماعية (هذا وطني) للصف الحادي عشر للعام الدراسي
٢٠٢١/٢٠٢٢م - الفصل الدراسي الثاني / إعداد: مدرسة يعرب بن بلعرب (١١-١٢)

السؤال الخامس: أجب عن الأسئلة الآتية:

أولاً: الشكل البياني الآتي يوضح نسبة مساهمة النفط والغاز في الناتج المحلي الإجمالي بسلطنة عمان، ادرسه جيداً، ثم
أجب عن الأسئلة التي تليه:



أ- حدّد العام الميلادي الذي شهد أعلى نسبة مساهمة للنفط في الناتج المحلي الإجمالي من خلال الشكل.

ب- احسب مجموع نسبة مساهمة النفط والغاز في الناتج المحلي الإجمالي عام ٢٠١٧م.

ثانياً: صنّف الاختصاصات الآتية إلى الجهة القضائية المسؤولة عنها في سلطنة عُمان (القضاء الإداري، الادعاء العام،
القضاء العادي).

الاختصاص	الجهة القضائية المسؤولة
أ- تنفيذ الأحكام الجزائية الصادرة في الدعوى العمومية.	
ب- النظر في المنازعات ذات العلاقة بالجانب التجاري وتنفيذها.	
ج- الدعاوى الخاصة بالرواتب والمعاشات المستحقة للموظفين.	
د- دعاوى التعويض المتعلقة بالخصومات الإدارية.	

امتحان تجريبي في مادة الدراسات الاجتماعية (هذا وطني) للصف الحادي عشر للعام الدراسي
٢٠٢١/٢٠٢٢م - الفصل الدراسي الثاني / إعداد: مدرسة يعرب بن بلعرب (١١-١٢)

تابع/ السؤال الخامس:

ثالثاً: اذكر نتيجة واحدة ترتبت على ما يأتي:

أ- السياسة الحكيمة للسلطان قابوس بن سعيد طيب الله ثراه.

ب- الامتيازات والحوافز التي وضعتها سلطنة عُمان للمستثمرين الأجانب.

تم تحميل هذا الملف من
موقع المناهج العُمانية

انتهت الأسئلة.. مع تمنياتنا لكم بالتوفيق والنجاح.