

تجميع اختبارات نهائية لمادة الجغرافيا الاقتصادية



تم تحميل هذا الملف من موقع المناهج العمانية

موقع فايلاتي ← المناهج العمانية ← الصف الحادي عشر ← جغرافيا اقتصادية ← الفصل الثاني ← ملفات متنوعة ← الملف


تاريخ إضافة الملف على موقع المناهج: 2026-06-07 19:26:16

ملفات اكتب للمعلم اكتب للطالب | الاختبارات الكترونية | اختبارات | حلول | عروض بوربوينت | أوراق عمل
منهج انجليزي | ملخصات وتقارير | مذكرات وبنوك | الامتحان النهائي للمدرس

المزيد من مادة
جغرافيا
اقتصادية:

إعداد: خالد بن سالم الجابري

التواصل الاجتماعي بحسب الصف الحادي عشر



صفحة المناهج
العمانية على
فيسبوك

المزيد من الملفات بحسب الصف الحادي عشر والمادة جغرافيا اقتصادية في الفصل الثاني



تجميع إختبارات نهائية

العام الدراسي 2025\2026

مادة الجغرافيا الاقتصادية (الصف الحادي عشر)



تجميع : خالد بن سالم الجابري

(معلم مادة العلوم 5,6 في تميز أكاديمي)

أستاذ خالد



تميز أكاديمي



أرقام التواصل

76941321 76696447 77144048



امتحان مادة الجغرافيا الاقتصادية للصف الحادي عشر
الفصل الدراسي: الثاني - الدور الأول
للعام الدراسي ١٤٤٦ / ١٤٤٧ هـ - ٢٠٢٤ / ٢٠٢٥ م

▪ زمن الامتحان: ساعتان	▪ عدد صفحات أسئلة الامتحان: (٨) صفحات
▪ الإجابة في دفتر الأسئلة نفسه.	▪ الدرجة الكلية للامتحان: (٦٠) درجة
▪ تُكتب الإجابة بالقلم الأزرق أو الأسود.	

اسم الطالب: _____ الشعبة: _____

التوقيع بالاسم		الدرجة		السؤال
اسم المراجع	اسم المصحح	بالحروف	بالأرقام	
				أولاً: الأسئلة الموضوعية (١ - ١٢)
				ثانياً: الأسئلة المقالية ١٣
				١٤
				١٥
				١٦
راجع الجمع	جمعه			المجموع
			٦٠	المجموع الكلي

أجب عن جميع الأسئلة الآتية

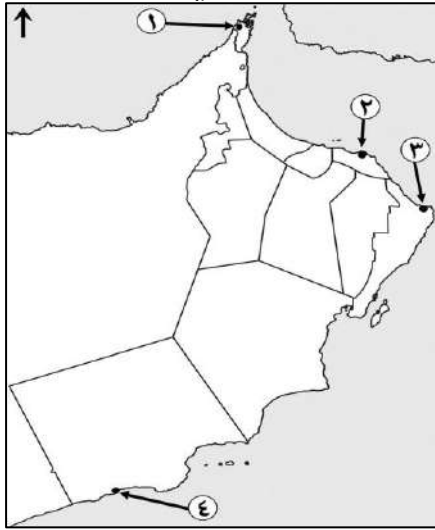
أولاً: الأسئلة الموضوعية:

١٢

ظلل الشكل (□) المقترن بالإجابة الصحيحة لكل مفردة من المفردات الآتية:

(١) الدولة التي تمتلك أطول شبكة خطوط سكك حديدية في العالم عام ٢٠١٢م: الصين. روسيا. الولايات المتحدة الأمريكية. الهند.

(٢) الرقم الذي يشير إلى ميناء تصدير النفط في سلطنة عمان بالخريطة المقابلة:



١

٢

٣

٤

(٣) الجدول الصحيح الذي يوضح أهمية النقل للدول في المجال السياسي:

١	المساهمة في تشغيل الأيدي العاملة.
٢	المحافظة على وحدة الدولة.
٣	ربط مناطق الإنتاج بمناطق الاستهلاك.

١	حفظ الأمن والاستقرار.
٢	المحافظة على وحدة الدولة.
٣	تعزيز العلاقات السياسية مع الدول المجاورة.

١	المساهمة في تشغيل الأيدي العاملة.
٢	حفظ الأمن والاستقرار.
٣	ربط مناطق الإنتاج بمناطق الاستهلاك.

١	حفظ الأمن والاستقرار.
٢	تقوية الروابط الاجتماعية.
٣	تعزيز العلاقات السياسية مع الدول المجاورة.

(٤) النسبة المئوية للتعرفة الجمركية التي اتفقت عليها دول مجلس التعاون الخليجي على السلع الأجنبية المستوردة من خارج دول المجلس عام ٢٠٠٣م:

٧%

٦%

٥%

٤%

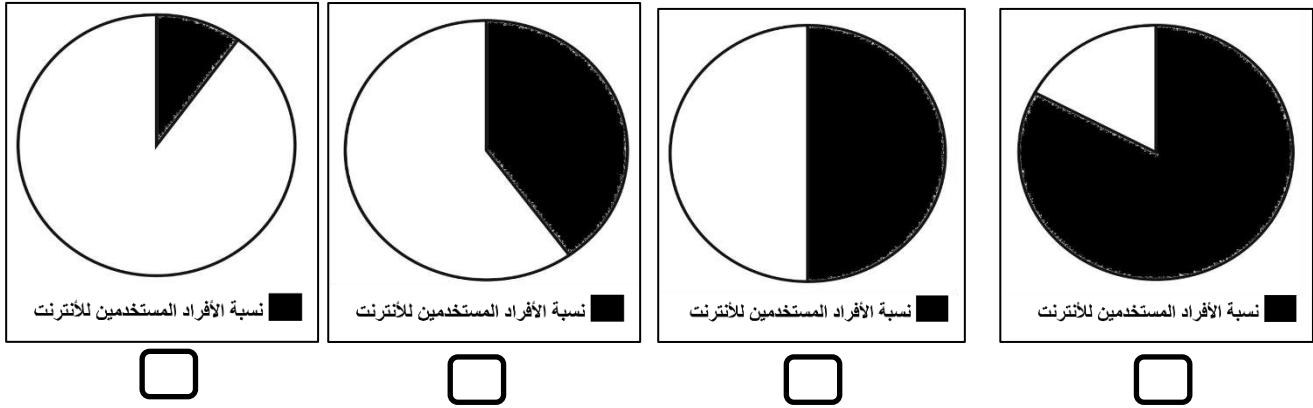
يتبع/٢

تابع أولًا: الأسئلة الموضوعية:

٥) نوع السياحة التي تعد محدودة ومكلفة:

- الدينية. البراري. الأعمال. الفضاء.

٦) الشكل البياني الصحيح الذي يشير إلى نسبة الأفراد المستخدمين لشبكة الإنترنت في العالم عام ٢٠١٤م:



٧) الدولة التي تحتل المرتبة الثانية من حيث عدد السياح الدوليين لعام ٢٠١٣م في الجدول المقابل:

عدد السياح الدوليين / مليون عام ٢٠١٣م	عدد السياح الدوليين / مليون عام ٢٠١٢م	الدولة
٦٩,٨	٦٦,٧	الولايات المتحدة الأمريكية
٤٧,٧	٤٦,٤	إيطاليا
٥٥,٧	٥٧,٧	الصين
٦٠,٧	٥٧,٥	إسبانيا

الولايات المتحدة الأمريكية.

إيطاليا.

الصين.

إسبانيا.

٨) معيار تصنيف السياحة حسب الشكل التنظيمي:

- الشباب والمسن.
- الجماعية والفردية.
- البرية والجوية.
- الداخلية والخارجية.

٩) تسهيل الإمداد للموقع السياحي الوارد في الخبر الصحفي المقابل:

"في إطار الاستعدادات لاستقبال موسم خريف ظفار ٢٠٢٤م وتسهيلاً للحركة السياحية والاقتصادية خلال هذه الفترة، قامت وزارة النقل والاتصالات وتقنية المعلومات ممثلة بالمديرية العامة للطرق والنقل البري بتوجيه صيانة الطرق الإسفلتية وتأهيل جميع الطرق المؤدية إلى محافظة ظفار وجعلها أكثر جاهزية"

الرفاهية.

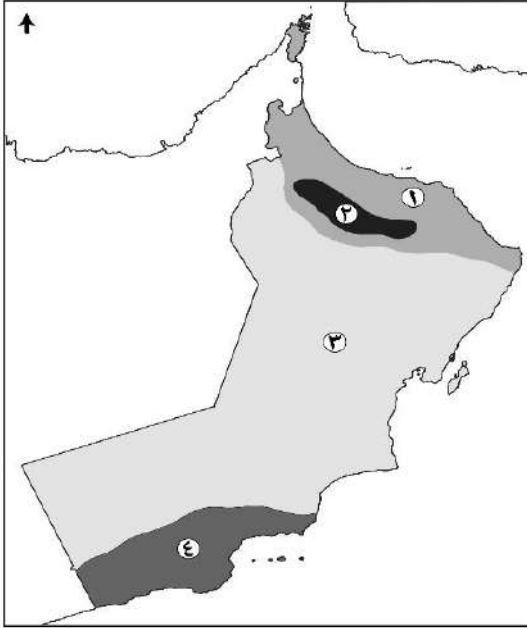
الأمن.

الراحة.

الصحة.

تابع أولًا: الأسئلة الموضوعية:

١٠) الجدول الصحيح الذي يمثل توزيع الأقاليم المناخية في سلطنة عمان وفق الأرقام بالخريطة المقابلة:



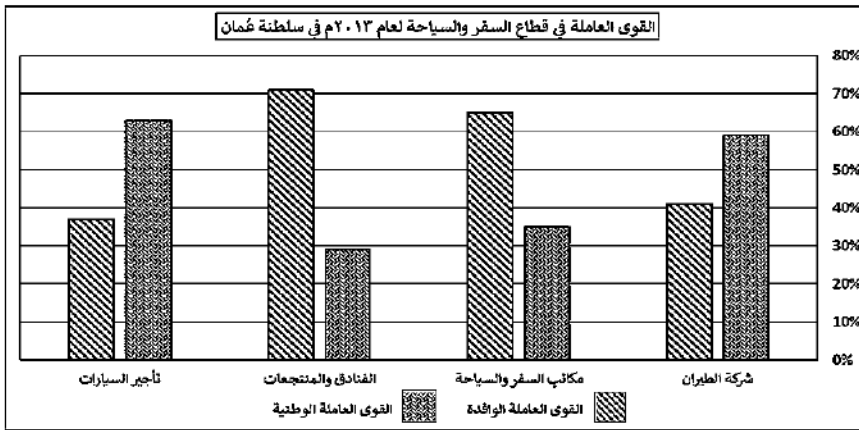
١	الصحراوي.
٢	البحر المتوسط.
٣	شبه الصحراوي.
٤	الموسمي.

١	شبه الصحراوي.
٢	الموسمي.
٣	الصحراوي.
٤	البحر المتوسط.

١	الصحراوي.
٢	الموسمي.
٣	شبه الصحراوي.
٤	البحر المتوسط.

١	شبه الصحراوي.
٢	البحر المتوسط.
٣	الصحراوي.
٤	الموسمي.

١١) النشاط السياحي الذي يحتل المرتبة الثانية من حيث نسبة التعمين في الشكل المقابل:



تأجير السيارات.

شركة الطيران.

الفنادق والمنتجعات.

مكاتب السفر والسياحة.

١٢) الجانب الذي يمثل المناخ الاستثماري السياحي في الخبر الصحفي المقابل:

البنية التحتية.

التسهيلات المصرفية.

الأيدي العاملة.

التسهيلات عند المنافذ الحدودية.

إعفاء العمانيين من التأشيرة الروسية
١٩ أبريل ٢٠٢٥ م
"وأضاف سعادته أن قطاع السياحة أحد القطاعات التي تتمتع بفرص كبيرة للتوسع بين عمان وروسيا حيث إن لسلطنة عمان بيئة سياحية غنية تجمع بين التراث الثقافي والطبيعي والمناظر الخلابة التي تجذب السياح الروس، ومن المتوقع أن تسهم هذه الزيادة في تعزيز تعاون السياحي بين البلدين وسيكون لاتفاقية الإعفاء المتبادل من التأشيرات للجوازات العادية لمواطني البلدين.

يتبع/٤

ثانيًا: الأسئلة المقالية:

(١٣)

١٢

أ- " تعتبر من أهم الأنواع السياحية، حيث أن هذا النوع من السياحة يهدف إلى تعلم أشياء جديدة وتنمية معارف وخبرات السياح من خلال التعرف على التراث الموجود في المتاحف والمواقع الأثرية والتاريخية، واكتشاف عادات وتقاليد الشعوب الأخرى، فيتعرفون على حياة الشعوب ومأكلهم وملبسهم".
من الفقرة السابقة، أجب عن الأسئلة الآتية:

١- ما نوع السياحة التي تتحدث عنها الفقرة السابقة؟

٢- استنتج تعريفًا مناسبًا لهذا النوع من السياحة.

٣- كم تبلغ نسبة مساهمة هذا النوع من السياحة من إجمالي سوق السياحة؟

٤- استخراج من الفقرة السابقة مثالًا واحدًا من التراث غير المادي.

ب- قارن بين النقل الجوي والنقل البحري حسب الجدول الآتي:

البحري	الجوي	نوع النقل
		وجه المقارنة
		تكلفة النقل
		طبيعة المواد المنقولة

يتبع/٥

تابع ثانيًا: الأسئلة المقالية:

ج- اكتب اثنين لكل مما يأتي:

١- المجالات الرئيسية للمدونة العالمية لأخلاقيات السياحة.

•
•

٢- أنواع السياحة العلاجية حسب الوسائل الطبيعية المستخدمة في العلاج.

•
•

١٢

(١٤)

أ- اكتب أحداث التطور التاريخي للسياحة ما بين القوسين حسب تسلسلها في المسطرة الزمنية التالية:

(السفر للمزارات الدينية/ ظهور الثورة الصناعية/ السفر لمناطق العلاج بالمياه المعدنية/ ظهور المهرجانات السياحية)

العصور الوسطى	← القرن ١٨ م	← القرن ١٩ م	← القرن ٢٠ م

ب- اكتب المفهوم أمام كل عبارة في الجدول الآتي:

م	العبارة	المفهوم
١	نظام يتيح للأفراد والشركات والمؤسسات بيع وشراء السلع وتسويق الخدمات والمعلومات عبر شبكة الإنترنت.	
٢	سجل يوضح جميع المعاملات الاقتصادية لدولة ما مع بقية دول العالم خلال فترة زمنية معينة عادة تكون سنة.	
٣	التحلي بالمسؤولية في استغلال السياحة من أجل التنمية المستدامة.	
٤	أماكن مهياة لاستقبال السياح وتقديم الخدمات لهم.	

يتبع/٦

تابع ثانيًا: الأسئلة المقالية:



ج- من الشكل المقابل، أجب عن الأسئلة الآتية:

١- ما نوع السياحة التي يشير إليها الشكل المقابل؟

٢- اعط مثالين على النشاط السياحي الموضح في الشكل بالمناطق الآتية:

أ- العقبة في الأردن

ب- شمال الشرقية بسلطنة عمان

٣- اكتب واحدًا من المقومات الطبيعية التي تشكل عامل جذب سياحي لهذا النوع من السياحة.

(١٥)

أ- اكتب نتيجة واحدة ترتبت على كل مما يأتي:-

١- افتتاح قناة بنما للتجارة العالمية عام ١٩١٤ م.

٢- اختراع المحرك البخاري على وسائل النقل البرية.

٣- زيادة طلب السياح على الشقق الفندقية في موسم الخريف.

٤- استخدام الممرات الجبلية وتسلق الجبال من قبل أعداد كبيرة من السياح.

ب-

١- صنف مفاهيم السياحة ما بين القوسين حسب العبارات الواردة في الجدول التالي:

(نزهة / سفر / سياحة)

م	العبارة	المفهوم
١	ذهاب شخص برحلة بحرية والعودة للمنزل في اليوم ذاته.	
٢	توجهت أسرة من محافظة مسقط إلى محافظة ظفار للتمتع بالخريف.	
٣	توجه شخص من دولته إلى دولة أخرى لحضور مؤتمر التعليم العالمي.	

يتبع / ٧

تابع ثانيًا: الأسئلة المقالية:

٢- " دولة ذات طبيعة جغرافية تتميز بالجبال الشاهقة، ومجري الأنهار متعرجة وضيقة تتخللها العديد من الشلالات وبها مخزون من الفحم تستخدمه كمورد اقتصادي لها" - نوع النقل الغير مناسب لنقل المورد الوارد في العبارة السابقة.

النهري. السكك الحديدية. ظلل الشكل () المقترن بالإجابة الصحيحة

فسر إجابتك

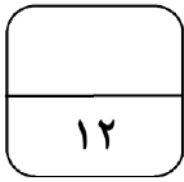


ج- من الشكل المقابل، أجب عن الأسئلة الآتية:

١- ما المجال الذي تستخدم فيه الوسيلة الموضحة في الشكل المقابل؟

٢- اكتب ميزة واحدة للوسيلة الموضحة في الشكل المقابل.

٣- اكتب اثنين من المجالات الأخرى يتم فيها توظيف الأقمار الصناعية.



أ- استعن بالجدول المقابل للإجابة عن الأسئلة التي تليه:

١- كم يبلغ الميزان التجاري للدولتين المشار إليهما بالرمزين:

رمز الدولة	الصادرات (مليار دولار)	الواردات (مليار دولار)
أ	٢٢٦	١٨٦
ب	١١٤	١٣٠

• (أ) _____

• (ب) _____

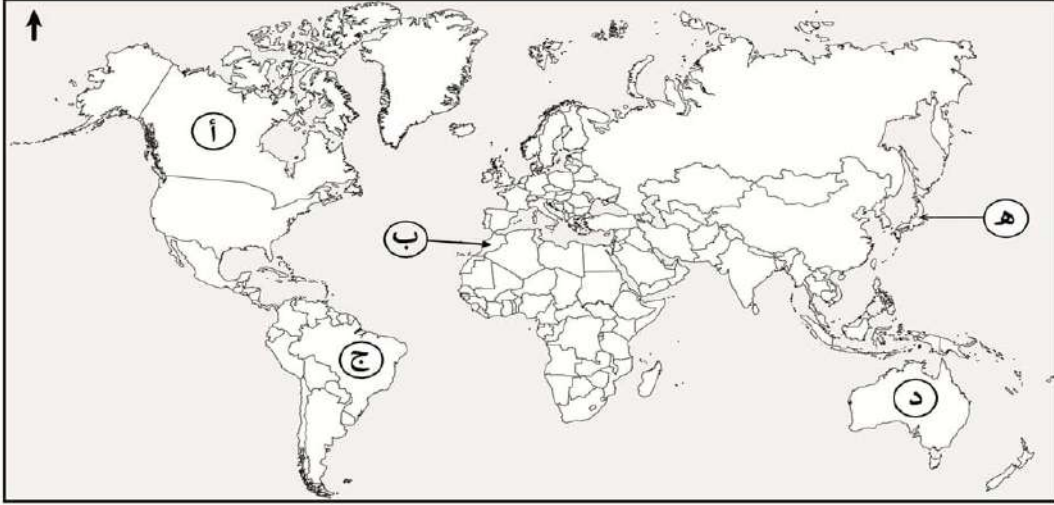
٢- ما رمز الدولة التي يوجد بها عجز في الميزان التجاري؟

أ ب ظلل الشكل () المقترن بالإجابة الصحيحة

٣- كيف يؤثر ذلك على برامجها التنموية؟

تابع ثانيًا: الأسئلة المقالية:

ب- ادرس الخريطة التي أمامك، ثم أجب عن الأسئلة التالية:



١- استخرج من الخريطة رمز الدول التي تشير إليها العبارات الآتية:

- تنشط فيها رياضة نزول الأكايد.
- احتضنت نهائيات كأس العالم لكرة القدم عام ٢٠١٤م.
- تُعد من أوائل الدول المطبقة لنظام حسابات السياحة.

٢- علل / ازدياد عدد السيّاح الأوروبيين إلى الدولة المشار إليها بالرمز (ب).

ج. " تبذل سلطنة عُمان جهودًا كبيرة في مجال المحافظة على البيئة من خلال تبني عدة مبادرات محلية تستخدم فيها وسائل نقل تُسهم في التقليل من الانبعاثات الكربونية، وفرض القوانين والتشريعات البيئية على مختلف القطاعات، وتقوم بعدد من الإجراءات التي تساعد في تطبيق سياسات النقل المستدام فيها." من الفقرة السابقة، أجب عن الأسئلة الآتية:

١- عرف المفهوم الذي تحته خط.

٢- استنتج مثالين من وسائل النقل الواردة في الفقرة.

-
-

٣- استخرج من الفقرة إجراء واحد اتخذته سلطنة عُمان لتطبيق سياسة النقل المستدام.

انتهت الأسئلة مع الدعاء للجميع بالتوفيق والنجاح



نموذج إجابة امتحان مادة الجغرافيا الاقتصادية
للسف الحادي عشر
الفصل الدراسي الثاني- الدور الأول
للعام الدراسي ١٤٤٦ / ١٤٤٧ هـ - ٢٠٢٤ / ٢٠٢٥ م

الدرجة الكلية: (٦٠) درجة

تنبيه: نموذج الإجابة في (٥) صفحات

أولاً: إجابة الأسئلة الموضوعية (مجموع الدرجات ١٢ درجة)

السؤال	الإجابة	الصفحة	مفتاح التصحيح								
١	الولايات المتحدة الأمريكية.	١٠٩	١ - ٠								
٢	٢	١١٢	١ - ٠								
٣	<table border="1"><tr><td>١</td><td>حفظ الأمن والاستقرار.</td></tr><tr><td>٢</td><td>المحافظة على وحدة الدولة.</td></tr><tr><td>٣</td><td>تعزيز العلاقات السياسية مع الدول المجاورة.</td></tr></table>	١	حفظ الأمن والاستقرار.	٢	المحافظة على وحدة الدولة.	٣	تعزيز العلاقات السياسية مع الدول المجاورة.	١٠٣	١ - ٠		
١	حفظ الأمن والاستقرار.										
٢	المحافظة على وحدة الدولة.										
٣	تعزيز العلاقات السياسية مع الدول المجاورة.										
٤	%٥	١٣١	١ - ٠								
٥	الفضاء.	١٥٩	١ - ٠								
٦		١٢٥	١ - ٠								
٧	إسبانيا	١٥٠	١ - ٠								
٨	الجماعية والفردية.	١٥٢	١ - ٠								
٩	الراحة.	١٧٣	١ - ٠								
١٠	<table border="1"><tr><td>١</td><td>شبه الصحراوي</td></tr><tr><td>٢</td><td>البحر المتوسط</td></tr><tr><td>٣</td><td>الصحراوي</td></tr><tr><td>٤</td><td>الموسمي</td></tr></table>	١	شبه الصحراوي	٢	البحر المتوسط	٣	الصحراوي	٤	الموسمي	١٦٨	١ - ٠
١	شبه الصحراوي										
٢	البحر المتوسط										
٣	الصحراوي										
٤	الموسمي										
١١	شركة الطيران.	١٨٠	١ - ٠								
١٢	التسهيلات عند المنافذ الحدودية.	١٧٩	١ - ٠								

تابع - نموذج إجابة امتحان: مادة الجغرافيا الاقتصادية - الصف الحادي عشر - للعام الدراسي ٢٠٢٤/٢٠٢٥ م
الفصل الدراسي الثاني - الدور الأول

ثانياً: إجابة الاسئلة المقالية: السؤال: ١٣ (مجموع الدرجات ١٢ درجة)

الصفحة	الدرجة	الإجابة الصحيحة	الجزئية	المفردة	السؤال
١٥٣	١	الثقافية	١	أ	١٣
١٥٣	١	رغبة الأفراد في تنمية معارفهم وخبراتهم من خلال تعرفهم إلى التراث الثقافي الموجود في المتاحف والمواقع الأثرية والتاريخية.	٢		
١٥٣	١	٣٧%	٣		
١٥٣	١	معرفة حياة الشعوب/عادات/ تقاليد/ مآكلهم/ ملبسهم.	٤		
			معياري التصحيح		
٤-٣-٢-١-٠			مفتاح التصحيح		

الصفحة	الدرجة	الإجابة الصحيحة			الجزئية	المفردة	السؤال
١١٨-١١٤	٤	البحري	الجوي	نوع النقل المقارنة		ب	١٣
		منخفضة	مرتفعة	تكلفة النقل			
		نقل كميات هائلة من البضائع والمواد الخام	ذات قيمة عالية أو سريعة التلف (يركز على النوعية وليس الوزن)	طبيعة المواد المنقولة			
إذا ذكر أمثله لطبيعة المواد المنقولة تعتبر الإجابة صحيحة					معياري التصحيح		
٤-٣-٢-١-٠					مفتاح التصحيح		

الصفحة	الدرجة	الإجابة الصحيحة	الجزئية	المفردة	السؤال
١٨٥	٢	المحافظة على الموارد الطبيعية/ المحافظة على المجتمع وثقافته/ تحقيق منافع اقتصادية مهمة.	١	ج	١٣
-			معياري التصحيح		
٢-١-٠			مفتاح التصحيح		
١٥٨	٢	السياحة العلاجية المناخية/ السياحة العلاجية المعدنية	٢		
-			معياري التصحيح		
٢-١-٠			مفتاح التصحيح		

يتبع/ ٣

تابع - نموذج إجابة امتحان: مادة الجغرافيا الاقتصادية - الصف الحادي عشر - للعام الدراسي ٢٠٢٤/٢٠٢٥ م
الفصل الدراسي الثاني - الدور الأول

السؤال: ١٤ (مجموع الدرجات ١٢ درجة)

الصفحة	الدرجة	الإجابة الصحيحة	المفردة	السؤال					
١٤٣	٤	<table border="1"> <tr> <td>العصور الوسطى ← القرن ١٨ م ← القرن ١٩ م ← القرن ٢٠ م</td> </tr> <tr> <td>السفر للمزارات الدينية بالمياه المعدنية</td> </tr> <tr> <td>السفر لمناطق العلاج بالمياه المعدنية</td> </tr> <tr> <td>ظهور الثورة الصناعية</td> </tr> <tr> <td>ظهور المهرجانات السياحية</td> </tr> </table>	العصور الوسطى ← القرن ١٨ م ← القرن ١٩ م ← القرن ٢٠ م	السفر للمزارات الدينية بالمياه المعدنية	السفر لمناطق العلاج بالمياه المعدنية	ظهور الثورة الصناعية	ظهور المهرجانات السياحية	أ	١٤
العصور الوسطى ← القرن ١٨ م ← القرن ١٩ م ← القرن ٢٠ م									
السفر للمزارات الدينية بالمياه المعدنية									
السفر لمناطق العلاج بالمياه المعدنية									
ظهور الثورة الصناعية									
ظهور المهرجانات السياحية									
		-	معياري التصحيح						
		٤-٣-٢-١-٠	مفتاح التصحيح						

الصفحة	الدرجة	الإجابة الصحيحة	الجزئية	المفردة	السؤال															
١٣٣	١	<table border="1"> <tr> <th>المفهوم</th> <th>العبرة</th> <th>م</th> </tr> <tr> <td>التجارة الإلكترونية</td> <td></td> <td>١</td> </tr> <tr> <td>ميزان المدفوعات</td> <td></td> <td>٢</td> </tr> <tr> <td>السياحة المسؤولة</td> <td></td> <td>٣</td> </tr> <tr> <td>المنشأة السياحية</td> <td></td> <td>٤</td> </tr> </table>	المفهوم	العبرة	م	التجارة الإلكترونية		١	ميزان المدفوعات		٢	السياحة المسؤولة		٣	المنشأة السياحية		٤	١	ب	١٤
المفهوم	العبرة	م																		
التجارة الإلكترونية		١																		
ميزان المدفوعات		٢																		
السياحة المسؤولة		٣																		
المنشأة السياحية		٤																		
١٤٧	١		٢																	
١٦١	١		٣																	
١٧٢	١		٤																	
		-	معياري التصحيح																	
		٤-٣-٢-١-٠	مفتاح التصحيح																	

الصفحة	الدرجة	الإجابة الصحيحة	الجزئية	المفردة	السؤال
١٥٦	١	الترفيهية	١	ج	١٤
		-	معياري التصحيح		
		١-٠	مفتاح التصحيح		
١٥٦	٢	أ- التزلج على المياه ب- التزلج على الرمال	٢		
		-	معياري التصحيح		
		٢-١-٠	مفتاح التصحيح		
١٦٧	١	الموقع/ المناخ	٣		
		بما يفيد المعنى	معياري التصحيح		
		١-٠	مفتاح التصحيح		

تابع - نموذج إجابة امتحان: مادة الجغرافيا الاقتصادية - الصف الحادي عشر - للعام الدراسي ٢٠٢٤/٢٠٢٥ م
الفصل الدراسي الثاني - الدور الأول

السؤال ١٥ (مجموع الدرجات ١٢ درجة)

الصفحة	الدرجة	الإجابة الصحيحة	الجزئية	المفردة	السؤال
١١٦	١	خففت تكلفة النقل بين مناطق التبادل التجاري / اختصرت المسافة التي كان الطريق القديم يقطعها بالالتفاف حول قارة أمريكا الجنوبية / نشطت التبادل التجاري بين أقاليم العالم المختلفة وأسهمت في التنمية الاقتصادية للدول.	١	أ	١٥
١٠٦	١	انقلاب تصنيع المركبات / تشييد شبكات طرق متطورة.	٢		
١٨١	١	ارتفاع في الأسعار	٣		
١٨٢	١	حدوث التعرية والانهيارات الأرضية	٤		
		-	معيار التصحيح		
		٤-٣-٢-١-٠	مفتاح التصحيح		

الصفحة	الدرجة	الإجابة الصحيحة	الجزئية	المفردة	السؤال	
١٤٤	٣	م	١	ب	١٥	
		العبرة				
		المفهوم				
		نزهة				
		سياحة	٢			
		سفر	٣			
		-	معيار التصحيح			
		٣-٢-١-٠	مفتاح التصحيح			
١٠٨	١	-النهري. - مجاري الأنهار متعرجة وضيقة تتخللها العديد من الشلالات	٢			
		يشترط الاختيار الصحيح مع التفسير				معيار التصحيح
		١ - ٠				مفتاح التصحيح

الصفحة	الدرجة	الإجابة الصحيحة	الجزئية	المفردة	السؤال
١٢٣	١	الاتصالات	١	ج	١٥
١٢٣	١	تغطية مساحات واسعة/ يحقق الاتصال بين عدة محطات في آن واحد.	٢		
١٢٣	٢	الأرصاء الجوية/ مراقبة سطح الأرض/ الأبحاث العلمية	٣		
		يشترط كتابة اثنين	معيار التصحيح		
		٤-٣-٢-١-٠	مفتاح التصحيح		

يتبع / ٥

تابع - نموذج إجابة امتحان: مادة الجغرافيا الاقتصادية - الصف الحادي عشر - للعام الدراسي ٢٠٢٤/٢٠٢٥ م
الفصل الدراسي الثاني - الدور الأول

السؤال: ١٦ (مجموع الدرجات ١٢ درجة)

الصفحة	الدرجة	الإجابة الصحيحة	الجزئية	المفردة	السؤال
١٢٨	٢	(أ) ٤٠ مليار دولار (ب) ١٦ مليار دولار	١	أ	١٦
		لكل جزئية درجة	معيار التصحيح		
		٢-١-٠	مفتاح التصحيح		
١٢٨	٢	ب - يؤدي إلى عرقلة الخطط والبرامج التنموية	٢	ب	١٦
		بما يفيد المعنى	معيار التصحيح		
		٢-١-٠	مفتاح التصحيح		

الصفحة	الدرجة	الإجابة الصحيحة	الجزئية	المفردة	السؤال
١٦٩ ١٥٧ ١٤٨	٣	د - ج - أ -	١	ب	١٦
		-	معيار التصحيح		
		٣-٢-١-٠	مفتاح التصحيح		
١٦٧	١	الموقع الجغرافي / سهولة الوصول إليها / المناخ المعتدل / رخص الأسعار	٢	ب	١٦
		-	معيار التصحيح		
		١-٠	مفتاح التصحيح		

الصفحة	الدرجة	الإجابة الصحيحة	الجزئية	المفردة	السؤال
١١٩	١	استخدام وسائل نقل أقل تأثيراً على البيئة وتعرف بوسائل النقل الخضراء.	١	ج	١٦
		-	معيار التصحيح		
		١ - ٠	مفتاح التصحيح		
١١٩	٢	الدراجات الهوائية. / المركبات الكهربائية / المركبات التي تعتمد على الطاقة الشمسية	٢	ج	١٦
		يكتفى باثنين	معيار التصحيح		
		٢-١-٠	مفتاح التصحيح		
١١٩	١	فرض القوانين والتشريعات البيئية على مختلف القطاعات / تبني عدة مبادرات محلية تستخدم فيها وسائل نقل تُسهم في التقليل من الانبعاثات الكربونية.	٣	ج	١٦
		الإجابة من الفقرة	معيار التصحيح		
		١ - ٠	مفتاح التصحيح		

نهاية نموذج الإجابة



امتحان مادة الجغرافيا الاقتصادية للصف الحادي عشر
الفصل الدراسي: الثاني - الدور الثاني
للعام الدراسي ١٤٤٦ / ١٤٤٧ هـ - ٢٠٢٤ / ٢٠٢٥ م

▪ عدد صفحات أسئلة الامتحان: (٩) صفحات. ▪ الدرجة الكلية للامتحان: (٦٠) درجة.	▪ زمن الامتحان: ساعتان. ▪ الإجابة في دفتر الأسئلة نفسه. ▪ تُكتب الإجابة بالقلم الأزرق أو الأسود.
--	--

اسم الطالب: _____ الشعبة: _____

التوقيع بالاسم		الدرجة		السؤال
اسم المراجع	اسم المصحح	بالحروف	بالأرقام	
				أولاً: الأسئلة الموضوعية (١ - ١٢)
				ثانياً: الأسئلة المقالية ١٣
				١٤
				١٥
				١٦
راجع الجمع	جمعه			المجموع
				المجموع الكلي
				٦٠

أجب عن جميع الأسئلة الآتية

أولاً: الأسئلة الموضوعية:

١٢

ظل الشكل () المقترن بالإجابة الصحيحة لكل مفردة من المفردات الآتية:

(١) القمر الصناعي الذي تم إطلاقه بهدف مراقبة سطح الأرض:

Nilesat

GOES

Landsat

TIROS

(٢) أي من المقومات السياحية التي يتحدث عنها الخبر الصحفي في الشكل المقابل؟



"حصدت العبارة شتة التابعة لأسطول الشركة الوطنية للعبارات في سلطنة عمان جائزتي أفضل عبارة نقل المسافرين، وأفضل نموذج تصنيع عام ٢٠١٤م"

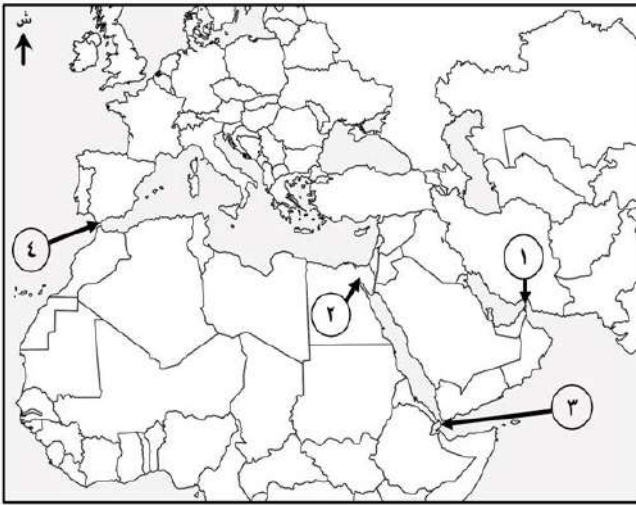
الموقع.

المناخ.

وسائل النقل.

أشكال سطح الأرض.

(٣) الجدول الصحيح الذي يبين مواقع الممرات المائية وفق الأرقام الموضحة في الخريطة المقابلة:



اسم الممر المائي	هرمز	السويس	باب المنذب	جبل طارق
رقم الموقع على الخريطة	١	٣	٢	٤
اسم الممر المائي	هرمز	السويس	باب المنذب	جبل طارق
رقم الموقع على الخريطة	٣	١	٤	٢
اسم الممر المائي	هرمز	السويس	باب المنذب	جبل طارق
رقم الموقع على الخريطة	١	٢	٣	٤
اسم الممر المائي	هرمز	السويس	باب المنذب	جبل طارق
رقم الموقع على الخريطة	٤	٢	١	٣

(٤) التقنية الجغرافية الحديثة المستخدمة في التخطيط لشبكات الطرق وإجراء دراسات تحليلية عنها:

EC

GPS

GIS

RS

(٥) النشاط الذي يُمثل تسهيلات الإمداد في مجال (الأمن والصحة) في الموقع السياحي:

مراكز الاستجمام.

سيارات التاجير.

الخدمات المصرفية.

الدفاع المدني.

تابع أولاً: الأسئلة الموضوعية:



حديقة الصخور في ولاية الدقم

٦) نوع السياحة التي ينتمي إليه الموقع الظاهر في الصورة أمامك:

- الترفيهية. العلاجية.
- الرياضية. الجيولوجية.

٧) المطار الدولي الذي يحتل المرتبة الثالثة عالمياً من حيث أعداد المسافرين حسب الشكل المقابل:



- بكين.
- شيكاغو.
- هيثرو.
- طوكيو.

٨) كم بلغ الميزان التجاري لسلطنة عُمان بالمليار ريال عُماني وفق البيانات الإحصائية الواردة في الشكل المقابل؟

الميزان التجاري لسلطنة عُمان - بنهاية فبراير ٢٠٢٤ م -	
قيمة الصادرات السلعية ٤,٤ مليار ريال عُماني	قيمة الواردات السلعية ٢,٧ مليار ريال عُماني

- ١,٧ ٢,٧
- ٣,٧ ٤,٧

٩) الدولة العربية التي يمارس فيها السياحة الترفيهية في الشكل المقابل:



- مصر. لبنان.
- السودان. اليمن.

تابع أولاً: الأسئلة الموضوعية:

١٠. الجدول الصحيح الذي يميّز بين المفاهيم السياحية ضمن تعريفات منظمة السياحة العالمية:

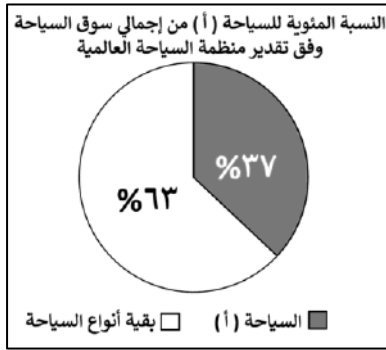
المفهوم/ المصطلح	العبرة
سائح	قيام أحمد برحلة إلى شاطئ القرم في إجازة نهاية الأسبوع والعودة للمنزل في اليوم ذاته.
مسافر	توجه عبدالله من بلده سلطنة عُمان إلى النمسا لحضور مؤتمر في السياحة.
متنزه	ذهاب سعود من سكان محافظة مسندم إلى محافظة ظفار للتمتع بخريفها.

المفهوم/ المصطلح	العبرة
متنزه	قيام أحمد برحلة إلى شاطئ القرم في إجازة نهاية الأسبوع والعودة للمنزل في اليوم ذاته.
مسافر	توجه عبدالله من بلده سلطنة عُمان إلى النمسا لحضور مؤتمر في السياحة.
سائح	ذهاب سعود من سكان محافظة مسندم إلى محافظة ظفار للتمتع بخريفها.

المفهوم/ المصطلح	العبرة
متنزه	قيام أحمد برحلة إلى شاطئ القرم في إجازة نهاية الأسبوع والعودة للمنزل في اليوم ذاته.
سائح	توجه عبدالله من بلده سلطنة عُمان إلى النمسا لحضور مؤتمر في السياحة.
مسافر	ذهاب سعود من سكان محافظة مسندم إلى محافظة ظفار للتمتع بخريفها.

المفهوم/ المصطلح	العبرة
مسافر	قيام أحمد برحلة إلى شاطئ القرم في إجازة نهاية الأسبوع والعودة للمنزل في اليوم ذاته.
سائح	توجه عبدالله من بلده سلطنة عُمان إلى النمسا لحضور مؤتمر في السياحة.
متنزه	ذهاب سعود من سكان محافظة مسندم إلى محافظة ظفار للتمتع بخريفها.

١١. نوع السياحة المشار إليها بالرمز (أ) في الشكل البياني المقابل:



الرياضية

العلاجية

الثقافية

الترفيهية

١٢. الرمز الذي يمثل البنية التحتية للمناخ الاستثماري السياحي في الجدول المقابل:

جوانب البنية التحتية				الرمز
الاتصالات	الكهرباء	تأشيرات الدخول	محلات الصرافة	أ
المحلات التجارية	الصرف الصحي	محلات الصرافة	الكهرباء	ب
المحلات التجارية	شبكة الطرق	الاتصالات	تأشيرات الدخول	ج
الصرف الصحي	شبكة الطرق	الاتصالات	الكهرباء	د

ثانياً: الأسئلة المقالية:

١٢

(١٣)

أ. اكتب اسم المفهوم المناسب مقابل العبارات الواردة في الجدول الآتي:

م	العبرة	المفهوم
١	مادة مصنوعة من الزجاج النقي، تكون طويلة ورفيعة لا يتعدى سمكها سمك الشعرة، يجمع العديد منها في حزم داخل الكابلات البصرية وتستخدم في نقل الإشارات الضوئية لمسافات بعيدة جداً.	
٢	الشخص الذي يقوم بشرح وتقديم المعلومات التاريخية والجغرافية والثقافية للسياح في المواقع السياحية.	
٣	تبادل الأفكار والمعلومات والأخبار بين طرفين من خلال وسائل معينة.	
٤	سجلٌ يوضح جميع المعاملات الاقتصادية لدولة ما مع بقية دول العالم خلال فترة زمنية معينة عادة تكون سنة.	

ب.

١- اكتب عاملين أسهما في ازدهار القطاع السياحي.

-
-

٢-

"تمكّن تاجر من استيراد سلعة تجارية قادمة من جمهورية الصين الشعبية بقيمة ١٠٠ ريال عُمانى، وقد تم فرض ضريبة مالية على هذه السلعة المستوردة تطبيقاً لبند اتفاقية التعرفة الجمركية الموحدة لدول مجلس التعاون الخليجي عام ٢٠٠٣ م".
من العبارة السابقة، أجب عن الأسئلة الآتية:

أ- كم ستبلغ الضريبة المالية التي سيدفعها التاجر نظير استيراده لهذه السلعة بالريال العُماني؟

.....

ب- وضح السبب في فرض الدول الواردة في الفقرة السابقة للمفهوم الذي تحته خط.

.....

.....

تابع: ثانيًا: الأسئلة المقالية:

١٣ ج. من خلال الشكل امامك، أجب عن الأسئلة التالية:

١- أكمل بيانات الشكل الآتي:



٢- استنتج السبب في إصدار الجمعية العامة للمنظمة العالمية للسياحة المدونة التي يشير إليها الشكل السابق.

١٤ أ. اذكر هدفًا واحدًا لكل مما يأتي:

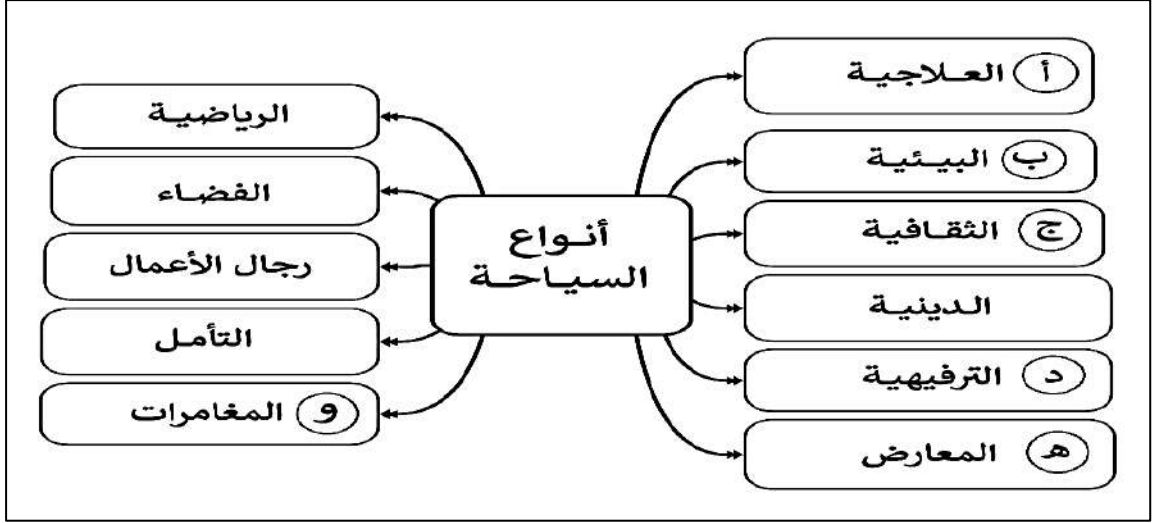
١- تطبيق نظام الحسابات السياحية في بعض الدول.

٢- سرعة إنجاز معاملات دخول السياح عبر المعابر الحدودية.

٣- إنشاء منظمة إيكوموس.

تابع: ثانيًا: الأسئلة المقالية:

١٤) ب. ادرس الشكل الآتي، ثم أجب عن الأسئلة التي تليه:



١- اكتب نوعين من أنواع السياحة المشار إليها بالرمز (أ).

- _____
- _____


٢- ما المعيار الذي تم الاعتماد عليه في تصنيف أنواع السياحة الواردة في الشكل؟

٣- اكتب الرمز الذي يشير إلى كل من الآتي.

- نوع السياحة التي تصنف ضمنها السياحة الجيولوجية.

- نوع السياحة السائدة في العصور القديمة في اليونان

ج. أكمل بيانات البطاقة التعريفية الآتية لنوع النقل الظاهر بالشكل أمامك:

	نوع النقل البري	١
	قارة توجد فيها أكثف خطوطه	٢
	ميزه واحدة	٣
	الدولة التي تمتلك أطول شبكة لخطوطه وفق بيانات عام ٢٠١٢م	٤

يتبع/٧

تابع ثانيًا: الأسئلة المقالية:

١٢

(١٥)

أ. اكتب اثنين لكل مما يأتي:

١- الشروط التي يجب أن تتوافر في النهر ليكون صالحًا للملاحة.

-
-

٢- الآثار السلبية على السياحة البحرية.

-
-

ب.

"أسهم انتشار الإنترنت وتزايد أعداد مستخدميها حول العالم في ظهور نوع جديد من الاقتصاد يعرف بالاقتصاد الرقمي، الذي يعتمد على استخدام التكنولوجيا الرقمية المتعددة في إنجاز المعاملات التجارية كالهواتف الذكية وتطبيقاتها والحاسب الآلي والأجهزة اللوحية، حيث ظهرت العديد من المواقع الإلكترونية بهدف تسويق سلع وخدمات معينة يمكن للمستهلك الحصول عليها على مدار الساعة من أي مكان في العالم عن طريق شبكة الإنترنت، وعلى الرغم من المزايا التي توفرها التجارة الرقمية فإن مستوى الشعور بالأمان والحماية لدى المستهلك قليل".

من الفقرة السابقة، أجب عن الأسئلة الآتية:

١- عرف المفهوم الذي تحته خط.

.....

٢- استخرج من الفقرة ما يأتي:

أ- الوسيلة التكنولوجية الأكثر استخدامًا في إنجاز هذه المعاملات التجارية.

.....

ب- ميزة واحدة توفرها هذه الأسواق للمستهلك.

.....

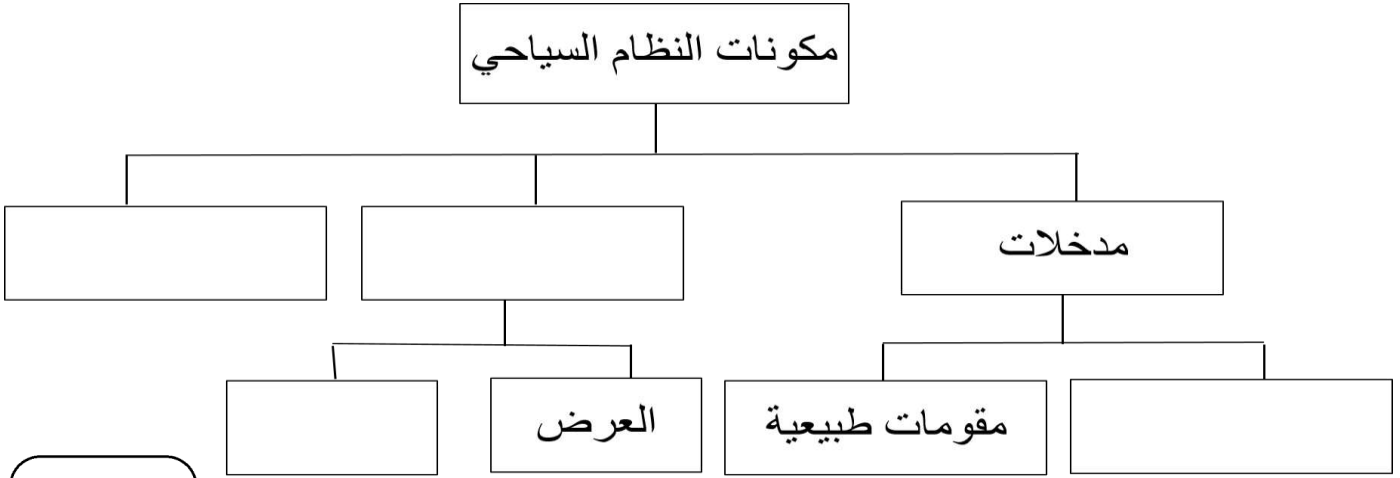
٣- بم تفسر قلة شعور المستهلك بالأمان من هذه المعاملات التجارية.

.....

.....

تابع ثانيًا: الأسئلة المقالية:

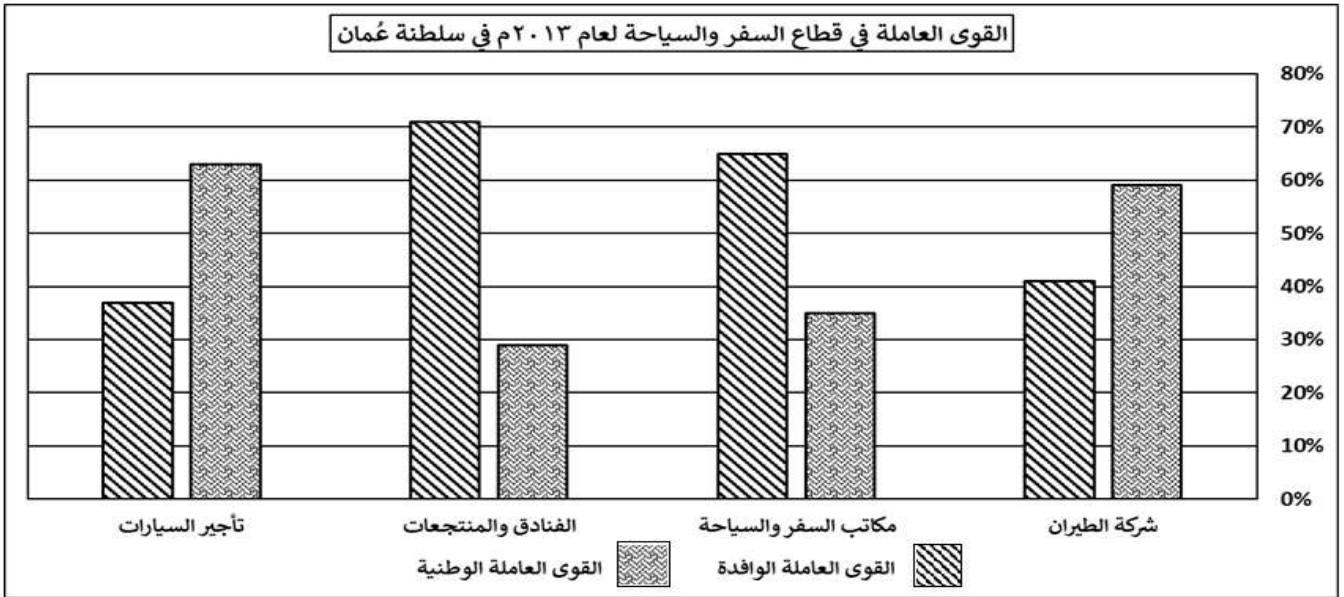
ج- أكمل بيانات المخطط الآتي:



١٢

(١٦

أ. ادرس الشكل الآتي، ثم أجب عن الأسئلة التالية:



١- كم بلغت نسبة التعمين في النشاط السياحي لشركة الطيران؟

.....

٢- ما النشاط السياحي الأكثر استيعابًا لكل مما يأتي:

أ- القوى العاملة الوطنية.

.....

ب- القوى العاملة الوافدة.

.....

٣- استنتج أثر زيادة السياح على قطاع الفنادق والمنتجعات.

.....

تابع ثانيًا: الأسئلة المقالية:



- ب.
١- من الشكل المقابل، أجب عن الأسئلة الآتية:
أ- سمّ المشروع الذي يرمز إليه الشعار المقابل.

ب- اذكر واحدًا من أهدافه.

- ٢- اكتب اثنين من إيجابيات تطبيق الحكومة الإلكترونية.

ج. اكتب اثنين لكل مما يأتي:

- ١- أمثلة على الطرق البرية قديمًا.

٢- مميزات النقل بالأنابيب.

انتهت الأسئلة مع الدعاء للجميع بالتوفيق والنجاح



نموذج إجابة امتحان مادة الجغرافيا الاقتصادية
للفصل الحادي عشر
الفصل الدراسي الثاني- الدور الثاني
للعام الدراسي ١٤٤٦ / ١٤٤٧ هـ - ٢٠٢٤ / ٢٠٢٥ م

تنبيه: نموذج الإجابة في (٥) صفحات الدرجة الكلية: (٦٠) درجة

أولاً: إجابة الأسئلة الموضوعية (مجموع الدرجات ١٢ درجة)

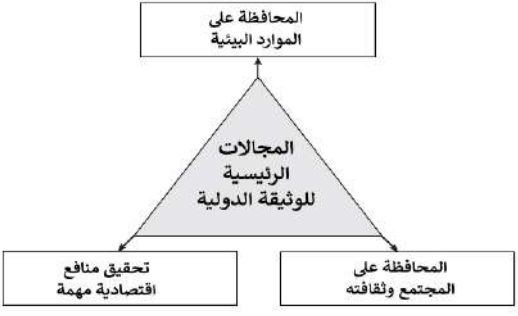
السؤال	الإجابة	الصفحة	مفتاح التصحيح										
١	Landsat	١٢٣	١ - ٠										
٢	وسائل النقل.	١٧١	١ - ٠										
٣	<table border="1"><thead><tr><th>اسم الممر المائي</th><th>هرمز</th><th>السويس</th><th>باب المنذب</th><th>جبل طارق</th></tr></thead><tbody><tr><td>رقم الموقع على الخريطة</td><td>١</td><td>٢</td><td>٣</td><td>٤</td></tr></tbody></table>	اسم الممر المائي	هرمز	السويس	باب المنذب	جبل طارق	رقم الموقع على الخريطة	١	٢	٣	٤	١١٧-١١٥	١ - ٠
اسم الممر المائي	هرمز	السويس	باب المنذب	جبل طارق									
رقم الموقع على الخريطة	١	٢	٣	٤									
٤	GIS	١٠٦	١ - ٠										
٥	الدفاع المدني.	١٧٣	١ - ٠										
٦	الجيولوجية.	١٨٦	١ - ٠										
٧	هيثرو.	١١٨	١ - ٠										
٨	١,٧	١٢٨	١ - ٠										
٩	لبنان	١٥٦	١ - ٠										
١٠	<table border="1"><thead><tr><th>وصف الحالة</th><th>المفهوم/ المصطلح</th></tr></thead><tbody><tr><td>قيام أحمد برحلة إلى شاطئ القرم في إجازة نهاية الأسبوع والعودة للمنزل في اليوم ذاته.</td><td>متنزه</td></tr><tr><td>توجه عبدالله من بلده سلطنة عُمان إلى النمسا لحضور مؤتمر في السياحة.</td><td>مسافر</td></tr><tr><td>ذهاب سعود من سكان محافظة مسندم إلى محافظة ظفار للتمتع بخريفها.</td><td>سائح</td></tr></tbody></table>	وصف الحالة	المفهوم/ المصطلح	قيام أحمد برحلة إلى شاطئ القرم في إجازة نهاية الأسبوع والعودة للمنزل في اليوم ذاته.	متنزه	توجه عبدالله من بلده سلطنة عُمان إلى النمسا لحضور مؤتمر في السياحة.	مسافر	ذهاب سعود من سكان محافظة مسندم إلى محافظة ظفار للتمتع بخريفها.	سائح	١٤٤	١ - ٠		
وصف الحالة	المفهوم/ المصطلح												
قيام أحمد برحلة إلى شاطئ القرم في إجازة نهاية الأسبوع والعودة للمنزل في اليوم ذاته.	متنزه												
توجه عبدالله من بلده سلطنة عُمان إلى النمسا لحضور مؤتمر في السياحة.	مسافر												
ذهاب سعود من سكان محافظة مسندم إلى محافظة ظفار للتمتع بخريفها.	سائح												
١١	الثقافية	١٥٣	١ - ٠										
١٢	<table border="1"><thead><tr><th>الرمز</th><th>جوانب البنية التحتية</th></tr></thead><tbody><tr><td>د</td><td>الكهرباء</td><td>الاتصالات</td><td>شبكة الطرق</td><td>الصرف الصحي</td></tr></tbody></table>	الرمز	جوانب البنية التحتية	د	الكهرباء	الاتصالات	شبكة الطرق	الصرف الصحي	١٧٨	١ - ٠			
الرمز	جوانب البنية التحتية												
د	الكهرباء	الاتصالات	شبكة الطرق	الصرف الصحي									

تابع - نموذج إجابة امتحان: مادة الجغرافيا الاقتصادية - الصف الحادي عشر - للعام الدراسي ٢٠٢٤/٢٠٢٥ م
الفصل الدراسي الثاني - الدور الثاني

ثانياً: إجابة الاسئلة المقالية: السؤال: ١٣ (مجموع الدرجات ١٢ درجة)

الصفحة	الدرجة	الإجابة الصحيحة	الجزئية	المفردة	السؤال
١٢٤	١	الألياف البصرية / الألياف الضوئية / optical fiber	١	أ	١٣
١٧٤	١	المرشد السياحي	٢		
١٢١	١	الاتصال / communication	٣		
١٤٧	١	ميزان المدفوعات	٤		
-			معياري التصحيح		
٤-٣-٢-١-٠			مفتاح التصحيح		

الصفحة	الدرجة	الإجابة الصحيحة	الجزئية	المفردة	السؤال
١١٩	٢	تطوير قطاع النقل العام / تشجيع استخدام الدراجات الهوائية/ البحث عن وسائل نقل صديقة للبيئة/ فرض قوانين للحد من وسائل النقل الملوثة للبيئة.	١	ب	١٣
بما يفيد المعنى			معياري التصحيح		
٢ - ١ - ٠			مفتاح التصحيح		
١٣١	١	أ - ٥ ريال عُماني. ب- حماية المنتجات الوطنية/ تشجيع التصدير والاستثمار/ مصدر دخل للدول.	٢		
١٣٠	١				
بما يفيد المعنى			معياري التصحيح		
٢ - ١ - ٠			مفتاح التصحيح		

الصفحة	الدرجة	الإجابة الصحيحة	الجزئية	المفردة	السؤال
١٨٥	٣		١	ج	١٣
لا يشترط الترتيب/ إذا اختصر الطالب المجالات إلى (بيئي / اجتماعي / اقتصادي) تعتبر الإجابة صحيحة			معياري التصحيح		
٣ - ٢ - ١ - ٠			مفتاح التصحيح		
١٦١	١	لحد من الآثار السلبية للسياحة.	٢		
-			معياري التصحيح		
١ - ٠			مفتاح التصحيح		

تابع - نموذج إجابة امتحان: مادة الجغرافيا الاقتصادية - الصف الحادي عشر - للعام الدراسي ٢٠٢٤/٢٠٢٥ م
الفصل الدراسي الثاني - الدور الثاني

تابع: ثانيًا: إجابة الاسئلة المقالية: السؤال: ١٤ (مجموع الدرجات ١٢ درجة)

الصفحة	الدرجة	الإجابة الصحيحة	الجزئية	المفردة	السؤال
١٤٨	١	لضبط البيانات والمعلومات الإحصائية للسياحة رقمياً والتحكم بها/ جمع البيانات عن السياح إلكترونياً/ إجراء عمليات تحليل البيانات الإحصائية وتقديمها لصناع القرار/ الاستفادة من البيانات في تطوير صناعة السياحة.	١	أ	١٤
		بما يفيد المعنى.	معياري التصحيح		
		١ - ٠	مفتاح التصحيح		
١١٥	١	تقصير المسافات/ تقليل الوقت/ خفض تكلفة النقل.	٢		
		-	معياري التصحيح		
		١ - ٠	مفتاح التصحيح		
١٥٥	١	لتعزيز عمليات المحافظة والحماية للمعالم الأثرية والمواقع العمرانية وتأهيلها وتحسينها للمستوى العالمي.	٣		
		-	معياري التصحيح		
		١ - ٠	مفتاح التصحيح		

الصفحة	الدرجة	الإجابة الصحيحة	الجزئية	المفردة	السؤال
١٥٨	٢	<ul style="list-style-type: none"> • المناخية. • المعدنية. 	١	ب	١٤
		لا يشترط الترتيب	معياري التصحيح		
		٢ - ١ - ٠	مفتاح التصحيح		
١٥٢	١	الهدف/ الغاية.	٢		
		-	معياري التصحيح		
		١ - ٠	مفتاح التصحيح		
١٤٣ ١٦٢	٢	<ul style="list-style-type: none"> • ب • د 	٣		
		-	معياري التصحيح		
		٢ - ١ - ٠	مفتاح التصحيح		

الصفحة	الدرجة	الإجابة الصحيحة	الجزئية	المفردة	السؤال
١٠٤	١	السكك الحديدية.	١	ج	١٤
١٠٨	١	أمريكا الشمالية/ أوروبا.	٢		
١٠٨	١	نقل الحمولات الثقيلة / النقل لمسافات طويلة / النقل بسرعة تفوق الكثير من وسائل النقل الأخرى.	٣		
١٠٩	١	الولايات المتحدة الأمريكية.	٤		
		-	معياري التصحيح		
		٤ - ٣ - ٢ - ١ - ٠	مفتاح التصحيح		

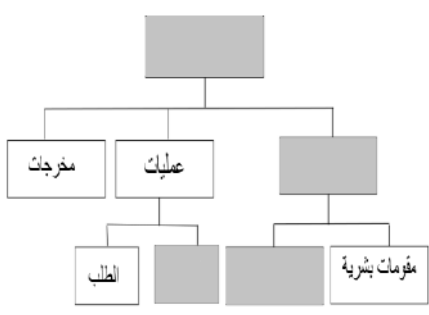
يتبع / ٤

تابع - نموذج إجابة امتحان: مادة الجغرافيا الاقتصادية - الصف الحادي عشر - للعام الدراسي ٢٠٢٤/٢٠٢٥ م
الفصل الدراسي الثاني - الدور الثاني

تابع: ثانيًا: إجابة الاسئلة المقالية
السؤال ١٥ (مجموع الدرجات ١٢ درجة)

الصفحة	الدرجة	الإجابة الصحيحة	الجزئية	المفردة	السؤال
١١٢	٢	يكون النهر دائم الجريان / يخلو مجرى النهر من العقبات الملاحية مثل الجنادل والشلالات / يكون مجرى النهر قليل التعرج والانحدار / يكون مصب النهر عريضًا.	١	أ	١٥
١٨١	٢	تدمير الشعب المرجانية / جمع السياح الأزهار والنباتات / رمي المخلفات.	٢		
-			معيار التصحيح		
٤-٣-٢-١-٠			مفتاح التصحيح		

الصفحة	الدرجة	الإجابة الصحيحة	الجزئية	المفردة	السؤال
١٢٥	١	استخدام التكنولوجيا الرقمية المتعددة في إنجاز المعاملات التجارية.	١	ب	١٥
١٣٤	١	الهواتف الذكية / الحاسب الآلي / الأجهزة اللوحية.	أ		
١٣٣	١	توفير الوقت و الجهد / الحصول على السلعة على مدار الساعة / الحصول على السلعة من أي مكان في العالم.	ب		
١٣٣	١	الخوف من التعرض للاحتيال / الخوف من اختراق الحواسيب / بعض الشركات غير موثوقة.	٣		
-			معيار التصحيح		
٤-٣-٢-١-٠			مفتاح التصحيح		

الصفحة	الدرجة	الإجابة الصحيحة	الجزئية	المفردة	السؤال
١٦٦	٤			ج	١٥
-			معيار التصحيح		
٤-٣-٢-١-٠			مفتاح التصحيح		

تابع - نموذج إجابة امتحان: مادة الجغرافيا الاقتصادية - الصف الحادي عشر - للعام الدراسي ٢٠٢٤/٢٠٢٥ م
الفصل الدراسي الثاني - الدور الثاني

ثانيًا: إجابة الاسئلة المقالية: السؤال: ١٦ (مجموع الدرجات ١٢ درجة)

السؤال	المفردة	الجزئية	الإجابة الصحيحة	الدرجة	الصفحة	
١٦	أ	١	٥٩%	١	١٨٠	
		٢	أ	تأجير السيارات.	١	١٨٠
			ب	الفنادق والمنتجات.	١	١٨٠
		٣	ارتفاع الأسعار	١	١٧٢ و ١٧٩	
		معيار التصحيح	-			
		مفتاح التصحيح	٤-٣-٢-١-٠٠			

السؤال	المفردة	الجزئية	الإجابة الصحيحة	الدرجة	الصفحة	
١٦	ب	١	أ	مجتمع عُمان الرقمي.	١	١٢٧
			ب	نشر المعرفة الرقمية بين شرائح وفئات المجتمع المختلفة/ التمهيد لتطبيق الحكومة الالكترونية.	١	١٢٧
		٣	كلاهما يسعى الى تشجيع المؤسسات الحكومية والخاصة على تعزيز استخدام التقنية الرقمية/ تحسين نوعية الخدمات الإلكترونية المقدمة وتبسيط إجراءاتها/ تفعيل سياسة الحكومة للانتقال إلى اقتصاد مبني على تقنية المعلومات.	٢	١٢٧	
			معيار التصحيح	-		
		مفتاح التصحيح	٤-٣-٢-١-٠٠			

السؤال	المفردة	الجزئية	الإجابة الصحيحة	الدرجة	الصفحة	
١٦	ج	١	طرق القوافل العربية/ طرق العنبر / طريق الحرير.	٢	١٤٦	
		٢	أرخص أنواع النقل/ لا تتأثر بالظروف الجوية/ لا تتأثر بالتضاريس/ السرعة/ النقل لمسافات طويلة.	٢	١٢٤	
			معيار التصحيح	بما يفيد المعنى		
			مفتاح التصحيح	٤-٣-٢-١-٠٠		

نهاية نموذج الإجابة



امتحان مادة الجغرافيا الاقتصادية للصف الحادي عشر
الدور الثاني - الشامل
للعام الدراسي ١٤٤٦ / ١٤٤٧ هـ - ٢٠٢٤ / ٢٠٢٥ م

▪ عدد صفحات أسئلة الامتحان: (٩) صفحات. ▪ الدرجة الكلية للامتحان: (٦٠) درجة.	▪ زمن الامتحان: ساعتان. ▪ الإجابة في دفتر الأسئلة نفسه. ▪ تُكتب الإجابة بالقلم الأزرق أو الأسود.
--	--

اسم الطالب: _____ الشعبة: _____

التوقيع بالاسم		الدرجة		السؤال
اسم المراجع	اسم المصحح	بالحروف	بالأرقام	
				أولاً: الأسئلة الموضوعية (١ - ١٢)
				ثانياً: الأسئلة المقالية ١٣
				١٤
				١٥
				١٦
راجع الجمع	جمعه			المجموع
				المجموع الكلي
				٦٠

أجب عن جميع الأسئلة الآتية

أولاً: الأسئلة الموضوعية:

١٢

ظل الشكل () المقترن بالإجابة الصحيحة لكل مفردة من المفردات الآتية:

(١) الدول الأكثر ملائمة لاستغلال طاقة الرياح على مستوى الوطن العربي:

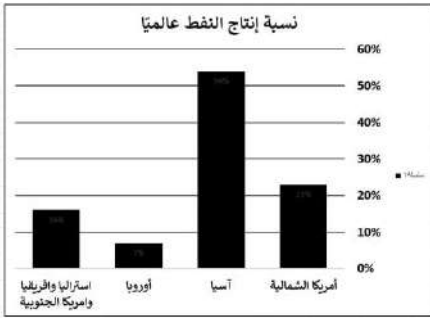
سلطنة عُمان والجزائر

سلطنة عُمان والمغرب

سلطنة عُمان وتونس

سلطنة عُمان والأردن

(٢) الترتيب الصحيح لقارات العالم حسب الأكثر إنتاجًا للنفط من الأعلى إلى الأقل من خلال الشكل البياني المقابل:



أمريكا الشمالية | آسيا | أوروبا | أستراليا وأفريقيا وأمريكا الجنوبية

آسيا | أمريكا الشمالية | أستراليا وأفريقيا وأمريكا الجنوبية | أوروبا

آسيا | أوروبا | أستراليا وأفريقيا وأمريكا الجنوبية | أمريكا الشمالية

أستراليا وأفريقيا وأمريكا الجنوبية | أوروبا | آسيا | أمريكا الشمالية

(٣) الشكل الصحيح الذي يمثل خصائص التربة:

نوع التربة	اللون	خاصية الاحتفاظ بالماء
طينية	أصفر	لا تحتفظ بالماء

نوع التربة	اللون	خاصية الاحتفاظ بالماء
رملية	بني فاتح	لا تحتفظ بالماء

نوع التربة	اللون	خاصية الاحتفاظ بالماء
رملية	بني داكن	تحتفظ بالماء

نوع التربة	اللون	خاصية الاحتفاظ بالماء
طينية ورملية	أصفر	لا تحتفظ بالماء

(٤) نوع الزراعة التي تنتشر في المناطق ذات الكثافة السكانية القليلة والمساحة الكبيرة:

العصرية

المختلطة

التجارية

البدائية


تابع أولاً: الأسئلة الموضوعية:

٥) الشكل الذي يُعبّر عن الصناعات الإنشائية:









٦) النتيجة المترتبة على سياسة تقليل قطع الغابات على مستوى العالم:

ارتفاع درجة حرارة الكرة الأرضية قلة امتصاص ثاني أكسيد الكربون

قلة إنتاج الأوكسجين في الجو زيادة امتصاص ثاني أكسيد الكربون

٧) المطار الدولي الذي يحتل المرتبة الثالثة عالمياً من حيث أعداد المسافرين حسب الشكل المقابل:



بكين.

شيكاغو.

هيثرو.

طوكيو.

٨) كم بلغ الميزان التجاري لسلطنة عُمان بالمليار ريال عُماني وفق البيانات الإحصائية الواردة في الشكل المقابل؟

الميزان التجاري لسلطنة عُمان - بنهاية فبراير ٢٠٢٤ م -	
قيمة الصادرات السلعية ٤,٤ مليار ريال عُماني	قيمة الواردات السلعية ٢,٧ مليار ريال عُماني

٢,٧

١,٧

٤,٧

٣,٧

تابع أولاً: الأسئلة الموضوعية:

٩) الدولة العربية التي يمارس فيها السياحة الترفيهية في الشكل المقابل:



مصر. لبنان.

السودان. اليمن.

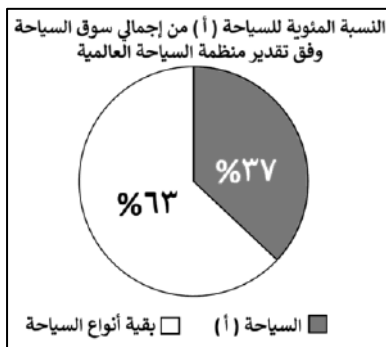
١٠) الجدول الصحيح الذي يميّز بين المفاهيم السياحية ضمن تعريفات منظمة السياحة العالمية:

المفهوم/ المصطلح	العبرة
سائح	قيام أحمد برحلة إلى شاطئ القرم في إجازة نهاية الأسبوع والعودة للمنزل في اليوم ذاته.
مسافر	توجه عبدالله من بلده سلطنة عُمان إلى النمسا لحضور مؤتمر في السياحة.
متنزه	ذهاب سعود من سكان محافظة مسندم إلى محافظة ظفار للتمتع بخريفها.

المفهوم/ المصطلح	العبرة
متنزه	قيام أحمد برحلة إلى شاطئ القرم في إجازة نهاية الأسبوع والعودة للمنزل في اليوم ذاته.
مسافر	توجه عبدالله من بلده سلطنة عُمان إلى النمسا لحضور مؤتمر في السياحة.
سائح	ذهاب سعود من سكان محافظة مسندم إلى محافظة ظفار للتمتع بخريفها.

المفهوم/ المصطلح	العبرة
متنزه	قيام أحمد برحلة إلى شاطئ القرم في إجازة نهاية الأسبوع والعودة للمنزل في اليوم ذاته.
سائح	توجه عبدالله من بلده سلطنة عُمان إلى النمسا لحضور مؤتمر في السياحة.
مسافر	ذهاب سعود من سكان محافظة مسندم إلى محافظة ظفار للتمتع بخريفها.

المفهوم/ المصطلح	العبرة
مسافر	قيام أحمد برحلة إلى شاطئ القرم في إجازة نهاية الأسبوع والعودة للمنزل في اليوم ذاته.
سائح	توجه عبدالله من بلده سلطنة عُمان إلى النمسا لحضور مؤتمر في السياحة.
متنزه	ذهاب سعود من سكان محافظة مسندم إلى محافظة ظفار للتمتع بخريفها.



١١) نوع السياحة المشار إليها بالرمز (أ) في الشكل البياني المقابل:

الرياضية

العلاجية

الثقافية

الترفيهية

تابع أولاً: الأسئلة الموضوعية:

(١٢) الرمز الذي يمثل البنية التحتية للمناخ الاستثماري السياحي في الجدول المقابل:

جوانب البنية التحتية				الرمز
الاتصالات	الكهرباء	تأشيرات الدخول	محلات الصرافة	أ
المحلات التجارية	الصرف الصحي	محلات الصرافة	الكهرباء	ب
المحلات التجارية	شبكة الطرق	الاتصالات	تأشيرات الدخول	ج
الصرف الصحي	شبكة الطرق	الاتصالات	الكهرباء	د

ثانياً: الأسئلة المقالية:

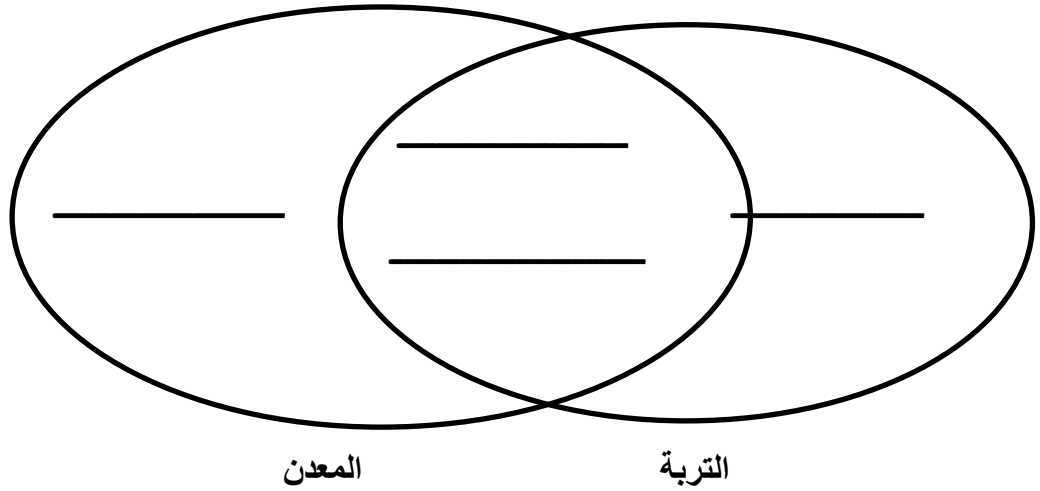
١٢

(١٣)

أ. اكتب اسم المفهوم المناسب مقابل العبارات الواردة في الجدول الآتي:

م	العبرة	المفهوم
١	مادة صلبة تتكوّن في الطبيعة لها تركيبة كيميائية محددة وتتميز بخصائص طبيعية وكيميائية معينة.	
٢	الشخص الذي يقوم بشرح وتقديم المعلومات التاريخية والجغرافية والثقافية للسياح في المواقع السياحية.	
٣	عملية تحويل أو تغيير في شكل المواد الخام لزيادة قيمتها، وجعلها أكثر ملاءمة لحاجات الإنسان ومتطلباته.	
٤	تبادل الأفكار والمعلومات والأخبار بين طرفين من خلال وسائل معينة.	

ب. صف الخصائص الآتية بين القوسين حسب أوجه الشبه والاختلاف بين موردي التربة والمعدن في الشكل الذي أمامك: (غير متجدد – مورد طبيعي – واسعة الانتشار – الاستمرارية)



ج. علل مما يأتي:

١- كثرة استخدام الفحم في توليد الطاقة رغم تلويثه للبيئة.

٢- وضع الحكومات والمنظمات الدولية قوانين وتشريعات تقنن من استخدامات تكنولوجيا الإنتاج في استغلال الموارد الطبيعية.

٣- أصبح الغاز الطبيعي من أهم مصادر الطاقة في الوقت الحاضر.

٤- ارتفاع نسبة الصناعات الاستخراجية في دول الخليج العربي.

تابع: ثانيًا: الأسئلة المقالية:

١٤) أ. اكتب مما يأتي:

١- أربعة من العوامل البشرية المؤثرة في الإنتاج الزراعي.

- _____
- _____
- _____
- _____

٢ - اثنين من الأهداف الأساسية للإنتاج الزراعي العضوي.

- _____
- _____

ب. تصنف التربة حسب معايير تصنيف الموارد الطبيعية من حيث المنشأ:

عضوية مختلطة ظلل الشكل () المقترن بالإجابة الصحيحة

علل إجابتك:

ج. ظلل الشكل () المقابل الذي يمثل نوع المقوم الصناعي مقابل العبارات الواردة في الجدول الآتي:

م	العبرة	نوع المقوم	
		طبيعي	بشري
١	أغلب الصناعات تتركز في أماكن توافر المياه.	<input type="checkbox"/>	<input type="checkbox"/>
٢	يمكن لصاحب راس المال أن يستثمر أمواله في بلد بعيدا عن موطنه الأصلي.	<input type="checkbox"/>	<input type="checkbox"/>
٣	وسائل النقل والمواصلات الحديثة دعامة أساسية للتطور الصناعي.	<input type="checkbox"/>	<input type="checkbox"/>
٤	تحتاج الصناعة إلى الأسواق لتصريف منتجاتها.	<input type="checkbox"/>	<input type="checkbox"/>

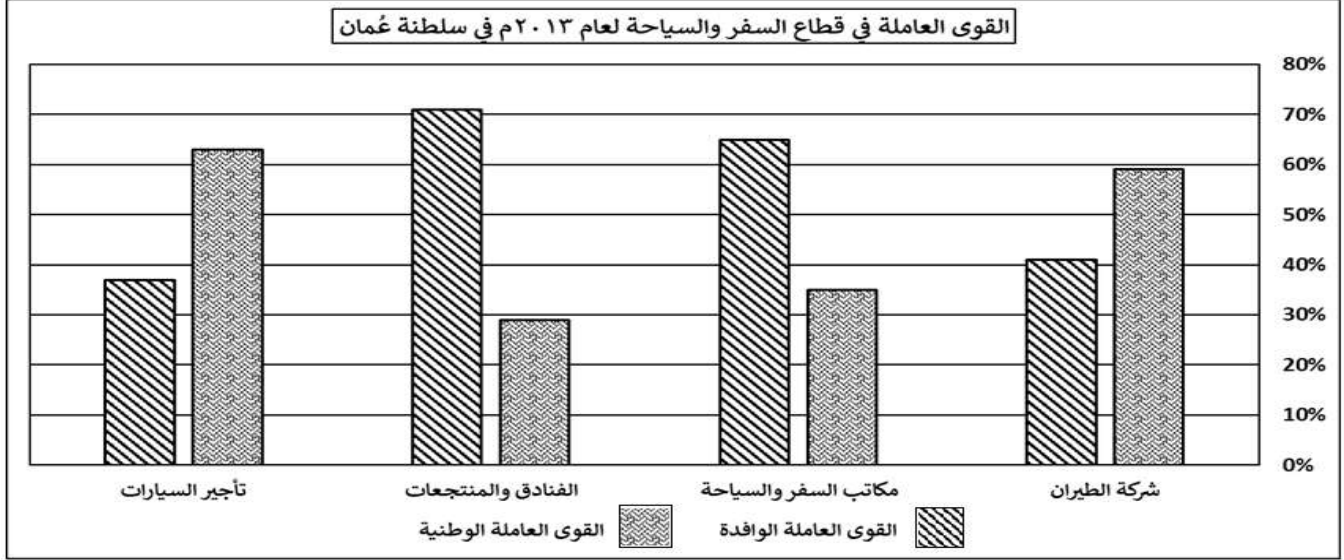
يتبع/٧

تابع ثانيًا: الأسئلة المقالية:

(١٥)

١٢

أ. ادرس الشكل الآتي، ثم أجب عن الأسئلة التالية:



١- كم بلغت نسبة التعمين في النشاط السياحي لشركة الطيران؟

٢- ما النشاط السياحي الأكثر استيعابًا لكل مما يأتي:

أ- القوى العاملة الوطنية.

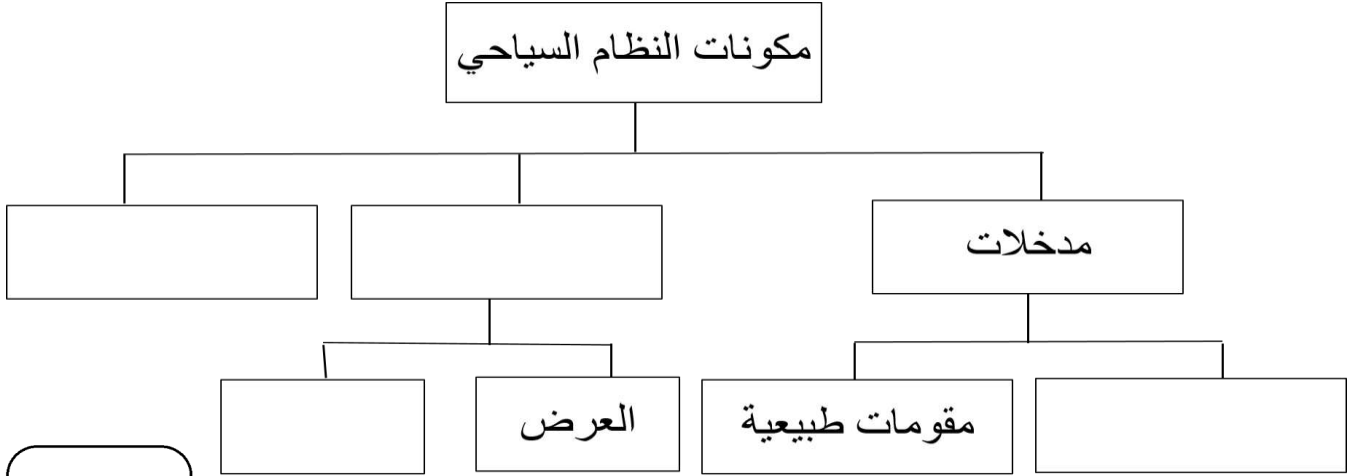
ب- القوى العاملة الوافدة.

٣- استنتج أثر زيادة السياح على قطاع الفنادق والمنتجعات.

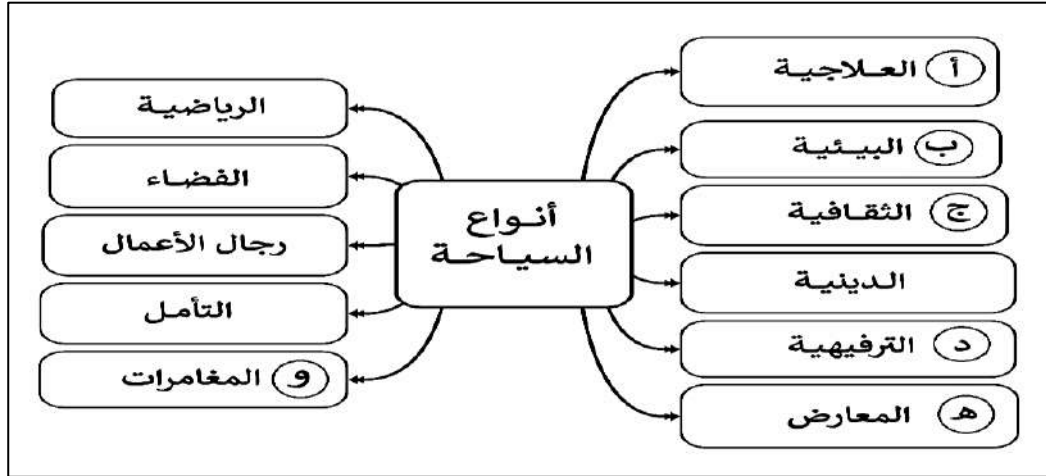
ب. أكمل بيانات البطاقة التعريفية الآتية لنوع النقل الظاهر بالشكل أمامك:

	١	نوع النقل البري
	٢	قارة توجد فيها أكثف خطوطه
	٣	ميزه واحدة
	٤	الدولة التي تمتلك أطول شبكة لخطوطه وفق بيانات عام ٢٠١٢ م

تابع ثانيًا: الأسئلة المقالية:
ج. أكمل بيانات المخطط الآتي:



١٦ أ. ادرس الشكل الآتي، ثم أجب عن الأسئلة التي تليه:



١- اكتب نوعين من أنواع السياحة المشار إليها بالرمز (أ).

-
-

٢- ما المعيار الذي تم الاعتماد عليه في تصنيف أنواع السياحة الواردة في الشكل؟

٣- اكتب الرمز الذي يشير إلى كل من الآتي.

• نوع السياحة التي تصنف ضمنها السياحة الجيولوجية.

• نوع السياحة السائدة في العصور القديمة في اليونان

تابع ثانيًا: الأسئلة المقالية:

ب- ١. من الشكل المقابل، أجب عن الأسئلة الآتية:

أ- سمّ المشروع الذي يرمز إليه الشعار المقابل.

ب- اذكر واحدًا من أهدافه.

٢- اكتب واحدًا من إيجابيات تطبيق الحكومة الإلكترونية.



عمان الرقمية

ج. "أسهم انتشار الإنترنت وتزايد أعداد مستخدميها حول العالم في ظهور نوع جديد من الاقتصاد يعرف بالاقتصاد الرقمي، الذي يعتمد على استخدام التكنولوجيا الرقمية المتعددة في إنجاز المعاملات التجارية كالهواتف الذكية وتطبيقاتها والحاسب الآلي والأجهزة اللوحية، حيث ظهرت العديد من المواقع الإلكترونية بهدف تسويق سلع وخدمات معينة يمكن للمستهلك الحصول عليها على مدار الساعة من أي مكان في العالم عن طريق شبكة الإنترنت، وعلى الرغم من المزايا التي توفرها التجارة الرقمية فإن مستوى الشعور بالأمان والحماية لدى المستهلك قليل".

من الفقرة السابقة، أجب عن الأسئلة الآتية:

١- عرف المفهوم الذي تحته خط.

٢- استخرج من الفقرة ما يأتي:

أ- الوسيلة التكنولوجية الأكثر استخدامًا في إنجاز هذه المعاملات التجارية.

ب- ميزة واحدة توفرها هذه الأسواق للمستهلك.

٣- بم تفسر قلة شعور المستهلك بالأمان من هذه المعاملات التجارية.


انتهت الأسئلة مع الدعاء للجميع بالتوفيق والنجاح

نموذج إجابة امتحان مادة الجغرافيا الاقتصادية
 للصف الحادي عشر
 الدور الثاني- الشامل
 للعام الدراسي ١٤٤٦/١٤٤٧ هـ - ٢٠٢٤ / ٢٠٢٥ م

الدرجة الكلية: (٦٠) درجة

تنبيه: نموذج الإجابة في (٥) صفحات

أولاً: إجابة الأسئلة الموضوعية (مجموع الدرجات ١٢ درجة)

السؤال	الإجابة	الصفحة	مفتاح التصحيح								
١	سلطنة عمان والمغرب	٣٨	١ - .								
٢	آسيا أمريكا الشمالية أستراليا وأفريقيا وأمريكا الجنوبية أوروبا	٤٢	١ - .								
٣	<table border="1" style="margin-left: auto; margin-right: auto;"> <tr> <td>نوع التربة</td> <td>اللون</td> <td>خاصية الاحتفاظ بالماء</td> </tr> <tr> <td>رملية</td> <td>بني فاتح</td> <td>لا تحتفظ بالماء</td> </tr> </table>	نوع التربة	اللون	خاصية الاحتفاظ بالماء	رملية	بني فاتح	لا تحتفظ بالماء	٢٨ و ٢٩	١ - .		
نوع التربة	اللون	خاصية الاحتفاظ بالماء									
رملية	بني فاتح	لا تحتفظ بالماء									
٤	التجارية	٦٤	١ - .								
٥		٨١	١ - .								
٦	زيادة امتصاص ثاني أكسيد الكربون	٩٤	١ - .								
٧	هيثرو.	١١٨	١ - .								
٨	١,٧	١٢٨	١ - .								
٩	لبنان	١٥٦	١ - .								
١٠	<table border="1" style="margin-left: auto; margin-right: auto;"> <thead> <tr> <th>وصف الحالة</th> <th>المفهوم/ المصطلح</th> </tr> </thead> <tbody> <tr> <td>قيام أحمد برحلة إلى شاطئ القرم في إجازة نهاية الأسبوع والعودة للمنزل في اليوم ذاته.</td> <td>متنزه</td> </tr> <tr> <td>توجه عبدالله من بلده سلطنة عُمان إلى النمسا لحضور مؤتمر في السياحة.</td> <td>مسافر</td> </tr> <tr> <td>ذهاب سعود من سكان محافظة مسندم إلى محافظة ظفار للتمتع بخريفها.</td> <td>سائح</td> </tr> </tbody> </table>	وصف الحالة	المفهوم/ المصطلح	قيام أحمد برحلة إلى شاطئ القرم في إجازة نهاية الأسبوع والعودة للمنزل في اليوم ذاته.	متنزه	توجه عبدالله من بلده سلطنة عُمان إلى النمسا لحضور مؤتمر في السياحة.	مسافر	ذهاب سعود من سكان محافظة مسندم إلى محافظة ظفار للتمتع بخريفها.	سائح	١٤٤	١ - .
وصف الحالة	المفهوم/ المصطلح										
قيام أحمد برحلة إلى شاطئ القرم في إجازة نهاية الأسبوع والعودة للمنزل في اليوم ذاته.	متنزه										
توجه عبدالله من بلده سلطنة عُمان إلى النمسا لحضور مؤتمر في السياحة.	مسافر										
ذهاب سعود من سكان محافظة مسندم إلى محافظة ظفار للتمتع بخريفها.	سائح										
١١	الثقافية	١٥٣	١ - .								
١٢	<table border="1" style="margin-left: auto; margin-right: auto;"> <thead> <tr> <th>الرمز</th> <th>جوانب البنية التحتية</th> </tr> </thead> <tbody> <tr> <td>د</td> <td>الكهرباء الاتصالات شبكة الطرق الصرف الصحي</td> </tr> </tbody> </table>	الرمز	جوانب البنية التحتية	د	الكهرباء الاتصالات شبكة الطرق الصرف الصحي	١٧٨	١ - .				
الرمز	جوانب البنية التحتية										
د	الكهرباء الاتصالات شبكة الطرق الصرف الصحي										

تابع - نموذج إجابة امتحان: مادة الجغرافيا الاقتصادية - الصف الحادي عشر - العام الدراسي: ٢٠٢٤-٢٠٢٥ م
الدور الثاني - الشامل

ثانياً: إجابة الاسئلة المقالية: السؤال: ١٣ (مجموع الدرجات ١٢ درجة)

الصفحة	الدرجة	الإجابة الصحيحة	الجزئية	المفردة	السؤال
١٩	١	المعدن	١	أ	١٣
١٧٤	١	المرشد السياحي	٢		
٩٣	١	تدوير النفايات	٣		
١٢١	١	الاتصال / communication	٤		
-			معيار التصحيح		
٤-٣-٢-١-٠			مفتاح التصحيح		

الصفحة	الدرجة	الإجابة الصحيحة	الجزئية	المفردة	السؤال
١٢ ١٤ ٢٤ ٣٠	٤			ب	١٣
لكل جزئية درجة / يشترط الالتزام حسب النموذج بالموقع لكل عنصر			معيار التصحيح		
٤-٣-٢-١-٠			مفتاح التصحيح		

الصفحة	الدرجة	الإجابة الصحيحة	الجزئية	المفردة	السؤال
٤١	١	رخص أسعاره وتوفره بكميات كبيرة واحتياطاته المتوفرة.	١	ج	١٣
		_____	معيار التصحيح		
١-٠		مفتاح التصحيح			
١٥	١	لمنع التلوث وحماية البيئة واستدامة الموارد	٢		
		(بما يفيد المعنى)	معيار التصحيح		
١-٠		مفتاح التصحيح			
٤٤	١	لاحتوائه على وحدات حرارية أعلى من الفحم والنفط ، ويعتبر أنظف من الفحم والنفط عند الاحتراق ، فهو لا يخلق رمادًا وسهل النقل عبر الأنابيب والناقلات .	٣		
		_____	معيار التصحيح		
١-٠		مفتاح التصحيح			
٨١	١	لوجود ثروات النفط والغاز في المنطقة	٤		
		_____	معيار التصحيح		
١-٠		مفتاح التصحيح			

السؤال: ١٤ (مجموع الدرجات ١٢ درجة)

الصفحة	الدرجة	الإجابة الصحيحة	الجزئية	المفردة	السؤال
٦٩ ٧١	٤	التقدم العلمي / الطرق ووسائل النقل / رأس المال / السوق / السكان	١		
		لكل مفردة درجة	معيار التصحيح		
		٤-٣-٢-١-٠	مفتاح التصحيح		
٧٢ ٧٣	٢	إنتاج غذاء له قيمة غذائية عالية وبكميات كافية/ التفاعل البناء مع جميع الأنظمة الطبيعية/ العمل على زيادة خصوبة التربة/ تشجيع وتنشيط النشاط الحيوي في الزراعة/ استخدام المصادر الطبيعية المتجددة في الزراعة/ تجنب التلوث نتيجة إجراء العمليات الزراعية /مراعاة التأثير البيئي والبعد الاجتماعي للنظام الزراعي المتبع.	٢	أ	١٤
		بما يفيد المعنى	معيار التصحيح		
		٢-١-٠	مفتاح التصحيح		

الصفحة	الدرجة	الإجابة الصحيحة	الجزئية	المفردة	السؤال
١٢	١	مختلطة			
		—	معيار التصحيح		
		١ - ٠	مفتاح التصحيح		
٢٦	١	لأن التربة تتكون من المواد الصخرية والعضوية التي تعرضت للتفتت والتحلل بفعل العديد من العوامل الطبيعية		ب	١٤
		بما يفيد المعنى	معيار التصحيح		
		١ - ٠	مفتاح التصحيح		

الصفحة	الدرجة	الإجابة الصحيحة	الجزئية	المفردة	السؤال
٨٣	١	طبيعي	١		
٨٤	١	بشري	٢		
٨٥	١	بشري	٣		
٨٥	١	بشري	٤	ج	١٤
		يشترط تظليل عنصر واحد فقط لكل مفردة	معيار التصحيح		
		٤-٣-٢-١-٠	مفتاح التصحيح		

السؤال: ١٥ (مجموع الدرجات ١٢ درجة)

الصفحة	الدرجة	الإجابة الصحيحة	الجزئية	المفردة	السؤال
١٨٠	١	٥٩%	١	أ	١٥
١٨٠	١	تأجير السيارات.	أ		
١٨٠	١	الفنادق والمنتجات.	ب		
١٧٩ و ١٧٢	١	ارتفاع الأسعار	٣		
-			معيار التصحيح		
٤-٣-٢-١-٠			مفتاح التصحيح		

الصفحة	الدرجة	الإجابة الصحيحة	الجزئية	المفردة	السؤال
١٠٤	١	السكك الحديدية.	١	ب	١٥
١٠٨	١	أمريكا الشمالية/ أوروبا.	٢		
١٠٨	١	نقل الحمولات الثقيلة / النقل لمسافات طويلة / النقل بسرعة تفوق الكثير من وسائل النقل الأخرى.	٣		
١٠٩	١	الولايات المتحدة الأمريكية.	٤		
-			معيار التصحيح		
٤-٣-٢-١-٠			مفتاح التصحيح		

الصفحة	الدرجة	الإجابة الصحيحة	الجزئية	المفردة	السؤال
١٦٦	٤			ج	١٥
-			معيار التصحيح		
٤-٣-٢-١-٠			مفتاح التصحيح		

يتبع/٥

السؤال: ١٦ (مجموع الدرجات ١٢ درجة)

الصفحة	الدرجة	الإجابة الصحيحة	الجزئية	المفردة	السؤال	
١٥٨	٢	• المناخية. • المعدنية.	١	أ	١٦	
		لا يشترط الترتيب	معيار التصحيح			
			٢-١-٠			مفتاح التصحيح
١٥٢	١	الهدف/ الغاية.	٢			
		-	معيار التصحيح			
			١-٠			مفتاح التصحيح
١٤٣ و ١٦٢	٢	• ب • د	٣	ب	١٦	
		-	معيار التصحيح			
		٢-١-٠	مفتاح التصحيح			

الصفحة	الدرجة	الإجابة الصحيحة	الجزئية	المفردة	السؤال
١٢٧	١	مجتمع عُمان الرقمي.	أ	ب	١٦
١٢٧	١	نشر المعرفة الرقمية بين شرائح وفئات المجتمع المختلفة/ التمهد لتطبيق الحكومة الالكترونية.	ب		
١٢٧	١	كلاهما يسعى الى تشجيع المؤسسات الحكومية والخاصة على تعزيز استخدام التقنية الرقمية/ تحسين نوعية الخدمات الإلكترونية المقدمة وتبسيط إجراءاتها/ تفعيل سياسة الحكومة للانتقال إلى اقتصاد مبني على تقنية المعلومات.	٣		
		-	معيار التصحيح		
		٣-٢-١-٠	مفتاح التصحيح		

الصفحة	الدرجة	الإجابة الصحيحة	الجزئية	المفردة	السؤال
١٢٥	١	استخدام التكنولوجيا الرقمية المتعددة في إنجاز المعاملات التجارية.	١	ج	١٦
١٣٤	١	الهواتف الذكية/ الحاسب الآلي/ الأجهزة اللوحية.	أ		
١٣٣	١	توفير الوقت و الجهد/ الحصول على السلعة على مدار الساعة/ الحصول على السلعة من أي مكان في العالم.	ب		
١٣٣	١	الخوف من التعرض للاحتيال/ الخوف من اختراق الحواسيب/ بعض الشركات غير موثوقة.	٣		
		-	معيار التصحيح		
		٤-٣-٢-١-٠	مفتاح التصحيح		

نهاية نموذج الإجابة



امتحان مادة: الجغرافيا الاقتصادية

للف: الحادي عشر

للعام الدراسي ١٤٤٥هـ - ٢٠٢٣/٢٠٢٤م

الفصل الدراسي الثاني- الدور الأول

		اسم الطالب
الصف		المدرسة

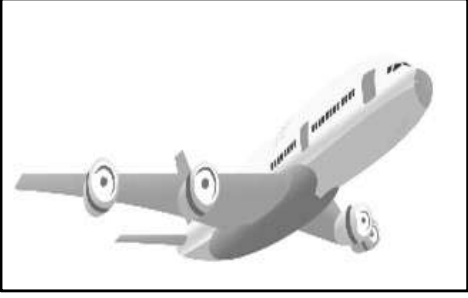
التوقيع بالاسم		الدرجة		السؤال
المصحح الثاني	المصحح الأول	بالحروف	بالأرقام	
				الاول
				الثاني
				الثالث
				الرابع
				الخامس
مراجعة الجمع	جمعه			المجموع
			٦٠	المجموع الكلي

- زمن الامتحان: ساعتان
- الاجابة في الدفتر نفسه.
- الدرجة الكلية للامتحان: ٦٠ درجة
- عدد صفحات أسئلة الورقة الامتحانية: ١٠ صفحات


السؤال الأول: ضع دائرة حول رمز الإجابة الصحيحة لكل مفردة من المفردات الآتية:

١٢


١. الصورة التي تمثل النقل الذي يتم عن طريقه نقل ما يزيد عن ٧٥٪ من حجم التجارة العالمية:




ب.



أ.



د.



ج.

٢. الشبكات التي ارتبط بناؤها بتاريخ صناعة النفط:

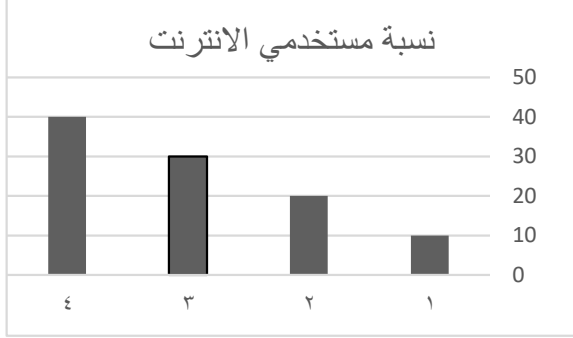
أ. السكك الحديدية ب. الأنابيب ج. النقل الجوي د. الطرق البرية

٣. المسار الصحيح لخط سكة (ديسبورغ - شونكينغ):

- أ. روسيا ← الصين ← كازاخستان ← بيلاروسيا ← بولندا ← ألمانيا
 ب. الصين ← روسيا ← بيلاروسيا ← كازاخستان ← ألمانيا ← بولندا
 ج. الصين ← كازاخستان ← روسيا ← بيلاروسيا ← بولندا ← ألمانيا
 د. الصين ← بولندا ← روسيا ← كازاخستان ← بيلاروسيا ← ألمانيا

تابع السؤال الأول:

٤. رقم العمود الذي يمثل نسبة الأفراد المستخدمين لشبكة الإنترنت في العالم عام ٢٠١٤م:



٢.ب

١.أ

٤.د

٣.ج

٥. العام الميلادي الذي انضمت فيه سلطنة عمان الى منظمة التجارة العالمية:

٢٠٠١.د

٢٠٠٠.ج

١٩٩٩.ب

١٩٩٨.أ

٦. القمر الصناعي الذي يستخدم لنقل المعلومات بين المحطات الأرضية والأقمار الصناعية:

GOES .د

Landsat .ج

NOAA & TIROS .ب

Nilesat .أ

٧. الخصائص الصحيحة للسياحة الثقافية:

تشكل ٣٧٪ من إجمالي سوق السياحة
التعرف على التراث الثقافي في المتاحف والمواقع الأثرية
إكتشاف عادات وتقاليد وثقافات الشعوب

ب

النوع السائد في أيام الأعياد والإجازات
الاستمتاع بالهواء النقي والخلود للراحة
ممارسة أنشطة مختلفة كالزلج على الجليد

أ

ظهرت في مطلع الثمانينات من القرن ٢٠
تسمى بالسياحة المسؤولة او السياحة الخضراء او السياحة البديلة
تعتمد على توافر المحيط المادي النظيف والبيئات المحمية

د

ظهرت منذ بداية القرن العشرين
أثرت بصورة واضحة في النمو الاقتصادي العالمي
دورها تعزيز الاخوة والصدقة الإنسانية والتفاهم بين الشعوب والمجتمعات

ج

المادة: الجغرافيا الاقتصادية الصف: الحادي عشر - الدور الأول -
الفصل الدراسي الثاني - العام الدراسي ٢٠٢٣/٢٠٢٤ م

تابع السؤال الأول:

٨. الولاية التي توجد بها حديقة الصخور في سلطنة عمان:
أ. مسقط ب. الحمراء ج. المضبيبي د. الدقم



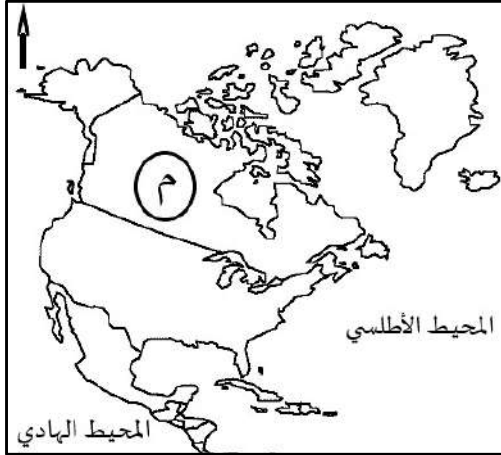
٩. المدينة الفرنسية التي يوجد بها المعلم السياحي
الموضح في الصورة المقابلة:

أ. مارسيليا ب. باريس
ج. ليون د. بوردو

١٠. المفهوم الذي ينطبق على سعيد اثناء ذهابه الى الدقم ليعمل في ميناء الدقم لمدة اسبوعين:

أ. سائح داخلي ب. سائح خارجي ج. مسافر د. متنزه

١١. الدولة المطبقة لنظام حسابات السياحة والمشار إليها بالرمز (م) في الخريطة المقابلة:



أ. اليونان

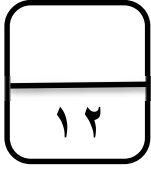
ب. إسبانيا

ج. البرازيل

د. كندا

١٢. من مقومات الجذب السياحي التي يمثلها معرض الكتاب السنوي في سلطنة عمان:

أ. الدينية ب. الثقافية ج. الطبيعية د. التاريخية



السؤال الثاني :

أولاً : أ. عرف ما يأتي:

١. التعرف الجمركية:

.....

.....

٢. ميزان المدفوعات:

.....

.....

ب. أجب عما يلي:

١. فسر العبارة التالية:

" يختلف نوع السلع المصدرة والمستوردة باختلاف المستوى الاقتصادي للدولة "

.....

.....

٢. " اربط بعلاقة بين زيادة عدد السياح والمستوى العام للأسعار في المناطق السياحية "

.....

.....

ثانياً :-

يوضح الجدول إجمالي صادرات دولة ما و وارداتها السلعية لعامين مختلفين ادرسه جيداً ثم اجب عن الاسئلة التالية:

العام	الصادرات "بالمليار"	الواردات "بالمليار"
٢٠٢١ م	٧٠	٦٠
٢٠٢٢ م	٩٠	٩٥

يتبع/٥

المادة: الجغرافيا الاقتصادية الصف: الحادي عشر - الدور الأول -
 الفصل الدراسي الثاني- العام الدراسي ٢٠٢٣/٢٠٢٤م

تابع السؤال الثاني:

١. احسب الميزان التجاري لهذه الدولة في العام ٢٠٢١م موضحا الخطوات مع كتابة القانون.

.....

.....

.....

٢. في أي عام حققت هذه الدولة عجزا في ميزانها التجاري ؟

(أ) ٢٠٢١ م (ب) ٢٠٢٢ م " اختر الإجابة الصحيحة"
 فسر ذلك؟

.....

ثالثا:

وزع "أنواع السياحة حسب معيار الغاية أو الهدف " بين القوسين بما يناسبها في الجدول التالي:
 (الترفيهية - العلاجية - الرياضية - الدينية - الأعمال - الفضاء)

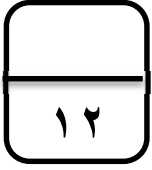
أنواع السياحة	النشاط
.....	قصد العيون المعدنية و عيون اليود الكبريتية
.....	زيارة الأماكن المقدسة
.....	السفر لعقد اللقاءات والمشاركة في الندوات والمؤتمرات والمعارض
.....	السفر الى الفضاء لأغراض ترفيهية أو ترويحية أو مهنية

(٦)

المادة: الجغرافيا الاقتصادية الصف: الحادي عشر - الدور الأول -
الفصل الدراسي الثاني - العام الدراسي ٢٠٢٣/٢٠٢٤ م

السؤال الثالث:

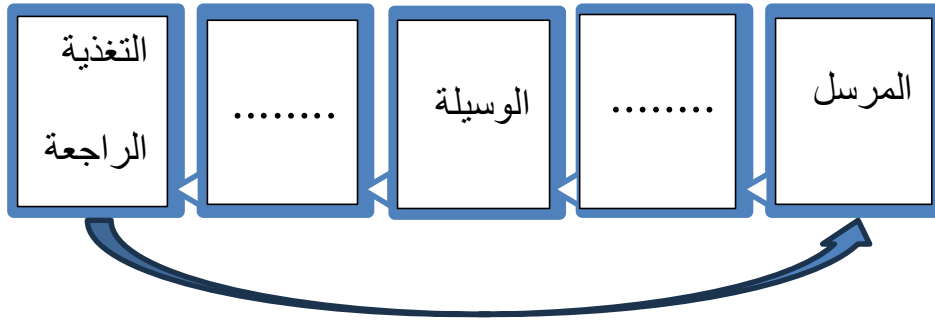
أولاً:



أ. أكمل الجدول التالي " السبب والنتيجة "

النتيجة	السبب
.....	انتشار الإنترنت وتزايد أعداد مستخدميها حول العالم
القضاء على الحشائش وتدهور المراعي كما يحصل في مراعي ظفار.

ب. أكمل عناصر عملية الاتصال في الشكل التالي:



ثانياً: اذكر اثنين لكلا من :

١. استخدامات الهواتف المحمولة والذكية.

.....-

.....-

٢. العيون المائية التي يقصدها السياح بهدف العلاج في سلطنة عمان.

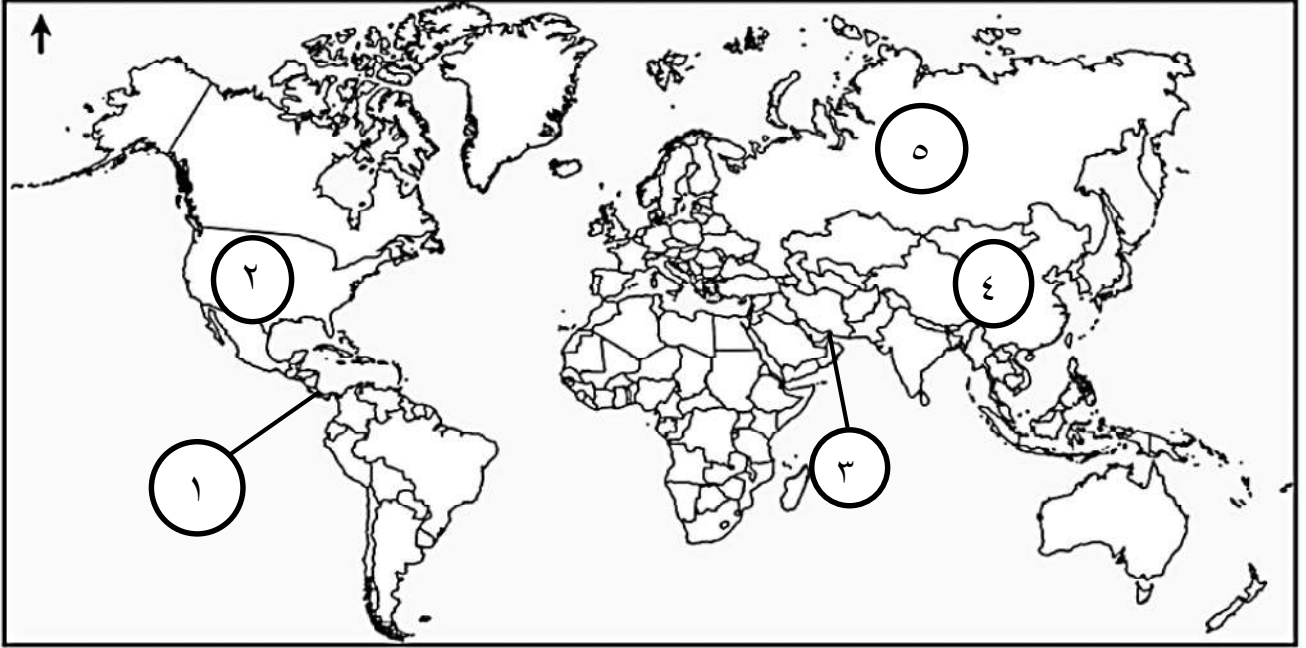
.....-

.....-

المادة: الجغرافيا الاقتصادية الصف: الحادي عشر - الدور الأول -
 الفصل الدراسي الثاني - العام الدراسي ٢٠٢٣/٢٠٢٤ م

تابع السؤال الثالث:

ثالثا: امامك خريطة العالم صماء ادرسها جيدا واجب عن الأسئلة التي تليها :



أ. ١. رقم الدولة التي يوجد بها أكبر شبكة نقل عن طريق الأنابيب في العالم

٢. أكتب أسماء المحيطات التي تربط بينهما القناة رقم (١)

٣. ما الأهمية الإستراتيجية للمضيق المشار إليه بالرقم (٣)؟

ب. ظلل الدولة التي تحتل المركز الأول في حجم المبيعات الالكترونية في الشرق الأوسط.



السؤال الرابع:

أولا: أ. صنف المحميات الطبيعية في سلطنة عمان حسب

المحافظات التي توجد بها.

(جزر الديمانيات الطبيعية - جبل سمحان - الجبل الأخضر للمناظر الطبيعية - القرم

الطبيعية - السلاحف)

المحافظة	جنوب الشرقية	مسقط	ظفار	الداخلية
اسم المحمية

تابع السؤال الرابع:

ب- ضع علامة (✓) تحت الخيار المناسب لكل نوع من النقل:

التجارة الخارجية	التجارة الداخلية	النوع
		التبادل التجاري داخل الدولة الواحدة
		التبادل التجاري بين الدولة والدول الاخرى



ثانياً: أ. ادرس الشكل الذي أمامك، ثم
 أجب عن الأسئلة التالية:

١. ما نوع الطاقة المستخدمة في السيارة
 الواضحة في الصورة؟

.....

٢. كيف تؤثر ناقلات النفط العملاقة على مياه البحار والمحيطات؟

.....

٣. ما الإجراء الذي تتبعه الدول في التعامل مع وسائل النقل التي تخلف كميات كبيرة من
 العوادم؟

.....

٤. المصطلح الذي يشير الى استخدام وسائل نقل أقل تأثيراً على البيئة (.....).

ب. اكتب اثنين من مميزات التجارة الالكترونية.

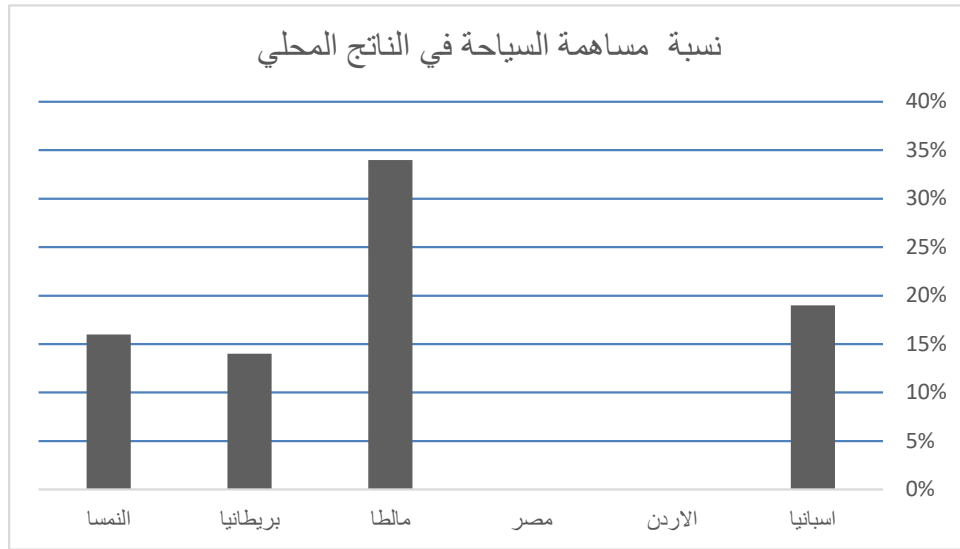
.....

.....

السؤال الخامس:

أولاً: ادرس الجدول الذي أمامك، ثم أجب عن الأسئلة التالية:

الدولة	نسبة مساهمة قطاع السياحة من الناتج المحلي والإجمالي
اسبانيا	%١٩
الاردن	%٢٦
مصر	%٢١
مالطا	%٣٤
بريطانيا	%١٤
النمسا	%١٦



-الشكل البياني السابق يوضح نسبة مساهمة السياحة في الناتج المحلي في بعض الدول بناء على البيانات الواردة في الجدول:

١. اكمل تمثيل الشكل البياني من الجدول..

٢. " تهدف السلطنة للوصول الى نسبة ٣% لمساهمة القطاع السياحي ضمن الناتج المحلي....."

المادة: الجغرافيا الاقتصادية الصف: الحادي عشر - الدور الأول -
 الفصل الدراسي الثاني - العام الدراسي ٢٠٢٣/٢٠٢٤ م

تابع: السؤال الخامس:

برأيك: هل تستطيع السلطنة تحقيق نسبة ٣٪ او أكثر لمساهمة القطاع السياحي في الناتج المحلي بحلول عام ٢٠٢٥ م؟
 نعم لا ظلل الإجابة الصحيحة

علل أجابتك:

ثانيا: اقرأ النص التالي ثم أجب عن الأسئلة التالية:

" كان للممرات الملاحية الطبيعية الفضل في تطور النقل المائي، فقد استخدمت البحيرات والأنهار والمحيطات كممرات ملاحية منذ القدم، وأسهم اختراع المحرك البخاري في تطور المراكب المستخدمة في النقل المائي. "
 ١- ما أنواع النقل المائي؟

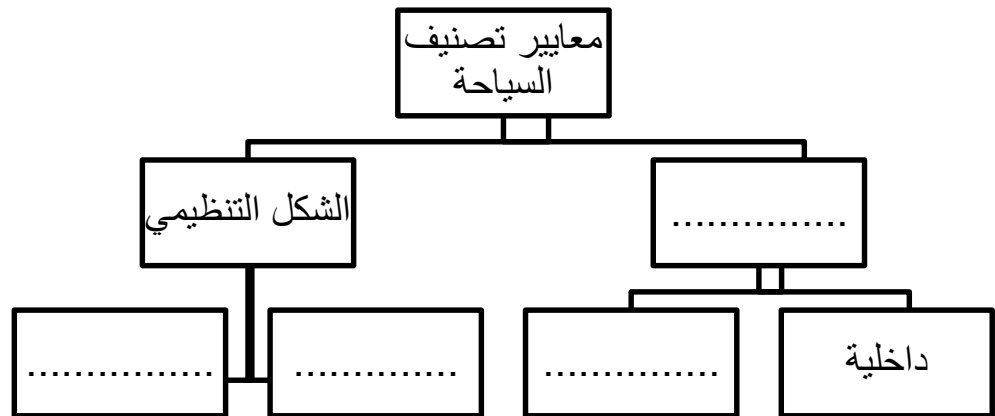
-
 -

٢- فرّق بين المضيق والقناة؟

.....

٣- سمي النظام الذي يساعد السفن على تحديد المواقع في البحار والمحيطات عن طريق الاتصال بالأقمار الصناعية (.....).

ثالثا: أكمل المخطط الآتي:



"انتهت الأسئلة مع الدعاء لجميع الطلبة بالتوفيق والنجاح"

نموذج إجابة امتحان الصف الحادي عشر للعام الدراسي ١٤٤٥/١٤٤٦ هـ - ٢٠٢٣/٢٠٢٤ م
 الدور الأول - الفصل الدراسي الثاني

المادة: الجغرافيا الاقتصادية
 الدرجة الكلية: ٦٠ درجة
 تنبيه: نموذج الإجابة في ٥ صفحات

السؤال الأول: ١٢ درجة

المفردة	البديل الصحيح	الإجابة	الدرجة	الصفحة
١	ج		١	١١٤
٢	ب	الانابيب	١	١١١
٣	ج	الصين ← كازاخستان ← روسيا ← بولندا ← ألمانيا	١	١١٠
٤	د	٤	١	١٣٤
٥	ج	٢٠٠٠	١	١٣٢
٦	أ	Nilesat	١	١٢٣
٧	ب	تشكل ٣٧٪ من إجمالي سوق السياحة التعرف على التراث الثقافي في المتاحف والمواقع الأثرية إكتشاف عادات وتقاليد وثقافات الشعوب	١	١٥٣
٨	د	الدقم	١	١٨٦
٩	ب	باريس	١	١٧٠
١٠	ج	مسافر	١	١٤٤
١١	د	كندا	١	١٤٨
١٢	١٢	الثقافية	١	١٧٠

تابع - نموذج إجابة امتحان مادة. الجغرافيا الاقتصادية للصف الحادي عشر

للعام الدراسي ٢٠٢٣/٢٠٢٤ م
الدور: الأول- الفصل الدراسي الثاني

درجة (١٢)		إجابة السؤال الثاني	
الصفحة	الدرجة	الإجابة	المفردة
١٣٠	١	١. التعرف الجمركية: هي ضريبة تفرضها الدولة على السلع المستوردة لحماية المنتجات الوطنية وتشجيع التصدير والاستثمار.	أ
١٤٧	١	٢. ميزان المدفوعات: هو سجل يوضح جميع المعاملات الاقتصادية لدولة ما مع بقية دول العالم خلال فترة زمنية معينة عادة تكون سنة.	
١٢٩	١	١. يختلف نوع السلع المصدرة والمستوردة باختلاف المستوى الاقتصادي للدولة، فالدول المتقدمة صناعيا تستورد المواد الخام وتصدر السلع المصنعة...وتقوم الدول الأقل تطورا باستيراد كميات كبيرة من السلع الاستهلاكية وتصدير المواد الخام "... يراعى أسلوب الطالب "	ب
١٨١	١	٢. العلاقة بين زيادة عدد السياح والمستوى العام للأسعار في المناطق السياحية: كلما زاد عدد السياح تميل الأسعار نحو الارتفاع. يراعى أسلوب الطالب .	
١٢٨	درجتان درجة للقانون ودرجة للحل كاملا	١. الميزان التجاري = قيمة الصادرات - قيمة الواردات ٧٠ - ٦٠ = ١٠ مليار	ثانيا
	درجتان لكل جزئية درجة	٢. في العام ٢٠٢٢ م التفسير: لان- قيمة الواردات اكثر من الصادرات - قيمة الصادرات اقل من الواردات - قيمة الميزان التجاري سالبا	
١٥٨	٤ درجات	النشاط	ثالثا
		أنواع السياحة	
١٥٨		العلاجية	
		الدينية	
١٥٩		الاعمال	
١٥٩		السفر لعقد اللقاءات والمشاركة في الندوات والمؤتمرات والمعارض	
		السفر الى الفضاء لأغراض ترفيهية أو ترويجية أو مهنية	
		الفضاء	

الدور: الأول- الفصل الدراسي الثاني

إجابة السؤال الثالث: ١٢ درجة

الصفحة	الدرجة	الإجابة		المفردة	الجزئية
١٢٥	١	النتيجة	السبب	أ	أولا
١٨١	١	ظهور نوع جديد من الاقتصاد وهو الاقتصاد الرقمي	بسبب مرور السيارات في المناطق الرعوية		
٢١	درجتين لكلا مفردة درجة	الرسالة - المستقبل		ب	
١٢٤	٤ درجات لكل جزئية درجة	<ul style="list-style-type: none"> - اجراء المكالمات - مجال التسويق والترويج السياحي 		١	ثانيا
١٥٨		<ul style="list-style-type: none"> - عين الكسفة - عين وضاح 		٢	
١١١	٢	١- ٢		أ	ثالثا
١١٧		٢- المحيط الأطلسي والمحيط الهادي			
١١٥		٣- المنفذ البحري الوحيد لمنطقة الخليج العربي وبوابة يمر عبرها النفط الخام يوميا.			
١٣٢		يقوم الطالب بتظليل جمهورية مصر العربية		ب	

تابع - نموذج إجابة امتحان
مادة الجغرافيا الاقتصادية للصف الحادي عشر للعام الدراسي ٢٠٢٣/٢٠٢٤م
الدور: الأول- الفصل الدراسي الثاني

		إجابة السؤال: الرابع			الدرجة الكلية: (١٢) درجة													
الجزئية	المفردة	الإجابة			الدرجة	الصفحة												
	أ	<table border="1"> <tr> <td>المحافظة</td> <td>جنوب الشرقية</td> <td>مسقط</td> <td>ظفار</td> <td>الداخلية</td> </tr> <tr> <td>اسم المحمية</td> <td>السلحف</td> <td>القرم الطبيعية</td> <td>جبل سمحان</td> <td>الجبل الأخضر للمناظر الطبيعية</td> </tr> </table>			المحافظة	جنوب الشرقية	مسقط	ظفار	الداخلية	اسم المحمية	السلحف	القرم الطبيعية	جبل سمحان	الجبل الأخضر للمناظر الطبيعية	٤ درجات	١٦٤		
		المحافظة	جنوب الشرقية	مسقط	ظفار	الداخلية												
اسم المحمية	السلحف	القرم الطبيعية	جبل سمحان	الجبل الأخضر للمناظر الطبيعية														
اولا	ب	<table border="1"> <tr> <td>النوع</td> <td>التجارة الداخلية</td> <td>التجارة الخارجية</td> <td></td> </tr> <tr> <td>التبادل التجاري داخل الدولة الواحدة</td> <td>√</td> <td></td> <td></td> </tr> <tr> <td>التبادل التجاري بين الدول والى الاخرى</td> <td></td> <td>√</td> <td></td> </tr> </table>			النوع	التجارة الداخلية	التجارة الخارجية		التبادل التجاري داخل الدولة الواحدة	√			التبادل التجاري بين الدول والى الاخرى		√		٢	١٢٨
		النوع	التجارة الداخلية	التجارة الخارجية														
التبادل التجاري داخل الدولة الواحدة	√																	
التبادل التجاري بين الدول والى الاخرى		√																
ثانيا	أ	<p>١. الطاقة الكهربائية ٢. تلوث المياه نتيجة تعرضها لحوادث الغرق او تسرب حمولتها من النفط او رميها للمخلفات المختلفة. يراعى أسلوب الطالب. ٣. فرض قوانين ٤. النقل المستدام</p>			٤ درجات لكل مفردة درجة	١١٩												
		<p>- انخفاض التكاليف - توفير الوقت والجهد - حرية الاختيار (يكتفى بذكر ميزتين فقط).</p>			٢	١٣٣												

تابع - نموذج إجابة امتحان مادة الجغرافيا الاقتصادية للصف الحادي عشر للعام الدراسي ٢٠٢٣/٢٠٢٤ م
الدور: الأول- الفصل الدراسي الثاني

إجابة السؤال الخامس		١٢ درجة
الصفحة	الدرجة	الإجابة
١٤٦ ١٤٧	٢	 <p>١. رسم عمود لكل من مصر والأردن بالنسبة الموضحة في الجدول</p> <p>٢. تراعى إجابة الطالب سواء كانت اجابته نعم أولا..على ان يذكر الأسباب الصحيحة .. كالمشاريع والخطط المستقبلية ...</p>
١١٣ ١١٥ ١١٥	١ ٢ ١	<p>١. - النقل النهري - النقل البحري</p> <p>٢. المضيق : ممر طبيعي يصل بين بحرين او بين بحر وخليج او بين بحر ومحيط.</p> <p>القناة: قناة اصطناعية قام الانسان بشقها للربط بين الأنهار او الأنهار بالبحار او البحار بعضها البعض.</p> <p>٣. نظام تحديد المواقع العالمي GPS.</p>
١٨٦	٤ درجات لكل جزئية درجة	

نهاية نموذج الإجابة



امتحان مادة: الجغرافيا الاقتصادية

للف: الحادي عشر

للعام الدراسي ١٤٤٥هـ - ٢٠٢٣/٢٠٢٤م

الفصل الدراسي الثاني - الدور الثاني

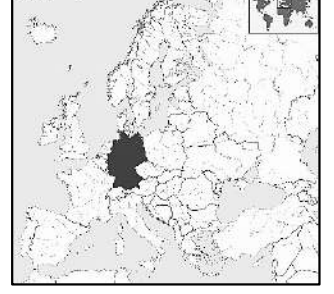
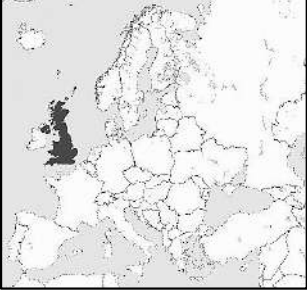
		اسم الطالب
الصف		المدرسة

التوقيع بالاسم		الدرجة		السؤال
المصحح الثاني	المصحح الأول	بالحروف	بالأرقام	
				الاول
				الثاني
				الثالث
				الرابع
				الخامس
مراجعة الجمع	جمعه			المجموع
			٦٠	المجموع الكلي

- زمن الامتحان: ساعتان
- الاجابة في الدفتر نفسه.
- الدرجة الكلية للامتحان: ٦٠ درجة
- عدد صفحات أسئلة الورقة الامتحانية: ١١ صفحة

السؤال الأول: ضع دائرة حول رمز الإجابة الصحيحة لكل مفردة من المفردات الآتية :

١. خريطة الدولة التي شهدت الميلاد الرسمي لتطبيق الحكومة الالكترونية عام ٢٠٠١م:



د

ج

ب

أ

٢. النسبة التي تمثلها السياحة الثقافية حسب تقدير منظمة السياحة العالمية من إجمالي سوق السياحة:

د. ٣٤٪

ج. ٣٥٪

ب. ٣٦٪

أ. ٣٧٪

٣. الدولة التي يوجد بها مشروع ناكويشي السياحي على بحيرة ملاوي:

د. موزمبيق

ج. زامبيا

ب. كينيا

أ. تنزانيا

٤. الخطوات الصحيحة التي توضح مراحل التجارة الإلكترونية باستخدام الحاسب الآلي :

- أ. البحث عن السلعة ← تعبئة استمارة الشراء ← استخدام بطاقة الائتمان ← اختيار السلعة المناسبة
 ب. البحث عن السلعة ← استخدام بطاقة الائتمان ← تعبئة استمارة الشراء ← اختيار السلعة المناسبة
 ج. البحث عن السلعة ← تعبئة استمارة الشراء ← اختيار السلعة المناسبة ← استخدام بطاقة الائتمان
 د. البحث عن السلعة ← اختيار السلعة المناسبة ← تعبئة استمارة الشراء ← استخدام بطاقة الائتمان

٥. المفهوم الذي ينطبق على سعيد اثناء سفره الى المنطقة الجنوبية ليعمل في شركة استيراد

وتصدير لمدة عام ونصف:

د. متنزه

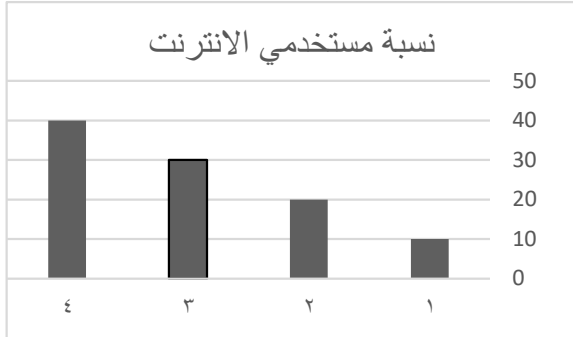
ج. مسافر

ب. سائح خارجي

أ. سائح داخلي

تابع السؤال الأول:

٦. رقم العمود الذي يمثل نسبة الأفراد المستخدمين لشبكة الإنترنت في العالم عام ٢٠١٤م:



٢.ب

١.أ

٤.د

٣.ج

٧. العام الميلادي الذي تم فيه تأسيس المجلس العالمي للسياحة الرياضية:

١٩٩٣.د

١٩٩٢.ج

١٩٩١.ب

١٩٩٠.أ

٨. الفن العماني الذي تم تسجيله في القائمة الدولية لليونسكو في العام ٢٠١٠م:

د. البرعة

ج. التغرود

ب. العازي

أ. العيالة

٩. الوصف الصحيح لخط سكة الحديد-ديسبورج- شونكينج :-

يربط بين شونكينج في الصين وديسبورج في المانيا
طوله ١١٠٠٠ كم
أنشئ عام ٢٠١١م
طريق الحرير القديم

ب

يربط بين شونكينج في الصين وديسبورج في المانيا
طوله ١٠٠٠٠ كم
أنشئ عام ٢٠١٠م
طريق الحرير الجديد

أ

يربط بين شونكينج في الصين وديسبورج في المانيا
طوله ١٠٠٠٠ كم
أنشئ عام ٢٠١٠م
طريق الحرير القديم

د

يربط بين شونكينج في الصين وديسبورج في المانيا
طوله ١١٠٠٠ كم
أنشئ عام ٢٠١١م
طريق الحرير الجديد

ج

تابع السؤال الأول:

١٠. النهر الذي يتميز بأكثف حركة نقل نهري في العالم:

أ. السين ب. الجانج ج. الراين د. الفولجا

١١. الولاية الامريكية التي يوجد بها المعلم السياحي الموضح في الصورة المقابلة:



أ. بروكلين ب. نيويورك

ج. كوينز د. واشنطن

١٢. من مقومات الجذب السياحي التي يمثلها معرض الكتاب السنوي في سلطنة عمان:

أ. الدينية ب. الثقافية ج. الطبيعية د. التاريخية

السؤال الثاني: اجب عن ما يأتي:

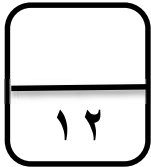
أولاً: أ. عرف ما يأتي:

١. نظام الأهوسة :

.....

٢. السياحة المسؤولة :

.....



تابع السؤال الثاني :

ب. أجب عما يلي :

١. فسر العبارة التالية :

" يختلف نوع السلع المصدرة والمستوردة باختلاف المستوى الاقتصادي للدولة "

٢. " اربط بعلاقة بين عدد السياح وتوفر الامدادات السياحية "

ثانيا :-

يوضح الجدول اجمالي صادرات دولة ما ووارداتها السلعية لعامين مختلفين ادرسه جيدا ثم اجب عن الاسئلة التالية:

الواردات " بالمليار	الصادرات " بالمليار	العام
٥٠	٦٠	م٢٠٢٠
٨٥	٨٠	م٢٠٢١

١. احسب الميزان التجاري لهذه الدولة في العام ٢٠٢٠م. " موضحا الخطوات مع القانون "

المادة: الجغرافيا الاقتصادية الصف: الحادي عشر - الدور الثاني -
الفصل الدراسي الثاني- العام الدراسي ٢٠٢٣/٢٠٢٤م

تابع السؤال الثاني:

٢. في أي عام حققت هذه الدولة عجزا في ميزانها التجاري ؟

أ. ٢٠٢٠ م ب. ٢٠٢١ م " اختر الإجابة الصحيحة "

فسر ذلك؟

ثالثا:


وزع "معايير تصنيف السياحة " بين القوسين بما يناسبها في الجدول التالي:
(الوجهة -المعالم - الهدف - الشكل التنظيمي)

أنواع السياحة	المعيار
زيارة الجبل الأخضر والتمتع بمناظره الخلابة..
زيارة محمد وعائلته لمتحف التاريخ الطبيعي
زيارة المناطق السياحية والتاريخية في سلطنة عمان
زيارة عين الكسفة للعلاج

السؤال الثالث: اجب عن ما يأتي:

أولا:

أ. اكمل الجدول التالي " السبب والنتيجة "



١٢

النتيجة	السبب
.....	استخدام الالياف البصرية في الاتصالات
تجتذب بعض دول المغرب العربي كثير من السياح من قارة أوروبا..

المادة: الجغرافيا الاقتصادية الصف: الحادي عشر - الدور الثاني -
 الفصل الدراسي الثاني- العام الدراسي ٢٠٢٣/٢٠٢٤ م

تابع السؤال الثالث:

ب . " سلطنة عمان عضوا فاعلا في منظمة التجارة الدولية "

١. في أي عام انضمت السلطنة الى هذه المنظمة ؟

٢. اكتب فائدة واحدة لانضمام السلطنة لهذه المنظمة ؟

ثانيا : امامك خريطة العالم صماء ادرسها جيدا واجب عن الأسئلة التي تليها :



أ. انقل ارقام الدول من الخريطة السابقة امام ما يناسبها من المفردتين (٢ و١) :
 ١. رقم الدولة التي عقدت فيها الدورة الثالثة عشر للجمعية العامة لمنظمة السياحة في العام ١٩٩٩ م

٢. رقم الدولة التي تنشط فيها رياضة نزول الاخاديد.....
 ب. كيف طبقت الدولة المشار اليها بالرمز "أ" إجراءات السياحة البيئية المستدامة ؟

ج. ظلل الدولة التي تحتل المركز الأول في حجم المبيعات الالكترونية في الشرق الأوسط ..

(٧)

المادة: الجغرافيا الاقتصادية الصف: الحادي عشر – الدور الثاني –
الفصل الدراسي الثاني – العام الدراسي ٢٠٢٣/٢٠٢٤ م

تابع السؤال الثالث :

ثالثا : اذكر اثنين لكلا من :

١. شروط صلاحية النهر للملاحة ؟

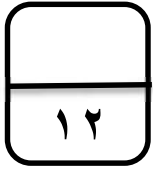
.....-

.....-

٢ . المحميات الطبيعية في سلطنة عمان ..؟

.....-

.....-



السؤال الرابع: اجب عن ما يأتي:

أولا : أ. ضع علامة تحت الخيار المناسب لكل نوع من النقل :

		المميزات
		يتم عن طريقه نقل ما يزيد عن ٧٥ % من حجم التجارة العالمية
		يركز على نوع المواد المنقولة وليس وزنها

ب. اكتب اثنين من اهداف جائزة السلطان قابوس للإجادة الإلكترونية.

.....-

.....-

تابع السؤال الرابع:

ثانيا. ينتقل سكان الدولة المشار إليها بالرقم ١ في الخريطة المقابلة الى الدولة المشار إليها



بالرقم ٢ لقضاء العطل والسياحة فيها..

أ. ما اسم الدولتين ؟

١-.....

٢-.....

ب. ما اسباب انتقال السكان بين الدولتين للسياحة ؟ يكتفى باثنين..

ثالثا :

ادرس الشكل الذي أمامك، ثم أجب عن الأسئلة التالية :

١. اكتب نسبة ما توفره صناعة السياحة من فرص العمل من اجمالي القوى العاملة في العالم في عام ٢٠٠٨م ؟

.....

٢. السياحة مصدرا مهما من مصادر تمويل الحكومات ودعم الخزينة العامة ..وضح العبارة السابقة

.....

٣. كيف استفادت منظمة السياحة العالمية من إقامة نظام الحسابات السياحية ؟

.....

المادة: الجغرافيا الاقتصادية الصف: الحادي عشر - الدور الثاني -
الفصل الدراسي الثاني - العام الدراسي ٢٠٢٣/٢٠٢٤ م

تابع السؤال الرابع:

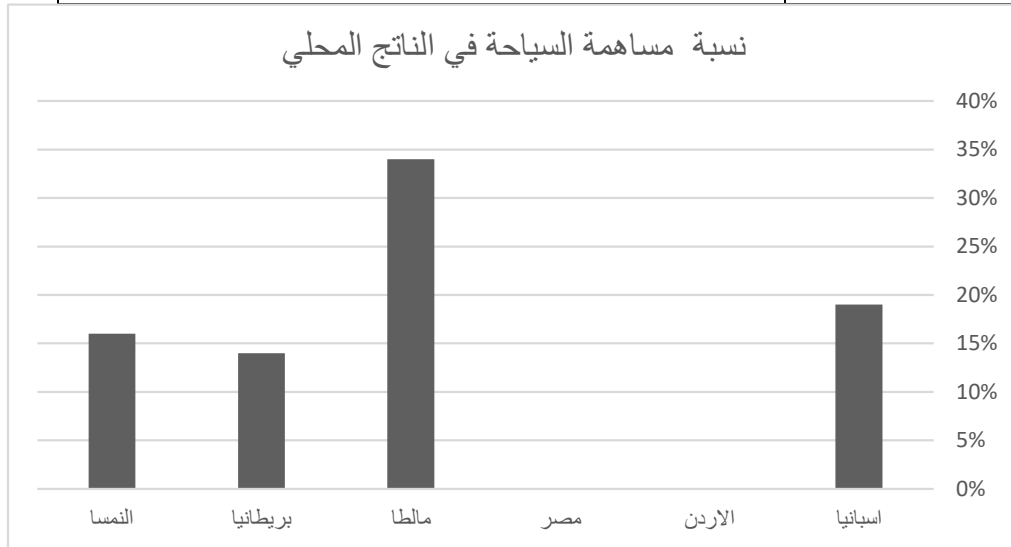
٤. اذكر اسم الدولة الرائدة في نظام الحسابات السياحية ؟

السؤال الخامس:

أولاً: ادرس الجدول الذي أمامك، ثم أجب عن الأسئلة التالية:

١٢

الدولة	نسبة مساهمة قطاع السياحة من الناتج المحلي والإجمالي
اسبانيا	١٩%
الاردن	٢٦%
مصر	٢١%
مالطا	٣٤%
بريطانيا	١٤%
النمسا	١٦%



-الشكل البياني السابق يوضح نسبة مساهمة السياحة في الناتج المحلي في بعض الدول بناء على البيانات الواردة في الجدول :

المادة: الجغرافيا الاقتصادية الصف: الحادي عشر - الدور الثاني -
الفصل الدراسي الثاني - العام الدراسي ٢٠٢٣/٢٠٢٤ م

تابع: السؤال الخامس: اجب عن ما يأتي:

١. اكمل تمثيل الشكل البياني من الجدول..
٢. " تهدف السلطنة للوصول الى نسبة ٣٪ لمساهمة القطاع السياحي ضمن الناتج المحلي"
برأيك: هل تستطيع السلطنة تحقيق نسبة ٣٪ او اكثر لمساهمة القطاع السياحي في الناتج المحلي بحلول عام ٢٠٢٥ م..؟
نعم لا ظلل الإجابة الصحيحة
علل أجابتك:

.....
.....

ثانيا: بالاستعانة بالخريطة التالية ..اجب عن السؤال التالي :



- استخرج من الخريطة السابقة أسماء الممرات المائية المشار إليها بالأرقام ١ و٢ واكمل الجدول التالي :

الممر المائي	المسطحات المائية التي يربط بينها
١.	
٢.	

المادة: الجغرافيا الاقتصادية الصف: الحادي عشر - الدور الثاني -
الفصل الدراسي الثاني- العام الدراسي ٢٠٢٣/٢٠٢٤ م

تابع السؤال الخامس:

ثالثا: اقرأ النص التالي واستعن بالخريطة المقابلة. ثم اجب عن الأسئلة الواردة في الجدول ادناه:



تقع ولاية الدقم في محافظة الوسطى
وتتملك مقومات سياحية جاذبة
طبيعية وبشرية .. ففيها حديقة
الصخور ذات التكوينات الصخرية
الجميلة. وشواطئ ذات تنوع تضاريسي
واضح بين الرملية والصخرية .. وبها
مدينة صناعية مزودة بكافة مرافق
البنية التحتية ومنطقة سياحية واسعة
المساحة

.....	المسطح المائي الذي تطل عليه ولاية الدقم
.....	المقومات البشرية للولاية كمنطقة سياحية
.....	المقومات الطبيعية للولاية كمنطقة سياحية
.....	كم تبلغ مساحة المنطقة السياحية في الدقم

"انتهت الأسئلة مع الدعاء لجميع الطلبة بالتوفيق والنجاح "



نموذج إجابة امتحان الصف الحادي عشر للعام الدراسي ١٤٤٥/١٤٤٦ هـ - ٢٠٢٣/٢٠٢٤ م
الدور الثاني - الفصل الدراسي الثاني

المادة: الجغرافيا الاقتصادية
الدرجة الكلية: ٦٠ درجة
تنبيه: نموذج الإجابة في ٦ صفحات

السؤال الأول: ١٢ درجة

المفردة	البديل الصحيح	الإجابة	الدرجة	الصفحة
١	ب	خريطة ايطاليا	١	١٢٦
٢	أ	٣٧%	١	١٥٣
٣	د	موزمبيق	١	١٨٤
٤	د	الحث عن السلعة ← اختيار السلعة المناسبة ← تعبئة استمارة الشراء ← استخدام بطاقة الائتمان	١	١٣٤
٥	ج	مسافر	١	١٤٤
٦	د	العمود رقم ٤	١	١٢٥
٧	أ	١٩٩٠م	١	١٥٧
٨	د	البرعة	١	١٥٣
٩	ج	يربط بين شونكينج في الصين وديسبورج في المانيا طوله ١١٠٠٠ كم أنشئ عام ٢٠١١ م طريق الحرير الجديد	١	١١٠
١٠	ج	الراين	١	١١٣
١١	ب	نيويورك	١	١٨٧
١٢	ب	الثقافية	١	١٧٠

تابع - نموذج إجابة امتحان مادة. الجغرافيا الاقتصادية للصف الحادي عشر
للعام الدراسي ٢٠٢٣/٢٠٢٤ م الدور: الثاني- الفصل الدراسي الثاني

درجة (١٢)		إجابة السؤال الثاني	
الصفحة	الدرجة	الإجابة	المفردة:
١١٦	١	١. الاهوسة:- نظام يتحكم بمستويات المياه لمساعدة السفن على الإبحار.. - حجرات مائية خاصة تعمل على رفع السفن وخفضها من مستوى الى اخر عبر القناة ..	أ
١٦١	١	٢. السياحة المسؤولة : هي التحلي بالمسؤولية في استغلال السياحة من اجل التنمية المستدامة ..	اولا
١٢٩	١	١. يختلف نوع السلع المصدرة والمستوردة باختلاف المستوى الاقتصادي للدولة ...فالدول المتقدمة صناعيا تستورد المواد الخام وتصدر السلع المصنعة...وتقوم الدول الأقل تطورا باستيراد كميات كبيرة من السلع الاستهلاكية وتصدير المواد الخام "... يراعى أسلوب الطالب "	ب
١٧٣	١	٢. العلاقة بين زيادة عدد السكان وتوفر الامدادات السياحية : كلما زاد عدد السكان كلما زادت تسهيلات الامداد " فنادق واستراحات و...رفاهية .امن وصحة	
١٢٨	درجتان درجة للقانون ودرجة للحل كاملا درجتان لكل جزئية درجة	١. الميزان التجاري = قيمة الصادرات - قيمة الواردات ٦٠- ٥٠ = ١٠ مليار ٢. في العام ٢٠٢١ م التفسير: لان- قيمة الواردات اكثر من الصادرات - قيمة الصادرات اقل من الواردات - قيمة الميزان التجاري سالبا	ثانيا
١٥٢	٤ درجات	أنواع السياحة	المعيار
		زيارة الجبل الأخضر والتمتع بمناظره الخلابة..	المعالم
		زيارة محمد وعائلته لمتحف التاريخ الطبيعي	الشكل التنظيمي
		زيارة المناطق السياحية والتاريخية في سلطنة عمان	الوجهة
		زيارة عين الكسفة للعلاج	الهدف\الغاية

تابع - نموذج إجابة امتحان مادة الجغرافيا الاقتصادية للصف الحادي عشر
للعام الدراسي ٢٠٢٣/٢٠٢٤ م الدور: الثاني - الفصل الدراسي الثاني

إجابة السؤال الثالث: ١٢ درجة					
الصفحة	الدرجة	الإجابة		المفردة	الجزئية
١٢٤	١	النتيجة	السبب	أ	
١٢٦		زيادة عدد المكالمات وتحسين نوعية الاتصال فاصبح أكثر نقاوة ودقة وسرعة والامن والسرية ...			
١٦٧	١		بسبب الموقع " كلما كان الموقع قريبا من المناطق المرسله للسياح كان الاقبال عليه كبير "		
١٣٢	درجتين لكلا درجة	<p>١ - ٩ نوفمبر ٢٠٠٠ م</p> <p>٢- اندماج الاقتصاد العماني بالاقتصاد العالمي</p> <p>- وضع النظام التجاري العماني في اطار قانوني وشفاف</p> <p>- ممارسة التجارة بشكل اكبر واوسع</p> <p>- زاد من معدلات الاستثمار والدخل ونمو الناتج المحلي للبلاد.</p>		ب	اولا

تابع - نموذج إجابة امتحان مادة الجغرافيا الاقتصادية للصف الحادي عشر
للعام الدراسي ٢٠٢٣/٢٠٢٤ م الدور: الثاني- الفصل الدراسي الثاني

		الدرجة الكلية: (١٢) درجة		إجابة السؤال: الرابع		
الصفحة	الدرجة	الإجابة		المفردة	الجزئية	
١١٤	١			أ	اولا	
		✓				يتم عن طريقه نقل ما يزيد عن ٧٥ % من حجم التجارة العالمية
			✓			يركز على نوع المواد المنقولة وليس وزنها
١١٧	١					
١٢٧	٢	<p>- تشجيع المؤسسات الحكومية والخاصة على تعزيز استخدام التقنية الرقمية.</p> <p>- تحسين نوعية الخدمات الالكترونية المقدمة وتبسيط إجراءاتها.</p> <p>- تفعيل سياسة الحكومة للانتقال الى اقتصاد مبني على تقنية المعلومات</p>		ب		
١٧٥	٢	<p>١ . بريطانيا</p> <p>٢ . اسبانيا</p>		أ	ثانيا	
	٢	<p>- رخص تكاليف قضاء العطل فيها</p> <p>- أجواء جميلة صيفا على الشواطئ</p> <p>- شواهد تاريخية في مدنها القديمة مثل غرناطة وطليلة وقرطبة وبرشلونة</p>		ب		
١٤٨	١	<p>١ . ١١ %</p> <p>٢ . السياحة مصدرا مهما من مصادر تمويل الحكومات عن طريق الإيرادات الضريبية المفروضة على الأنشطة السياحية مثل ضريبة المطاعم ومرافق الإقامة والمطارات ووسائل النقل ورسوم دخول المتاحف</p>		-	ثالثا	
	١	<p>٣ . استفادت منظمة السياحة العالمية بإقامة جهاز متطور لجمع بيانات السياحة وحفظها واسترجاعها بطرق آلية فعالة.</p>				
	١	<p>٤ . دولة كندا</p>				
	١					

تابع - نموذج إجابة امتحان مادة الجغرافيا الاقتصادية للصف الحادي عشر
للعام الدراسي ٢٠٢٣/٢٠٢٤م الدور: الثاني- الفصل الدراسي الثاني

إجابة السؤال الخامس		١٢ درجة									
الجزئية	الإجابة	الدرجة	الصفحة								
أولاً	 <p>١. رسم عمود لكل من مصر والأردن بالنسبة الموضحة في الجدول</p> <p>٢. تراعى إجابة الطالب سواء كانت اجابته نعم أولاً..على ان يذكر الأسباب الصحيحة .. كالمشاريع والخطط المستقبلية ...</p>	٢ ٢	١٤٦ ١٤٧								
ثانياً	<table border="1"> <thead> <tr> <th>الممر المائي</th> <th>المسطحات المائي التي يربط بينها</th> </tr> </thead> <tbody> <tr> <td>١- مضيق هرمز</td> <td>بحر عمان والخليج العربي</td> </tr> <tr> <td>٢- قناة السويس</td> <td>البحر الأحمر والبحر المتوسط</td> </tr> </tbody> </table>	الممر المائي	المسطحات المائي التي يربط بينها	١- مضيق هرمز	بحر عمان والخليج العربي	٢- قناة السويس	البحر الأحمر والبحر المتوسط	٤ درجات لكل جزئية درجة	١١٦		
الممر المائي	المسطحات المائي التي يربط بينها										
١- مضيق هرمز	بحر عمان والخليج العربي										
٢- قناة السويس	البحر الأحمر والبحر المتوسط										
ثالثاً	<table border="1"> <tbody> <tr> <td>المسطح المائي الذي تطل عليه ولاية الدقم</td> <td>بحر العرب</td> </tr> <tr> <td>المقومات البشرية للولاية كمنطقة سياحية</td> <td>مدينة صناعية مزودة بكافة مرافق البنية التحتية ومنطقة سياحية واسعة المساحة</td> </tr> <tr> <td>المقومات الطبيعية للولاية كمنطقة سياحية</td> <td>حديقة الصخور ذات التكوينات الصخرية الجميلة .وشواطئ ذات تنوع تضاريسي واضح بين الرملية والصخرية</td> </tr> <tr> <td>مساحة المنطقة السياحية في الدقم</td> <td>٢٥ كيلومتر مربع</td> </tr> </tbody> </table>	المسطح المائي الذي تطل عليه ولاية الدقم	بحر العرب	المقومات البشرية للولاية كمنطقة سياحية	مدينة صناعية مزودة بكافة مرافق البنية التحتية ومنطقة سياحية واسعة المساحة	المقومات الطبيعية للولاية كمنطقة سياحية	حديقة الصخور ذات التكوينات الصخرية الجميلة .وشواطئ ذات تنوع تضاريسي واضح بين الرملية والصخرية	مساحة المنطقة السياحية في الدقم	٢٥ كيلومتر مربع	٤ درجات لكل جزئية درجة	١٨٦
المسطح المائي الذي تطل عليه ولاية الدقم	بحر العرب										
المقومات البشرية للولاية كمنطقة سياحية	مدينة صناعية مزودة بكافة مرافق البنية التحتية ومنطقة سياحية واسعة المساحة										
المقومات الطبيعية للولاية كمنطقة سياحية	حديقة الصخور ذات التكوينات الصخرية الجميلة .وشواطئ ذات تنوع تضاريسي واضح بين الرملية والصخرية										
مساحة المنطقة السياحية في الدقم	٢٥ كيلومتر مربع										

نهاية نموذج الإجابة



امتحان مادة : الجغرافيا الاقتصادية
للف : الحادي عشر (الفترة الصباحية)
للعام الدراسي ١٤٤٤هـ - ٢٠٢٢/٢٠٢٣م
الدور الأول - الفصل الدراسي الثاني

- زمن الامتحان (ساعتان) ● عدد صفحات أسئلة الامتحان: (٩) صفحات.
- الإجابة في الدفتر نفسه .

		اسم الطالب
الصف		المدرسة

التوقيع بالاسم		الدرجة		السؤال
المصحح الثاني	المصحح الأول	بالحروف	بالأرقام	
				١
				٢
				٣
				٤
مراجعة الجمع	جمعه			المجموع
				المجموع الكلي

المادة : الجغرافيا الاقتصادية الصف : الحادي عشر (الفترة الصباحية) - الدور الأول
الفصل الدراسي الثاني - العام الدراسي ٢٠٢٢/٢٠٢٣ م

أجب عن جميع الأسئلة الآتية

السؤال الأول: ضع دائرة حول رمز الإجابة الصحيحة لكل مفردة من المفردات الآتية:

١- العام الميلادي الذي تم التوقيع فيه لإنشاء منظمة التجارة العالمية (الجات):

أ- ١٩٣٧ ب- ١٩٤٧ ج- ١٩٥٧ د- ١٩٦٧

٢- يُعتبر انتقال شخص من بلاده متجهاً إلى بلد آخر لحضور مؤتمر في السياحة:

أ- سائح ب- مسافر ج- متنزه د- زائر

٣- الجدول الصحيح الذي يمثل مميزات النقل بالأنابيب:

أعلى أنواع النقل
لا يتأثر بالظروف الجوية
يمتد لمسافة طويلة

ب -

أرخص أنواع النقل
يتأثر بالظروف الجوية
يمتد لمسافة قصيرة

أ -

أرخص أنواع النقل
لا يتأثر بالظروف الجوية
يمتد لمسافة طويلة

د -

أرخص أنواع النقل
لا يتأثر بالظروف الجوية
يمتد لمسافة قصيرة

ج -

من الموقع (أ) إلى الموقع (ب) هي:



٤- أفضل وسيلة مستخدمة لنقل المادة



أ- السفن. ج- الشاحنات.
ب- الطائرات. د- الأنابيب.

المادة : الجغرافيا الاقتصادية الصف : الحادي عشر (الفترة الصباحية) - الدور الأول
الفصل الدراسي الثاني - العام الدراسي ٢٠٢٢/٢٠٢٣ م

تابع السؤال الأول:

٥- تُعد من أنواع السياحة المكلفة والمحدودة:
أ- الترفيهية ب- الفضائية ج- البيئية د- الرياضية

د- الرياضية

ج- البيئية

ب- الفضائية

٦- من أكثر الشعوب القديمة التي عرفت بتمهيد شبكة كبيرة من الطرق البرية:

د- الفراعنة

ج- الرومان

ب- الصينيون

أ- اليونان

٧- من خلال الجدول الذي أمامك ، فإن الدولة الأوروبية الأعلى جذباً للسياح عام ٢٠١٣م:

الدولة	عدد السياح / مليون ٢٠١٣م
إسبانيا	٥٥,٧
إيطاليا	٤٧,٧
ألمانيا	٣٧,٨
بريطانيا	٣١,٢

ب- إيطاليا

أ- إسبانيا

د- ألمانيا

ج- بريطانيا

٨ - تُعد نهائيات كأس العالم أحد مظاهر التطور السياحي في القرن الميلادي:

د- ٢١

ج- ٢٠

ب- ١٩

أ- ١٨

٩- تقع حديقة الصخور في المحافظة المشار إليها بالرقم:



ب- ٢

أ- ١

د- ٤

ج- ٣

١٠- تشكل نسبة السياحة الثقافية من إجمالي سوق السياحة حوالي:

د- ٣٩%

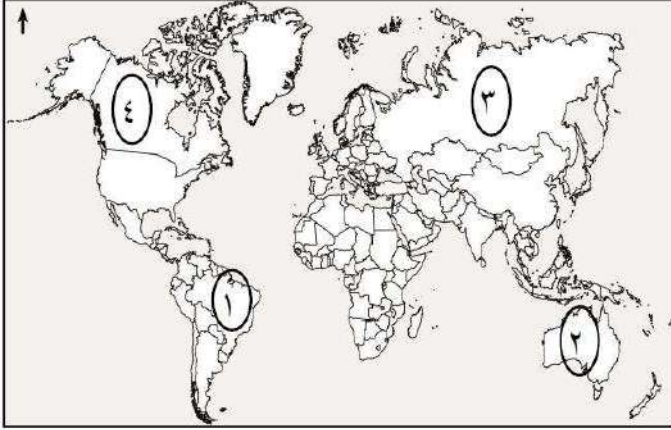
ج- ٣٨%

ب- ٣٧%

أ- ٣٦%

تابع السؤال الأول :

١١- من أوائل الدول المطبقة لنظام الحسابات السياحية يُشار إليها في الخريطة بالرقم:



١-أ

ب-٢

د-٤

ج-٣

١٢- من الطرق البرية القديمة الممتدة من بحر البلطيق في الشمال حتى سواحل البحر المتوسط في الجنوب:

د-الشاي.

ج-العنبر.

ب- اللبان.

أ-الحرير.

السؤال الثاني:- أجب عن جميع الأسئلة التالية

أولاً:- أ-عرف كلاً من :-

١-النقل المستدام :-

.....

.....

٢.القمر الصناعي

.....

.....

المادة : الجغرافيا الاقتصادية الصف : الحادي عشر (الفترة الصباحية) - الدور الأول
الفصل الدراسي الثاني - العام الدراسي ٢٠٢٢/٢٠٢٣ م

تابع : السؤال الثاني:-

ب- اذكر اثنين لكل من:-

١. النتائج المترتبة على انضمام سلطنة عُمان لمنظمة التجارة العالمية.

أ-.....

ب-.....

٢ - مميزات النقل الجوي.

أ-.....

ب -.....

ثانياً:- صنّف في الجدول التالي الأقمار الصناعية تبعاً للمهام التي تقوم بها:
(أبحاث علمية - اتصالات - مراقبة سطح الأرض - أرساد جوية).

نوع القمر	المهام
landsat
Nailesat
Gose

ثالثاً: وضح النتائج المترتبة على أثر النشاط السياحي في البيئة الجبلية:
النشاط السياحي.

النشاط السياحي.	تأثيره
استخدام الممرات الجبلية في جبال الهملايا.
مرور السيارات في مراعي جبال ظفار.
سير المركبات بسرعة بطيئة في الجبال.

المادة : الجغرافيا الاقتصادية الصف : الحادي عشر (الفترة الصباحية) - الدور الأول
الفصل الدراسي الثاني - العام الدراسي ٢٠٢٢/٢٠٢٣ م

السؤال الثالث :-

أولاً:- أ. صنّف المحميات الطبيعية في سلطنة عُمان حسب المحافظة التي توجد بها:-
(خور الدهاريز- جبل قهوان الطبيعية- السرين الطبيعية)

محافظة مسقط	محافظة جنوب الشرقية	محافظة ظفار
.....

ب- أمامك مجموعة من الصور التي تمثل أنواع السياحة المختلفة ..

ادرسها ثم أجب بـ (١) أو (٢)



(٢)



(١)

١- تعتبر أهم الأنواع السياحية وفق احصائيات منظمة السياحة العالمية (...)

٢- من أنواع السياحة التي تتميز باستمراريتها (...)

ثانياً:- خطط ثلاثة من السياح العُمانيين تنفيذ رحلة بحرية من مدينة شناص إلى مدينة خصب بهدف التمتع بمشاهدة الدلافين البحرية والسلاحف بالإضافة إلى الفيوردات التي تتميز بها المحافظة، كما زاروا عددا من الجزر العُمانية الواقعة في مضيق هرمز" في ضوء ذلك ، صنّف في الجدول التالي ما يلي :

الوجهة	معايير تصنيف السياحة
.....	الشكل التنظيمي
.....	المعالم
.....	وسيلة النقل

المادة : الجغرافيا الاقتصادية الصف : الحادي عشر (الفترة الصباحية) - الدور الأول
 الفصل الدراسي الثاني - العام الدراسي ٢٠٢٢/٢٠٢٣ م

تابع : السؤال الثالث:

ثالثاً: ادرس الجدول التالي ثم اجب عما يلي:-

النشاط.	القوى العاملة الوطنية.	القوى العاملة الوافدة.
شركة الطيران.	٣١٥٢	٢١٦٣
مكاتب السفر والسياحة.	١٢٦٥	٢٣١٢
الفنادق والمنتجعات	٢٧٢٤	٦٦٠٨

١- ما النشاط الذي ترتفع فيه القوى العاملة الوطنية عن القوى الوافدة ؟

.....

٢- ما النشاط الذي سجل أعلى فارق في العدد بين القوى العاملة الوافدة و القوى العاملة الوطنية؟

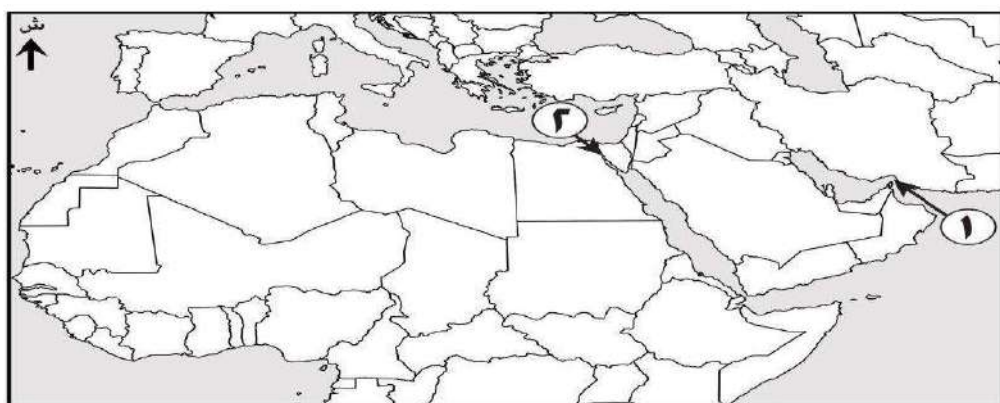
.....

٣- حدد نوع العلاقة بين عدد السياح وتوفر الإمدادات السياحية ؟

.....

السؤال الرابع :

أولاً: أ. قارن في جدول بين الممرات المائية الواضحة في الخريطة من حيث:-



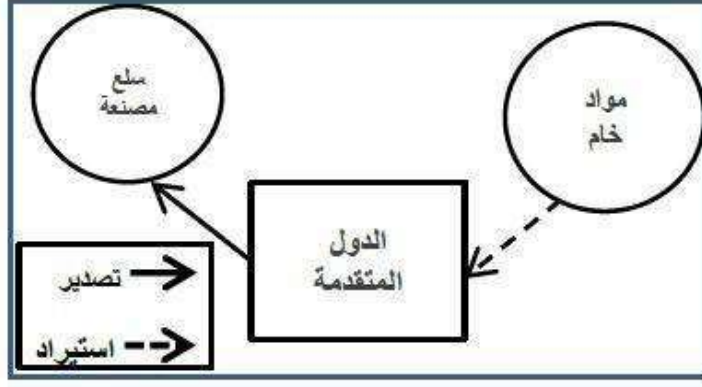
أوجه المقارنة	١	٢
المسطحات المائية التي يربط بينها
الأهمية الاستراتيجية

يتبع /٧

تابع : السؤال الرابع :

ب. فسّر / استخدام الإنسان للممرات والمضائق المائية ... يكتفى باثنين

ثانياً: الشكل يوضح أحد العوامل المؤثرة في التجارة الدولية .. في ضوء ذلك اجب عن الأسئلة التالية:-

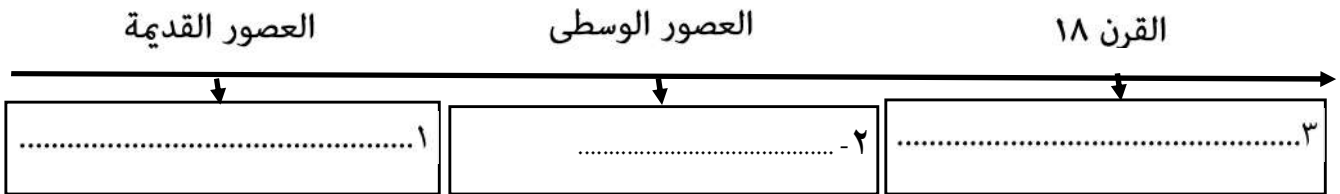


١- ما المقصود بالتجارة الدولية .

٢- ما العامل المؤثر في التجارة الدولية.

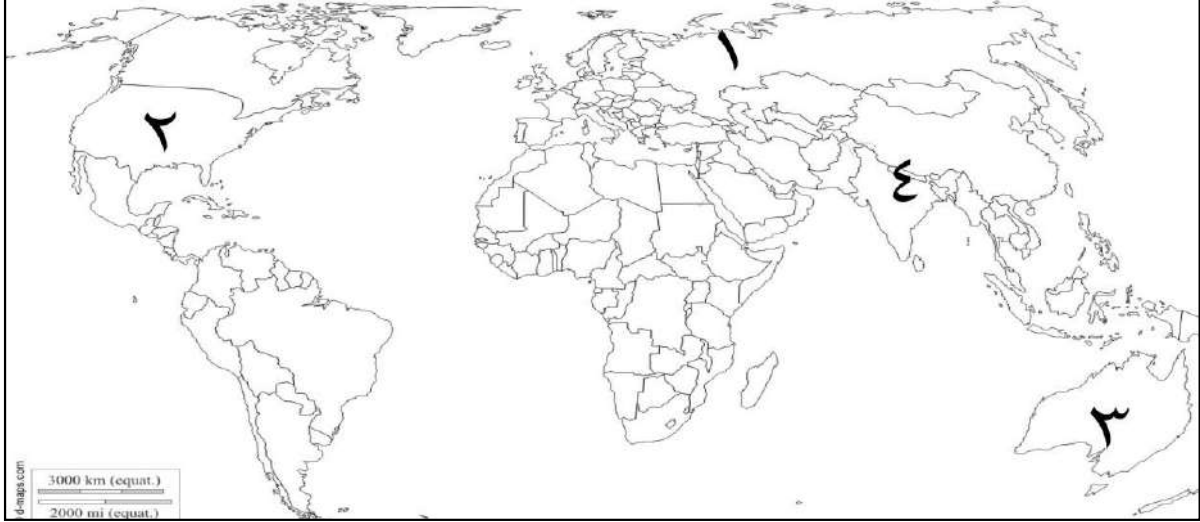
٣- اشترى محمد جهازا لوحيا من موقع Ephone في ضوء العبارة ، ما نوع التجارة التي استخدمها في عملية الشراء؟ ..

ثالثاً: تتبع مراحل التطور التاريخي للسياحة في المسطرة الزمنية التالية:-
(العلاج بالمياه المعدنية-المزارات الدينية -المناطق الطبيعية- المهرجانات الرياضية)



السؤال الخامس:

أولاً: ادرس خريطة العالم التالية ثم اجب عن الأسئلة التالية:-



- ١- الرقم الذي يشير إلى أكثر الوجهات تنشيطاً للسياحة البيئية ()
٢- ظلل على الخريطة الدولة التي تنشط فيها رياضة التزلج على الرمال
٣- الرقم الذي يشير إلى الدولة التي تنشط فيها رياضة تسلق الجبال ()
٤- الرقم الذي يشير إلى أكبر شبكة نقل عن طريق السكك الحديدية ()
٥- كيف استطاعت كينيا تطبيق السياحة البيئية المستدامة؟

ثانياً: نوع العلاقة بين دخل الفرد والطلب على الرحلات السياحية

- طردية
عكسية (اختر الإجابة الصحيحة)

فسر إجابتك /

.....

تابع السؤال الخامس

ثالثاً: الشكل يوضح الميزان التجاري لإحدى الدول .. ادرسه جيداً ، ثم أجب عما يلي:-
١. ما المقصود بالميزان التجاري؟

.....
.....

٢. من خلال الشكل المقابل ،
كم يبلغ الميزان التجاري للدولة ؟

.....

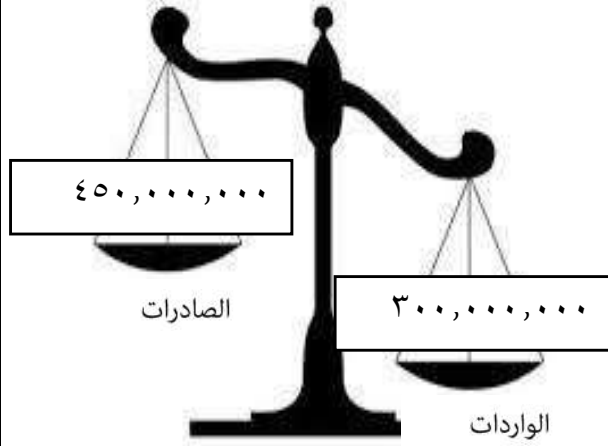
أيهما تفضل في الميزان التجاري :-

السالب

الموجب (اختر)

فسر إجابتك :

.....
.....



انتهت الأسئلة مع الدعاء للجميع بالتوفيق والنجاح.



نموذج إجابة امتحان الصف الحادي عشر
للعام الدراسي ١٤٤٤ هـ - ٢٠٢٢/٢٠٢٣ م
الدور الأول - الفصل الدراسي الثاني

المادة: الجغرافيا الإقتصادية (الفترة الصباحية)
الدرجة الكلية: (٦٠) درجة.
تنبيهه: نموذج الإجابة في (٥) صفحات.

أولاً: إجابة السؤال الموضوعي:

إجابة السؤال الأول						
المستوى المعرفي	المخرج التعليمي	الصفحة	الدرجة	الإجابة	البديل الصحيح	المفردة
		١٣١	١	١٩٤٧م	ب	١
		١٤٤	١	سائح	أ	٢
		١١١	١	أرخص أنواع النقل لا يتأثر بالظروف الجوية يمتد لمسافة طويلة	د	٣
		١١١	١	الأنابيب	د	٤
		١٥٩	١	الفضائية	ب	٥
		١٠٦	١	الرومان	ج	٦
		١٥٠	١	اسبانيا	أ	٧
		١٥٧	١	٢٠	ج	٨
		١٨٦	١	١	أ	٩
		١٥٣	١	٣٧%	ب	١٠
		١٤٨	١	٤	د	١١
		١٠٥	١	العنبر	ج	١٢
		١٢		المجموع		

(٢)

تابع نموذج إجابة امتحان الصف الحادي عشر
للعام الدراسي ١٤٤٤ هـ - ٢٠٢٢/٢٠٢٣ م
الدور الأول - الفصل الدراسي الثاني
المادة : الجغرافيا الاقتصادية (الفترة الصباحية)

ثانيا: إجابة الأسئلة المقالية:

الدرجة الكلية: (١٢) درجة				إجابة السؤال الثاني										
المستوى المعرفي	المخرج التعليمي	الصفحة	الدرجة	الإجابة الصحيحة	المفردة	الجزئية								
		١١٩	١	١- استخدام وسائل نقل أقل تأثيراً على البيئة وتعرف بوسائل النقل الخضراء	أ									
		١٢٣	١	٢- جهاز من صنع الانسان يسح في الفضاء الخارجي ويدور في مدارات معينة حول الأرض للقيام بمهام معينة.										
		١٣٢	٢	١- اسهم في وضع النظام التجاري العمالي في إطار قانوني قوي وشفاف ٢- أتاح ممارسة التجارة بشكل أوسع ٣- زاد من معدلات الاستثمار والدخل وهو الناتج المحلي للبلاد. (يكتفى بذكر اثنين)	ب	أولاً								
		١١٨	٢	السرعة / النقل في المناطق النائية والمنعزلة / لاتعتبر السلاسل الجبلية والغطاءات الجليدية والغابات والمحيطات عوائق في طريق النقل الجوي (يكتفى بذكر اثنين)										
		١٢٣	٣	<table border="1"> <tr> <td>المهام.</td> <td>نوع القمر.</td> </tr> <tr> <td>مراقبة سطح الأرض</td> <td>Landsat</td> </tr> <tr> <td>الاتصالات</td> <td>Nilesat</td> </tr> <tr> <td>الأبحاث العلمية</td> <td>Goes</td> </tr> </table>	المهام.	نوع القمر.	مراقبة سطح الأرض	Landsat	الاتصالات	Nilesat	الأبحاث العلمية	Goes		ثانياً
المهام.	نوع القمر.													
مراقبة سطح الأرض	Landsat													
الاتصالات	Nilesat													
الأبحاث العلمية	Goes													
			٣	<table border="1"> <tr> <td>تأثيره.</td> <td>النشاط السياحي.</td> </tr> <tr> <td>التعرية والأنهيارات الأرضية</td> <td>استخدام الممرات الجبلية في جبال الهملايا.</td> </tr> <tr> <td>القضاء على الحشائش وتدهور المراعي</td> <td>مرور السيارات في مراعي جبال ظفار</td> </tr> <tr> <td>تلوث التربة بالمواد السامة الأكاسيد</td> <td>سير المركبات بسرعة بطيئة في الجبال.</td> </tr> </table>	تأثيره.	النشاط السياحي.	التعرية والأنهيارات الأرضية	استخدام الممرات الجبلية في جبال الهملايا.	القضاء على الحشائش وتدهور المراعي	مرور السيارات في مراعي جبال ظفار	تلوث التربة بالمواد السامة الأكاسيد	سير المركبات بسرعة بطيئة في الجبال.		ثالثاً
تأثيره.	النشاط السياحي.													
التعرية والأنهيارات الأرضية	استخدام الممرات الجبلية في جبال الهملايا.													
القضاء على الحشائش وتدهور المراعي	مرور السيارات في مراعي جبال ظفار													
تلوث التربة بالمواد السامة الأكاسيد	سير المركبات بسرعة بطيئة في الجبال.													
١٢				المجموع										

يتبع / ٣

(٣)

تابع نموذج إجابة امتحان الصف الحادي عشر
 للعام الدراسي ١٤٤٤ هـ - ٢٠٢٢/٢٠٢٣ م
 الدور الأول - الفصل الدراسي الثاني
 المادة : الجغرافيا الاقتصادية (الفترة الصباحية)

تابع ثانيا: إجابة الأسئلة المقالية:

إجابة السؤال الثالث							الدرجة الكلية: (١٢) درجة		
الجزئية	المفردة	الإجابة الصحيحة			الدرجة	الصفحة	المخرج التعليمي	المستوى المعرفي	
أولا	أ	محافظة مسقط	محافظة جنوب الشرقية	محافظة ظفار	٣	١٦٤			
		محمية السرين	جبل قهوان	خور الدهاريز					
ثانياً	ب	٢-١				٢	١٥٣ ١٥٨		
		١-٢							
ثانياً	معايير تصنيف السياحة	الوجهة	الوجهة	سياحة داخلية	٤	١٥٢			
		الشكل	الشكل	سياحة جماعية					
		التنظيمي	المعلم	سياحة طبيعية					
		وسيلة النقل	وسيلة النقل	بحرية					
ثالثاً	١	شركة الطيران			١	١٨٠			
	٢	الفنادق والمنتجعات			١	١٨٠			
	٣	كلما زاد عدد السياح زادت الفنادق والاستراحات والمطاعم والأسواق والمراكز الصحية وغيرها.			١	١٧٣			
المجموع							١٢		

يتبع /٤

(٤)

تابع نموذج إجابة امتحان الصف الحادي عشر
للعام الدراسي ١٤٤٤ هـ - ٢٠٢٢/٢٠٢٣ م
الدور الأول - الفصل الدراسي الثاني
المادة : الجغرافيا الاقتصادية (الفترة الصباحية)

تابع ثانيا: إجابة الأسئلة المقالية:

الدرجة الكلية: (١٢) درجة							إجابة السؤال الرابع		
المستوى	المخرج التعليمي	الصفحة	الدرجة	الإجابة الصحيحة			المادة	الجزئية	
		١١٥ - ١١٦	٤	٢	١	أوجه المقارنة	أ	أولا	
				البحر الأحمر والبحر المتوسط	بحر عمان والخليج العربي	المسطحات المائية التي يربط بينها			
				الربط بين قارات العالم القديم / تقصير المسافة بين الشرق والغرب	المنفذ البحري الوحيد لمنطقة الخليج العربي	الأهمية الاستراتيجية			
		١١٥	٢	تقصير المسافة / تقليل الوقت / خفض التكلفة (يكتفى بذكر اثنين)			ب		
		١٢٨	١	تبادل السلع والخدمات ورأس المال بين الدول			١	ثانيا	
		١٢٩	١	التطور الاقتصادي			٢		
		١٣٣	١	التجارة الالكترونية					
		١٤٣	٣	١- التسلية والترفية ٢- المزارات الدينية ٣- العلاج بالمياه المعدنية			أ	ثالثا	
١٢				المجموع					

(٥)

تابع نموذج إجابة امتحان الصف الحادي عشر

للعام الدراسي ١٤٤٤ هـ - ٢٠٢٢/٢٠٢٣ م

الدور الأول - الفصل الدراسي الثاني

المادة : الجغرافيا الاقتصادية (الفترة الصباحية)

تابع ثانيا: إجابة الأسئلة المقالية:

الدرجة الكلية: (١٢) درجة					إجابة السؤال الخامس	
المستوى المعرفي	المخرج التعليمي	الصفحة	الدرجة	الإجابة الصحيحة	المفردة	الجزئية
		١٦١	١		٣	١
		١٥٦	١	تظليل سلطنة عُمان		٢
		١٥٦	١		٤	٣
		١٠٩	١		٢	٤
		١٨٣	٢	قامت منتجات السفر في كينيا بدفع أجور القبائل المحلية للامتناع عن صيد الأفيال من أجل انيابها، وتقع أهالي المنطقة الأستوائية بأن المحافظة على بيئة الغابات أفضل على المدى البعيد من صيد الأفيال.		٥
		١٧٥	١	طردية		١
		١٧٥	١	كلما زاد دخل الفرد ساعد ذلك على الطلب على الرحلات السياحية		
		١٢٨	١	هو الفرق بين قيمة واردات الدولة وقيمة صادراتها خلال فترة زمنية معينة		١
		١٢٨	١	الصادرات - الواردات ١٥٠,٠٠٠,٠٠٠ = ٣٠٠,٠٠٠,٠٠٠ - ٤٥٠,٠٠٠,٠٠٠		٢
		١٢٨	١	موجب		٣
		١٢٨	١	بسبب ارتفاع قيمة الصادرات واستغلال عوائد الفائض في برامج التنمية المختلفة		
١٢				المجموع		

نهاية نموذج الإجابة



امتحان مادة : الجغرافيا الاقتصادية
للف : الحادي عشر - الفترة المسائية
للعام الدراسي ١٤٤٤هـ - ٢٠٢٢/٢٠٢٣م
الدور الأول - الفصل الدراسي الثاني

- زمن الامتحان : (ساعتان) ● عدد صفحات أسئلة الامتحان: (٩) صفحات
- الإجابة في الدفتر نفسه .

		اسم الطالب
الصف		المدرسة

التوقيع بالاسم		الدرجة		السؤال
المصحح الثاني	المصحح الأول	بالحروف	بالأرقام	
				١
				٢
				٣
				٤
				٥
مراجعة الجمع	جمعه			المجموع
				المجموع الكلي

أجب عن جميع الأسئلة الآتية

السؤال الأول: ضع دائرة حول رمز الإجابة الصحيحة لكل مفردة من المفردات الآتية:

١- الشعب الأكثر شهرة في استخدام الأحجار الجيرية لتمهيد الطرق البرية:

- أ- الهنود ب- الرومان ج- الفرس د- العرب

٢- اخترع ألكسندر غراهام بل أول جهاز هاتف في العام الميلادي:

- أ- ١٨٦٦ ب- ١٨٦٧ ج- ١٨٧٦ د- ١٨٧٧

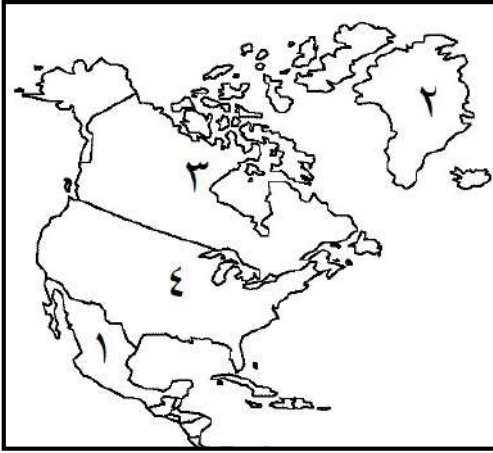
٣- دولة الميلاد الرسمي للحكومة الالكترونية:

- أ- إيطاليا ب- فرنسا ج- بريطانيا د- النمسا

٤- الدولة التي تمتلك أكبر شبكة نقل أنابيب في العالم مشار إليها بالرقم:

- أ- ١ ب- ٢

- ج- ٣ د- ٤



٥- القرن الميلادي الذي تحولت فيه السياحة إلى صناعة تعتمد عليها العديد من الدول في اقتصادها:


- أ- ١٨ ب- ١٩ ج- ٢٠ د- ٢١

تابع السؤال الأول:

٦- الشكل الذي يوضح مرحلة اختيار السلعة المناسبة في التجارة الالكترونية:




-د



-ج



-ب



-أ

٧-الفن العماني الذي أدرج في القائمة الدولية لليونسكو عام ٢٠١٤م:

-د التغرود

-ج العيالة

-ب العازي

-أ البرعة



٨-النشاط السياحي الذي تعبر عنه الصورة المقابلة :

-ب علاجي

-أ ثقافي

-د ترفيهي

-ج جيولوجي

٩-عقد المؤتمر العالمي الثالث للسياحة الجيولوجية في مدينة :

-د أبو ظبي

-ج الدوحة

-ب الرياض

-أ مسقط

١٠-إحدى الخدمات التالية تدخل ضمن البنية التحتية للإستثمار السياحي :

-د المطارات

-ج الأيدي العاملة

-ب الكهرباء

-أ المطاعم

١١- تمتد مرتفعات الألب في قارة :

-د أمريكا الجنوبية

-ج اوروبا

-ب أفريقيا

-أ آسيا

١٢-السائح الداخلي عالميا هو من يقوم برحلة تنزه تبعد عن بيئته حوالي :

-د ٨٠ كم

-ج ٧٠ كم

-ب ٦٠ كم

-أ ٥٠ كم

السؤال الثاني :

أولا : ١- عرف المفاهيم التالية:

أ- النقل المستدام :

.....

ب - المنشأة السياحية :

.....

٢- اذكر اثنين لكل من :

أ - أهمية السياحة للأفراد والمجتمعات.

١-.....

٢-.....

ب - مميزات النقل بالأنابيب.

١-.....

٢-.....

ثانيا : صف في الجدول التالي تسهيلات الإمداد اللوجستية في المواقع السياحية
(الهدايا التذكارية - التنقل - المقاهي - خدمات مصرفية)

تسهيلات الإمداد	الخدمة المقدمة
الخدمات اليومية
الرفاهية
الراحة

تابع السؤال الثاني :



ثالثا : انظر إلى الصورة التي أمامك ثم أجب عما يلي:
أ- ما المشروع الذي تعبر عنه الصورة المقابلة ؟

.....

ب- ما الهدف من المشروع ؟

.....

.....

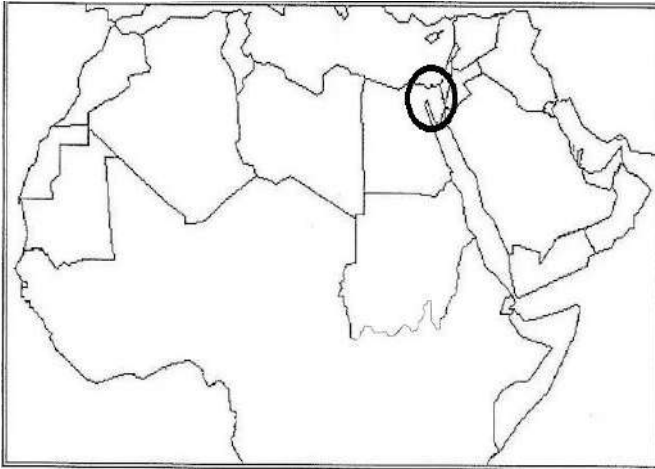
ج- دلل على اهتمام السلطان قابوس بن سعيد- طيب الله ثراه- بتشجيع الحكومة الالكترونية .

.....

.....

السؤال الثالث :

أولا : ١- توضح الخريطة إحدى القنوات المائية في العالم والمشار إليها بالرمز ادرسها ثم أجب عن التالي :



أ- ما اسم هذه القناة المائية؟

.....

ب- تربط هذه القناة بين بحرين هما :

١-.....

٢-.....

ج- أهم السلع التي تنقل من الخليج العربي إلى غرب أوروبا عبر هذه القناة ؟

.....

٢- فسر، يحتل مضيق هرمز أهمية استراتيجية كبيرة بالنسبة للعالم .

.....

.....

.....

تابع السؤال الثالث :

ثانيا : ١- صف الأنشطة السياحية التالية حسب نوع السياحة:
(رياضية - ثقافية - جيولوجية)

النشاط السياحي	نوع السياحة
زيارة متحف اللوفر في باريس
زيارة كهف الهوتة في سلطنة عمان.
المشاركة في مسابقة طواف عمان

٢- ما النتيجة المترتبة على :-

أ- إنشاء المناطق التجارية الحرة .

.....
.....

ب- إنشاء تسهيلات النقل في المواقع السياحية .

.....
.....

ثالثا : ادرس الشكل المقابل والذي يعبر عن إحدى المقومات السياحية الجاذبة في محافظة الوسطى ، ثم
أجب عما يلي :



١- ما اسم الموقع السياحي .

.....

٢- ما الولاية التي يقع فيها.

.....

السؤال الرابع :

أولا : الشكل الذي أمامك يوضح قيمة الصادرات والواردات من المنتجات الزراعية للبرازيل ادرسه ، ثم أجب عن التالي:

١- احسب الميزان التجاري للبرازيل.


.....
.....

٢- ما أهمية أن يكون الميزان التجاري للدولة موجب (+)؟

.....
.....



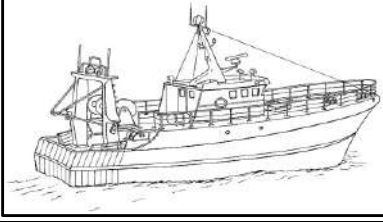
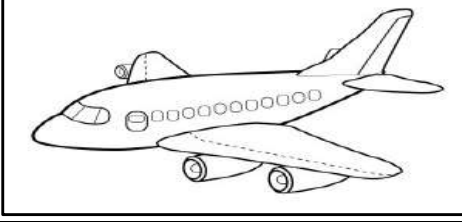
ثانيا : ١- من خلال الشكل المقابل ، أجب عما يلي :



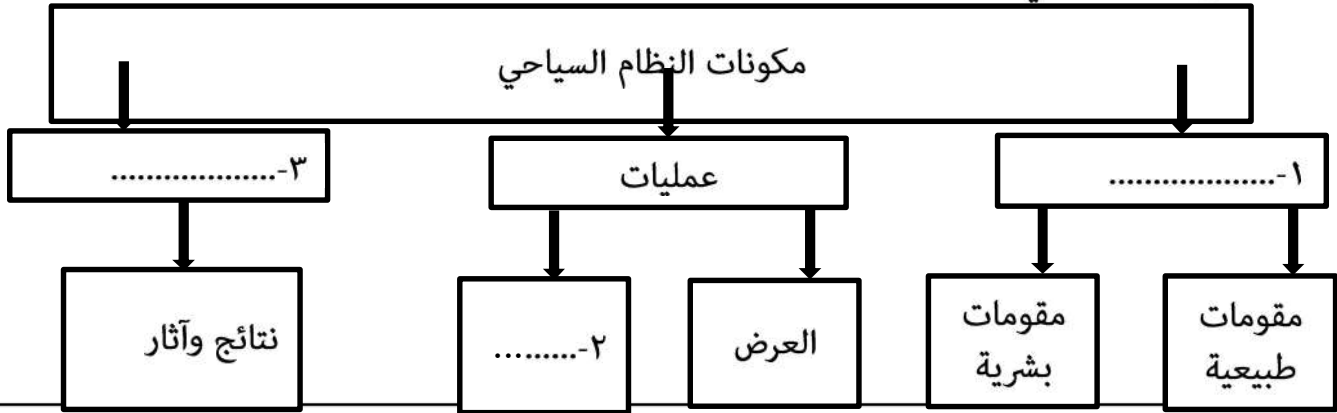
أ-.....	اسم الشعار
ب-.....	مجالاته (يذكر اثنين)
.....	

تابع السؤال الرابع

٢- أمامك شكلان للنقل ادرسهما ، ثم أجب عما يلي في الجدول :

		
٢-.....	١-.....	نوع النقل
٤-.....	٣-.....	مميزاته

ثالثا : أكمل المخطط التالي :



السؤال الخامس :

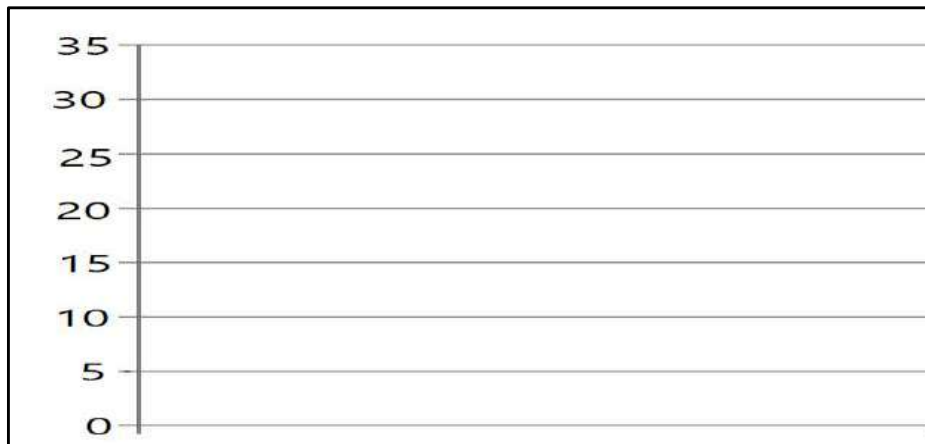
أولاً: أمامك جدول ادرسه، ثم أجب عن التالي :

الدولة	نسبة مساهمة قطاع السياحة من الناتج المحلي الإجمالي.
اسبانيا	%١٩
الأردن	%٢٦,١
مصر	%٢١,٧
مالطا	%٣٤,١
بريطانيا	%١٤,٢
النمسا	%١٦,٩

أ- رتب الدول العربية ترتيباً تنازلياً (من الأكثر إلى الأقل) من حيث مساهمة قطاع السياحة في الناتج المحلي :

الترتيب	الدول
١
٢

ب- مثل بيانياً نسبة مساهمة السياحة في الناتج المحلي لمالطا .



تابع السؤال الخامس

ثانيا : ١- اذكر أمثلة على مواقع الأنواع السياحية التالية :

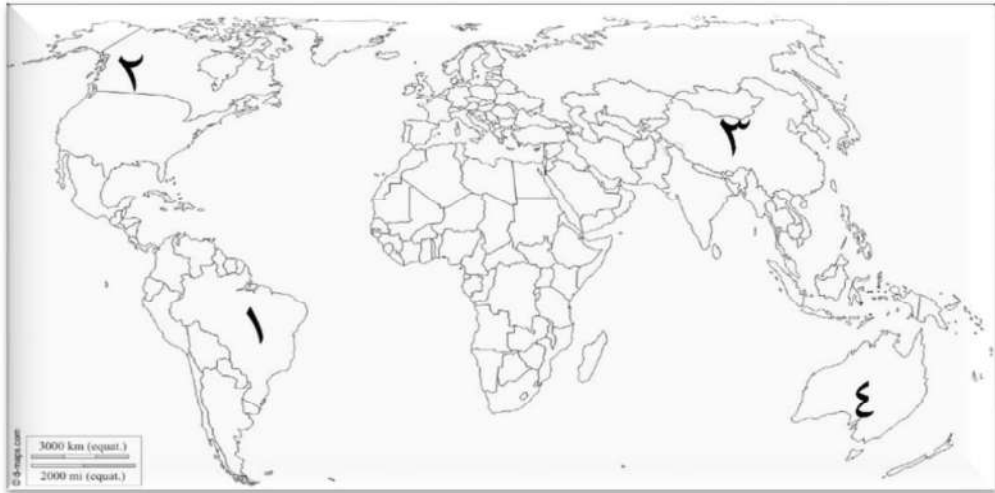
- أ-العلاجية المعدنية :
- ب- الترفيهية :
- ج- الدينية :

٢- علل : زيارة الأوروبيين شتاء للمنتجعات السياحية في شاطئ السوادي .


.....

.....

ثالثا : أمامك خريطة العالم ادرسها جيدا ثم أجب عن التالي :



١-اكتب الأرقام الدالة على ما يلي :

- أ-الدولة التي احتضنت نهائيات كأس العالم لكرة القدم عام ٢٠١٤م (.....) .
- ب- الدولة التي تنشط فيها رياضة نزول الأخاديد.(.....) .
- ج- من أوائل الدول المطبقة لنظام حسابات السياحة (.....) .
- ٢- باستخدام الرمز  حدد موقع قناة بنما على الخريطة .

٣-فسر : تعتبر قناة بنما أعجوبة هندسية.

.....

.....



(١)

نمؤذج إجابة امتحان الصف الحادي عشر
للعام الدراسي ١٤٤٤ هـ - ٢٠٢٢/٢٠٢٣ م
الدور الأول - الفصل الدراسي الثاني

المادة: الجغرافيا الاقتصادية (الفترة المسائية)
الدرجة الكلية: (٦٠) درجة.
تنبيهه: نمؤذج الإجابة في (٦) صفحات.

أولاً: إجابة السؤال الموضوعي:

المفردة	البديل الصحيح	الإجابة	الدرجة	الصفحة
١	ب	الرومان	١	١٠٦
٢	ج	١٨٧٦م	١	١٢٤
٣	أ	إيطاليا	١	١٢٦
٤	د	٤	١	١١١
٥	ج	٢٠	١	١٤٣
٦	ب		١	١٣٤
٧	ج	العيالة	١	١٥٣
٨	د	ترفيهي	١	١٥٦
٩	أ	مسقط	١	١٦٢
١٠	ب	الكهرباء	١	١٧٨
١١	ج	اوروبا	١	١٦٩
١٢	د	٨٠ كم	١	١٤٤
		المجموع	١٢	

نموذج إجابة امتحان الصف الحادي عشر (الفترة المسائية) - للعام الدراسي ١٤٤٤ هـ - ٢٠٢٢/٢٠٢٣ م
الدور الأول - الفصل الدراسي الثاني

(٢)

ثانيا: إجابة الأسئلة المقالية:

الدرجة الكلية: (١٢) درجة		إجابة السؤال الثاني									
الصفحة	الدرجة	الإجابة الصحيحة	المفردة								
١١٩	١	استخدام وسائل نقل أقل تأثيرا على البيئة ، وتعرف بوسائل النقل الخضراء .	أ								
١٧٢	١	الأماكن المهيأة لاستقبال السياح وتقديم الخدمات لهم .	ب								
١٤٦	٢	١- الترويج عن النفس والبعد عن الروتين اليومي . ٢- تعزيز روح الإلتزام عند المواطن ٣- توطد روح العمل الجماعي بين المشاركين في الرحلات فتتسع آفاقهم وتنوع أنشطتهم وتتجدد طاقاتهم . ٤- تحقيق التقارب بين الشعوب وزيادة التفاعل الحضاري بينهما ٥- تطوير العلاقات الاجتماعية والتعرف على حياة الشعوب وعاداتها وتقاليدها . ٦- الاهتمام بالتراث والمحافظة عليه . (يكتفى بذكر اثنتين لكل مفردة درجة)	أ								
١١١	٢	١- أرخص أنواع النقل . ٢- تنخفض التكلفة كلما زاد قطر الأنبوب ٣- لا يتأثر بالظروف الجوية أو التضاريس . ٤- إمكانية نقل النفط والغاز بسرعة ولمسافات طويلة . (يكتفى بذكر اثنتين لكل مفردة درجة)	ب								
١٧٣	٣	<table border="1"> <tr> <td>تسهيلات الإمداد</td> <td>الخدمة المقدمة</td> </tr> <tr> <td>الخدمات اليومية</td> <td>المقاهي</td> </tr> <tr> <td>الرفاهية</td> <td>الهدايا التذكارية</td> </tr> <tr> <td>الراحة</td> <td>التنقل</td> </tr> </table> <p>(لكل مفردة درجة)</p>	تسهيلات الإمداد	الخدمة المقدمة	الخدمات اليومية	المقاهي	الرفاهية	الهدايا التذكارية	الراحة	التنقل	١
تسهيلات الإمداد	الخدمة المقدمة										
الخدمات اليومية	المقاهي										
الرفاهية	الهدايا التذكارية										
الراحة	التنقل										
١٢٧	١	مجتمع عمان الرقمي .	أ								
١٢٧	١	نشر المعرفة الرقمية بين شرائح وفئات المجتمع المختلفة .	ب								
١٢٧	١	تخصيص جائزة السلطان قابوس - طيب الله ثراه - للإجادة في الخدمات الإلكترونية .	ج								

نموذج إجابة امتحان الصف الحادي عشر (الفترة المسائية) - للعام الدراسي ١٤٤٤ هـ - ٢٠٢٢/٢٠٢٣ م
الدور الأول - الفصل الدراسي الثاني

(٣)

تابع ثانيا: إجابة الأسئلة المقالية:

إجابة السؤال الثالث		الرمز (/) يعني إجابة أخرى صحيحة	الدرجة الكلية: (١٢) درجة
الجزئية	المفردة	الإجابة الصحيحة	الدرجة
أولا (١)	أ	قناة السويس	١
	ب	١-البحر الأحمر ٢- البحر المتوسط (لكل مفردة درجة)	٢
	ج	النفط	١
أولا (٢)		يعتبر المنفذ البحري المباشر الوحيد لمنطقة الخليج العربي .	١
ثانيا	١	النشاط السياحي	٣
		زيارة متحف اللوفر في باريس .	
		زيارة كهف الهوتة في سلطنة عمان	
		المشاركة في مسابقة طواف عمان .	
		(لكل مفردة درجة)	
ثانيا (٢)	أ	تقليل المعوقات التجارية مثل الرسوم الجمركية / تسهيل حركة التبادل التجاري / تشجيع الإستثمارات المحلية والأجنبية (يكتفى بواحدة)	١
	ب	زيادة أعداد السياح في المواقع السياحية .	١
ثالثا	١	حديقة الصخور	١
	٢	ولاية الدقم	١

نموذج إجابة امتحان الصف الحادي عشر (الفترة المسائية) - للعام الدراسي ١٤٤٤ هـ - ٢٠٢٢/٢٠٢٣ م
الدور الأول - الفصل الدراسي الثاني

(٤)

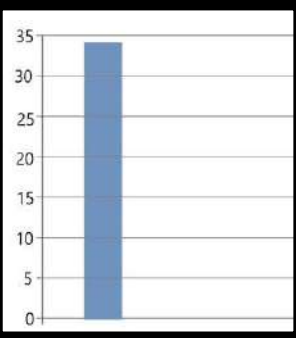
تابع ثانيا: إجابة الأسئلة المقالية:

إجابة السؤال الرابع		الرمز (/) يعني إجابة أخرى صحيحة	الدرجة الكلية: (١٢) درجة
الجزئية	المفردة	الإجابة الصحيحة	الدرجة
أولا	١	٩٠,٦٦٤ - ١٤,١٧٤ = ٧٦,٤٩ مليون دولار (إذا كتب الطالب العملية الحسابية لكن الناتج خطأ يعطى نصف الدرجة) (وإذا كتب الناتج صحيحا بدون عملية يعطى الدرجة كاملة)	١
	٢	تحقيق فائض في الميزان التجاري للدولة يمكنها من استغلال عوائده في برامج التنمية المختلفة	١
ثانيا (١)	أ	المدونة العالمية لأخلاقيات السياحة	١
	ب	١- المحافظة على الموارد البيئية . ٢- المحافظة على المجتمع وثقافته . ٣- تحقيق منافع اقتصادية مهمة . (يكتفى بذكر اثنتين لكل مفردة درجة)	٢
ثانيا	٢	نوع النقل	٤
		مميزاته	
		١- النقل الجوي	٢- النقل المائي / النقل البحري
		٣- السرعة/النقل إلى المناطق النائية والمنعزلة/ لايتأثر بالسلاسل الجبلية والغطاء الجليدي والغابات والمحيطات	٤- انخفاض التكلفة مقارنة بوسائل النقل الأخرى / انخفاض تكلفة الصيانة / إمكانية نقل كميات كبيرة من البضائع والمواد الخام .
		(يكتفى بإجابة واحدة لكل مفردة درجة)	
ثالثا		١- مدخلات ٢- الطلب ٣- مخرجات	٣
		(لكل مفردة درجة)	

نموذج إجابة امتحان الصف الحادي عشر (الفترة المسائية) - للعام الدراسي ١٤٤٤ هـ - ٢٠٢٢/٢٠٢٣ م
الدور الأول - الفصل الدراسي الثاني

(٥)

تابع ثانيا: إجابة الأسئلة المقالية:

إجابة السؤال الخامس		الرمز (/) يعني إجابة أخرى صحيحة		الدرجة الكلية: (١٢) درجة	
الجزئية	المفردة	الإجابة الصحيحة		الدرجة	الصفحة
	أ	الترتيب	الدول	٢	١٤٧
		١	الأردن		
٢	مصر				
(لكل مفردة درجة)					
أولا	ب			١	١٤٧

يتبع/٦

نموذج إجابة امتحان الصف الحادي عشر (الفترة المسائية) - للعام الدراسي ١٤٤٤ هـ - ٢٠٢٢/٢٠٢٣ م
الدور الأول - الفصل الدراسي الثاني

(٦)

تابع ثانيا: إجابة الأسئلة المقالية:

الدرجة الكلية: (١٢) درجة		تابع إجابة السؤال الخامس		
الصفحة	الدرجة	الإجابة الصحيحة	المفردة	الجزئية
١٥٨	١	عين الكسفة في سلطنة عمان / عين وضاح في سلطنة عمان/ الينابيع المعدنية والكبريتية الحارة في غور الأردن . (يكتفى بواحدة) .	أ	ثانيا (١)
١٥٦	١	تسلق الجبال في شبه القارة الهندية وهضبة التبت / التزلج على الجليد (لبنان - سويسرا - النمسا) / التزلج على الماء (العقبة في الأردن) / التزلج على الرمال (رمال الشرقية سلطنة عمان) يكتفى بواحدة) .	ب	
١٥٨	١	زيارة مكة المكرمة (الكعبة ، منى، مزدلفة، عرفات) في المملكة العربية السعودية / زيارة المدينة المنورة (المسجد النبوي قبر الرسول مواقع الغزوات) في المملكة العربية السعودية/ القدس (المسجد الأقصى / قبة الصخرة) في فلسطين. (يكتفى بواحدة) .	ج	
١٦٧	١	بسبب دفئ المنطقة / درجات الحرارة المعتدلة / سطوع منتظم للشمس (يكتفى بإجابة واحدة		ثانيا(٢)
١٥٧	١	١	أ	ثالثا (١)
١٦٩	١	٤	ب	
١٤٨	١	٢	ج	
١١٧	١		أ	ثالثا (٢)
١١٦	١	توجد حجرات مائية خاصة تعرف بالأهوسة تعمل على رفع السفن وخفضها من مستوى إلى آخر عبر القناة .		ثالثا (٣)

نهاية نموذج الإجابة



امتحان مادة : الجغرافيا الاقتصادية
للف : الحادي عشر
للعام الدراسي ١٤٤٤هـ - ٢٠٢٢/٢٠٢٣م
الدور الثاني - الفصل الدراسي الثاني

- زمن الامتحان : (ساعتان) ● عدد صفحات أسئلة الامتحان: (٩) صفحات.
- الإجابة في الدفتر نفسه .

		اسم الطالب
الصف		المدرسة

التوقيع بالاسم		الدرجة		السؤال
المصحح الثاني	المصحح الأول	بالحروف	بالأرقام	
				١
				٢
				٣
				٤
مراجعة الجمع	جمعه			المجموع
				المجموع الكلي

أجب عن جميع الأسئلة الآتية

السؤال الأول: ضع دائرة حول رمز الإجابة الصحيحة لكل مفردة من المفردات الآتية:

١- التقنية المستخدمة في تخطيط شبكات الطرق وإجراء دراسات تحليلية عنها:
أ- RS ب- GIS ج- Goggle Earth د- GPS

٢- يُعتبر التعرف على عادات الشعوب وتقاليدها من آثار السياحة:

أ- البيئية ب- الاقتصادية ج- السياحية د- الاجتماعية

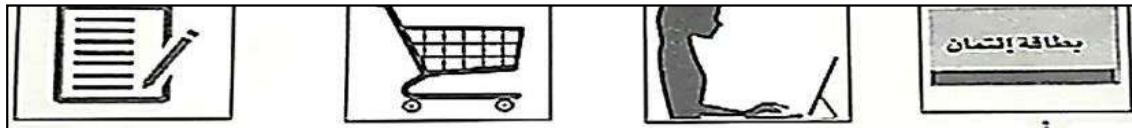
٣- من مواصفات الأنهار المستخدمة في النقل النهري:

النهر الرابع	النهر الثالث	النهر الثاني	النهر الأول
مصّب النهر عريض	دائم الجريان	مصّب النهر عريض	يخلو من الشلالات
يخلو من الجنادل	مصّب النهر عريض	يخلو من الجنادل	كثير الانحدار
كثير التعرج	يخلو من الجنادل	متقطع الجريان	كثير الجنادل
-د-	-ج-	-ب-	-أ-

٤- الترتيب الصحيح لأبرز الاختراعات في مجال الاتصالات:

- أ- أول كمبيوتر - الألياف البصرية - الهاتف - اختراع الانترنت.
ب- الهاتف - الألياف البصرية - اختراع الانترنت - أول كمبيوتر.
ج- الهاتف - أول كمبيوتر - الألياف البصرية - اختراع الانترنت.
د- اختراع الانترنت - الهاتف - أول كمبيوتر - الألياف البصرية.

٥- الشكل الذي يوضح نقطة البداية للتجارة الالكترونية:



-د-

-ج-

-ب-

-أ-

تابع السؤال الأول:

٦- يطلق على مجموعة الناس الراغبين في المشاركة بالأنشطة السياحية من خلال زيارة أماكن محددة تحوي كافة التسهيلات السياحية:

أ- المرشد السياحي. ب- الموقع السياحي. ج- العرض السياحي. د- الطلب السياحي.

٧- من أشهر أسواق العرب في العصر الجاهلي والإسلامي:

أ- بهلا. ب- نزوى. ج- قلعات. د- صحار.

٧- الصورة المقابلة تمثل أحد المعالم السياحية الجيولوجية في ولاية:

أ- الدقم. ب- الجازر.

ج- محوت. د- هيما.



٩- تجمع الرياضة التي تنشط في أخدود دانا بروك في استراليا بين:

أ- تسلق الجبال واستكشاف الكهوف. ب- استكشاف الكهوف والغوص.
ج- تسلق الجبال والتزلج على الماء. د- التزلج على الماء والغوص.

امتحان مادة : الجغرافيا الاقتصادية – للصف لحادي عشر - للعام الدراسي ١٤٤٤ هـ - ٢٠٢٢/٢٠٢٣ م
الدور الثاني- الفصل الدراسي الثاني

تابع السؤال الأول:

١٠- الدولة الأوروبية الأكثر جذباً للسياح لعام ٢٠١٣ م:

الدولة	عدد السياح بالمليون
ألمانيا	٢١,٥
إيطاليا	٤٧,٧
إسبانيا	٦٠,٧
بريطانيا	٣١,٢

ب- إيطاليا.

أ- فرنسا.

د- بريطانيا.

ج- إسبانيا

١١ - يُعد المعلم الواضح في الصورة مثلاً على مقومات السياحة البشرية في المجال:



ب- الديني .

أ- التاريخي.

د- الاقتصادي.

ج- الثقافي.

١٢- في الصورة المقابلة ، أحد المتاحف الأمريكية المتخصصة في مجال:



ب- الصناعة.

أ- التاريخ الطبيعي.

د- الرياضة.

ج- الفنون.

امتحان مادة : الجغرافيا الاقتصادية – للصف لحادي عشر - للعام الدراسي ١٤٤٤هـ - ٢٠٢٢/٢٠٢٣ م
الدور الثاني- الفصل الدراسي الثاني

السؤال الثاني: أجب عن جميع الأسئلة الآتية

أولاً: أ- عرف المصطلحات التالية:

١-الحكومة الالكترونية.

.....
.....

٢- المنشأة السياحية.

.....

ب- اذكر اثنين لكل من:

١- اختصاصات منظمة التجارة العالمية.

أ-

ب-

٢- الطرق البرية للتبادل التجاري في العالم القديم.

أ-

ب-

ثانياً: الصورة التي أمامك تعبر عن المدونة العالمية لأخلاقيات السياحة .. أجب عما يلي:

١- اذكر الهدف من إصدار وثيقة المدونة. .

.....

٢- المدينة التي صدرت منها وثيقة المدونة هي:

نيويورك

سانتياغو

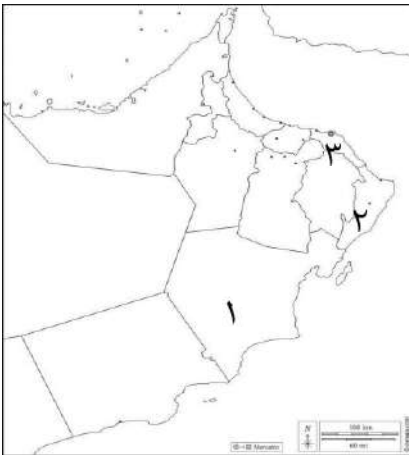
اختر الصواب بوضع علامة √

٣- وضح الجوانب التي تركز عليها المبادئ الأخلاقية للمدونة.

.....



Global Code of Ethics
for Tourism
For Responsible Tourism



ثالثاً: ادرس خريطة سلطنة عُمان، ثم اجب عما يلي:

١. ظلل المحافظة التي يسود فيها المناخ الموسمي.

٢. رقم المحافظة التي توجد بها حديقة السليل الطبيعية (....)

٣. رقم المحافظة التي توجد بها محمية السرين (....)

السؤال الثالث: أجب عن جميع الأسئلة الآتية

أولاً: أ- "نظم الفريق السياحي رحلة جوية من مدينة مسقط إلى مدينة نيودلهي الهندية وبعد الوصول إلى المدينة ، شاهدوا أهم المعالم السياحية كبوابة الهند والمتحف الوطني وقلعة لال التي تتميز بها المدينة، كما زاروا عددا من المدن الهندية" في ضوء ذلك حدد في الجدول التالي مايلي :-

.....	الوجهة	معايير تصنيف السياحة
.....	الشكل التنظيمي	
.....	المعالم	
.....	وسيلة النقل	

ب- صنّف العبارات التالية التي توضح مفهوم السياحة الداخلية حسب معايير الدول:
(رحلة تنزه تبعد عن بيئته ١٦٠ كم - رحلة تنزه تبعد عن بيته ٨٠ كم- يقيم ليلة في المكان).

.....	سلطنة عُمان
.....	الولايات المتحدة الأمريكية

تابع السؤال الثالث:

ثانياً: الشكل المقابل يوضح إحدى التقنيات المستخدمة في مجال الاتصال، ادرسها ثم اجب عن الأسئلة التالية:

١- ما اسم التقنية ؟



.....

٢- ما أثر استخدامها في مجال الاتصالات ؟

.....
.....

ثالثاً: الصورة المقابلة توضح إحدى وسائل النقل ، ادرسه جيدا ثم اجب عما يلي:

١- ما نوع النقل الموضح في الصورة؟



.....

٢- اكتب ميزة واحدة لهذا النوع من النقل؟

.....

٣. أكبر قارات العالم من حيث استخدام هذا النوع من النقل:

أمريكا الشمالية وأوروبا

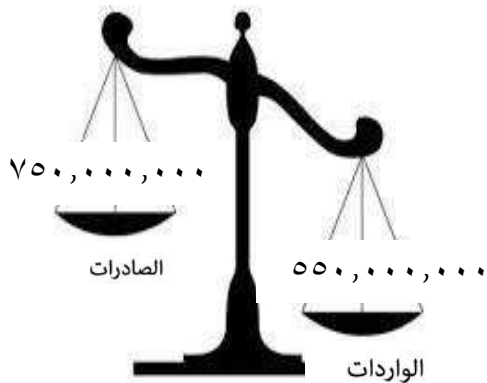
أمريكا الجنوبية وأوروبا

اختر الصواب بوضع علامة √

السؤال الرابع: أجب عن جميع الأسئلة الآتية

أولاً: الشكل يوضح الميزان التجاري لإحدى الدول .. أجب عما يلي:-

١. ما المقصود بالميزان التجاري؟



٢. من خلال الشكل ، كم يبلغ الميزان التجاري للدولة ؟

٣. أيهما تفضل الميزان التجاري:

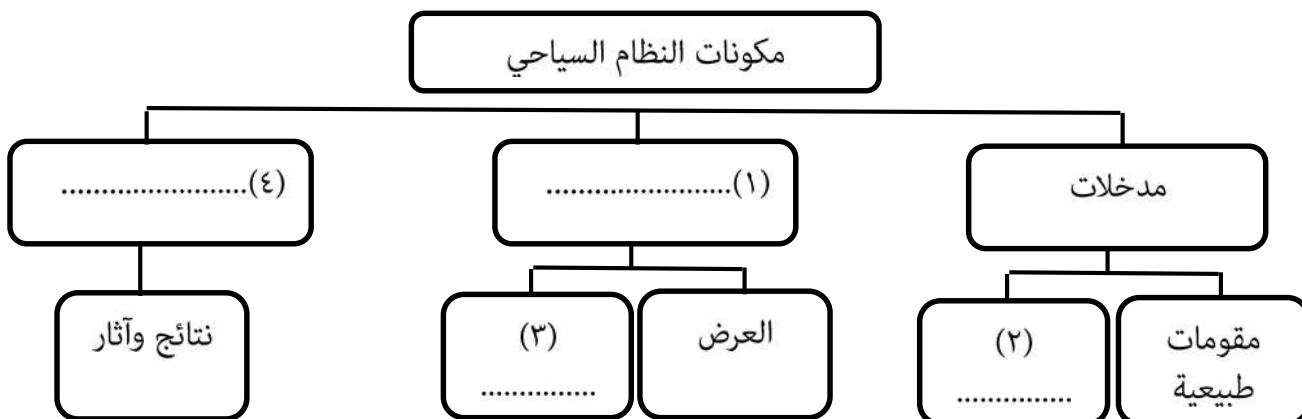
السالب الموجب

فسر /

ثانياً: قارن بين النقل الجوي والنقل بالأنابيب من حيث:-

أوجه المقارنة	النقل بالأنابيب	النقل الجوي
تكلفة النقل
طبيعة المواد المنقولة

ثالثاً: أكمل المخطط التالي الذي يوضح مكونات النظام السياحي:-



امتحان مادة : الجغرافيا الاقتصادية – للصف لحادي عشر - للعام الدراسي ١٤٤٤هـ - ٢٠٢٢/٢٠٢٣م
الدور الثاني- الفصل الدراسي الثاني

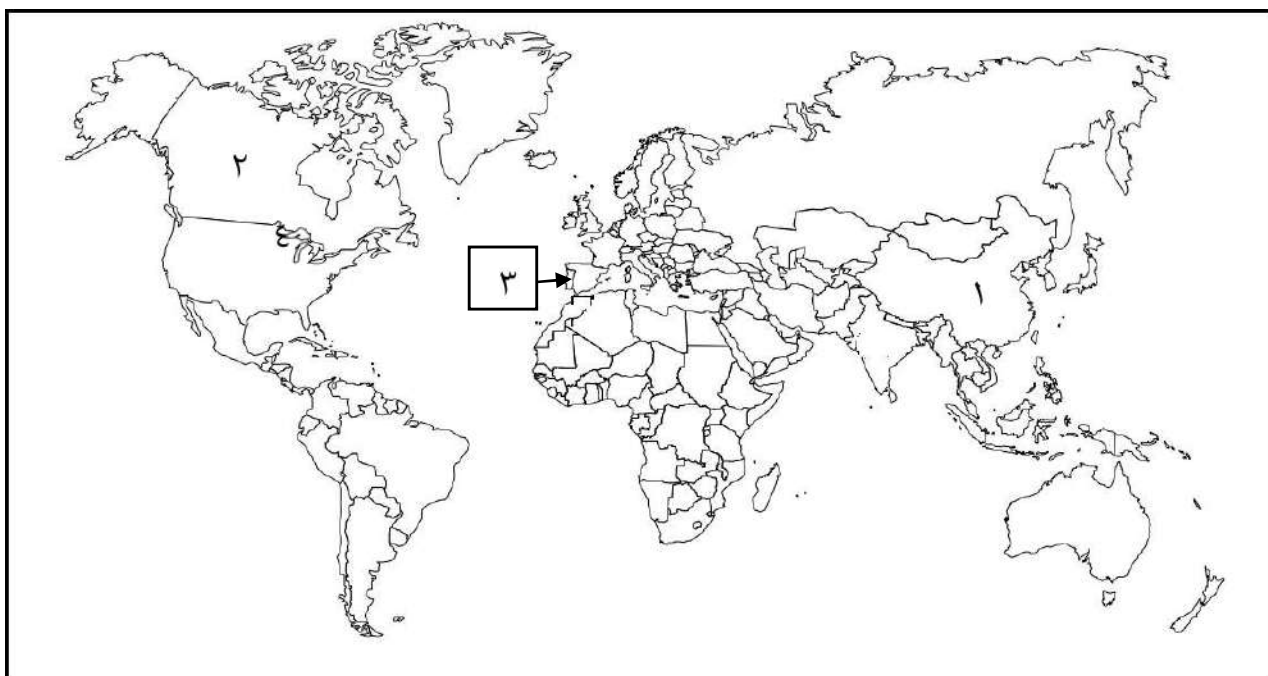
السؤال الخامس: أجب عن جميع الأسئلة الآتية

أولاً: صنف تسهيلات الامدادات اللوجستية في الجدول أدناه:

(المطاعم - الأثاث - الصيدليات - وسائل الاتصال)

.....	الخدمات التجارية
.....	الخدمات اليومية
.....	الخدمات الصحية
.....	الراحة

ثانياً: ادرس خريطة العالم، ثم أجب عما يلي:-



١- الرقم الذي يشير إلى الدولة التي طبقت نظام الحاسبات السياحية (.....).

٢- برأيك ما سبب توجه الأوروبيين إلى الدولة المشار إليها بالرقم (٣).

.....

٣- الرقم الذي يشير للدولة التي يوجد بها أكبر شبكة نقل سكك الحديدية (.....).

٤- ظلل باستخدام الرمز [] الدولة التي عُقد فيها المؤتمر العالمي الثالث للسياحة الجيولوجية

عام ٢٠١١م.

امتحان مادة : الجغرافيا الاقتصادية – للصف لحادي عشر - للعام الدراسي ١٤٤٤هـ - ٢٠٢٢/٢٠٢٣ م
الدور الثاني- الفصل الدراسي الثاني

تابع السؤال الخامس:

ثالثاً: أ- وضح النتائج المترتبة على أثر النشاط السياحي في البيئة الجبلية:

النشاط السياحي	تأثيره
استخدام الممرات الجبلية في جبال الهملايا.
مرور السيارات في مراعي جبال ظفار
سير المركبات بسرعة بطيئة في الجبال.

ب- يبلغ الدخل الشهري لسالم ١٥٠٠ ريال عماني ، بينما يبلغ دخل فهد الشهري ٣٥٠ ريال عماني، أيهما يفوق الآخر في الطلب السياحي ؟

سالم

اختر الصواب بوضع علامة √

محمد

فسر إجابتك /

انتهت الأسئلة



نموذج إجابة امتحان الصف الحادي عشر
للعام الدراسي ١٤٤٤ هـ - ٢٠٢٢/٢٠٢٣ م
الدور الثاني - الفصل الدراسي الثاني

المادة: الجغرافيا الاقتصادية الدرجة الكلية: (٦٠) درجة.
تنبيهه: نموذج الإجابة في (٥) صفحات.

أولاً: إجابة السؤال الموضوعي:

إجابة السؤال الأول						
المستوى المعرفي	المخرج التعليمي	الصفحة	الدرجة	الإجابة	البديل الصحيح	المفرد ة
		١٠٦	١	GIS	ب	١
		١٨٣	١	الاجتماعية	د	٢
		١١٣	١		ج	٣
		١٢٢	١	اختراع الهاتف - اختراع أول كمبيوتر - اختراع الألياف البصرية - اختراع الانترنت	ج	٤
		١٣٤	١		ب	٥
		١٧٥	١	الطلب السياحي	د	٦
		١٤٢	١	صحار	د	٧
		١٨٦	١	الدقم	أ	٨
		١٦٩	١	تسلق الجبال واستكشاف الكهوف	أ	٩
		١٥٠	١	اسبانيا	ج	١٠
		١٥٨	١	الديني	ب	١١
		١٨٧	١	التاريخ الطبيعي	أ	١٢
		١٢ درجة		المجموع		

(٢)
 نموذج إجابة امتحان الصف الحادي عشر
 للعام الدراسي ١٤٤٤ هـ - ٢٠٢٢/٢٠٢٣ م
 الدور الثاني - الفصل الدراسي الثاني
 ثانيا: إجابة الأسئلة المقالية

الدرجة الكلية: (١٢) درجة				إجابة السؤال الثاني		
المستوى	المخرج التعليمي	الصفحة	الدرجة	الإجابة الصحيحة	الم فردة	الجزئية
		١٢٦	١	١- هي استخدام تكنولوجيا المعلومات والاتصالات فيما تقدمه الحكومة من خدمات للفرد والمجتمع	أ	
		١٧٢	١	٢- الأماكن المهيئة لاستقبال السياح وتقديم الخدمات لهم		
		١٣١ ١٣٢	٢	إدارة الاتفاقيات التجارية / مساعدة الدول النامية في المواضيع المتعلقة بالسياسات التجارية/ فض المنازعات ذات الصلة التجارية/ مراجعة السياسات القومية المتعلقة بالتجارة / التعاون مع المنظمات الدولية الأخرى (يكتفى باثنين)	ب	أولاً
		١٠٤ - ١٠٥	٢	طرق القوافل القديمة في قارة آسيا/ طرق القوافل العربية / طرق العنبر (يكتفى بذكر اثنين)		
		١٨٥	١	التقليل أو الحد من الآثار السلبية التي تنتج عنها السياحة	١	ثانياً
		١٨٥	١	سانتياغو	٢	
		١٨٥	١	المبادئ الأخلاقية التي تحكم الجوانب الاقتصادية والبيئية والاجتماعية لصناعة السياحة على مستوى العالم	٣	
		١٦٨	١	 تظليل محافظة ظفار	١	ثالثاً
		١٦٤	١	٢	٢	
		١٦٤	١	٣	٣	
		١٢ درجة		المجمع الكلي		

(٣)

نموذج إجابة امتحان الصف الحادي عشر
للعام الدراسي ١٤٤٤ هـ - ٢٠٢٢/٢٠٢٣ م
الدور الثاني - الفصل الدراسي الثاني
تابع ثانياً: إجابة الأسئلة المقالية:

الدرجة الكلية: (١٢) درجة				إجابة السؤال الثالث			
المستوى المعرفي	المخرج التعليمي	الصفحة	الدرجة	الإجابة الصحيحة		المفردة	الجزئية
		١٥٢	٤	الوجهة	الوجهة	أ	أولاً
				الوجهة	الوجهة		
				الوجهة	الوجهة		
				الوجهة	الوجهة		
		١٤٤	٢	مفهوم السياحة الداخلية	المعيار	أ	أولاً
				يقوم برحلة تنزه تبعد عن بيته ١٦٠ كم	سلطنة عُمان		
				يقوم برحلة تنزه تبعد عن بيته ١٦٠ كم	الولايات المتحدة الأمريكية		
		١٢٤	١	الألياف البصرية		١	ثانياً
		١٢٤	٢	أ. زيادة عدد المكالمات ب. تحسين نوعية الاتصال ج. الاتصالات أكثر نقاوة وسرعة . (يكتفى باثنين فقط)		٢	
		١٠٨	١	السكك الحديدية		١	
		١٠٨	١	١. قدرتها على نقل الحمولة الثقيلة ولمسافات طويلة وبسرعة تفوق الكثير من وسائل النقل الأخرى		٢	ثالثاً
		١٠٨	١	أمريكا الشمالية وأوروبا		٣	
		١٢	الدرجة الكلية				

(٤)

نموذج إجابة امتحان الصف الحادي عشر
للعام الدراسي ١٤٤٤ هـ - ٢٠٢٢/٢٠٢٣ م
الدور الثاني - الفصل الدراسي الثاني

تابع ثانياً: إجابة الأسئلة المقالية:

الدرجة الكلية: (١٢) درجة				إجابة السؤال الرابع											
المستوى المعرفي	المخرج التعليمي	الصفحة	الدرجة	الإجابة الصحيحة	المفردة	الجزئية									
		١٢٨	١	هو الفرق بين قيمة زادت الدولة وقيمة صادراتها خلال فترة زمنية معينة	١	أولاً									
			١	الصادرات - الواردات = ٧٥٠,٠٠٠,٠٠٠ - ٥٥٠,٠٠٠,٠٠٠ = ٢٠٠,٠٠٠,٠٠٠	٢										
			١	موجب	٣										
			١	بسبب ارتفاع قيمة الصادرات واستغلال عوائد زيادة الفائض في برامج التنمية .											
		١١١ - ١١٧	٤	<table border="1"> <tr> <td>النقل الجوي</td> <td>النقل بالأنابيب</td> <td>أوجه المقارنة</td> </tr> <tr> <td>مكلف جداً</td> <td>أرخص أنواع النقل</td> <td>تكلفة النقل</td> </tr> <tr> <td>مواد ذات قيمة عالية مثل المجوهرات والالكترونيات والأجهزة الدقيقة والمواد سريعة التلف كالفواكة والخضروات</td> <td>المياه / النفط / الغاز الطبيعي</td> <td>طبيعة المواد المنقولة</td> </tr> </table>	النقل الجوي	النقل بالأنابيب	أوجه المقارنة	مكلف جداً	أرخص أنواع النقل	تكلفة النقل	مواد ذات قيمة عالية مثل المجوهرات والالكترونيات والأجهزة الدقيقة والمواد سريعة التلف كالفواكة والخضروات	المياه / النفط / الغاز الطبيعي	طبيعة المواد المنقولة		ثانياً
النقل الجوي	النقل بالأنابيب	أوجه المقارنة													
مكلف جداً	أرخص أنواع النقل	تكلفة النقل													
مواد ذات قيمة عالية مثل المجوهرات والالكترونيات والأجهزة الدقيقة والمواد سريعة التلف كالفواكة والخضروات	المياه / النفط / الغاز الطبيعي	طبيعة المواد المنقولة													
		١٦٦	٤	<p>مكونات النظام</p> <pre> graph TD A[مكونات النظام] --> B[مخرجات (٤)] A --> C[عمليات (١)] A --> D[مدخلات] B --> E[نتائج وآثار] C --> F[الطلب (٣)] C --> G[العرض] D --> H[مقومات بشرية (٢)] D --> I[مقومات طبيعية] </pre>		ثالثاً									
	١٢	الدرجة الكلية													

(٥)

نموذج إجابة امتحان الصف الحادي عشر
للعام الدراسي ١٤٤٤ هـ - ٢٠٢٢/٢٠٢٣ م
الدور الثاني - الفصل الدراسي الثاني
تابع ثانياً: إجابة الأسئلة المقالية:

الدرجة الكلية: (١٢) درجة				إجابة السؤال الخامس			
المستوى	المذرج	الصفحة	الدرجة	الإجابة الصحيحة		المفردة	الجزئية
		١٧٣	٢ لكل مفردة نصف درجة	وسائل الاتصال	الخدمات التجارية		أولاً
				مطاعم	الخدمات اليومية		
				صيدليات-	الخدمات الصحية		
				الأثاث	الراحة		
		١٤٨	١	٢ (كندا)		١	ثانياً
		١٦٧	٢	بسبب قرب المناطق المرسله للسياح من المناطق المستقبله، ولسهولة الوصول إليها بتكاليف قليلة.		٢	
		١٠٩	١	الولايات المتحدة الأمريكية		٣	
		١٦٢	١	تظليل سلطنة عُمان		٤	
		١٨١ - ١٨٢	٣	تأثيره	النشاط السياحي		ثالثاً
				التعرية والانهيئات الأرضية	استخدام الممرات الجبلية في جبال الهملايا		
				القضاء على الحشائش وتدهور المراعي	مرور السيارات في مراعي جبال ظفار		
				تلوث التربة بالمواد السامة (الأكاسيد)	سير المركبات بسرعة بطينة في الجبال		
		١٧٥	٢	سالم كلما زاد دخل الفرد ساعد على زيادة الطلب على الرحلات السياحية			
		١٢ درجة		الدرجة الكلية			

نهاية نموذج الإجابة