

## تم تحميل هذا الملف من موقع المناهج العمانية



## نماذج أسئلة قصيرة بمحافظة مسقط

موقع فايلاتي ← المناهج العمانية ← الصف الحادي عشر ← جغرافيا ← الفصل الأول ← ملفات متنوعة ← الملف

تاريخ إضافة الملف على موقع المناهج: 2024-10-16 22:38:31

ملفات اكتب للمعلم اكتب للطالب | الاختبارات الكترونية | اختبارات | حلول | عروض بوربوينت | أوراق عمل  
منهج انجليزي | ملخصات و تقارير | مذكرات و بنوك | الامتحان النهائي للمدرس

المزيد من مادة  
جغرافيا:

## التواصل الاجتماعي بحسب الصف الحادي عشر



صفحة المناهج  
العمانية على  
فيسبوك

الرياضيات

اللغة الانجليزية

اللغة العربية

التربية الاسلامية

المواد على تلغرام

## المزيد من الملفات بحسب الصف الحادي عشر والمادة جغرافيا في الفصل الأول

اختبار قصير أول بمحافظة مسقط

1

اختبار قصير أول بمحافظة شمال الباطنة

2

حصاد ثاني لدرس الصناعة أنواعها ومقوماتها

3

حصاد الدرس الخامس الصناعة أنواعها ومقوماتها

4

حصاد الدرس الرابع مصادر الطاقة وإدارتها

5

وزارة التربية والتعليم

المديرية العامة بمحافظة مسقط

مدرسة زبيدة أم الأمين (10-12)

م2024-2025

السؤال القصير(1) في مادة الجغرافيا الاقتصادية للصف الحادي عشر

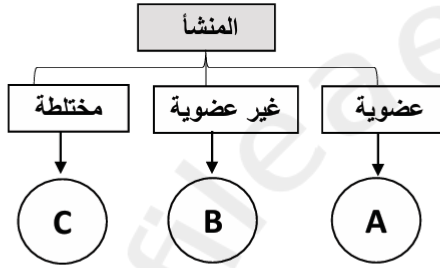
الاسم/.....

الصف/.....

التاريخ/.....

السؤال الأول : اختر الإجابة الصحيحة من بين البدائل :

1. الجدول الذي يمثل الموارد الطبيعية حسب المخطط المقابل :



الحيوانات	A
التربة	B
الهواء	C

ب.

الهواء	A
الحيوانات	B
التربة	C

أ.

الحيوانات	A
الهواء	B
التربة	C

د.

التربة	A
الحيوانات	B
الهواء	C

ج.

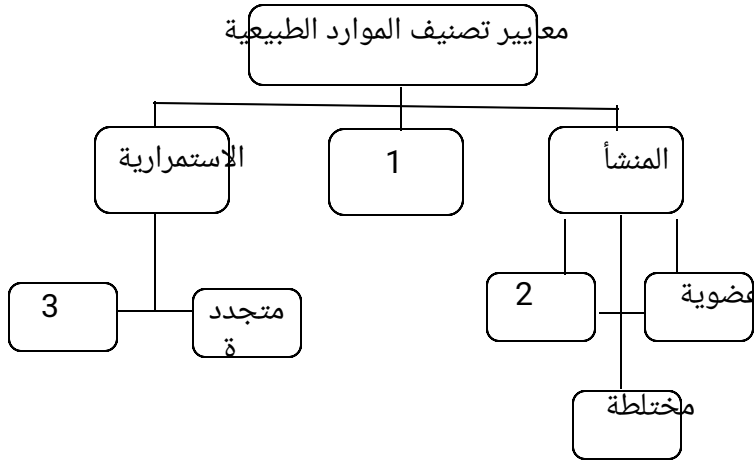
2. المورد الطبيعي الذي يتجدد بسرعة خلال فترة زمنية قصيرة:

د.الفحم

ج.أشجار الغابات

ب.التربة

أ.الثروة الحيوانية



السؤال الثاني: أمامك شكل

ادرسه ثم جيدا ثم اجيب عن الأسئلة التي تليه:

1. صنف مورد (الألماس) وفق العنصر المشار اليه بالرقم 1) ( )

.....

2. اكمل البيانات الواردة بالشكل:

(2):.....

(3):.....

3. اعط مثلا على العنصر المشار اليه بالرقم 4

4 .....  
 2025 2024

الدرجة:

وزارة التربية والتعليم

المديرية العامة بمحافظة مسقط

مدرسة زبيدة أم الأمين (10-12)

م 2024-2025

سلطنة عمان

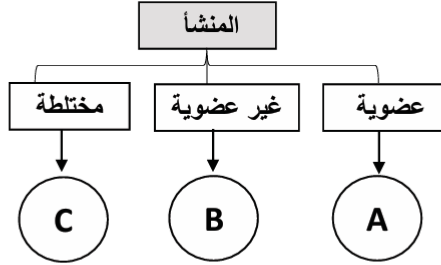
السؤال القصير)1( في مادة الجغرافيا الاقتصادية للصف الحادي عشر

الاسم/.....

...../الصف

...../التاريخ

**السؤال الأول : اختر الإجابة الصحيحة من بين البدائل :**



1. الجدول الذي يمثل الموارد الطبيعية حسب المخطط المقابل :

الحيوانات	A
التربة	B
الهواء	C

ب.

الهواء	A
الحيوانات	B
التربة	C

أ.

الحيوانات	A
الهواء	B
التربة	C

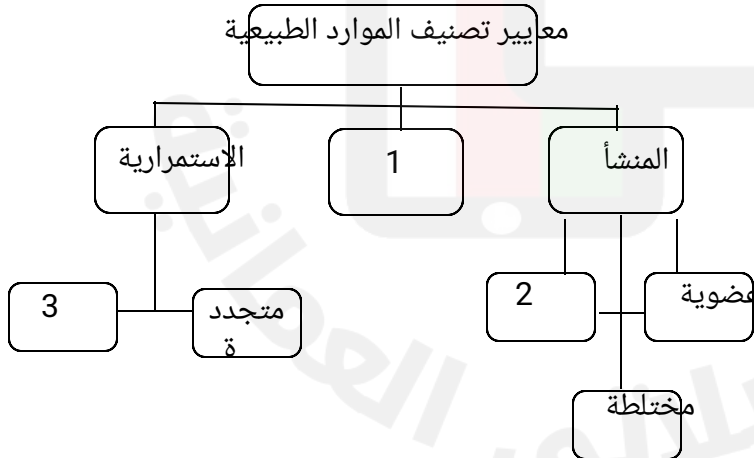
د.

التربة	A
الحيوانات	B
الهواء	C

ج.

2. المورد الطبيعي الذي يتجدد ببطء خلال فترة زمنية طويلة:

أ. الثروة الحيوانية      ب. التربة      ج. الماء      د. الأسماك



**السؤال الثاني: أمامك شكل**

ادرسه ثم جيدا ثم اجيبي عن الأسئلة التي تليه:

4. صنف مورد (اليورانيوم) وفق العنصر المشار اليه بالرقم 1) (

.....

5. اكمل البيانات الواردة بالشكل:

(2):.....

(3):.....

6. اعط مثلا على العنصر المشار اليه بالرقم 4

4

.....

