

تم تحميل هذا الملف من موقع المناهج العمانية



بوربوينت ملخص شرح درس قياسات الزوايا

موقع فايلاتي ← المناهج العمانية ← الصف السابع ← رياضيات ← الفصل الأول ← ملخصات وتقارير ← الملف

تاريخ إضافة الملف على موقع المناهج: 11:03:44 2024-12-19

ملفات اكتب للمعلم اكتب للطالب | اختبارات الكترونية | اختبارات | حلول | عروض بوربوينت | أوراق عمل
منهج انجليزي | ملخصات وتقارير | مذكرات وبنوك | الامتحان النهائي للمدرس

المزيد من مادة
رياضيات:

التواصل الاجتماعي بحسب الصف السابع



صفحة المناهج
العمانية على
فيسبوك

الرياضيات

اللغة الانجليزية

اللغة العربية

التربية الاسلامية

المواد على تلغرام

المزيد من الملفات بحسب الصف السابع والمادة رياضيات في الفصل الأول

بوربوينت تمارين على درس اختيار وحدات القياس المناسبة

1

بوربوينت تمارين على درس الضرب في 0.1 أو 0.01 والقسمة عليهما

2

بوربوينت تمارين على درس التقريب

3

بوربوينت تمارين على درس ترتيب الأعداد العشرية والكسور العشرية

4

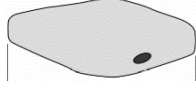
بوربوينت تمارين على درس كتابة المعادلات وحلها

5

4 خلية نباتية قطرها 3.7 um أوجد مقدار تكبيرها ؟



5 احسب القطر الحقيقي للخلية الموضحة إذا علمت أنها مكبرة 3000 X ؟



1 درس مقدار التكبير

1 عرف مقدار التكبير؟

2 القانون

مقدار التكبير =
= M

3- التحويل إلى um .

6 كيفية أخذ القياس المشاهد (I) ؟

- 1
-2

cm

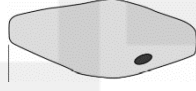
mm

um

4 خلية نباتية قطرها 3.7 um أوجد مقدار تكبيرها ؟



5 احسب القطر الحقيقي للخلية الموضحة إذا علمت أنها مكبرة 3000 X ؟



1 درس مقدار التكبير

1 عرف مقدار التكبير؟

2 القانون

مقدار التكبير =
= M

3- التحويل إلى um .

6 كيفية أخذ القياس المشاهد (I) ؟

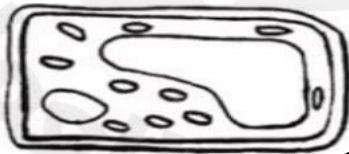
- 1
-2

cm

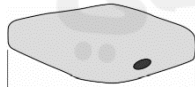
mm

um

4 خلية نباتية قطرها 3.7 um أوجد مقدار تكبيرها ؟



5 احسب القطر الحقيقي للخلية الموضحة إذا علمت أنها مكبرة 3000 X ؟



1 درس مقدار التكبير

1 عرف مقدار التكبير؟

2 القانون

مقدار التكبير =
= M

3- التحويل إلى um .

6 كيفية أخذ القياس المشاهد (I) ؟

- 1
-2

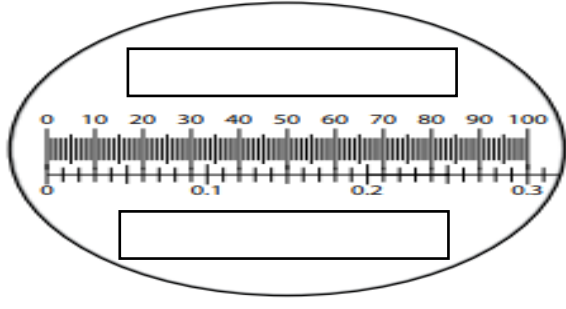
cm

mm

um

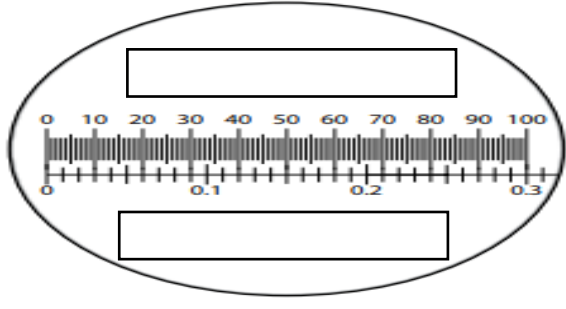
حساب مقدار التكبير

- 1- عرف مقياس شبكة العدسة العينية ؟
- 2- عرف مقياس المنضدة ؟
- 3- اكتب المصطلحين على الصورة ؟



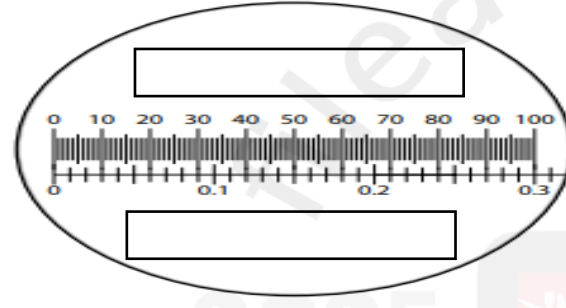
حساب مقدار التكبير

- 1- عرف مقياس شبكة العدسة العينية ؟
- 2- عرف مقياس المنضدة ؟
- 3- اكتب المصطلحين على الصورة ؟



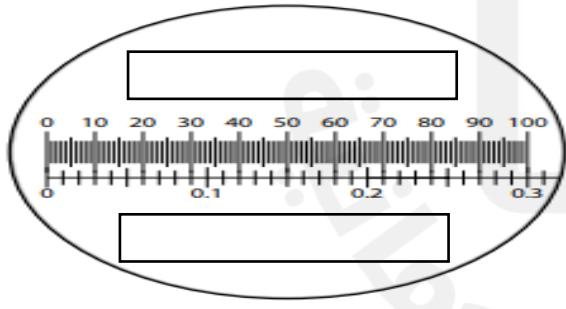
حساب مقدار التكبير

- 1- عرف مقياس شبكة العدسة العينية ؟
- 2- عرف مقياس المنضدة ؟
- 3- اكتب المصطلحين على الصورة ؟



حساب مقدار التكبير

- 1- عرف مقياس شبكة العدسة العينية ؟
- 2- عرف مقياس المنضدة ؟
- 3- اكتب المصطلحين على الصورة ؟



حساب مقدار التكبير

- 1- عرف مقياس شبكة العدسة العينية ؟
- 2- عرف مقياس المنضدة ؟
- 3- اكتب المصطلحين على الصورة ؟

