

تم تحميل هذا الملف من موقع المناهج العمانية



دفترتي سر تميزي

موقع فايلاتي ← المناهج العمانية ← الصف الحادي عشر ← حضارة اسلامية ← الفصل الأول ← ملفات متنوعة ← الملف

تاريخ إضافة الملف على موقع المناهج: 10:33:43 2024-12-04

ملفات اكتب للمعلم اكتب للطالب الاختبارات الكترونية الاختبارات ا حلول اعروض بوربوينت ا أوراق عمل
منهج انجليزي ا ملخصات وتقارير ا مذكرات وبنوك الامتحان النهائي للمدرس

المزيد من مادة
حضارة اسلامية:

التواصل الاجتماعي بحسب الصف الحادي عشر



صفحة المناهج
العمانية على
فيسبوك

الرياضيات

اللغة الانجليزية

اللغة العربية

التربية الاسلامية

المواد على تلغرام

المزيد من الملفات بحسب الصف الحادي عشر والمادة حضارة اسلامية في الفصل الأول

الشخصيات التاريخية وأبرز أعمالها

1

حصاد دروس المنهج

2

سؤال قصير ثاني نموذج ثاني

3

سؤال قصير ثاني بمحافظة الداخلية

4

اختبار قصير ثاني بمحافظة البريمي

5

سلطنة عمان
وزارة التربية والتعليم
المديرية العامة للتربية والتعليم بمحافظة شمال الباطنة
مدرسة عاتكة للتعليم الأساسي
أسرة الدراسات الاجتماعية
١٢-١٠

رؤية المدرسة
غايتنا التميز
بروح عالية
ومشاركة
فاعلة



ملتزمون بتحقيق رؤيتنا ، الإجابة في موادنا

دفترتي

سنة تقيزي

الحضارة الإسلامية

الصف الحادي عشر / الفصل الدراسي الأول



اسم الطالب :

الصف :

إعداد الأستاذة : سليمة بنت علي الهنائية

٢٠٢٣-٢٠٢٤ م

العام الدراسي

مجالات البناء الحضاري للمجتمع الاسلامي

فرق بين مفهوم الحضارة لغة واصطلاحاً

.....
.....
.....
.....
.....

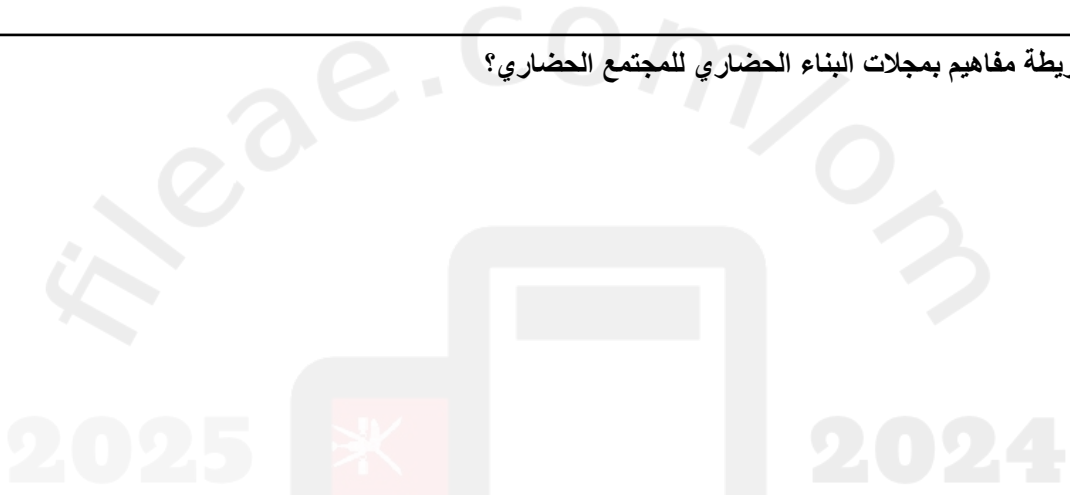
فسر العبارة: تعد الهجرة النبوية خطوة مهمة في البناء الحضاري للمجتمع الاسلامي.

.....
.....
.....
.....
.....
.....

عرف الحضارة الاسلامية.

.....
.....

صمم خريطة مفاهيم بمجالات البناء الحضاري للمجتمع الحضاري؟



وضح أهم الملامح السياسية للدولة الاسلامية في العهد النبوي؟

.....
.....
.....
.....
.....

فسر أصبح المسجد مركز عبادة وقيادة؟

.....
.....
.....
.....

اشرح العبارة: أصبح نظام الشورى منطلقا لنظام الحكم في الدولة؟

.....

.....

.....

.....

اعط نبذة عن لجان التوفيق والمصالحة؟

.....

.....

.....

.....

أعط أمثلة على أبرز ملامح المجال الاجتماعي للبناء الحضاري.

- (١)
- (٢)
- (٣)

اعط أمثلة على أبرز ملامح الاقتصاد الاسلامي؟

- (١)
- (٢)
- (٣)
- (٤)

حدد موارد بيت مال المسلمين

- (١)
- (٢)
- سم اثنين من الممارسات الاقتصادية التي تورث الضغينة؟
- (١)
- (٢)

عدد الاسس التي وضعها رسول الله صل الله عليه وسلم للشؤون العسكرية.

- (١)
- (٢)
- (٣)
- (٤)

وضح الدروس المستفادة من يوم أحد.

.....

.....

.....

.....

دلل بموقف قام به النبي الكريم في غزوة بدر يدل على أهمية التعليم .

.....

.....

.....

.....



أصول الحضارة الإسلامية وخصائصها

وضح أهم المبادئ والاسس التي جاء بها الاسلام.

(١)

(٢)

(٣)

صمم خريطة مفاهيم بأصول الحضارة الإسلامية.

سم النتائج المترتبة على حث الاسلام للإنسان على التأمل والتفكير في خلق السماوات والأرض.

(١)

(٢)

وضح اعتبار الاسلام الانسان من أشرف مخلوقات الله بفضل ما اودعه الله من عقل.

وضح أهمية اللغة العربية.

أعط أمثلة على الحضارات التي تفاعلت معها الحضارة الإسلامية.

(١)

(٢)

(٣)

(٤)

أعط نيذة تاريخية عن معرض رسالة الإسلام.

علل اتصال الحضارة الإسلامية بالحضارة الاغريقية.

(١)

(٢)

علل اتصال المسلمون بالحضارة البيزنطية.

ألف مفهوما للحضارة الهلينستية موضحة فيه كيف تكونت وأوجه الاستفادة منها.

فسر العبارة كان العرب على اتصال بالحضارة الفارسية قبل ظهور الاسلام.

اذكر جوانب استفادة الحضارة الإسلامية من الحضارة البيزنطية.

اكتب نبذة عن الحضارة الفارسية موضحة فيها العصر الذي استفاد فيه المسلمون منها / جوانب الاستفادة / أهم دولها .

اعط نبذة عن الحضارة الهندية موضحة فيه: سبب الاتصال بها - جوانب الاستفادة منها.

أعط أمثلة على الحضارات القديمة التي استفادت منها الحضارة الإسلامية.

.....

.....

.....

ادرس الخريطة التالية ... ثم اجب على ما يليها من أسئلة:



١. ضع دائرة حول موقع الحضارة الاغريقية.

٢. سم الحضارة التي استفاد منها المسلمون في الحركة العلمية واتصلوا بها عن طريق التجارة.

٣. ظلل المنطقة التي فتحها المسلمون على يد القائد محمد بن القاسم الثقفي.

٤. استخرج من الخريطة ثلاثة من الحضارات التي استفادت منها الحضارة الإسلامية.

.....

عدد وسائل تفاعل الحضارة الإسلامية مع الحضارات الاخرى .

- ١)
- ٢)
- ٣)
- ٤)

عرف الامصار وأعطي أمثلة عليها.

.....

.....

اعط أمثلة على المراكز الثقافية القديمة.

.....

.....

اعط أمثلة على الحضارات القديمة التي استفادت منها الحضارة الإسلامية.

.....

.....

ادرس الخريطة التالية ثم اجب على ما يليها من أسئلة :



١) سم المصطلح الذي يطلق على المدن الإسلامية المحاطة بدائرة.

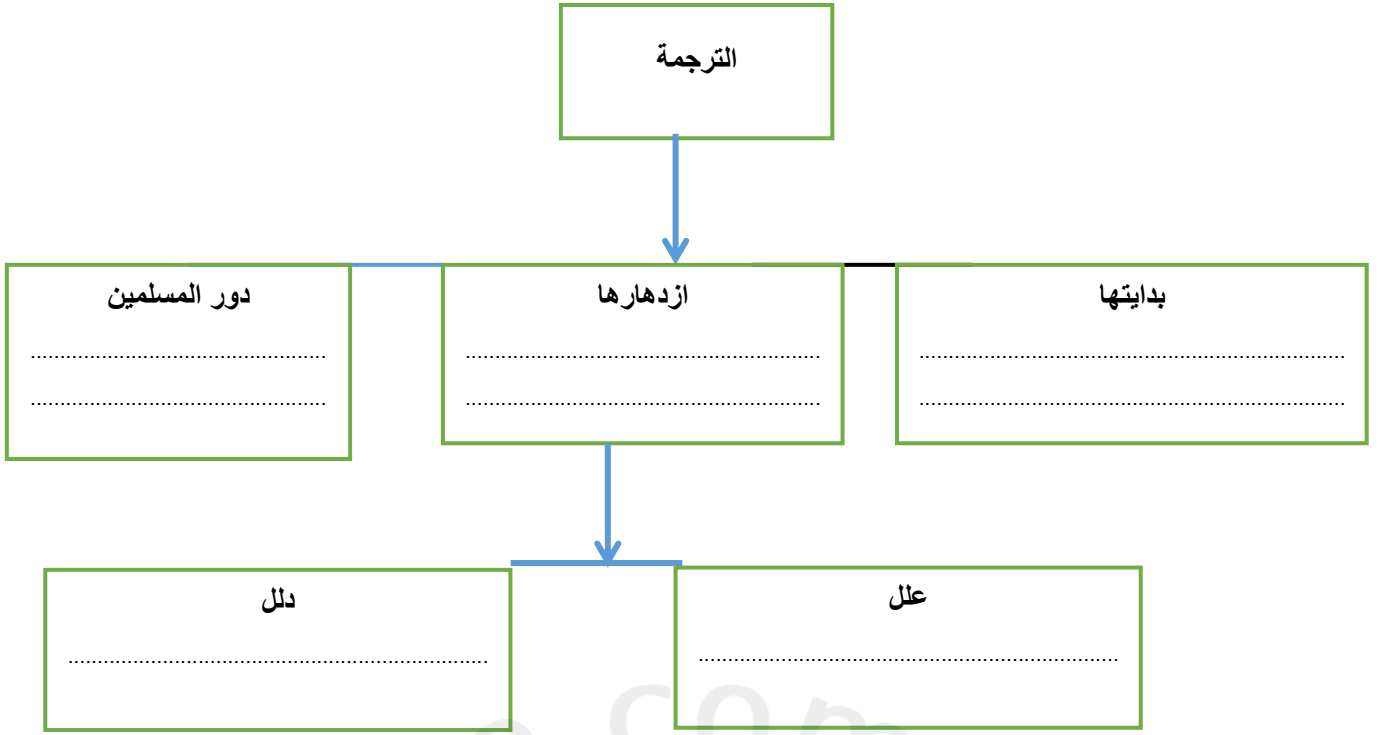
.....

.....

.....

٢) استخرج من الخريطة عاصمة الدولة البيزنطية.

٣) ضع مربع على اثنين من المراكز الثقافية القديمة.



أكمل خريطة المفاهيم التالية :



وضح المقصود بأن الحضارة الإسلامية حضارة شاملة ومتوازنة.

.....

.....

.....

.....

.....

.....

.....

.....

.....

.....

فسر تعتبر الحضارة الإسلامية من أعظم الحضارات التي عرفها العالم؟

.....

.....

.....

.....

.....

دون اجابة النشاط رقم ٥ ص ٢٧ بالكتاب المدرسي.

(أ)

.....
.....
.....

(ب)

.....
.....
.....



عوامل ازدهار الحضارة الإسلامية

اكمل المخطط التالي:

العهد الراشدي	العهد الاموي	العباسي الاول	العباسي الثاني	عهد رسول الله صل الله عليه وسلم

مراحل
الحضارة
الإسلامية

صمم خريطة مفاهيم بعوامل ازدهار الحضارة الإسلامية.

اكمل الجدول التالي:

أهم الانجازات	العصر	ال خليفة
		أبو بكر الصديق
		عمر بن الخطاب
		عثمان بن عفان
		عبد الملك بن مروان
		الوليد بن عبد الملك
		عمر بن عبد العزيز
		أبو جعفر المنصور
		المأمون
		سليمان القانوني

اربط بين دور الازدهار الاقتصادي والاستقرار السياسي وازدهار الحضارة الاسلامية.

.....

.....

.....

.....

.....

وضح دور الدين الاسلامي في ازدهار الحضارة
الاسلامية.

.....

.....

.....

.....

2025

2024

تتبع كيفية اختيار الخلفاء الراشدين الاربعة.

.....
.....
.....
.....
.....
.....
.....
.....
.....

عرف الخلافة.

.....
.....
.....
.....
.....
.....
.....

وضح كيفية انتهاء الخلافة الراشدة.

.....
.....
.....
.....

عرف بشخصية الماوردي.

.....
.....
.....
.....
.....
.....

عرف الوزارة.

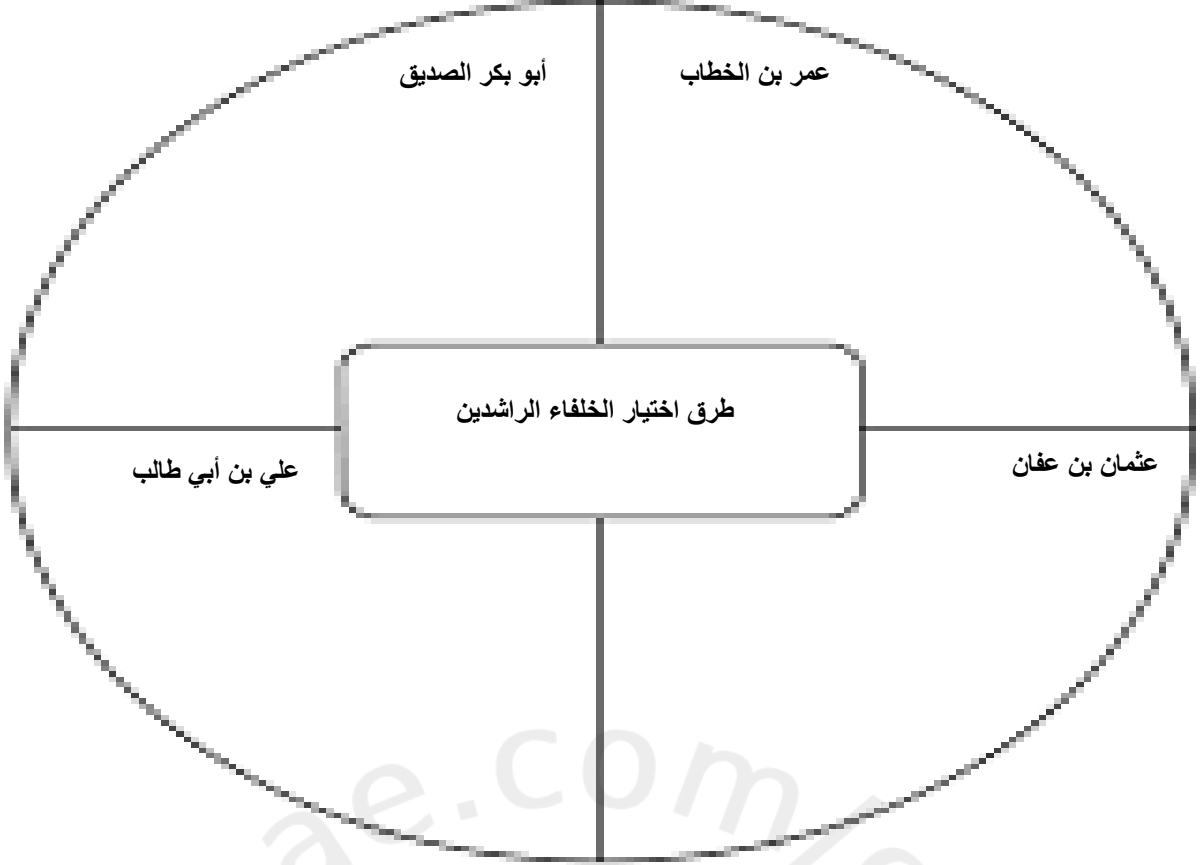
دلل على ذكر الوزارة في القرآن الكريم.

.....
.....
.....
.....
.....
.....

.....
.....
.....
.....
.....
.....
.....

صمم خريطة مفاهيم بسمات الخلافة في العصر الراشدي.

أثبت صحة العبارة



اعط نبذة تاريخية عن الدولة الأموية.

.....

.....

.....

.....

.....

.....

.....

فسر أصبحت الخلافة وراثية في العصر الأموي.

دلل أخذ الخلفاء الامويين مظاهر الحضارات
الآخري في الحكم.

.....

.....

.....

.....

.....

.....

.....

.....

.....

.....

.....

.....

.....

أوجد أوجه الشبهة بين نظام الحكم العباسي والنظام الفارسي أيام الساسانيين.

.....

.....

.....

.....

.....

.....

.....

وضح النتائج المترتبة على ولاية العهد لأكثر.

.....

.....

.....

.....

.....

.....

.....

دلل على ولاية العهد لأكثر من واحد في العصر العباسي.

.....

.....

.....

.....

.....

.....

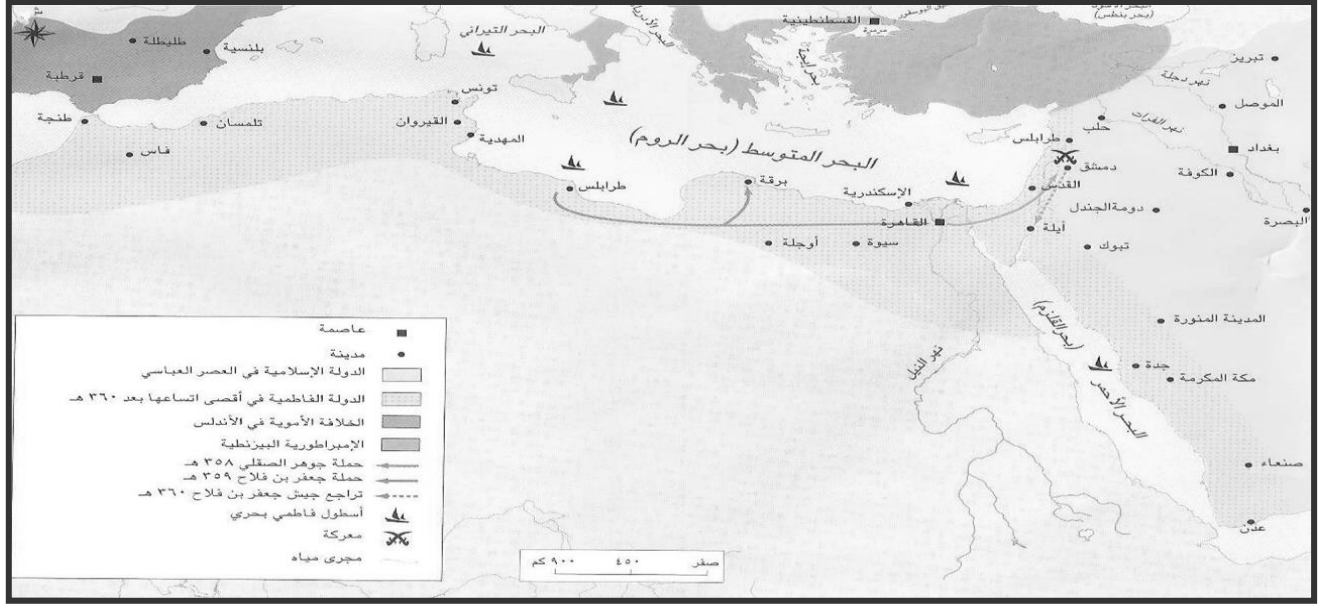
.....

وضح مظاهر ضعف نفوذ العباسيين في العصر العباسي الثاني.

.....

.....

ادرس الخريطة التالية واجب عن الأسئلة التي تليها :



١. استخرج من الخريطة عاصمة الدولة الاموية.

٢. ضع دائرة على عاصمة الخلافة الاموية في الاندلس.

٣. بالاستعانة بمفتاح الخريطة استنتج ما يدل على ضعف نفوذ الخلفاء العباسيين في العصر الثاني.

٤. سم المدينة التي تمت فيها بيعة علي بن أبي طالب بالخلافة..

فسر وضع رسول الله صل الله عليه نواة الإدارة المحلية.

.....
.....
.....
.....

فسر العبارة : شهد النظام الإداري نقلة حضارية كبرى في عهد الفاروق.

.....
.....
.....
.....

أعط أمثلة على صفات عمال وولاية رسول الله صل الله عليه وسلم

- (١)
- (٢)
- (٣)
- (٤)
- (٥)

عرف الدواوين.

.....
.....
.....
.....

وضح النتائج المترتبة على تقصير مدة الولاية في العصر العباسي.

.....
.....
.....
.....
.....
.....
.....
.....

استنتج دلالات توظيف المسلمين للدواوين.

- (١)
- (٢)
- (٣)

عرف الخراج.

.....
.....
.....
.....
.....

وضح مهام الدواوين التالية:

- ديوان الخراج :
- ديوان النفقات :
- ديوان المشرق :
- ديوان المغرب :

تتبع ظهور وظيفة المحتسب في الإسلام.

.....

.....

.....

.....

.....

.....

.....

.....

.....

.....

عرف المحتسب.

فسر أصبح البريد عين الخليفة في العصر العباسي.

.....

.....

.....

.....

.....

.....

.....

.....

اذكر أهم وظائف المحتسب.

- (١)
- (٢)
- (٣)
- (٤)
- (٥)

سم أهم قادة الجيش الاسلامي.

- (١)
- (٢)
- (٣)
- (٤)
- (٥)

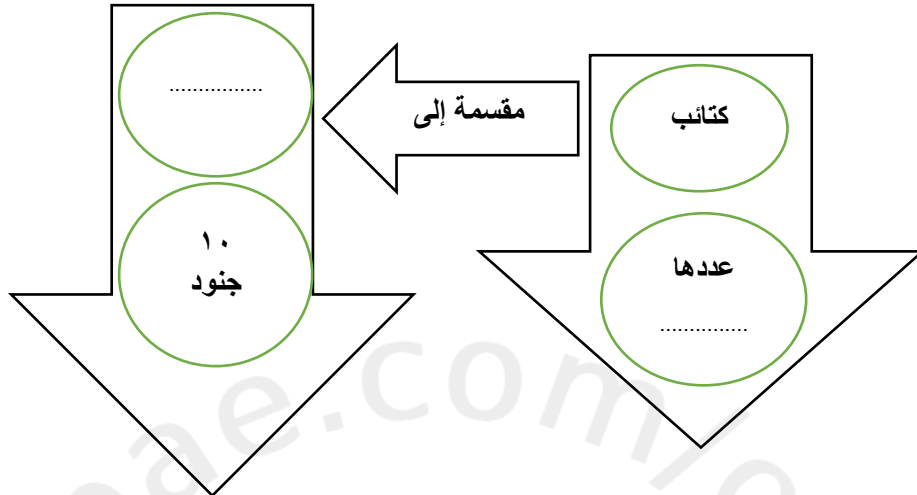
دلل على صحة العبارة : اهتم رسول الله صل الله عليه وسلم بإمارة الجيش.

(١)

(٢)

(٣)

أكمل المخطط التالي بمكونات الجيش في عهد الإمام الجندي بن مسعود.



دلل على عناية الدولة الإسلامية بالأسلحة.

(١)

(٢)

(٣)

ادرس الأسلحة التالية ثم اجب عن الأسئلة التي تليها :



١. سم ما تشير إليه الأشكال:

(١) (٢) (٣)

٢. أ) وضح المواد المصنوع منها السلاح المشار إليه بالرقم (٢).

.....

ب) فيما يستخدم السلاح؟

.....

٣. وضح استخدام السلاح المشار إليه بالرقم (٣).

أكمل العبارات التالية:

- أحد فرق الجيش الاسلامي وتكون تحت إمرة قائد الجيش

- تقسم كل فرقه من فرق الجيش الى فرق تسمى

علل يسمي الجيش الاسلامي خميسا.

أكمل المخطط التالي بمكونات الجيش الاسلامي:

Blank box for drawing or writing.

Blank box for drawing or writing.

Blank box for drawing or writing.

Blank box for drawing or writing.

Blank box for drawing or writing.

علل إنشاء المسلمين للأسطول الإسلامي.

عرف الكراديس.

عرف بمعركة ذات الصواري.

اجيب عن الأسئلة التالية :

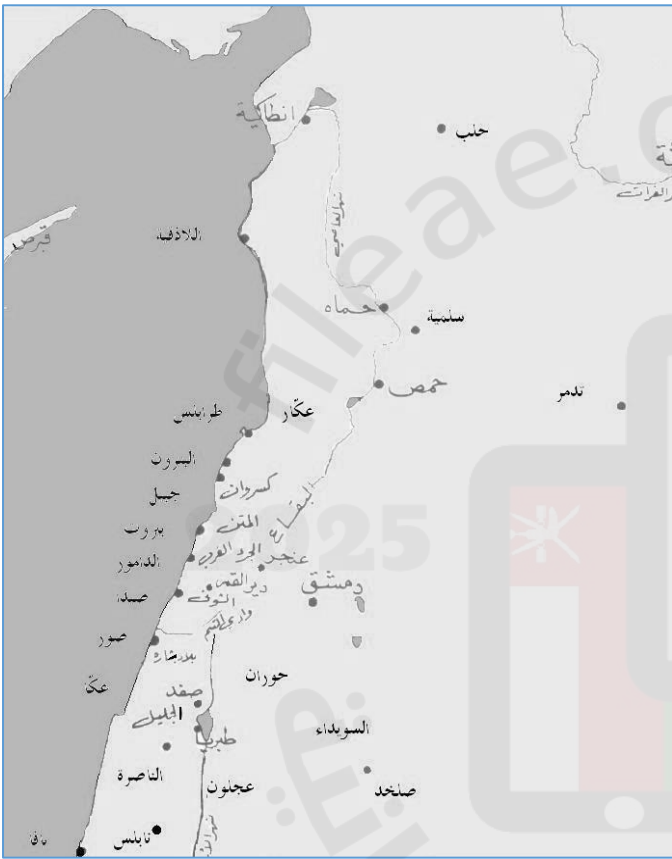
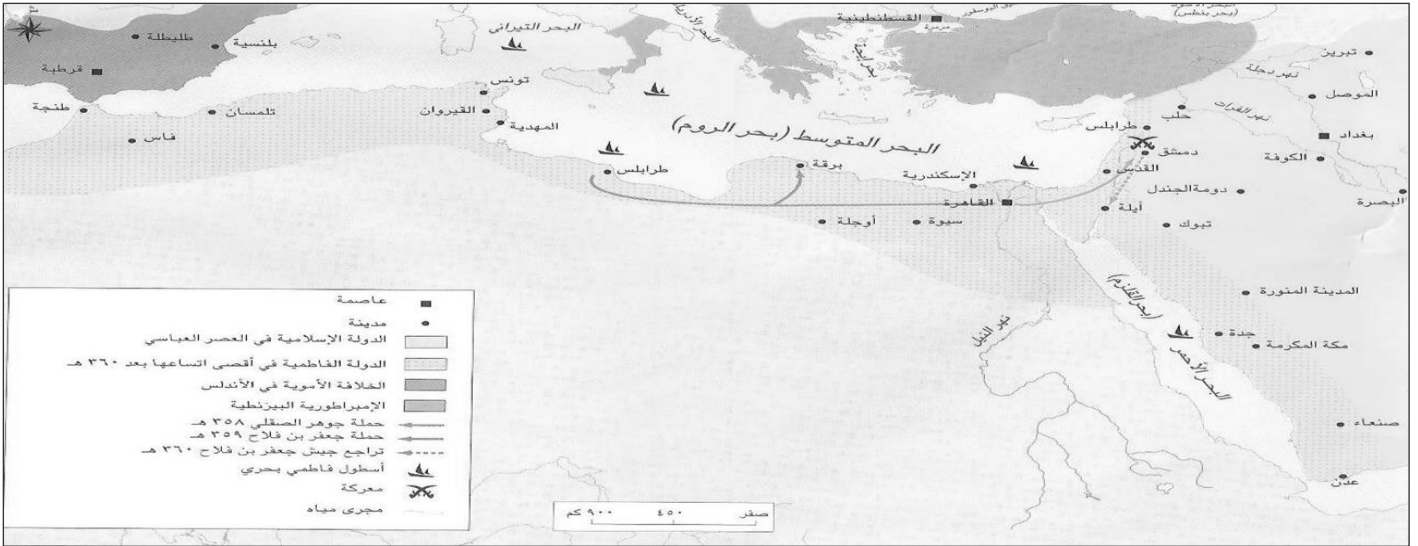
أ) سم أهم دور صناعة السفن في بلاد الشام.

ب) من دور صناعة السفن في مصر و

ج) من أهم دور الصناعة في عمان.

د) الحضارة التي اعتمد عليها المسلمون في فنون الملاحة

ادرس الخريطة ثم اجب عن الأسئلة التي تليها :



١. استخرج من الخريطة اثنين من المسطحات المائية التي امتدت عليهم الدولة الإسلامية.

٢. اسم اثنين دور صناعة السفن في مصر.

ادرس الخريطة ثم اجب عن الأسئلة التالية:

١. استخرج من الخريطة اثنين من دور صناعة السفن في بلاد الشام.

استنتج موقع اقامة دور صناعة السفن.

ضع دائرة حول اثنين من دور صناعة السفن في بلاد الشام.

خصائص المجتمع الاسلامي

فسر للإسلام فكر اجتماعي متميز.

دلل كان المجتمع الاسلامي مفتوحا لم يعرف التعصب الديني.

أعط أمثلة على القيم النابعة من روح الإسلام.

أذكر الفئات التي تكون منها المجتمع الإسلامي.

فسر بنيت المدن الاسلامية بشكل منظم.

علل ازدهار الحياة في المدن الإسلامية في العصرين الأموي والعباسي.

.....
.....
.....
.....
.....
.....

اكمل الجدول التالي :

المدينة	سبب تسميتها / سبب اختيار موقعها	مؤسسها	تاريخ تأسيسها	ملاحظات
دمشق				
صحار				
البصرة				
الكوفة				
الفسطاط				
القيروان				
واسط				
بغداد				
القاهرة				
تمبكتو				

اكمل المخطط التالي بأهم المساجد في العصور الإسلامي :

العصر العباسي

العصر الاموي

العصر النبوي والراشدي

اكمل الجدول التالي بأهم القصور الفخمة التي بناها المسلمون:

اسم القصر	المكان	المؤسس

علل اتسع استخدام الخطوط العربية كثيرا.

.....

.....

.....

عرف بنظام الملك الوزير السلجوقي.

.....

.....

.....

.....

.....

وضح أهم سمات العمارة الإسلامية.

.....

.....

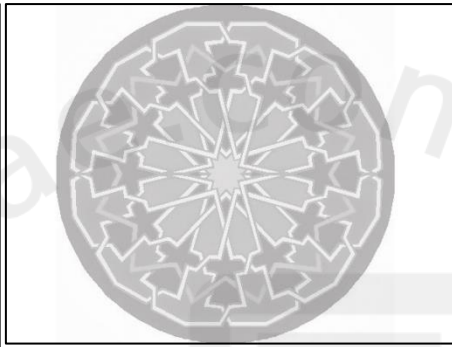
.....

.....

.....

اسم الخط	مميزاته	استخداماته	ملاحظات

من خلال الشكلين استنتج أشكال الزخرفة في العمارة الإسلامية .



اعط أمثلة على أهم الخطاطين المشهورين.

- ١-
- ٢-
- ٣-

2025

2024

فسر يعتبر المسجد النبوي أول المؤسسات العلمية التي وضعت فيه اللبنة الأولى للتعليم.

.....

.....

.....

.....

.....

دلل على صحة العبارة "ساعد المسجد على القيام بمهمته كمعهد للتعليم والتعلم".

- ١
- ٢
- ٣
- ٤

اعط أمثلة على المساجد ذات الشهرة الواسعة في نشر التعليم.

- (١)
- (٢)
- (٣)
- (٤)
- (٥)

فسر كثرة عدد الكتاب بعد ظهور الاسلام.

.....

.....

.....

.....

.....

صمم خريطة مفاهيم بأهم المدارس في العصور الإسلامية.

2025

2024

فسر انشاء هارون الرشيد لبيت الحكمة.

.....

.....

بين المكانة العلمية لدار الحكمة.

.....

.....

أكمل بيانات المدارس التالية:

المدرسة	مؤسسها	موقعها	ملاحظات	أهم المدارس العمانية
المدرسة النظامية				
المدرسة القمحية				
المدرسة القبطية				
المدرسة العادلية				

قارن بين جهود كلا من هارون الرشيد والمأمون في بيت الحكمة.

المأمون	هارون الرشيد

" قامت في الحضارة الإسلامية مؤسسات ثقافية تجمع بين خصائص المكتبة العامة والكلية الجامعية وبعضها يجمع بين الجامع والجامعة "دلل على ذلك بالأمثلة.

.....

.....

.....

.....

.....

.....

.....

.....

فسر جاء الإسلام بنظام اقتصادي منبثق من منهج الوسطية.

.....

.....

.....

.....

.....

.....

2

اشرح العبارة : وضع رسول الله صل الله عليه وسلم نواة النظام الاقتصادي الإسلامي.

.....

.....

.....

.....

.....

.....

.....

فرق بين المفاهيم التالية : الفيء / الغنيمة الجزية.

.....

.....

.....

.....

.....

.....

.....

.....

.....

.....

علل عمل معاوية بن أبي سفيان علة زيادة النفقات بشكل غير معهود.

.....

.....

.....

.....

عدد المصادر الرئيسية للنظام المالي الإسلامي.

- (١)
- (٢)
- (٣)
- (٤)
- (٥)

علل رأى عمر بن الخطاب ضرورة ترك الاراضي المفتوحة وعدم تقسيمها بين الجنود الفاتحين.

.....

.....

.....

.....

.....

وضح في نقاط ملامح النظام الاقتصادي عند الامويين.

- ١
- ٢
- ٣

دلل على اهتمام الامويين بالصناعات.

.....

.....

.....

.....

فرق بين مفهومي المحاسبة والمقاسمة.

.....

.....

.....

.....

.....

.....

فسر ضعف أو توقف التجارة مع الدولة البيزنطية في بعض الاحيان.

.....

.....

.....

.....

-١

-٢

دلل يعتبر ابو جعفر المنصور اكثر الخلفاء العباسيين اهتماما بالجوانب الاقتصادية.

اثبت صحة العبارة : اهتم العباسيون بالحياة الاقتصادية من جميع جوانبها الزراعية والتجارية والصناعية.

تطورات النظم الاقتصادية عبر العصور الاسلامية

وضع رسول الله نواة النظام الاقتصادي

العصر الراشدي : عهد عمر بن الخطاب رأى ضرورة ترك الاراضي المفتوحة دون تقسيمها على الجنود المحاربين /السماح للتجار الوافدين من البلدان الاخرى بدخول اراضي المسلمين مقابل العشر

العصر العباسي: اهتموا بالزراعة: تنظيم قطاع الزراعة/تنظيم الري/اقامة سدود وترع/زراعة محاصيل مختلفة الصناعة: اقاموا الاسواق/استخراج المعادن التجارة: التبادل التجاري/محطات مياه على طريق القوافل/اساطيل السفن لحماية التجارة البحرية

العصر الاموي: اهتموا بالخراج/استصلاح الاراضي الزراعية/زيادة النفقات (معاوية)/سك النقود (عبد الملك)/وضع نظام المحاسبة والمقاسمة والالتزام/اهتموا بالصناعات/بالغ الولاة في جباية الاموال

(١)

امتحان الصف الحادي عشر
للعام الدراسي ١٤٣٧/١٤٣٨ هـ - ٢٠١٦/٢٠١٧ م
الدور- الأول- الفصل الدراسي الأول
المادة: الحضارة الإسلامية

أجب عن جميع الأسئلة الآتية

السؤال الأول: ضع دائرة حول رمز الإجابة الصحيحة لكل مفردة من المقدرات الآتية:

(١) أطلقت وزارة الأوقاف والشؤون الدينية بسلطنة عمان معرض " رسالة الإسلام " عام :
أ- ٢٠٠٩ م ب- ٢٠١٠ م ج- ٢٠١١ م د- ٢٠١٢ م

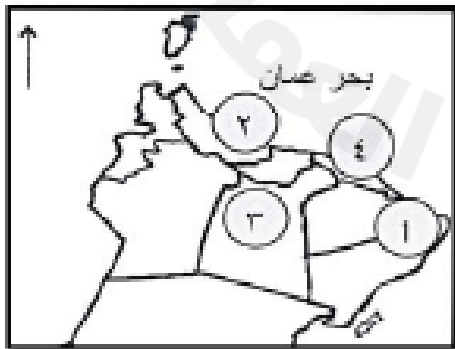
(٢) الشكل الصحيح الذي يوضح إنجازات الخليفة الوليد بن عبد الملك :



(٣) الخليفة العباسي الذي عهد ولاية العهد لثلاثة من أبنائه :

أ- أبو جعفر المنصور ب- أبو العباس ج- المأمون د- هارون الرشيد

(٤) الرقم الذي يشير إلى موقع المدينة العمانية التي مَصَّرَها الخليفة عمر بن الخطاب في الخريطة :



ب- ٣

أ- ٢

د- ٤

ج- ١

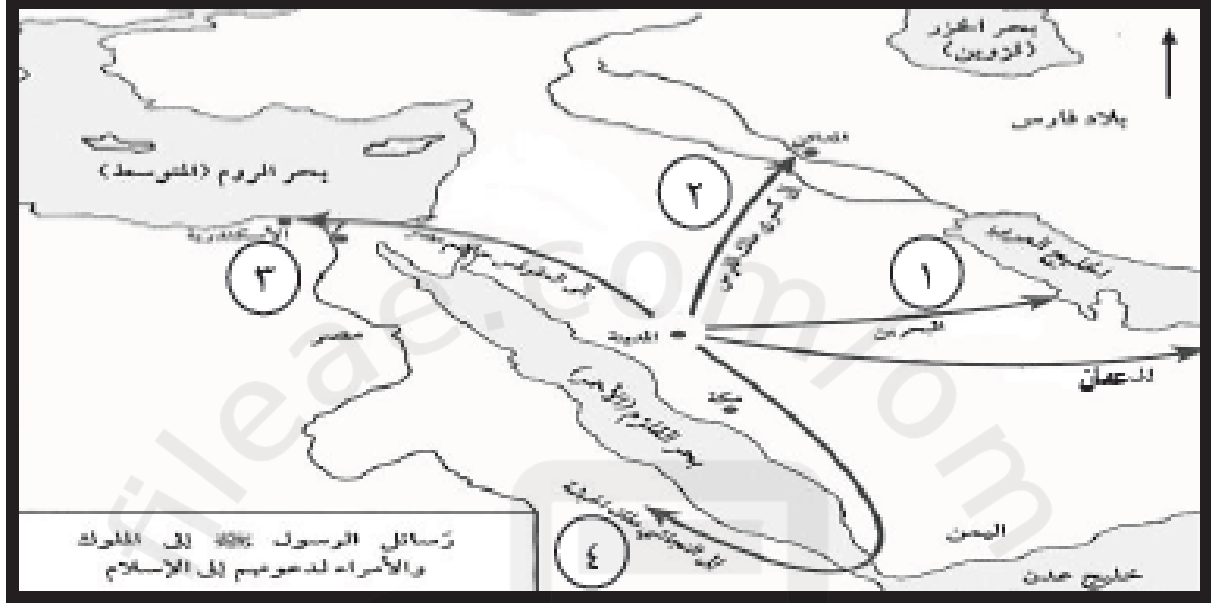
يتبع/٢

(٢)

تابع امتحان الصف الحادي عشر
للعام الدراسي ١٤٣٧/١٤٣٨ هـ - ٢٠١٦/٢٠١٧ م
الدور الأول - الفصل الدراسي الأول
المادة: الحضارة الإسلامية

تابع السؤال الأول:

٥) الجدول الصحيح الذي يوضح أسماء رُسل النبي صلى الله عليه وسلم إلى الدول المجاورة وفقا للأرقام الواردة بالخريطة:



ب	
١	العلاء بن الحضرمي
٢	عمرو بن أمية
٣	عبدالله بن حذافة
٤	حاطب بن أبي بلتعة

د	
١	عمرو بن أمية
٢	حاطب بن أبي بلتعة
٣	العلاء بن الحضرمي
٤	عبدالله بن حذافة

أ	
١	عبدالله بن حذافة
٢	العلاء بن الحضرمي
٣	عمرو بن أمية
٤	حاطب بن أبي بلتعة

ج	
١	العلاء بن الحضرمي
٢	عبدالله بن حذافة
٣	حاطب بن أبي بلتعة
٤	عمرو بن أمية

٦) الوظيفة الإسلامية القديمة التي تشبه هيئة حملة المستهلك اليوم هي:

أ- المحتسب ب- الشرطة ج- جابي الضرائب د- عامل الصدقات


يتبع/٣

(٣)

تابع امتحان الصف الحادي عشر
للعام الدراسي ١٤٣٧/١٤٣٨ هـ - ٢٠١٦/٢٠١٧ م
الدور الأول - الفصل الدراسي الأول
المادة: الحضارة الإسلامية

تابع السؤال الأول:

(٧) النموذج الذي يوضح الخط المغربي :




د-



ج-

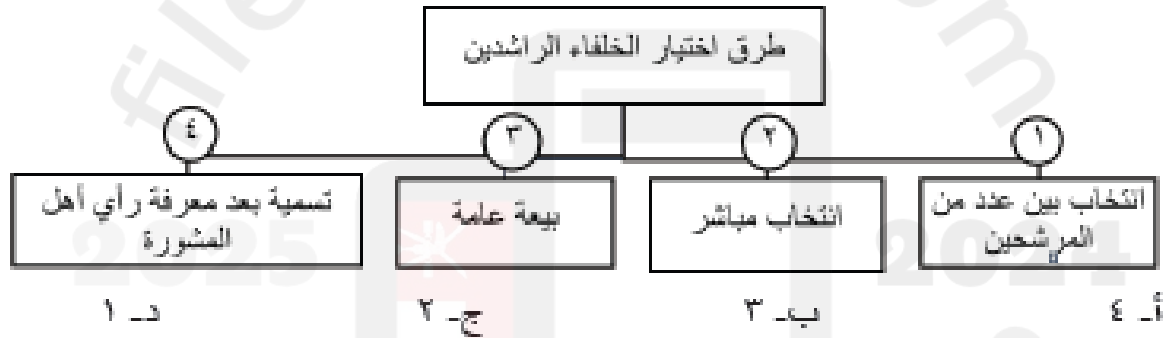


ب-



أ-

(٨) الرقم الذي يوضح طريقة اختيار الخليفة عمر بن الخطاب للخلافة وفقا للمخطط التالي :



(٩) يطلق على المال الذي يأخذه المسلمون من المتركين بالتنازل نون قتال :

أ- الجزية ب- الخنيفة ج- الفية د- الخراج



يبعث/٤

(١٠) المعلم الحضاري الواضح في الصورة أمامك :

أ- قصر الذهبي ب- قصر الحمراء
ج- قصر عمره د- قصر الرصافة

(٤)

امتحان الصف الحادي عشر

للعام الدراسي ١٤٣٧/١٤٣٨ هـ - ٢٠١٦/٢٠١٧ م

الدور الأول - الفصل الدراسي الأول

المادة : الحضارة الإسلامية

تابع السؤال الأول:

١١) الترتيب الصحيح لتواريخ بناء المدن الإسلامية التالية من القديم إلى الحديث :

١	واسط
٢	الكوفة
٣	القاهرة
٤	القيروان

أ- (٢ - ٤ - ١ - ٣)

ب- (١ - ٣ - ٢ - ٤)

ج- (١ - ٣ - ٤ - ٢)

د- (٢ - ٣ - ١ - ٤)

١٢) الدولة التي ضرب فيها الدرهم الأموي الواضح في الصورة التالية:



ب-العراق

أ- سوريا

د-عُمان

ج- اليمن

السؤال الثاني:

أولاً: أجب عن الأسئلة التالية:

أ) ما المقصود بكل مما يلي:

- ١- سك النقود
- ٢- الخلافة

ب) عدد خصائص الحضارة الإسلامية .

- ١-
- ٢-
- ٣-
- ٤-

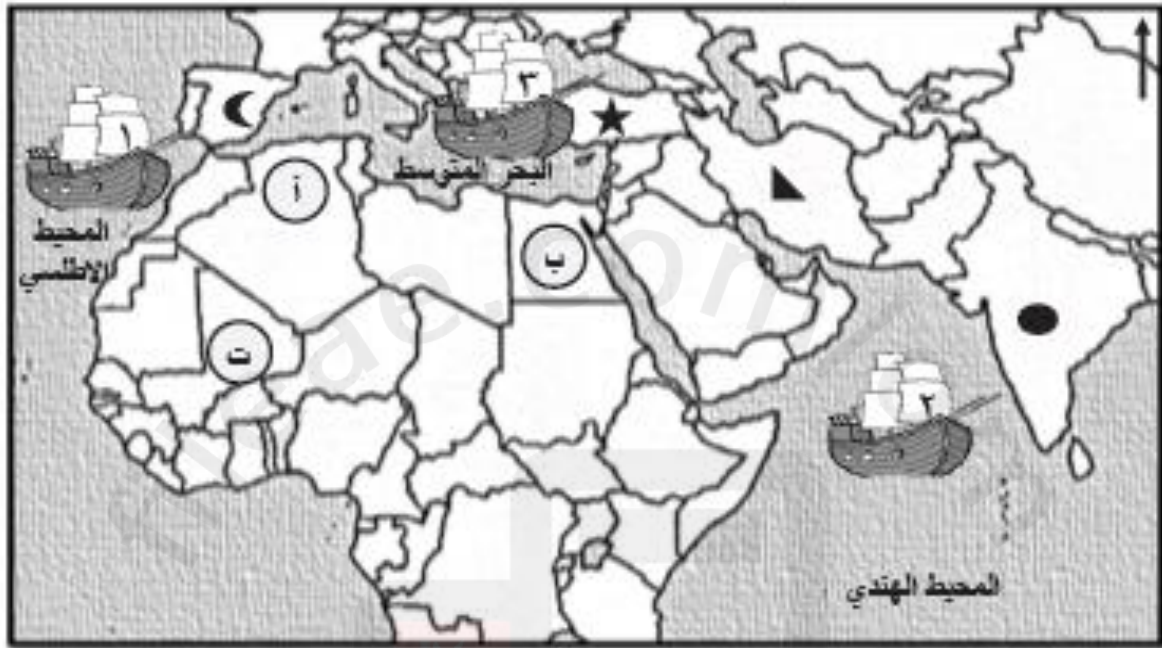
يتبع/٥

(٥)

تابع امتحان الصف الحادي عشر
للعام الدراسي ١٤٣٧/١٤٣٨ هـ - ٢٠١٦/٢٠١٧ م
الدور الأول - الفصل الدراسي الأول
المادة: الحضارة الإسلامية

تابع السؤال الثاني:
ثانياً:

(أ) ادرس الخريطة التالية جيدا ثم أجب عن الأسئلة التي تليها:



(١) انقل الرمز الصحيح من الخريطة أمام الحضارة وفقا للجدول التالي :

الرمز	الحضارة
○	حضارة استقلا المسلمون منها في التحصينات العسكرية وإدارة الأقاليم
●	حضارة استقلا المسلمون منها في صناعة السيوف والتوابل

(٢) اكتب أسفل كل صورة الحرف الذي يشير إلى موقعها الصحيح في الخريطة :



(.....)



(.....)

(٣) اكتب رقم السفينة التي تشير إلى موقع معركة ذات الصواري

ينبع/٦

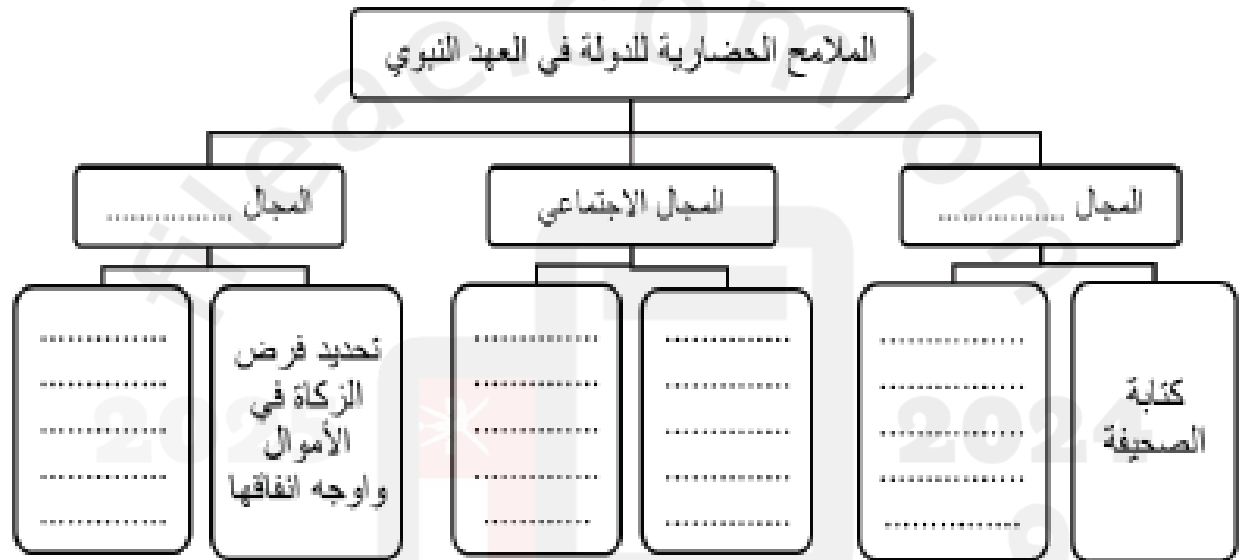
(٦)

تابع امتحان الصف الحادي عشر
للعام الدراسي ١٤٣٧/١٤٣٨ هـ - ٢٠١٦/٢٠١٧ م
الدور الأول - الفصل الدراسي الأول
المادة: الحضارة الإسلامية

تابع السؤال الثاني:
ثالثاً :

أ) " للتعليم أهمية كبرى في بناء الإنسان وتقوية علاقته بربه " في ضوء هذه العبارة دال على موقف قام به النبي الكريم في غزوة بدر يدل على أهمية التعليم.

ب) من خلال دراستك لموضوع مجالات البناء الحضاري للمجتمع الإسلامي، أكمل المخطط التالي:



السؤال الثالث:

أولاً:

أ) أجب عن الأسئلة التالية:

١- ما النتائج المترتبة على تقصير الخلفاء العباسيون لمدة بقاء الولاية في مناصبهم

.....

٢- اذكر مهام صاحب البريد في العصور الإسلامية.

.....

.....

يتبع/٧

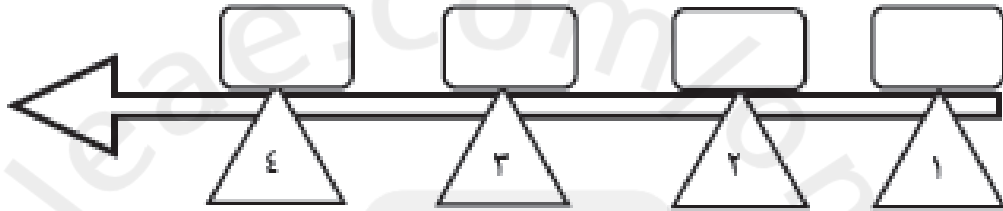
(٧)

تابع امتحان الصف الحادي عشر
للعام الدراسي ١٤٣٧/١٤٣٨ هـ - ٢٠١٦/٢٠١٧ م
الدور الأول - الفصل الدراسي الأول
المادة: الحضارة الإسلامية

تابع السؤال الثالث:

ب) رتب الإجراءات الاقتصادية التالية من القديم إلى الحديث مستخدماً الحروف على المخطط التالي :

- أ- السماح للتجار الوافدين بالتجارة في الدولة الإسلامية مقابل دفع العشر.
- ب- وضع أساطيل من السفن لحماية الطرق التجارية البحرية.
- ج- وضع نواة النظام الاقتصادي للدولة الإسلامية.
- د- سك العملة الحربية الذي أسهم في تحقيق الاستقلال الاقتصادي للدولة.



ثانياً: أجب عن الأسئلة التالية:

أ) من خلال دراستك للمؤسسات التربوية والتعليمية الإسلامية أجب عما يلي :



ب)



أ)

١) سمِّ المعلمين التعليميين المشار إليهما بالرمز أ و ب

٢) اذكر مدرستين من المدارس العثمانية التاريخية

٣) وضح الجهود التربوية والتعليمية التي قام بها الخليفة هارون الرشيد وابنه المأمون في دار الحكمة

يتبع/٨

(٨)

تابع امتحان الصف الحادي عشر
للعام الدراسي ١٤٣٧/١٤٣٨ هـ - ٢٠١٦/٢٠١٧ م
الدور الأول - الفصل الدراسي الأول
المادة : الحضارة الإسلامية

تابع السؤال الثالث:

ثالثا :

أ) " بسم الله والحمد لله والأرض لله يورثها من يشاء ابتوا على بركة الله " في ضوء العبارة
١- اذكر قائلها والمناسبة التي قيلت فيها .

ب) وازن بين خط الثلث والخط الديواني وفقا للجدول التالي:

نوع الخط	استخداماته	أول من وضعه/ ابتكره	زمن الخليفة/السلطان
خط الثلث			
خط الديواني			

السؤال الرابع :

أولاً: أ) أجب عن الأسئلة التالية:



(ب)



(أ)

- ١- ما اسم الألة التي يرمز لها بالرمز (أ)
- ٢- اذكر استخدامات السلاح الذي يرمز له بالرمز (ب)
- ٣- كيف نظم الإمام الجلندي بين مسعود الجيوش في عمان ؟
.....
.....
.....
- ٤- علل "أصيب الصليبيون بالرعب في القرن الخامس عشر عندما اصطدموا بالجيوش الإسلامية"
.....

يتبع/٩

(٩)

تابع امتحان الصف الحادي عشر
للعام الدراسي ١٤٣٧/١٤٣٨ هـ - ٢٠١٦/٢٠١٧ م
الدور الأول - الفصل الدراسي الأول
المادة: الحضارة الإسلامية

تابع السؤال الرابع :

ثانياً: أجب عن الأسئلة التالية:

أ) اكتب نبذة تاريخية عن شخصية أبو الحسن علي بن محمد الموردي.

.....
.....
.....

ب) صنف المدن التالية (القسطنطينية - القيروان - البصرة - دمشق) وفقاً للجدول التالي :

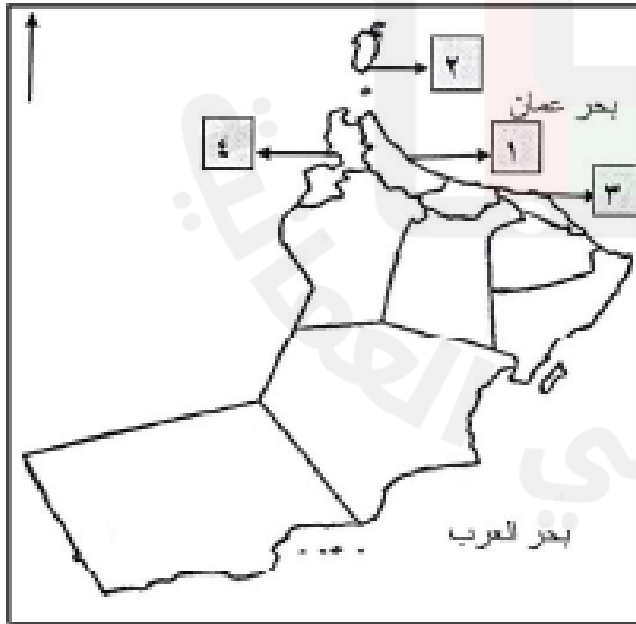
المدينة	نبذة تاريخية عن المدينة
	فُتحت في عهد الخليفة عمر بن الخطاب وبها سوق الحميدية .
	أرض حصباء وطأتها أقدام المسلمين على يد القائد خالد بن الوليد
	فُتحت على يد القائد عمرو بن العاص ويقصد بها بيت يتخذ من الشعر .
	أُخذت معسكرات جيوش المسلمين المتجهة لفتح بلاد المغرب .

ثالثاً :

أ) كيف أظهر الخليفة الأموي معاوية بن أبي سفيان مظاهر الأبهة في الحكم ؟

.....

ب) أدرس خريطة التقسيم الإداري لسلطنة عمان جيداً ثم أجب عن الأسئلة التالية :



١- من خلال الأرقام الواردة بالخريطة أجب عما يأتي :

أ- رقم المدينة التي وصفها الطبري "بأنها العصر والسوق العظيم " (.....)

ب- رقم المدينة التي تضم حضارة حفيت ووصفها يا قوت الحموي " بأنها قصبة عمان وبها قرى كثيرة " (.....)

٢- ظلل على الخريطة المحافظة التي توجد بها آثار البليد التاريخية.

انتهت الأسئلة مع الدعاء للجميع بالتوفيق والتجاح

أجب عن جميع الأسئلة الآتية

السؤال الأول: ضع دائرة حول رمز الإجابة الصحيحة لكل مفردة من المفردات الآتية:

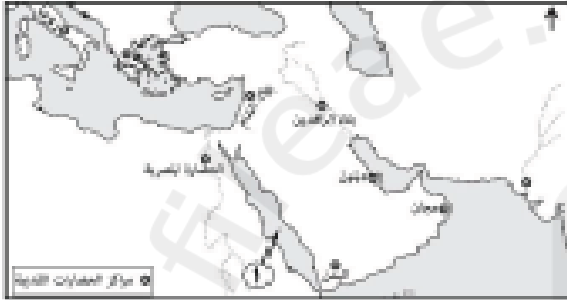
١- الجدول الذي يوضح جميع مكونات مجتمع المدينة المنورة بعد هجرة الرسول صلى الله عليه وسلم:

الأوس	ب	الأَنْصار	ج	المهاجرون	د	الأَنْصار
اليهود		اليهود		الأوس		المهاجرون
المهاجرون		المهاجرون		الخزرج		الخزرج

٢- العام الميلادي الذي أنشئت فيه لجان التوفيق والمصالحة بالسلطنة:

أ- ٢٠٠٤ ب- ٢٠٠٥ ج- ٢٠٠٦ د- ٢٠٠٧

٣- الاسم القديم للبحر المشار إليه بالرقم (١) في الخريطة:



- أ- الخزر
ب- الروم
ج- العرب
د- القلزم

٤- صاحبة فكرة التمريض الميداني في المعارك الإسلامية:

أ- رفيدة الأسلمية ب- سمراء الأسيدي ج- الشفاء المخزومية د- عائشة الربيعة

٥- تمثل الصورة التي أمامك إحدى الآلات العسكرية القديمة:



- أ- الترس ب- الدبابة
ج- الدرع د- المنجنيق

٦- والي عمان في عهد الخليفة عمر بن الخطاب:

أ- أبو زيد الأنصاري ب- شبيب بن عطية
ج- عثمان ابن أبي العاص د- عمرو بن العاص

٧- الخلافة التي ظهر فيها مسمى (وزير) لأول مرة:

أ- الراشدة ب- الأموية ج- العباسية د- الفاطمية

(٢)

المادة: الحضارة الإسلامية-الصف : الحادي عشر- الدور الثاني - الفصل الدراسي الأول - العام الدراسي ١٧/٢٠١٨م

تابع السؤال الأول:

٨- مدينة عربية معني اسمها الأرض الحصاء:

أ- البصرة ب- بغداد ج- الكوفة د- واسط

٩- كلمة فارسية معربة، ومعناها السجل أو الدفتر:

أ- البريد ب- الخراج ج- الديوان د- الوزارة

١٠- العام الهجري الذي سَك فيه الخليفة الأموي عبدالملك بن مروان العملة الإسلامية بدمشق:

أ- ٧٣ ب- ٧٤ ج- ٧٦ د- ٧٨

١١- من اشهر مؤلفات أبو الحسن الماوردي:

أ- الأحكام السلطانية ب- أنساب الأشراف ج- تاريخ الأمم والملوك د- سحر الملوك

١٢- ظهر ديوان الخراج في العصر:

أ- الراشدي ب- الأموي ج- العباسي د- الفاطمي

السؤال الثاني:

أولاً: أجب عن الأسئلة الآتية:

أ- عرفها يلي:

١- الخلافة:

.....

٢- الحسية:

.....

ب- اذكر دليلاً واحداً على ضعف نفوذ الخلفاء في العصر العباسي الثاني.

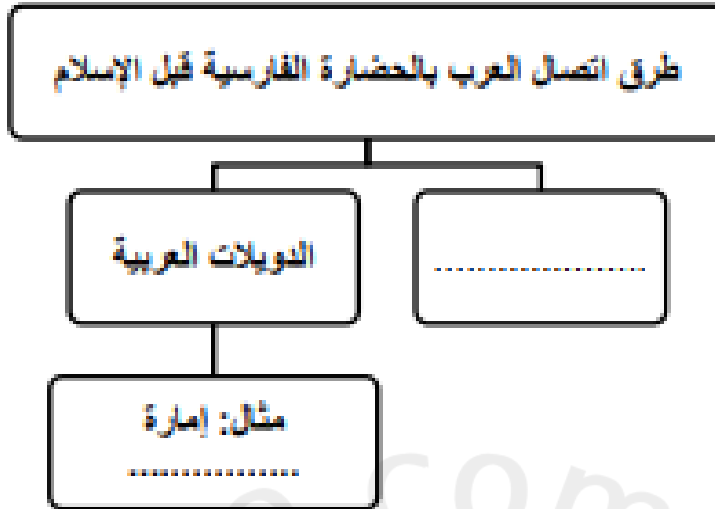
.....

ج- علل اختيار صحار مركزاً إدارياً لما حولها في عهد الخليفة عمر بن الخطاب.

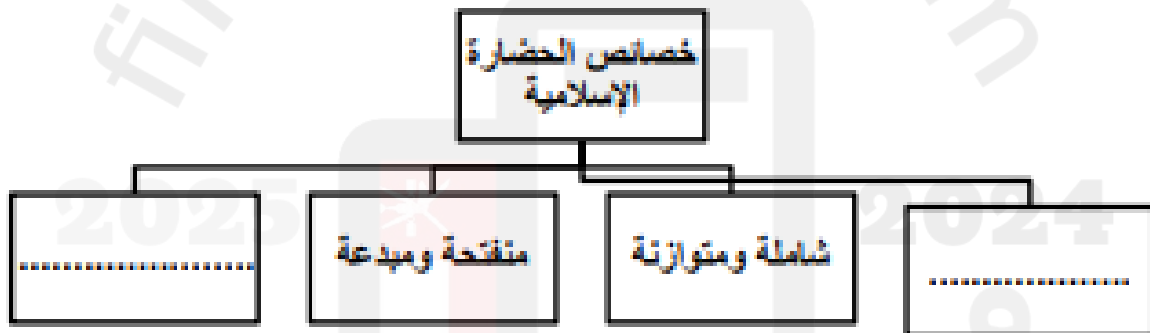
.....

يتبع ٣/



تابع السؤال الثاني:
 تلميذة أجب عن الأسئلة التالية:
 أ- أكمل المخطط الآتي:



ب- عدد خصائص الحضارة الإسلامية في المخطط الآتي:



ج- تالطا: اكتب أسفل كل معلم أثري اسم المدينة التي يوجد بها

		المعلم الأثري
.....	المدينة

(٤)

المادة: الحضارة الإسلامية- الصف : الحادي عشر- الدور الثاني - الفصل الدراسي الأول - العام الدراسي ٢٠١٧/٢٠١٨ م

السؤال الثالث:

أولاً انظر الى الخريطة التي أمامك ثم أجب عن الأسئلة التي تليها:



١- بالاستعانة بمفتاح الخريطة اكتب أسماء الحضارات الآتية في مكانها الصحيح=

(ديلون / بلاد الشام / روما)

٢- صف كيف اتصل المسلمون بالحضارة المشار إليها بالرقم (١) ؟

٣- ضع دائرة في الخريطة حول اسم النهر الذي قامت على ضفافه مدينة بغداد.

٤- اكتب اسم البحر الذي وقعت فيه معركة ذات الصواري في مكانه الصحيح على الخريطة.

ثانياً: أمامك خريطة التقسيم الإداري لمحافظة سلطنة عمان ادرسها جيداً ثم أجب عن الأسئلة الآتية:

أ- انقل الرقم الدال على المحافظة التي يوجد بها ما يلي:

١- أشهر دُور صناعة السفن قديماً.

٢- فلج الميسر.

٣- المدينة التي ضمت قديماً حضارة حفيت.....

ب) اكتب أسماء المعالم التاريخية التالية في المحافظات التي

توجد بها على الخريطة:

١- حصن جبرين-

٢- آثار البليد التاريخية.

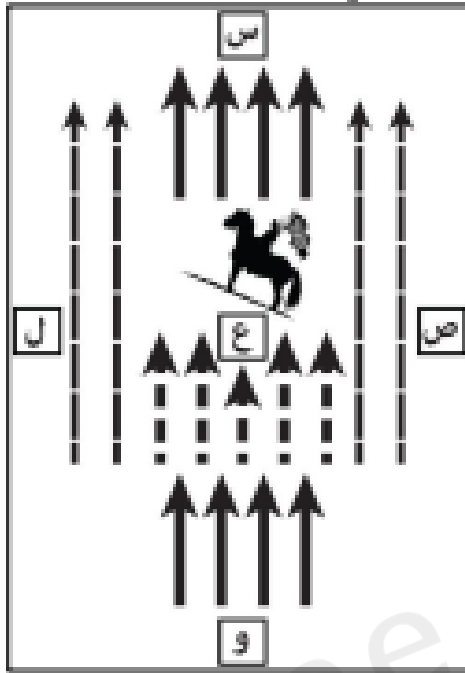
ج) ضع دائرة حول المحافظة التي توجد بها المدينة التي

وصفها الطبري بأنها المصّر والسوق العظمى-



السؤال الرابع: أجب عن الأسئلة الآتية:

أولاً: امامك شكل يوضح تقسيم جيش المسلمين ادرسه جيداً ثم أجب عن الأسئلة الآتية:



١- ما الاسم الذي يطلق على هذا النوع

من التنظيم العسكري للجيش؟

٢- استخرج رمز الفرقة التي يتولى قيادتها

القاد العام.

٣- ما الإسم الذي يطلق على الكتيبة المشار إليها بالرمز (و) ؟

.....

٤- أطلق على المجموعات المقاتلة (كراديس)، أصل هذه التسمية:

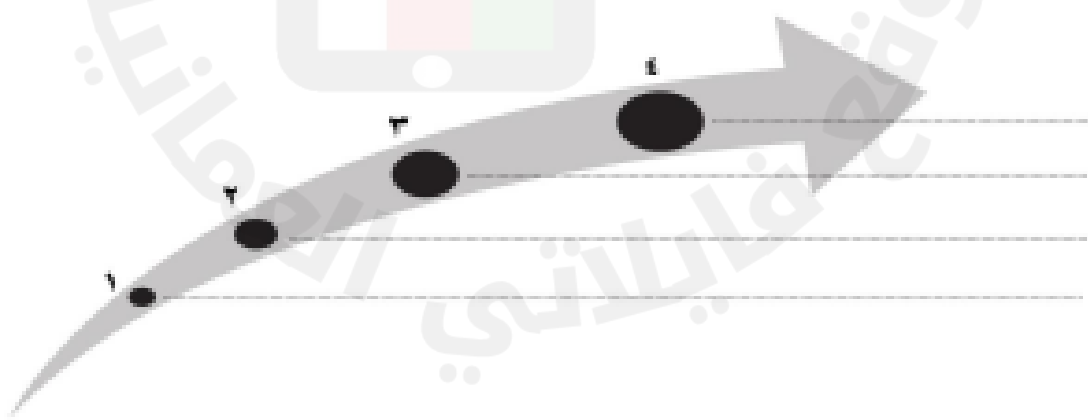
(يونانية) (فارسية) (اختر الإجابة)

ثانياً: أكمل الجدول التالي:

الخط	أوجه المقارنة
.....
.....
.....
.....

ثالثاً: رتب الأحداث التاريخية من الأقدم إلى الأحدث:

(الفتح الإسلامي لدمشق / بناء مدينة المصطاط / إنشاء أقدم دار لسك النقود بعمان / مبايعة علي بن أبي طالب بالخلافة).



انتهت الأسئلة مع الدعاء للجميع بالتوفيق والنجاح



المديرية العامة للتربية والتعليم بمحافظة جنوب الباطنة
الامتحان التجريبي للصف الحادي عشر
للعام الدراسي ١٤٣٥/١٤٣٦ هـ - ٢٠١٥ / ٢٠١٦ م
الفصل الدراسي الأول

• المدة: ساعة ونصف

• المادة: الحضارة الإسلامية

• تنبيه: - الأسئلة في (٦) صفحات

الاسم :

الصف :

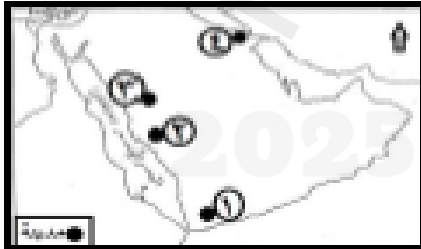
أولاً: الأسئلة الموضوعية: السؤال الأول:

ضع دائرة حول الحرف الدال على الإجابة الصحيحة من بين البدائل المعطاة:

(١) الخليفة الراشدي الذي تم انتخابه من بين عدد من المرشحين هو:

أ- أبو بكر الصديق ب- عمر بن الخطاب ج- عثمان بن عفان د- علي بن أبي طالب

(٢) الرقم الذي يشير إلى المدينة التي خرج منها الرسول ﷺ متوجهاً إلى المدينة المنورة في الخريطة المعقّلة:



أ- ١

ب- ٢

ج- ٣

د- ٤

(٣) الموقع الصحيح لأقدم عاصمة إسلامية في بلاد الشام:



أ-



ب-



ج-



د-

(٤) الوظيفة الإسلامية القديمة التي تشبه (هيئة حماية المستهلك) اليوم هي:

أ- مسؤول الخراج

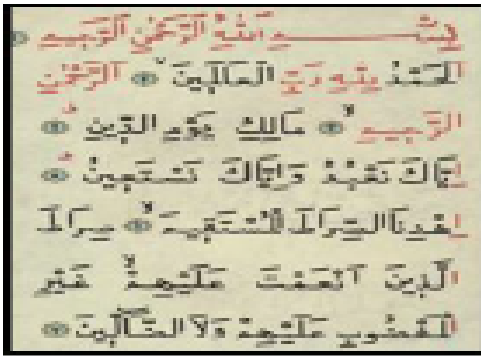
ب- المحتسب

ج- رئيس الديوان

د- الشرطة


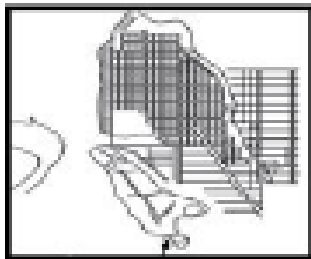
يتبع صفحة ٢

٥) النموذج الخطي العربي الذي استخدم في كتابة السورة القرآنية التي أمامك:



- أ- الرقعة
- ب- النسخ
- ج- النبطي
- د- الثلث

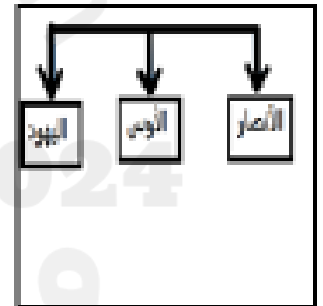
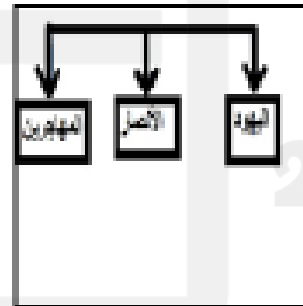
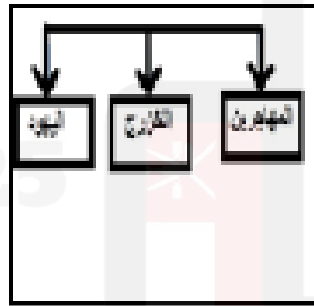
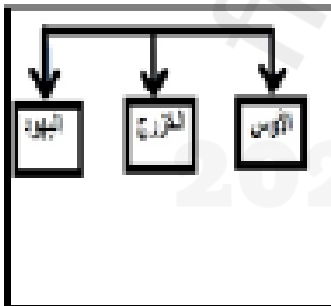
٦) المخطط الذي يمثل تصميم المدن الإسلامية:



د

ب

٧) المخطط الذي يوضح مكونات مجتمع المدينة قبل هجرة الرسول إليها:



د

ع

ب

أ

٨) الرقم الذي يشير إلى موقع كتيبة الفرسان في مخطط (الجيش الخميس) الذي أمامك هو:



- أ- ١
- ب- ٢
- ج- ٣
- د- ٤

يتبع صفحة ٣

تابع الامتحان التجريبي للصف الحادي عشر في مادة الحضارة الإسلامية/ الفصل الدراسي الأول



٩) الرقم الذي يشير إلى الحضارة التي ظهر تأثيرها واضحاً في الحياة العامة لاسيما في العصر العباسي:

- أ- ١
ب- ٢
ج- ٣
د- ٤

١٠) من خصائص الحضارة الإسلامية التي توضحها الآية الكريمة: (وَاتَّبَعَ فِيمَا أَنكَلَهُ اللَّهُ الْبَازِلَ الْأَجْرَةَ كَمَا لَا تَحْسُنُ نَصِيحَتَكَ مِنَ الدُّنْيَا):

- أ- إيمانية أخلاقية ب- شاملة متوازنة ج- منفتحة مبدعة د- ذات طابع إنساني

١١) الجدول الذي يمثل الترتيب الصحيح لظهور النظم التربوية في الحضارة الإسلامية من الأقدم إلى الأحدث:

١	المسجد النبوي
٢	الكتاتيب
٣	دار الحكمة
٤	المدرسة النظامية

١	المسجد النبوي
٢	الكتاتيب
٣	المدرسة النظامية
٤	دار الحكمة

١	المسجد النبوي
٢	دار الحكمة
٣	الكتاتيب
٤	المدرسة النظامية

١	الكتاتيب
٢	المسجد النبوي
٣	المدرسة النظامية
٤	دار الحكمة

- أ- ١ ب- ٢ ج- ٣ د- ٤

١٢) العامل الرئيس الذي أعطى الدولة الإسلامية استقلالها الاقتصادي:

- أ- سك العملات ب- بناء الأسطول ج- تنظيم الخراج د- استصلاح الأراضي

ثانياً: الأسئلة المقالية: السؤال الثاني:

أولاً: (أ): ادرس مخطط معركة أحد، ثم أجب عن الأسئلة التي تليه:

١- أي المواقع التي فضل الرماة الذهاب إليها قبل انتهاء المعركة؟

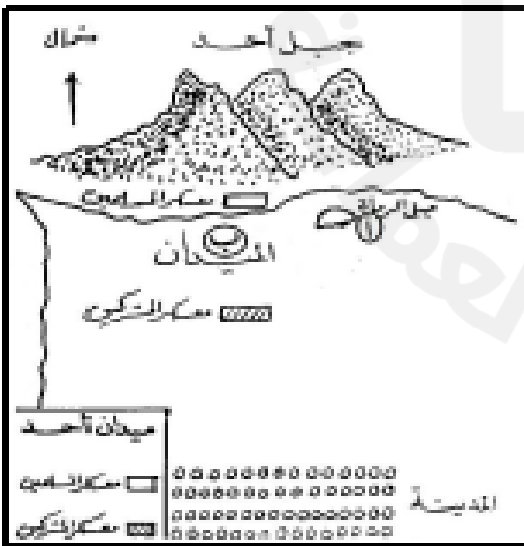
.....

.....

٢- ما الترس المستقل من العطاء الذي وقع فيه الرماة في معركة أحد؟

.....

.....



تابع الامتحان التجريبي للصف الحادي عشر في مادة الحضارة الإسلامية/ الفصل الدراسي الأول

أولاً: (ب) دال على كل ما يلي:

١- عنابة الدولة الإسلامية بسلاح الرماية للمقاتلين.

.....
.....

٢- عنابة عثمان بتنظيم الجيوش في عصور مبكرة من تاريخ الدولة الإسلامية.

.....
.....

ثانياً: من خلال المخطط الذي يوضح بعض مظاهر الحكم في الدولة الأموية، أجب عن الأسئلة التي تليه:

١- صف مجلس الخليفة في العصر الأموي؟

.....
.....
.....

٢- وضح رأيك في نظام الحكم الوراثي في الدولة الأموية؟

.....
.....
.....

ثالثاً: أجب عن الأسئلة التالية:

أ- من خلال دراستك لمجالات البناء الحضاري للمجتمع الإسلامي، على ماذا تمل أعمال الرسول ﷺ الآتية:

١- جعل ثنية بعض أسرى المشركين في غزوة بدر لتعليم أبناء المسلمين القراءة والكتابة.

.....
.....

٢- إرسال الرسل إلى عثمان وأقاليم الدول المجاورة.

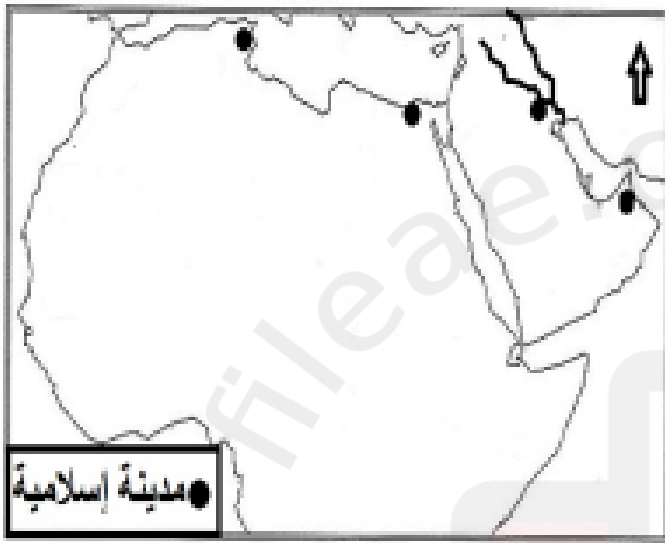
.....
.....

يتبع صفحة ٤

السؤال الثالث:

أولاً: اقرأ النص التاريخي الآتي، ثم أجب عن الأسئلة التي تليه من خلال النص:

(... صُنفت المدن الإسلامية قديماً تبعاً لوظائفها والأهداف التي أنشئت من أجلها، فمنها ما بدأ على هيئة معسكرات حربية، ثم تطور إلى هيئة مدينة كالبصرة والفسطاط والقيروان. ويذكر ياقوت الحموي (ت ٦٢٦هـ - ١٢٢٨م) في كتابه معجم البلدان عن صحار، فيقول: "صحار الصبة عُمان مما يلي الجبل، مدينة طيبة الهواء والخيرات والفواكه، مبنية بالأجر والساج. وكانت عاصمة عُمان في العصور الإسلامية".)



١- اكتب أسماء المدن التاريخية الواردة في النص في مواضعها الصحيحة على الخريطة المقابلة.

٢- استخرج اثنين لكل مما يلي:
أخصائص المدن الإسلامية القديمة.

ب- المزايا المستخدمة في تشييد مدينة صحار.

٣- ظلل المناطق التي خضعت للإمبراطورية الرومانية قبل ظهور الإسلام.

ثانياً: اعط تعريفاً للمصطلحات التاريخية الآتية:

١- الديوان:

٢- الخلافة:

ثالثاً: انسب الدواوين التالية إلى العصر الذي تنتمي إليه: (ديوان النفقات، ديوان الجند، ديوان المشرق والمغرب، ديوان الخراج):

أ- العصر الراشدي:


ب- العصر الأموي:

ج- العصر العباسي:

يتبع صفحة ٥

تابع الامتحان التجريبي للصف الحادي عشر في مادة الحضارة الإسلامية/ الفصل الدراسي الأول

السؤال الرابع: أولاً: ارمس آثار الحضارة الإسلامية التي أمامك ثم أجب عن الأسئلة التالية:



الصورة ب



الصورة أ

١-وضح العلاقة التي تربط بين الصورة (أ) والصورة (ب) في الحضارة الإسلامية.

٢-ما قيمة الآثار الإسلامية التي أمامك في الصور بالنسبة للمسلمين؟

ثانياً: رتب الأحداث التاريخية الآتية، والمرتبطة بالحضارة الإسلامية وفق التسلسل الزمني من الأقدم إلى الأحدث :

- () إنشاء أقدم دار إسلامية لصك النقود في الجزيرة العربية.
- () إنشاء الأسطول الإسلامي.
- () قيام الحضارة الهلنستية.
- () ظهور وظيفة الوزير في الدولة.
- () فتح بلاد الهند على يد محمد بن القاسم الثقفي.
- () ظهور نظام البريد في الدولة الإسلامية.

ثالثاً: اكتب تقريراً عن دار الحكمة، فيما لا يزيد عن خمسة أسطر متضمناً النقاط التالية:

أ- الفترة الزمنية التي أنشئت فيها.

ب- جهود الخلفاء في تطويرها ورعايتها.

ج- علاقة الترجمة بدار الحكمة.

انتهت الأسئلة مع تمنياتنا لكم بالتوفيق والنجاح



