

تم تحميل هذا الملف من موقع المناهج العُمانية



\*للحصول على أوراق عمل لجميع الصفوف وجميع المواد اضغط هنا

<https://almanahj.com/om>

\* للحصول على أوراق عمل لجميع مواد الصف الحادي عشر اضغط هنا

<https://almanahj.com/om/11>

\* للحصول على جميع أوراق الصف الحادي عشر في مادة جغرافيا ولجميع الفصول, اضغط هنا

<https://almanahj.com/om/11geography>

\* للحصول على أوراق عمل لجميع مواد الصف الحادي عشر في مادة جغرافيا الخاصة بـ الفصل الأول اضغط هنا

<https://almanahj.com/om/11geography1>

\* لتحميل كتب جميع المواد في جميع الفصول للـ الصف الحادي عشر اضغط هنا

<https://almanahj.com/om/grade11>

للتحدث إلى بوت على تلغرام: اضغط هنا

[https://t.me/omcourse\\_bot](https://t.me/omcourse_bot)



امتحان الصف الحادي عشر  
للعام الدراسي ١٤٣٧/١٤٣٨ هـ - ٢٠١٦/٢٠١٧ م  
الدور الأول - الفصل الدراسي الأول

- المادة: الجغرافيا الاقتصادية.
- عدد صفحات أسئلة الامتحان: (٨) صفحات.
- زمن الإجابة: ساعتان.
- الإجابة في الورقة نفسها.

		اسم الطالب
الصف		المدرسة

التوقيع بالاسم		الدرجة		السؤال
المصحح الثاني	المصحح الأول	بالحروف	بالأرقام	
				١
				٢
				٣
				٤
مراجعة الجمع	جمعه			المجموع
				المجموع الكلي

## أجب عن جميع الأسئلة الآتية

**السؤال الأول:** ضع دائرة حول رمز الإجابة الصحيحة لكل مفردة من المفردات الآتية:

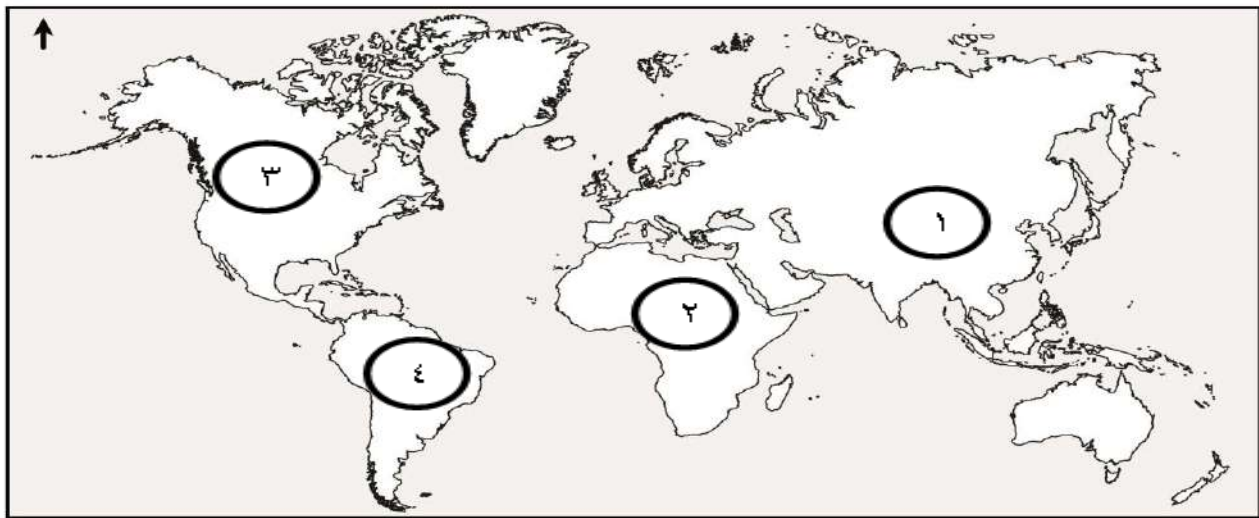
١- "مقياس استهلاك الفرد من الموارد الطبيعية مقارنة بمساحة الأرض المطلوبة لتزويد السكان بالموارد" يقصد به:

- أ- الموارد البيئية.  
 ب- البصمة البيئية.  
 ج- الإدارة البيئية.  
 د- الاستدامة البيئية.

٢- من أمثلة المعادن غير الحديدية:

البوتاس	الزنك	المنجنيز	النحاس
الكروم	النحاس	الرصاص	الزنك
المغنيسيوم	الرصاص	الكروم	المنجنيز
(أ)	(ب)	(ج)	(د)

٣- الرقم الذي يشير إلى القارة التي تتركز فيها نسبة انجراف التربة بشكل كبير:



أ- ١      ب- ٢      ج- ٣      د- ٤

يتبع/٢

تابع السؤال الأول:

٤- من أكبر دول العالم في إنتاج الطاقة النووية:

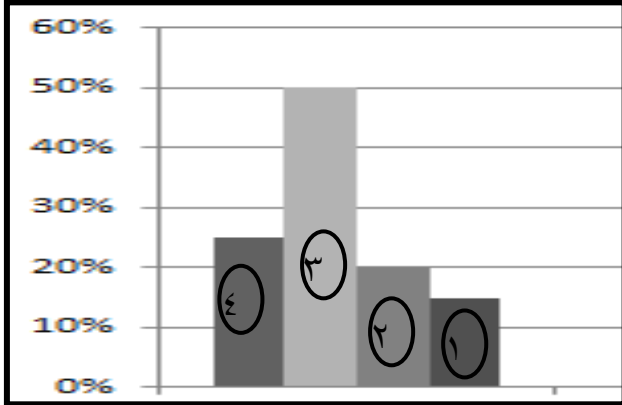
- أ- السويد. ب- هولندا. ج- بلجيكا. د- فرنسا.

٥- العمود البياني الذي يمثل نسبة الاحتياطي

السعودي من النفط العالمي:

أ- ١ ب- ٢

ج- ٣ د- ٤

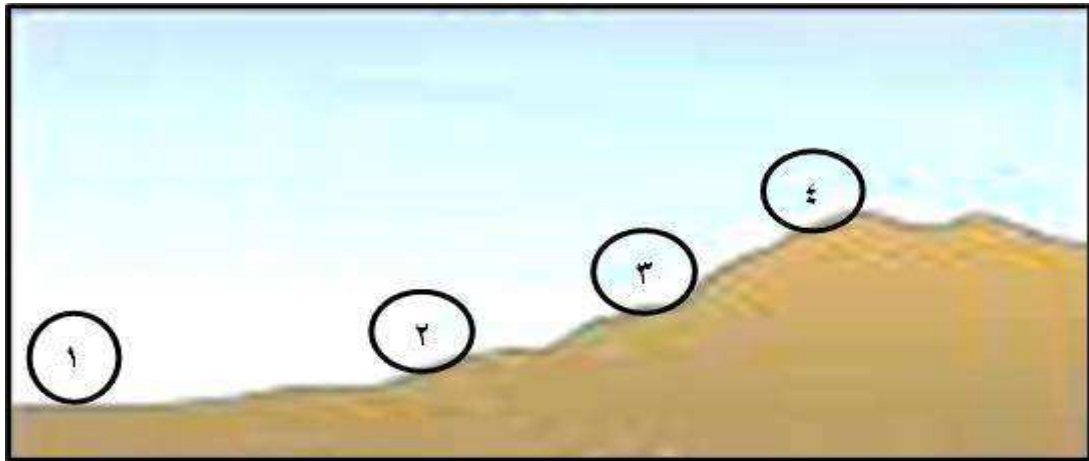


٦- تحتاج الزراعة المختلطة إلى مساحة:

أ- صغيرة وكثافة سكانية مرتفعة. ب- كبيرة وكثافة سكانية مرتفعة.

ج- كبيرة وكثافة سكانية منخفضة. د- صغيرة وكثافة سكانية منخفضة.

٧- الرقم الذي يشير إلى موقع التربة الأقل سمكاً:



٤-د

٣-ج

٢-ب

١-أ

يتبع/٣

### تابع السؤال الأول:

٨- التقنية الجغرافية الحديثة التي لها القدرة على " جمع البيانات المتعلقة بالنشاط الزراعي وربطها بالخرائط المكانية على هيئة قواعد بيانات يمكن تحليلها":

أ- RS      ب- Google Earth      ج- GIS      د- GLOBE



٩- نوع الصناعة في الشكل المقابل:

- أ- استخراجية.      ب- تحويلية.  
ج- تعدينية.      د- إنشائية.


١٠- أقل الحلول أفضلية في التعامل مع النفايات الصلبة:

- أ- تقليل النفايات.      ب- إعادة الاستخدام.  
ج- استخلاص الطاقة.      د- التخلص النهائي.



١١- من عيوب نوع الزراعة في الشكل المقابل:

- أ- ارتفاع تكاليف الإنشاء الأولية.  
ب- تحتاج إلى مساحات شاسعة.  
ج- تحتاج إلى عدد كبير من القوى العاملة.  
د- صعوبة إجراء عمليات التعقيم الزراعي.



١٢- يرمز الشكل المقابل إلى:

- أ- تدوير النفايات.      ب- المنتج العضوي.  
ج- تدوير التربة.      د- السماد العضوي.

### السؤال الثاني:

أ- (١) عرف المفاهيم الآتية:

أ- الموارد المتجددة.

.....

ب- الأمن الغذائي.

.....

أ- (٢) عدد اثنين لكل من:

أ- طرق تحقيق الإدارة الجيدة للموارد المعدنية.

..... ■

..... ■

ب- المبادئ التي تقوم عليها الزراعة المستدامة.

..... ■

..... ■

ب- الشكل المقابل يوضح إحدى طرق الحفاظ على التربة، ادرسه جيداً ثم أجب عن الأسئلة الآتية:



١- ماذا تسمى الطريقة التي تظهر في

الشكل المقابل؟

.....

٢- اذكر طريقة أخرى للحفاظ على التربة من

الانجراف غير الطريقة التي تظهر في الشكل المقابل.

.....

٣- بين أسباب انجراف التربة.

..... ■

..... ■

يتبع/٥

### تابع السؤال الثاني:

ج - فسر ما يأتي:

١- تعتمد بعض الدول على الفحم في ظل وجود بدائل أقل تلوثاً للبيئة.

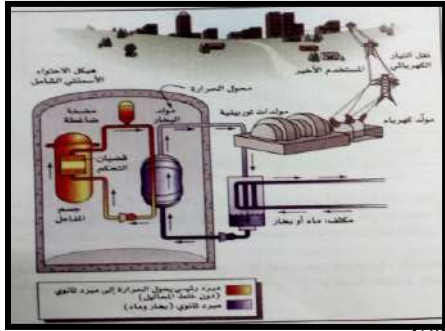
.....

٢- انخفاض نسبة الإقبال على المنتج العضوي في الدول النامية.


.....

### السؤال الثالث:

أ- أمامك مجموعة من الأشكال لمصادر الطاقة، ادرسها جيداً ثم أجب عن الأسئلة التالية



(٣)



(٢)



(١)

١- وضح مميزات مصدر الطاقة المشار إليه بالرقم (١).

.....

٢- ما الدولة التي يتم فيها بناء أكبر محطة للطاقة المشار إليها بالرقم (١) في العالم.

.....

٣- وضح عيوب الطاقة المشار إليها بالرقم (٢).

.....

٤- اذكر فوائد أخرى للطاقة المشار إليها بالرقم (٣) غير توليد الطاقة الكهربائية.

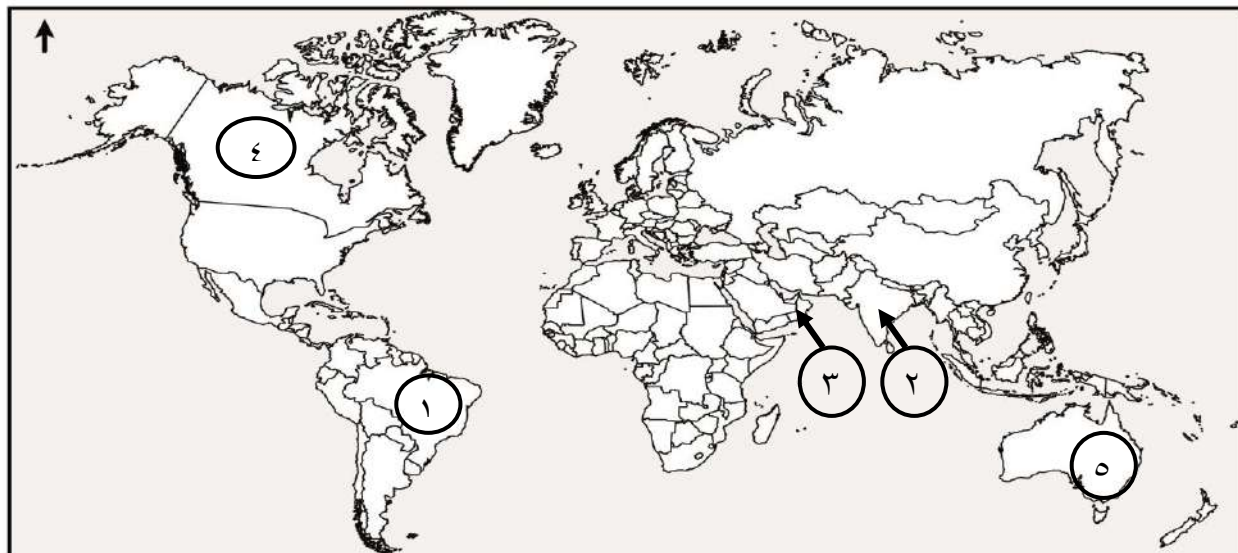
.....

.....

الصف: الحادي عشر المادة: الجغرافيا الاقتصادية الدور الأول - الفصل الدراسي الأول العام الدراسي ٢٠١٦/٢٠١٧م


### تابع السؤال الثالث:

ب- أمامك خريطة العالم ادرسها جيداً ثم أجب عن الأسئلة التالية:



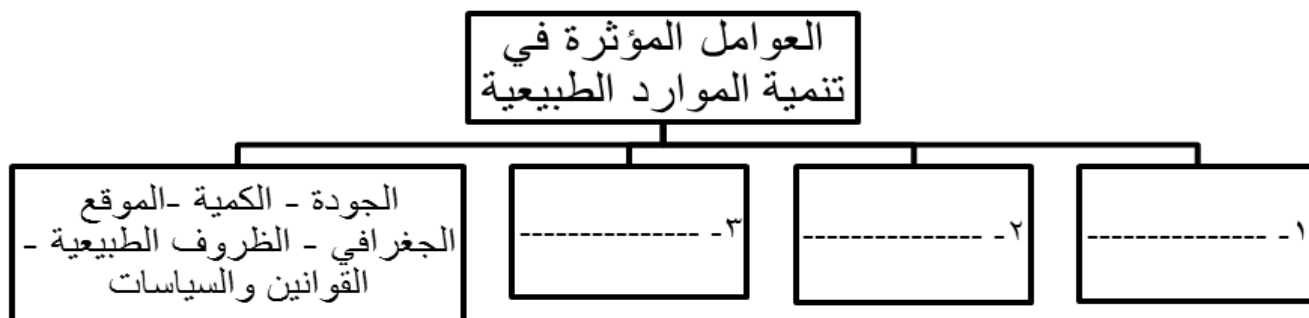
١- الرقم الذي يشير إلى الدولة التي تستخدم شجرة قصب السكر كوقود للحرق. ( )

٢- ما نوع الزراعة في المنطقة المشار إليها بالرقم (٥).....

٣- ظلل باستخدام الرمز  لتي تمتلك ما يكفي من الرياح لإنتاج طاقة بمعدل ٣ مرات أكثر من حاجتها.

٤- ما الصناعة الصديقة للبيئة والتي تشتهر بها بعض ولايات الدولة المشار إليها بالرقم (٣).  
.....

ج- أكمل المخطط الآتي:



يتبع ٧/



الصف: الحادي عشر المادة: الجغرافيا الاقتصادية الدور الأول - الفصل الدراسي الأول العام الدراسي ٢٠١٦/٢٠١٧م

### السؤال الرابع:



أ- (١) الشكل المقابل يوضح إحدى أنواع الزراعة،

ادرسه جيداً ثم أجب عن الأسئلة الآتية:

أ- علل / تكون إنتاجية الفرد منخفضة

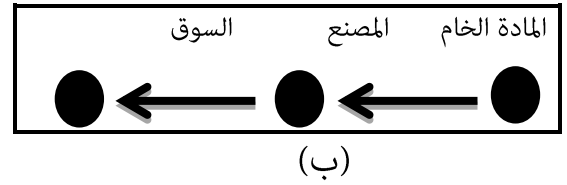
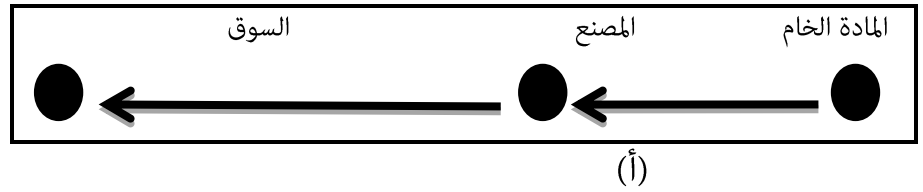
في هذا النوع من الزراعة.

.....  
.....

ب- ما المناطق التي ينتشر فيها هذا النوع من الزراعة.

.....

أ - (٢) - ادرس الشكلين (أ- ب) ثم أجب الأسئلة التالية:



أ- أي من الشكلين السابقين يفسر نظرية فيبر في التوطين الصناعي.

الشكل (أ). ( )

الشكل (ب). ( ) ضع (✓) أمام الإجابة الصحيحة.

ب- فسر إجابتك: .....

.....

**تابع السؤال الرابع:**



ب- (١) - يمثل الشكل المقابل أحد أنواع التلوث

الصناعي، ادرسه جيداً ثم أجب عن الأسئلة الآتية:

أ- ما نوع التلوث الظاهر في الشكل المقابل.

.....

ب- لماذا يعد هذا التلوث من أكثر أشكال التلوث انتشاراً على سطح الأرض؟

.....

ب- (٢) كيف يمكن الاستفادة من المخلفات الآتية عند إعادة تدويرها:

أ- المخلفات العظمية. ....

ب- المخلفات البلاستيكية.

.....

ج- (١) وضح تأثير كل من:

أ- التقدم التكنولوجي في استغلال المعادن:

.....

.....

ب- الاعتماد على مياه الأمطار في عملية الزراعة.

.....

.....

ج- (٢) فسر سبب توطين الصناعة في المواقع التالية:

سبب التوطين	موقع تركيز المصنع
	أ- تركيز مصانع الحديد والصلب بالقرب من الفحم.
	ب- تركيز مصانع الحديد والصلب بالقرب من أماكن توفر المياه.

انتهت الأسئلة مع الدعاء للجميع بالتوفيق والنجاح.



نموذج إجابة امتحان الصف الحادي عشر  
للعام الدراسي ١٤٣٧/١٤٣٨ هـ - ٢٠١٦/٢٠١٧ م  
الدور الأول - الفصل الدراسي الأول

المادة: الجغرافيا الاقتصادية. الدرجة الكلية: (٦٠) درجة.  
تنبيهه: نموذج الإجابة في (٤) صفحات.

أولاً: إجابة السؤال الموضوعي:

إجابة السؤال الأول				
المفردة	البديل الصحيح	الإجابة	الدرجة	الصفحة
١	ب	البصمة البيئية.	٢	١٧
٢	ج	الزنك النحاس الرصااص	٢	٢٠
٣	أ	١	٢	٣٤
٤	ج	بلجيكا.	٢	٤٦
٥	د	٤	٢	٤٣
٦	أ	مساحة كبيرة وكثافة سكانية مرتفعة.	٢	٦٦
٧	ب	٢	٢	٥٨
٨	ج	GIS	٢	٧٦
٩	د	إنشائية.	٢	٨١
١٠	د	التخلص النهائي.	٢	٩٣
١١	أ	ارتفاع تكاليف الإنشاء.	٢	٧٦
١٢	أ	تدوير النفايات.	٢	٩٣
المجموع			٢٤	

تابع نموذج إجابة امتحان الصف الحادي عشر  
للعام الدراسي ١٤٣٧/١٤٣٨ هـ - ٢٠١٦/٢٠١٧ م  
الدور الأول - الفصل الدراسي الأول  
المادة : الجغرافيا الاقتصادية

ثانيا: إجابة الأسئلة المقالية:

إجابة السؤال الثاني		الدرجة الكلية: ( ١٢ ) درجة	الرمز (/) يعني إجابة أخرى صحيحة
الجزئية	المفردة	الإجابة الصحيحة	الدرجة
أ- (١)	١ (أ)	هي الموارد الطبيعية التي بالإمكان أن تتجدد باستمرار من خلال العمليات التي تحدث في أنظمة الغلاف الأرضي.	١
	١ (ب)	قدرة المجتمع أو الدولة على توفير الغذاء للمواطنين كما ونوعاً في الوقت الحاضر والمستقبل.	١
أ- (٢)	أ	<ul style="list-style-type: none"> <li>▪ التدوير</li> <li>▪ البحث عن البديل.</li> </ul> (لكل مفردة درجة).	٢
	ب	<ul style="list-style-type: none"> <li>▪ السلامة البيئية</li> <li>▪ الجدوى الاقتصادية</li> <li>▪ العدالة الاجتماعية</li> <li>▪ القدرة على التكيف.</li> </ul> (يكتفي باثنين لكل درجة).	٢
ب	١	الحراثة الكنتورية.	١
	٢	بناء المدرجات وزراعتها.	١
	٣	<ul style="list-style-type: none"> <li>▪ بسبب زيادة نسبة المياه في التربة بفعل ماء المطر.</li> <li>▪ بفعل الرياح.</li> </ul> (لكل مفردة درجة).	٢
ج	١	لتوفره بكميات كبيرة /احتياجات متوفرة / ورخص أسعاره.	١
	٢	بسبب ارتفاع كلفته، والاعتماد على الطرق التقليدية في الزراعة.	١

يتبع ٣/

تابع نموذج إجابة امتحان الصف الحادي عشر  
للعام الدراسي ١٤٣٧/١٤٣٨ هـ - ٢٠١٦/٢٠١٧ م  
الدور الأول- الفصل الدراسي الأول  
المادة : الجغرافيا الاقتصادية

تابع ثانيا: إجابة الأسئلة المقالية:

إجابة السؤال الثالث				
الجزئية	المفردة	الإجابة الصحيحة	الدرجة	الصفحة
أ	١	مورد مجاني / ليس لها أثر على البيئة / الطاقة المنتجة منها كبيرة. ( يكتفى بوحدة)	١	٣٧
	٢	سلطنة عمان	١	٣٧
	٣	<ul style="list-style-type: none"> <li>■ غير فعالة في المناطق قليلة الرياح.</li> <li>■ تحتاج إلى محول كهربائي.</li> <li>■ تكلفة تجهيزها مرتفعة.</li> </ul> ( يكتفى بوحدة)	١	٣٨
	٤	<ul style="list-style-type: none"> <li>■ تحضير النظائر المشعة وتستخدم في الطب والعلاج / استكشاف بعض الأورام وتدمير الخلايا السرطانية.</li> <li>■ تستخدم في الصناعة للكشف عن الشقوق الدقيقة في عملية التصنيع. (لكل مفردة درجة)</li> </ul>	٢	٤٦
ب	١		١	٤٨
	٢	الزراعة التجارية / الزراعة الواسعة.	١	٦٤
	٣	التظليل على الولايات المتحدة الأمريكية.	١	٣٨
	٤	صناعة الفخار.	١	٨٧
ج	١	١- التكنولوجيا. ٢- مستوى الطلب. ٣- الموارد البديلة والموارد الاحتياطية. لا يشترط الترتيب ( لكل مفردة درجة)	٣	١٦

يتبع /٤

(٤)

تابع نموذج إجابة امتحان الصف الحادي عشر  
للعام الدراسي ١٤٣٧/١٤٣٨ هـ - ٢٠١٦/٢٠١٧ م  
الدور الأول - الفصل الدراسي الأول  
المادة : الجغرافيا الاقتصادية

تابع ثانيا: إجابة الأسئلة المقالية:

إجابة السؤال الرابع		الرمز (/) يعني إجابة أخرى صحيحة	الدرجة الكلية: (١٢) درجة						
الجزئية	المفردة	الإجابة الصحيحة	الدرجة						
أ- (١)	أ	لكثرة عدد الأفراد الذين يعملون في وحدة مساحة واحدة. لعدم استعانتهم بالآلات التي تزيد من المساحة التي يستطيعون زراعتها. (يكتفى بمفردة واحدة)	١						
	ب	المناطق الموسمية.	١						
أ- (٢)	أ	الشكل (ب)	١						
	ب	لأنه تبلغ تكاليف النقل أدناها. حيث تنجذب الصناعة باتجاه الموقع الذي يؤمن الجزء الأكبر من المتطلبات وبأقل كلفة ممكنة.	١						
ب (١)	أ	التلوث الهوائي.	١						
	ب	نظراً لسهولة انتقال الهواء من منطقة لأخرى خلال فترة زمنية قصيرة.	١						
ب- (٢)	أ	يستفاد منها في الحصول على المنتجات مثل الغراء / المواد الدهنية المستعملة في مواد التجميل/ في الصناعات الحرفية كالهدايا والتحف.	١						
	ب	يتم إنتاج منتج نهائي يصلح للاستعمالات المختلفة، مثل مشابك الغسيل / أكياس القمامة / خراطيم البلاستيك الكهربائية.	١						
ج (١)	أ	من خلال ما يوفره من آلات وأجهزة حديثة في عملية البحث والتنقيب واستخراج المعدن وتصنيعه ونقله وتوزيعه.	١						
	ب	ليس في قدرة المزارعين التحكم في أحوال زراعتهم، فقد يزيد المطر فيهدد الزراعة بالغرق، وقد يقل فيحصل الجفاف.	١						
ج (٢)		<table border="1"> <thead> <tr> <th>السبب</th> <th>موقع تركيز المصنع</th> </tr> </thead> <tbody> <tr> <td>لثقل وزنه وصعوبة نقله.</td> <td>أ- تركيز مصانع الحديد بالقرب من الفحم.</td> </tr> <tr> <td>تحتاج إلى كميات كبيرة من المياه لعملية التبريد.</td> <td>ب- تركيز مصانع الحديد بالقرب من أماكن توفر المياه.</td> </tr> </tbody> </table>	السبب	موقع تركيز المصنع	لثقل وزنه وصعوبة نقله.	أ- تركيز مصانع الحديد بالقرب من الفحم.	تحتاج إلى كميات كبيرة من المياه لعملية التبريد.	ب- تركيز مصانع الحديد بالقرب من أماكن توفر المياه.	٢
		السبب	موقع تركيز المصنع						
لثقل وزنه وصعوبة نقله.	أ- تركيز مصانع الحديد بالقرب من الفحم.								
تحتاج إلى كميات كبيرة من المياه لعملية التبريد.	ب- تركيز مصانع الحديد بالقرب من أماكن توفر المياه.								
(لكل مفردة درجة).									
٨٣									

نهاية نموذج الإجابة



امتحان الصف الحادي عشر

للعام الدراسي ١٤٣٦/١٤٣٧ هـ - ٢٠١٥/٢٠١٦ م

الدور الأول - الفصل الدراسي الأول

- عدد الصفحات: (٩).
- زمن الإجابة: ساعتان.
- المادة: الجغرافيا الاقتصادية.
- الإجابة في الورقة نفسها.

		اسم الطالب
الصف		المدرسة

السؤال	الدرجة بالأرقام (بالأحمر)		الدرجة بالحروف (بالأحمر)	(التوقيع بالاسم)	
	أحاد	عشرات		المصحح (بالأحمر)	المدقق (بالأخضر)
١					
٢					
٣					
٤					
المجموع				مراجعة الجمع والتشطيب (بالأزرق)	جمعه (بالأحمر)
المجموع الكلي	٦٠				

امتحان الصف الحادي عشر  
للعام الدراسي ١٤٣٦/١٤٣٧ هـ - ٢٠١٥/٢٠١٦ م  
الدور الأول - الفصل الدراسي الأول  
المادة: الجغرافيا الاقتصادية

أجب عن جميع الأسئلة الآتية:

السؤال الأول: ضع دائرة حول رمز الإجابة الصحيحة لكل مفردة من المفردات الآتية: (درجتان لكل مفردة)

١- أكبر دول الشرق الأقصى إنتاجًا للطاقة النووية:

أ- الصين وكوريا الجنوبية.

ب- كوريا الجنوبية واليابان.

د- الصين وكوريا الشمالية.

ج- كوريا الشمالية واليابان.

٢- برنامج بيئي يطبق في بعض مدارس سلطنة عمان من أهدافه دراسة التربة ومقارنتها بالبيانات التي يسجلها القمر الصناعي:

د- RS

ج- GLOBE

ب- Google Earth

أ- GIS

٣- أي المنتجات الآتية تتطلب سرعة إيصالها إلى أسواق الاستهلاك؟

د- البُن.

ج- القرنفل.

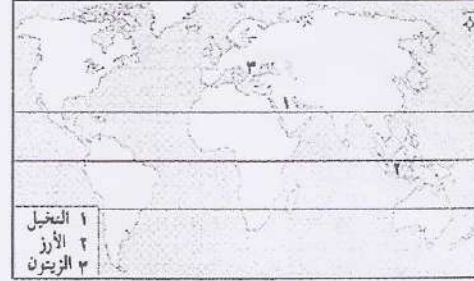
ب- الموز.

أ- القطن.

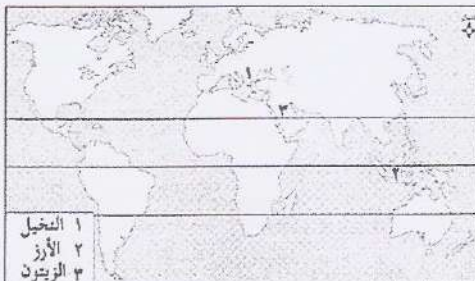
٤- الخريطة التي تبين التوزيع الصحيح لنوعية المحاصيل الزراعية حسب عامل المناخ:




ب



أ



د



ج



( ٢ )

تابع : امتحان الصف الحادي عشر

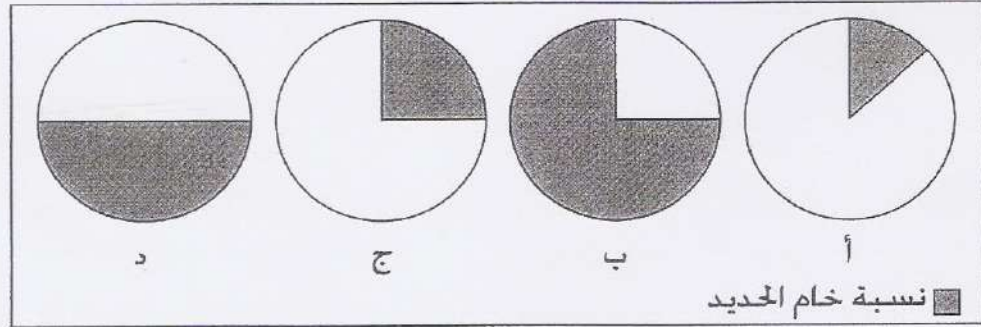
للعام الدراسي ١٤٣٦/١٤٣٧ هـ - ٢٠١٥/٢٠١٦ م

الدور الأول - الفصل الدراسي الأول

المادة: الجغرافيا الاقتصادية

تابع السؤال الأول:

٥- الشكل الذي يمثل الحد الأدنى من نسبة المعدن في خام الحديد لاستغلاله اقتصاديًا:



٦- " استطاعت إحدى الدول الحصول على احتياجاتها من السلع الاستهلاكية والاستثمارية وفقًا لإمكاناتها المتوفرة" المفهوم الذي حققته هذه الدولة:

أ- الأمن الغذائي. ب- الاكتفاء الذاتي. ج- التنمية الاقتصادية. د- الإنتاج الزراعي.

٧- أبرز التحديات التي تعيق الاستفادة من السدود المائية في سلطنة عمان لتوليد الطاقة الكهربائية:

أ- صعوبة الصيانة. ب- ارتفاع التكلفة. ج- التضاريس. د- الجفاف.

٨- يُعدُّ الكربون أعلى مكونات البصمة البيئية في الدول المشار إليها في الخريطة المقابلة بسبب:

أ- تحلية مياه البحر باستخدام الطاقة الشمسية.

ب- تأمين منتجات الأخشاب لتزويد السكان بالطاقة.

ج- زيادة مساحة الأراضي الزراعية لتنمية المحاصيل وتوفير الغذاء.

د- استهلاك كميات كبيرة من الوقود الأحفوري.



٩- القانون العماني الذي يُعدُّ النواة الأولى للبناء التشريعي في المجال البيئي:

أ- مراقبة التلوث البحري.

ب- حماية البيئة ومكافحة التلوث.

ج- حماية مصادر مياه الشرب من التلوث.

د- المحميات وصون الأحياء البحرية.

( ٣ )

تابع: امتحان الصف الحادي عشر  
للعام الدراسي ١٤٣٦/١٤٣٧هـ - ٢٠١٥/٢٠١٦م  
الدور الأول - الفصل الأول  
المادة: الجغرافيا الاقتصادية

تابع السؤال الأول:

١٠- الجدول الذي يبين المقارنة الصحيحة بين منتجات الزراعة العضوية والزراعة غير العضوية:

نوع الزراعة	الزراعة العضوية	الزراعة غير العضوية
وجه المقارنة	منخفضة	مرتفعة
تكلفة الإنتاج	أكثر جودة	أقل جودة
جودة الإنتاج	قليلة	كثيرة
كمية الإنتاج		

نوع الزراعة	الزراعة العضوية	الزراعة غير العضوية
وجه المقارنة	مرتفعة	منخفضة
تكلفة الإنتاج	أكثر جودة	أقل جودة
جودة الإنتاج	قليلة	كثيرة
كمية الإنتاج		

ب

أ

نوع الزراعة	الزراعة العضوية	الزراعة غير العضوية
وجه المقارنة	مرتفعة	منخفضة
تكلفة الإنتاج	أكثر جودة	أقل جودة
جودة الإنتاج	كثيرة	قليلة
كمية الإنتاج		

نوع الزراعة	الزراعة العضوية	الزراعة غير العضوية
وجه المقارنة	مرتفعة	منخفضة
تكلفة الإنتاج	أقل جودة	أكثر جودة
جودة الإنتاج	قليلة	كثيرة
كمية الإنتاج		

د

ج

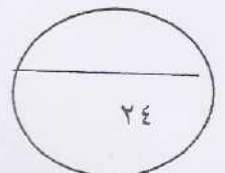
١١- تصبح البيئة أكثر عرضةً للتلوث الحراري الناتج عن العمليات الصناعية المختلفة عندما يكون:

- أ- التركيز قليلاً وفي منطقة واسعة.  
ب- التركيز عاليًا وفي منطقة محدودة.  
ج- التركيز عاليًا وفي منطقة واسعة.  
د- التركيز قليلاً وفي منطقة محدودة.

١٢- الموقع المثالي لتوطن مصانع السكر في الشكل المقابل:

● طريق مزدوج سريع	● السوق
١	٢
● مزرعة قصب السكر	● المدينة
٣	٤

١- أ ٢- ب ٣- ج ٤- د



( ٤ )

تابع : امتحان الصف الحادي عشر  
للعام الدراسي ١٤٣٦/١٤٣٧ هـ - ٢٠١٥/٢٠١٦ م  
الدور الأول - الفصل الدراسي الأول  
المادة: الجغرافيا الاقتصادية

السؤال الثاني: أجب عن الأسئلة الآتية:

أ- عرّف ما يأتي:

١- الاستدامة البيئية:

(درجة)

٢-الصناعات التحويلية:

(درجة)

٣-التلوث الضوضائي:

(درجة)

ب- الجدول الذي أمامك يوضح بعضًا من أنواع الموارد الطبيعية، ادرسه جيدًا ثم أجب عن الأسئلة التي تليه:

الموارد الطبيعية			
(ب)		(أ)	
النفط	المعادن	التربة	المياه الجوفية

١- أي أنواع الموارد الطبيعية قد تنفذ؟

الموارد الطبيعية في (أ) و (ب) .

(درجة) الموارد الطبيعية في (ب) فقط.  (ضع علامة ✓ على الإجابة الصحيحة).

٢- فسّر إجابتك:

(درجة)

ج-١- وضح أهمية ما يأتي:

أ- المستوى التعليمي للمزارع في إدارته لمزرعته.

(درجة)

ب- التربة في تلطيف درجات الحرارة على سطح الأرض.

(درجة)

ج- اختلاف توزيع الثروة المعدنية في دول العالم.

(درجة)

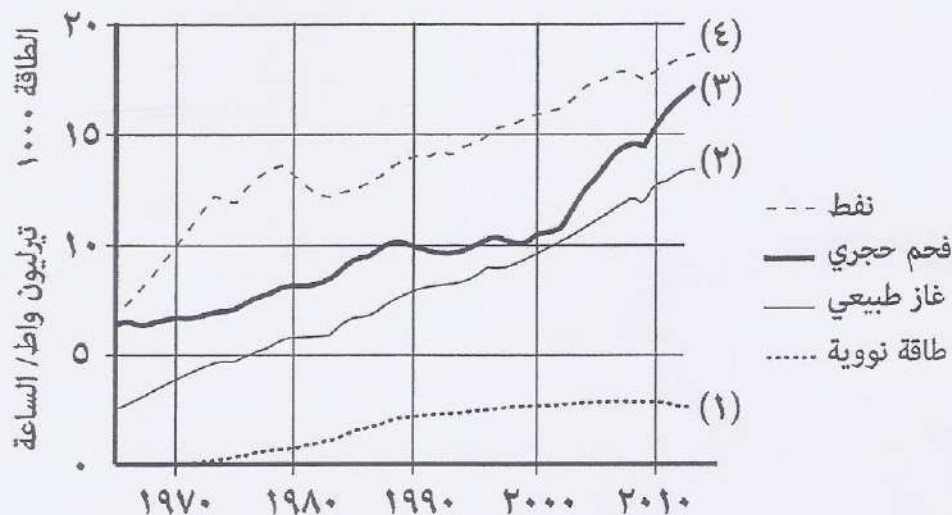
يتبع/ه

( ٥ )

تابع : امتحان الصف الحادي عشر  
للعام الدراسي ١٤٣٦/١٤٣٧ هـ - ٢٠١٥/٢٠١٦ م  
الدور الأول - الفصل الدراسي الأول  
المادة: الجغرافيا الاقتصادية

تابع السؤال الثاني :

ج-٢- انظر إلى الشكل الذي أمامك، والذي يوضح تطور استهلاك بعض مصادر الطاقة في العالم، ثم أجب عن الأسئلة التي تليه:



أ- ما اسم مصدر الطاقة الأحفوري الأقل تذبذبًا في تطور استهلاك الطاقة في العالم؟

(درجة)

.....

ب- فسّر ما يأتي:

١- يعد المصدر المشار إليه بالرقم (٣) أكثر أنواع الوقود تلويثًا للبيئة.

(درجة)

.....

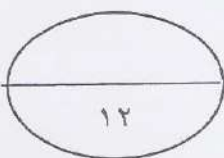
٢- قلة تطور استهلاك مصدر الطاقة المشار إليه بالرقم (١) مقارنة بمصادر الطاقة الأخرى بعد عام ٢٠١٠ م.

(درجة)

.....

ج- اقترح حلًا ممكنًا للتقليل من استخدامات مصدر الطاقة المشار إليه بالرقم (٤) في وسائل النقل المحلية.

(درجة)




( ٦ )

تابع : امتحان الصف الحادي عشر  
للعام الدراسي ١٤٣٦/١٤٣٧ هـ - ٢٠١٥/٢٠١٦ م  
الدور الأول - الفصل الدراسي الأول  
المادة: الجغرافيا الاقتصادية

السؤال الثالث:

أ- من خلال الصورة التي أمامك والتي توضح إحدى المشكلات المرتبطة بالأمن الغذائي لإحدى الدول النامية،  
أجب عن السؤال الذي تليه:



اكتب فقرة مترابطة تشمل الآتي:

وصف المشكلة التي تراها في الصورة، والظروف المناخية المتسببة في حدوثها، وأثر عامل تزايد سكان الدول النامية  
على هذه المشكلة، ومقترح علمي يساعد تلك الدول في حل هذه المشكلة.

.....  
.....  
.....  
.....  
.....  
.....  
.....  
.....  
.....  
.....

(٤ درجات)

ب- "قامت إحدى المدارس في سلطنة عمان بعمل مسابقة لإعادة تصنيع ورق الكتب التالفة للاستفادة منها في عمل  
بعض المجسمات التعليمية". في ضوء هذه العبارة أجب عن السؤالين الآتيين:

١- ما المصطلح الذي تشير إليه العبارة السابقة؟

(درجة)

٢- عدد اثنين من المكاسب البيئية التي حققتها تلك المدرسة.

(درجة)

(درجة)

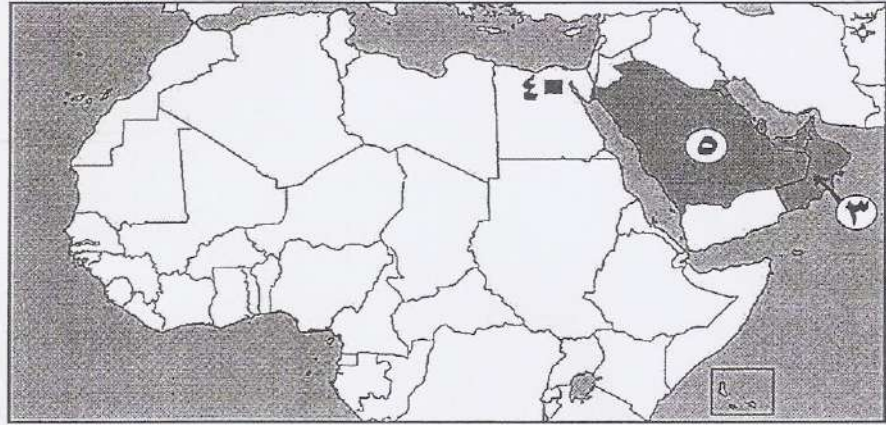
يتبع/٧

( ٧ )

تابع : امتحان الصف الحادي عشر  
للعام الدراسي ١٤٣٦/١٤٣٧هـ - ٢٠١٥/٢٠١٦م  
الدور الأول - الفصل الدراسي الأول  
المادة: الجغرافيا الاقتصادية

تابع السؤال الثالث

ج-١- من خلال الخريطة التي أمامك، أجب عن الأسئلة التي تليها:



أ- ما اسم مشروع الطاقة الذي يعدّ الأول من نوعه على مستوى جميع الدول المظللة في الخريطة، والمقام في الدولة المشار إليها بالرقم (٣)؟

..... (درجة)

ب- ما العوامل الطبيعية التي ساهمت في تنوع المعادن في الدولة المشار إليها بالرقم (٥)؟

..... (درجة)

ج- ما نوع التلوث الصناعي الذي تصدره المدينة المشار إليها بالرقم (٤) على مستوى مدن العالم؟

..... (درجة)

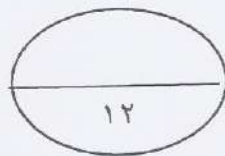
ج-٢- اذكر نتيجة اقتصادية واحدة ترتبت على الآتي:

أ- تطلّب حرفة التعدين رؤوس أموال كبيرة في عملية التنقيب عن المعادن.

..... (درجة)

ب- اعتماد بعض الدول على النفط كمصدر دخل أساسي.

..... (درجة)



( ٨ )

تابع : امتحان الصف الحادي عشر  
للعام الدراسي ١٤٣٦/١٤٣٧ هـ - ٢٠١٥/٢٠١٦ م  
الدور الأول - الفصل الدراسي الأول  
المادة: الجغرافيا الاقتصادية

السؤال الرابع:

أ- ادرس الخصائص الواردة في الجدول الذي أمامك لاختيار إحدى الموقعين (أ) و (ب) في إقامة مصنع إنتاج وتصدير الحديد والصلب للأسواق العالمية، ثم أجب عن الأسئلة التي تليه:

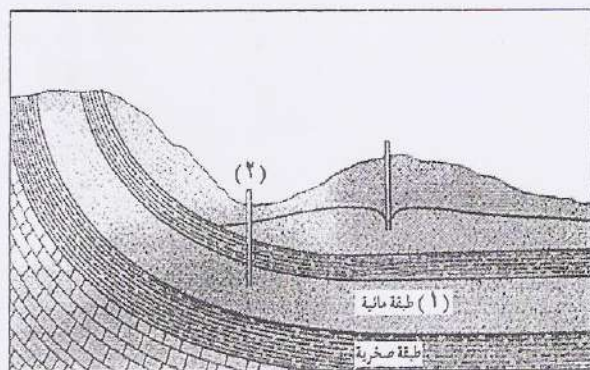
الموقع (ب)	الموقع (أ)	الخصائص
١٠٨٩ كم.	١١١٠ كم.	بعد الموقع عن منطقة استخراج الخام.
مطار - طرق معبدة.	ميناء - طرق معبدة.	البنية التحتية للموقع.
محطة كهرباء قريبة.	محطة كهرباء بعيدة.	مصدر الطاقة المستخدمة.

١- الموقع الذي سيحقق عائداً اقتصادياً في المستقبل:

- الموقع (أ)
- الموقع (ب)
- ٢- فسر إجابتك: .....

..... (درجة)

ب- "تعد الموارد المائية في المناطق الجافة إحدى العوامل الطبيعية المؤثرة في الإنتاج الزراعي". في ضوء هذه العبارة، ادرس الشكل المقابل ثم أجب عن الأسئلة الآتية:



١- ماذا تسمى كل مما يأتي:

- أ- المياه المشار إليها بالرقم (١) في الشكل المقابل.  
..... (درجة)
- ب- الآبار التي ستظهر منها المياه بصورة طبيعية على سطح الأرض عند القيام بعمليات الحفر في المنطقة المشار إليها بالرقم (٢).

..... (درجة)

٢- وضع أثر تذبذب سقوط الأمطار في المناطق الجافة على الإنتاج الزراعي.


..... (درجة)

( ٩ )

تابع : امتحان الصف الحادي عشر  
للعام الدراسي ١٤٣٦/١٤٣٧ هـ - ٢٠١٥/٢٠١٦ م  
الدور الأول - الفصل الدراسي الأول  
المادة : الجغرافيا الاقتصادية

تابع السؤال الرابع:

ج-١- الشكل الذي أمامك يوضح منطقتين: (١) منطقة منحدره تظهر فيها إحدى مشكلات التربة، و(٢) منطقة زراعية.  
من خلاله، أجب عن الأسئلة التي تليه:



أ- ما المشكلة التي تعاني منها التربة في المنطقة المشار إليها بالرقم (١) عند سقوط الأمطار؟

..... (درجة)

ب - فسر: تركّز الإنتاج الزراعي في المنطقة المشار إليها بالرقم (٢).

..... (درجة)

..... (درجة)

ج - وضّح بالرسم أعلاه (في المكان المخصص) كيف سيظهر شكل السفح الجبلي بعد معالجة مشكلة التربة في المنطقة المشار إليها بالرقم (١).

ج-٢- انظر إلى الشكل المقابل، ثم أجب عن الأسئلة الآتية:

أ- وضّح فكرة إنتاج الكهرباء من خلال استخدام التقنية الواردة في الشكل.

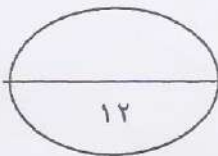

..... (درجة)

ب- عدد اثنتين من استخدامات هذه التقنية في سلطنة عمان.

..... (درجة)

..... (درجة)

مرايا وشرائح معدنية



انتهت الأسئلة مع تمنياتنا لكم بالتوفيق والنجاح





سلطنة عُمان  
وزارة التربية والتعليم

نموذج إجابة امتحان الصف الحادي عشر  
للعام الدراسي ١٤٣٦/١٤٣٧ هـ - ٢٠١٥/٢٠١٦ م  
الدور الأول - الفصل الدراسي الأول



الدرجة الكلية: (٦٠) درجة.

المادة: الجغرافيا الاقتصادية.  
تنبيه: نموذج الإجابة في (٦) صفحات.

أولاً: إجابة السؤال الموضوعي:-

الدرجة: (٢٤) درجة		إجابة السؤال الأول																	
الصفحة	الدرجة	الإجابة	البديل الصحيح	المفردة															
٤٦	٢	كوريا الجنوبية واليابان.	ب	١															
٣١	٢	GLOBE	ج	٢															
٦٢	٢	الموز.	ب	٣															
٥٨،٥٧	٢		أ	٤															
٢١	٢		د	٥															
٧١	٢	الاكتفاء الذاتي.	ب	٦															
٤٠	٢	الجفاف.	د	٧															
١٨	٢	استهلاك كميات كبيرة من الوقود الأحفوري.	د	٨															
٩٧	٢	مراقبة التلوث البحري.	أ	٩															
٧٤-٧٢	٢	<table border="1"> <thead> <tr> <th>الزراعة غير العضوية</th> <th>الزراعة العضوية</th> <th>نوع الزراعة</th> </tr> </thead> <tbody> <tr> <td>منخفضة</td> <td>مرتفعة</td> <td>وجه المقارنة</td> </tr> <tr> <td>أقل جودة</td> <td>أكثر جودة</td> <td>تكلفة الإنتاج</td> </tr> <tr> <td>كثيرة</td> <td>قليلة</td> <td>جودة الإنتاج</td> </tr> <tr> <td></td> <td></td> <td>كمية الإنتاج</td> </tr> </tbody> </table>	الزراعة غير العضوية	الزراعة العضوية	نوع الزراعة	منخفضة	مرتفعة	وجه المقارنة	أقل جودة	أكثر جودة	تكلفة الإنتاج	كثيرة	قليلة	جودة الإنتاج			كمية الإنتاج	أ	١٠
الزراعة غير العضوية	الزراعة العضوية	نوع الزراعة																	
منخفضة	مرتفعة	وجه المقارنة																	
أقل جودة	أكثر جودة	تكلفة الإنتاج																	
كثيرة	قليلة	جودة الإنتاج																	
		كمية الإنتاج																	
٩١	٢	التركيز عاليًا وفي منطقة محدودة.	ب	١١															
٨٢	٢	مزرعة قصب السكر.	ج	١٢															
٢٤ درجة		المجموع																	

( ٢ )

تتابع نموذج إجابة امتحان الصف الحادي عشر  
للعام الدراسي ١٤٣٦/١٤٣٧ هـ - ٢٠١٥/٢٠١٦ م

الفصل الدراسي الأول - المادة: الجغرافيا الاقتصادية

ثانياً: إجابة الأسئلة المقالية:-

الدرجة الكلية : ( ١٢ ) درجة		إجابة السؤال الثاني			
الصفحة	الدرجة	الرمز ( / ) يعني إجابة أخرى صحيحة	الإجابة الصحيحة	المفردة	الجزئية
١٥	١		- استدامة رأس المال الطبيعي / قاعدة الموارد الطبيعية بحيث تبقى قدرة على توفير متطلبات عمليات التنمية من الموارد / الحفاظ على الموارد الطبيعية للأجيال القادمة. <u>يكتفى بواحدة</u>	١	
٨١	١		- صناعات تقوم على تحويل المواد الخام من حالتها الأصلية إلى حالة جديدة تختلف في خصائصها وشكلها.	٢	أ
٩١	١		- الأصوات التي تؤدي إلى تأثيرات مؤذية صحياً / أصوات غير مقبولة أو غير مرغوب فيها / أصوات عالية مؤذية صحياً. <u>يكتفى بواحدة</u>	٣	
١٣	١		- الموارد الطبيعية في (أ) و(ب).	١	ب
١٣	١		-لأن جميع هذه الموارد تنفذ اذا استغلها الإنسان بشكل مفرط/لأن الموارد الطبيعية في(أ) غير متجددة والموارد الطبيعية في (ب) قد تنفذ إذا زاد معدل استخراجها عن معدل تجديدها. <u>يكتفى بواحدة</u>	٢	
٦١،٦٠	١		أ - اختياره لأفضل المحاصيل الزراعية التي تناسب أرضه/ تطبيقه للتكنولوجيا في الزراعة/ استخدامه للمبيدات الحشرية والأسمدة الكيميائية/ تحسينه للسلاسل النباتية/ استخدامه لوسائل الري الحديثة/ إنشاء البيوت الزجاجية. <u>يكتفى بواحدة</u>	١	ج
٢٦	١		ب - تقلل من مخاطر تزايد الاحتباس الحراري/ تقلل تآكل طبقة الأوزون. <u>يكتفى بواحدة</u>		
٢٣	١		ج - التبادل الاقتصادي للمعادن بين الدول/ التبادل التجاري للمعادن بين الدول. <u>يكتفى بواحدة</u>		

( ٣ )

تابع نموذج إجابة امتحان الصف الحادي عشر  
للعام الدراسي ١٤٣٦/١٤٣٧ هـ - ٢٠١٥/٢٠١٦ م  
الدور الأول- الفصل الدراسي الأول  
المادة: الجغرافيا الاقتصادية



الدرجة الكلية: ( ١٢ ) درجة

الصفحة	الدرجة	الرمز ( / ) يعني إجابة أخرى صحيحة	الإجابة الصحيحة	المفردة	الجزئية
٤٧	١		أ- الغاز الطبيعي.		
٤١	١		ب- ١- ينتج كميات كبيرة من أكسيد الكبريت والنتروجين وثاني أكسيد الكربون وغيرها من المواد السامة. ٢- لأنها طاقة غير آمنة/ خطورة تسرب نسب مرتفعة من الإشعاعات النووية/ نتج عنها عدة كوارث بشرية ( تشيرنوبل، محطة فوكوشيما).	٢	ج
٤٦	١		<u>يكتفى بواحدة</u>		
٤٨	١		ج- الاعتماد على النقل العام/ استخدام الدرجات الهوائية/ استخدام مصادر الطاقة النظيفة/ رفع كفاءة الطاقة المنتجة والطاقة المستهلكة/ استخدام محاصيل الطاقة. <u>يكتفى بواحدة</u>		

الدرجة الكلية: ( ١٢ ) درجة

إجابة السؤال الثالث

الصفحة	الدرجة	الرمز ( / ) يعني إجابة أخرى صحيحة	الإجابة الصحيحة	المفردة	الجزئية
٦٩،٧٠ ٧١	٤		- توضح الصورة ظاهرة الجوع وسوء التغذية / ونقص في الإنتاج النباتي، والحيواني حيث تكون النتيجة نقص كمية الغذاء وتراجع نوعيته درجة، بسبب تذبذب الأمطار، والجفاف، وحدوث الفيضانات درجة، وبعد النمو السكاني الكبير (الانفجار السكاني) في الدول النامية عائقاً في تحقيق الأمن الغذائي/ كما أنه يزيد من حدة المشكلة/ لأن معدل النمو السكاني فيها يفوق معدل الزيادة في إنتاج الغذاء درجة، ومن أهم الإجراءات التي تساعد الدول على تحقيق الأمن الغذائي الاهتمام بالتطور التكنولوجي والعلمي، واستخدام الأساليب والوسائل الزراعية الحديثة، والاهتمام بالبحوث العلمية والزراعية درجة.		أ

( ٤ )

تابع نموذج إجابة امتحان الصف الحادي عشر  
للعام الدراسي ١٤٣٦/١٤٣٧ هـ - ٢٠١٥/٢٠١٦ م  
الدور الأول الفصل الدراسي الأول  
المادة: الجغرافيا الاقتصادية



الدرجة الكلية: ( ١٢ ) درجة		إجابة السؤال الثالث			
الصفحة	الدرجة	الرمز (/) يعني إجابة أخرى صحيحة	الإجابة الصحيحة	المفردة	الجزئية
٩٣	١		- تدوير النفايات/ إعادة التدوير / التدوير / Recycle. <u>يكتفى بوحدة</u>	١	ب
٩٤	٢		- توفير الطاقة الكهربائية/ توفير استهلاك المواد الخام/ خفض نسبة التلوث/ تقليل قطع الغابات/ زيادة الوعي البيئي/ توفير الورق. <u>يكتفى باثنين لكل درجة.</u>	٢	
٣٨	١		أ- مشروع محطة طاقة الرياح.	١	ج
١٩	١		ب- العمليات الجيولوجية/ العمليات الجيومورفولوجية. <u>يكتفى بوحدة</u>		
٨٩	١		ج- التلوث الهوائي.		
٢٢	١		أ- احتكار بعض الدول الغنية أو الشركات الكبرى عمليات التنقيب عن المعادن / عدم تمكن بعض الدول من استخراج المعادن / توقف عمليات التنقيب عن المعادن . <u>يكتفى بوحدة</u>	٢	
٤٢	١		ب- يعرضها للوقوع في العديد من المشكلات المرتبطة بتذبذب أسعار النفط/ احتمالية النفاد. <u>يكتفى بوحدة</u>		

( ٥ )

تابع نموذج إجابة امتحان الصف الحادي عشر  
الدراسي ١٤٣٦/١٤٣٧ هـ - ٢٠١٥/٢٠١٦ م  
الدور الأول الفصل الدراسي الأول  
المادة: الجغرافيا الاقتصادية



إجابة السؤال الرابع					
الدرجة الكلية: ( ١٢ ) درجة					
الصفحة	الدرجة	الرمز ( / ) يعني إجابة أخرى صحيحة	الإجابة الصحيحة	المفردة	الجزئية
٨٢	١		- الموقع (أ).	١	
٢١ ٨٥،٨٢	١		- وجود الميناء في الموقع (أ) / رخص أسعار النقل المائي / إمكانية تصدير كميات كبيرة من المعدن عن طريق الميناء / الصناعة تتجذب باتجاه الموقع الذي يؤمن الجزء الأكبر من المتطلبات بأقل تكلفة ممكنة. <u>يكتفى بوحدة</u>	٢	أ
٥٩	١		أ- المياه الجوفية/ المياه الباطنية. <u>يكتفى بوحدة</u>	١	
٥٩	١		ب- الآبار الارتوازية.		
٥٩	١		قلة الإنتاج الزراعي/ اندثار المحاصيل/ قتل النباتات. <u>يكتفى بوحدة</u>	٢	ب

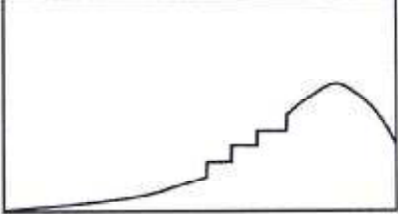
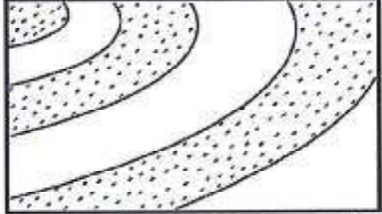
(٦)

تابع نموذج إجابة امتحان الصف الحادي عشر  
للعام الدراسي ١٤٣٦/١٤٣٧ هـ - ٢٠١٥/٢٠١٦ م  
الدور الأول الفصل الدراسي الأول  
المادة: الجغرافيا الاقتصادية



الدرجة الكلية: (١٢) درجة

تابع إجابة السؤال الرابع

الصفحة	الدرجة	الرمز (/) يعني إجابة أخرى صحيحة	الإجابة الصحيحة	المفردة	الجزئية
٣٣	١		أ - انجراف التربة.	١	
٦٠	٢		ب- لسهولة العمل فيها/ وخصوبة تربتها/ وفرة التربة/ لسهولة الحصول على مياه الري. <u>يكتفى باثنين لكل درجة.</u>		
٦٠، ٣٣	١		ج -  أو 	٢	ج
٣٧	١		أ- تركيز أشعة الشمس بواسطة مجموعة من المرايا والشرائح المعدنية ذات السطح اللامع في بؤرة واحدة.		
٣٧	٢		ب- تعزيز إنتاج النفط/ توليد الكهرباء/ تحلية المياه. <u>يكتفى باثنين لكل درجة.</u>		

نهاية نموذج الإجابة