

تم تحميل هذا الملف من موقع المناهج العمانية



كتيب أنشطة المادة مع نماذج اختبارات سابقة

[موقع المناهج](#) ⇨ [المناهج العمانية](#) ⇨ [الصف الحادي عشر](#) ⇨ [اجتماعيات](#) ⇨ [الفصل الثاني](#) ⇨ [الملف](#)

تاريخ إضافة الملف على موقع المناهج: 2024-05-30 15:46:40

إعداد: زويبة بنت سالم الذهلي

التواصل الاجتماعي بحسب الصف الحادي عشر



اضغط هنا للحصول على جميع روابط "الصف الحادي عشر"

روابط مواد الصف الحادي عشر على تلغرام

[الرياضيات](#)

[اللغة الانجليزية](#)

[اللغة العربية](#)

[التربية الاسلامية](#)

المزيد من الملفات بحسب الصف الحادي عشر والمادة اجتماعيات في الفصل الثاني

[امتحان تحريبي نهائي مع نموذج الإجابة](#)

1

[امتحان تحريبي مع نموذج الإجابة](#)

2

[اختبار قصير ثاني](#)

3

[اختبار قصير أول](#)

4

[الاختبار الاحتياطي القصير الأول](#)

5

أجعل الجغرافيا أكثر متعة




سلطنة عمان
وزارة التربية والتعليم
مدرسة الرستاق للتعليم الأساسي (٥ - ١٢)

معانصنع بصمتنا نجاز

مادة الجغرافيا الاقتصادية

اسم الطالبة /
المعلمة المشرفة / زوينة بنت سالم الذهلي



نشاط (1) أجمع الكلمات من سلة الفواكه وشكل منها مفهوم النقل

ثم لونها لتحصل على شكل جميل





نشاط (2) أجب عن الأسئلة التي يحويها الشكل المقابل:



نشاط (3)

الشكل الذي يمثل المرحلة الأولى من مراحل تطور وسائل النقل



نشاط 4


من خلال الخريطة التي أمامك أكتب فوق النقاط المدن التي يمر بها طريق القوافل القديمة في قارة آسيا وطريق العنبر



نشاط 5



وضحي أثر الثورة الصناعية في تقدم النقل البري

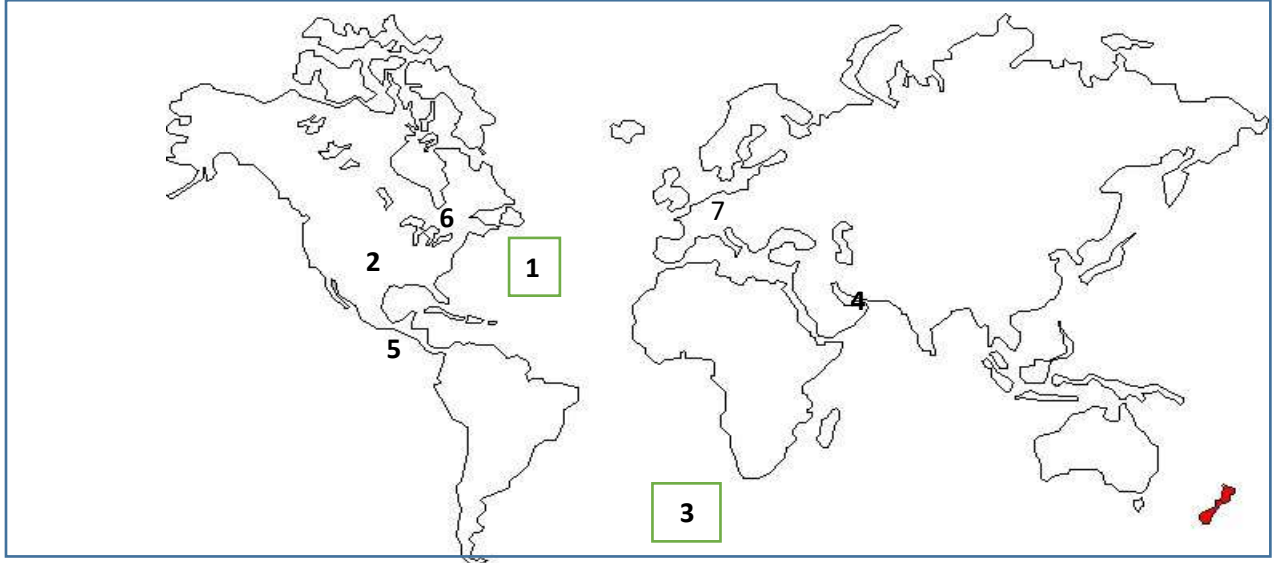


مدرسة الرستاق للتعليم الأساسي

معلم أول جغرافيا


زويينة سالم الذهلي

(نشاط 6) أمامك خريطة صماء للعالم من خلالها أجب عن الأسئلة التي تليها:




- 1- ظلل الدولة التي يوجد فيها نهر الغانج/ المسيسيبي بالرمز
- 2- بماذا تفسر صلاحية النهر المشار اليه بالرقم 2 للملاحة
- 3- ارسم على الخريطة خط رأس الرجاء الصالح // خط الأطلسي الجنوبي محده البداية والنهاية
- 4- بماذا تفسر صعوبة النقل البحري في المنطقة رقم 3
- 5- اكتب الرقم الدال على كلا من:
*قناة بنما () مضيق هرمز () البحيرات الخمس العظمى () نهر السين ()

نشاط (8)



- 1- أ- ما اسم الجهاز الموضح أمامك؟
- ب- بماذا تفسر ظهور هذ النظام في الملاحة البحرية؟
- ت- وضح فكرة عمل الجهاز؟
- ث- ما أهمية استخدام السفن للجهاز؟

(9) امامك صورتين لوسائل نقل مختلفة من خلالها اجب عن الأسئلة التالية:



- 1- أي الصورتين تحتل موقعا متميزا بين وسائل النقل؟ () ()
 علل ذلك:.....
 1- اذكر مميزات النقل بواسطة الوسيلة رقم (1)؟
 2- ماوجه الاختلاف بين وسيلة النقل (2) عن وسيلة النقل (1)؟



(10) ادرس الجدول الذي امامك والذي يوضح خصائص ثلاثة أنهار، ثم أجب عن السؤال الذي يليه:

النهر // الخصائص	النهر الأول	النهر الثاني	النهر الثالث
درجة التعرج	غير متعرج	قليل التعرج	غير متعرج
نوع المصب	عريض	عريض	عريض
مصدر التغذية المائية	أمطار موسمية	أمطار طوال العام	أمطار شتوية
العوائق الصخرية	لا توجد	لا توجد	قليلة وصغيرة الحجم

1- أي من الأنهار الثلاثة السابقة أكثر صلاحية للملاحة؟ ولماذا؟

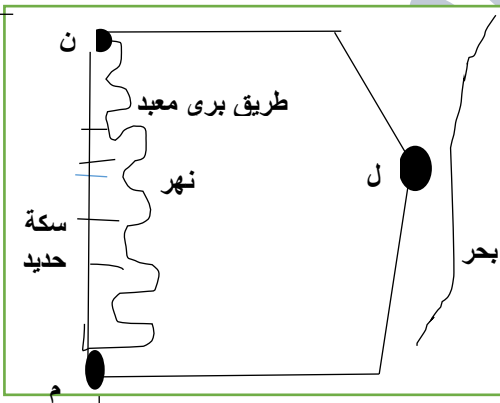
2- بماذا تفسر:

لابد أن يكون مصب النهر الصالح للملاحة عريضا

11- أفضل وسيلة تستخدم لنقل القمح من المدينة

(ن) الى المدينة (م) كما هو مبين بالشكل المقابل:

○ سكة حديد ○ الطريق المعبد ○ البحر ○ النهر



12- النظام الذي يساعد في التخطيط لشبكات الطرق ومواقع الجسور والأنفاق:

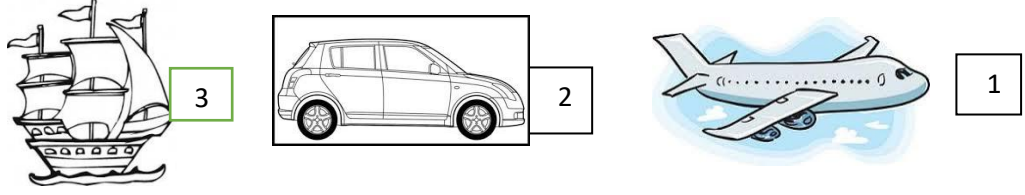
د- GOES

ج- RS

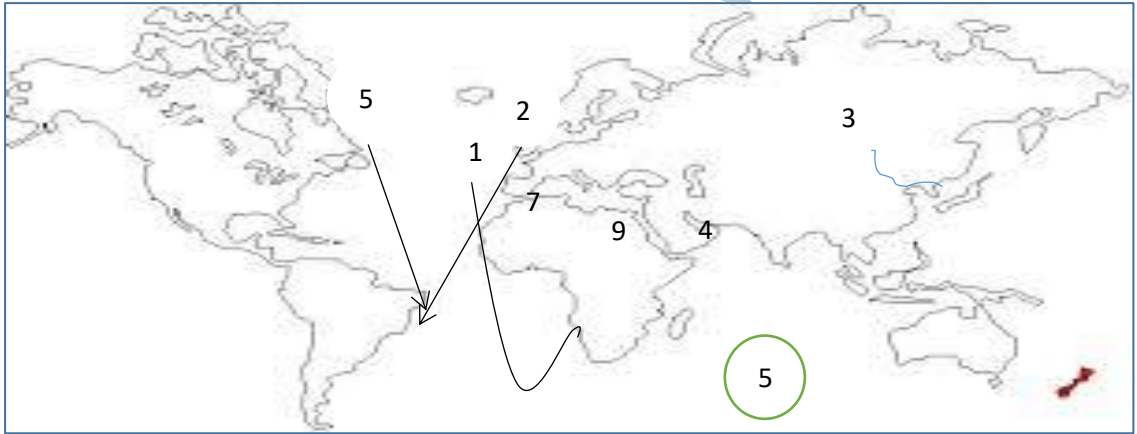
ب- GPS

أ- GIS

13- انظر الى الصور التي أمامك وأجب من خلالهما عن الأسئلة التالية:




- أي الصور تمثل أقدم أنواع النقل التي عرفها الانسان واستخدمها ()
بماذا تفسر وسيلة النقل رقم (1) تركيز على نوع المواد المنقولة وليس على وزنها
أ- أي وسيلة نقل يتم من خلالها نقل مايزيد عن 75% من حجم التجارة العالمية ()
ب- ما مميزات النقل باستخدام الوسيلة رقم (1)
(14) أمامك خريطة صماء للعالم من خلالها أجب عن الأسئلة التي تليها:



- 1- ارسم خط سير السفن العمانية من سلطنة عمان الى اوروبا كما يلي:
أ- قبل حفر قناة السويس باستخدام الرمز (←)
ب- بعد حفر قناة السويس باستخدام الرمز (← -)
ج- حدد موقع قناة بنما باستخدام الرمز ○
د- حدد الأرقام من الخريطة التي تشير الى كلا من:
1- الممر المائي الذي يربط السواحل الشرقية بالسواحل الغربية للولايات المتحدة ()
2- مضيق جبل طارق () ،، مضيق هرمز () ،، قناة السويس ()
3- سم الخط البحري المشار اليه بالرقم (1) والرقم (2)
4- فسر: صعوبة النقل البحري في المنطقة المشار اليها بالرقم (5)

15- مامخاطر وسائل النقل التالية على البيئة:



16- اقترح حلولاً للتقليل من آثار البيئة التي تخلفها وسائل النقل ؟.....



17- استعن بخريطة سلطنة عمان المقابلة للإجابة على المفردات من (3-1):

1- الرقم الذي يشير إلى الأنبوب الرئيس لنقل النفط إلى ميناء التصدير:

- أ- 1 ب- 2 ج- 3 د- 4

2- أهم البضائع التي تعبر من خلال الممر المائي المشار إليه

بالرقم (4):

أ- التمور ب- الأخشاب ج- النفط د- المطاط

3- الرقم الذي يشير إلى الأنبوب الرئيسي لنقل الغاز إلى ميناء التصدير:

- أ- 1 ب- 2 ج- 3 د- 4

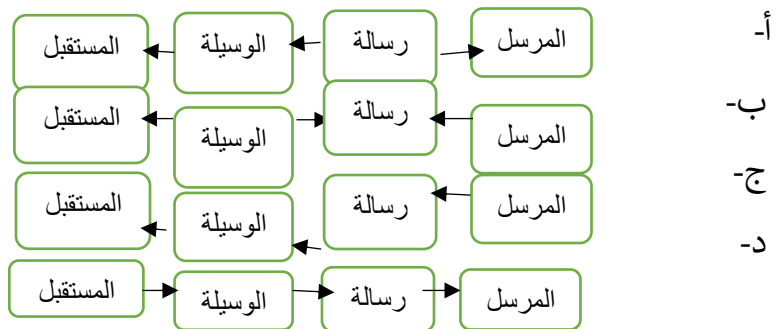
18- أولى المحطات التي سيمر بها خط السكك الحديدية لدول مجلس التعاون في سلطنة عمان:

- أ- البريمي ب- صحار ج- الدقم د- صلالة

19- نظام يساعد السفن على تحديد المواقع في البحار والمحيطات:

- أ- GIS ب- GPS ج- RS د- GOES

20- الشكل الصحيح لعملية الاتصال:



20-صنف أهمية الاتصالات الأتية حسب المجالات الواردة في الجدول:

- السرعة في انجاز المعاملات البنكية
- متابعة المستجدات في البوابة التعليمية
- التعرف على عادات الشعوب
- ممارسة الأعمال التجارية
- الاستماع الى برنامج اذاعي عن المشكلات الأسرية
- مشاهدة طلاب الصف الثاني عشر لبرنامج تلفزيوني (درس على الهواء)
-

المجال الاقتصادي	المجال الاجتماعي	المجال الثقافي

21- الترتيب الصحيح لأبرز الاختراعات الخاصة بالاتصالات:

ب- 1842 1895 1957 1970

أ- 1895 1957 1970

كابيل بحري تلغرافي لاسلكي قمرصناعي الياف بصرية

قمرصناعي تلغرافي لاسلكي كابيل بحري الياف بصرية

د- 1842 1895 1957 1970

ج- 1842 1895 1957 1970

تلغراف لاسلكي هاتف قمرصناعي الياف بصرية

كابيل بحري تلغرافي لاسلكي الياف بصرية قمرصناعي

22-القمر الصناعي الذي يعمل على توسيع خدمات البث والاتصالات اللاسلكية:

أ- Nilesat ب- TIROS ج- Landsat د- GOES

23-القمر الصناعي الذي يستخدم في رصد حركة الأعاصير والمنخفضات الجوية:

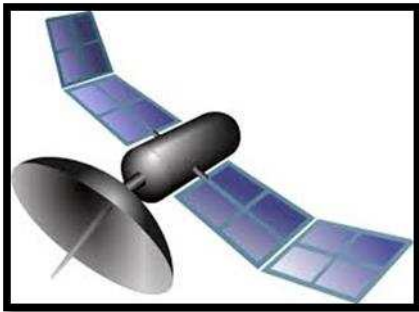
ب- Nilesat ب- TIROS ج- Landsat د- GOES


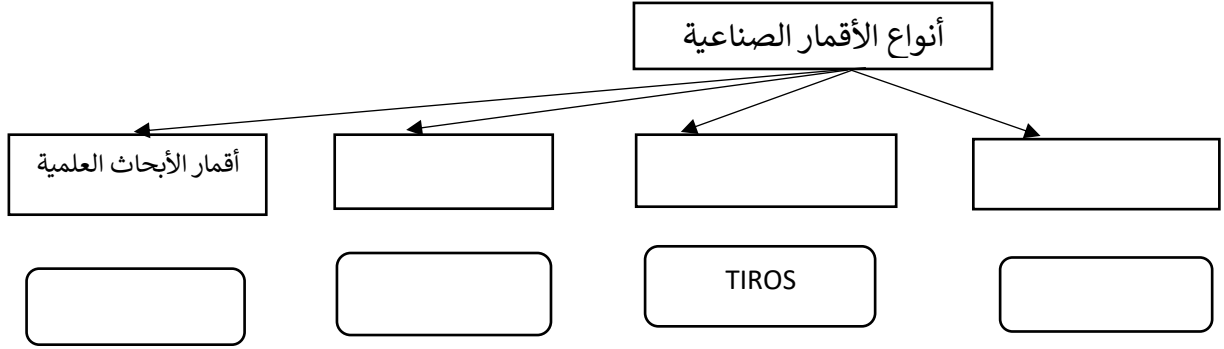
24-أمامك صورة توضح إحدى وسائل الاتصالات الحديثة :

1- إعط تعريفًا واضحًا لهذه الوسيلة

2-فسر: استخدام هذه الوسيلة في الاتصالات بين دول العالم

1- اسهام هذه الوسيلة في تطور الأنظمة الاقتصادية في العالم





1- اعط تعريف لتقنية الاتصالات الموضحة أمامك

.....

2- اذكر أهمية استخدام هذه التقنية في :

3- أ- الهاتف.....

ت- شبكة المعلومات (الأنترنت).....(يكتفى بوحدة)



26-هل تعرفون من أنا؟

- أ- ومن صاحب الفضل في اختراعي؟ وفي أي عام ميلادي؟
 ب-بماذا تفسر: اختراعي يعد نقلة كبيرة في مجال الاتصالات؟
 ج- ما أهمية التطبيقات التي تحملها هواتفي الذكية؟

27-أنا احدي وسائل الاتصالات الحديثة اختراعي أحدث تطورا

كبيراً في مجال الاتصالات ؟؟؟؟ هل عرفتموني؟

كيف كانت بدايات استخدامي؟

بظهوري ظهر نوع جديد من الأقتصاد هو.....

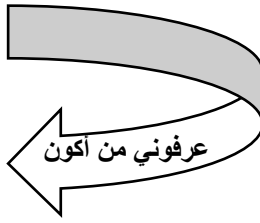
الذي يعتمد على.....

قد تعترضني بعض المشاكل.....

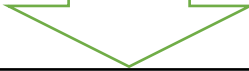
ولكن تغلبت عليها باستخدام..... التي اعطتني

شهرة كبيرة في العالم من حيث.....


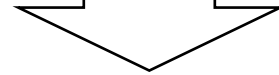




سلبية



إيجابية



29- أمامك خريطة صماء للعالم أدرسيها جيدا وأجب عن الأسئلة التي تليها:



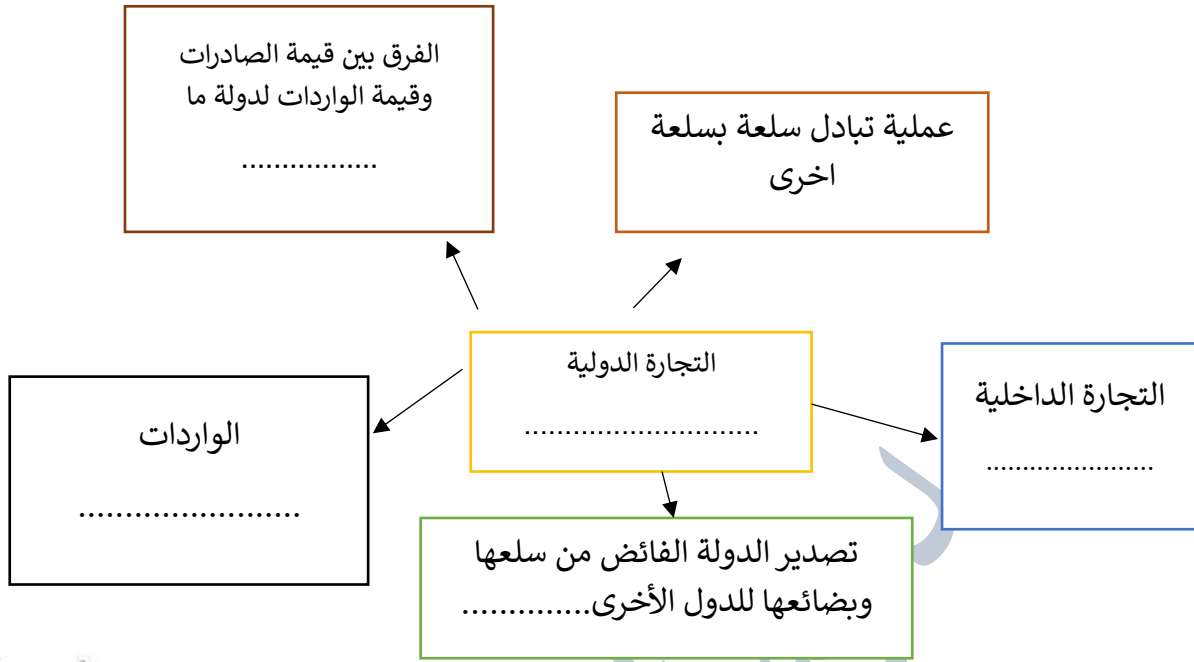
- 1- حد رقم الدولة التي كانت بداية لتطبيق الحكومة الإلكترونية
- 2- ظلل الدولة التي طبقت الحكومة الإلكترونية رسميا عام 2001
- 3- حدد الدول العربية التي بدأت بتطبيق الحكومة الإلكترونية على الخريطة بالرمز *
- 4- سم المشروع الذي طبقته الدولة رقم (2) في مجال استخدام الحكومة الإلكترونية
- 5- دلل على اهتمام سلطنة عمان بتطبيق الحكومة الإلكترونية

30- انظري للصورة التي أمامك وأجب عن الأسئلة التي تليها:

- 1- سم المشروع الذي تشير اليه الصورة في مجال تطبيق الحكومة الإلكترونية
- 2- اذكر أثنين من ايجابيات تطبيق السلطنة للحكومة الإلكترونية...



31أكمل سلسلة المفاهيم التاليه:



31- من خلال الشكل المقابل:

1- احسب الميزان التجاري لسلطنة عمان؟

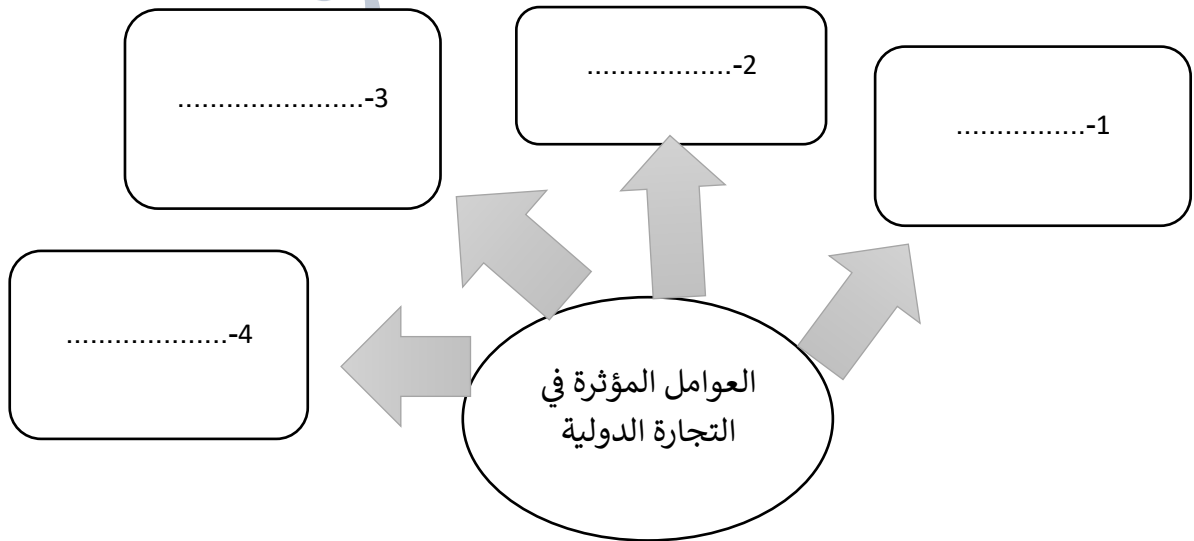

2- صف حالة الميزان التجاري الذي أمامك؟

3- ارسم شكلا آخر يوضح العجز في الميزان التجاري

4- ما تأثير أن يكون الميزان التجاري للدولة سالبا على برامج التنمية في الدولة؟

5- ما الإجراءات الممكن أن تتبناها الدولة لتحقيق فائض في ميزانها التجاري؟

32-أكمل المخطط التالي:



33-وضح تأثير كل عامل موضح في الصور التالية من على التجارة الدولية:



34- فسر مايلي

- 1- يسهم اختلاف المناخ على سطح الأرض في تنشيط التبادل التجاري بين دول العالم
- 2- يعتبر السكان أهم العوامل المؤثرة في الانتاج الاقتصادي لأي دولة
- 3- يعد النقل مكملًا لعملية انتاج السلع لأي دولة



35-لماذا يتم عقد اتفاقيات بين الدول التجارية في العالم؟

وضح تأثير السياسات الحكومية لأي دولة على تعاملاتها التجارية مع الدول الأخرى

36- أمامك مخطط توضيحي للمنطقة التجارية الحرة بالدقم في سلطنة عمان في ضوء ذلك أجب عن مايلي:



- 1- برأيك ما الهدف من انشاء المنطقة التجارية الحرة لأي دولة؟
- 2- وضح أسباب اختيار الدقم لاقامة المنطقة الاقتصادية فيها
- 3- ما النتائج المتوقعة من انشاء هذه المنطقة التجارية على اقتصاد السلطنة بشكل عام ومنطقة الوسطى بشكل خاص؟

37- من خلال الصورة التي أمامك أجيبي عن الأسئلة التالية:



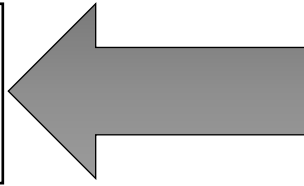
- 1- الصورة توضح شعار منظمة.....
 - 2- العام الميلادي الذي أنشئ فيها المنظمة:
- أ- 1990 ب- 1995 ج- 2000 د- 2005
- ب- تم انشاء هذه المنظمة على خلفية الاتفاقية العامة للتعرفة الجمركية والتجارة...

اختصاص منظمة التجارة
الدولية:

التعاون مع
المنظمات الدولية

فض المنازعات ذات
الصلة بالتجارة

-39



40

خصائص التجارة الإلكترونية



41

الوسائل التكنولوجية المستخدمة في
التجارة الإلكترونية





43- قارن بين التجارة التقليدية والتجارة الإلكترونية من حيث:

وجه المقارنة	التجارة التقليدية	التجارة الإلكترونية
اسلوب البيع والشراء		
طريقة الدفع		
الوقت والجهد		

44- اختر.....الخريطة التي توضح الدولة التي تحتل المركز الأول من دول الشرق الأوسط في حجم المبيعات الإلكترونية:



4




3



2



1



القرن 20م

التطور
التاريخي
للسياحة

القرن 19م

القرن 18م

القرون 17-14م

العصور الوسطى

العصور القديمة

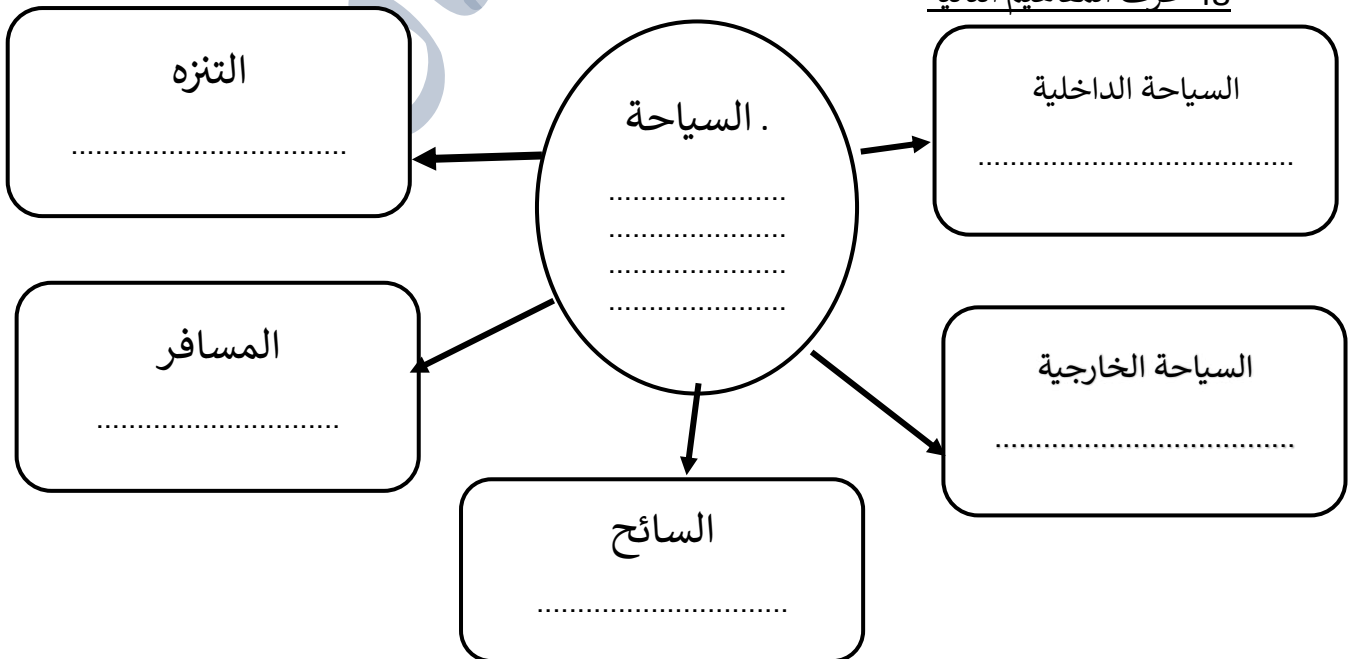
46- القرن الميلادي الذي يعد بداية ظهور المهرجانات السياحية:

أ- 17 ب- 18 ج- 19 د- 20

47- القرن الميلادي الذي ظهرت فيه الثورة الصناعية والسكك الحديدية التي ساعدت على تطور السياحة:

أ- 17 ب- 18 ج- 19 د- 20

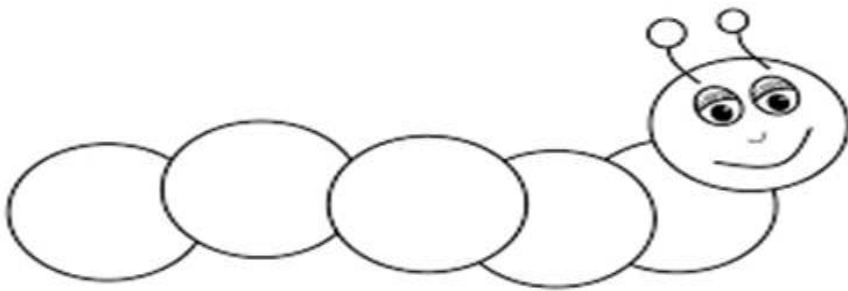
48- عرف المفاهيم التالية



50-أدرس الجدول التالي الذي يوضح مساهمة القطاع السياحي من الناتج المحلي الاجمالي لبعض الدول

م	الدولة	نسبة مساهمة قطاع السياحة من الناتج المحلي
1	اسبانيا	%19
2	الأردن	%26
3	مصر	%21
4	مالطا	%34
5	بريطانيا	%14
6	النمسا	%16

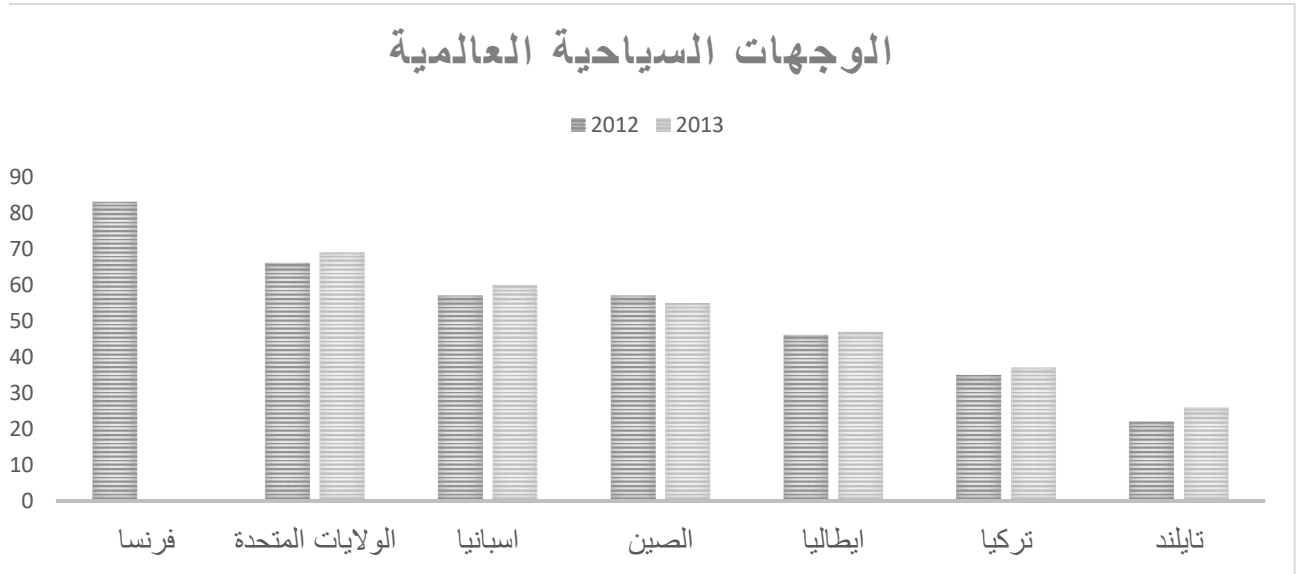
- 1- الدولة الآسيوية الأكثر مساهمة للسياحة في الناتج الاجمالي؟
- 2- رتب الدول الأوروبية من الأكثر الى الأقل حسب مساهمة السياحة في الناتج المحلي
- 1.....234.....
- 3- الدولة الأفريقية الأكثر مساهمة للسياحة في الناتج المحلي؟
- 4- رتب الدول الأوروبية من الأقل الى الأكثر حسب مساهمة السياحة في الناتج المحلي
- 1.....234.....



52-أكتب المصطلح المناسب لكلا من


- 1-القيمة النقدية النهائية لجميع السلع والخدمات المنتجة لدولة ما خلال فترة زمنية محددة
()
- 2-سجل يوضح جميع المعاملات الاقتصادية لدولة ما مع بقية دول العالم خلال فترة زمنية معينة
()
- 3-جمع البيانات عن السياح الكترونيا ووجهات مقصدهم واقامتهم ومن ثم اجراء عمليات تحليل للبيانات الاحصائية) ()

53-أمامك شكل بياني للدول الأكثر وجهات سياحية في العالم ،ادرسيه وأجب عن الأسئلة التي تليه:



- 1- رتب الدول تنازليا من حيث الدول المستقبلية للسياح لعام 2012م
- 2- الدولة الآسيوية الأكثر وجهة سياحية للعام 2013م؟ ولماذا؟
- 3- عدد العوامل التي أدت الى تصدر فرنسا قائمة أفضل الدول المستقبلية للسياح للعام 2012م
- 4- ما أكثر القارات استقطابا للسياح؟ دلل على اجابتك

54-من خلال الصور التالية أجب عن الأسئلة التالية:



1-أنسب كل صورة الى أنواع السياحة التي تم دراستها؟

- 1- تقدر نسبة السياحة الدالة عليها الصورة رقم (1) من اجمالي السياحة حوالي.....%
- 2- متى يسود نوع السياحة في الصورة رقم (2)؟
- 3- ماالهدف من السياحة لفي الصورة رقم(6)؟
- 4- بماذا تتميز السياحة المشار اليها بالرقم (4)؟
- 5- بماذا تفسري محدودية السياحة رقم (3)؟
- 6- اذكر أسباب نشاط السياحة رقم (5) في سلطنة عمان؟

سجلت الفنون العمانية الشعبية التالية في منظمة اليونسكو في الأعوام .. صل بخط بما يناسب)

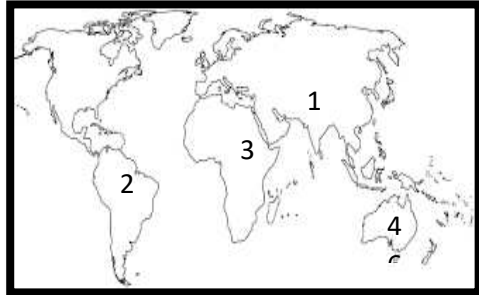
العيالة	2010م
العازي	2012
البرعة	2014م
التغرود	2012م

56-صنف أغراض السياحة التالية حسب أنواعها المذكورة في الجدول:

- زيارة حديقة الصخور – ندوة علمية بجامعة السلطان قابوس – زيارة قبر النبي عمران – حضور مباراة بين عمان واليابان-

الدينية	الثقافية	الرياضية	البيئية

56-الرقم الذي يشير الى القارة التي تعتبر أكثر الوجهات السياحية تنشيطا للسياحة البيئية:



أ- 1 ب- 2 ج- 3 د- 4

57-الرقم الذي يشير الى القارة التي بها الدولة التي احتضنت نهائيات

كأس العالم لكرة القدم عام 2014م :

أ- 1 ب- 2 ج- 3 د- 4

58-الرقم الذي يشير الى أوائل الدول المطبقة لنظام حسابات السياحة ()

59-من أهم المواقع الجيولوجية في القارة رقم (4)

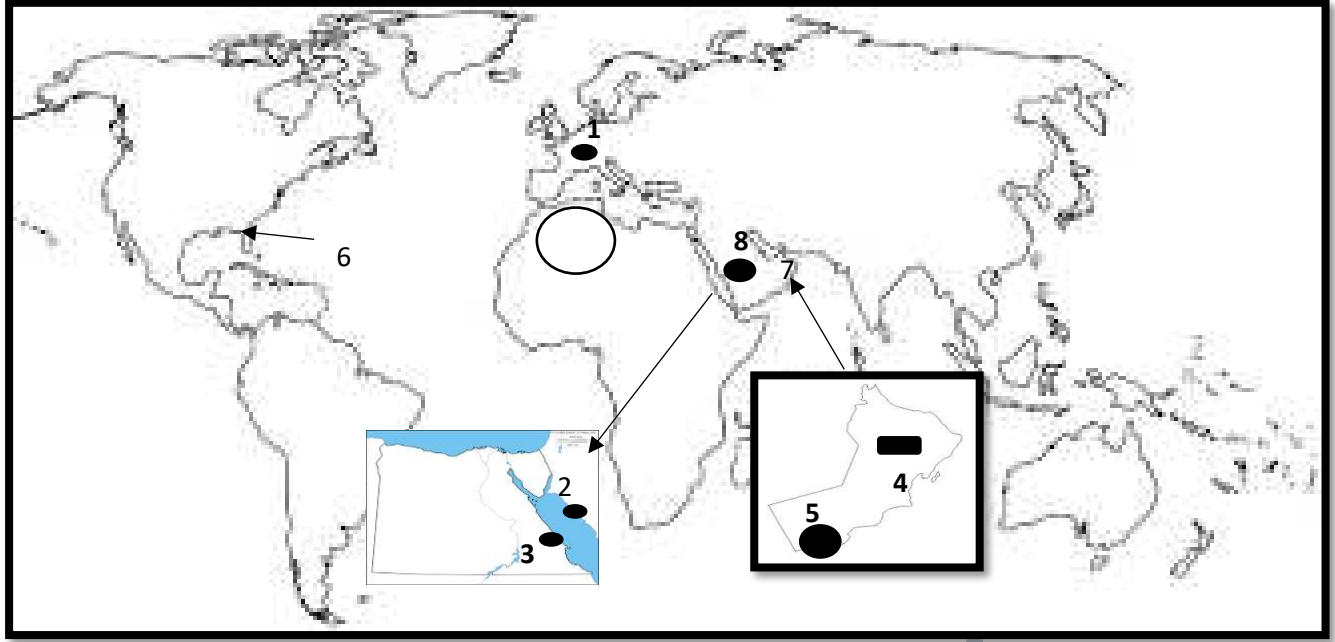
60-نوع السياحة في المنطقة الجبلية المشار إليها بالرقم 1:

ترفيهية رياضية (اختاري)

61-مكونات النظام السياحي

	عمليات	
		طبيعية
اجتماعية		

61-أمامك خريطة للعالم أدرسيها جيدا وأجب عن الأسئلة التي تليها:



1- الرقم الذي يشير الى الدولة التي عقد فيها المؤتمر العالمي الثالث للسياحة الجيولوجية عام 2011 ()

2- ظلل القارة التي يوجد فيها أخذود دانا بروك

3- فسر: اتجاه سكان الدول الأوروبية الى الدول الموضحة بالرمز

4- اذكر وسيلتي النقل المستخدمة في التنقل بين الموقعين (2) و(3).....

5- المناخ السائد في المحافظات المشار اليها بالرقم (4) و(5)

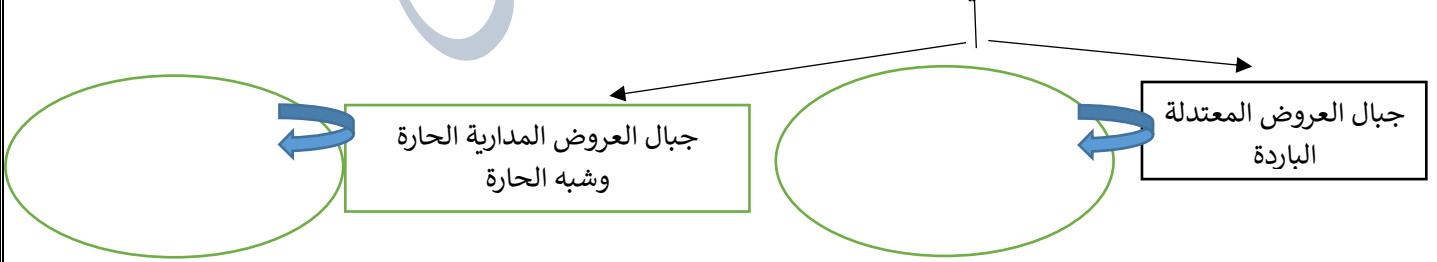
6- استقطاب الدولة رقم (6) للسياح من الأماكن الشمالية للولايات المتحدة (فسر)

7- اذكر المقومات السياحية في العاصمة المشار اليها بالرقم (7)؟

8- من عوامل الجذب السياحي في الدولة المشار اليها بالرقم (8).....

7- ناقش مقومات الجذب السياحية الطبيعية في المحافظة رقم (5)؟

62- ناقش تأثير الموقع الفلكي للجبال على الحركة السياحية



63- من مقومات الجذب السياحي التي تمثلها مدينة القدس القديمة بفلسطين:

أ- الحضارية ب- الثقافية ج- الطبيعية د- التاريخية

64- من مقومات الجذب السياحي التي يمثلها المتحف الوطني في سلطنة عمان:

أ- الدينية ب- الثقافية ج- الطبيعية د- التاريخية

65-الترتيب الصحيح الذي يوضح تسهيلات الامداد لأي موقع سياحي (من الأكثر أهمية الى الأقل أهمية):

أ-الخدمات التجارية الراحة الخدمات اليومية الأمن والصحة ب-الراحة الخدمات التجارية الخدمات اليومية الأمن والصحة

4	3	2	1	4	3	2	1
---	---	---	---	---	---	---	---

ج-الخدمات اليومية الخدمات التجارية الراحة الأمن والصحة د- الخدمات اليومية الأمن والصحة الراحة الخدمات التجارية

4	3	2	1	4	3	2	1
---	---	---	---	---	---	---	---

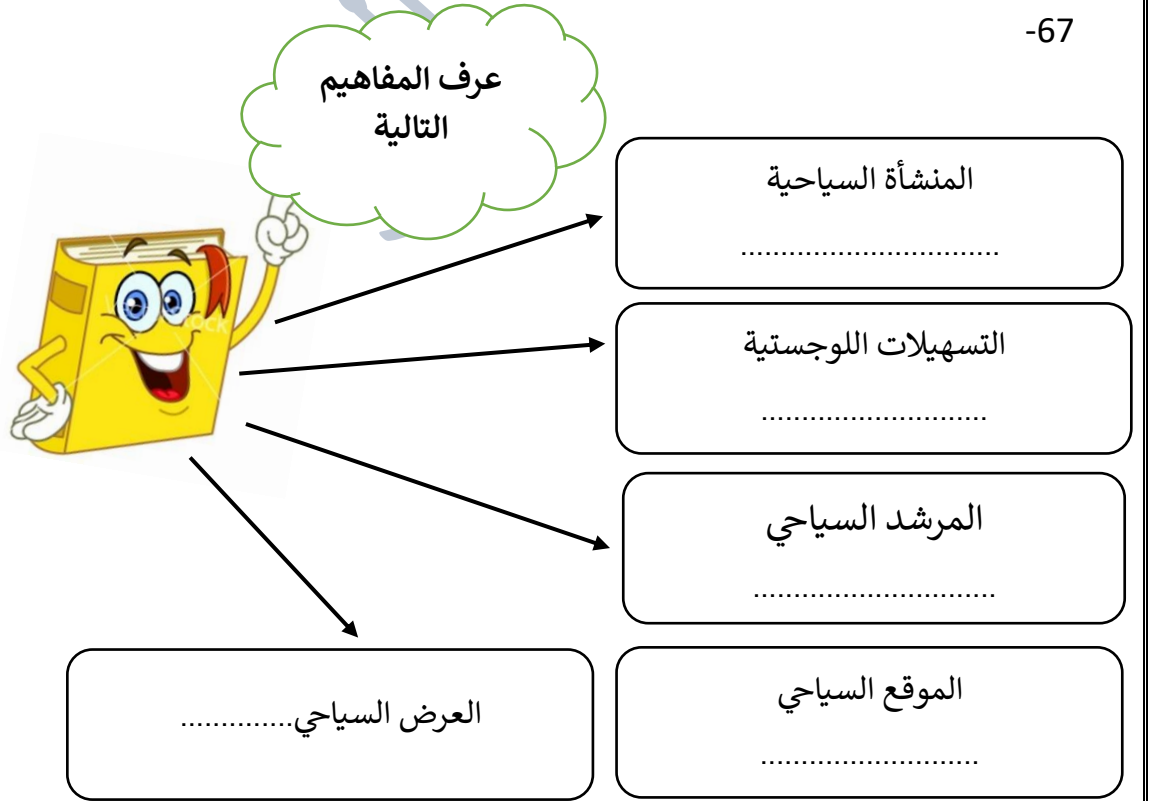


66 1-اذكر اسم العبارة في الصورة التي أمامك ؟

2- سم الشركة التابعة لها ؟

3 - اذكر الجوائز التي حصلت عليها العبارة؟

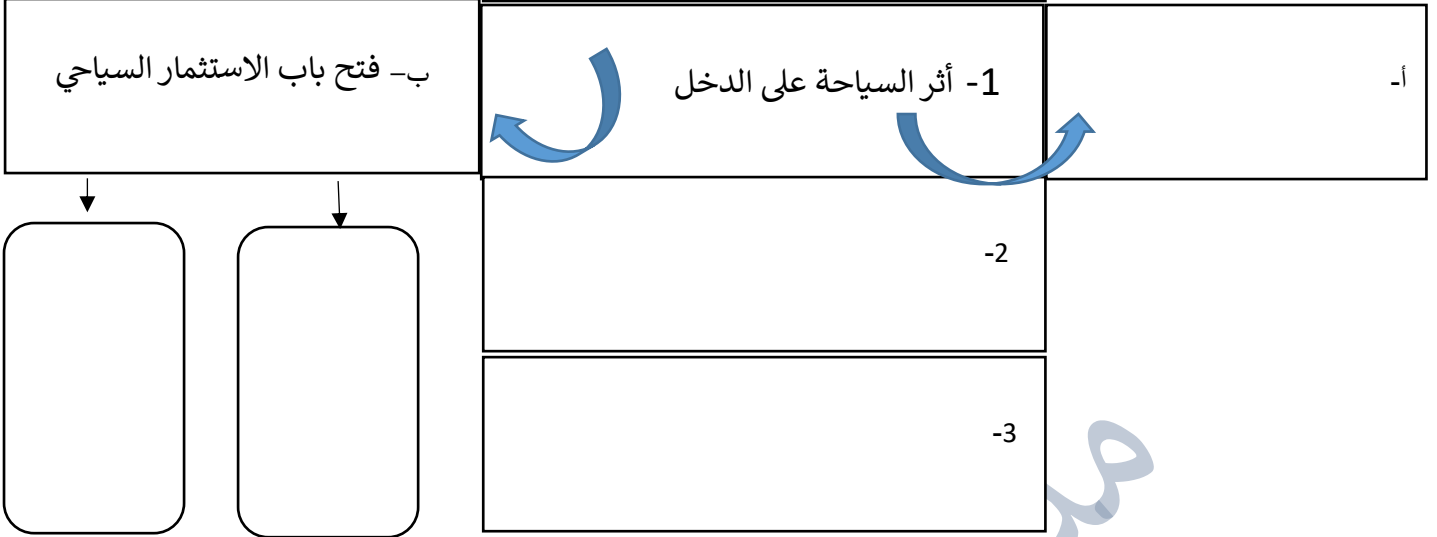
67



68- وضح دور كلا من : العوامل الاقتصادية والعوامل الاجتماعية في الطلب السياحي؟

69- اذكر العوامل التي ساعدت على نمو السياحة الداخلية في سلطنة عمان؟

70- الآثار الاقتصادية للسياحة



71- الآثار البيئية للسياحة:



72- الصورة التي أمامك توضح تأثير السياحة على :

أ- البيئة الجبلية ب- البيئة البحرية ج- النبات د- الغلاف الغازي

73- اعط أدلة قامت بها بعض الدول في العالم للتغلب على التأثير السلبي للسياحة على البيئة.....

74- وضح: تأثير السياحة على الجوانب الاجتماعية

التأثير الايجابي :

التأثير السلبي :


75- من خلال الخريطة التي أمامك أجب عن الأسئلة التي تليها:

- 1- سم المشروع السياحي الذي أقيم على البحيرة الموضحة في الخريطة؟
- 2- ظلل الدولة الذي أقيم فيها المشروع؟
- 3- اذكر الفوائد التي حققها المشروع؟



76- من خلال الصورة التي أمامك أجب عن الأسئلة التالية:

- 1- تمثل الصورة شعار المدونة.....
- 2- المدينة التي تبنت المدونة:
- 3- العام الميلادي لإصدار المدونة:.....
- 4- المجالات التي تركز عليها المدونة:.....و.....و.....

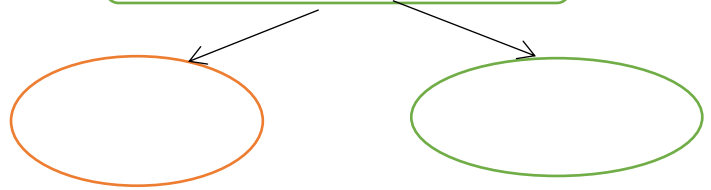


77- أمامك صورة توضح نموذج لمنطقة سياحية في سلطنة عمان من خلالها أجب عن الأسئلة التالية:

- 1- حدد الولاية التي أقيم فيها المشروع السياحي؟ وماهي المقومات الطبيعية السياحية التي تتميز بها؟
- 2- وضح المشاريع السياحية التي أقيمت في الولاية؟



78- أنواع السياحة التي تنشط في الولاية



79- من خلال الصورة المقابلة ، أجب عن الأسئلة التالية:

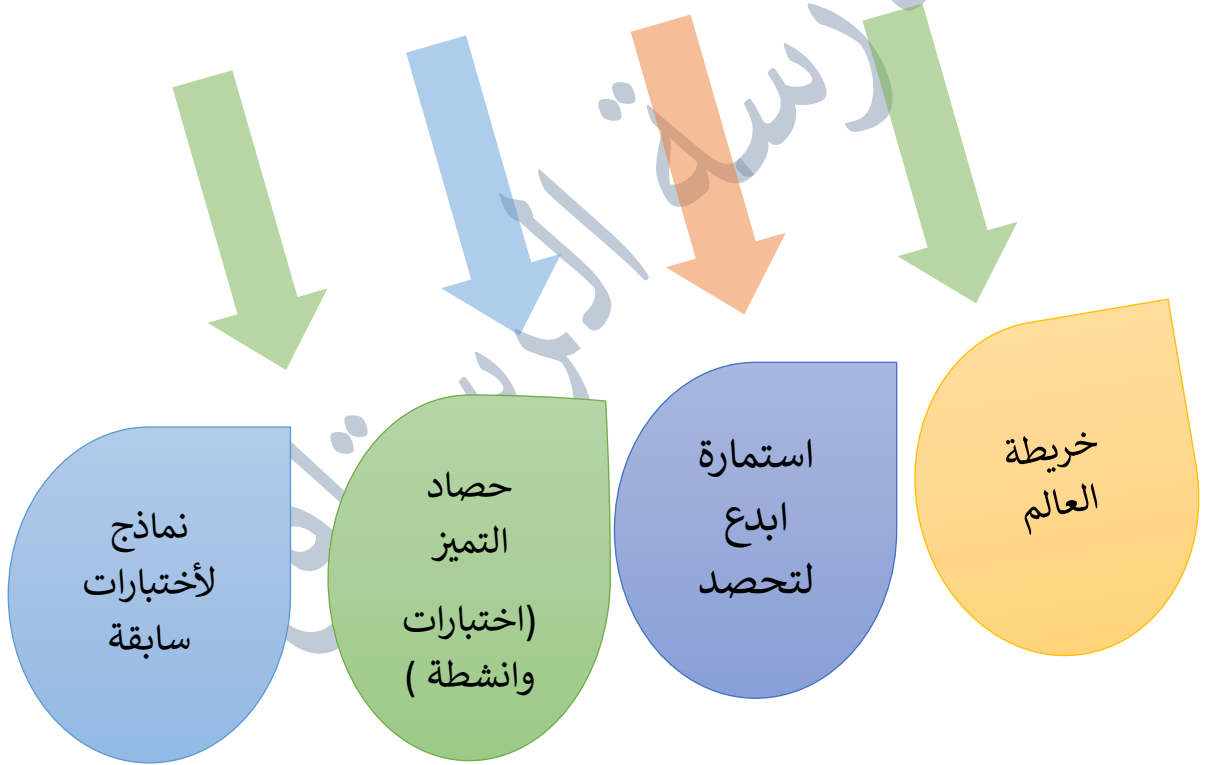
- 1- ما أكثر أنواع السياحة النشطة في مدينة نيويورك؟
- 2- تعد مدينة نيويورك من أكبر المراكز الثقافية في العالم (دلل على ذلك؟؟)



80- ناقش العبارة التالية:

(بالرغم من أهمية المتاحف في مدينة نيويورك الا انها لاتعتبر سببا رئيسيا للجذب السياحي)

الملاحظات





تابع السؤال الأول:

٥- " القيمة النقدية النهائية لجميع السلع والخدمات المنتجة في اقتصاد ما خلال فترة زمنية محددة" يقصد به:

- أ- التعرفة الجمركية. ب- الناتج المحلي الإجمالي.
ج- ميزان المدفوعات. د- الميزان التجاري.

٦- الرقم الذي يشير إلى الدولة التي تعد من أوائل الدول المطبقة لنظام الحسابات السياحية:



- أ- ١. ب- ٢.
ج- ٣. د- ٤.

٧- نوع السياحة في الصورة التي أمامك:



- أ- ثقافية. ب- رياضية.
ج- علاجية. د- جيولوجية.

يتبع/٣

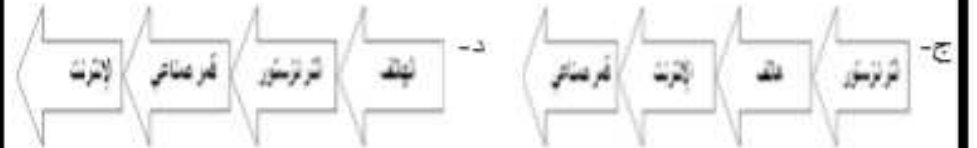
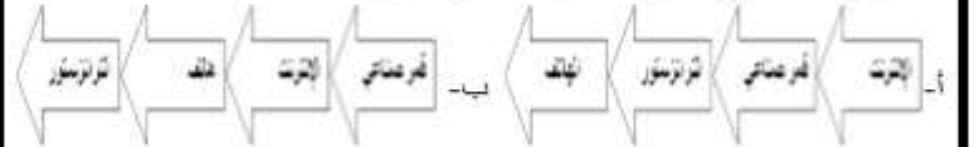
أجب عن جميع الأسئلة الآتية

السؤال الأول: ضع دائرة حول رمز الإجابة الصحيحة لكل مفردة من المفردات الآتية:

- ١- التقنية الحديثة المستخدمة في تخطيط شبكات الطرق وإجراء دراسات تحليلية عنها:
أ- GIS. ب- GPS.
ج- RS. د- Google Earth.

- ٢- يربط خط راس الرجاء الصالح بين:
أ- أوروبا وآسيا. ب- أمريكا وأستراليا.
ج- أمريكا وآسيا. د- أوروبا وأستراليا.

٣- الترتيب الصحيح لتطور الاختراعات في مجال الاتصالات:



٤- انضمت سلطنة عمان إلى منظمة التجارة العالمية:

- أ- ١٩٩٨ م. ب- ٢٠٠٠ م.
ج- ٢٠٠٢ م. د- ٢٠٠٤ م.

يتبع/٢

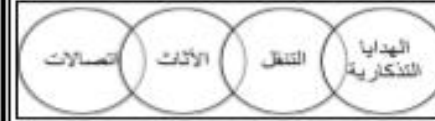
تابع السؤال الأول:

٨- الشكل الصحيح الذي يمثل تسهيلات الإمداد (الراحة) في الموقع السياحي:



(ب)

(أ)



(د)

(ج)



٩- يوجد متحف التاريخ الطبيعي الواضح في الشكل الذي أمامك:

- أ- نيويورك.
ب- كاليفورنيا.
ج- واشنطن.
د- لوس أنجلوس.

١٠- تعد من أنواع السياحة المكلفة والمحدودة سياحة:
أ- رحلات السفاري.
ب- تسلق الجبال.
ج- الأعمال.
د- الفضاء.

يتبع/٤

تابع السؤال الأول:

١١- من أكثر الشعوب القديمة شهرة في تمهيد شبكة كبيرة من الطرق البرية:
أ- اليونان.
ب- الفراعنة.
ج- الرومان.
د- الفرسيين.

١٢- من خلال الجدول الذي أمامك الدولة الأوربية الأكثر جذباً للسياح:

الدولة	عدد السياح/ مليون
الصين	٥٥,٧
إيطاليا	٤٧,٧
مصر	٩,٢
تركيا	٣٧,٨
بريطانيا	٣١,٢

أ- بريطانيا. ب- الصين. ج- تركيا. د- إيطاليا.

السؤال الثاني:

أ- عرّف المفاهيم الآتية:
١- النقل المستدام.

٢- ميزان المدفوعات.

ب- عدد اثنين لكل من:

١- أهمية النقل في المجال الاقتصادي.

يتبع/٥

تابع السؤال الثاني:

٢- العوامل المؤثرة في التجارة الدولية.

-
-
- ٣- أهمية السياحة بالنسبة للأفراد والمجتمعات.
-
-

ج- أمامك خريطة سلطنة عمان ادرسها جيداً ثم أجب عن الأسئلة التالية:



- ١- نوع المناخ في المنطقة المشار إليها بالرقم (٦)
- ٢- ما نوع وسيلة النقل السياحية المناسبة بين المنطقتين (١ و٢)
- ٣- ظلل باستخدام الرمز ■ موقع محمية جبل سمحان.
- ٤- ما الرقم الذي يشير إلى موقع ميناء تصدير الغاز الطبيعي. () .

يتبع/٦

السؤال الثالث:

أ (١)- قسر ما يأتي:

أ- استخدام جهاز (GPS) في الملاحة البحرية.

ب- يجب أن يكون مصب النهر عريضاً لكي يكون صالحاً للملاحة.

أ (٢)- أمامك مجموعة من الأشكال تمثل أنواع السياحة المختلفة، ادرسها جيداً ثم أجب عن الأسئلة التالية:



(٢)



(١)

أ- كم تشكل نسبة السياحة التي يمثلها الشكل المشار إليها بالرقم (١) من إجمالي سوق السياحة.

ب- بماذا تتميز السياحة التي يمثلها الشكل المشار إليها بالرقم (٢) .

ب (١) - وضح في جدول مميزات وعيوب النقل بالأنابيب.

مميزات النقل بالأنابيب	عيوب النقل بالأنابيب
.....
.....

يتبع/٧

تابع السؤال الثالث:

ب (٢)- الشكل المقابل يوضح إحدى التقنيات الحديثة في مجال الاتصالات،

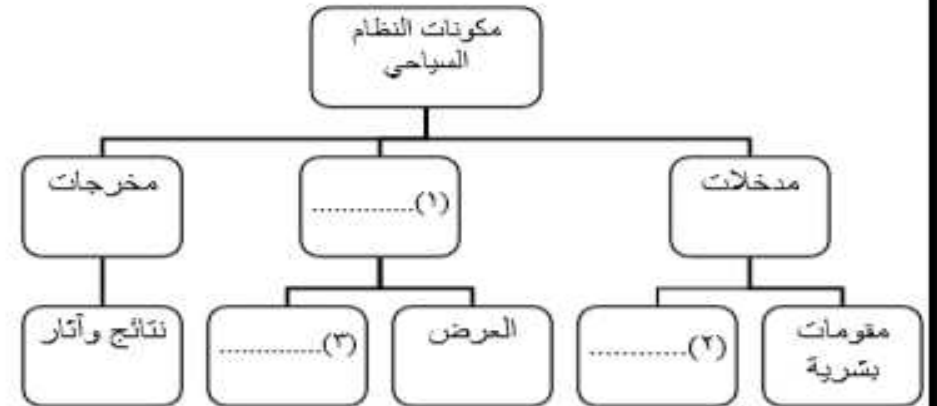


أدرسه جيداً ثم أجب عن الأسئلة الآتية:

أ- عرف التقنية الموضحة في الشكل الذي أمامك.

ب- وضح أثر هذه التقنية على مجال الاتصالات ونقل البيانات.

ج- أكمل المخطط الآتي:



يتبع/

السؤال الرابع:



أ (١)- ادرس الشكل المقابل جيداً ثم أجب عن

الأسئلة الآتية:

أ- ما أسم المدونة التي يرمز لها الشعار الواضح في الشكل المقابل.

ب- اذكر مجالاً واحداً من المجالات الرئيسية التي اشتملت عليها المدونة.

أ (٢)- "قام محمد بشراء جهاز لاب توب عن طريق الأنترنت" في ضوء العبارة السابقة:

أ- ما نوع التجارة الواردة في النص.

ب- وضح طريقة الدفع.

ب (١) فرق بين مفهوم كل من المسافر والسائح في الجدول التالي:

السائح	المسافر
.....
.....
.....

يتبع/٩

دليل المفاهيم والمصطلحات

المادة: الجغرافيا الاقتصادية الدور الثاني - الفصل الدراسي الثاني العام الدراسي ٢٠١٦/٢٠١٧م

تابع السؤال الرابع:

ب- (٢) وضح آثار السياحة على البيئة على كل من:
أ- الغلاف الغازي.

ب- البيئة الجبلية.

ج- البيئة البحرية.

ج- صنف الأنشطة الترفيهية التالية حسب الدولة التي تمارس فيها (التزلج على الجليد- التزلج على الرمال- التزلج على الماء).

الدولة	النشاط السياحي
١- الأردن	
٢- لبنان	
٣- سلطنة عُمان	

انتهت الأسئلة مع الدعاء للجميع بالتوفيق والنجاح.

دليل المفاهيم والمصطلحات

دليل المفاهيم والمصطلحات

حصاد التميز رقم (1)

مدرسة الرستاق

حصاد التميز رقم (1)

مدرسة الرستاق

حصاد التميز رقم (1)

مدرسة الرستاق