

## شكراً لتحميلك هذا الملف من موقع المناهج العمانية



## اختبار قصير ثاني مع واجب منزلي ثاني

[موقع المناهج](#) ← [المناهج العمانية](#) ← [الصف الحادي عشر](#) ← [هذا وطني](#) ← [الفصل الأول](#) ← [الملف](#)

تاريخ نشر الملف على موقع المناهج: 03:57:20 2023-12-09

## التواصل الاجتماعي بحسب الصف الحادي عشر



## روابط مواد الصف الحادي عشر على تلغرام

[الرياضيات](#)

[اللغة الانجليزية](#)

[اللغة العربية](#)

[التربية الاسلامية](#)

## المزيد من الملفات بحسب الصف الحادي عشر والمادة هذا وطني في الفصل الأول

<a href="#">اختبار قصير ثاني</a>	1
<a href="#">مذكرة إثرائية سؤال وجواب في الوحدة الثانية المجتمع العماني بين الأصالة والمعاصرة</a>	2
<a href="#">واجب منزلي ثاني</a>	3
<a href="#">واجب منزلي حديث مع نموذج الإجابة</a>	4
<a href="#">أنشطة السيرة الحضارية لعمان</a>	5

الاسم : .....

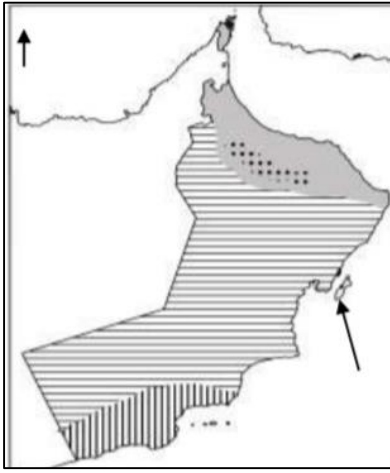
الصف : .....

**الامتحان القصير ( ٢ ) لمادة هذا وطني للصف الحادي عشر****السؤال الأول :** اختاري الإجابة الصحيحة من بين البدائل المعطاه .

١- جميع ما يلي من المشكلات الطبيعية التي تواجه الغطاء النباتي الطبيعي ما عدا :

- أ- تملح التربة  
ب- قلة الأمطار  
ج- الرعي الجائر  
د- انجراف التربة

٢- مفتاح الخريطة الصحيح للخريطة المقابلة هو :



المناخ البحر المتوسط  
المناخ الصحراوي  
المناخ الموسمي

المناخ البحر المتوسط  
المناخ شبه الصحراوي  
المناخ الموسمي

المناخ الموسمي  
المناخ الصحراوي  
المناخ البحر المتوسط

المناخ شبه الصحراوي  
المناخ الصحراوي  
المناخ الموسمي

٣- العام الميلادي الذي تم فيه اعلان حديقة السليل الطبيعية كمحمية طبيعية عام :

أ- ١٩٩٦ م      ب- ١٩٩٧ م      ج- ١٩٩٨ م      د- ١٩٩٩ م

**السؤال الثاني :**

١- فسر العبارة التالية " كان للهجرات العربية إلى عمان دور في انعاش النشاط الاقتصادي "

.....  
.....

٢- انسبي النباتات التالية إلى ما يناسبها من المعلومات المدرجة في الجدول

( الرمرام ، العتم ، السمر ، العلعلان )

النبات	
	يستخدم أخشابها في البناء نظرا لصلابتها
	يستخدم لمعالجة الجروح ووقف النزيف
	ينتج النحل منها أجود أنواع العسل

٣- تأملي الصور التي أمامك ثم اجيبي عن الأسئلة التي تليها :



ب

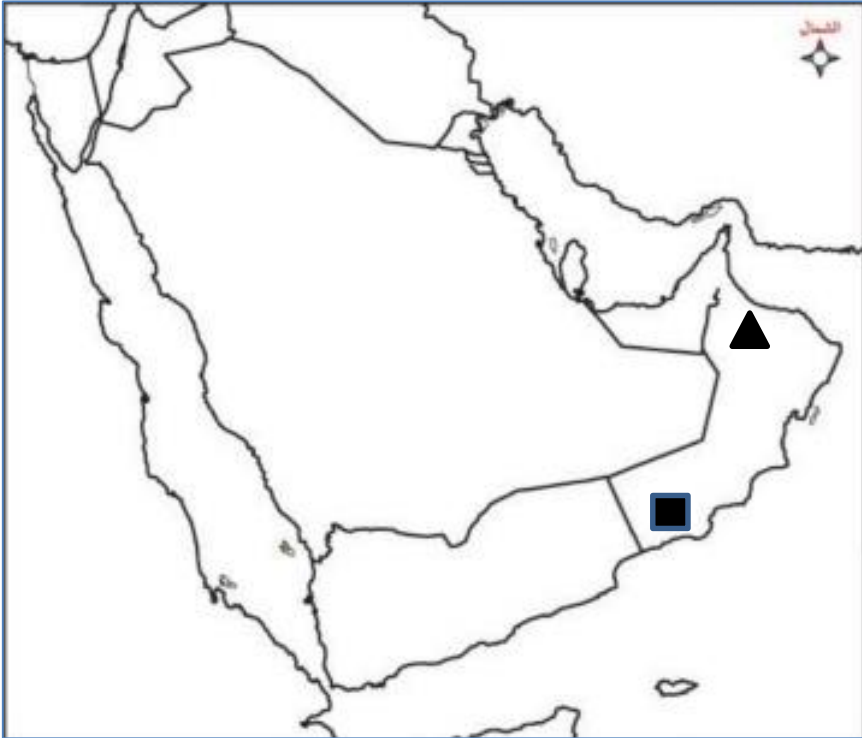


أ

- ١- سم الموقع الأثري الذي توضحه الصورة (أ).....
- ٢- حددي موقع المعلم الأثري الذي توضحه الصور (ب) على الخريطة المقابلة بالرمز (■)

دلي على أهمية الموقعين الأثريين اللذان في الصورة (أ) و (ب)

.....  
.....



السؤال الثالث : ادرسي الخريطة التي أمامك  
ثم أجبي عن الأسئلة التالية:

- ١- حددي على الخريطة كلا من:  
أـ الحضارة التي اطلقت على عمان اسم " مزون "  
بـ بحر العرب  
جـ المسار الصحيح لهجرات قبائل الأزد

- ٢- الإقليم الذي تتساقط الأمطار عليه في فصل الصيف المشار إليه بالرمز:

■ أـ

▲ بـ

(اختر الإجابة الصحيحة)

فسر إجابتك : .....

سلطنة عمان

وزارة التربية والتعليم

المديرية العامة للتربية والتعليم بمحافظة شمال الشرقية

الاسم : .....

الصف : .....


الواجب المنزلي ( ٢ ) لمادة هذا وطني للصف الحادي عشر

### السؤال الأول :

اختراري الإجابة الصحيحة من بين البدائل العطاء :

١- مؤلف الكتاب الذي توضحه الصورة المقابلة هو العلامة :

- أ-محمد بن إبراهيم الكندي  
ب- أحمد بن عبدالله الكندي  
ج- راشد بن سعيد اليعمدي  
د- سعيد بن عبدالله الرحيلي



٢- تمكن الأسطول العماني من هزيمة البويهيين في القرن الهجري :

- أ-الثاني  
ب- الثالث  
ج- الرابع  
د- الخامس

### السؤال الثاني :

أولاً : اكملي الجدول التالي بما يناسبه من الأعمال أو الشخصيات

الاعمال	الشخص
	الإمام غسان بن عبدالله اليعمدي
مؤلف كتاب مسالك الممالك	
	عزان بن الهزبر
انتصر على يوسف بن وجيه والي العباسيين	



**ثانياً :** تم اكتشاف مجموعة من المسكوكات النقدية في عمان يرجع تاريخها إلى العصور الإسلامية "

- ١- في أي عام تم اكتشافها ؟  
اسم المدينة التي عثر فيها ؟

