

شكراً لتحميلك هذا الملف من موقع المناهج العمانية



الامتحان النهائي الرسمي

[موقع المناهج](#) ← [المناهج العمانية](#) ← [الصف الحادي عشر](#) ← [هذا وطني](#) ← [الفصل الثاني](#) ← [الملف](#)

تاريخ نشر الملف على موقع المناهج: 2023-05-25 08:33:26

التواصل الاجتماعي بحسب الصف الحادي عشر



روابط مواد الصف الحادي عشر على تلغرام

[الرياضيات](#)

[اللغة الانجليزية](#)

[اللغة العربية](#)

[التربية الاسلامية](#)

المزيد من الملفات بحسب الصف الحادي عشر والمادة هذا وطني في الفصل الثاني

الامتحان النهائي الرسمي	1
نموذج إجابة الامتحان الرسمي النهائي	2
حصار درس الجهاز الإداري للدولة ومؤسساتها	3
امتحان تحريبي نموذج ثاني	4
امتحان تحريبي نهائي	5

المادة : الدراسات الاجتماعية (هذا وطني) الصف : الحادي عشر الدور الأول - الفصل الدراسي الثاني
(٥)
- العام الدراسي ٢٠٢٢/٢٠٢٣ م

تابع: السؤال الثالث:

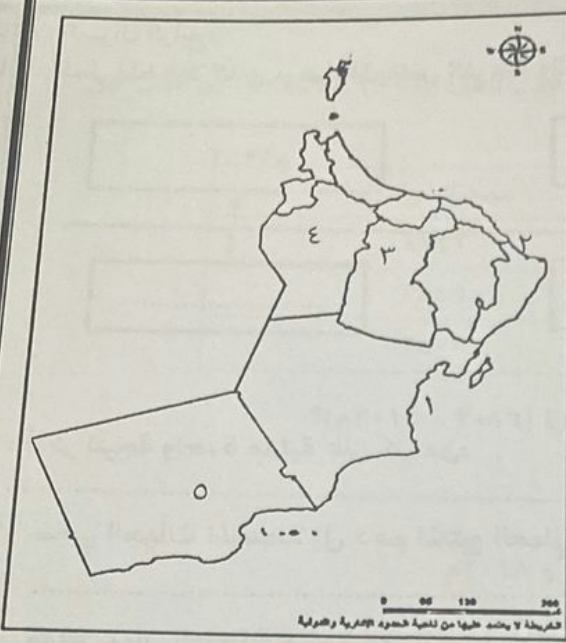
ثالثاً: من خلال الخريطة التي أمامك أجب عما يلي:
١- ما اسم الميناء المشار إليه بالرقم (١) ؟

٢- استخرج من الخريطة ما يلي:

أ- الرقم الذي يشير إلى الولاية التي اشتهرت بصناعة السفن

ب- الرقم الذي يشير إلى الولاية التي يوجد بها المعهد العالي للقضاء

٣- اكتب ميناء صحار في موقعه الصحيح على الخريطة.



السؤال الرابع: أجب عن الأسئلة الآتية:

أولاً: من خلال دراستك لموضوع التشريعات والقوانين العمانية . اقرأ النص الآتي، ثم اجب عن الأسئلة التي تليه:



كلمات مضيئة

«إن العدل أبو الوظيفة وحارسها فتمسكوا به وعاملوا الجميع بمقتضاه، وإني لرقيب على أن يفني كل منكم بهذه الأسس والمعاني، فلن يكون في مجتمعنا مكان لمنحرف أو متعاس عن أداء واجبه أو معطل لأدائه، كما يكون لكل مجتهد نصيب من المكافأة والتقدير والوفاء بالجميل»

من خطاب السلطان قابوس بن سعيد - طيب الله ثراه - / ١٥ مايو ١٩٧٨ م.

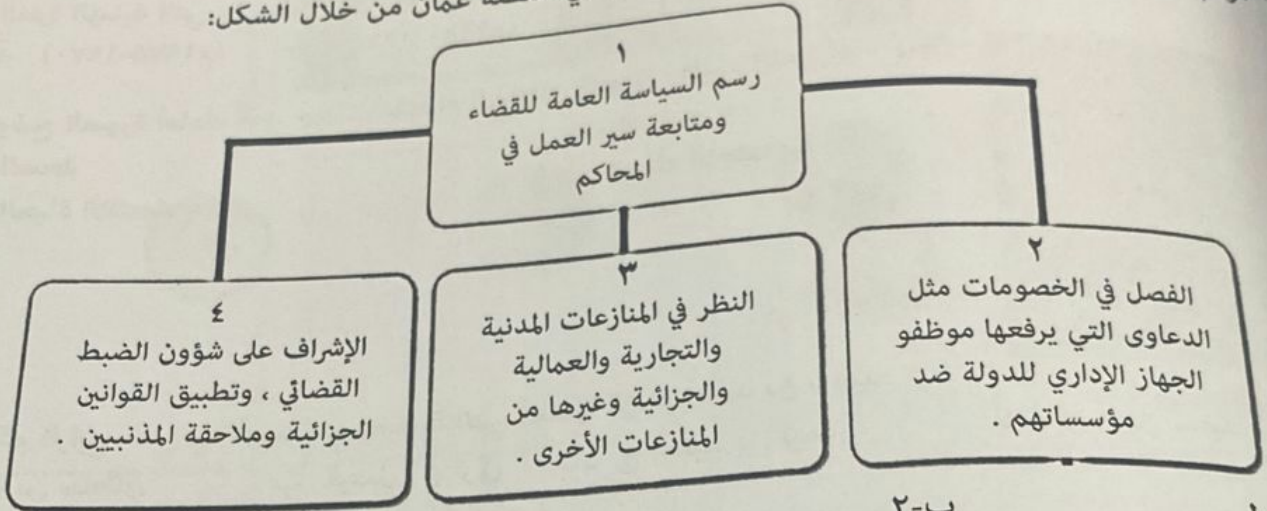
١- استخرج القيمة التي ذكرها السلطان قابوس بن سعيد - طيب الله ثراه - في التعامل مع الجميع.

٢- دلل على اهتمام السلطان قابوس بن سعيد - طيب الله ثراه - بتقدير المجتهد والمنتج في المجتمع .

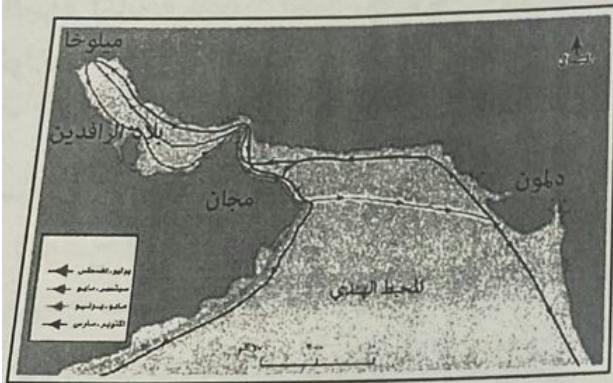
٣- ما أول وثيقة قانونية متكاملة في التاريخ العماني؟

السؤال الأول: ضع دائرة حول رمز الإجابة الصحيحة لكل مفردة من المفردات الآتية:

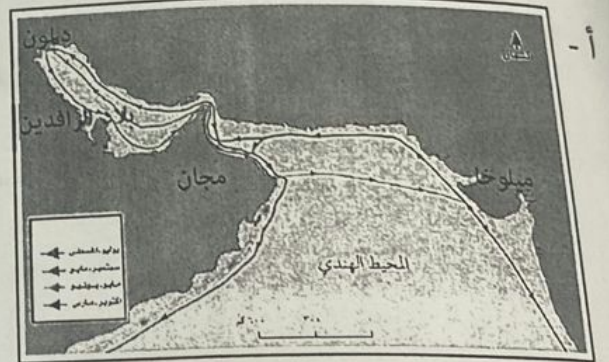
- ١- استحدثت سلطنة عمان بوابة استثمار بسهولة بهدف:
 أ- الترويج للمنتجات العمانية
 ج- تسهيل التصدير للخارج
 ٢- الرقم الصحيح الذي يمثل القضاء العادي للسلطة القضائية في سلطنة عمان من خلال الشكل:
 ب- تسهيل إقامة المشاريع الاقتصادية
 د- تقليل المنافسة على المنتجات المحلية



الخريطة التي تمثل الموقع الصحيح للحضارات القديمة التي كانت لها علاقات تجارية مع حضارة مجان:



ب -



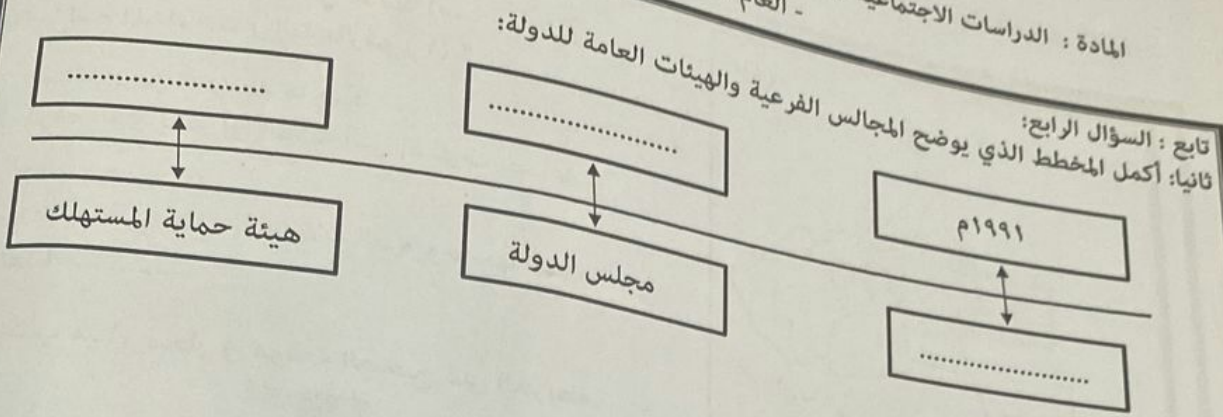
أ -



د -



ج -



تابع : السؤال الرابع:
ثانياً: أكمل المخطط الذي يوضح المجالس الفرعية والهيئات العامة للدولة:

ثالثاً: أذكر نتيجة واحدة مترتبة على كل من:

- ١- سعي الجهات المختصة إلى دعم المنتج العماني وحث المواطنين على شرائه.
- ٢- موقع عمان الجغرافي وخبرة العمانيين في الملاحة البحرية.

السؤال الخامس: أجب عن الأسئلة الآتية:

أولاً: أذكر اثنين لكل من :

- ١- القطاعات الغير النفطية في سلطنة عمان.
- ٢- الجوانب التي تضمنتها الرؤية المستقبلية عمان ٢٠٤٠.

ثانياً: رتب الأحداث الآتية في حياة السلطان قابوس بن سعيد - طيب الله ثراه - من الأقدم إلى الأحدث وذلك بكتابة الأرقام (١، ٢، ٣، ٤) .

- () التدريب على فن القيادة العسكرية في ألمانيا الغربية.
- () أرسله والده إلى بريطانيا حيث التحق بمدرسة سافوك لمدة عامين.
- () درس نظم الحكم المحلي في بريطانيا.
- () التحق بالأكاديمية العسكرية الملكية (ساند هيرست) .

تابع السؤال الأول:

- ٤- السلع والمنتجات المستوردة من الساحل الشرقي لأفريقيا إلى عمان في العصور الإسلامية والحديثة:
أ- المنسوجات-العاج-العقاقير-الزجاج
ج-العاج-الصوف-الجلود-العقاقير
د-الحديد-العطور-الجلود-الصوف
- ٥- عدد الأبواب التي يتكون منها النظام الأساسي للدولة:
أ- ٧
ب- ٨
ج- ٩
د- ١٠
- ٦- الفترة الزمنية التي وضعت فيها البنية الأساسية للاقتصاد العماني في عهد النهضة المباركة:
أ- (١٩٧٥-١٩٧٥ م)
ب- (١٩٨٠-١٩٧٥ م)
ج- (١٩٨٠-١٩٨٥ م)
د- (١٩٨٥-١٩٩٠ م)
- ٧- توضح الصورة أمامك أحد جوانب اهتمام السلطان قابوس -طيب الله ثراه - بمجال:
أ- الصحة
ب- التعليم
ج- الحياة الاقتصادية
د- الحياة الاجتماعية



د-قابوس بن سعيد

- ٨- الحاكم الرابع عشر في الأسرة البوسعيدية التي أسسها الإمام أحمد بن سعيد:
أ- سعيد بن سلطان
ب- فيصل بن تركي
ج- سعيد بن تيمور
د- قابوس بن سعيد

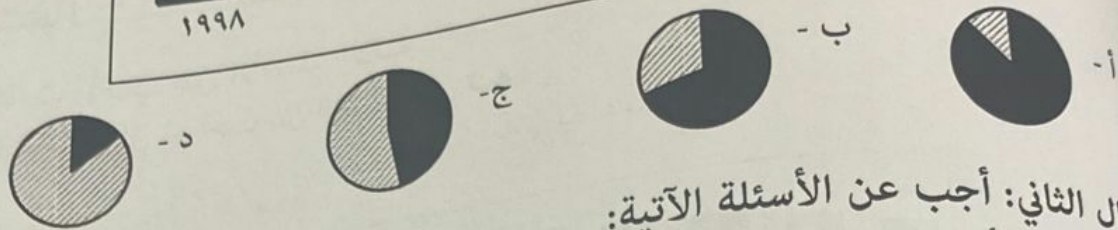
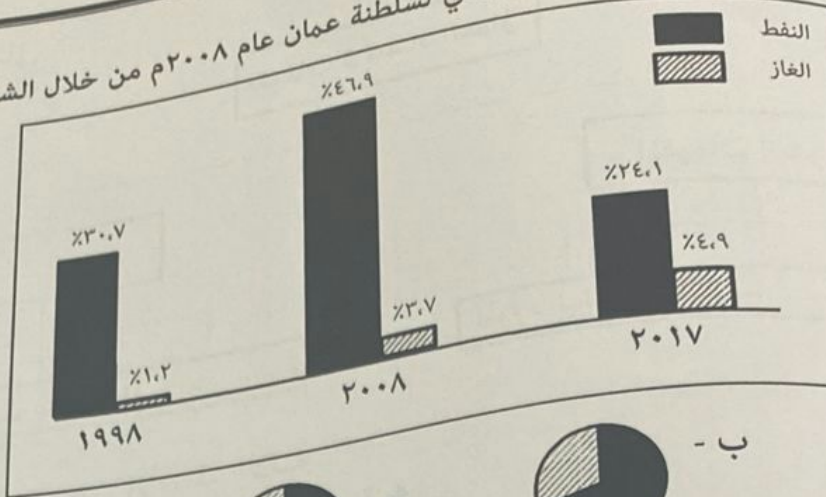
- ٩- الجهة المانحة لجائزة السلام الدولية التي حصل عليها السلطان قابوس بن سعيد-طيب الله ثراه- عام ١٩٩٨:
أ- الولايات المتحدة الأمريكية
ب- جمهورية الهند
ج- جمهورية روسيا الاتحادية
د- المملكة المتحدة

- ١٠- سأل أحمد أستاذه عن المقولة الشهيرة للسلطان قابوس بن سعيد - طيب الله ثراه - " عفا الله عما سلف فوضح له أن هذا الشعار الذي نادى به السلطان تمثل في:
أ- انتهاج سياسة حسن الجوار مع الجيران
ب- عدم التدخل في الشؤون الداخلية للدول
ج- العفو السامي عن كل من يحمل أفكاراً تعارض نظام الحكم
د- تدعيم العلاقات مع الدول العربية

- ١١- استبدل المجلس الاستشاري للدولة الذي أنشئ عام ١٩٨١ م بـ :

- أ- مجلس الشورى
ب- مجلس الدولة
ج- المجلس البلدي
د- مجلس الوزراء

تابع السؤال الأول:



السؤال الثاني: أجب عن الأسئلة الآتية:

أولاً: أ) عرف ما يأتي:

١- الناتج المحلي الإجمالي

٢- القانون

ب) صنف العبارات الآتية بما يناسبها في الجدول التالي:

رفع التوصيات إلى السلطان في الأمور التي تهتم الدولة - يضم مجلس الدفاع والمجلس الأعلى للقضاء - اقتراح مشروعات قوانين وإحالتها إلى الحكومة لدراستها)

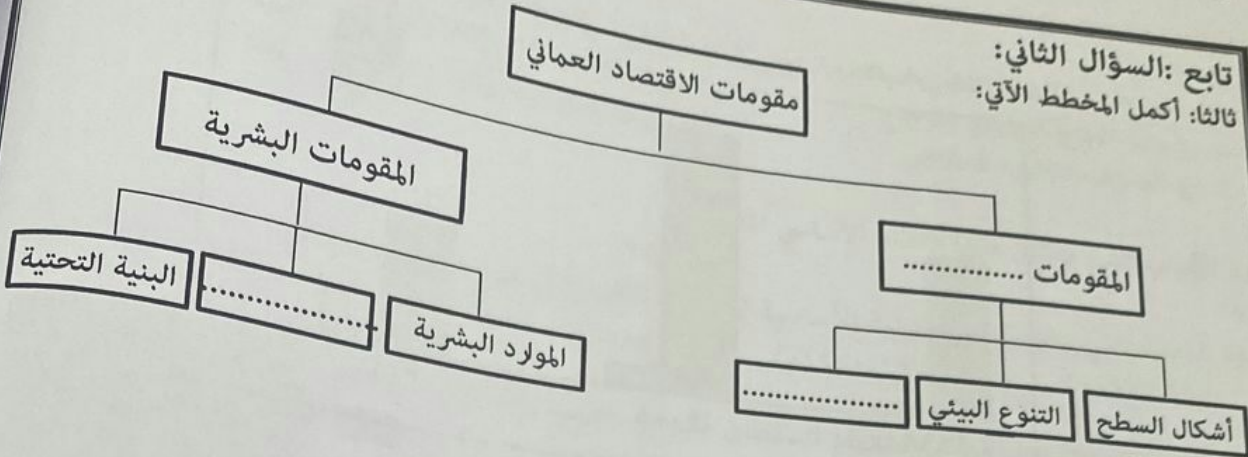
مجلس الوزراء	مجلس عمان	المجالس المتخصصة
.....
.....

علل ما يأتي:

اختيار أعضاء مجلس الدولة من بين الشخصيات العمانية ذات الخبرة والكفاءة في المجالات المختلفة.

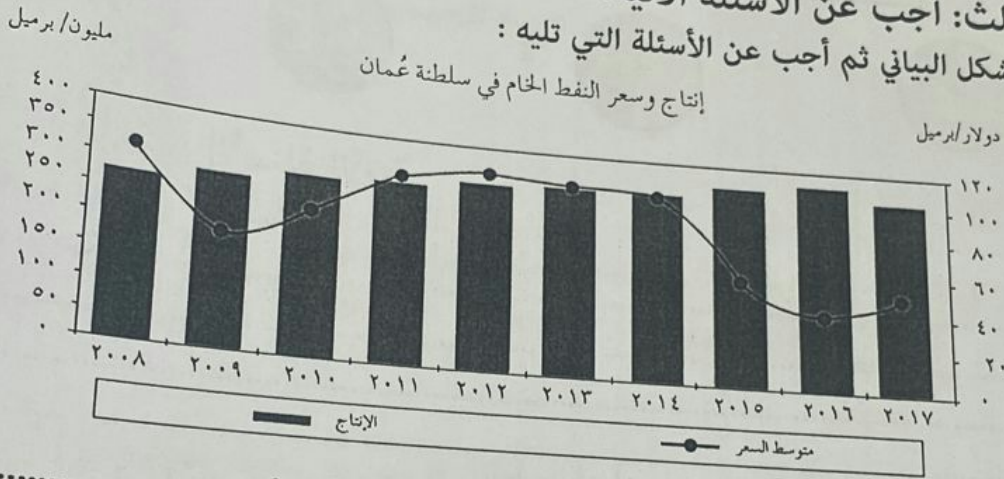
بت المنتجات العمانية سمعة جيدة في الأسواق المحلية والعالمية.

تابع :السؤال الثاني:
ثالثا: أكمل المخطط الآتي:



السؤال الثالث: أجب عن الأسئلة الآتية:

أولاً: أدرس الشكل البياني ثم أجب عن الأسئلة التي تليه :



- ١- ماذا تلاحظ على أسعار النفط خلال الفترة من ٢٠٠٨م إلى ٢٠١٧م؟
- ٢- استخرج معدل الإنتاج السنوي للنفط لعام ٢٠١٥م
- ٣- كم بلغ متوسط سعر نفط عمان لعام ٢٠١٤م؟
- ٤- ما السياسة التي انتهجتها سلطنة عمان لمواجهة التقلبات في أسعار النفط العالمية؟

ثانيا: اذكر اثنين لكل من:

١-هوايات السلطان قابوس بن سعيد طيب الله ثراه.

٢-الأبواب التي يتكون منها قانون المرور العماني.

(٧)

المادة : الدراسات الاجتماعية (هذا وطني) الصف : الحادي عشر الدور الأول - الفصل الدراسي الثاني
- العام الدراسي ٢٠٢٢/٢٠٢٣ م

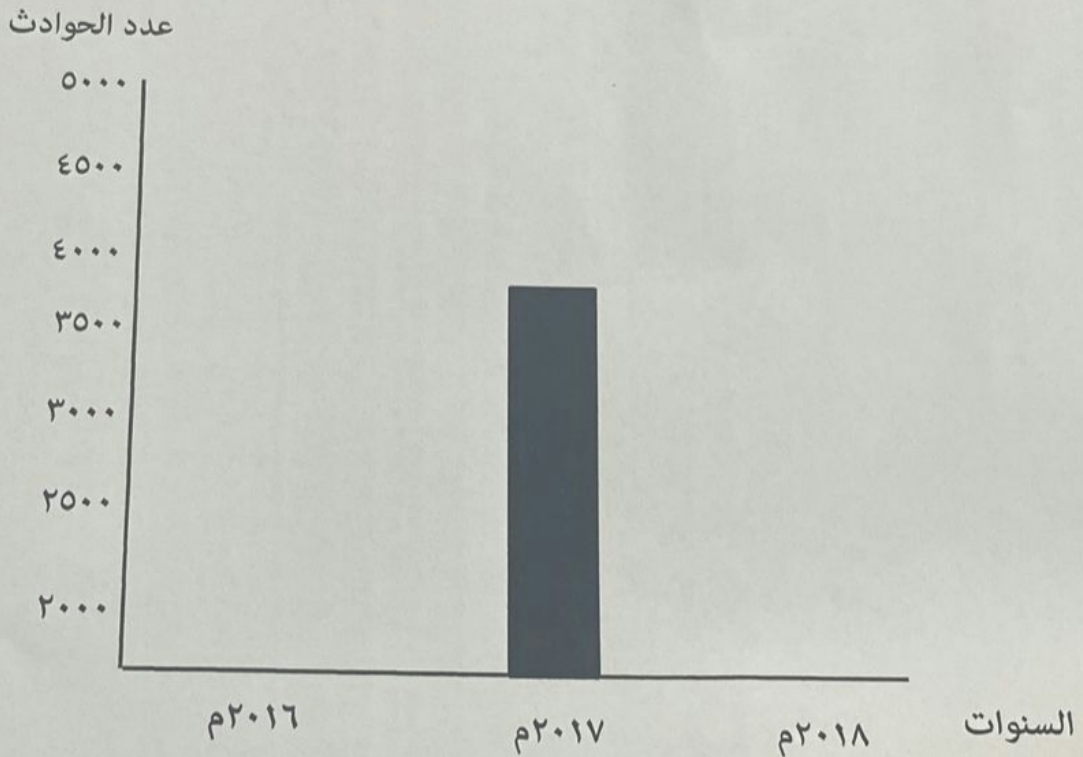
تابع: السؤال الخامس:

ثالثاً: ادرس الجدول الذي يوضح أعداد الحوادث في سلطنة عمان خلال الفترة (٢٠١٦ - ٢٠١٨ م) ثم أجب عن الأسئلة التي تليه:

السنة	عدد الحوادث
٢٠١٦ م	٤٧٢١
٢٠١٧ م	٣٨٤٥
٢٠١٨ م	٢٨٠٢

١- ماذا تلاحظ على عدد الحوادث في سلطنة عمان خلال الفترة (٢٠١٦ - ٢٠١٨ م)؟

٢- مثل بيانياً أعداد الحوادث في سلطنة عمان لعامي ٢٠١٦ م و ٢٠١٨ م .



٣- وضح أهمية قانون المرور العماني

انتهت الأسئلة مع الدعاء للجميع بالتوفيق والنجاح.