

تم تحميل هذا الملف من موقع المناهج العُمانية



*للحصول على أوراق عمل لجميع الصفوف وجميع المواد اضغط هنا

<https://almanahj.com/om>

* للحصول على أوراق عمل لجميع مواد الصف الحادي عشر اضغط هنا

<https://almanahj.com/om/11>

* للحصول على جميع أوراق الصف الحادي عشر في مادة حضارة اسلامية ولجميع الفصول, اضغط هنا

<https://almanahj.com/om/11history>

* للحصول على أوراق عمل لجميع مواد الصف الحادي عشر في مادة حضارة اسلامية الخاصة بـ الفصل الثاني اضغط هنا

<https://almanahj.com/om./11history2>

* لتحميل كتب جميع المواد في جميع الفصول للـ الصف الحادي عشر اضغط هنا

<https://almanahj.com/om./grade11>

للتحدث إلى بوت المناهج العمانية على تلغرام: اضغط هنا

https://t.me/omcourse_bot



امتحان الصف الحادي عشر
للعام الدراسي ١٤٣٧/١٤٣٨ هـ - ٢٠١٦/٢٠١٧ م
الدور الثاني - الفصل الدراسي الثاني

- المادة: الحضارة الإسلامية.
- زمن الإجابة: ساعتان.
- عدد صفحات أسئلة الامتحان: (١٠) صفحات.
- الإجابة في الورقة نفسها.

		اسم الطالب
الصف		المدرسة

التوقيع بالاسم		الدرجة		السؤال
المصحح الثاني	المصحح الأول	بالحروف	بالأرقام	
				١
				٢
				٣
				٤
مراجعة الجمع	جمعه			المجموع
				المجموع الكلي

(١)

امتحان الصف الحادي عشر
للعام الدراسي ١٤٣٧/١٤٣٨ هـ - ٢٠١٦/٢٠١٧ م
الدور الثاني - الفصل الدراسي الثاني
المادة: الحضارة الإسلامية

أجب عن جميع الأسئلة الآتية
السؤال الأول: ضع دائرة حول رمز الإجابة الصحيحة لكل مفردة من
المفردات الآتية:

(١) يطلق على المنطقة الواقعة بين شبه القارة الهندية وجنوب الصين:
أ- شرق آسيا. ب- جنوب شرق آسيا. ج- غرب آسيا. د- شمال شرق آسيا.

(٢) العام الميلادي الذي بني فيه مسجد الأصحاب بالصين :
أ- ١٠٠٩ ب- ١١٠٩ ج- ١٢٠٩ د- ١٣٠٩

(٣) السفينة الشراعية العمانية التي تم تسييرها إلى موانئ الصين والهند عام ١٩٨١ م :
أ- جوهرة مسقط. ب- الرحماني. ج- صحار. د- سلطنة.

(٤) الترتيب الصحيح لمراحل قيام الدويلات المستقلة في وسط آسيا من الأقدم إلى
الأحدث:

أ-	١- البويهية.	ب-	١- السامانية.
	٢- السامانية.		٢- البويهية.
	٣- السلجوقية.		٣- السلجوقية.
ج-	١- السلجوقية.	د-	١- السامانية.
	٢- السامانية.		٢- السلجوقية.
	٣- البويهية.		٣- البويهية.

يتبع/٢

(٢)

تابع امتحان الصف الحادي عشر
للعام الدراسي ١٤٣٧/١٤٣٨ هـ - ٢٠١٦/٢٠١٧ م
الدور الثاني - الفصل الدراسي الثاني
المادة: الحضارة الاسلامية

تابع/ السؤال الأول:

٥) الشجرة التي أدخلها العمانيون إلى منطقة شرق إفريقيا:
أ- القرنفل. ب- قصب السكر ج- النعناع. د- جوز الهند.

٦) الإمام العماني الذي استطاع طرد البرتغاليين من آخر معاقلهم بشرق إفريقيا:
أ- سلطان بن سيف. ب- سيف بن سلطان. ج- أحمد بن سعيد. د- ناصر بن مرشد.

٧) عاصمة الأمويين في الأندلس:
أ- قرطبة. ب- سرقسطة. ج- بلنسية. د- طليطلة.

٨) جميع ما يلي كلمات من أصول عربية تأثر بها الأوروبيين ما عدا:
أ- طاولة (Tavola). ب- بترول (Petroleum).
ج- قطن (Cotton). د- صابونة (Sapona).

٩) من خلال دراسة الصورة التي أمامك، فن العمارة التي نقلها الأوروبيون إلى بلادهم من العمارة الاسلامية:



أ- العقود المدببة.
ب- العقود المتقاطعة.
ج- المشربيات والشرفات.
د- البناء المستدير.

(٣)

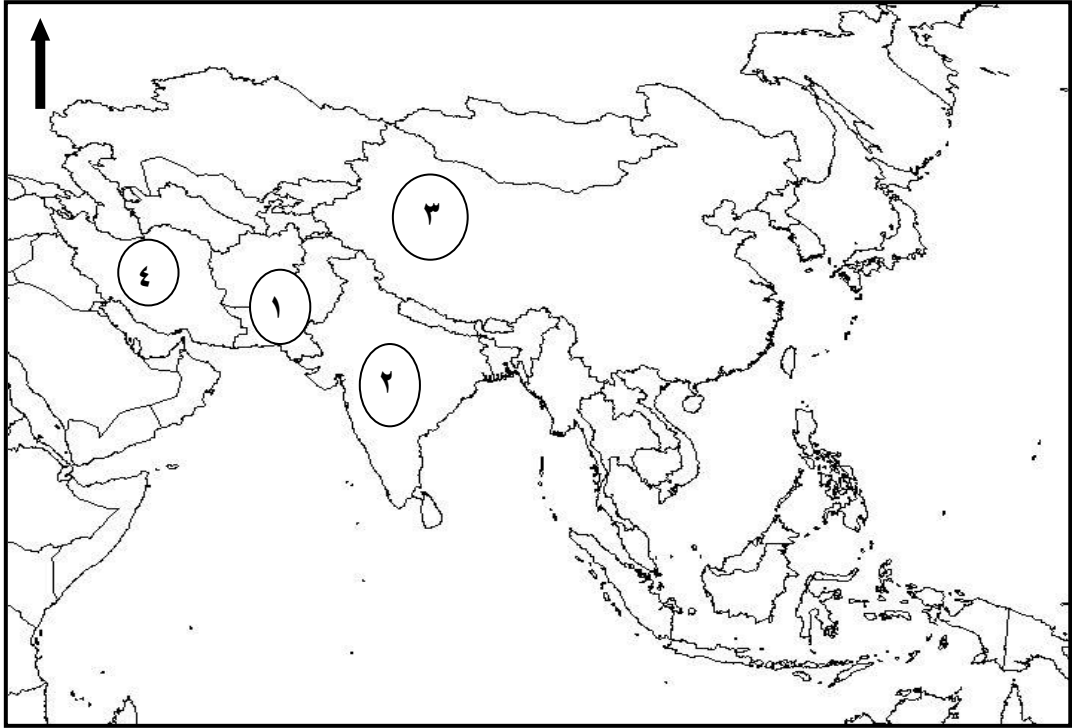
تابع امتحان الصف الحادي عشر
للعام الدراسي ١٤٣٧/١٤٣٨ هـ - ٢٠١٦/٢٠١٧ م
الدور الثاني - الفصل الدراسي الثاني
المادة: الحضارة الإسلامية

تابع/ السؤال الأول:

١٠) من مؤلفات العالم المسلم أبو عبدالله محمد البتاني:
أ- طوق الحمامة. ب- الزيج الصابئي. ج- الزيج الإيلخاني. د- جامع المفردات.

١١) التخصص الذي برع فيه العالم المسلم علي بن العباس:
أ- الفلك. ب- الرياضيات. ج- الجغرافيا. د- الطب.

١٢) الرقم الصحيح الذي يشير إلى الدولة التي تقع فيها تركستان الشرقية حاليًا:



د-٤

ج-٣

ب-٢

أ-١

يتبع/٤

(٤)

تابع امتحان الصف الحادي عشر
للعام الدراسي ١٤٣٧/١٤٣٨ هـ - ٢٠١٦/٢٠١٧ م
الدور الثاني - الفصل الدراسي الثاني
المادة: الحضارة الإسلامية

السؤال الثاني: أجب عن الأسئلة التالية:

أولاً: استبدل العبارتين الآتيتين بـ (المفهوم / المصطلح) الدال عليها:

أ- (.....) إمبراطورية إسلامية حكمت أجزاء كبيرة من شبه القارة الهندية وقد أسسها ظهير الدين بابر في القرن السادس الهجري واستمرت ٣٣٢ عام.

ب- (.....) مدينة تقع حالياً في جمهورية أوزباكستان كانت عاصمة لإقليم ما وراء النهر وقد أطلق عليها العرب اسم (الياقوته).

ثانياً : صنف عوامل نجاح العمانيين في نشر الحضارة الإسلامية بالسواحل الآسيوية

الآتية إلى مجالاتها كما في الجدول التالي: (إسهام السفن العمانية في نقل السلع - امتداد

الساحل العماني على مياه المحيط الهندي - قيام الإمامة الإباضية الثانية - موقع عمان الجغرافي بين الحضارات).

العوامل	المجالات
.....--	طبيعية
.....--	سياسية
.....--	اقتصادية

(٥)

تابع امتحان الصف الحادي عشر
للعام الدراسي ١٤٣٧/١٤٣٨ هـ - ٢٠١٦/٢٠١٧ م
الدور الثاني - الفصل الدراسي الثاني
المادة: الحضارة الإسلامية

تابع/ السؤال الثاني:

ثالثاً: أ) انسب المعالم التاريخية التالية بكتابة رمز كل صورة أسفل اسم الدولة/ المدينة التي تنتمي إليها كما في الجدول التالي:



الدولة/ المدينة	الهند	زنجبار	إسطنبول	المالديف
رمز الصورة

(٦)

تابع امتحان الصف الحادي عشر
للعام الدراسي ١٤٣٧/١٤٣٨ هـ - ٢٠١٦/٢٠١٧ م
الدور الثاني - الفصل الدراسي الثاني
المادة: الحضارة الإسلامية

تابع / السؤال الثاني :

(ب) علل ما يلي:

١- إقبال الإرساليات التنصيرية في أوروبا على دراسة اللغة العربية في فترة الحروب الصليبية.

٢- أصبحت الدولة العثمانية وسيطا تجاريا بين الشرق والغرب.

السؤال الثالث: أجب عن الأسئلة الآتية :

أولاً: أذكر اثنين مما يلي:

أ- أسباب الفتح الإسلامي لوسط آسيا.

ب- أشهر كتب أبو بكر الرازي في الطب.

(٧)

تابع امتحان الصف الحادي عشر
للعام الدراسي ١٤٣٧/١٤٣٨ هـ - ٢٠١٦/٢٠١٧ م
الدور الثاني - الفصل الدراسي الثاني
المادة: الحضارة الإسلامية

تابع / السؤال الثالث:

ثانياً: دلل على ما يلي:

أ- أثر التجار العمانيين في جزيرة جاوة بإندونيسيا.

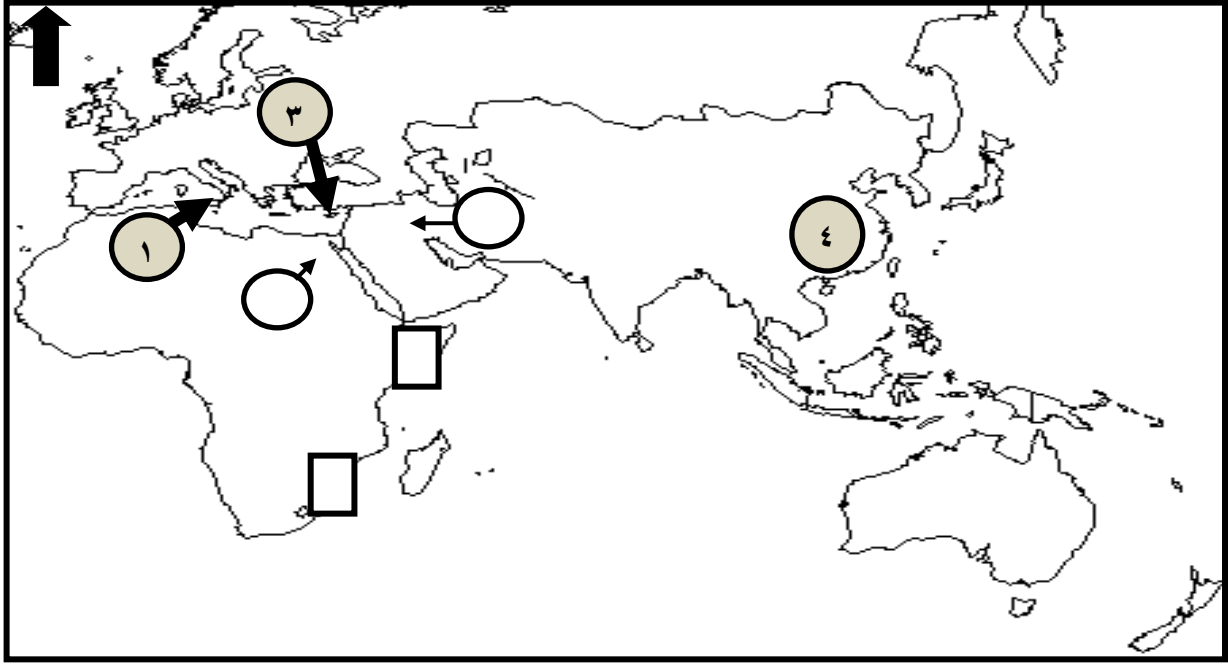
ب- تأثر الغرب بالحضارة الإسلامية من خلال الحروب الصليبية في مجال الآلات
والوسائل العسكرية.

(٨)

تابع امتحان الصف الحادي عشر
للعام الدراسي ١٤٣٧/١٤٣٨ هـ - ٢٠١٦/٢٠١٧ م
الدور الثاني - الفصل الدراسي الثاني
المادة: الحضارة الإسلامية

تابع/ السؤال الثالث

ثالثاً: أدرس الخريطة الآتية ثم أجب عن الأسئلة التي تليها :



أ- ما الرقم الدال على جزيرة صقلية التي كانت أحد معابر انتقال الحضارة الإسلامية إلى أوروبا.

ب- أكتب الرقم (٢) في الدائرة التي تشير إلى موقع المدينة التي أنشئ فيها أول مصنع للورق في البلاد الإسلامية.

ج- ما اسم التاجر العماني الذي بنى بالقرن الهجري الثاني مسجداً في الدولة المشار إليها بالرقم (٤).

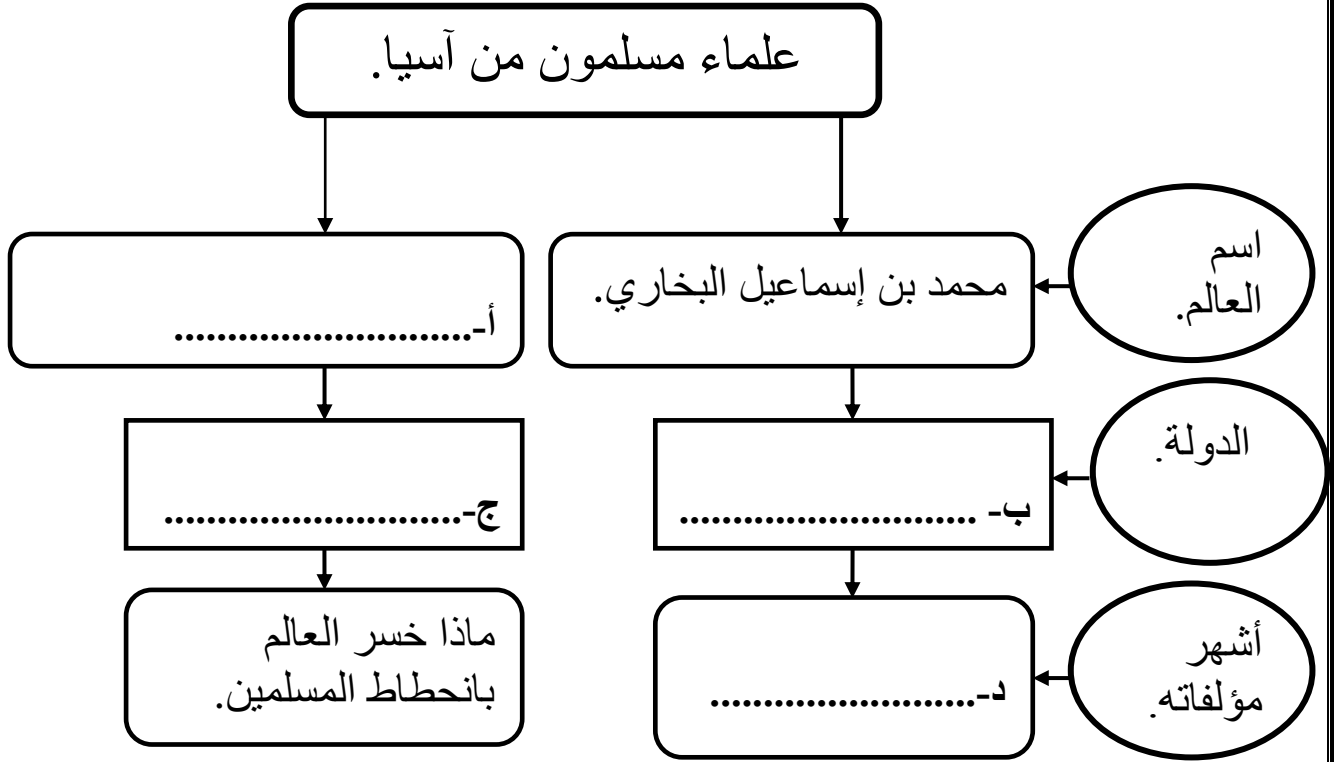
د- ظلل المستطيل الصحيح الذي يشير إلى الموقع الذي هاجرت إليه قبائل الحرث العمانية عام ٩٠٧ م.

(٩)

تابع امتحان الصف الحادي عشر
للعام الدراسي ١٤٣٧/١٤٣٨ هـ - ٢٠١٦/٢٠١٧ م
الدور الثاني - الفصل الدراسي الثاني
المادة: الحضارة الإسلامية

السؤال الرابع: أجب عن الأسئلة التالية :

أولا : أكمل الخريطة الذهنية التالية:



ثانيا :

رتب الأحداث التالية بكتابة الأرقام (١، ٢، ٣، ٤) أمام الأحداث من الأقدم إلى الأحدث:

(.....) نهاية الحروب الصليبية.

(.....) سيطرة المسلمين على جزيرة صقلية نهائياً.

(.....) نهاية الدولة العثمانية.

(.....) وصول الفتوحات الإسلامية إلى فيينا عاصمة النمسا.

(١٠)

تابع امتحان الصف الحادي عشر
للعام الدراسي ١٤٣٧/١٤٣٨ هـ - ٢٠١٦/٢٠١٧ م
الدور الثاني - الفصل الدراسي الثاني
المادة: الحضارة الإسلامية

تابع السؤال الرابع

ثالثاً: قارن بين حكم أسرة النباهنة وحكم أسرة البوسعيد في شرقي إفريقيا كما في الجدول التالي:

وجه المقارنة	العاصمة.	بداية حكم الأسرة بالقرن الميلادي.
النباهنة.
البوسعيد.

انتهت الأسئلة مع الدعاء للجميع بالتوفيق والنجاح.



نموذج إجابة امتحان الصف الحادي عشر
للعام الدراسي ١٤٣٧/١٤٣٨ هـ - ٢٠١٦/٢٠١٧ م
الدور الثاني - الفصل الدراسي الثاني

المادة: الحضارة الإسلامية. الدرجة الكلية: (٦٠) درجة.
تبيئه: نموذج الإجابة في (٥) صفحات.

أولاً: إجابة السؤال الموضوعي:

المفردة	البديل الصحيح	الإجابة	الدرجة	الصفحة
١	ب	جنوب شرق آسيا.	٢	٩٨
٢	أ	١٠٠٩	٢	٩٧
٣	ج	صحار.	٢	١١٠
٤	ب	١- السامانية ٢- البويهية. ٣- السلجوقية.	٢	٨٦
٥	أ	القرنفل.	٢	١١٧
٦	ب	سيف بن سلطان.	٢	١١٤
٧	أ	قرطبة.	٢	١٢٨/١٢٧
٨	ب	البتترول / petroleum	٢	١٣٥/١٣٤
٩	د	البناء المستدير.	٢	١٥٣
١٠	ب	الزيج الصابئي.	٢	١٤٥
١١	د	الطب.	٢	١٤٩
١٢	ج	٣	٢	٨٤
المجموع		٢٤ درجة		

(٢)
 تابع نموذج إجابة امتحان الصف الحادي عشر
 للعام الدراسي ١٤٣٧/١٤٣٨ هـ - ٢٠١٦/٢٠١٧ م
 الدور الثاني- الفصل الدراسي الثاني
 المادة : الحضارة الإسلامية

ثانيًا: إجابة الأسئلة المقالية: السؤال الثاني

الصفحة	الدرجة	الإجابة الصحيحة	المفردة	الجزئية										
٩٢	١	المغولية / الدولة المغولية.	أ	أولاً										
٨٩	١	سمرقند.	ب											
١٠٣	٢ لكل مفردة نصف درجة	<table border="1"> <thead> <tr> <th>العوامل</th> <th>المجالات</th> </tr> </thead> <tbody> <tr> <td>- امتداد الساحل العماني على مياه المحيط الهندي. - موقع عمان الجغرافي بين الحضارات.</td> <td>طبيعية</td> </tr> <tr> <td>- قيام الامامة الإباضية الثانية.</td> <td>سياسية</td> </tr> <tr> <td>- اسهام السفن العمانية في نقل السلع.</td> <td>اقتصادية</td> </tr> </tbody> </table>	العوامل	المجالات	- امتداد الساحل العماني على مياه المحيط الهندي. - موقع عمان الجغرافي بين الحضارات.	طبيعية	- قيام الامامة الإباضية الثانية.	سياسية	- اسهام السفن العمانية في نقل السلع.	اقتصادية		ثانيًا		
العوامل	المجالات													
- امتداد الساحل العماني على مياه المحيط الهندي. - موقع عمان الجغرافي بين الحضارات.	طبيعية													
- قيام الامامة الإباضية الثانية.	سياسية													
- اسهام السفن العمانية في نقل السلع.	اقتصادية													
٩٣ ١٢١ ١٣١ ٩٠	٤ لكل مفردة درجة	<table border="1"> <thead> <tr> <th>الدولة/ المدينة</th> <th>الهند</th> <th>زنجبار</th> <th>اسطنبول</th> <th>المالديف</th> </tr> </thead> <tbody> <tr> <td>رمز الصورة</td> <td>ب</td> <td>ج</td> <td>د</td> <td>أ</td> </tr> </tbody> </table>	الدولة/ المدينة	الهند	زنجبار	اسطنبول	المالديف	رمز الصورة	ب	ج	د	أ	أ	ثالثًا
الدولة/ المدينة	الهند	زنجبار	اسطنبول	المالديف										
رمز الصورة	ب	ج	د	أ										
١٣٤	٢	١- اقتناع الأوروبيين (رجالات أوروبا) بأن الطرق الحربية لا تجدي نفعًا في نشر الدين المسيحي، بسبب فشل الصليبيين العسكري/ نشر الدين المسيحي. (يكتفى بواحد وبما يفيد المعنى)	ب											
١٣١	٢	٢- الموقع الجغرافي ساعدها على أن تمثل طريقًا تجاريًا تمر من خلاله المنتجات والبضائع المتبادلة.												

(٣)

تابع نموذج إجابة امتحان الصف الحادي عشر
للعام الدراسي ١٤٣٧/١٤٣٨ هـ - ٢٠١٦/٢٠١٧ م
الدور الثاني - الفصل الدراسي الثاني
المادة : الحضارة الإسلامية

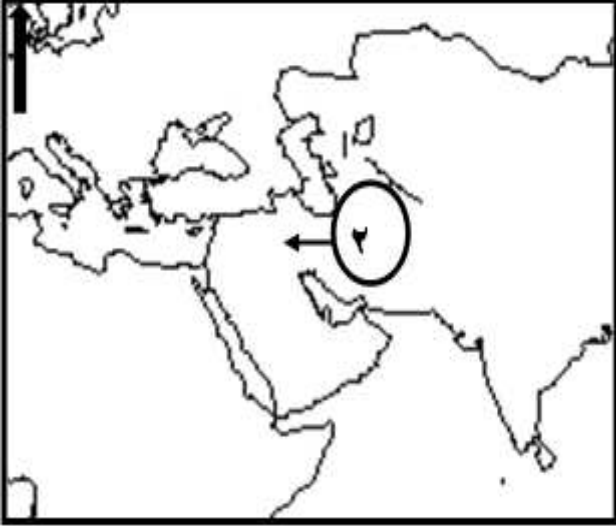
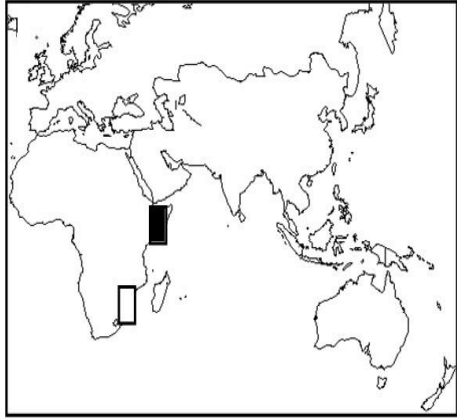
تابع ثانيًا: إجابة الأسئلة المقالية: السؤال الثالث

الصفحة	الدرجة	الإجابة الصحيحة	المفردة	الجزئية
٨٦	٢ لكل مفردة درجة	- إيصال دعوة الإسلام لشعوب وسط آسيا. - تأمين الحدود الشرقية للدولة الإسلامية. - إزاحة ما كان يعانيه شعوب وسط آسيا ونشر الاستقرار والعدالة بينهم. (يكتفي بذكر اثنين)	أ	أولاً
١٤٨	٢ لكل مفردة درجة	- الشفاء / الحاوي في الطب / المنصوري. (يكتفي بذكر اثنين)	ب	
١٠٩	٢	- العثور على مساجد أثرية قديمة كثيرة العدد بغير زخارف، مما يدل على أنها من بناء التجار العُثمانيين أو على الأقل متأثرة بالطابع العُماني في بناء المساجد وهو طابع معروف ببساطته. - العثور على مقابر كثيرة تظهر عليها نقوش عربية، تعود إلى عام ٤٧٥ هـ / ١٠٨٢ م. (يكتفي بواحد ، بما يفيد المعني)	أ	
١٣٥	٢	استخدام جوقات الموسيقى الملحقة بالجيش. - استخدام الحمام الزاجل لإرسال المعلومات الحربية. - اقتباس إشعال الأنوار احتفالاً بالنصر. - إجراء حفلات السباق. - لعب الخيل. - حسنوا من استخدامهم للمنجنيق والبارود ، وأنواع المشتعلات والمفرقات. (يكتفي بواحد)	ب	ثانيًا

يتبع / ٤

(٤)

تابع نموذج إجابة امتحان الصف الحادي عشر
للعام الدراسي ١٤٣٧/١٤٣٨ هـ - ٢٠١٦/٢٠١٧ م
الدور الثاني- الفصل الدراسي الثاني
المادة : الحضارة الإسلامية

الصفحة	الدرجة	الإجابة الصحيحة	المفردة	الجزئية
١٣٧/ ١٣٦	١	١	أ	
١٥٥	١		ب	
١٠٧	١	أبو عبيدة عبدالله بن القاسم / عبدالله بن القاسم / أبو عبيدة / عبدالله البسيوي.	ج	ثالثاً
١١٣	١		د	

(٥)

تابع نموذج إجابة امتحان الصف الحادي عشر
للعام الدراسي ١٤٣٧/١٤٣٨ هـ - ٢٠١٦/٢٠١٧ م
الدور الثاني- الفصل الدراسي الثاني
المادة : الحضارة الإسلامية

تابع ثانيًا: إجابة الأسئلة المقالية: السؤال الرابع

الجزئية	المفردة	الإجابة الصحيحة	الدرجة	الصفحة
أولاً	أ	أبو الحسن الندوي / أبو الحسن / الندوي.	١	٩٣
	ب	أوزبكستان / بخارى.	١	٨٩
	ج	الهند.	١	٩٣
	د	صحيح البخاري/ الجامع الصحيح.	١	٨٩
ثانيًا		(٢)- نهاية الحروب الصليبية العسكرية. (١)- سيطرة المسلمين على جزيرة صقلية نهائيًا. (٤) - نهاية الدولة العثمانية. (٣)- وصول الفتوحات الإسلامية إلى فيينا عاصمة النمسا.	٤ درجات لكل مفردة درجة	١٣٢ ١٣٧ ١٣٠ ١٣٠
ثالثًا		وجه المقارنة النباهنة. البوسعيد. زنجبار.	٤ درجات لكل مفردة درجة	١١٤
		العاصمة باتي. العاشر عشر (١٣) / السابع هجري (٧هـ). (يكتفى بواحد). الثامن عشر (١٨) / التاسع عشر (١٩). / الحادي عشر هجري (١١هـ) / الثاني عشر هجري (١٢هـ). (يكتفى بواحد).		

نهاية نموذج الإجابة