

تم تحميل هذا الملف من موقع المناهج العمانية



ملخص ثاني لشرح درس المفاصل

موقع فايلاتي ← المناهج العمانية ← الصف السابع ← علوم ← الفصل الأول ← ملخصات وتقارير ← الملف

تاريخ إضافة الملف على موقع المناهج: 2024-12-03 12:58:06

ملفات اكتب للمعلم اكتب للطالب | اختبارات الكترونية | اختبارات | حلول | عروض بوربوينت | أوراق عمل
منهج انجليزي | ملخصات وتقارير | مذكرات وبنوك | الامتحان النهائي للمدرس

المزيد من مادة
علوم:

التواصل الاجتماعي بحسب الصف السابع



صفحة المناهج
العمانية على
فيسبوك

الرياضيات

اللغة الانجليزية

اللغة العربية

التربية الاسلامية

المواد على تلغرام

المزيد من الملفات بحسب الصف السابع والمادة علوم في الفصل الأول

ملخص ثاني لشرح درس الهيكل العظمي للإنسان مع حل أسئلة كتاب النشاط وكتاب الطالب

1

ملخص ثاني لشرح درس الثمار

2

ملخص آخر لشرح درس الإخصاب

3

ملخص آخر لشرح درس التلقيح

4

ملخص آخر لدرس الأزهار

5

الدرجة	
الكلية	10

اسم الطالب :

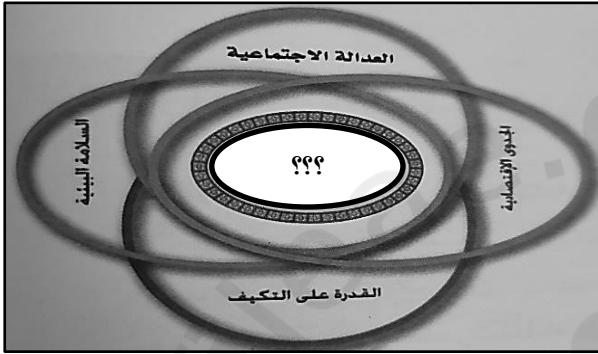
الصف : رقم التسلسل :

الاختبار القصير الثاني في مادة الجغرافيا الاقتصادية للصف الحادي عشر للفصل الدراسي الأول

3

السؤال الأول : الأسئلة الموضوعية

اختر الإجابة الصحيحة من بين البدائل المعطاة :



1- الصورة المقابلة تشير إلى المبادئ التي تقوم عليها :

- أ- الزراعة الكثيفة ب- الزراعة البدائية
- ج- الزراعة المستدامة د- الأمن الغذائي

2- قدرة المجتمع أو الدولة على توفير الغذاء للمواطنين كما و نوعا:

- أ- الزراعة ب- الدورة الزراعية ج- الأمن الغذائي د- الزراعة المستدامة

3- تشتهر المدرجات الزراعية في الفلبين بزراعة :

- أ- القطن ب- الأرز ج- القمح د- السكر

7

السؤال الثاني : الأسئلة المقالية

1: أجب عن الاسئلة التالية :

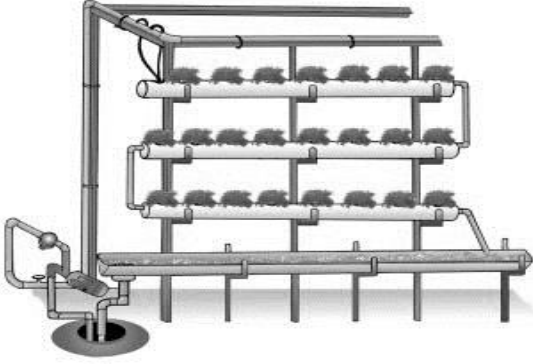
أ- عرف الزراعة العضوية .

درجة

درجة

ب- علل: انخفاض نسبة الأراضي الصالحة للزراعة.

3: من خلال دراستك للزراعة العصرية، انظر الى الصورة التي أمامك ثم أجب عما يلي :



أ- ما اسم هذا النوع من الزراعة العصرية ؟

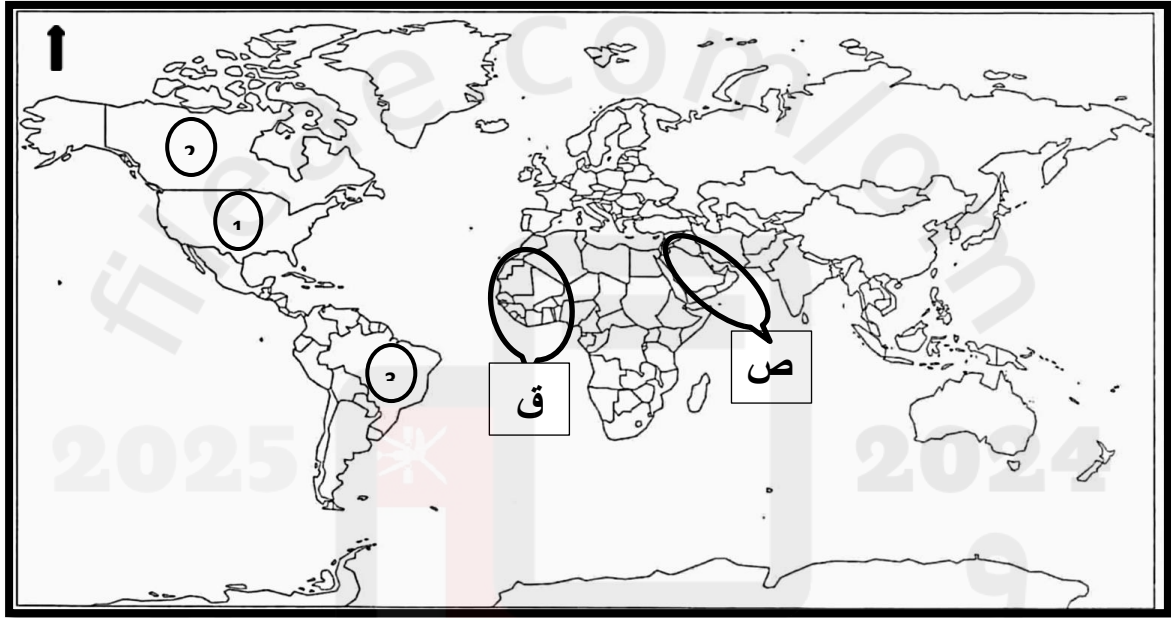
.....

ب- اذكر الدول التي تمارس هذا النوع من الزراعة؟

.....

.....

أولاً: من خلال دراستك للعوامل البشرية المؤثرة في الإنتاج الزراعي ، انظر إلى الخريطة ثم أجب عن التالي :



درجة

أ- الدولة التي تأسست فيها منظمة الأغذية والزراعة للأمم المتحدة (الفاو)، والمشار إليها بالرقم (.....)

درجة

ب- ظل رمز الأسواق التي تعتبر أنسب الأسواق العربية لتصريف المنتجات الزراعية العربية :

ص

ق

درجة

ج: عدد مقوم واحد من مقومات الأمن الغذائي؟.

.....

مع تمنياتي لكم بالنجاح أ _ المادة :حكيم خدة