

تم تحميل هذا الملف من موقع المناهج العمانية



تجميع أسئلة اختبارات نهائية لدرس النظام السياحي مخرجات

[موقع المناهج](#) ⇨ [المناهج العمانية](#) ⇨ [الصف الحادي عشر](#) ⇨ [جغرافيا](#) ⇨ [الفصل الثاني](#) ⇨ [الملف](#)

تاريخ إضافة الملف على موقع المناهج: 09:10:56 2024-06-01

التواصل الاجتماعي بحسب الصف الحادي عشر



اضغط هنا للحصول على جميع روابط "الصف الحادي عشر"

روابط مواد الصف الحادي عشر على تلغرام

[الرياضيات](#)

[اللغة الانجليزية](#)

[اللغة العربية](#)

[التربية الاسلامية](#)

المزيد من الملفات بحسب الصف الحادي عشر والمادة جغرافيا في الفصل الثاني

[امتحان تحريبي نهائي في محافظة ظفار مع نموذج الإجابة](#)

1

[ملخص شرح درس الاتصالات](#)

2

[ملخص شرح درس التجارة الدولية](#)

3

[اختبار قصير أول](#)

4

[كتيب المادة](#)

5

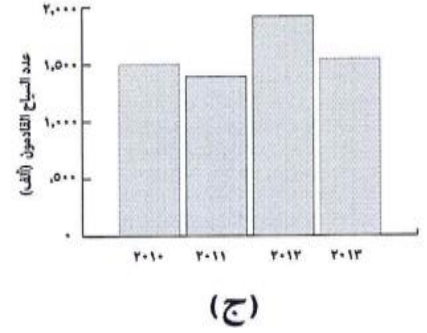
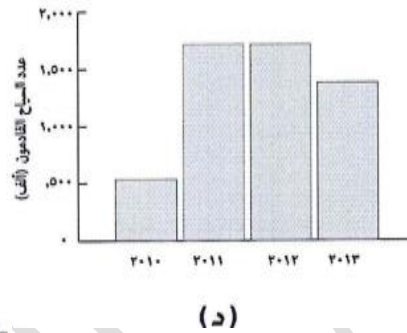
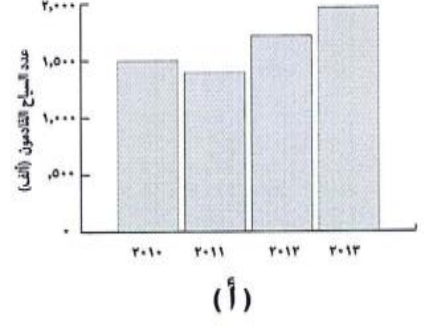
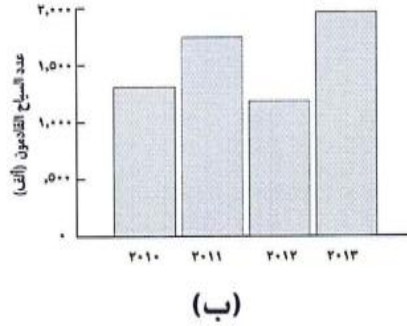
تجميع اختبارات نهائية في مادة الجغرافيا الاقتصادية للصف الحادي عشر الدرسي النظام السياحي مخرجات

الأستاذة: لخيار سعيد العمري مدرسة خديجة بنت خويلد للتعليم الأساسي ( ٥ - ١٢ ) محافظة ظفار

السؤال الأول: ضع دائرة حول رمز الإجابة الصحيحة لكل مفردة من المفردات الآتية :-

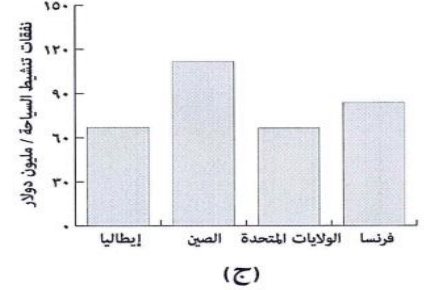
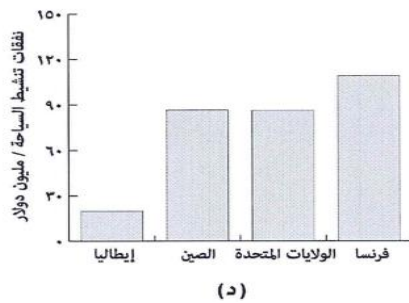
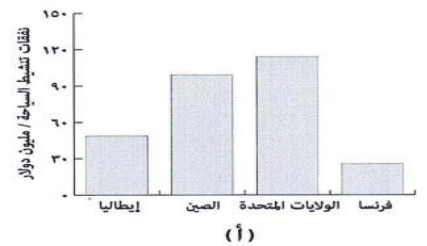
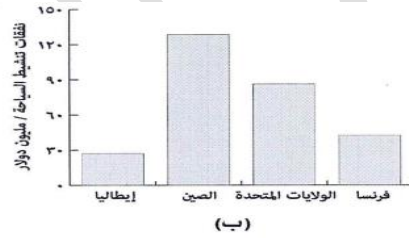
١ - الشكل البياني الصحيح الذي يوضح أعداد السياح القادمين ( الوافدين ) إلى سلطنة عمان حسب الجدول الآتي :-

العام الميلادي	عدد السياح القادمون ( ألف )
٢٠١٠	١,٥٠٠
٢٠١١	١,٣٩٣
٢٠١٢	١,٧١٤
٢٠١٣	١,٩٦١



٢ - الشكل البياني الصحيح الذي يوضح نفقات تنشيط السياحة حسب الجدول الآتي :-

الدولة	نفقات تنشيط السياحة / مليون دولار
فرنسا	٤٢,٤
الولايات المتحدة الأمريكية	٨٦,٢
الصين	١٢٨,٦
إيطاليا	٢٧



٣- من خلال الجدول الذي أمامك أكبر قطاع يزيد فيه القوى العاملة الوطنية عن القوى العاملة الوافدة:-

النشاط	القوى العاملة الوطنية	القوى العاملة الوافدة
شركة الطيران	٣١٥٢	٢١٦٣
مكاتب السفر والسياحة	١٢٦٥	٢٣١٢
الفنادق والمنتجعات	٢٧٢٤	٦٦٠٨
تأجير السيارات	٢١٠	١٢٤

أ- شركة الطيران ب- مكاتب السفر والسياحة

ج- تأجير السيارات د- الفنادق والمنتجعات

٤- النشاط الذي حقق أعلى نسبة تعميم في قطاع السفر والسياحة عام ٢٠١٣ م في سلطنة عمان حسب الجدول التالي:-

النشاط	نسبة التعميم المحققة	نسبة التعميم المستهدفة
شركة الطيران	٥٩,٣%	٩٠%
تأجير السيارات	٦٢,٨%	٩٠%
مكاتب السفر والسياحة	٣٥,٣%	٩٥%
الفنادق والمنتجعات	٢٩,٢%	فنادق (٣، ٤، ٥ نجوم) ٨٥%
		فنادق (١، ٢ والشقق الفندقية)


أ- شركة الطيران ب- مكاتب السفر والسياحة

ج- الفنادق والمنتجعات د- تأجير السيارات

٥- من خلال الجدول الذي أمامك الدولة الأوروبية الأكثر جذباً للسياح:-

الدولة	عدد السياح / مليون
الصين	٥٥,٧
إيطاليا	٤٧,٧
مصر	٩,٢
تركيا	٣٧,٨
بريطانيا	٣١,٢

أ- بريطانيا ب- الصين ج- تركيا د- إيطاليا



٦- الرمز الذي يشير إلى المجالات التي تركز عليها المدونة الموضحة في الصورة المقابلة:-

أ	بيئية	اجتماعية	اقتصادية
ب	سياسية	بيئية	اجتماعية
ج	بيئية	سياسية	اقتصادية
د	صحية	اجتماعية	اقتصادية



٧- يوجد المعلم السياحي في الشكل الواضح أمامك في ولاية :-

أ- الدقم ب- الجزائر ج- هيمما د- محوت

٨- يوجد متحف التاريخ الطبيعي الواضح في الشكل الذي أمامك :

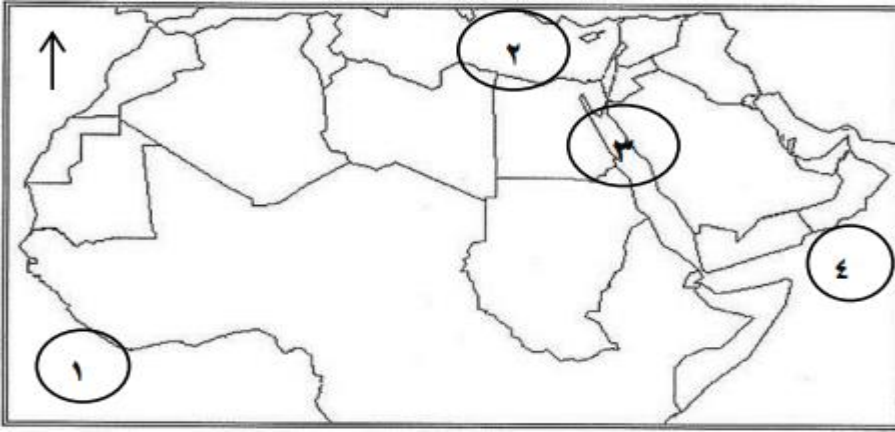
أ- نيويورك ب- كاليفورنيا ج- واشنطن د- لوس أنجلس

أ- أ-



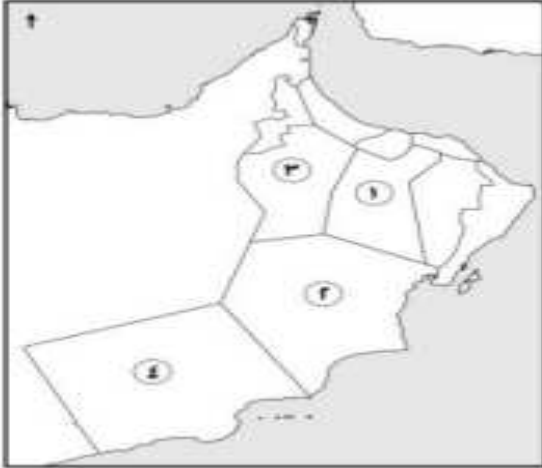
٩- تنتشر ظاهرة تدمير الشعاب المرجانية في المسطح المائي المشار إليه بالرقم :-

أ- ١ ب- ٢ ج- ٣ د- ٤



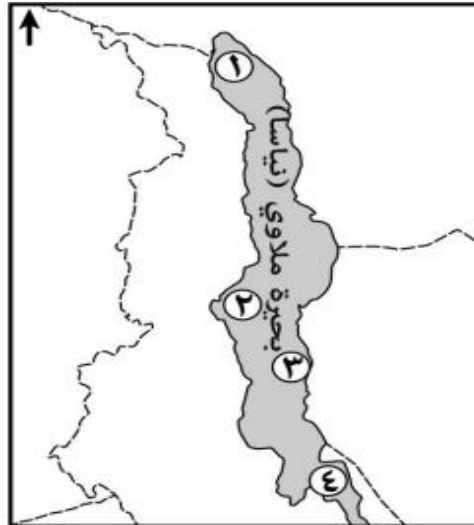
١٠- الرقم الذي يشير إلى المحافظة التي تقع فيها حديقة الصخور :-

أ- ١ ب- ٢ ج- ٣ د- ٤

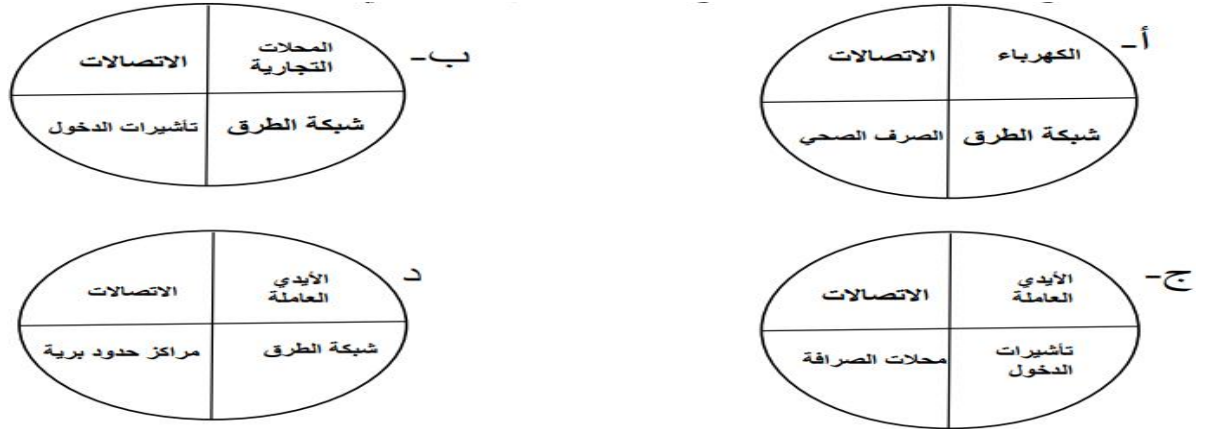


١١- الرقم الذي يشير إلى موقع مشروع ناكويشي في الخريطة المقابلة :-

أ- ١ ب- ٢ ج- ٣ د- ٤



١٢- الشكل الصحيح الذي يمثل بيئة المناخ الاستثماري السياحي من حيث البنى التحتية :-



١٣- يعتبر التعرف على حياة الشعوب وعاداتها وتقاليدها من الآثار السياحية :-

أ- البيئية ب- الاقتصادية ج- الاجتماعية د- السياسية

السؤال الثاني : أجب عن الأسئلة الآتية :-

١- عرف : المدونة العالمية لأخلاقيات السياحة

٢- كيف استطاعت كينيا تطبيق السياحة البيئية المستدامة

٣- اعط مثلاً على الممارسات البشرية الخاطئة في المناطق السياحية في سلطنة عمان التي تؤثر على البيئة

٤- عدد أنواع المتاحف في نيويورك

٥- اذكر الجوانب التي تشكل بيئة مناسبة للمناخ الاستثماري السياحي

٦- وضح آثار السياحة على البيئة على كل من :- أ- الغلاف الغازي ب- البيئة الجبلية ج- البيئة البحرية

٧- ما الآثار السلبية للسياحة على البيئة في المواقع الآتية :-

أ- الساحل المصري للبحر الأحمر ب- جبال ظفار ج- جبال الهملايا

٨- فسر : اهتمام الدول بفتح باب الاستثمار في القطاع السياحي


تابع : السؤال الثاني: التعامل مع الصور:-



١- ادرس الشكل المقابل جيداً ثم أجب عن الأسئلة الآتية:-

أ- ما اسم المدونة التي يرمز لها الشعار الواضح في الشكل المقابل

ب- اذكر المجالات الرئيسية التي اشتملت عليها المدونة



٢- يوضح الشكل المقابل إحدى المشاريع السياحية أدرسه ثم أجب عن الأسئلة الآتية:

أ- ما الدولة التي يقع فيها هذا المشروع

ب- وضح أبرز الفوائد التي حققها المشروع للسكان المحليين



٣- أمامك صورة لمراعي جبال ظفار. ادرسها جيداً ثم اكتب فقرة مترابطة تتناول فيها:

أ- الممارسة البشرية الخاطئة التي تعمل على تدمير البيئة من خلال الصورة المقابلة

ب- الآثار الناجمة عنها

ج- حلاً لمواجهة تلك الممارسة

٤- أمامك شكل يمثل مخطط لأحد المشروعات السياحية في سلطنة عمان ادرسه جيداً ثم أجب عن الأسئلة التي تليه:-



أ- اسم الولاية التي يقع فيها المشروع

ب- بماذا يتميز مناخ هذه الولاية طوال العام

ج- بماذا تتميز شواطئ هذه الولاية تضاريسياً

التعامل مع الجداول:

الدولة	عدد السياح /مليون	العائد/ مليار دولار	نفقات تنشيط السياحة / مليون دولار
إيطاليا	٤٧,٧	٤٣,٩	٢٧
الولايات المتحدة الأمريكية	٦٩,٨	٦٩,٣١	٨٦,٢
فرنسا	٨٣	٥٦,١	٤٢,٤
مصر	٩,٢	٦	٣
الصين	٥٥,٧	٥١,٧	١٢٨,٦
ألمانيا	٣١,٥	٤١,٢	٨٥,٩

١- ادرس الجدول الآتي ثم أجب عن الأسئلة التي تليه :-

- أ- استنتج من الجدول السبب الرئيس لقلّة العائد السياحي في مصر مقارنة بالدول السياحية الأخرى
- ب- رتب الدول الأوروبية تنازلياً ( من الأكثر إلى الأقل) من حيث العائد من السياحة

النشاط	القوى العاملة الوطنية	القوى العاملة الوافدة	نسبة التعمين المحققة
شركة الطيران	٣١٥٢	٢١٦٣	٥٩,٣%
مكاتب السفر والسياحة	١٢٦٥	٢٣١٢	٣٥,٣%
الفنادق والمنتجعات	٢٧٢٤	٦٦٠٨	٢٩,٢%
تأجير السيارات	٢١٠	١٢٤	٦٢,٨%

٢- استعن بالجدول الآتي الذي يبين القوى العاملة في قطاع السياحة لعام ٢٠١٣م في سلطنة عمان ثم اجب عن الأسئلة التي تليه:

- أ- استخرج من الجدول اسم النشاط الذي يظهر فارقاً كبيراً بين أعداد القوى العاملة الوافدة والقوى العاملة الوطنية
- ب- سم اثنتين من قطاعات العمل غير المباشر المستفيدة من السياحة
- ج- رتب الأنشطة السياحية من الأعلى إلى الأقل من حيث نسبة التعمين المحققة في الجدول الآتي :-

م	النشاط
١	
٢	
٣	
٤	

٣- ادرس الجدول التالي ثم أجب عما يلي :-

- أ- ما النشاط الذي ترتفع فيه القوى العاملة الوطنية عن القوى الوافدة
- ب- ما النشاط الذي سجل أعلى فارق في العدد بين القوى العاملة الوافدة والقوى العاملة الوطنية

النشاط.	القوى العاملة الوطنية.	القوى العاملة الوافدة.
شركة الطيران.	٣١٥٢	٢١٦٣
مكاتب السفر والسياحة.	١٢٦٥	٢٣١٢
الفنادق والمنتجعات	٢٧٢٤	٦٦٠٨

٤- وضح النتائج المترتبة على أثر النشاط السياحي في البيئة الجبلية:

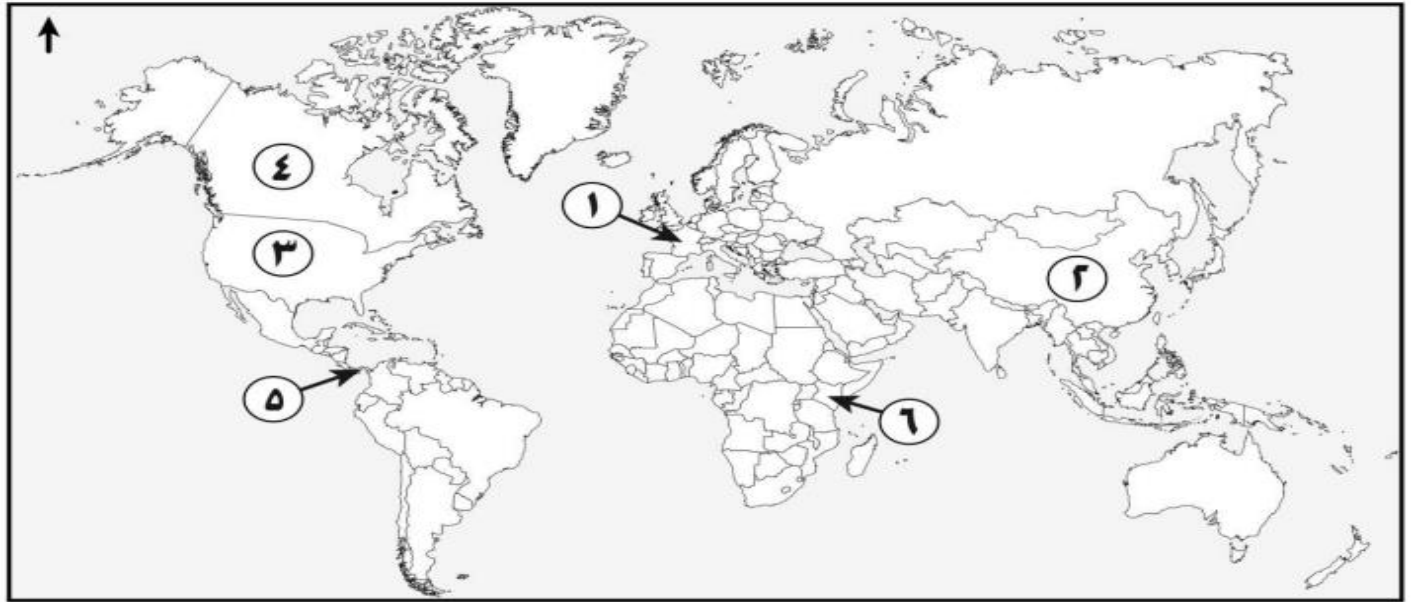
النشاط السياحي.	تأثيره
استخدام الممرات الجبلية في جبال الهملايا.	.....
مرور السيارات في مراعي جبال ظفار.	.....
سير المركبات بسرعة بطيئة في الجبال.	.....

٥- اكتب النتائج المترتبة على أثر الأنشطة السياحية في البيئة الجبلية في الجدول التالي :-

النشاط السياحي	النتيجة المترتبة
استخدام الممرات الجبلية في جبال الهملايا.	_____
مرور السيارات في مراعي جبال ظفار	_____

التعامل مع الخرائط

١- استعن بخريطة العالم التي أمامك ثم أجب عن الأسئلة التي تليها:-



أ- اكتب واحداً من إجراءات الدولة المشار إليها بالرقم ( ٦ ) للسياحة البيئية المستدامة في منتجعات السفاري

ب- استخرج من الخريطة الرقم الذي يشير إلى موقع المتحف الآتي :-

