

شكراً لتحميلك هذا الملف من موقع المناهج العمانية



اختبار قصير أول نموذج ثاني

[موقع المناهج](#) ⇨ [المناهج العمانية](#) ⇨ [الصف الحادي عشر](#) ⇨ [اجتماعيات](#) ⇨ [الفصل الأول](#) ⇨ [الملف](#)

تاريخ نشر الملف على موقع المناهج: 2023-10-29 06:33:43 | اسم المدرس: نعيمة البريكية

التواصل الاجتماعي بحسب الصف الحادي عشر



روابط مواد الصف الحادي عشر على تلغرام

[الرياضيات](#)

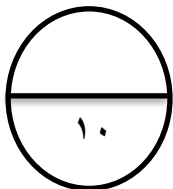
[اللغة الانجليزية](#)

[اللغة العربية](#)

[التربية الاسلامية](#)

المزيد من الملفات بحسب الصف الحادي عشر والمادة اجتماعيات في الفصل الأول




اختبار احتياطي قصير أول	1
اختبار قصير أول	2
نماذج اختبارات قصيرة وواجبات منزلية	3
أنشطة وأوراق عمل على الوحدة الرابعة عمان الدولة العصرية	4
مذكرة أنشطة في الوحدة الثانية - المجتمع العماني بين الأصالة (دفتري سر تميزي)	5



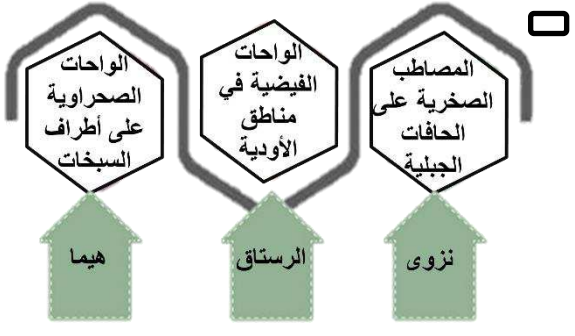
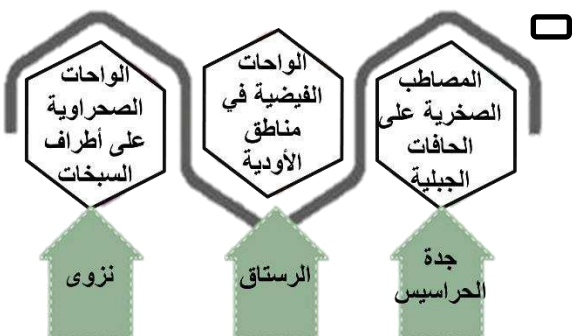
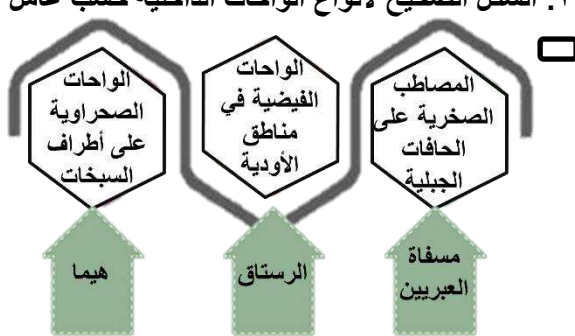
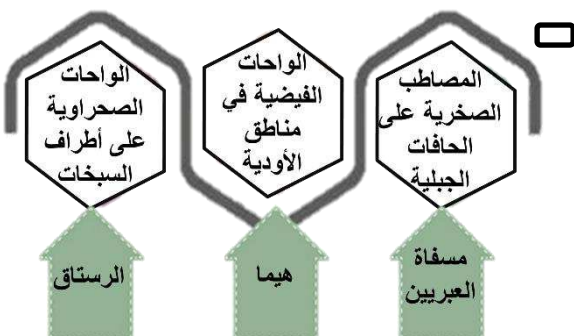
الاختبار القصير الأول لمادة الدراسات الاجتماعية للصف الحادي عشر

السؤال الاول : ظللي الرمز " □ " المقترن بالإجابة الصحيحة:

١. الصورة الصحيحة التي تشير إلى صحراء " الحقف " بمحافظة الوسطى:



٢. الشكل الصحيح لأنواع الواحات الداخلية حسب عامل التكوين في سلطنة عمان:



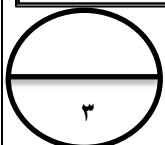
٣. الجدول الصحيح للمقارنة بين سلسلة جبال ظفار وسهل صلالة:

سهل صلالة	جبال ظفار	أوجه المقارنة
تمثل المنطقة المحصورة بين بحر العرب وجبال ظفار.	بمحاذاة بحر العرب في جنوب عمان.	الامتداد
٢٩٠	٧٠	الطول بالكيلومتر

سهل صلالة	جبال ظفار	أوجه المقارنة
تمثل المنطقة المحصورة بين بحر عمان وجبال ظفار.	بمحاذاة بحر العرب في جنوب عمان.	الامتداد
٧٠	٢٩٠	الطول بالكيلومتر

سهل صلالة	جبال ظفار	أوجه المقارنة
تمثل المنطقة المحصورة بين بحر العرب وجبال ظفار.	بمحاذاة بحر العرب في جنوب عمان.	الامتداد
٧٠	٢٩٠	الطول بالكيلومتر

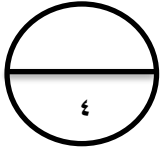
سهل صلالة	جبال ظفار	أوجه المقارنة
تمثل المنطقة المحصورة بين بحر العرب وجبال ظفار.	بمحاذاة بحر العرب في جنوب عمان.	الامتداد
٢٣٧	٢٩٠	الطول بالكيلومتر



السؤال الثاني: ١. اكتب العامل المسؤول عن تكوين مظاهر السطح في الجدول التالي:


العامل المكون لها	المظهر الطبيعي
	الكهوف.
	السهول الساحلية.
	الوحدات الداخلية.

٢. أكمل البيانات المرتبطة بالمسطرة الزمنية التالية بالاستعانة بالصورة بكتابة العام الميلادي لإنشاء المحميات في سلطنة عمان:



السؤال الثالث:

١. أعط أمثلة لبعض الجزر الموجودة حول شبه جزيرة مسندم.



٢. أمامك خريطة لسلطنة عمان ادرسيها جيدا

وأجب عن الآتي:

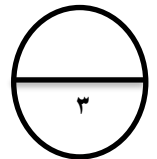
أ. اربط بين الصورة والمحافظة بكتابة الرمز

الصحيح في الخريطة على الصورة المناسبة.

ب. ضع دائرة حول أكبر الجزر من حيث المساحة.

ج. اكتب اسم المحافظة التي تحتل المرتبة الأولى من

حيث عدد الكهوف.



كن مختلفا فالعالم ليس بحاجة للمزيد من النسخ

إعداد الأستاذة نعيمة البريكية