

شكراً لتحميلك هذا الملف من موقع المناهج العمانية



نماذج اختبارات قصيرة وواجبات منزلية

موقع المناهج ← المناهج العمانية ← الصف الحادي عشر ← اجتماعيات ← الفصل الأول ← الملف

تاريخ نشر الملف على موقع المناهج: 2023-10-29 05:03:08 | اسم المدرس: أبو الياس الوضاحي

التواصل الاجتماعي بحسب الصف الحادي عشر



روابط مواد الصف الحادي عشر على تلغرام

[الرياضيات](#)

[اللغة الانجليزية](#)

[اللغة العربية](#)

[التربية الاسلامية](#)

المزيد من الملفات بحسب الصف الحادي عشر والمادة اجتماعيات في الفصل الأول

أنشطة وأوراق عمل على الوحدة الرابعة عمان الدولة العصرية	1
مذكرة أنشطة في الوحدة الثانية - المجتمع العُماني بين الأصالة (دفتري سر تميزي)	2
مذكرة أنشطة في الوحدة الأولى - عُمان..المكان والحضارة (دفتري سر تميزي)	3
أوراق عمل في الوحدة الأولى (أحوية)	4
أوراق عمل في الوحدة الأولى (أسئلة)	5

اختبار

القصير الأول

هذا وطني (دراسات)

للصف الحادي عشر

الفصل الأول

تجميع / أبو الياس الوضاحي



درجتي المتميزة

الفصل الدراسي الأول

الصف :

اسم الطالب :

التاريخ : / / م

السؤال الأول : ظلل الشكل () المقترن بالإجابة الصحيحة :

(١) الجدول الذي يمثل التصنيف الصحيح للنباتات الطبيعية في سلطنة عُمان :

نباتات الجبال والمرتفعات الجبلية	النباتات الملحية في الأقاليم الساحلية	الزيتون البري	المانجروف	الأكاسيا	الزيتون البري	البوت	الزيتون البري	الزيتون البري	النباتات الملحية في الأقاليم الساحلية	الزيتون البري	النباتات الملحية في الأقاليم الساحلية
العلائن	الزيتون البري	الزيتون البري	المانجروف	الأكاسيا	الزيتون البري	البوت	الزيتون البري	الزيتون البري	النباتات الملحية في الأقاليم الساحلية	الزيتون البري	النباتات الملحية في الأقاليم الساحلية
العلائن	الزيتون البري	الزيتون البري	المانجروف	الأكاسيا	الزيتون البري	البوت	الزيتون البري	الزيتون البري	النباتات الملحية في الأقاليم الساحلية	الزيتون البري	النباتات الملحية في الأقاليم الساحلية
العلائن	الزيتون البري	الزيتون البري	المانجروف	الأكاسيا	الزيتون البري	البوت	الزيتون البري	الزيتون البري	النباتات الملحية في الأقاليم الساحلية	الزيتون البري	النباتات الملحية في الأقاليم الساحلية

(٢) تقع سيخة أم السميع في محافظة :

الداخلية الظاهرة الوسطى مسندم

(٣) الجدول الذي يمثل المواقع الصحيحة للمظاهر الجغرافية التي تميز السطح في سلطنة عُمان :

مظاهر السطح	المحافظة	مظاهر السطح	المحافظة	مظاهر السطح	المحافظة	مظاهر السطح	المحافظة
خور جراما	جنوب الشرقية	خور جراما	جنوب الشرقية	خور جراما	جنوب الشرقية	خور جراما	جنوب الشرقية
كهف المرنيف	الداخلية	كهف المرنيف	الداخلية	كهف المرنيف	الداخلية	كهف المرنيف	الداخلية
صحراء الحقف	الوسطى	صحراء الحقف	الوسطى	صحراء الحقف	الوسطى	صحراء الحقف	الوسطى

السؤال الثاني : (١) أجب عن الأسئلة الآتية :

(أ) اذكر واحداً فقط فيما يلي :

(١) النتائج التي ترتبت على طول السواحل العمانية وإشرافها على بحار مفتوحة .

(٢) أهمية صحور الأفيوليت (أفبوليت سمانل) .

(ب) أكتب المصطلح المناسب مقابل العبارات الواردة في الجدول الآتي :

١	عبارة عن خلجان مائية صغيرة متصلة عادة بمياه البحر.
٢	فتحة طبيعية في الصخر يتكون نتيجة الإذابة في الصخور الجيرية بفعل الأمطار أو بواسطة التعرية البحرية.



٢) ادرس الصور المقابلة ، ثم أجب عن الأسئلة الآتية :

أ) سم النبات الطبيعي في الصورة رقم (١) .

ب) من أكثر النباتات الطبيعية انتشاراً في الصحاري العمانية.

○ النبات الطبيعي في الصورة رقم (١)

(ظلل الإجابة الصحيحة)

○ النبات الطبيعي في الصورة رقم (٢)

ج) اذكر ما يلي :

١) فائدة واحدة للنبات الطبيعي رقم (١) .

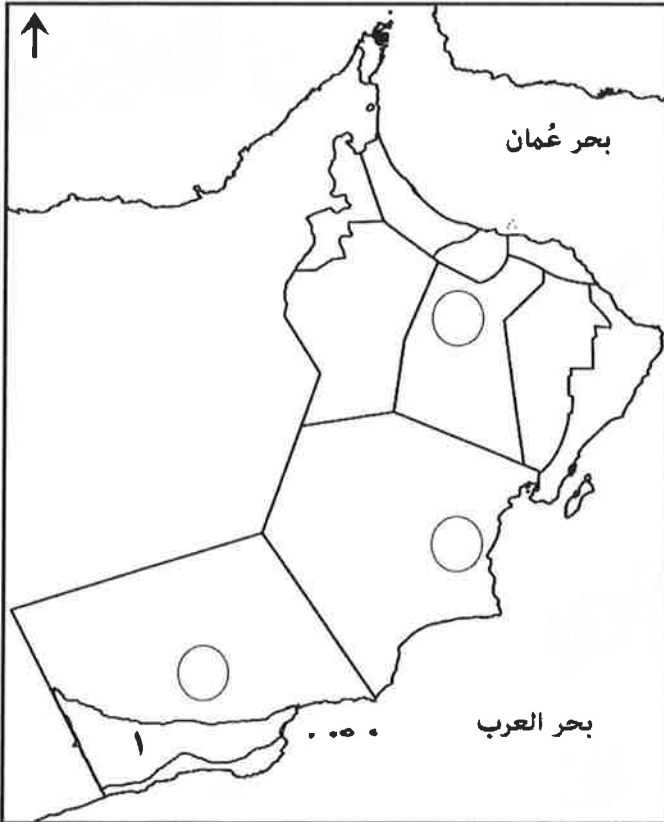
٢) نبات طبيعي آخر ينمو في نفس الإقليم الذي ينمو فيه النبات الطبيعي رقم

(٢) .

السؤال الثالث :

١) أعط أمثلة على الدول التي زارها معرض " رسالة الإسلام من عُمان " . (يكتفي بذكر اثنين فقط) .

٢) أمامك خريطة لسلطنة عُمان أدرسها جيداً ... ثم أجب عن الأسئلة التي تليها :




أ) أكتب رموز المواقع (أ - ب) في الدوائر المرتبطة

بمواقع المحافظات التي تقع فيها على الخريطة.

ب) ضع دائرة حول أكبر الجزر مساحةً في سلطنة عُمان.

ج) ما اسم السلسلة الجبلية المشار إليها بالرقم (١) .



اللهم يا معلم موسى علمني ، ويا مظهر سليمان فهمني ، ويا مؤتي لقمان الحكمة وفصل الخطاب آتني الحكمة وفصل الخطاب ، اللهم اجعل ألسنتنا عامرة بذكرك ، وقلوبنا بخشيتك ، وأسرارنا بطاعتك ، إنك على كل شيء قدير ، حسبنا الله ونعم الوكيل .

إعداد الأستاذة أصيلة الفزازية

اسم الطالب : الصف: 11/

وزارة التربية والتعليم

المديرية العامة للتربية والتعليم بمحافظة شمال الشرقية

مدرسة البناء للتعليم الاساسي

10

اختبار قصير (1) للصف الحادي عشر لمادة الدراسات الاجتماعية للعام الدراسي !

3

السؤال الأول : اختار الاجابة الصحيحة من بين البدائل المعطاة :

1) أعلنت منطقة جبل سمحان محمية طبيعية في العام الميلادي :

أ) 1990 م ب) 1996 م ج) 1997 م د) 1998 م

2) الجزء الذي يشغله إقليم عُمان من شبه الجزيرة العربية :

أ) جنوب شرقي ب) شمال شرق ج) شمال غرب د) جنوب غرب

3) الممر المائي الطبيعي الذي تشرف عليه السلطنة :

أ) مضيق جبل طارق ب) هرمز ج) البسفور د) السويس

السؤال الثاني : أجب :

4

1) قارين

النباتات	الاستخدامات
السمر	
الرمرام	

2) اذكر عاملين من العوامل التي ساهمت في تنوع الغطاء النباتي بالسلطنة ك

(أ)

(ب)

3) فسر : سقوط امطار الجبال الأخضر شتاءا و جبال ظفار صيفا ؟

السؤال الثالث : استعين باشكل و اجيب عن الأسئلة التالية :

3

1) حدد اسم الولاية و المحافظة التي يوجد بها الشكل ؟



2) ما أهمية الاقتصادية لشكل الموضح ؟

3) وضح العوامل التي ساهمت في تكوين هذا الشكل ؟

انتهت الاسئلة مع تمنياتي للجميع بالتوفيق

"واجب منزلي (١) للصف الحادي عشر لمادة هذا وطني"



المديرية العامة للتربية والتعليم بمحافظة جنوب الشرقية

مدرسة هشام بن العاص للتعليم الأساسي (٥-١٢)

للفصل الدراسي الأول للعام الدراسي أ

الصف:

الاسم:

السؤال الأول: أجب عن الأسئلة الآتية:

أولاً: أنظر الى الخريطة التي أمامك ثم أجب عن الأسئلة الآتية:

١- ظلل على الخريطة أكبر سبخة في سلطنة عمان

٢- من مميزات السلاسل الجبلية في المنطقة المشار اليها بالرقم (٤)

٣- الرقم الذي يشير الى المحافظة التي يوجد بها أكبر عدد من الكهوف (.....)

السؤال الثاني: أجب عن الأسئلة الآتية:

أولاً: قارن بين كلا من سهل الباطنة وسهل صلالة من حيث: (الامتداد - المميزات)

سهل صلالة	سهل الباطنة	وجه المقارنة
		الامتداد
		المميزات

10

اختبار قصير أول

/الاسم: الصف: الحادي عشر

3

السؤال الأول: أختَر الإجابة من بين البدائل المعطاء

تبلغ طول سواحل عمان حوالي (1)

د- 3166 كلم

ج- 3265 كلم

ب- 3164 كلم

أ- 3163 كلم

الوادي الذي يقسم سلسلة جبال حجر عمان الى قسمين (2)

د- وادي الحوقين

ج- وادي الحوض

ب- وادي سمائل

أ- وادي الجزري

الصورة التالية توضح (3)

ب) جبل سمحان

أ- كهف الهوته



د- حديقة الصخور

ج- كهف المرنيف

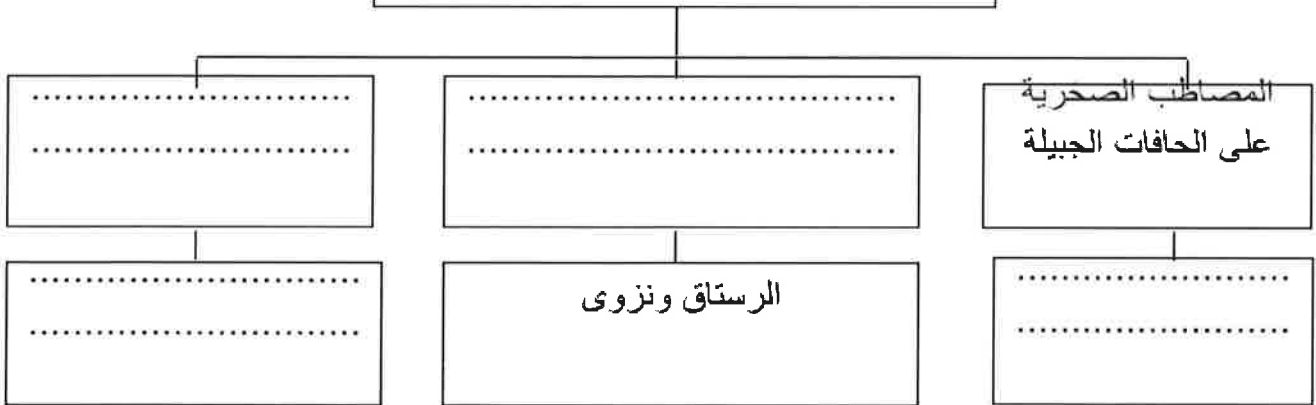
4

السؤال الثاني: أجب على الأسئلة الآتية

1) اشرح كيف أسهم الموقع الجغرافي لعمان بالتحكم في شبكة التجارة والملاحة في (1) المحيط الهندي.

2) أكمل الشكل الذي يوضح أنواع الواحات الداخلية في سلطنة عمان.

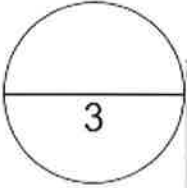
الواحات الداخلية في سلطنة عمان



وضح الفرق بين (3)

.....	الأخوار الدائمة
.....	الأخوار المؤقتة

السؤال الثالث



ادرس الخريطة ثم أجب على الاسئلة الآتية (1)

أ- لون على الخريطة امتداد سهل الباطنة

ب- سم الصحراء (منطقة) المشار إليها بالرمز (أ)

ج- أذكر نوع من أنواع الحيوانات الموجود في المحمية المشار إليها بالرمز (ب)

تحدث عن سبحة أم السميم (2)

.....

.....

.....



السؤال الأول : ضع دائرة حول رمز الإجابة الصحيحة مما يلي:- (1 درجات)

1- من أكثر الجبال ارتفاعا في سلطنة عمان واشدها انحدارا

أ - الحجر الغربي ب- الحجر الشرقي ج- مسندم د- ظفار

2- يطلق علي الواحات الجبلية التي أنشأها العمانيون علي المصاطب الصخرية اسم

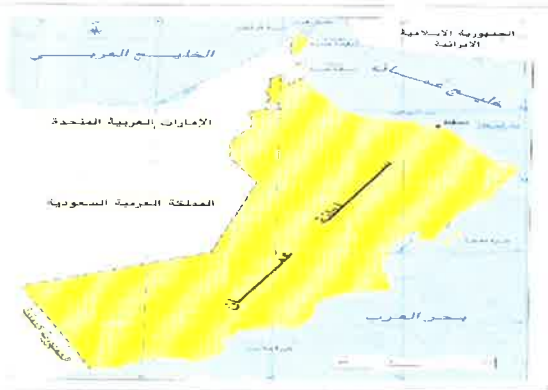
أ- الأخوار ب- السبخات ج- المسفاة د- الكهوف

السؤال الثاني : أجب عما يلي:- (1 درجة)

أ - صمم جدول تقارن فيه بين الأخوار الدائمة والأخوار المؤقتة من حيث (التعريف - مثال لكل نوع):

السؤال الثالث : أنظر الي الخريطة التي امامك ثم أجب عما يليها :- (2 درجة)

أ - حدد على الخريطة الواحات الداخلية في عمان وتناولها بالشرح :-



.....

.....

.....

.....

.....

.....