

## شكراً لتحميلك هذا الملف من موقع المناهج العمانية



## اختبار احتياطي قصير أول

[موقع المناهج](#) ⇨ [المناهج العمانية](#) ⇨ [الصف الحادي عشر](#) ⇨ [اجتماعيات](#) ⇨ [الفصل الأول](#) ⇨ [الملف](#)

تاريخ نشر الملف على موقع المناهج: 2023-10-29 06:23:42 | اسم المدرس: نعيمة البريكية

## التواصل الاجتماعي بحسب الصف الحادي عشر



## روابط مواد الصف الحادي عشر على تلغرام

[الرياضيات](#)

[اللغة الانجليزية](#)

[اللغة العربية](#)

[التربية الاسلامية](#)

## المزيد من الملفات بحسب الصف الحادي عشر والمادة اجتماعيات في الفصل الأول

<a href="#">اختبار قصير أول</a>	1
<a href="#">نماذج اختبارات قصيرة وواجبات منزلية</a>	2
<a href="#">أنشطة وأوراق عمل على الوحدة الرابعة عمان الدولة العصرية</a>	3
<a href="#">مذكرة أنشطة في الوحدة الثانية - المجتمع العُماني بين الأصالة (دفتري سر تميزي)</a>	4
<a href="#">مذكرة أنشطة في الوحدة الأولى - عُمان..المكان والحضارة (دفتري سر تميزي)</a>	5

الاختبار الاحتياطي القصير الأول لمادة الدراسات الاجتماعية للصف الحادي عشر

السؤال الاول : ظللي الرمز " □ " المقترن بالإجابة الصحيحة:

١. الشكل الصحيح للسمات المميزة للنباتات الطبيعية في عمان حسب الصورة المرتبطة بها:

أكثر الأشجار انتشارا في عمان في الأراضي السهلية والحصوية.

أشجار دائمة الخضرة عطرية الرائحة تنمو في المرتفعات الجبلية.

تكيفت مع الصحراء عن طريق امتصاص الندى بواسطة أوراقها.

أشجار دائمة الخضرة عطرية الرائحة تنمو في المرتفعات الجبلية.

تكيفت مع الصحراء عن طريق امتصاص الندى بواسطة أوراقها.

أكثر الأشجار انتشارا في عمان في الأراضي السهلية والحصوية.

تكيفت مع الصحراء عن طريق امتصاص الندى بواسطة أوراقها.

أكثر الأشجار انتشارا في عمان في الأراضي السهلية والحصوية.

أشجار دائمة الخضرة عطرية الرائحة تنمو في المرتفعات الجبلية.

أكثر الأشجار انتشارا في عمان في الأراضي السهلية والحصوية.

تكيفت مع الصحراء عن طريق امتصاص الندى بواسطة أوراقها.

أشجار دائمة الخضرة عطرية الرائحة تنمو في المرتفعات الجبلية.

٢. الشكل الصحيح لأنواع الأخوار الدائمة في سلطنة عمان:

شم

أم السميم

المغسيل

جراما

شم

أرزات

جراما

٣. الجدول الصحيح للمقارنة بين نوعي السبخات في سلطنة عمان:

وجه المقارنة	السبخات الداخلية	السبخات الساحلية
التكوين	نتيجة تصريف الأودية الصحراوية.	نتيجة ارتفاع مستوى المد البحري.
مثال	أم السميم	السوداي

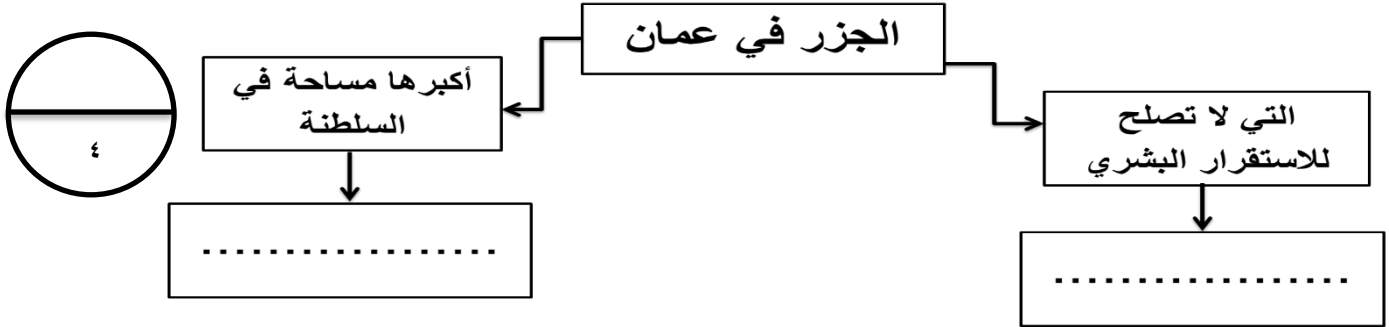
  

وجه المقارنة	السبخات الداخلية	السبخات الساحلية
التكوين	نتيجة ارتفاع مستوى المد البحري.	نتيجة تصريف الأودية الصحراوية.
مثال	أم السميم	المرينف

السؤال الثاني: ١. اكتب المصطلح الذي يشير إلى التعريفات في الجدول التالي:

المصطلح	التعريف
	صخور بركانية ظهرت على السطح نتيجة للحركات التكتونية.
	فتحة طبيعية في الصخر يتكون نتيجة الاذابة في الصخور الجيرية.
	إرسابات خصبة تكونت بفعل التعرية المائية أو التعرية الريحية.

٢. أكمل البيانات المرتبطة بخريطة المفاهيم التالية للجزر في سلطنة عمان:



السؤال الثالث:

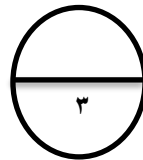

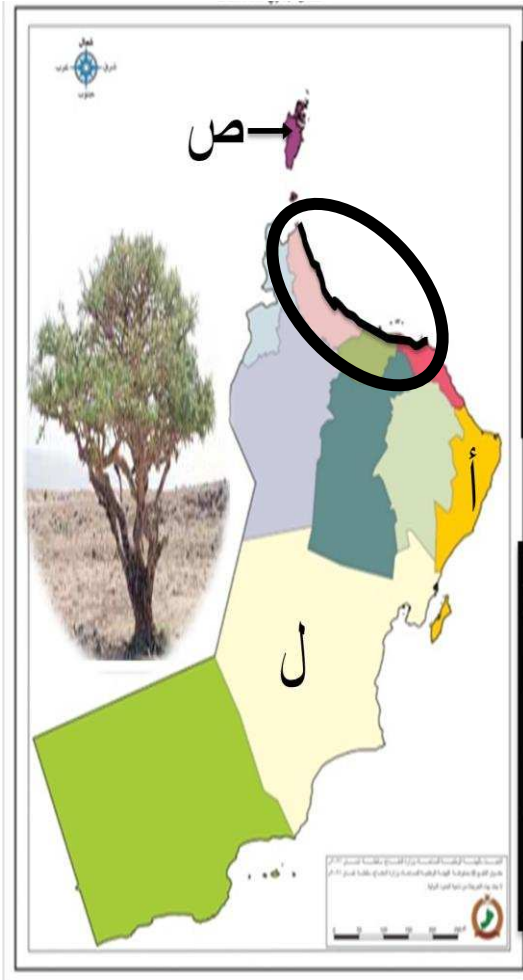
١. أعط أمثلة لبعض النباتات الملحية في الأقاليم الساحلية.

٢. أمامك خريطة لسلطنة عمان ادرسيها جيدا

وأجب عن الآتي:

- أ. اربط بين الصورة والمحافظة بكتابة الرمز الصحيح في الخريطة على الصورة المناسبة.
- ب. سم المظهر الطبيعي المحاط بدائرة على الخريطة.

ج. اكتب اسم المحافظة التي تنمو بها زراعة الشجرة في الصورة على الخريطة.



حقيقة الوصول تكمن في قوة السعي  
من لا يبذل لا يصل.

إعداد الأستاذة نعيمة البريكية