

تم تحميل هذا الملف من موقع المناهج العمانية



تجميع أسئلة اختبارات نهائية لدرس أنواع السياحة

موقع المناهج ⇨ المناهج العمانية ⇨ الصف الحادي عشر ⇨ جغرافيا ⇨ الفصل الثاني ⇨ الملف

تاريخ إضافة الملف على موقع المناهج: 09:15:45 2024-06-01

إعداد: لخيار سعيد العمري

التواصل الاجتماعي بحسب الصف الحادي عشر



اضغط هنا للحصول على جميع روابط "الصف الحادي عشر"

روابط مواد الصف الحادي عشر على تلغرام

[الرياضيات](#)

[اللغة الانجليزية](#)

[اللغة العربية](#)

[التربية الاسلامية](#)

المزيد من الملفات بحسب الصف الحادي عشر والمادة جغرافيا في الفصل الثاني

[تجميع أسئلة اختبارات نهائية لدرس النظام السياحي مخرجات](#)

1

[امتحان تجريبي نهائي في محافظة ظفار مع نموذج الإجابة](#)

2

[ملخص شرح درس الاتصالات](#)

3

[ملخص شرح درس التجارة الدولية](#)

4

[اختبار قصير أول](#)

5

تجميع اختبارات نهاية في مادة الجغرافيا الاقتصادية للصف الحادي عشر الدرس أنواع السياحة
الأستاذة: لخيار سعيد العمري مدرسة خديجة بنت خويلد للتعليم الأساسي (١٢-٥) محافظة ظفار

السؤال الأول: ضع دائرة حول رمز الإجابة الصحيحة لكل مفردة من المفردات الآتية:-



١- نوع السياحة التي تعبر عنها الصورة المقابلة:-

أ-بيئية ب-ترفيهية ج-جيولوجية د-ثقافية

٢- الحدث التاريخي الأبرز الذي يثري السياحة من خلال تقديم صورة شاملة

لتاريخ سلطنة عمان وثقافتها ومعالمها الطبيعية:

أ-رالي عمان ب-كأس الخليج ج-طواف عمان د-الإبحار الشراعي

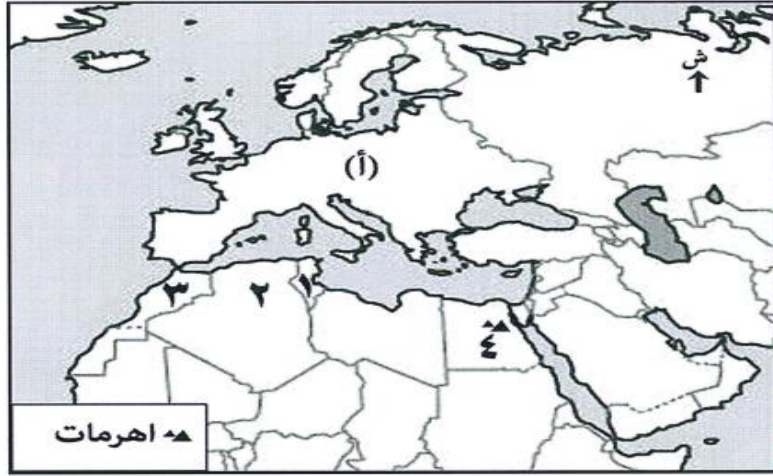
٣- نوع السياحة المتمثلة في زيارة المعلم الموضح في مفتاح الخريطة في

الدولة المشار إليها بالرقم (٤):-

أ-ترفيهية ب-بيئية ج-ثقافية د-علاجية

٤- الرقم الذي يشير إلى محمية الكائنات الحية والفطرية:-

أ-١ ب-٢ ج-٣ د-٤



٥- من الفنون العمانية التي سجلت في القائمة الدولية لليونسكو لصون التراث الثقافي:-

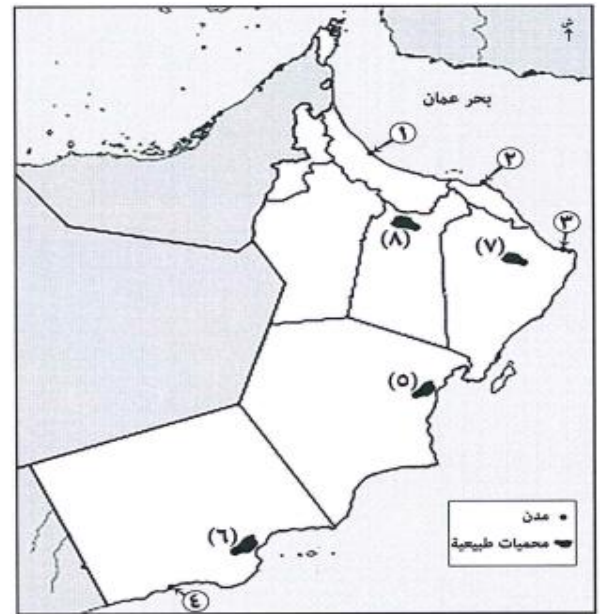
العازي	الرزحة	البرعة	العيالة
العيالة	البرعة	الربوبة	الرزحة
البرعة	العيالة	العازي	التغرود

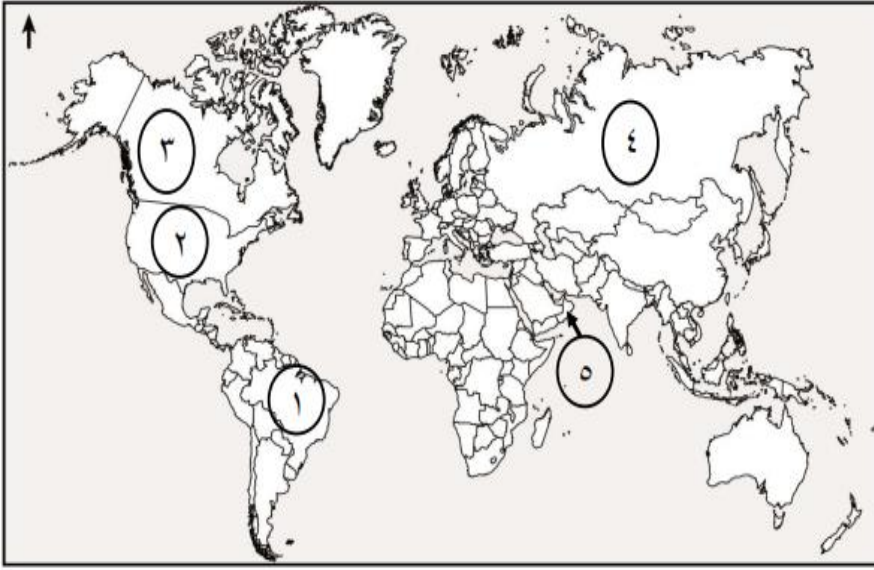
(د)

(ج)

(ب)

(أ)





٦- الرقم الذي يشير إلى الدولة التي عقد فيها المؤتمر
العالمي للسياحة الجيولوجية عام ٢٠١١ م:-

أ- ٢ ب- ٣ ج- ٤ د- ٥



٧- الرقم الذي يشير إلى موقع محمية الأراضي الرطبة:-

أ- ١ ب- ٢ ج- ٣ د- ٤



٨- نوع السياحة في الصورة المقابلة:-

أ- ثقافية ب- رياضية ج- علاجية د- جيولوجية

٩- تعد من أنواع السياحة المكلفة والمحددة سياحة:-

أ-رحلات السفاري ب-تسلق الجبال ج-الأعمال د-الفضاء

- ١٠- تبلغ نسبة السياحة الثقافية من إجمالي سوق السياحة : أ- ٣٥٪ ب- ٣٦٪ ج- ٣٧٪ د- ٣٨٪
- ١١- السياحة التي تتميز بالاستمرارية دون انقطاع :-أ-الترفيهية ب-العلاجية ج-الرياضية د-الدينية
- ١٢- تعد نهائيات كأس العالم أحد مظاهر التطور السياحي في القرن :- أ-١٨ ب-١٩ ج-٢٠ د-٢١
- ١٣- الفنون الشعبية العمانية التي سجلتها سلطنة عمان في القائمة الدولية لليونسكو لصون التراث الثقافي غير المادي للإنسانية عام ٢٠١٢ :-

أ-البرعة والعازي ب- العازي والتغردة ج-البرعة والعيالة د-العيالة والتغردة

١٤- نوع السياحة التي تعبر عنها الصورة المقابلة :-



أ-فطرية ب- علاجية ج-ترفيهية د-ثقافية

١٥- من أمثلة السياحة الجيولوجية :-

أ-زيارة عين وضاح للاستشفاء ب-زيارة حديقة الصخور

ج-التزلج على رمال الشرقية د- تسلق جبل شمس

السؤال الثاني :

١- (بلغت نسبة السياح الأوروبيين الذين زاروا المهرجانات المقامة في سلطنة عمان (مهرجان مسقط-مهرجان صلالة) عام ٢٠١٣ م حوالي ١٩٪

جريدة السفير اللبنانية ٢٠١٤ م

أ-ما نوع السياحة التي يهدف إليها هؤلاء السياح

ب-كيف يسهم هذا النوع من السياحة في التواصل الحضاري بين الشعوب

٢- (تمثل العيون المائية التي تنتشر في أنحاء سلطنة عمان والتي تعد وجهات سياحية يقصدها السياح في مختلف محافظات السلطنة فهي إضافة إلى

كونها مواقع ترفيهية وتخيم تمثل للبعض وجهات للبحث عن العلاج الطبيعي) في ضوء الفقرة السابقة أجب عن الأسئلة الآتية:

أ-سم نوع آخر للسياحة العلاجية لم يرد في الفقرة السابقة

ب-علل ارتباط العيون المائية بعلاج العديد من الأمراض

ج-اعط أمثله على العيون المائية تستخدم للعلاج في سلطنة عمان

٣- أعط أمثله على السياحة الثقافية في سلطنة عمان

صنف المحميات الطبيعية في سلطنة عمان حسب المحافظات التي توجد بها:-(خور الدهاريز -جبل قهوان الطبيعية-السرير الطبيعية)

محافظة مسقط	محافظة جنوب الشرقية	محافظة ظفار

٤-صنف المحميات الطبيعية الآتية في سلطنة عمان حسب المحافظات في الجدول التالي :

(الكائنات الحية والفطرية-خورروري-حديقة السليل الطبيعية-جبل سمحان)

اسم المحافظة	ظفار	الوسطى	جنوب الشرقية
اسم المحمية

٥-صنف المحميات الطبيعية الآتية في سلطنة عمان حسب المحافظات التي توجد بها :-

(جبل قهوان-جبل سمحان-الكائنات الحية والفطرية -حديقة السليل)

المحافظة	جنوب الشرقية	الوسطى	ظفار
اسم المحمية			

٦-صنف الأنشطة الترفيهية التالية حسب الدولة التي تمارس فيها(التزلج على الجليد-التزلج على الرمال - التزلج على الماء)

الدولة	النشاط السياحي
١- الأردن	
٢- لبنان	
٣- سلطنة عُمان	

.....	الوجهة	معايير تصنيف السياحة
.....	الشكل التنظيمي	
.....	المعالم	
.....	وسيلة النقل	

٧- (خطط ثلاثة من السياح العُمانيين تنفيذ رحلة بحرية من مدينة شناص إلى مدينة خصب بهدف التمتع بمشاهدة الدلافين البحرية والسلاحف بالإضافة إلى الفيوردات التي تتميز بها المحافظة كما زاروا عدداً من الجزر العُمانية الواقعة في مضيق هرمز) في ضوء ذلك صنف في الجدول ما يلي :-

٨- صنف الأنشطة السياحية الواردة في الجدول حسب معايير تصنيف السياحة:

م	النشاط السياحي	معايير تصنيف السياحة
١	زيارة موقع سياحي داخل الدولة.	
٢	زيارة المعارض الثقافية.	
٣	استخدام العبارات للتنقل.	
٤	رحلة سياحية مشتركة لعدة أسر.	

٩- قارن بين السياحة العلاجية والسياحة الجيولوجية حسب الجدول الآتي :-

نوع السياحة	مثال لكل منها في سلطنة عمان
العلاجية
الجيولوجية

١٠- مستعيناً بالصورة المقابلة التي توضح أحد أنواع السياحة في العالم . اجب عن الأسئلة الآتية :-



أ- ما الوسائل التي ساعدت على دعم هذا النوع من السياحة وتنشيطها

ب- أعط دليلاً على أهمية هذه السياحة على مستوى العالم

١١- لصورة التي أمامك تمثل معلماً سياحياً في إحدى الولايات العمانية التي شهدت مؤخراً إنشاء مدن عمرانية وصناعية اكتب فقرة مترابطة تشمل الآتي :-



- نوع السياحة التي تمثلها الصورة المقابلة - هدف هذا النوع من السياحة
- دليل على الاهتمام بهذا النوع من السياحة



١٢- يمثل الشكل المقابل معلم سياحي ادرسه جيداً ثم أجب عن الأسئلة الآتية :-
أ- ما اسم المعلم الواضح في الشكل المقابل
ب- ما نوع السياحة التي يمثلها هذا المعلم

١٣- أمامك مجموعة من الأشكال تمثل أنواع السياحة المختلفة ادرسها جيداً ثم أجب عن التالية :-



(٢)



(١)

أ- كم تشكل نسبة السياحة التي يمثلها الشكل المشار إليها بالرقم (١) من إجمالي سوق السياحة

ب- بماذا تتميز السياحة التي يمثلها الشكل المشار إليها بالرقم (٢)

١٤- أمامك مجموعة من الصور التي تمثل أنواع السياحة المختلفة ادرسها ثم أجب بـ (١) أو (٢)

أ- تعتبر أهم الأنواع السياحية وفق احصائيات منظمة السياحة العالمية

ب- من أنواع السياحة التي تتميز باستمراريتها



(٢)



(١)

١٥- اكتب أسفل كل صورة نوع السياحة التي تمثلها:-



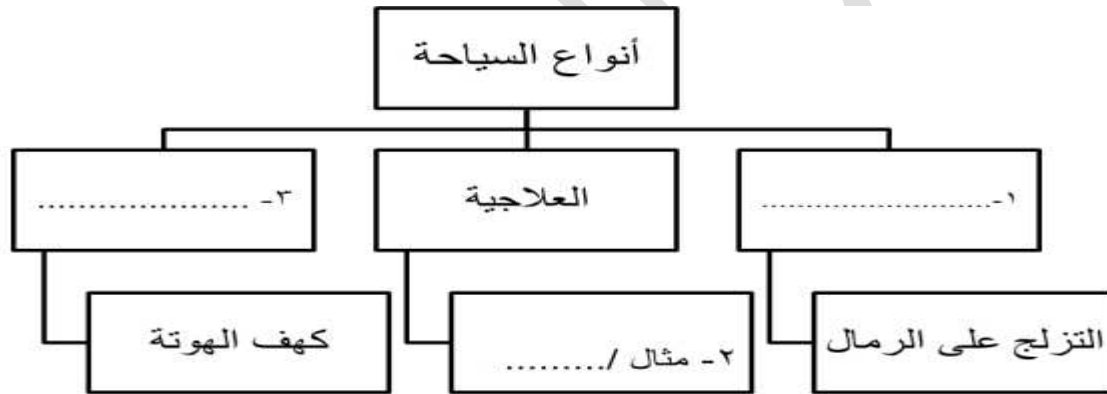
م	الدولة	عدد السياح الدوليين/ مليون	عدد السياح الدوليين/ مليون
١	فرنسا	٨٣,٠	٨٤,٧
٢	الولايات المتحدة الأمريكية	٦٦,٧	٦٩,٨
٣	الصين	٥٧,٧	٥٥,٧
٤	ألمانيا	٣٠,٤	٣١,٥
٥	إسبانيا	٥٧,٥	٦٠,٧

١٦- استعن بالجدول الآتي ثم الآتي ثم أجب عن الأسئلة التي تليه:

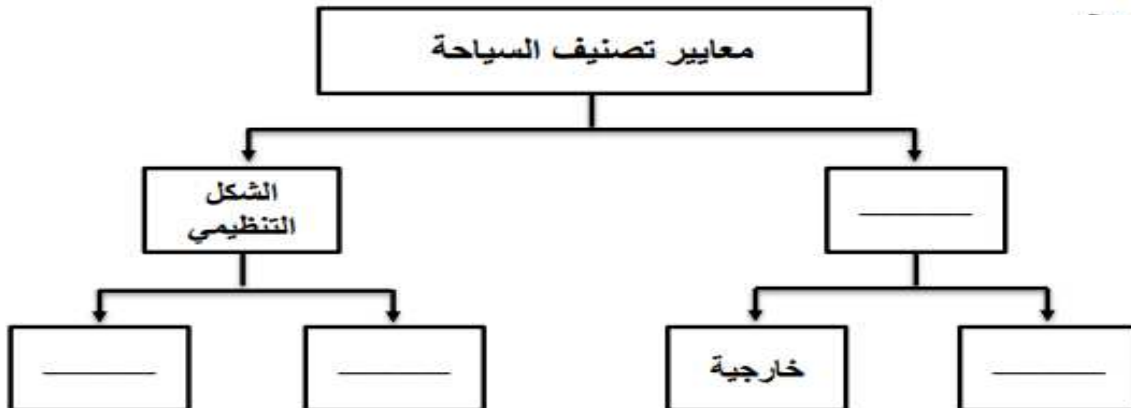
سم أحد المعالم السياحية التي تشتهر بها الدولة التي تنصدر قائمة أفضل دول العالم المستقبلية للسياح عام ٢٠١٢ م

١٧- أكمل المخططات التالية:-

أ- أكمل المخطط الآتي:-

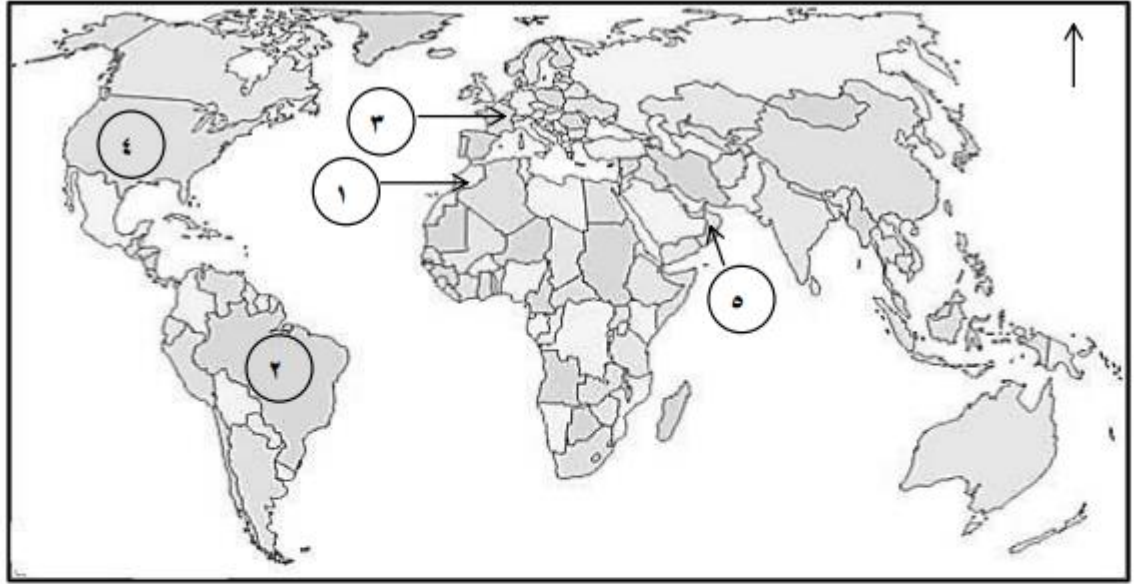


ب- أكمل المخطط الآتي:-




١٨- التعامل مع الخرائط:-

١- أمامك خريطة العالم ادرسها جيداً ثم أجب عن الأسئلة التي تليها:-



١- استخرج من الخريطة الأرقام التي تشير إلى مواقع المتاحف الآتية:



ب- باستخدام الرمز  ظلل على الخريطة الدولة التي تعتبر من أكثر الوجهات السياحية تنشيطاً للسياحة البيئية

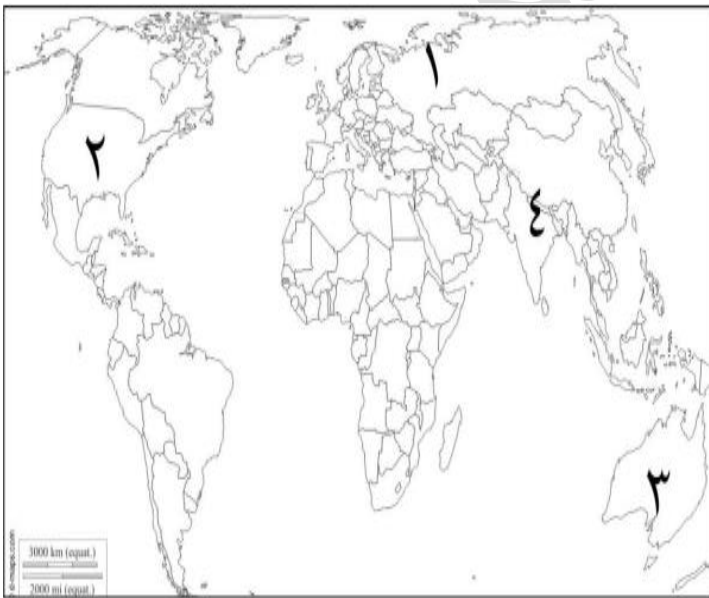
ج- علل تنوع المحميات الطبيعية في الدولة المشار إليها بالرقم (٥)

٢- أدرس خريطة العالم التالية ثم أجب عن الأسئلة التالية:-

أ- الرقم الذي يشير إلى أكثر الوجهات السياحية تنشيطاً للسياحة البيئية ()

ب- ظلل على الخريطة الدولة التي تنشط فيها رياضة التزلج على الرمال

ج- الرقم الذي يشير إلى الدولة التي تنشط فيها رياضة تسلق الجبال ()





٣- أمامك خريطة سلطنة عمان ادرسها جيداً ثم أجب عن الأسئلة التالية:-

أ- ظلل باستخدام الرمز  موقع محمية جبل سمحان

٤- أمامك خريطة سلطنة عمان ادرسها جيداً ثم أجب عن الأسئلة التالية:-

اكتب الأرقام التي تشير إلى كلاً مما يأتي:-

أ- المحافظة التي توجد بها محمية جبل سمحان ()

ب- المحافظة التي يوجد بها عين وضاح ()

