

تم تحميل هذا الملف من موقع المناهج العُمانية



*للحصول على أوراق عمل لجميع الصفوف وجميع المواد اضغط هنا

<https://almanahj.com/om>

* للحصول على أوراق عمل لجميع مواد الصف الحادي عشر اضغط هنا

<https://almanahj.com/om/11>

* للحصول على جميع أوراق الصف الحادي عشر في مادة اجتماعيات ولجميع الفصول, اضغط هنا

<https://almanahj.com/om/11social>

* للحصول على أوراق عمل لجميع مواد الصف الحادي عشر في مادة اجتماعيات الخاصة بـ الفصل الأول اضغط هنا

<https://almanahj.com/om/11social1>

* لتحميل كتب جميع المواد في جميع الفصول للـ الصف الحادي عشر اضغط هنا

<https://almanahj.com/om/grade11>

* لتحميل جميع ملفات المدرس نعيمة بنت سعيد البريكية اضغط هنا

للتحدث إلى بوت على تلغرام: اضغط هنا

https://t.me/omcourse_bot

سلطنة عمان

وزارة التربية والتعليم

المديرية العامة للتربية والتعليم بمحافظة شمال الباطنة

مدرسة عاتكة للتعليم الأساسي (٩ - ١٢)

أسرة الدراسات الاجتماعية

مدرسة عاتكة للتعليم الأساسي



ملتزمون بتحقيق رؤيتنا ، الإجابة في موادنا

رؤية المدرسة
غايتنا التميز بروح
عالية ومشاركة فاعلة



دفترى سر تميزي

مادة الدراسات الاجتماعية

الصف الحادي عشر / الفصل الدراسي الأول

الوحدة الثانية : المجتمع العماني بين الأقاليم والمعاصرة

إعداد الأستاذة : نعيمة بنت سعيد البريكية

اسم الطالب :

الصف :

معلمة المادة :

العام الدراسي ٢٠١٩ / ٢٠٢٠

عنوان الدرس: المجتمع العماني

أولاً: أجب عن الأسئلة التالية بكتابة الأحرف الصحيحة في الشبكة:



المجتمع العماني



أفقي

رأسي

1. لغة المجتمع ووعاءه الثقافي ال.....
2. يقوم عليه تنظيم المجتمع العماني ويجب الالتزام به لضمان استقرار المجتمع ال.....
3. تم التأكيد على مرتكزات المجتمع العماني في ال..... للدولة.
4. ما تعارف عليه الناس في عاداتهم ومعاملاتهم ال.....
5. مجموعة الممارسات التي توارثها أفراد المجتمع من الأجيال السابقة ال.....

ثانياً: ظلل الرمز " □ " المقترن بالإجابة الصحيحة:

1. يستمد العمانيون العادة الظاهرة في الصورة المقابلة من:

الوحدة الوطنية

القانون

اللغة العربية

الدين الإسلامي

2. جميع ما يلي من عوامل بناء المجتمع العماني واستقراره ما عدا: الإجادة في موادنا

الوحدة الوطنية

الأعراف

الإسلام

اللغة العربية

3. العام الميلادي الذي قال فيه صاحب الجلالة نص الخطاب التالي: " إنه بقدر ما يسهم به كل فرد منهم من فكر متطور ، وعلم متقدم ، وفن متحضر وعمل مفيد مثمر ، يكون مستقبل هذا الوطن أكثر إشراقاً وبهاء ، إلخ " :

1992

1993

1994

1995

4. ينطلق الفرد إلى التفاعل مع المجتمع من تفاعله مع:

المدرسة

الأسرة

المسجد

وسائل الإعلام

إعداد الأستاذة نعيمة البريكية

مدرسة عاتكة للتعليم الأساسي

سابعاً: قارن بين الصورة رقم (1) والصورة رقم (2) في الجدول التالي:



1



2

أوجه المقارنة	الصورة (1)	الصورة (2)
صور التفاعل الاجتماعي		
التعريف		
الأهمية		
الأمثلة		
اسم الوزارة المشرفة عليه		

ثامناً: اكتب ما تشير إليه الصور التالية:

أعط أمثلة لصور التفاعل الموجودة في المجتمع العماني التي تشرف عليها الصور:

1.
2.



2



1

تاسعاً: ادرس الصورة التالية وأجب عن الآتي:

أ. استنتج اسم الوزارة المشرفة على الجائزة. **بتحقيق رؤيتنا، الإبداع في**

ب. ما الجهات التي يحق لها المشاركة في الجائزة؟

ج. صمم خريطة مفاهيم بالأعمال التطوعية التي تمثلها الجائزة.

.....



جائزة
السلطان قابوس
للعمل التطوعي

عنوان الدرس: المؤسسات الثقافية العمانية بين الماضي والحاضر

1. استنتج أهم المؤسسات الثقافية العمانية من الصور التالية:




الرقم	1	2	3	4	5
اسم المؤسسة					

2. تتبع مراحل تطور الكتاتيب في عمان من حيث المكان.



3. أجب عن الأسئلة التالية بكتابة الأحرف الصحيحة في الشبكة:



أفقي

رأسي

1. أصبحت الكتاتيب تقام في السبلة أو ما يعرف ب.....

2. أدخل في الوقت الحاضر علوم جديدة في الكتاتيب العمانية

مثل: الفقه والعقيدة و.....

4. مفردتها كتاب وهو المكان الذي يتلقى فيه الطلبة تعليمهم

4. (المؤسسة الثقافية التي أسسها العلماء منذ فترة مبكرة من العصر الاسلامي)

تخيري الصواب

المدرس

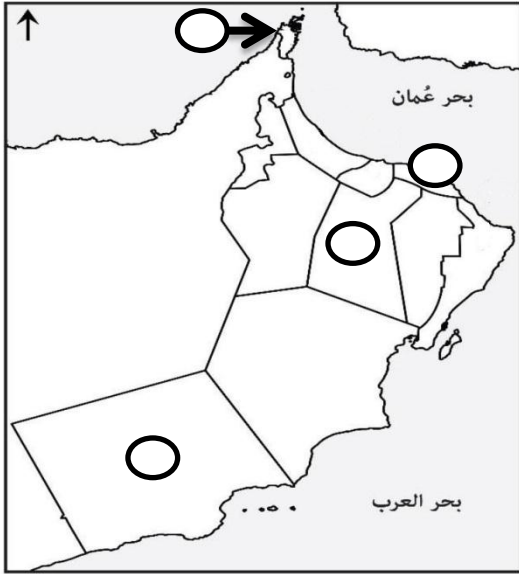
المساجد

التفسير:

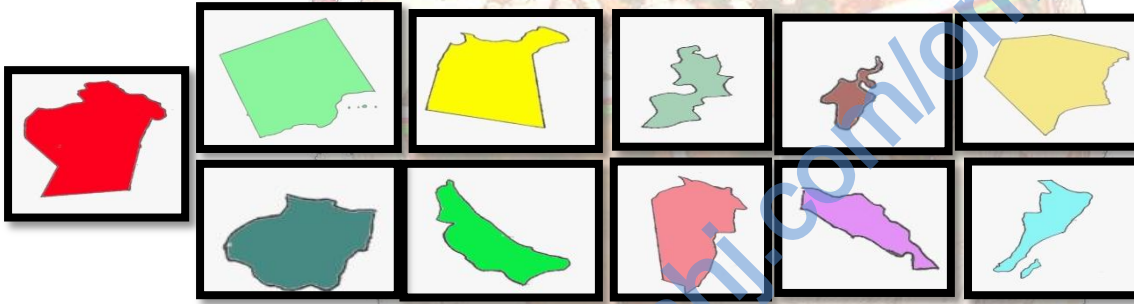
مدرسة عاتكة للتعليم الأساسي

إعداد الأستاذة نعيمة البريكية

10. اكتب رمز المؤسسة الثقافية في الصور التالية في مواقعها الصحيحة على الخريطة حسب المحافظة التي تقع فيها.



11. ضع الرمز الذي يشير الى رمز المحافظة التي تقع فيها المؤسسات الثقافية التالية:



أ. مدرسة وقف الحمراء.

ب. مدرسة محمد بن علوي.

ج. مدرسة محمد بن كمال.

د. مدرسة مسجد الوكيل.

هـ. مكتبة مدرسة آل الرحيل.

و. مدرسة الشيخ حمود بن حميد الصوافي.

12. صنف صور المكتبات التالية إلى مكتبات عامة ومكتبات خاصة في الجدول التالي:



المكتبات الخاصة	المكتبات العامة

13. صنف صور المؤسسات الثقافية في عصر النهضة المباركة إلى أنواعها.

الأهلية	الحكومية



مدرسة عاتكة للتعليم الأساسي

إعداد الأستاذة نعيمة البريكية

3. تتبع إنشاء المكتبات في عمان منذ الأقدم إلى لأحدث على الخط الزمني بكتابة المكتبة والعصر:

مكتبة حصن الرستاق / مكتبة أحمد

بن النظر / مكتبة آل الرحيل بصحار /

مكتبة حصن جبرين / مكتبة وقف الحمراء / مكتبة الشيخ

محمد بن مسعود.

14. ارسم جدولاً بالمؤسسات الثقافية الحكومية في عصر النهضة المباركة.

المؤسسة	سنة الإنشاء	الأهداف

مراحل إنشاء المكتبات
العمانية

15. برهن على صحة العبارة: (أسهم العمانيون في الحضارة الإنسانية منذ القدم وعند بزوغ فجر الإسلام جعلوا العلم دينهم).

ملتزمون بتحقيق رؤيتنا ، الإجابة في موادنا

16. تتبع مراحل تطور الكتايب من حيث المواد التي تدرس فيها.



المواد التي تدرس فيها:



عنوان الدرس: الإسهامات الثقافية والحضارية العمانية

أولاً: ظلل الرمز " " المقترن بالإجابة الصحيحة:

1. اختيرت مدينة نزوى عاصمة للثقافة الإسلامية في العام الميلادي :

5015

2010

2005

2000

2. المجال الذي يندرج ضمنه كتاب " رسالة في علم الفلك للمبتدئين للعلامة خميس بن سالم الهاشمي هو:

العلوم البحرية

الفلك

التاريخ

الطب

3. العالم العماني المدرج ضمن برنامج الذكرى المئوية للأحداث التاريخية المهمة والشخصيات المؤثرة عالمياً لليونسكو عام 2015م:

نور الدين السالمي

ابن الذهبي

راشد بن عميرة

الخليل بن أحمد

4. فقيهة ومربية عاشت في القرن الثاني عشر الهجري تخرج على يدها عدداً من العلماء :

عائشة الريمية

فاطمة الغيلانية




شمساء الخليلية


عائشة الريمية

5. المخطط الصحيح للإسهامات الثقافية العمانية هو:



ثانياً: رتب المؤلفات التالية من الأقدم إلى الأحدث حسب القرن الذي ألفت فيه بكتابة الأرقام (1 ، 2 ، 3 ، 4) أسفل الصورة:





ثالثا : قارن بين الكتاب رقم (1) والكتاب رقم (2) في الجدول التالي:

أوجه المقارنة	الكتاب (1)	الكتاب (2)
صاحب الكتاب		
القرن الهجري		

رابعا: فسر اثرء العمايون للثقافة الإسلامية بالكثير من المؤلفات في مختلف المجالات منذ فجر الإسلام.



أضف إلى معلوماتك



الصاروج: مادة تقليدية تستخدم في البناء ، وعند صناعته يوضع الطين على هيئة أقراص وتصف بترتيب على جذوع نخل يابسة ، ثم تشعل النار في الجذوع ، ثم تطحن الأقراص المحروقة لتصبح جاهزة للاستعمال.


الجص: هو المعروف اليوم بالجبس وهو خام من كبريتات الكالسيوم المهدرجة.

خامسا: ادرس الصورة التالية وأجب عن الآتي:



1. استنتج مجال الاسهام الثقافي للعمايين في الصورة المقابلة.
2. ما دلالة تطورها منذ القدم؟
3. صمم خريطة ذهنية بالمواد التي استخدمها العمايين في العمارة منذ القدم بالاستعانة بسحابة الكلمات.





4. أكتب على شجرة التعلم العوامل التي ساعدت على تطور العمارة العمانية.

سادسا: 1. أمامك مجموعة من السمات المميزة للفن المعماري العماني

صنفها بكتابتها اسفل الصورة الدالة عليها : " زخرفة أسقفها

بجذوع النخيل أو الأخشاب المستوردة / وجود قبة صغيرة تسمى

اليومة / وجود متاريس بفتحات "









2. قارن بين المشربيات والقمريات في مخطط فن بالاستعانة بسحابة الكلمات.

أوجه المقارنة	المشربيات	القمريات
التعريف		
مادة الصنع		

سابعا: 1. صنف صور المؤلفات التالية إلى مجالاتها في الجدول التالي:

المجال	اسم الكتاب



2. أمامك جدولا بالإنجازات الثقافية للنساء العمانيات اللاتي أسهمن في الحركة الثقافية بعمان أكتب صاحبة الانجاز في المكان المناسب:

العالمة العمانية	الإنجاز
	كان مجلسها عامرا في المدينة المنورة.
	كانت مرجعا لأهل عصرها.
	تخرج على يدها عددا من العلماء.

ثامنا: أكتب أحرف الاجابات الصحيحة في الشبكة التالية:



أفقي

2. ... صاحب كتاب الجامع الصحيح
4. مادة البناء التي كانت تستخدم قديما كمادة ... لاصقة في عمان
7. المجال الثقافي لكتاب ضياء البرهان في شفاء الأبدان ...
8. حواجز توضع على الأسوار أو الأبراج وبها فتحات لإطلاق النار أثناء عملية الدفاع عن القلعة أو الحصن ...
9. فقيهة وأديبة عاشت في القرن الخامس عشر ... الهجري من قصائد رحلة الحج

سفلي

1. من أمثلة المؤلفات الموسوعية العمانية الذي يزيد على تسعين جزءا في المكتبة الإسلامية ...
3. توجد في القصور العمانية وتُصنع من الرخام ...
5. المنظمة العالمية التي تعنى ببرنامج الذكرى السنوية للأحداث التاريخية المهمة والشخصيات العالمية المؤثرة من المدن العمانية التي ظهرت كمراكز ثقافية في محافظة ظفار

المجالات التي برع فيها:

صاحب الكتاب:

تاسعا: أكل


كتابة البيانات

في نموذج

فراير.

عدد مؤلفاته:

سنة ادرجه لبرنامج الذكرى السنوية
لليونسكو:





عاشرا : (أ) ادرس الخريطة التالية وأجب عن الآتي:

1. ضع دائرة على الخريطة حول واحدة من مراكز

الثقافة العمانية في محافظة ظفار.

2. استنتج المحافظة الأغزر علما بين محافظات

السلطنة بناء على عدد المدن الثقافية فيها.

3. استخرج المدينة التي تم اختيارها عاصمة للثقافة

الإسلامية عام 2015م.

4. ما الولاية التي ينتمي إليها صاحب كتاب " فاكهة

ابن السبيل "

ب. صم خريطة مفاهيم بمجالات الإسهامات العمانية في العلوم المختلفة بالاستعانة بسحابة الكلمات.

