

## شكراً لتحميلك هذا الملف من موقع المناهج العمانية



## ملخص دروس الوحدة الأولى عمان المكان والحضارة

[موقع المناهج](#) ⇨ [المناهج العمانية](#) ⇨ [الصف الحادي عشر](#) ⇨ [هذا وطني](#) ⇨ [الفصل الأول](#) ⇨ [الملف](#)

تاريخ نشر الملف على موقع المناهج: 17:07:24 2022-11-28

## التواصل الاجتماعي بحسب الصف الحادي عشر



## روابط مواد الصف الحادي عشر على تلغرام

[الرياضيات](#)

[اللغة الانجليزية](#)

[اللغة العربية](#)

[التربية الاسلامية](#)

## المزيد من الملفات بحسب الصف الحادي عشر والمادة هذا وطني في الفصل الأول

<a href="#">أسئلة اختبارات قصيرة ونهائية للوحدة الأولى مع الإجابة</a>	1
<a href="#">ملخص دروس الوحدة الأولى عمان المكان والحضارة</a>	2
<a href="#">أحوبة المذكرة الإثرائية والأسئلة الملخصة في الوحدة الثانية ( المجتمع العماني بين الأصالة والمعاصرة )</a>	3
<a href="#">مذكرة إثرائية وأسئلة اختبارية في الوحدة الثانية ( المجتمع العماني بين الأصالة والمعاصرة )</a>	4
<a href="#">أحوبة المذكرة الإثرائية والأسئلة الملخصة في الوحدة الأولى ( عمان المكان والحضارة )</a>	5

## الدرس الأول: عمان .. الموقع ومظاهر السطح:

١. ما المقصود بكل ما يأتي:

• السهول الساحلية:

هي إرسابات فيضية كونتها الأودية المتحدرة باتجاه بحر عُمان وبحر العرب.

• الواحات الداخلية:

عبارة عن إرسابات خصبة تكونت بفعل التعرية المائية أو التعرية الريحية.

• السبخات:

أراض ملحية منخفضة المنسوب يغطي سطحها رواسب رملية طينية ناعمة وترسبات ملحية مثل :  
كبريتات وكلوريد الماغنيسيوم والصوديوم.

• الأخوار:

عبارة عن خلجان مائية صغيرة متصلة عادة بمياه البحر.

• الكهف:

فتحة طبيعية في الصخر يتكون نتيجة الإذابة في الصخور الجيرية بفعل الأمطار ، أو بواسطة التربة الحرة.

• المسفاة:

مصطلح أطلقه العمانيون على الواحات الجبلية التي تم إنشاؤها على المصاطب الصخرية بالقرب من العيون المائية.

٢. تتميز سلطنة عمان بموقع جغرافي استراتيجي مميز وضح ذلك.

تقع سلطنة عُمان في أقصى الجنوب الشرقي لشبه الجزيرة العربية ، وتطل أجزاءها الشمالية والشرقية والجنوبية على البحر إذ يصل طول السواحل العُمانية حوالي ( ٣١٦٥ كم ) ، في حين تشرف أجزاءها الغربية على أراض صحراوية جافة .

## عمان .... المكان والحضارة

## ملخص الوحدة الأولى

٣. حدد الامتداد الفلكي لسلطنة عمان.

تقع سلطنة عُمان فلكيا في النصف الشمالي من الكرة الأرضية ، حيث يمر مدار السرطان (٢٣.٥) بولاية العامرات في محافظة مسقط.

٤. علل تنوع التضاريس والبيئة الطبيعية لسلطنة عمان.

ونظرا للامتداد الطولي الذي تتميز به سلطنة عُمان في ١٠ درجات عرضية تنوعت تضاريسها وبيئاتها الطبيعية.

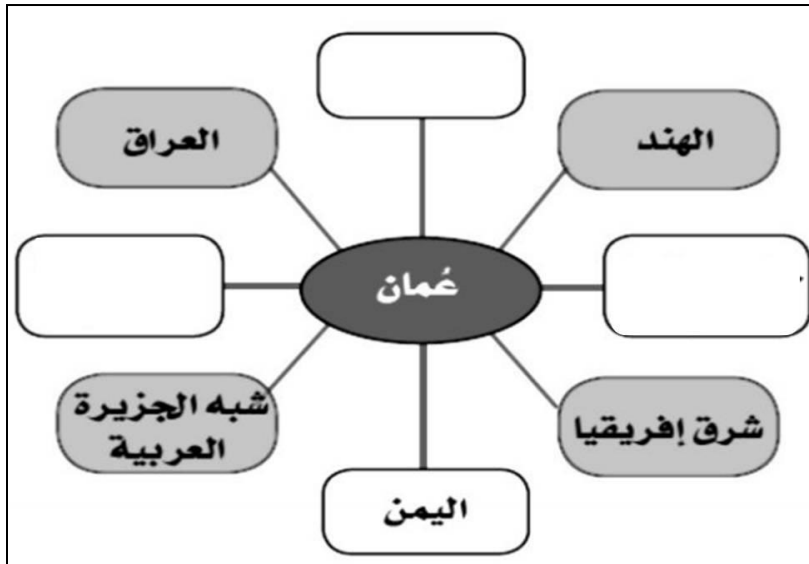
٥. للموقع الجغرافية أهمية حضارية واقتصادية لسلطنة عمان منذ القدم فسر ذلك .

أ) سهولة التواصل مع الحضارات والأقاليم المجاورة ، إذ أسهم الموقع الجغرافي لعُمان وانفتاحه على المحيط الهندي في تعزيز التواصل مع الأقاليم الحضارية المختلفة منذ القدم.

ب) التحكم في شبكة التجارة والملاحة في المحيط الهندي منذ القدم ، إذ أسهمت العوامل الطبيعية في جعل السواحل العمانية مناسبة للقيام بهذا الدور .

ج) طول السواحل العمانية و إشرافها على بحار مفتوحة ساعد على تطوير الأنظمة الملاحية البحرية والخبرات التجارية لدى العمانيين .

٦. "الشكل الذي أملك يوضح موقع عمان بين الأقاليم الحضارية العالمية" أكمل الشكل بما يناسبه:



## عمان .... المكان والحضارة

## ملخص الوحدة الأولى

٧. ما الهدف من معرض عمان المسمى "برسالة الاسلام من عمان"؟ ومتى تم تدشينه لأول مره؟

يهدف إلى تعزيز التسامح الديني ، ونشر ثقافة التفاهم بين الأديان والثقافات المختلفة.، وتم تدشينه لأول

٨. "التنوع الجيولوجي في عُمان والمتمثل في تنوع الصخور واختلاف تركيبها أدى إلى إكسابها العديد من المميزات" اذكر هذه المميزات مع شرح ميزه واحده من هذه المميزات.

(أ) تنوع الموارد الطبيعية ، مثل : المعادن كالحاس والكروم ، و موارد الطاقة كالنفط والفحم الحجري والغاز الطبيعي ، بالإضافة إلى المياه الجوفية العميقة في الطبقات الجيولوجية الحاملة للمياه .

(ب) اعتبارها بيئة مناسبة لدراسة العمليات الجيولوجية التي تسهم في تشكيل سطح الأرض ؛ وذلك بسبب وجود العديد من المواقع التي تبرز فيها الصخور القديمة على السطح ، مثل : صخور أفوليت سمائل التي تعد أكبر مجموعة قاع محيطي في العالم تظهر على السطح ، وقد وفرت الكثير من المعلومات حول العمليات الجيولوجية التي حدثت وما زالت تحدث في أعماق المحيطات .

(ج) السياحة الجيولوجية في مناطق كثيرة من عُمان نتيجة التنوع الفريد الذي تتميز به المناظر الطبيعية العمانية و التميز الجيولوجي للصخور السطحية.

٩. فيما تتمثل تنوع مظاهر سطح الارض في سلطنة عمان؟

(أ) السلاسل الجبلية.

(ب) السهول الساحلية.

(ج) الواحات الداخلية.

(د) المناطق الرملية.

(هـ) السبخات.

(و) الأخوار.

(ز) الكهوف.

(ح) الجزر.

١٠. كم نسبة السلاسل الجبلية من مساحة سلطنة عمان؟

١٥ % من مساحة السلطنة

١١. عدد اقسام السلاسل الجبلية في سلطنة عمان.

(أ) الحجر الغربي. (ب) الحجر الشرقي.

## عمان .... المكان والحضارة

## ملخص الوحدة الأولى

١٢. كم يصل ارتفاع أعلى قمة في عمان؟

٣٠٠٩ م ، قمة جبل شمس.

١٣. كم يبلغ امتداد سلسلة جبال ظفار؟

تمتد حوالي ( ٢٩٠٠ كم ) بمحاذاة بحر العرب في جنوب عُمان.

١٤. مما تتكون سلسلة جبال ظفار؟

تتكون من ثلاث كتل : كتلة جبال القرا وهي الكتلة الرئيسية ، وجبل سمحان إلى الشرق منها ، وجبل القمر إلى الغرب منها .

١٥. أكمل الجدول التالي بما يناسبه:

سهل صلالة	سهل الباطنة	
		الموقع
		الامتداد
		مميزاته
		المشاكل البيئية

١٦. يمكن تقسيم الواحات الداخلية في سلطنة عمان حسب العمليات التي أسهمت في تكوينها إلى عدة أشكال اذكرها

مع الأمثلة.

أمثلة عليها	أنواعها
مسفاة العبريين	المصاطب الصخرية على الحافات الجبلية
الرساق ونزوى	الواحات الناتجة عن الإرسابات الفيضية في مناطق الأودية
جدة الحراسيس وهيما	الواحات الصحراوية

**عمان .... المكان والحضارة**

**ملخص الوحدة الأولى**

١٧. توجد في سلطنة عمان عدد من السبخات اذكر أنواعها وطريقة تكوينها:

أنواعها	طريقة تكوينها	أمثلة
السبخات الداخلية	تكونت نتيجة تصريف الأودية الصحراوية	أم السميم
السبخات الساحلية	ناتجة عن ارتفاع مستوى المد البحري	السوداي، السبخات المحصورة بين بحر العرب وجبال ظفار

١٨. توجد في سلطنة عمان نوعين من الأخوار اذكرها مع تعريفها وأمثلة عليها:

أنواعها	تعريفها	أمثلة
الأخوار الدائمة	هي الأخوار المفتوحة دائما على البحر	خور جرما، خور شم، خور المغسيل
الأخوار المؤقتة	تمثل مصبات الأودية التي تكسر الحاجز الرملي وتصل إلى البحر مما يؤدي إلى تدفق مياه المد خلالها	خور وادي الجزي، خور السوداي، خور أرزات

١٩. عدد أبرز الكهوف في سلطنة عمان.

كهف الهوته في محافظة الداخلية ، و كهف المرنيق في محافظة ظفار.

٢٠. كم يبلغ عدد الجزر في سلطنة عمان؟ مع امثلة عليها.

الجزر يبلغ عدد جزر سلطنة عُمان حوالي ( ٢٩٣ ) جزيرة جزيرة مصيرة و جزيرة الحلائية وهي أكبر جزر الحلايات الموجودة في بحر العرب ، جزر أم الغنم ، والخييل ، وسلامة و بناتها .

## الدرس الثاني: عمان .. المناخ والنبات الطبيعي:

١. علل: التنوع المناخي لسلطنة عمان.

الموقع الجغرافي والفلكي لسلطنة عُمان ، وطول سواحلها ، وتنوع تضاريسها ، بالإضافة إلى مساحتها الواسعة .

٢. عدد العوامل التي أسهمت في تباين المناخ من مكان لآخر في سلطنة عمان.

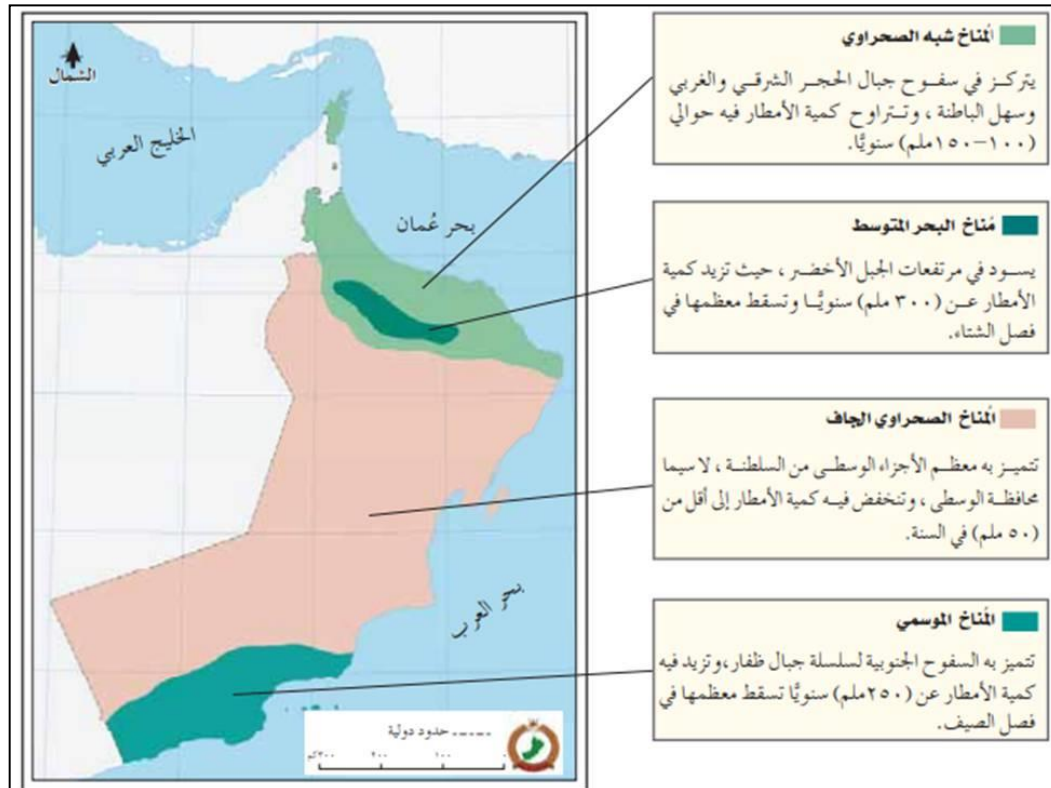
(أ) القرب من المسطحات المائية .

(ب) المرتفعات الجبلية.

(ج) المنخفضات الجوية والكتل الهوائية الباردة .

(د) الرياح الموسمية الجنوبية الغربية .

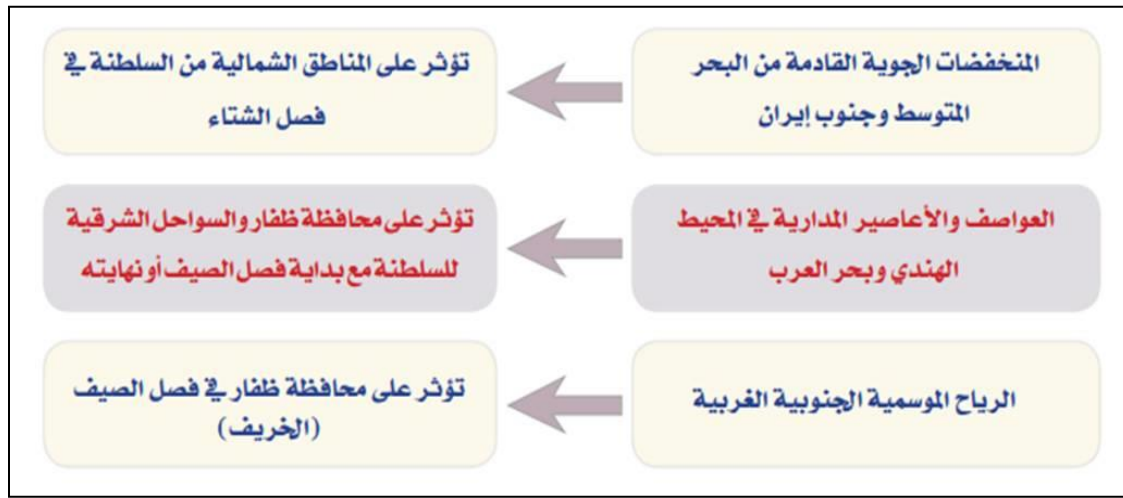
٣. حدد الأقاليم المناخية في سلطنة عمان.



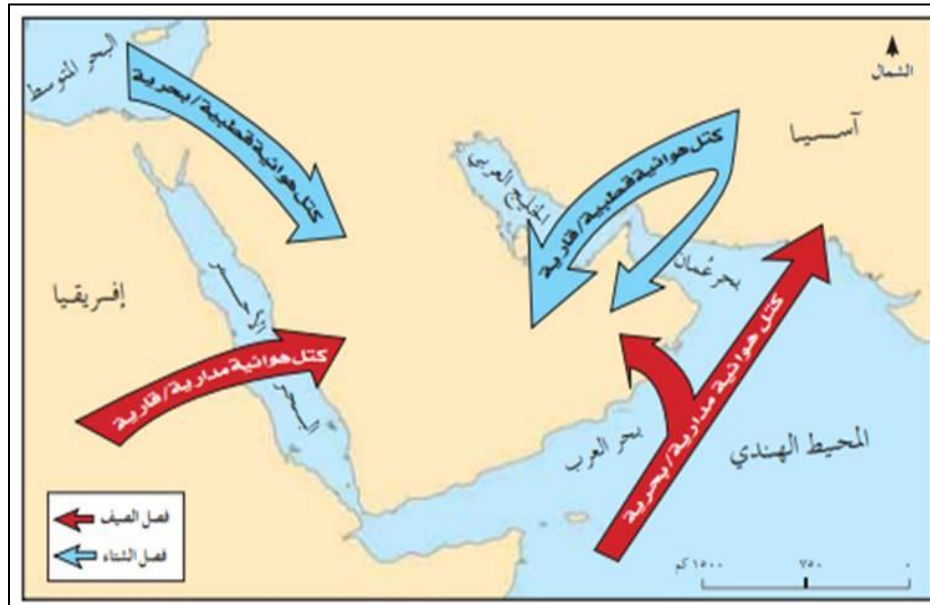
٤. علل: ارتفاع درجة حرارة معظم أجزاء سلطنة عمان.

بسبب وقوع سلطنة عمان ضمن المنطقة المدارية.

٥. عدد العوامل المؤثرة في سقوط الأمطار وكميتها في سلطنة عمان.



٦. وضح الكتل الهوائية المؤثرة على سلطنة عمان على الخريطة.





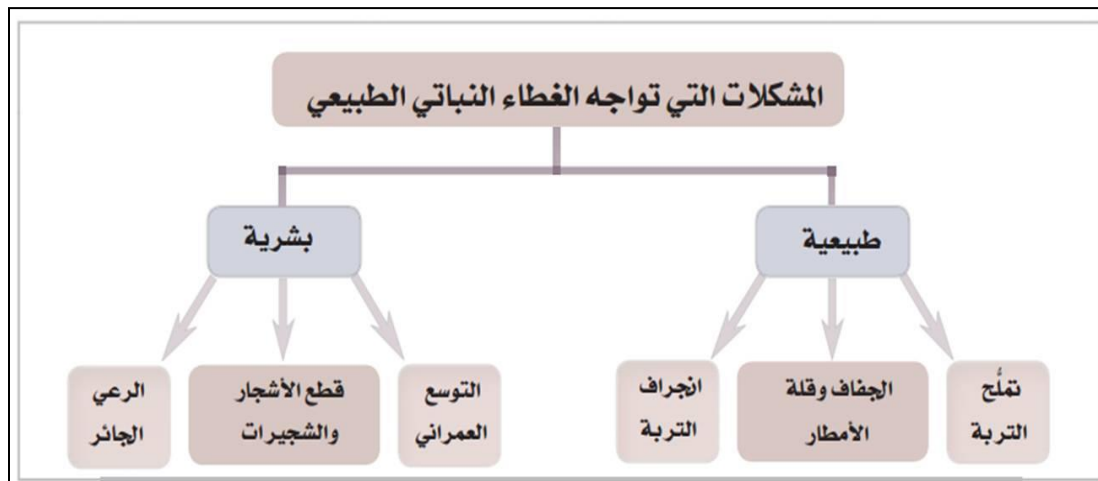
٧. علل تنوع الغطاء النباتي في سلطنة عمان.

بسبب تنوع المناخ ، ومظاهر السطح، وتنوع التربة.

٨. صنف في جدول من انشائك النباتات الطبيعية في سلطنة عمان.

أنواعها	أمثلة عليها
نباتات السهول والواحات وبطون الأودية	الغاف، السدر، السرح
نباتات الجبال والمرتفعات الصخرية	الععلان، والبوت، والعم
نباتات الصحاري	الأراك، واللبن
النباتات الملحية في الأقاليم الساحلية	المانجروف، والرمرام، والثرمد

٩. يواجه الغطاء النباتي الطبيعي في سلطنة عمان بعض المشكلات نتيجة عوامل طبيعية وبشرية وضحاها.



١٠. دلل على أختلاف درجات الحرارة في سلطنة عمان.

أوجه المقارنة	معدل الحرارة الصغرى	معدل الحرارة الكبرى
الفصل		
الأشهر		
الدرجات		

## الدرس الثالث: عمان.. العصور القديمة وصدور الإسلام:

١. اذكر اثنين من الآراء حول تسمية عمان بهذا الاسم.

مشتقة من المعنى اللغوي وهو الاستقرار والإقامة ، كذلك تنسب إلى عمان بن سبأ بن يفتان ، وقيل نسبة إلى قبيلة عمان القحطانية ، كما نسبت بعض الآراء اسم عُمان إلى واد في اليمن يسمى عمان هاجر منه الأرد .

٢. أكمل الجدول التالي بما يناسبه:

الاسم	الحضارة الذي أطلقت هذا المسمى	الإقليم المشار إليه	دلالة الاسم
مجان/ ماجان			
مزون			
عمانه			



٣. من خلال الشكل الذي أمامك أجب عن مايتي:  
(أ) ما العصر التي تعود إليه المكتشفات في الشكل؟

.....

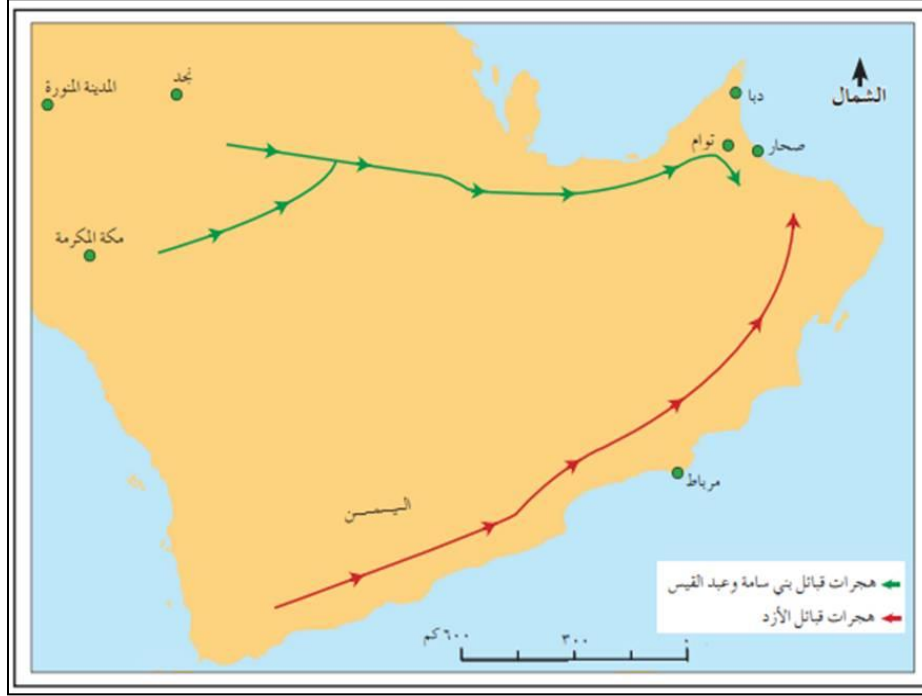
(ب) على ماذا يدل وجود المواقع الأثرية القديمة في سلطنة عمان؟

.....

(ج) دلل : على قيام مستوطنات بشرية وتجمعات سكانية في السواحل والأودية وسفوح الجبال؟

.....

٤. حدّد خط سير الهجرات العربية إلى عمان.



## الدرس الرابع: عمان .. بين القرنين الثالث والسادس الهجري:

١. أكتب المصطلح في الذي يناسب العبارات الآتية:

المصطلح / المفهوم	العبارة
.....	سفن مصممة للقتال تتميز بسرعة الحركة
.....	سفن اعدھا الامام الصلت بن مالك لتحرير جزيرة سقطرى
.....	لقب أطلقه العرب على القراصنة
.....	سفن مستخدمة لطرد النصارى في عهد الامام الصلت بن مالك

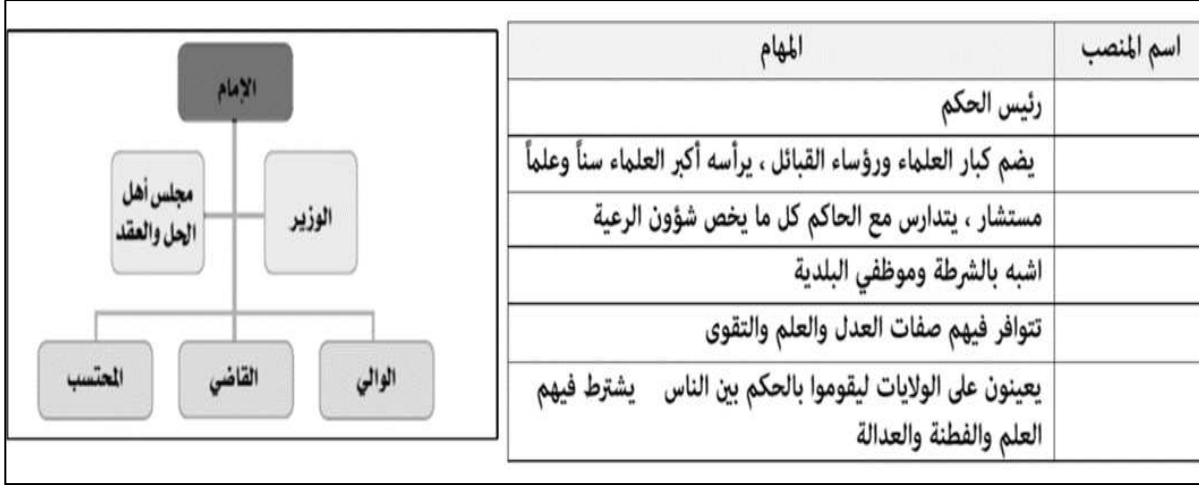
٢. اذكر فترات حكم عمان بين القرنين الثالث والسادس الهجري.

فترة تأسيس الإمامة الإباضية الأولى، والحفاظ على استقلالية عُمان.	١٧٧-٤٠هـ
الإمامة الإباضية الثانية في عُمان، فترة استقلال وبناء.	٢٨٠-١٧٧هـ
قيام حكم عُمانى مستقل تخلفه سيطرة لبعض القوى الأجنبية.	٥٤٩-٢٨٠هـ
عصر النباهنة الذي تفاوت بين القوة والضعف، وقدم الغزو البرتغالي.	١٠٣٤-٥٤٩هـ

## عمان .... المكان والحضارة

## ملخص الوحدة الأولى

٣. من خلال الشكل الذي امامك استخلص اسم النظام للمهام التالية:



٤. امامك نماذج للمسكوكات النقدية القديمة، ادرسها جيداً واجب عن الأسئلة التي تليها:



٥. بين التقسيم الإداري لعمان في العصور الإسلامية.

