

## سهرة الجغرافيا الاقتصادية



### تم تحميل هذا الملف من موقع المناهج العمانية

موقع فايلاتي ← المناهج العمانية ← الصف الحادي عشر ← جغرافيا ← الفصل الثاني ← ملفات متنوعة ← الملف

تاريخ إضافة الملف على موقع المناهج: 20:11:55 2026-06-02

ملفات اكتب للمعلم اكتب للطالب الاختبارات الكترونية الاختبارات ا حلول ا عروض بوربوينت ا أوراق عمل  
منهج انجليزي ا ملخصات وتقارير ا مذكرات وبنوك ا الامتحان النهائي للمدرس

المزيد من مادة  
جغرافيا:

إعداد: أحمد المعمرى

### التواصل الاجتماعي بحسب الصف الحادي عشر



صفحة المناهج  
العمانية على  
فيسبوك

### المزيد من الملفات بحسب الصف الحادي عشر والمادة جغرافيا في الفصل الثاني

كتيب الجغرافيا الاقتصادية 2016-2017م	1
ملخص الدرس الأول النقل	2
كتاب الطالب الجغرافيا الاقتصادية	3
نموذج إجابة الامتحان النهائي الرسمي الدور الأول الفترة الصباحية	4
تجميع أسئلة اختبارات نهائية لدرس النقل	5


# سهرة الجغرافيا الاقتصادية



## توزيع الدرجات في الاختبار النهائي

مجموع الدرجات للوحدة 🏆	درجات مستويات التعلم للوحدة			الأسئلة المقالية %80 ✍️	الأسئلة الموضوعية %20 📋	مجموع الدرجات لكل موضوع ★	Ⓜ️ الوزن النسبي	المحتوى		
	القدرات العليا %20 🎯	الفهم والتطبيق %40 🧠	المعرفة %40 💡					الموضوعات	عنوان الوحدة	الوحدة
25	6	10	10	11	3	14	%23	النقل 🚚	النقل والاتصالات والتجارة الدولية	الثالثة
	5	10	10	4	1	5	%9	الاتصالات 📡		
	5	10	10	5	1	6	%10	التجارة الدولية 🌐		
35	7	14	14	7	1	8	%14	السياحة .. المفهوم والأهمية 🌴	السياحة	الرابعة
	7	14	14	8	2	10	%17	أنواع السياحة 📍		
	7	14	14	6	2	8	%13	النظام السياحي.. المدخلات والعمليات ⚙️		
	7	14	14	7	2	9	%14	النظام السياحي... المخرجات 🏠		
60	12	24	24	48	12	60	%100	🏆 المجموع الكلي		

# محتوى المراجعة



أسئلة موضوعية (اختيار من متعدد).



أسئلة مقالية (مفاهيم - خرائط -  
فسر - صنف وغيرها)



معلومات مهمة يجب الانتباه لها.




## أولا: الاسئلة الموضوعية (اختيار من متعدد) 12 درجة



## أولا : الأسئلة الموضوعية

الشكل الصحيح الذي يوضح المجرى المائي المناسب للملاحة النهرية :



ب



أ



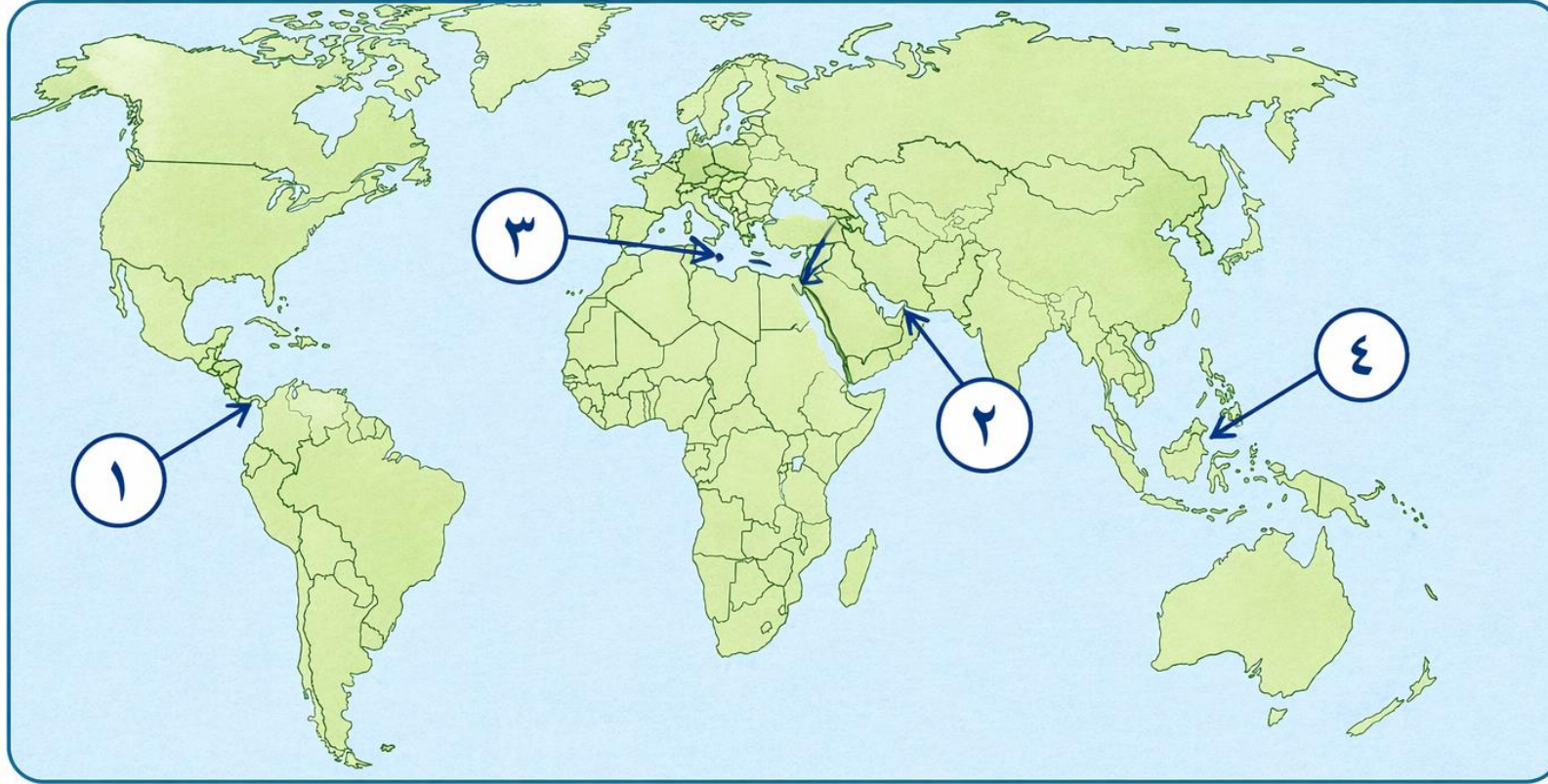
د



ج



الرقم الذي يشير إلى الممر المائي الذي يربط بين قارات العالم القديم من خلال الخريطة  
المقابلة :



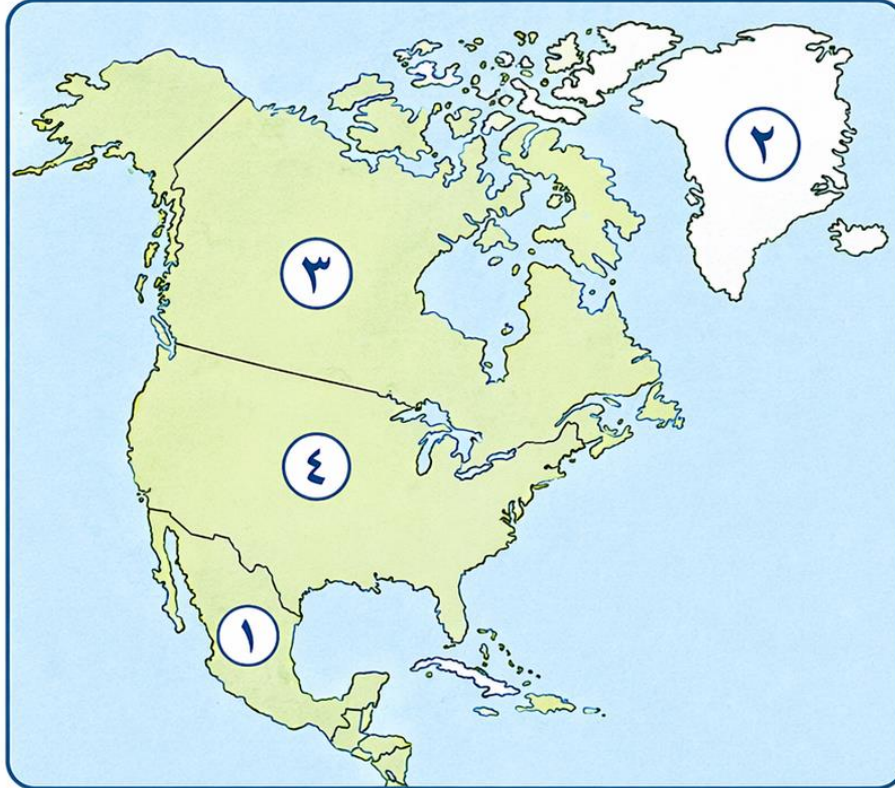
د - ٤

ج - ٣

ب - ٢

أ - ١

◆ الدولة التي تمتلك أكبر شبكة نقل أنابيب في العالم مشار إليها بالرقم:



أ	١	
ب	٢	
ج	٣	
د	٤	

## الترتيب الصحيح لأبرز الاختراعات في مجال الاتصالات:

أ أول كمبيوتر ← الألياف البصرية ← الهاتف ← اختراع الانترنت

ب الهاتف ← الألياف البصرية ← اختراع الانترنت ← أول كمبيوتر

ج الهاتف ← أول كمبيوتر ← الألياف البصرية ← اختراع الانترنت

د اختراع الانترنت ← الهاتف ← أول كمبيوتر ← الألياف البصرية

## الشكل الذي يوضح نقطة البداية لمراحل التجارة الإلكترونية:



المحتوى الرقمي

د



عربة التسوق الإلكترونية

ج



استخدام الحاسوب والإنترنت

ب

بطاقة إئتمان

بطاقة إئتمان

أ



السائح الداخلي عالميا هو من يقوم برحلة تنزه  
تبعد عن بيئته حوالي :



د

٨٠ كم

ج

٧٠ كم

ب

٦٠ كم

أ

٥٠٠ كم

من أوائل الدول المطبقة لنظام الحسابات السياحية يُشار إليها في الخريطة بالرقم :



أ ١

ب ٢

ج ٣

د ٤



النشاط السياحي الذي تعبر عنه الصورة المقابلة :



ب- علاجي



أ- ثقافي



د- ترفيهي



ج- جيولوجي



عقد المؤتمر العالمي الثالث للسياحة الجيولوجية في مدينة :



د- أبو ظبي



ج- الدوحة



ب- الرياض



أ- مسقط





## الشكل الصحيح الذي يمثل تسهيلات الإمداد (الراحة) في الموقع السياحي:



(ب)

الملابس      الأثاث      التتقل      مراكز  
استجمام

(أ)

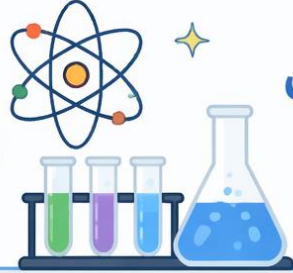
الملابس      المقاهي      الأثاث      البقالات

(د)

الهدايا      الأثاث      التتقل      اتصالات  
التذكارية

(ج)

مراكز      المقاهي      الأثاث      صيدليات  
صحية



## تجمع الرياضة التي تنشط في أخدود دانا بروك في استراليا بين:



ب

استكشاف الكهوف  
والغوص.



تسلق الجبال  
واستكشاف الكهوف.

أ

د

التزلق على الماء  
والغوص.



تسلق الجبال والتزلق  
على الماء.

ج



الصورة المقابلة تمثل أحد المعالم السياحية الجيولوجية في ولاية:



أ. الدقم.

أ



ب. الجازر.

ب



ج. محوت.

ج



د. هيما.

د



يوجد متحف التاريخ الطبيعي الواضح في  
الشكل الذي أمامك:



اختر الإجابة الصحيحة

## أولا :الاسئلة المقالية | 48 درجة



توضح الخريطة إحدى القنوات المائية في العالم وامشر إليها بالرمز ○ ادرسها ثم أجب عن

التالي :

أ- ما اسم هذه القناة المائية؟

.....

ب- تربط هذه القناة بين بحرين هما :

١-.....

٢-.....

ج- أهم السلع التي تنقل من الخليج العربي إلى

غرب أوروبا عبر هذه القناة ؟

.....



٢- فسر، يحتل مضيق هرمز أهمية استراتيجية كبيرة بالنسبة للعالم.

.....

صنف السلع التجارية التي كانت تنقل عبر الطرق البرية في العالم القديم في الجدول أدناه:  
( العاج - الحرير - الفيروز - الجلود )

السلع	الطرق البرية
..... .....	طرق القوافل القديمة في قارة آسيا
..... .....	طرق القوافل العربية

## قارن بين النقل الجوي والنقل بالأنابيب، من حيث التكلفة وطبيعة المواد المنقولة.

النقل بالأنابيب	النقل الجوي	أوجه المقارنة
(١) .....	تكلفة عالية.	التكلفة.
النفط والغاز.	(٢) .....	طبيعة المواد المنقولة.



أ- الخريطة التي أمامك توضح إحدى القنوات المائية في العالم، ادرسها جيداً، ثم أجب عن الأسئلة الآتية:



١- ما اسم هذه القناة المائية.

.....

٢- وضح أهميتها الاستراتيجية.

.....

.....

.....

صنّف في الجدول التالي الأقمار الصناعية تبعاً للمهام التي تقوم بها:  
(أبحاث علمية - اتصالات - مراقبة سطح الأرض - أرصاد جوية).

نوع القمر	المهام
landsat	.....
Nailesat	.....
Gose	.....

الشكل الذي أمامك يوضح قيمة الصادرات والواردات من المنتجات الزراعية للبرازيل ادرسه ، ثم أجب عن التالي:



١- احسب الميزان التجاري للبرازيل.

.....

.....

٢- ما أهمية أن يكون الميزان التجاري للدولة موجب (+)؟

.....

.....

ثانيا: أنسب الأمثلة إلى مجالات أهمية الإتصالات كما في الجدول الآتي :

م	المثال	المجال
١	دفع فاتورة الكهرباء والمياه عبر تطبيقات الهواتف الذكية	.....
٢	متابعة مستويات الطلبة عبر تطبيق ولي الأمر	.....

صنف العبارات التي توضح مفهوم السياحة الداخلية (يقوم برحلة تنزه تبعد عن بيته ٦٠ كم - يقوم برحلة تنزه تبعد عن بيته ٨٠ كم - يقيم ليلة في المكان المقصود) حسب المعايير التي تحددها الدول في الجدول التالي (العالمي - سلطنة عمان - الولايات المتحدة الأمريكية وكندا).

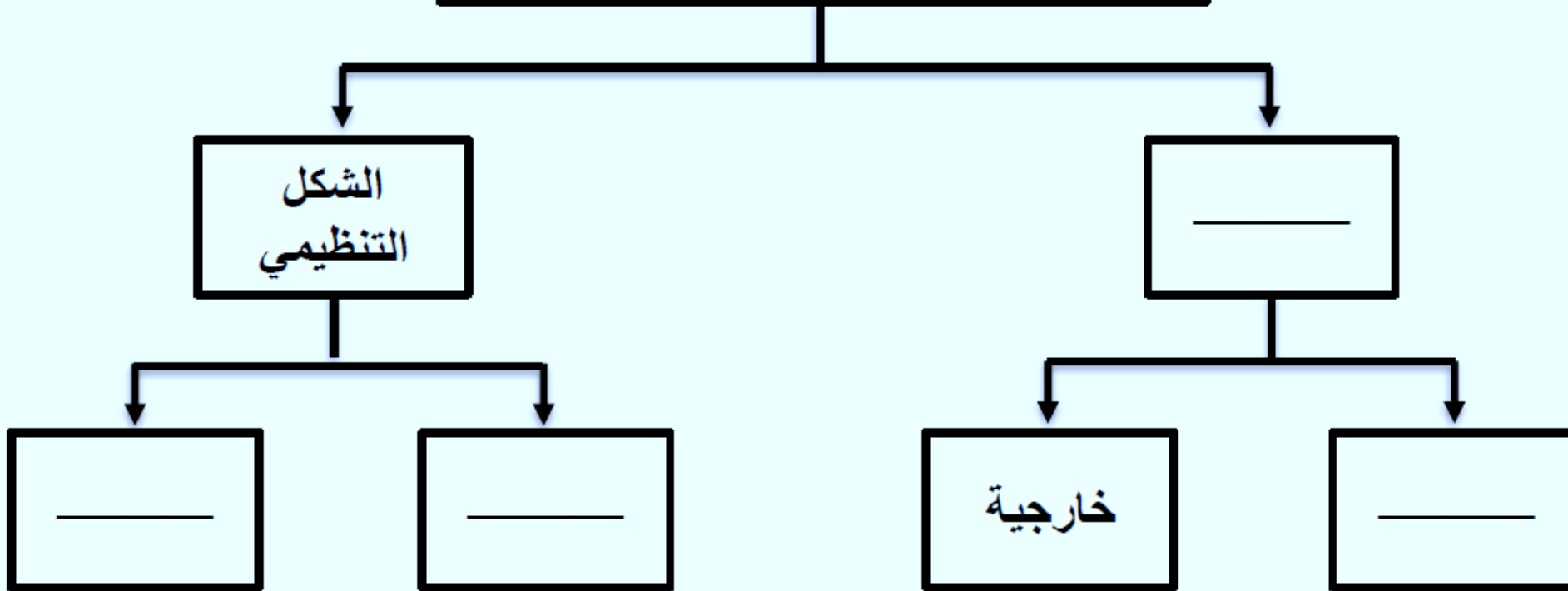
المعيار	مفهوم السياحة الداخلية
العالمي	.....
سلطنة عمان.	.....
الولايات المتحدة الأمريكية وكندا.	.....

اكتب المفاهيم السياحية للعبارات الآتية ( سياحة ، سفر ، تنزه):

المفهوم	الحالة
.....	رجل أعمال انتقل من بلده الى بلد آخر لحضور مؤتمر علمي.
.....	قضاء أسرة يوم في الاجازة الأسبوعية في الحديقة العامة.
.....	ذهاب رجل أعمال لبلد آخر لبيع املاكه.

أكمل المخطط الآتي:

## معايير تصنيف السياحة





تمثل العيون المائية التي تنتشر في انحاء سلطنة عمان والتي تعد وجهات سياحية يقصدها السياح في مختلف محافظات السلطنة ، فهي إضافة إلى كونها مواقع ترفيهية وتمثل للبعض وجهات للبحث عن العلاج الطبيعي " في ضوء السبقة المنزلة الفقرة السابقة أجب عن الأسئلة



1 سم نوع آخر للسياحة العلاجية لم يرد في الفقرة السابقة ؟



2 علل ارتباط العيون المائية بعلاج العديد من الأمراض .



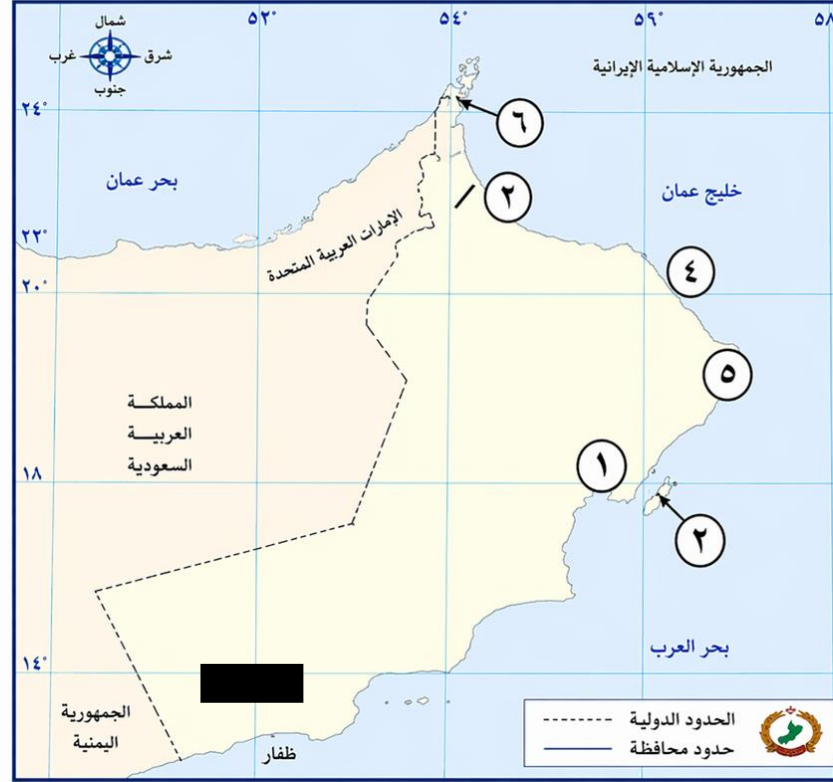
3 إعط مثلاً واحداً على العيون المائية التي تستخدم في العلاج في السلطنة .




صنف في الجدول التالي تسهيلات الإمداد اللوجستية في المواقع السياحية  
( الهدايا التذكارية - التنقل - المقاهي - خدمات مصرفية )

تسهيلات الإمداد	الخدمة المقدمة
الخدمات اليومية	.....
الرفاهية	.....
الراحة	.....


## أمامك خريطة سلطنة عُمان ادرسها جيداً ثم أجب عن الأسئلة التالية:



- ١- نوع المناخ في المنطقة المشار إليها بالرقم (٦) .....
- ٢- ما نوع وسيلة النقل السياحية المناسبة بين المنطقتين (١ و ٢) .....
- ٣- ظلل باستخدام الرمز  موقع محمية جبل سمحان.
- ٤- ما الرقم الذي يشير إلى موقع ميناء تصدير الغاز الطبيعي .....



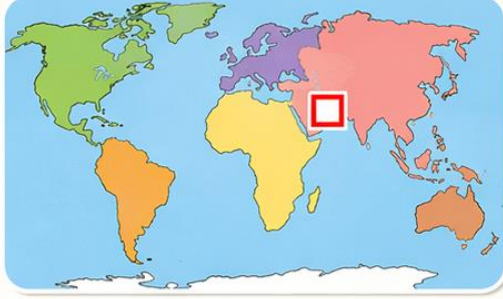
من خلال الشكل المقابل ، أجب عما يلي :



أ- .....	اسم الشعار
ب- .....	مجالاته (يذكر اثنين)
.....	

## أمامك خريطة العالم ادرسها جيدًا ثم أجب عن الأسئلة التالية:





1- ظلل باستخدام الرمز (المربع المخطط) الدولة التي تنشط فيها رياضة نزول الأخاديد.



2- الرقم الذي يشير إلى الدولة التي عقد فيها المؤتمر العالمي للسياحة الجيولوجية

عام ٢٠١١ م

( )



3- الرقم الذي يشير إلى الدولة التي يوجد بها أكبر مطار في العالم من حيث أعداد المسافرين

( )



Thank  
You