

تم تحميل هذا الملف من موقع المناهج العُمانية



*للحصول على أوراق عمل لجميع الصفوف وجميع المواد اضغط هنا

<https://almanahj.com/om>

* للحصول على أوراق عمل لجميع مواد الصف الحادي عشر اضغط هنا

<https://almanahj.com/om/11>

* للحصول على جميع أوراق الصف الحادي عشر في مادة تقنية المعلومات ولجميع الفصول, اضغط هنا

<https://almanahj.com/om/11computer>

* للحصول على أوراق عمل لجميع مواد الصف الحادي عشر في مادة تقنية المعلومات الخاصة بـ الفصل الأول اضغط هنا

<https://almanahj.com/om/11computer1>

* لتحميل كتب جميع المواد في جميع الفصول للـ الصف الحادي عشر اضغط هنا

<https://almanahj.com/om/grade11>

* لتحميل جميع ملفات المدرس عمر العزري اضغط هنا

للتحدث إلى بوت على تلغرام: اضغط هنا

https://t.me/omcourse_bot



امتحان مادة : الحاسوب في الاتصالات والأعمال التجارية

للسف : الحادي عشر

للعام الدراسي ١٤٣٨/١٤٣٩ هـ - ٢٠١٧/٢٠١٨ م

الدور الأول - الفصل الدراسي الأول

- زمن الامتحان : (ساعتان) ● عدد صفحات أسئلة الامتحان: (٥)
- الإجابة في الدفتر نفسه .

اسم الطالب	
الصف	المدرسة

التوقيع بالاسم		الدرجة		السؤال
المصحح الثاني	المصحح الأول	بالأرقام	بالحروف	
				١
				٢
				٣
				٤
				٥
				٦
مراجعة الجمع	جمعه			المجموع
			٣٠	المجموع الكلي

(١)

المادة : الحاسوب في الاتصالات والأعمال التجارية الصف : الحادي عشر- الدور الأول
 الفصل الدراسي الأول - العام الدراسي ٢٠١٧/٢٠١٨ م

٨

أجب عن جميع الأسئلة الآتية

السؤال الأول: ضع دائرة حول رمز الإجابة الصحيحة لكل مفردة من المفردات الآتية:

١) جيل الحواسيب الذي ظهر فيه الترانزستور، والذي أدى إلى التقليل من استهلاك الطاقة الكهربائية هو:

- (أ) الجيل الأول.
 (ب) الجيل الثاني.
 (ج) الجيل الثالث.
 (د) الجيل الرابع.

٢) الإجراء الذي يساعدك في استعادة النظام أو الملفات عند حدوث انهيار غير متوقع في نظام الحاسوب يسمى:

- (أ) Firewall
 (ب) Backups
 (ج) Scan disk
 (د) Software

٣) جهاز اتصال يربط بين أجهزة الشبكة، ويوزع الإشارة التي تصل إليه، ويختار المسار الأفضل والأقرب لنقلها هو:

- (أ) المبدل Switch
 (ب) المقبس RJ-45
 (ج) المحور Hub
 (د) الموجه Router

٤) أحد وسائط النقل في الشبكات المحلية، والذي يستخدم في ربط خطوط الهاتف داخل المنزل هو:

- (أ) سلك الأزواج المجدولة UTP
 (ب) السلك المتحد المحور.
 (ج) المقبس BNC
 (د) سلك الأزواج المجدولة STP

٥) لإغلاق النوافذ الدعائية في أنظمة تشغيل Mac بأمان أثناء تصفحك للإنترنت نضغط من خلال لوحة المفاتيح على مفتاحي :

- (أ) shift + w
 (ب) Alt + w
 (ج) Ctrl + w
 (د) Command + w

(٢)

المادة : الحاسوب في الاتصالات والأعمال التجارية الصف : الحادي عشر- الدور الأول
الفصل الدراسي الأول - العام الدراسي ٢٠١٧/٢٠١٨ م

تابع السؤال الأول:

٦) خاصية في محركات البحث تتيح للمستخدم البحث عن عبارات أو جمل محددة وذلك بوضعها بين علامتي تنصيص " " تسمى:

أ) الكلمات المفتاحية. ب) البحث المتقدم. ج) المطابقة التامة. د) المعاملات.

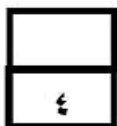
٧) تصنف الأسئلة التي تبحث عن تصورات المستهدفين وميولهم ومشاعرهم نحو قضايا معينة مرتبطة بموضوع البحث على أنها تقيس:

أ) المعتقدات. ب) الاتجاهات. ج) السلوكيات. د) الخصائص.

٨) من أدوات الدراسة الاستقصائية المكلفة، ومن خلالها قد نحصل على استجابات غير حقيقية من المستهدفين بسبب تأثير أعراف وعادات المجتمع عليهم هي:

أ) المقابلة المباشرة. ب) الاستبانة عبر البريد.

ج) المقابلة الهاتفية. د) الاستبانة عبر الإنترنت.



السؤال الثاني: أكمل العبارات الآتية بالكلمات المناسبة:

١) يعد أحد أنواع الأسئلة والتي تساعد المجيب على الانتقال من رد فعل إلى إعادة النظر في استجابته، هي الأسئلة.....

٢) من الخدمات التي تقدمها شبكة الإنترنت ومن خلالها يمكن إرسال الرسائل واستقبالها فوراً، وفي نفس الوقت هي.....

٣) الصورة المرئية التي تستعمل للدلالة على شيء غير مرئي تسمى.....

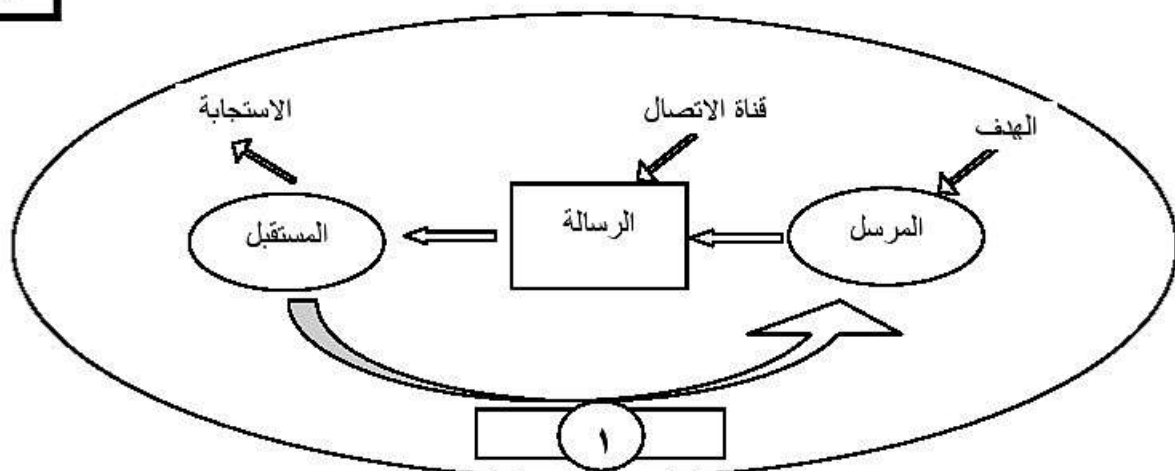
٤) فقرة بسيطة من أجزاء الاستبانة توضح الهدف منها وتحفز المستهدفين على الإجابة عن الأسئلة بصراحة وصدق تسمى.....

(٣)

المادة : الحاسوب في الاتصالات والأعمال التجارية الصف : الحادي عشر- الدور الأول
 الفصل الدراسي الأول - العام الدراسي ٢٠١٧/٢٠١٨ م

السؤال الثالث:

(١) ادرس الشكل الآتي ثم أجب عن الأسئلة التي تليه :



أ- ماذا يمثل الشكل السابق؟

.....

ب- ما هو العنصر الذي يشير إليه الرمز (١) في الشكل.

.....

ج- تكمن أهمية الاتصال في أنه يؤمن التفاعل الحضاري بين المجتمعات، وضح ذلك.

.....

.....

.....

٢) يعد التحدث أمام الجمهور أداة اتصال مباشرة، من خلال دراستك، اذكر أربعاً من الخطوات التي ينبغي مراعاتها لتكون متحدثاً جيداً.

.....

.....

.....

.....

(٤)

المادة : الحاسوب في الاتصالات والأعمال التجارية الصف : الحادي عشر- الدور الأول
الفصل الدراسي الأول - العام الدراسي ٢٠١٧/٢٠١٨ م

السؤال الرابع:

٦

رست مناقصة لإحدى المؤسسات العاملة في قطاع الشبكات، وذلك لإنشاء شبكة لربط مصرفين في دولتين متجاورتين لتبادل البيانات، من خلال دراستك لموضوع الشبكات في الأعمال التجارية أجب عما يلي :

(١) اذكر المتطلبات الأساسية الثلاثة اللازمة لإنشاء هذه الشبكة.

.....

.....

.....

(٢) ما أفضل الوسائط السلوكية المناسبة لمثل هذا الربط؟

.....

(٣) ما نوع البنية المناسبة للاتصال بين أجهزة هذه الشبكة؟ علل إجابتك.

.....

.....

السؤال الخامس:

٤

يمتلك أحمد إحدى المؤسسات الخاصة، أراد توظيف عدد من الباحثين عن العمل لشغل بعض الوظائف في مؤسسته، من خلال دراستك لموضوع المهارات اللازمة للتوظيف أجب عما يلي :

(١) اذكر ثلاثاً من المهارات الأساسية للتوظيف.

.....

.....

.....

يتبع/٥

(٥)

المادة : الحاسوب في الاتصالات والأعمال التجارية الصف : الحادي عشر- الدور الأول
الفصل الدراسي الأول - العام الدراسي ٢٠١٧/٢٠١٨ م

تابع السؤال الخامس:

(٢) حدد ثلاثاً من مهارات الإدارة الشخصية.

.....

.....

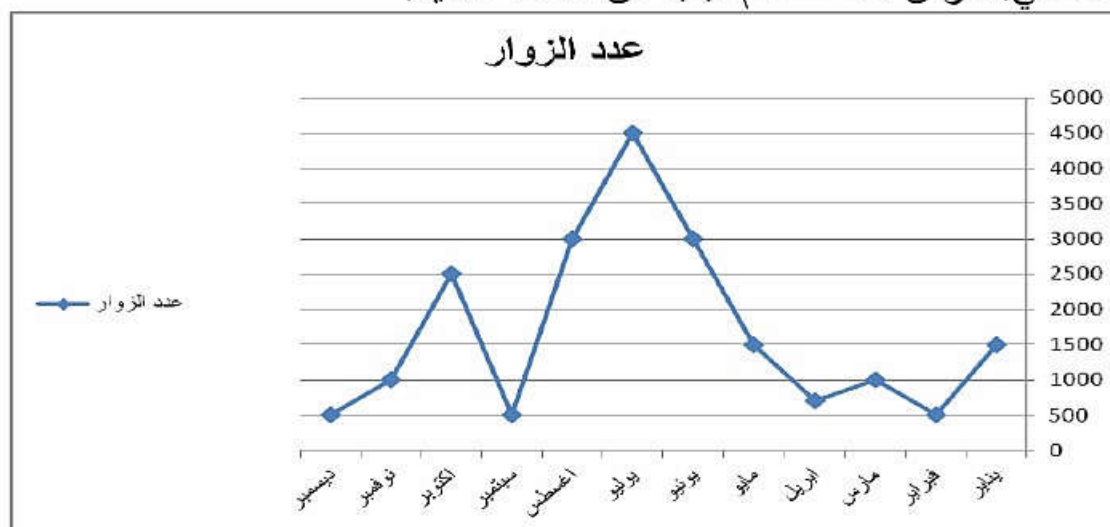
(٣) إذا كان الموظف يتمتع بالمرونة والانفتاح ومساندة أفكار ومساهمات الآخرين، فهل يصلح للعمل ضمن فريق؟ علل إجابتك.

.....

٣

السؤال السادس:

المخطط البياني الآتي يوضح متوسط عدد زوار أحد المتاحف التاريخية في السلطنة خلال العام الماضي. ادرس المخطط ثم اجب عن الأسئلة الآتية:



(١) أي نوع من أنواع المخططات البيانية يمثلها الشكل السابق؟

.....

(٢) في أي شهر من السنة سجل العدد الأكبر من الزوار.

.....

(٣) احسب متوسط عدد الزوار خلال آخر ستة أشهر من السنة.

.....

انتهت الأسئلة مع الدعاء للجميع بالتوفيق والنجاح.



نموذج إجابة امتحان الصف الحادي عشر
للعام الدراسي ١٤٣٨/١٤٣٩ هـ - ٢٠١٧/٢٠١٨ م
الدور الأول - الفصل الدراسي الأول

المادة: الحاسوب في الاتصالات والأعمال التجارية الدرجة الكلية: (٣٠) درجة
تنبيهه: نموذج الإجابة في (٤) صفحات

أولاً: إجابة الأسئلة الموضوعية:-

الدرجة: (٨) درجات			إجابة السؤال الأول		
المخرج التعليمي	الصفحة	الدرجة	الإجابة	البديل الصحيح	المفردة
٢/١	٢١	١	الجيل الثاني.	ب	١
٣/١	٢٧	١	Backups	ب	٢
٣/١	٣٦	١	الموجه Router	د	٣
٤/١	٣٩	١	سلك الأزواج المجدولة UTP	أ	٤
٣/١	٢٩	١	Command + w	د	٥
١/٢	٥٨	١	المطابقة التامة.	ج	٦
٣/٢	٦٨	١	الاتجاهات.	ب	٧
٣/٢	٦٦	١	المقابلة المباشرة.	أ	٨
٨ درجات			المجموع		

(٢)

تابع نموذج إجابة امتحان الصف الحادي عشر
للعام الدراسي ١٤٣٨/١٤٣٩ هـ - ٢٠١٧/٢٠١٨ م
الدور الأول - الفصل الدراسي الأول
المادة: الحاسوب في الاتصالات والأعمال التجارية

الدرجة الكلية : (٤) درجات			إجابة السؤال الثاني	
المخرج التعليمي	الصفحة	الدرجة	الإجابة الصحيحة	المفردة
١/١	١٥	١	الاستقصائية.	١
٥/١	٤٥	١	المحادثة أو الدردشة Chat	٢
٣/٢	٧٧	١	الرمز Symbol	٣
٢/٢	٦٩	١	مقدمة الاستبانة.	٤
٤ درجات			المجموع	

ثانياً: إجابة الأسئلة المقالية:-

الدرجة الكلية : (٥) درجات			إجابة السؤال الثالث		
المخرج التعليمي	الصفحة	الدرجة	الإجابة الصحيحة	المفردة	الجزئية
١/١	١١	١	العناصر الأساسية لعملية الاتصال.	أ	١
١/١	١١	١	التغذية الراجعة.	ب	
١/١	١٠	١	الاتصال بين أفراد المجتمعات المختلفة يؤدي إلى تطور العلوم وانتقال الثقافات، وتفاعل الحضارات والتواصل فيما بينها. (تراعى الحلول الأخرى)	ج	
١/١	١٦	٢	<ul style="list-style-type: none"> تحديد الهدف من عرض الموضوع. معرفة صفات أو نوعية الجمهور المستمع. جمع معلومات كافية حول الموضوع. تنظيم محتوى العرض. طريقة الإلقاء. 	٢	
٥ درجات			المجموع		

(٣)

تابع نموذج إجابة امتحان الصف الحادي عشر
للعام الدراسي ١٤٣٨ / ١٤٣٩ هـ - ٢٠١٧ / ٢٠١٨ م
الدور الأول - الفصل الدراسي الأول
المادة: الحاسوب في الاتصالات والأعمال التجارية

إجابة السؤال الرابع		الدرجة الكلية : (٦) درجات	
المخرجات التعليمية	الصفحة	الدرجة	الإجابة الصحيحة
٤/١	٣٥	٣	<ul style="list-style-type: none"> بطاقة واجهة الشبكة Network Interface Card (NIC) وسائط الاتصال. أجهزة الاتصال.
٤/١	٣٩	١	الألياف البصرية Optical Fiber
٤/١	٤٢	٢	البنية الشبكية. لأنها تعتبر الأفضل في انسياب البيانات بين أجهزة الشبكة، ويندر انقطاع الاتصال فيها.
٦ درجات		المجموع	

إجابة السؤال الخامس		الدرجة الكلية : (٤) درجات	
المخرجات التعليمية	الصفحة	الدرجة	الإجابة الصحيحة
٤/٢	٨٩	١,٥	<ul style="list-style-type: none"> - مهارات الاتصال. - مهارات إدارة المعلومات. - مهارة استخدام الأرقام. - مهارة التفكير وحل المشكلات.
٤/٢	٩٠	١,٥	<ul style="list-style-type: none"> - إظهار سلوكيات واتجاهات إيجابية. - التحلي بالمسؤولية. - المبادرة في طرح الأفكار. - العمل بأمان. - التعلم مدى الحياة. - القابلية للتكيف.
٤/٢	٩٢	١	نعم، لأنها من ضمن المهارات اللازمة للإسهام بفاعلية في المهام المشتركة للقوى العاملة. (تراعى الحلول الأخرى)
٤ درجات		المجموع	

(٤)

تابع نموذج إجابة امتحان الصف الحادي عشر
للعام الدراسي ١٤٣٨/١٤٣٩ هـ - ٢٠١٧/٢٠١٨ م
الدور الأول - الفصل الدراسي الأول
المادة: الحاسوب في الاتصالات والأعمال التجارية

الدرجة الكلية : (٣) درجات			إجابة السؤال السادس	
المخرج التعليمي	الصفحة	الدرجة	الإجابة الصحيحة	المفردة
٤/٢	٨٨	١	التمثيل الخطي.	١
٤/٢	٨٨	١	يوليو.	٢
٤/٢	٨٨	١	$\frac{٥٠٠+١٠٠٠+٢٥٠٠+٥٠٠+٣٠٠٠+٤٥٠٠}{٦} = \text{المتوسط}$ $\frac{١٢٠٠٠}{٦} =$ $٢٠٠٠ = \text{زائر}$	٣
٣ درجات			المجموع	

نهاية نموذج الإجابة



امتحان مادة : الحاسوب في الاتصالات والأعمال التجارية
للصف : الحادي عشر
للعام الدراسي ١٤٣٨/١٤٣٩ هـ - ٢٠١٧/٢٠١٨ م
الدور الثاني - الفصل الدراسي الأول

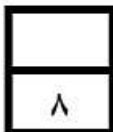
- زمن الامتحان : (ساعتان) ● عدد صفحات أسئلة الامتحان : (٥)
● الإجابة في الدفتر نفسه .

		اسم الطالب
الصف		المدرسة

التوقيع بالاسم		الدرجة		السؤال
المصحح الثاني	المصحح الأول	بالحروف	بالأرقام	
				١
				٢
				٣
				٤
				٥
				٦
مراجعة الجمع	جمعه			المجموع
			٣٠	المجموع الكلي

(١)

المادة : الحاسوب في الاتصالات والأعمال التجارية الصف : الحادي عشر- الدور الثاني
الفصل الدراسي الأول - العام الدراسي ٢٠١٧/٢٠١٨ م



أجب عن جميع الأسئلة الآتية

السؤال الأول: ضع دائرة حول رمز الإجابة الصحيحة لكل مفردة من المفردات الآتية:

(١) أحد العناصر الأساسية لعملية الاتصال، وهي الوسيلة التي تستخدم لنقل الرسالة من

المرسل الى المستقبل ويجب أن تكون خالية من التشويش هي :

(أ) التغذية الراجعة. (ب) الرسالة. (ج) قناة الاتصال. (د) الهدف.

(٢) جيل الهواتف الذي تميز بإمكانية إرسال واستقبال رسائل الوسائط المتعددة وتبادل

البريد الإلكتروني والفاكس وتبادل البيانات بسرعة كبيرة هو :

(أ) الجيل الأول. (ب) الجيل الثاني. (ج) الجيل الثالث. (د) الجيل الرابع.

(٣) أحد وساط النقل في الشبكات يستخدم في خطوط النقل الكبيرة التي تربط بين الدول

والقارات هو:

(أ) سلك متحد المحور Coaxial Cable (ب) سلك الأزواج المجدولة UTP

(ج) سلك الأزواج المجدولة STP (د) سلك الألياف البصرية Optical Fiber

(٤) عملية إعادة تنظيم الملفات بحيث تصبح متجاورة في القرص الصلب لتتم قراءتها

بصورة أسرع تسمى :

(أ) إلغاء تجزئة القرص الصلب. (ب) تفحص القرص.

(ج) إنشاء نقطة استعادة النظام. (د) تنظيف القرص.

(٥) تعتبر الخطوة الأولى في حل أي مشكلة قد تحدث في الحاسوب هي :

(أ) تحليل المشكلة. (ب) توثيق المشكلة. (ج) الإحساس بالمشكلة. (د) تحديد المشكلة.

(٦) عند كتابة عناوين البحث في متصفح الإنترنت، الرمز الذي يميز مواقع الولايات المتحدة

هو:

(أ) .uk (ب) .jp (ج) .fr (د) .us

(٢)

المادة : الحاسوب في الاتصالات والأعمال التجارية الصف : الحادي عشر- الدور الثاني
الفصل الدراسي الأول - العام الدراسي ٢٠١٧/٢٠١٨ م

تابع السؤال الأول:

- ٧) تصنف الصور المستعملة في خرائط التنبؤات العديدة للأنواء المناخية على أنها :
 (أ) صور تدعم المعلومات .
 (ب) صور تعزز المعلومات .
 (ج) إضفاء روح معينة على النص .
 (د) تدعم نصا يحتوي على استعارة أو مجاز .

٨) يصنف سؤال الاستبانة " ما هي رياضتك المفضلة؟" على أنه يقيس:

(أ) الاتجاهات .

(ب) المعتقدات .

(ج) السلوكيات .

(د) الخصائص .

٤

السؤال الثاني: أكمل العبارات الآتية بالكلمات المناسبة:

- (١) تطرح لطلب معلومات جديدة أبعد وأعمق حول موضوع معين هي الأسئلة
- (٢) مجموعة من أجهزة الحاسوب مرتبطة معاً عبر وسائط اتصال بغرض تبادل البيانات والمعلومات، هي
- (٣) أحد أشكال التمثيل البياني ويستخدم في المقارنة بين المجموعات وملاحظة الاختلافات فيما بينها، تسمى
- (٤) عملية اختراق أجهزة الحواسيب والتجسس عليها تعرف بـ

٥

السؤال الثالث:

- (١) هناك العديد من العوامل التي تؤدي إلى تعريض سلامة الحاسوب للخطر، وتعتبر الفيروسات إحدى أكثر مشاكل الحاسوب شيوعاً .
 أ- عرف الفيروس .

.....

.....

.....

(٣)

المادة : الحاسوب في الاتصالات والأعمال التجارية الصف : الحادي عشر- الدور الثاني
الفصل الدراسي الأول - العام الدراسي ٢٠١٧/٢٠١٨ م

تابع السؤال الثالث:

ب- أثناء عمل خالد على جهاز الحاسوب الخاص به، فقد بعض الملفات الهامة .
من خلال دراستك لموضوع حاسوب بلا مشاكل، ساعد خالد بالإجراءات الواجب اتباعها
لاستعادة الملفات المفقودة. (يكتفى بذكر ثلاثة)

.....

.....

.....

٢) تكمن أهمية الاتصال في أنها تخرج الإنسان من عزلته. وضح ذلك مع ذكر مثال.

.....

.....

السؤال الرابع:

٦

١) من خلال الشكل المقابل أجب عما يلي:

أ- ما هو وسيط النقل المستخدم في نقل البيانات؟

.....

.....

ب- ما هي حالة الاتصال؟

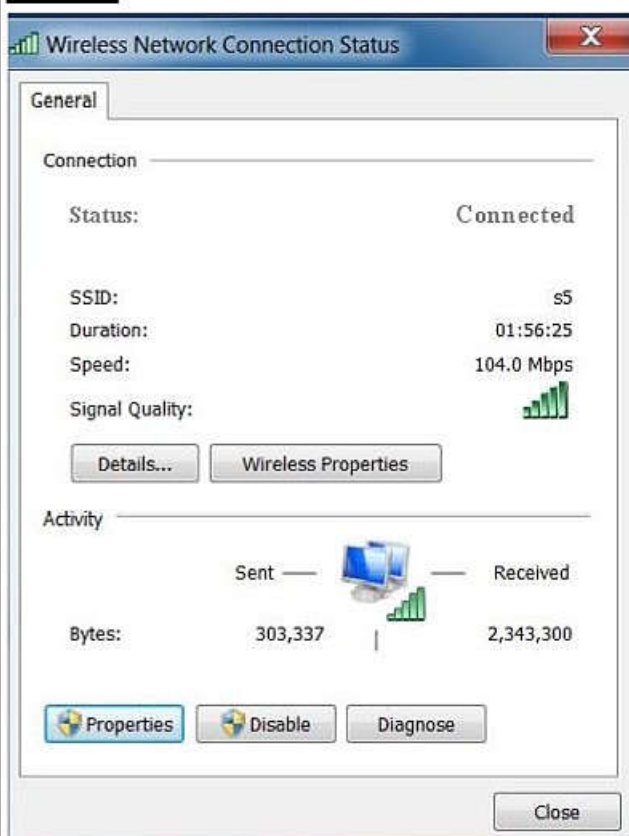
.....

.....

ج - ما هي سرعة نقل البيانات؟

.....

.....



(٤)

المادة : الحاسوب في الاتصالات والأعمال التجارية الصف : الحادي عشر- الدور الثاني
الفصل الدراسي الأول - العام الدراسي ٢٠١٧/٢٠١٨ م


تابع السؤال الرابع:

(٢) إن الكتابة في المنتديات هي وسيلة اتصال بين الأفراد في سياق موضوع محدد .
اذكر ثلاثة من الضوابط والأخلاقيات الواجب مراعاتها عند المشاركة في المنتديات.

.....

.....

.....



السؤال الخامس:

من خلال دراستك لموضوع الدراسات الاستقصائية أجب عما يلي:
(١) عرف الدراسة الاستقصائية.

.....

.....

.....

(٢) وضح في الجدول الآتي الإيجابيات والسلبيات لأداة المقابلة المباشرة :

السلبيات	الإيجابيات
.....
.....
.....
.....
.....
.....
.....
.....
.....

(٥)

المادة : الحاسوب في الاتصالات والأعمال التجارية الصف : الحادي عشر- الدور الثاني
الفصل الدراسي الأول - العام الدراسي ٢٠١٧/٢٠١٨ م

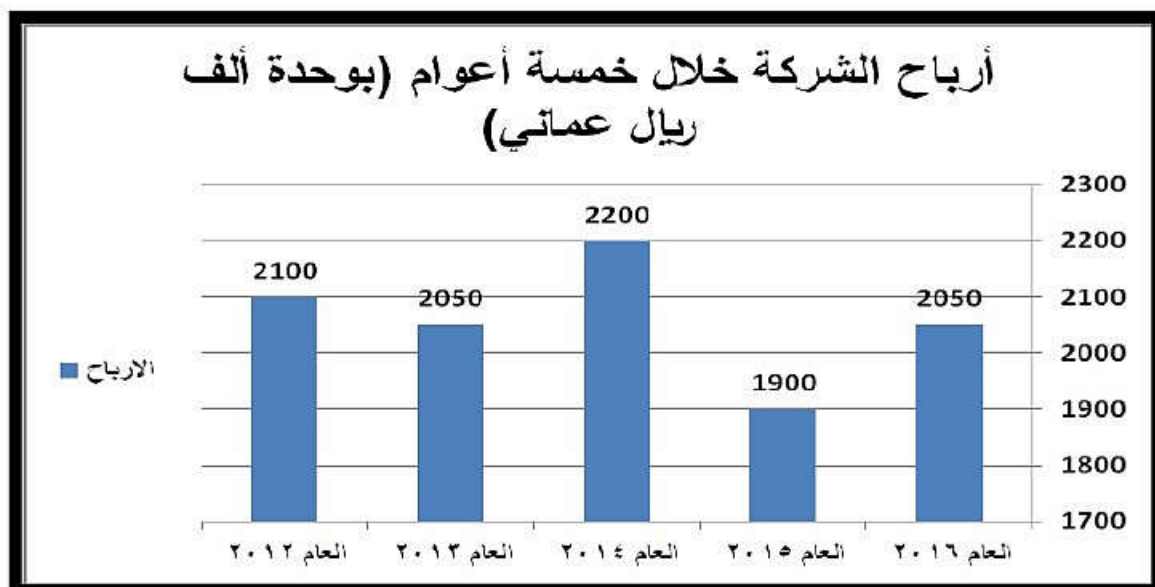
تابع السؤال الخامس:

٣) وضح ما المقصود بالاستبانة عبر الإنترنت Internet Questionnaires ؟

٣

السؤال السادس:

في ضوء دراستك لموضوع عرض وتفسير المعلومات النصية والعددية، ادرس المخطط البياني الآتي يوضح أرباح إحدى الشركات خلال خمسة أعوام.



استخدم المخطط السابق للإجابة عن الأسئلة الآتية:

أ) ما العام الذي يأتي أولاً من حيث أقل مبيعاتها؟

ب) ما هو أعلى ربح تم تحقيقه؟ (بالريال العماني)

ج) احسب متوسط أرباح الشركة خلال الخمسة أعوام الماضية.

انتهت الأسئلة مع الدعاء للجميع بالتوفيق والنجاح.



نموذج إجابة امتحان الصف الحادي عشر
للعام الدراسي ١٤٣٨/١٤٣٩ هـ - ٢٠١٧/٢٠١٨ م
الدور الثاني- الفصل الدراسي الأول

المادة: الحاسوب في الاتصالات والأعمال التجارية الدرجة الكلية: (٣٠) درجة
تنبيهه: نموذج الإجابة في (٥) صفحات

أولاً: إجابة الأسئلة الموضوعية:-

الدرجة: (٨) درجات			إجابة السؤال الأول		
المخرج التعليمي	الصفحة	الدرجة	الإجابة	البديل الصحيح	المفردة
١/١	١١	١	قناة الأتصال.	ج	١
٢/١	٢٢	١	الجيل الثالث.	ج	٢
٤/١	٣٩	١	سلك الألياف البصرية Optical Fiber	د	٣
٣/١	٣٠	١	إلغاء تجزئة القرص الصلب.	أ	٤
٣/١	٣٢	١	الإحساس بالمشكلة.	ج	٥
١/٢	٥٦	١	.us	د	٦
١/٢	٧٥	١	صور تعزز المعلومات.	ب	٧
٣/٢	٦٩	١	السلوكيات.	ج	٨
٨ درجات			المجموع		

(٢)

تابع نموذج إجابة امتحان الصف الحادي عشر
للعام الدراسي ١٤٣٨/١٤٣٩ هـ - ٢٠١٧/٢٠١٨ م
الدور الثاني - الفصل الدراسي الأول
المادة: الحاسوب في الاتصالات والأعمال التجارية

إجابة السؤال الثاني				الدرجة الكلية : (٤) درجات	
المفردة	الإجابة الصحيحة	الدرجة	الصفحة	المخرج التعليمي	
١	الاستقصائية.	١	١٥	١/١	
٢	شبكة الحاسوب.	١	٣٥	٤/١	
٣	الأعمدة البيانية.	١	٧٩	٤/٢	
٤	قرصنة الحاسوب Hacking	١	٧٦	٤/٢	
المجموع				٤ درجات	

ثانياً: إجابة الأسئلة المقالية:-

إجابة السؤال الثالث					الدرجة الكلية : (٥) درجات	
الجزئية	المفردة	الإجابة الصحيحة	الدرجة	الصفحة	المخرج التعليمي	
	أ	الفيروس: هو برنامج يقوم بتنفيذ مهام غير مرغوب بها على جهاز الحاسوب.	١	٢٦	٣/١	
١	ب	١- الاستعادة من سلة المحذوفات. ٢- إنشاء نقطة استعادة النظام. ٣- استرجاع الملفات المحذوفة Recove Deleted File	٣	٢٦	٣/١	
	٢	يعمل على دمج في المجتمع المحيط به، ومثال على ذلك ظهور شخص على شاشة التلفاز أثناء نشرة الأخبار، يقوم بترجمة الأخبار إلى إشارات خاصة بالصم والبكم.	١	١٠	١/١	
المجموع					٥ درجات	

يتبع/٣

(٣)

تابع نموذج إجابة امتحان الصف الحادي عشر
للعام الدراسي ١٤٣٨/١٤٣٩ هـ - ٢٠١٧/٢٠١٨ م
الدور الثاني - الفصل الدراسي الأول
المادة: الحاسوب في الاتصالات والأعمال التجارية

الدرجة الكلية : (٦) درجات			إجابة السؤال الرابع	
٤/١	٣٦	١	وسائط لاسلكية.	أ
٤/١	٣٦	١	متصل - Connected	ب
٤/١	٣٦	١	١٠٤,٠ Mbps	ج
٥/١	٤٦	٣	<p>- استخدام أسلوبا مناسباً في الحوار أثناء المناقشات وتبادل الأفكار.</p> <p>- كن مهذباً وموضوعياً مهما استفرك الآخرون ولا تعلق عندما تكون غاضباً.</p> <p>- ساهم بمعلومات جديدة واحرص على إثراء النقاش، كما يجب أن تقرأ كل التعليقات قبل الكتابة.</p> <p>- إذا أردت التنبيه إلى خطأ ما مثل الإشارة إلى رابط لا يعمل أو خطأ إملائي فافعل ذلك بطريقة راقية ومهذبة.</p> <p>- اختصر قدر الإمكان في طرح الأفكار ومحاورة الآخرين فخير الكلام ما قل ودل.</p> <p>- إذا أردت الإشارة إلى معلومات من مكان آخر فاكتب ملخصاً لها وضع رابطاً للمصدر.</p> <p>- لا تنشر الأخبار الكاذبة والإشاعات، وراع عدم إيذاء الآخرين وعدم التشهير بهم.</p>	٢
٦ درجات			المجموع	

(٤)

تابع نموذج إجابة امتحان الصف الحادي عشر
للعام الدراسي ١٤٣٨/١٤٣٩ هـ - ٢٠١٧/٢٠١٨ م
الدور الثاني - الفصل الدراسي الأول
المادة: الحاسوب في الاتصالات والأعمال التجارية

إجابة السؤال الخامس		الدرجة الكلية : (٤) درجات			
١	١	٦٦	٣/٢		
<p>الدراسة الاستقصائية: هي طريقة لجمع معلومات عن فئة معينة من الناس بأخذ عينة ممثلة منها وذلك بهدف تقديم صورة عامة أو مفصلة حول خصائص هذه العينة، وعادة ما يتم ذلك من خلال أسئلة مكتوبة يتم إيصالها إلى المستهدفين عن طريق أدوات الدراسة الاستقصائية.</p>					
٢	٢	٦٧	٣/٢		
				الإيجابيات	السلبيات
				معدل استجابات عالية	مكلفة
إمكانية توضيح الأسئلة عند الحاجة.	تحتاج إلى وقت وجهد أكبر نظرا لمتطلباتها الإدارية.				
إبقاء استجابات المستهدفين في حدود المطلوب.	أمكانية الحصول على استجابات غير حقيقية من المستهدفين.				
إمكانية طرح أسئلة طويلة ومركبة و تحفيز المستهدفين على الاستجابة.	إمكانية تأثير منفذ المقابلة على استجابات المستهدفين.				
٣	١	٦٧	٣/٢		
<p>الاستبانة عبر الإنترنت : هي استبانة إلكترونية تفاعلية، يتم من خلالها طرح الأسئلة على المستهدفين والإجابة عنها إلكترونياً، وذلك عندما يقومون بزيارة موقع ما على الإنترنت أو بإرسالها لهم عبر البريد الإلكتروني .</p>					
المجموع		٤ درجات			

(٥)

تابع نموذج إجابة امتحان الصف الحادي عشر
للعام الدراسي ١٤٣٨/١٤٣٩ هـ - ٢٠١٧/٢٠١٨ م
الدور الثاني - الفصل الدراسي الأول
المادة: الحاسوب في الاتصالات والأعمال التجارية

الدرجة الكلية : (٣) درجات			إجابة السؤال السادس	
المخرج التعليمي	الصفحة	الدرجة	الإجابة الصحيحة	المفردة
٤/٢	٨٣	١	العام ٢٠١٥	أ
٤/٢	٨٣	١	$٢٢٠٠٠٠٠٠ = ١٠٠٠ * ٢٢٠٠$ ريال عماني	ب
٤/٢	٨٣	١	المجموع = ١٠٣٠٠ المتوسط = $١٠٣٠٠ / ٥ = ٢٠٦٠$ متوسط الربح بالريال العماني = $١٠٠٠ * ٢٠٦٠ =$ ريال عماني = ٢٠٦٠٠٠٠٠	ج
٣ درجات			المجموع	

نهاية نموذج الإجابة