

تم تحميل هذا الملف من موقع المناهج العُمانية



\* للحصول على أوراق عمل لجميع الصفوف وجميع المواد اضغط هنا

<https://almanahj.com/om>

\* للحصول على أوراق عمل لجميع مواد الصف الحادي عشر اضغط هنا

<https://almanahj.com/om/11>

\* للحصول على جميع أوراق الصف الحادي عشر في مادة حضارة اسلامية ولجميع الفصول, اضغط هنا

<https://almanahj.com/om/11history>

\* للحصول على أوراق عمل لجميع مواد الصف الحادي عشر في مادة حضارة اسلامية الخاصة بـ الفصل الأول اضغط هنا

<https://almanahj.com/om/11history1>

\* لتحميل كتب جميع المواد في جميع الفصول للـ الصف الحادي عشر اضغط هنا

<https://almanahj.com/om/grade11>

للتحدث إلى بوت على تلغرام: اضغط هنا

[https://t.me/omcourse\\_bot](https://t.me/omcourse_bot)



امتحان مادة : الحضارة الإسلامية

للف : الحادي عشر

للعام الدراسي ١٤٣٨/١٤٣٩ هـ - ٢٠١٧/٢٠١٨ م

الدور الأول - الفصل الدراسي الأول

- زمن الامتحان : ( ساعتان ) ● عدد صفحات أسئلة الامتحان: ( ٧ ) صفحات.
- الإجابة في الدفتر نفسه .

اسم الطالب	
الصف	المدرسة

التوقيع بالاسم		الدرجة		السؤال
المصحح الثاني	المصحح الأول	بالحروف	بالأرقام	
				١
				٢
				٣
				٤
مراجعة الجمع	جمعه			المجموع
				المجموع الكلي

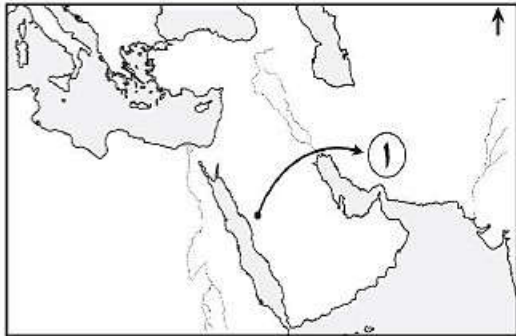
## أجب عن جميع الأسئلة الآتية

السؤال الأول: ضع دائرة حول رمز الإجابة الصحيحة لكل مفردة من المفردات الآتية:

١- صاحب كتاب (سياسة نامه):

- أ- الطبري      ب- نظام الملك السلجوقي      ج- العزيز بالله الفاطمي      د- البلاذري

٢- حامل رسالة الرسول صلى الله عليه وسلم إلى الدولة المشار إليها بالرقم (١) في الخريطة التي أمامك:



أ- حاطب بن أبي بلتعة

ب- عبدالله بن حذافة السهمي

ج- العلاء بن الحضرمي

د- عمرو بن أمية الضمري

٣- المدينة التي يوجد بها جامع السليمانية :

- أ- إسطنبول      ب- بغداد      ج- الفسطاط      د- القيروان

٤- الديوان الذي يدوّن فيه ما يرد إلى بيت المال من أموال:

- أ- الجند      ب- الخراج      ج- الرسائل      د- النفقات

٥- التصنيف الأقرب لدار الحكمة في النظم التربوية للحضارة الإسلامية:

- أ- جامعة      ب- كُتّاب      ج- مدرسة      د- مسجد



٦- اسم المعلم الديني الواضح في الصورة المقابلة:

- أ- مسجد ابن طولون      ب- جامع الأزهر  
ج- مسجد عمرو بن العاص      د- جامع القيروان

٧- الدولة التي أنشئت فيها أقدم دار إسلامية لسك النقود:

- أ- البحرين      ب- العراق      ج- عُمان      د- مصر

٨- المدينة العمانية التي قامت فيها حضارات حفيت في القرن الثالث ق.م:

- أ- البريمي      ب- دبا      ج- صحار      د- نزوى

(٢)

المادة: الحضارة الإسلامية- الصف: الحادي عشر- الدور الأول - الفصل الدراسي الأول - العام الدراسي ٢٠١٧/٢٠١٨م

سُرَارَةُ الرَّسُولِ مُحَمَّدٍ صَلَّى اللَّهُ عَلَيْهِ وَسَلَّمَ  
وَمَلَاوَةُ الرَّسُولِ مُحَمَّدٍ صَلَّى اللَّهُ عَلَيْهِ وَسَلَّمَ

تابع السؤال الأول:

٩- الخط العربي الذي تمثله الصورة المقابلة:

- أ- الديواني  
ب- الكوفي  
ج- المغربي  
د- النبطي

١٠- العام الهجري الذي وقعت فيه أول معركة بحرية في التاريخ الإسلامي:

- أ- ٣١  
ب- ٣٣  
ج- ٣٥  
د- ٣٧

١١- الديانة التي كانت تدين بها الدولة البيزنطية:

- أ- الإسلام  
ب- البوذية  
ج- النصرانية  
د- اليهودية

١٢- الترتيب الزمني الصحيح من الأقدم إلى الأحدث لبناء المدن الإسلامية الآتية:

١	القيروان	د
٢	القاهرة	
٣	الكوفة	
٤	البصرة	

١	القاهرة	ج
٢	البصرة	
٣	القيروان	
٤	الكوفة	

١	القيروان	ب
٢	البصرة	
٣	الكوفة	
٤	القاهرة	

١	البصرة	أ
٢	الكوفة	
٣	القيروان	
٤	القاهرة	

السؤال الثاني:

أولاً: أجب عن الأسئلة الآتية:

أ) عرف ما يلي:

١- الحضارة الهيلينية: .....

.....

٢- تمصير الأمصار: .....

.....

ب) اعط دليلاً واحداً على ما يأتي:

١- تولية العهد لأكثر من واحد في العصر العباسي.

.....

.....

٢- تأثر الحضارة الأموية بمظاهر الحضارات الأخرى في الحكم.

.....

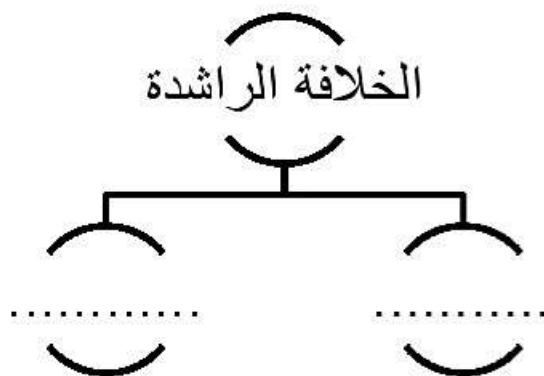
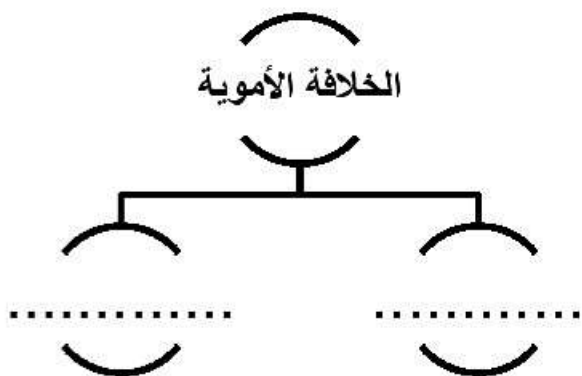
.....

تابع السؤال الثاني:

ثانياً: أجب عن الأسئلة الآتية:

أ) صنف الأعمال في المخطط أدناه حسب العصر الذي تنتمي إليه :

إنشاء الأسطول الإسلامي	فتح الأندلس	تعريب الدواوين	تأسيس التاريخ الهجري
------------------------	-------------	----------------	----------------------



ب) اذكر التحسينات التي أدخلها العرب على البارود.

.....

.....

ج) علل: قيام الحجاج بن يوسف الثقفي ببناء مدينة واسط.

.....

.....

ثالثاً: أجب عن الأسئلة التالية:



أ) (امتزجت التقاليد العربية بالروح الإسلامية في اختيار شخص الخليفة في العهد الراشدي). وضح ذلك .

.....

.....

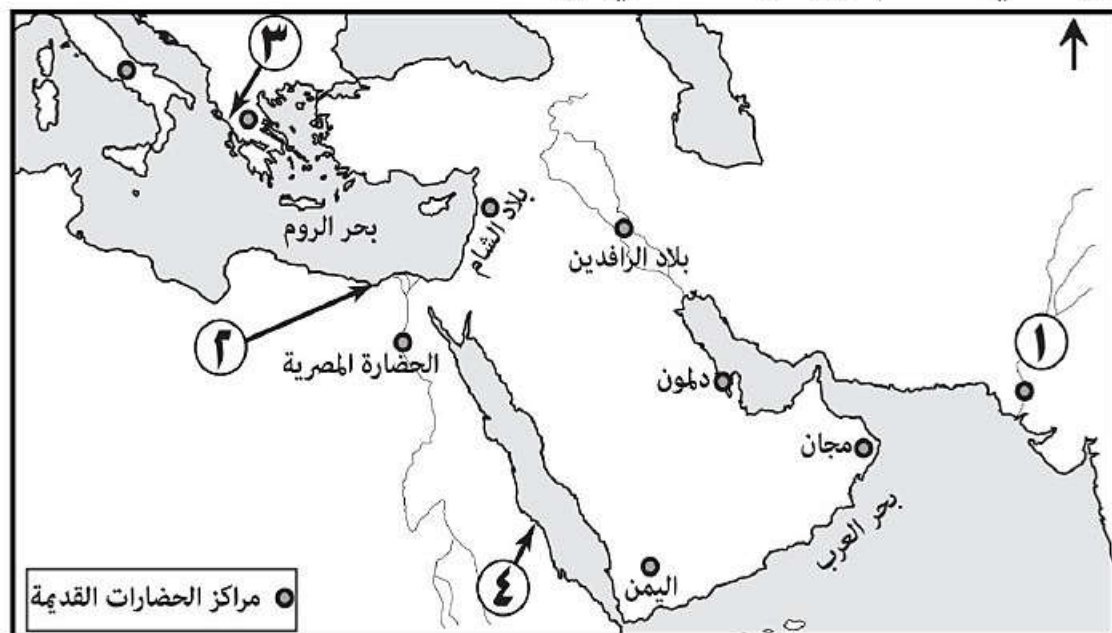
تابع : السؤال الثاني:

(ب) قارن بين الصورتين في الجدول أدناه :

الصورة	وجه المقارنة
	
.....	.....
اسم الآلة	.....
استخداماتها	.....

السؤال الثالث:

أولاً: ادرس الخريطة التي أمامك ثم أجب عن الاسئلة التي تليها:



١- أكتب الأسماء التالية في مكانها الصحيح على الخريطة:

(أ) بحر الخزر.

(ب) روما.

٢- استخرج من الخريطة الرقم الدال على أحد مراكز الإشعاع الديني على سواحل البحر المتوسط. ....

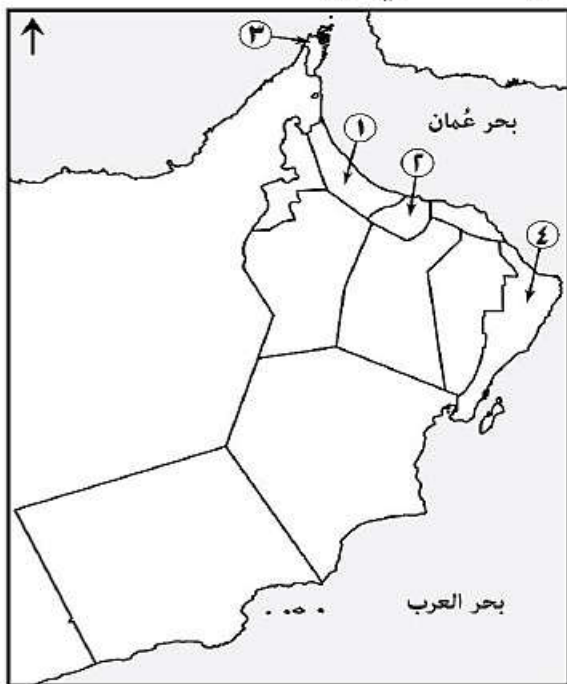
٣- ضع دائرة حول اسم الحضارة المجاورة لحضارة بلاد الشام من جهة الشرق.

٤- القائد المسلم الذي فتح البلاد المشار إليها بالرقم (١).

.....

تابع السؤال الثالث:

ثانياً: ادرس خريطة التقسيم الإداري لمحافظة سلطنة عمان ثم أجب عن الأسئلة التي تليها:



١- ما الرقم الذي يشير إلى المحافظة التي يوجد فيها فلج الميسر؟

٢- ظلل موقع المحافظة التي كانت بها عاصمة عمان في عهد الإمام محمد بن أبي عفان.

٣- استخرج من الخريطة الرقم الدال على المحافظة التي يوجد بها المعلم الأثري الواضح في الصورة أدناه. ....



٤- استخدم الرمز ( Δ ) لتحديد موقع المحافظة التي يوجد بها آثار البليد التاريخية .

ثالثاً: أكمل المخطط الذي يوضح تقسيمات الجيش الخميس وذلك بكتابة كل قسم في موقعه الصحيح.

الميسرة	.....	الميمنة
	.....	
	.....	

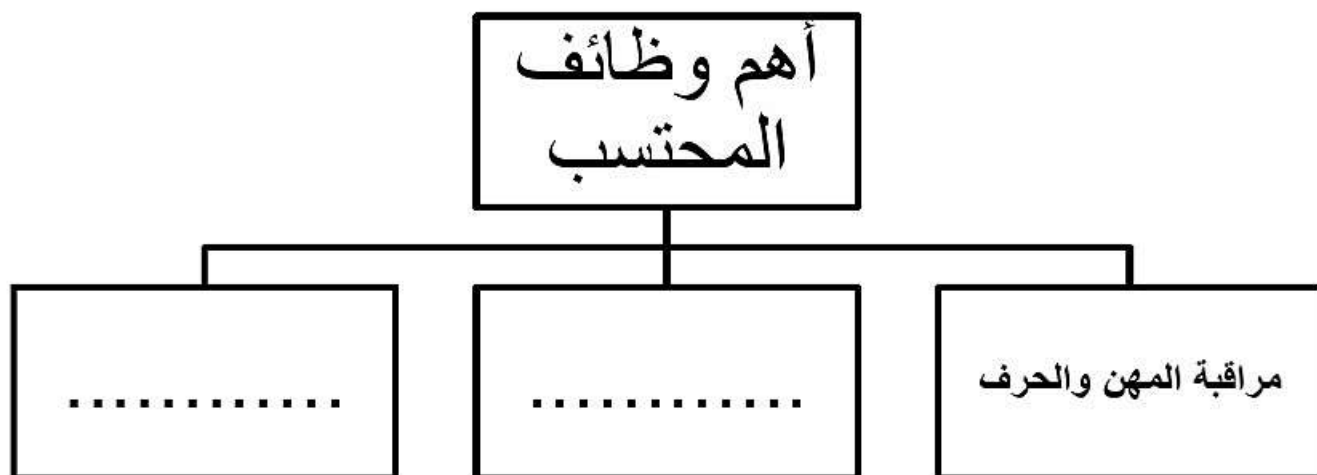
السؤال الرابع:

أولاً: ( الحسبة والمحتسب منصب في الدولة الإسلامية كان صاحبه بمنزلة مراقب التجار، وقد تطورت هذه الوظيفة في

العهدين الأموي والعباسي )

من خلال النص السابق أجب عن الأسئلة التالية :

١- أكمل المخطط التالي :



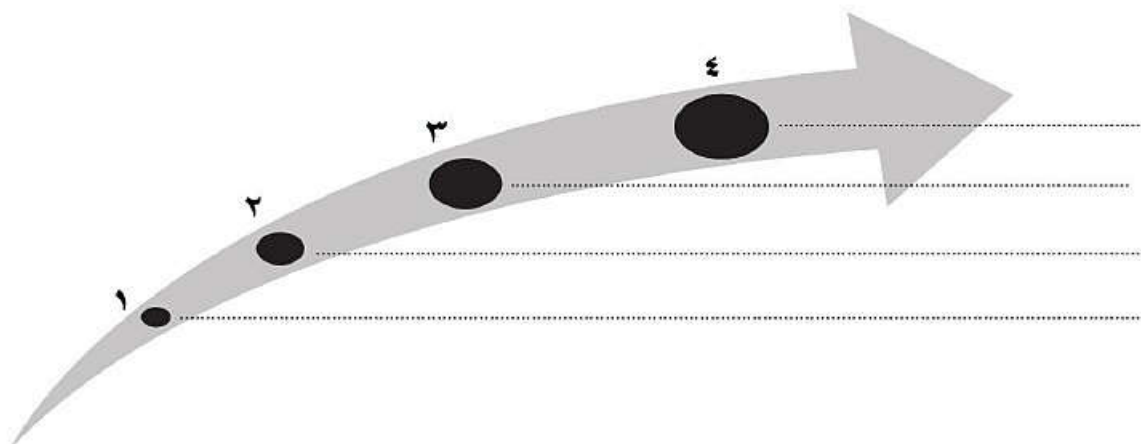
٢- اذكر اسم أشهر محتسب عماني في القرن الثاني الهجري. ....

٣- ما الهيئة الحكومية في سلطنة عمان والتي تقوم مقام وظيفة المحتسب ؟ .....

ثانياً:

١- رتب الأحداث التاريخية التالية من الأقدم إلى الأحدث:

( إنشاء المدرسة النظامية في بغداد / هزيمة مروان بن محمد/ سقوط الدولة الفاطمية / وفاة الجلندي بن مسعود )

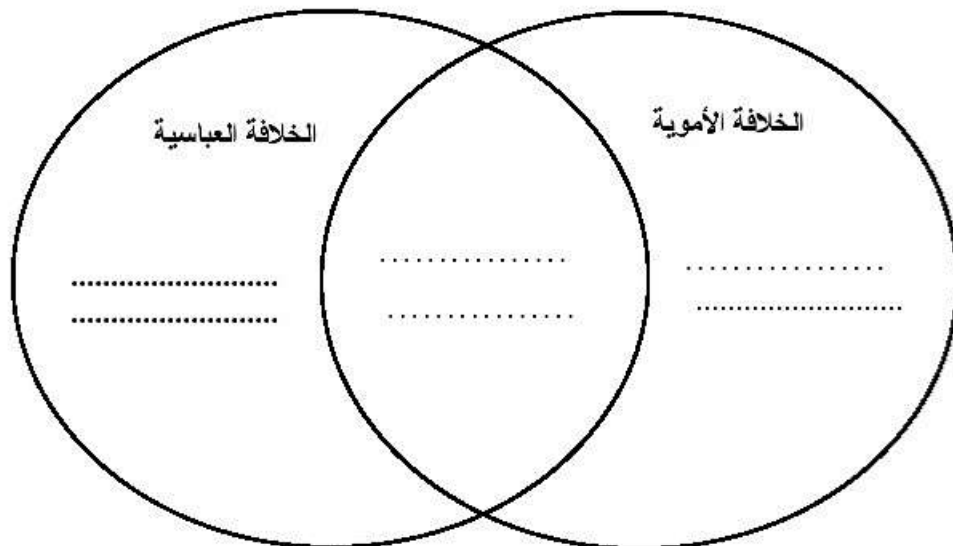




تابع : السؤال الرابع :

٢- اكتب في الشكل التالي أوجه التشابه والاختلاف بين الخلافة الأموية والعباسية:

( وراثية الحكم / العاصمة بغداد / العاصمة دمشق / الإعتماد على العناصر الغير عربية )



ثالثاً:

١- اذكر نتيجة واحدة ترتبت على تقصير مدة بقاء الولاة في ولاياتهم في العهد العباسي.

.....

٢- أكتب نبذة تاريخية عن عائشة بنت راشد الريمية متضمنة النقاط التالية:

( الفترة الزمنية التي عاشت فيها / دورها التاريخي في المجتمع / صفاتها )

.....

.....

.....

.....

انتهت الأسئلة مع تمنياتنا للجميع بالتوفيق والنجاح.



نمذج إجابة امتحان الصف الحادي عشر  
للعام الدراسي ١٤٣٨/١٤٣٩ هـ - ٢٠١٧/٢٠١٨ م  
الدور الأول - الفصل الدراسي الأول

المادة: الحضارة الإسلامية الدرجة الكلية: ( ٦٠ ) درجة.  
تنبيهه: نمذج الإجابة في ( ٤ ) صفحات.

أولاً: إجابة السؤال الأول:

المفردة	البديل الصحيح	الإجابة	الدرجة	الصفحة
١	ب	نظام الملك السلجوقي	٢	٦٤
٢	ب	عبدالله بن حذافة السهمي	٢	١٤
٣	أ	إسطنبول	٢	٢٩
٤	ب	الخراج	٢	٤٣
٥	أ	جامعة	٢	٧٥
٦	أ	مسجد ابن طولون	٢	٦٢
٧	ج	عمان	٢	٧٧
٨	أ	البريمي	٢	٥٤
٩	أ	الديواني	٢	٦٧
١٠	ج	٣٥	٢	٥١
١١	ج	النصرانية	٢	٢٤
١٢	أ	١ البصرة ١٢هـ	٢	٥٩-٥٦
		٢ الكوفة ١٧هـ		
		٣ القيروان ٥٠هـ		
		٤ القاهرة ٣٥٨هـ		
المجموع		٢٤ درجة		




تابع نموذج إجابة امتحان الصف الحادي عشر  
للعام الدراسي ١٤٣٨/١٤٣٩ هـ - ٢٠١٧/٢٠١٨ م  
الدور الأول - الفصل الدراسي الأول  
المادة : الحضارة الإسلامية

إجابة السؤال الثاني:

الجزئية	المفردة	الإجابة الصحيحة	الدرجة	الصفحة					
لا	أ	١- هي حضارة ذات أصول إغريقية وشرقية متداخلة / حضارة نتجت من امتزاج الحضارة الإغريقية مع الثقافات الشرقية السائدة في ذلك الوقت. ٢- جعل بعض المدن مركزاً إدارياً لما حولها/ أحد الجوانب (النظم) الإدارية التي قام بها الخليفة عمر بن الخطاب.	١	٢٣					
	ب	١- هارون الرشيد عهد بولاية العهد إلى أبنائه الثلاثة الأمين والمأمون والقاسم. ٢- اتخذ معاوية سريراً للملك/ أقام الشرطة لحراسته/ اتخذ المقصورة في المسجد خوفاً على نفسه/ وفي عهد عبد الملك بن مروان كان يجلس على كرسي الخلافة وعن يمينه الأمراء وعن يساره كبار رجال الدولة ويقف أمامه من يريد المشول بين يديه. <u>يكتفى بدليل واحد فقط</u>	١	٤١					
ثانياً	أ		٢ لكل جزئية نصف درجة ولا يشترط الترتيب	٢٨-٢٩					
	ب	أول من نقى البارود باستخدام نترات البوتاسيوم ليكون صالحاً للاستعمال الحربي/ عملوا على تنقية البارود باستخدام نترات البوتاسيم ليكون صالحاً للاستعمال الحربي.	١	٤٩					
ثالثاً	ج	يعود سبب بنائها إلى أن الحجاج كره الإقامة في البصرة والكوفة بسبب الفتن والثورات التي كانت بهما.	١	٥٨					
	أ	فكرة الانتخاب والتجربة وكبر السن مأخوذة من التقاليد العربية وفكرة الشورى وإستناد الخليفة إلى موافقة الناس عليه عامة، لا إلى أسرته وقبيلته كانت فكرة إسلامية.	٢	٣٧					
ب	ب		٢ لكل نصف درجة ويكتفى باستخدام واحد.	٥٠-٤٩					
		<table border="1"> <tr> <td>الصورة</td> <td>وجه المقارنة</td> <td>اسم الآلة</td> </tr> <tr> <td>الدبابة/الدبابة القديمة</td> <td>المنجنيق</td> <td>استخداماتها</td> </tr> <tr> <td>لدفع النار وتركب على عجلات ليصعد الجند إلى أعلىها للنزول فوق الأسوار.</td> <td>لرمي الحجارة لهدم الأسوار.</td> <td></td> </tr> </table>			الصورة	وجه المقارنة	اسم الآلة	الدبابة/الدبابة القديمة	المنجنيق
الصورة	وجه المقارنة	اسم الآلة							
الدبابة/الدبابة القديمة	المنجنيق	استخداماتها							
لدفع النار وتركب على عجلات ليصعد الجند إلى أعلىها للنزول فوق الأسوار.	لرمي الحجارة لهدم الأسوار.								

تابع نموذج إجابة امتحان الصف الحادي عشر  
للعام الدراسي ١٤٣٨/١٤٣٩ هـ - ٢٠١٧/٢٠١٨ م  
الدور الأول - الفصل الدراسي الأول  
المادة : الحضارة الإسلامية

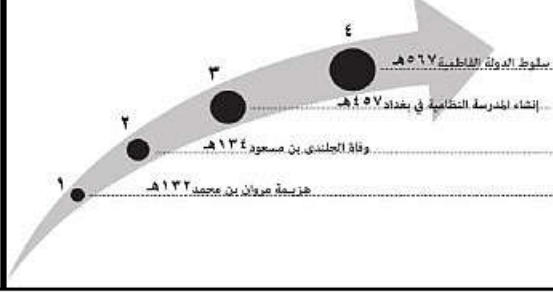
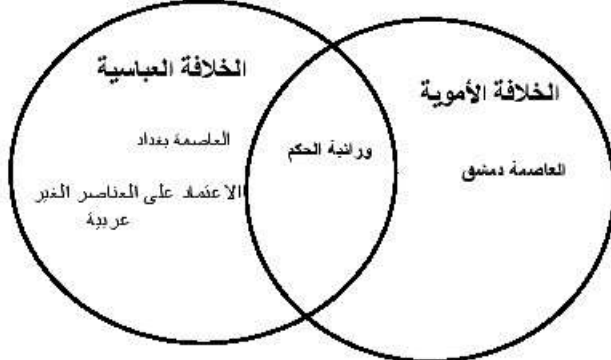
إجابة السؤال الثالث:

الدرجة	المفردة	الإجابة الصحيحة	الصفحة
٢٣	درجتان كل جزئية درجة		٢٣
٢٥	١	٢	٢٥
٢٣	١	يضع الطالب دائرة حول اسم حضارة بلاد الرافدين كما في الخريطة أعلاه	٢٣
٢٤	١	محمد بن القاسم الثقفي / محمد الثقفي / محمد بن القاسم	٢٤
٦٢	١	(٢) (تعتبر اجابة الطالب خاطئة اذا كتب اسم المحافظة)	٦٢
٥٥	١		٥٥
٥٥	١	يظل الطالب محافظة الداخلية كما في الخريطة المقابلة	٥٥
٥٥	١	(١) (تعتبر اجابة الطالب خاطئة اذا كتب اسم المحافظة)	٥٥
٦٣	١	يضع الطالب الرمز على الخريطة في محافظة ظفار كما في الخريطة أعلاه	٦٣
٥١	٣		٥١

(٤)

تابع نموذج إجابة امتحان الصف الحادي عشر  
للعام الدراسي ١٤٣٨/١٤٣٩ هـ - ٢٠١٧/٢٠١٨ م  
الدور الأول - الفصل الدراسي الأول  
المادة : الحضارة الإسلامية

إجابة السؤال الرابع:

الصفحة	الدرجة	الإجابة الصحيحة	المفردة	الجزئية
٤٥	٢ لكل جزئية درجة	وظائف المحتسب: - مراقبة المهن والحرف. - الإشراف على نظافة الشوارع والأرقة. - مراقبة الأخلاق العامة. - مراقبة الصادرات. - تفتيش الخانات (الفنادق العامة). <u>يكتفى باثنين فقط</u>	١	أولا
٤٥	١	شبيب بن عطية	٢	
٤٥	١	هيئة حماية المستهلك	٣	
٥٩ ٧٤ ٤٥ ٣٧	درجتان لكل جزئية نصف درجة		١	
٣٨-٣٧	درجتان لكل جزئية نصف درجة		٢	ثانيا
٤١	٢	فقدان الاستقرار / وكثرة الاضطرابات في الأقاليم. <u>يكتفى بنتيجة واحدة</u>	١	
٧٤	٢	الفترة الزمنية: (عاشت في عصر البعارة في أواخر القرن العاشر، وبداية القرن الحادي عشر للهجرة) دورها التاريخي: (من أبرز العائلات العمانيات التي قمن بالإفتاء وإلقاء الدروس والمشاركة في الحياة السياسية) من صفاتها: (التقوى والورع والزهد، وحب العلم)	٢	ثالثا

نهاية نموذج الإجابة



امتحان مادة : الحضارة الإسلامية

للف : الحادي عشر

للعام الدراسي ١٤٣٨/١٤٣٩ هـ - ٢٠١٧/٢٠١٨ م

الدور الثاني - الفصل الدراسي الأول

● عدد صفحات أسئلة الامتحان: ( ٥ ) صفحات.

● زمن الامتحان : ( ساعتان )

● الإجابة في الدفتر نفسه.

		اسم الطالب
الصف		المدرسة

التوقيع بالاسم		الدرجة		السؤال
المصحح الثاني	المصحح الأول	بالحروف	بالأرقام	
				١
				٢
				٣
				٤
مراجعة الجمع	جمعه			المجموع
				المجموع الكلي

## أجب عن جميع الأسئلة الآتية

السؤال الأول: ضع دائرة حول رمز الإجابة الصحيحة لكل مفردة من المفردات الآتية:

١- الجدول الذي يوضح جميع مكونات مجتمع المدينة المنورة بعد هجرة الرسول صلى الله عليه وسلم:

الأنصار	د	المهاجرون	ج	الأنصار	ب	الأوس	أ
المهاجرون		الأوس		اليهود		اليهود	
الخزرج		الخزرج		المهاجرون		المهاجرون	

٢- العام الميلادي الذي أنشئت فيه لجان التوفيق والمصالحة بالسلطنة:

- أ- ٢٠٠٤      ب- ٢٠٠٥      ج- ٢٠٠٦      د- ٢٠٠٧

٣- الاسم القديم للبحر المشار إليه بالرقم (١) في الخريطة:



أ- الخزر

ب- الروم

ج- العرب

د- القلزم

٤- صاحبة فكرة التمرير الميداني في المعارك الإسلامية:

- أ- ربيعة الأسلمية      ب- سمراء الأسيدي      ج- الشفاء المخزومية      د- عائشة الريامية



٥- تمثل الصورة التي أمامك إحدى الآلات العسكرية القديمة:

أ- الترس      ب- الدبابة

ج- الدرع      د- المنجنيق

٦- والي عمان في عهد الخليفة عمر بن الخطاب:

أ- أبو زيد الأنصاري      ب- شبيب بن عطية

ج- عثمان ابن أبي العاص      د- عمرو بن العاص

٧- الخلافة التي ظهر فيها مسمى (وزير) لأول مرة:

- أ- الراشدة      ب- الأموية      ج- العباسية      د- الفاطمية

(٢)

المادة: الحضارة الإسلامية-الصف : الحادي عشر- الدور الثاني - الفصل الدراسي الأول - العام الدراسي ٢٠١٧/٢٠١٨م

تابع السؤال الأول:

٨- مدينة عربية معنى اسمها الأرض الحصباء:

أ- البصرة      ب- بغداد      ج- الكوفة      د- واسط

٩- كلمة فارسية معرّبة، ومعناها السجل أو الدفتر:

أ- البريد      ب- الخراج      ج- الديوان      د- الوزارة

١٠- العام الهجري الذي سَكَّ فيه الخليفة الأموي عبدالملك بن مروان العملة الإسلامية بدمشق:

أ- ٧٢      ب- ٧٤      ج- ٧٦      د- ٧٨

١١- من اشهر مؤلفات أبو الحسن الماوردي:

أ- الأحكام السلطانية      ب- أنساب الأشراف      ج- تاريخ الأمم والملوك      د- سير الملوك

١٢- ظهر ديوان الخراج في العصر:

أ- الراشدي      ب- الأموي      ج- العباسي      د- الفاطمي

السؤال الثاني:

أولاً: أجب عن الأسئلة الآتية:

أ- عرّف ما يلي:

١- الخلافة: .....

.....

٢- الحسبة: .....

.....

ب- اذكر دليلاً واحداً على ضعف نفوذ الخلفاء في العصر العباسي الثاني.

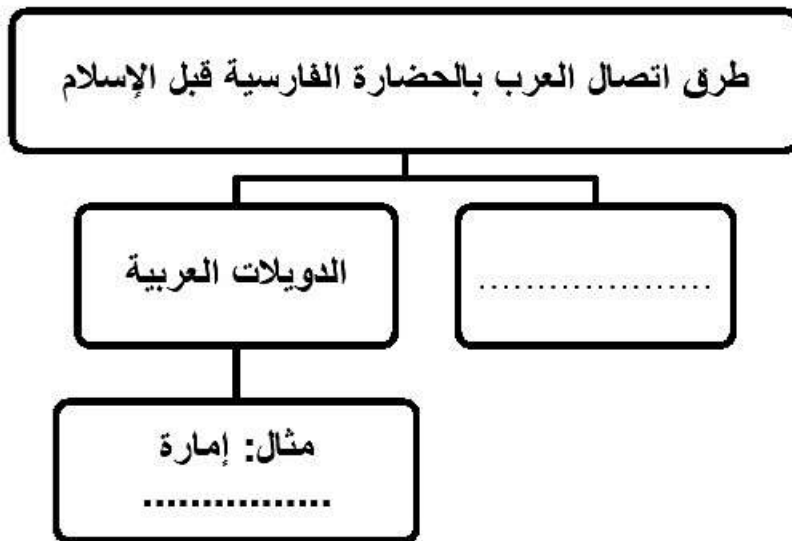
.....

ج- علل اختيار صحار مركزاً إدارياً لما حولها في عهد الخليفة عمر بن الخطاب.

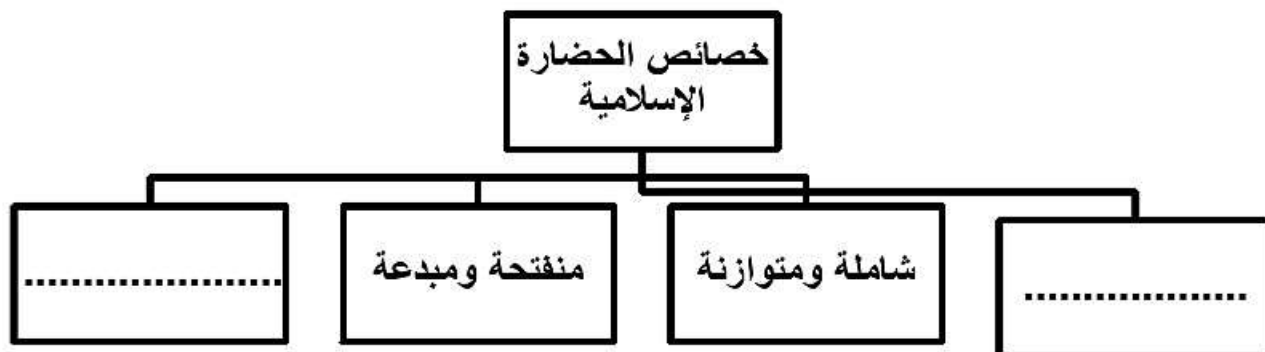
.....





تابع: السؤال الثاني:  
ثانياً: أجب عن الأسئلة التالية:  
أ- أكمل المخطط الآتي:



ب- عدد خصائص الحضارة الإسلامية في المخطط الآتي:

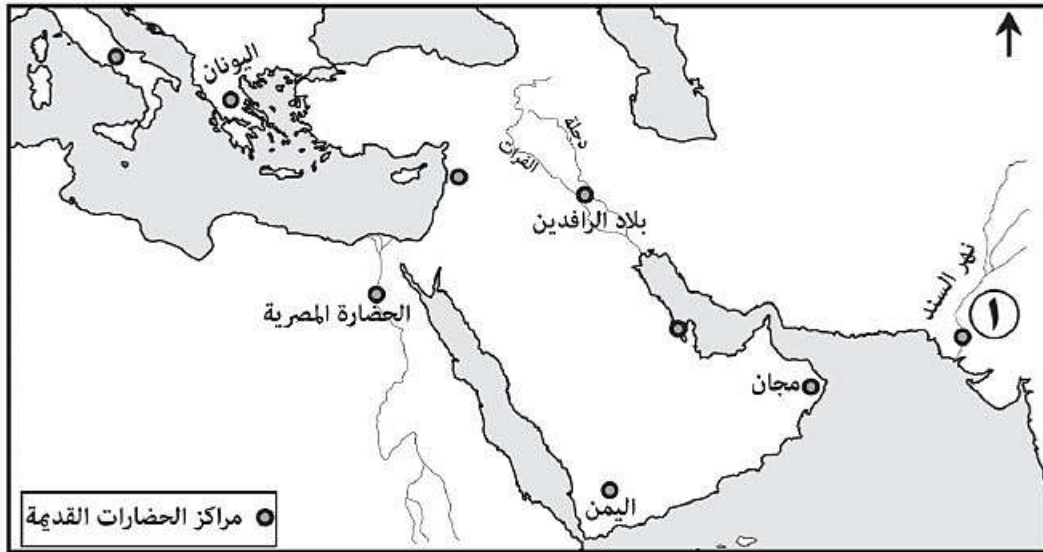


ج- ثالثاً : اكتب أسفل كل معلم أثري اسم المدينة التي يوجد بها:

		المعلم الأثري
.....	.....	المدينة

السؤال الثالث:

أولاً: انظر الى الخريطة التي أمامك ثم أجب عن الاسئلة التي تليها:



١- بالاستعانة بمفتاح الخريطة اكتب أسماء الحضارات الآتية في مكانها الصحيح:

( دلمون / بلاد الشام / روما )

٢- صف كيف اتصل المسلمون بالحضارة المشار إليها بالرقم ( ١ ) ؟

٣- ضع دائرة في الخريطة حول اسم النهر الذي قامت على ضفافه مدينة بغداد.

٤- اكتب اسم البحر الذي وقعت فيه معركة ذات الصواري في مكانه الصحيح على الخريطة.

ثانياً: أمامك خريطة التقسيم الإداري لمحافظة سلطنة عمان ادرسها جيداً ثم أجب عن الأسئلة الآتية:



أ- انقل الرقم الدال على المحافظة التي يوجد بها ما يلي:

١- أشهر دُور صناعة السفن قديماً. ....

٢- فلج الميسر. ....

٣- المدينة التي ضمت قديماً حضارة حفيت.....

ب) اكتب أسماء المعالم التاريخية التالية في المحافظات التي

توجد بها على الخريطة:

١- حصن جبرين.

٢- آثار البليد التاريخية.

ج) ضع دائرة حول المحافظة التي توجد بها المدينة التي

وصفها الطبري بأنها المصّر والسوق العظمى.





نمؤذج إجابة امتحان الصف الحادي عشر  
للعام الدراسي ١٤٣٨/١٤٣٩ هـ - ٢٠١٧/٢٠١٨ م  
الدور الثاني - الفصل الدراسي الأول

المادة: الحضارة الإسلامية  
الدرجة الكلية: (٦٠) درجة.  
تنبيهه: نمؤذج الإجابة في (٤) صفحات.

أولاً: إجابة السؤال الموضوعي:  
إجابة السؤال الأول:

المفردة	البديل الصحيح	الإجابة	الدرجة	الصفحة
١	ب	الأنصار اليهود المهاجرون	٢	١٤
٢	ج	٢٠٠٦	٢	١٦
٣	د	القلزم	٢	٢٣
٤	أ	رفيدة الأسلمية	٢	٤٨
٥	د	المنجنيق	٢	٥٠
٦	ج	عثمان بن أبي العاص	٢	٥٢
٧	ج	العباسية	٢	٣٦
٨	أ	البصرة	٢	٥٦
٩	ج	الديوان	٢	٤٣
١٠	ب	٧٤	٢	٧٧
١١	أ	الأحكام السلطانية	٢	٣٥
١٢	أ	الراشدي	٢	٤٣
		المجموع	٢٤	

( ٢ )

تابع نموذج إجابة امتحان الصف الحادي عشر  
للعام الدراسي ١٤٣٨/١٤٣٩ هـ - ٢٠١٧/٢٠١٨ م  
الدور الثاني - الفصل الدراسي الأول  
المادة : الحضارة الإسلامية

ثانيا: إجابة الأسئلة المقالية:

إجابة السؤال الثاني		الدرجة الكلية: ( ١٢ ) درجة	
الجزئية	المفردة	الإجابة الصحيحة	الدرجة
أولا	أ	١- الخلافة: شكل الحكم الذي اتفق عليه المسلمون بعد وفاة الرسول صلى الله عليه وسلم واختيار من يتولى النظر في مصالح المسلمين، وتطبيق الشرع الإسلامي / الخلافة شكل من أشكال الحكم الإسلامي ظهر بعد وفاة الرسول صلى الله عليه وسلم. ٢- الحسبة: منصب في الدولة الإسلامية كان صاحبه بمنزلة مراقب التجار، وأصحاب الحرف، يمنعهم من الغش ويراقب الجودة في المصنوعات، واستعمال المكييل والموازين وغير ذلك.	١
	ب	تسلط على الخلفاء عدد من القادة العرب والأترك والفرس/ تعدد الخلفاء في العهود العباسية المتأخرة/ ظهور خليفة عباسي في بغداد وفاطمي في القاهرة وأموي في قرطبة. يكتبى بدليل واحد فقط	٢
	ج	لما تميزت به صحار من مكانة مرموقة ونشاط اقتصادي كبير ونهضة عمرانية واضحة المعالم.	٢
ثانيا	أ	طرق اتصال العرب بالعنصر الفارسية قبل الإسلام التجارة الدول العربية مثال: إمارة العميرة	درجتان لكل جزئية درجة ٢٤
	ب	خصائص الحضارة الإسلامية إيمانية أخلاقية شاملة ومتوازنة منفتحة ومبدعة ذات طابع إنساني	درجتان لكل جزئية درجة ٢٦
ثالثا	المعالم الأثري المدينة	 تمبكتو	درجتان لكل جزئية درجة ٧٢ - ٥٥
		 غرناطة	

(٣)

تابع نموذج إجابة امتحان الصف الحادي عشر  
للعام الدراسي ١٤٣٨/١٤٣٩ هـ - ٢٠١٧/٢٠١٨ م  
الدور الثاني - الفصل الدراسي الأول  
المادة : الحضارة الإسلامية

تابع ثانيا: إجابة الأسئلة المقالية:

الدرجة الكلية: ( ١٢ ) درجة

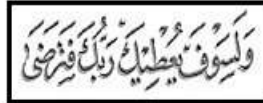

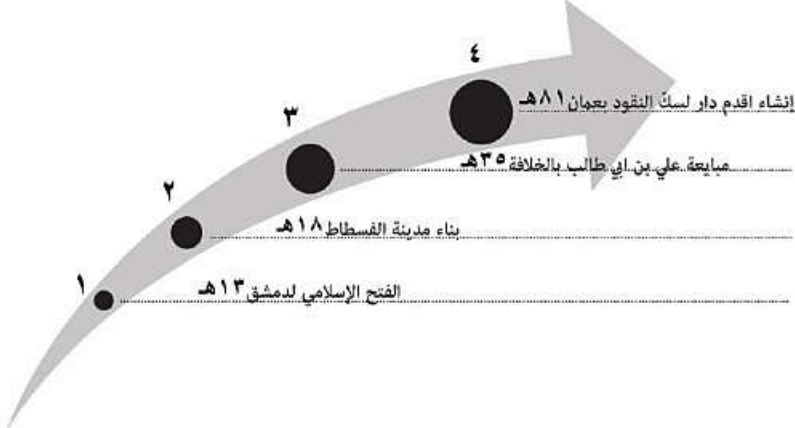
إجابة السؤال الثالث

الجزئية	المفردة	الإجابة الصحيحة	الدرجة	الصفحة
أولا	١-		ثلاث درجات لكل جزئية درجة	٢٣
	٢-	عن طريق فتح أطراف اقليم السند على يد محمد بن القاسم الثقفي ٩٤هـ / عن طريق الفتوحات الإسلامية/ النشاط التجاري/ الدعاة المسلمون.	١	٢٤
	٣-	يضع الطالب دائرة حول اسم نهر دجلة كما في الخريطة أعلاه.	١	٥٨
	٤-	يكتب الطالب بحر الروم أو المتوسط أو البحر الأبيض المتوسط في مكانه الصحيح في الخريطة كما في الخريطة أعلاه.	١	٢٣
	أ	١- (٢) ٢- (١) ٣- (٣)	١	٥٢ ٦٢ ٥٤
ثانيا	ب	١- كتابة حصن جبرين في موقع محافظة الداخلية ٢- كتابة آثار البليد التاريخية في موقع محافظة ظفار.	١	٦٤ ٦٣
	ج	يضع الطالب دائرة حول محافظة مسندم.	١	٥٤

(٤)

تابع نموذج إجابة امتحان الصف الحادي عشر  
للعام الدراسي ١٤٣٨/١٤٣٩ هـ - ٢٠١٧/٢٠١٨ م  
الدور الثاني - الفصل الدراسي الأول  
المادة : الحضارة الإسلامية

تابع ثانيا: إجابة الأسئلة المقالية:

إجابة السؤال الرابع		الدرجة الكلية: ( ١٢ ) درجة		
الجزئية	المفردة	الإجابة الصحيحة	الدرجة	
أولا	١	الجيش الخميس / الخميس	١	
	٢	( ع )	١	
	٣	المؤخرة / ساقه الجيش	١	
	٤	يونانية	١	
ثانيا	الخط أوجه المقارنة نوع الخط الاستخدامات	 النسخ	أربع لكل جزئية درجة	
		 التلث		
		في المراسلات والكتب المطبوعة ونسخ القرآن الكريم		
ثالثا		كتابة: عناوين المخطوطات / الفقرات الصفيرة على الأفرجة / واجهات المساجد / واجهات القصور	أربع درجات لكل جزئية درجة	
				٧٧
				٣٥ ٥٧ ٥٤

نهاية نموذج الإجابة