

تم تحميل هذا الملف من موقع المناهج العُمانية



\*للحصول على أوراق عمل لجميع الصفوف وجميع المواد اضغط هنا

<https://almanahj.com/om>

\* للحصول على أوراق عمل لجميع مواد الصف الحادي عشر اضغط هنا

<https://almanahj.com/om/11>

\* للحصول على جميع أوراق الصف الحادي عشر في مادة هذا وطني ولجميع الفصول, اضغط هنا

<https://almanahj.com/om/11country>

\* للحصول على أوراق عمل لجميع مواد الصف الحادي عشر في مادة هذا وطني الخاصة بـ الفصل الأول اضغط هنا

<https://almanahj.com/om/11country1>

\* لتحميل كتب جميع المواد في جميع الفصول للـ الصف الحادي عشر اضغط هنا

<https://almanahj.com/om/grade11>

للتحدث إلى بوت على تلغرام: اضغط هنا

[https://t.me/omcourse\\_bot](https://t.me/omcourse_bot)

مديرية التربية والتعليم بمحافظة جنوب الباطنة

دائرة التقويم التربوي "قسم مراقبة وتقويم التحصيل الدراسي"

امتحان تدريبي الصف الحادي عشر للعام الدراسي ١٤٤٠/١٤٤١ هـ — ٢٠١٩ / ٢٠٢٠ م

الفصل الدراسي الأول - المادة: الدراسات الاجتماعية " هذا وطني "

**السؤال الأول: ضع دائرة حول رمز الإجابة الصحيحة لكل مفردة من المفردات الآتية:**

١- العام الميلادي الذي أعلنت فيه منطقة جبل سمحان محمية طبيعية:

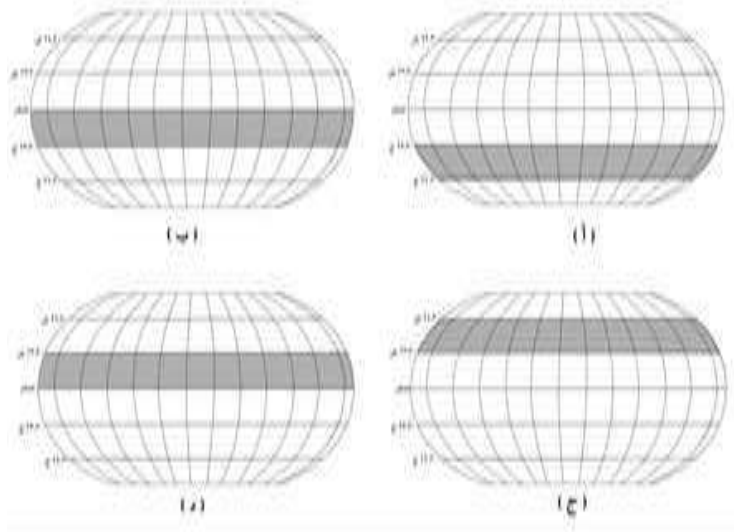
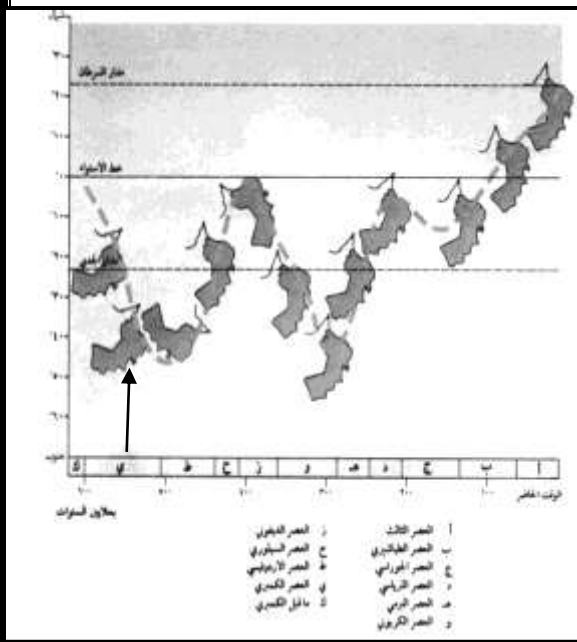
د- ١٩٩٨

ج- ١٩٩٧

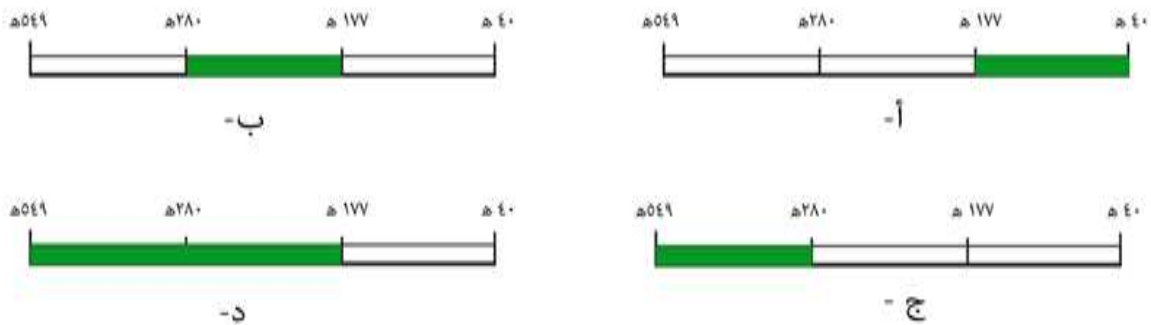
ب- ١٩٩٦

أ- ١٩٩٥

٢- الشكل الذي يوضح المنطقة الحرارية التي كانت تقع عليها عمان في منتصف عصر الكمبري حسب المسطرة الجيولوجية المقابلة:

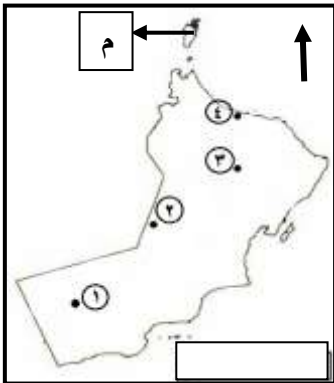


٣- المسطرة الزمنية التي تمثل فترة حكم الإمامة الإباضية الثانية في عمان:



**تابع السؤال الأول: ضع دائرة حول رمز الإجابة الصحيحة لكل مفردة من المفردات الآتية:**

**( الإجابة على المفردتين (٤) و (٥) من خلال خريطة سلطنة عمان )**



(٤) الرقم الذي يشير إلى موقع سبخة أم السميم:

أ- ١

ب- ٢

د- ٤

ج- ٣

(٥) الاسم الإداري القديم الذي اطلق على المنطقة المشار إليها بالرمز (م) في العصور الإسلامية:

أ- السر

ب- الجوف

ج- الصير

د- الجو

(٦) أعلى قمة جبلية في سلطنة عمان:

أ- سمحان

ب- شمس

ج- القمر

د- القرا

(٧) من المشكلات البشرية التي تواجه الغطاء النباتي الطبيعي:

أ- تملح التربة

ب- قلة الأمطار

ج- الرعي الجائر

د- انجراف التربة

(٨) الإقليم الذي ينمو فيه نبات الرمرام:

أ- السبخات الساحلية

ب- المرتفعات الجبلية

ج- الصحاري

د- الواحات

(٩) المرتكز الذي يقوم عليه المجتمع العماني وأكد عليه النظام الأساسي للدولة في الشكل المقابل:

ب- القانون

أ- الوحدة الوطنية

د- اللغة العربية

ج- العادات والتقاليد



**تابع السؤال الأول: ضع دائرة حول رمز الإجابة الصحيحة لكل مفردة من المفردات الآتية:**

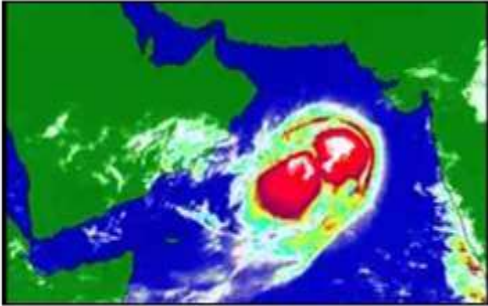
١٠) المدرسة التي ظهرت في عمان في القرن الرابع الهجري:

- أ- محمد بن كمال      ب- راشد بن عزيز الخصيبي      ج- محمد بن علي باعلوي      د- ابن بركة

١١) القبيلة العمانية التي مثلت سدس الجيش الذي ساهم في فتح مصر:

- أ- الحداني      ب- المهرة      ج- الكندة      د- اليعمدي

١٢) الفصل الذي تؤثر فيه الحالة الجوية الواضحة في الشكل المقابل على السواحل الجنوبية والشرقية للسلطنة:




أ- الشتاء      ب- الربيع

ج- الصيف      د- الخريف

١٣) مؤسسة الثقافة العمانية الأهلية التي تعنى بتنقيح المخطوطات العمانية القديمة ونشرها:

- أ- النادي العلمي      ب- مركز ذاكرة عمان      ج- النادي الثقافي      د- المنتدى الأدبي



١٤) تُصنف المعرفة للمؤلف الواضح في الشكل المقابل ضمن:

أ- الشريعة الإسلامية      ب- التاريخ

ج- العلوم البحرية      د- الفلك

١٥) القرن الهجري الذي أُرخ فيه محراب جامع سعال بنزوى:

- أ- الخامس      ب- السادس      ج- السابع      د- الثامن

تابع: الامتحان التدريبي للصف الحادي عشر للعام الدراسي ٢٠١٩ / ٢٠٢٠ م المادة " هذا وطني "

**تابع السؤال الأول: ضع دائرة حول رمز الإجابة الصحيحة لكل مفردة من المفردات الآتية:**

- ١٦) الإمام العماني الذي حرر جزيرة سقطرى من احتلال النصارى في القرن الثالث الهجري:
- أ- عزان بن تميم      ب-سلطان بن سيف      ج-عزان بن الهزير      د-الصلت بن مالك
- ١٧) يصنف التمسك بالعادات والتقاليد المشتركة ضمن مقومات التفاعل:
- أ- الديني      ب- الثقافي      ج- الاقتصادي      د- الجغرافي
- ١٨) الولاية العمانية التي يوجد فيها مكتبة مدرسة آل الرحيل:
- أ- بهلاء      ب- سمائل      ج- صحار      د- الرستاق

**السؤال الثاني: أجب عن جميع الأسئلة الآتية:**

**أ: عرف المصطلحات الآتية:**

- ١- السنجار: .....
- ٢- الوقف: .....

**ب: ١- اذكر دوراً واحداً قامت به كلا من الشخصيات النسائية العمانية في الجدول الآتي:**

|                        |                               |                                |
|------------------------|-------------------------------|--------------------------------|
| أ-الملكة شمساء الخليلي | ب-الفقيهة عائشة راشد الريامية | ج- الفقيهة عائشة عيسى الحارثية |
|------------------------|-------------------------------|--------------------------------|

**٢- فرق بين الأدوار الحضارية التي قامت بها السفن العمانية الآتية في الجدول:**

| اسم السفينة | الدور الحضاري الذي قامت به |
|-------------|----------------------------|
| أ- البوصي   | .....                      |
| ب- الشذاة   | .....                      |



**٣- استخرج النقوش الدالة على اسم (ازد) من خلال الشكل المقابل.**



يتبع/٥

**تابع: السؤال الثاني**

ج: ١ - ادرس الشاهدان الآثريان ثم قارن بينهما حسب الجدول الآتي:

|                                                                                   |                                                                                    |                                     |
|-----------------------------------------------------------------------------------|------------------------------------------------------------------------------------|-------------------------------------|
|  |  | المقارنة                            |
| ب                                                                                 | أ                                                                                  |                                     |
|                                                                                   |                                                                                    | اسم المحافظة التي يقع فيها          |
|                                                                                   |                                                                                    | تاريخ إدراجها لقائمة التراث العالمي |

٢- ما دلالة إدراج كلا من:

أ- صورة صاحب الجلالة في غلاف عدد ٢٠١٦ م من مجلة المجتمع والدبلوماسية .

.....

ب- شخصية نور الدين السالمي ضمن برنامج الذكرى المئوية للأحداث والشخصيات المؤثرة عالميا لليونسكو عام ٢٠١٥م.

.....

**السؤال الثالث:- أجب عن جميع الأسئلة الآتية**

أ- فسر كلا من:-

١- كان لهجرة بعض القبائل العربية إلى عمان أثراً كبيراً على الحياة الاقتصادية.

.....

٢- الأهمية البيئية لأفيوليت سمائل.

.....

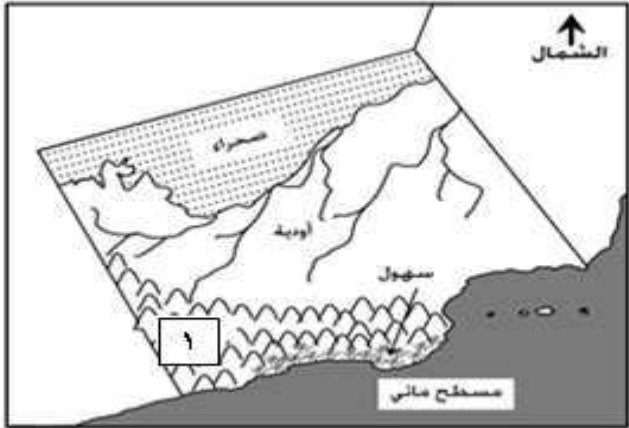
٣- إعلان جزر الديمانيات محمية طبيعية.

.....

يتبع/٦

تابع السؤال الثالث:

ب: أمامك خريطة لإحدى المحافظات العمانية ادرسها جيدا، ثم اجب عن الأسئلة التي تليها:



١- سم كلاً من الظواهر التضاريسية الواضحة

في الخريطة:

أ- الجزر القريبة من الساحل .....

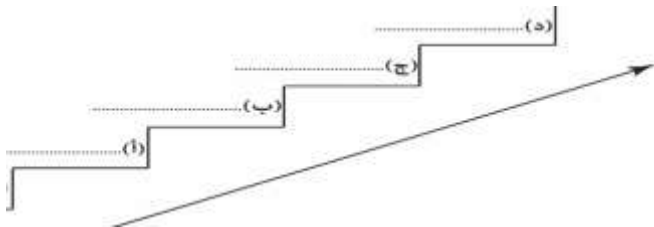
ب- السهل المشار إليه بالسهم .....

ج- كتلة جبلية في الجزء المشار إليه بالرقم (١)

.....

٢- اذكر اسم نبات طبيعي ينمو في منطقة صحاري المحافظة .....

ج- ١- رتب الأحداث التاريخية التالية من الأقدم إلى الأحدث بكتابتها على السلم التاريخي الآتي.



( ) المدرسة السلطانية الأولى

( ) تأليف موسوعة بيان الشرع.

( ) مكتبة حصن الشموخ

( ) طرد البويهيين من عمان .

٢- انسب المنجزات الحضارية الآتية إلى المدن العمانية التي تقع بها.

| المنجز الحضاري           | المدينة التي يقع بها |
|--------------------------|----------------------|
| أ- مسجد المضمار          |                      |
| ب- دار الأوبرا السلطانية |                      |

**السؤال الرابع: أجب عن جميع الأسئلة التالية:**

أ:- ادرس صور فنون العمارة العُمانية أمامك، ثم أجب عن الأسئلة التي تليها:



( ب )



( أ )

١- رمز الشكل الذي يظهر فيه فن بناء البومة.....


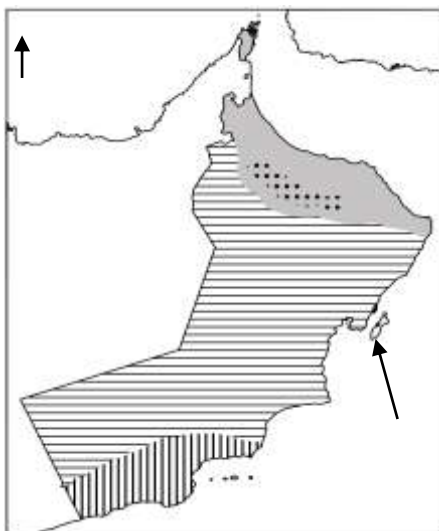
٢- اذكر اثنين من مواد البناء المستخدمة في بناء الشكل (ب).....

٣- سم الفن المعماري المرتبط بأشكال بناء النوافذ والأبواب.....

٤- ما أهمية تصميم المتاريس عند بناء الشكل (ب).....

ب- ادرس خريطة سلطنة عمان المقابلة ثم اجب عن الأسئلة الآتية:

١- اكتب دلالة رموز الأقاليم المناخية حسب موقعها في الخريطة



٢- ما أهمية الجزيرة المشار إليها بالسهم في الخريطة؟

.....

٣- ضع رمز ( \* ) على بداية ونهاية امتداد سهل الباطنة.



## السؤال الخامس: أجب عن جميع الأسئلة الآتية:

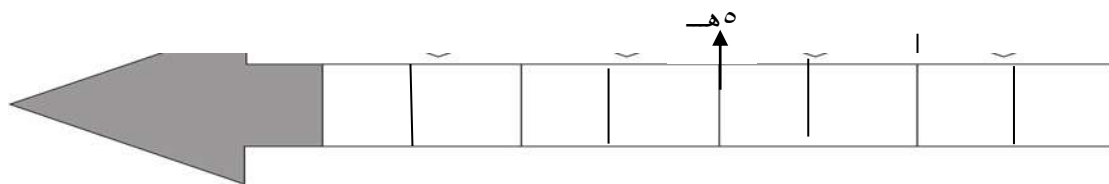
أ: ادرس النص الآتي ثم اجب عن الأسئلة التي تليه:

" أقدم دار اسلامية لضرب النقود في شبه الجزيرة العربية قد انشئت بعمان. فأقدم قطعة نقود معدنية وهي درهم فضي يعود لعهد الخليفة الأموي عبدالملك بن مروان، تحمل اسم عمان، و النقود المعدنية التي سكت بعمان في الفترة من القرن الثالث إلى القرن السادس الهجري مثلت مصدرا هاما من مصادر التاريخ العماني، فظهرت العديد من العملات النقدية" (مجلة نزوى)

١- ما أهمية المسكوكات النقدية القديمة التي عثر عليها في عمان.

.....  
.....

٢- ظل الفترة الزمنية التي سك فيها العديد من العملات النقدية القديمة في عمان على المسطرة الزمنية



ب- انسب الكتب الآتية لمؤلفيها من العلماء العمانيين.

| المؤلف | الكتاب                           |
|--------|----------------------------------|
|        | ١- كشف الغمة الجامع لأخبار الأمة |
|        | ٢- الجماهرة                      |
|        | ٣- الدلائل في اللوازم والرسائل   |
|        | ٤- فاكهة ابن السبيل              |

ج- اذكر دليل واحد على كلا من:

١- استمرار دور المدارس التقليدية التي عرفت بأسماء العلماء إلى وقتنا الحاضر

.....

٢- ظهور أعمال تطوعية جديدة في المجتمع العماني.

.....

انتهت الأسئلة مع الدعاء للجميع بالتوفيق والنجاح

نموذج إجابة إمتحان مادة: هذا وطني الصف الحادي عشر  
الدرجة الكلية: ( ٦٠ ) درجة.

أولاً: إجابة السؤال الموضوعي:

| المفردة | البديل الصحيح | الإجابة                                                                            | الدرجة | الصفحة |
|---------|---------------|------------------------------------------------------------------------------------|--------|--------|
| ١       | ج             | ١٩٩٧                                                                               | ١      | ٢٥     |
| ٢       | أ             |  | ١      | ٢٠     |
| ٣       | ب             |  | ١      | ٥٢     |
| ٤       | ب             | ٢                                                                                  | ١      | ٢٩-٢٣  |
| ٥       | ج             | الصير                                                                              | ١      | ٥٧     |
| ٦       | ب             | شمس                                                                                | ١      | ٢٤     |
| ٧       | ج             | الرعي الجائر                                                                       | ١      | ٤٢     |
| ٨       | أ             | السبخات الساحلية                                                                   | ١      | ٤١     |
| ٩       | ب             | القانون                                                                            | ١      | ٦٦     |
| ١٠      | د             | ابن بركة                                                                           | ١      | ٧٤     |
| ١١      | ب             | المهرة                                                                             | ١      | ٥١     |
| ١٢      | ج             | الصيف                                                                              | ١      | ٣٧     |
| ١٣      | ب             | مركز ذاكرة عمان                                                                    | ١      | ٧٨     |

يتبع/٢

## تابع إجابة الأسئلة الموضوعية:

| الصفحة | الدرجة | الإجابة الصحيحة   | المفردة | الجزئية |
|--------|--------|-------------------|---------|---------|
| ٨١     | ١      | الشريعة الإسلامية | أ       | ١٤      |
| ٨٥     | ١      | السابع            | ج       | ١٥      |
| ٥٤     | ١      | الصلت بن مالك     | د       | ١٦      |
| ٧٠     | ١      | الثقافي           | ب       | ١٧      |
| ٧٧     | ١      | صحار              | ج       | ١٨      |
|        | ١٨     | المجموع           |         |         |

يتبع / ٣

ثانياً: إجابة الأسئلة المقالية:  
السؤال الثاني

الدرجة الكلية : ١٢

| الصفحة | الدرجة         | الإجابة الصحيحة                                                                                                                                                                                                                                                                                                                                                             | المفردة                                                                                                       | الجزئية |
|--------|----------------|-----------------------------------------------------------------------------------------------------------------------------------------------------------------------------------------------------------------------------------------------------------------------------------------------------------------------------------------------------------------------------|---------------------------------------------------------------------------------------------------------------|---------|
| ٥٥     | ١              | قوافل السفن التجارية العمانية التي كانت تبخر قديماً في أساطيل كقوافل الإبل في الصحراء.                                                                                                                                                                                                                                                                                      | ١                                                                                                             | أ       |
| ٧٧     | ١              | تخصيص شيء من ممتلكات الخير الميسورين لإنفاق عوائدها في أوجه الخير المخصص لها.                                                                                                                                                                                                                                                                                               | ٢                                                                                                             |         |
| ٤٤     | ١              | حكمت مجان منذ ٤٠٠ سنة قبل الميلاد/ ابرمت اتفاقية مع الملك سرجون الأكادي لصد الأطماع الخارجية المحيطة بعمان                                                                                                                                                                                                                                                                  | ١-أ                                                                                                           | ب       |
|        | ١              | أنشأت مدرسة في بهلا/ كانت معلمة وفقهية ومربية/ تخرج على يديها عدد من العلماء/ أنشأت مكتبة وجعلتها وفقاً. ( يكتفى بذكر دور واحد )                                                                                                                                                                                                                                            | ١-ب                                                                                                           |         |
|        | ٨٧             | ١                                                                                                                                                                                                                                                                                                                                                                           | فقيهة وأديبة/ كتبت قصائد دينية (في رحلة الحج، المرأة في ميزان الإسلام) / قصائد في السلوك / ألقت كتاب من أيامي |         |
| ٥٤     | ١              | استخدمت للقضاء على قرصنة الميد                                                                                                                                                                                                                                                                                                                                              | ١-٢                                                                                                           |         |
|        | ١              | استخدمت لتحرير جزيرة سقطرى من النصارى                                                                                                                                                                                                                                                                                                                                       | ٢-ب                                                                                                           |         |
| ٤٨     | ١              | ط                                                                                                                                                                                                                                                                                                                                                                           | ٣                                                                                                             |         |
| ٤٧     | ٢ لكل نصف درجة | أ- المحافظة جنوب الشرقية ، تاريخ الإدراج: ٢٠١٨م.<br>ب- المحافظة : الظاهرة، تاريخ الإدراج: ١٩٨٨م                                                                                                                                                                                                                                                                             | ١                                                                                                             | ج       |
|        | ١              | أ-دور صاحب الجلالة في زرع التآلف والمحبة والانسجام بينه وبين أبناء شعبه/ وجود أنظمة سياسية واجتماعية في عمان ومثلت محل فخر وإعجاب / شخصية جلاله السلطان ودوره في نشر السلم على مستوى جميع الأصعدة.<br>ب-دور نور الدين السالمي الفقهى والتأليف في الموسوعات يعد من العلماء الموسوعيين/ براعته في عدد من فنون العلم مثل العلوم الشرعية واللغوية والتاريخية/ تأليفه ٢٢ كتاباً/ | ٢                                                                                                             |         |
| ٨٣-٦٨  | ١              |                                                                                                                                                                                                                                                                                                                                                                             |                                                                                                               |         |

تابع إجابة الأسئلة المقالية:  
السؤال الثالث

الدرجة: ١٠

| الصفحة         | الدرجة               | الإجابة الصحيحة                                                                                                                                                   | المفردة | الجزئية |
|----------------|----------------------|-------------------------------------------------------------------------------------------------------------------------------------------------------------------|---------|---------|
| ٤٨             | ١                    | كان لدخول القبائل على عمان اثر في إنعاش النشاط الاقتصادي إذ قامت بشق الأفلاج / شقت فلج الملكي في ولاية إزكي / اثرت في ازدهار النشاط الزراعي                       | ١       | أ       |
| ٢١             | ١                    | أفيوليت سمائل يمكنها امتصاص غاز ثاني أكسيد الكربون المسبب لظاهرة الاحتباس الحراري/ وفرت معلومات حول العمليات الجيولوجية التي حدثت ومازالت تحدث في أعماق المحيطات. | ٢       |         |
| ٣٢             | ١                    | لأنها تعد مركزا مهما لتكاثر أنواع من الطيور المهاجرة والمستوطنة /وجود العديد من المرجان/ وأسماك الشعاب المرجانية ( كل التفسيرات السابقة يكفي بذكر واحد)           | ٣       |         |
| ٢٣<br>٢٥<br>٢٦ | ٣<br>لكل درجة        | - أجزر الحلانيات<br>- ب-سهل صلالة/ جربيب<br>- ج- جبال القمر                                                                                                       | ١       | ب       |
| ٤٠             | درجة                 | اللبن                                                                                                                                                             | ٢       |         |
| ٥٣<br>٧٥<br>٧٧ | ٢<br>لكل نصف<br>درجة | (أ) طرد البويهيين من عمان.<br>(ب) تأليف موسوعة بيان الشرع.<br>(ج) المدرسة السلطانية الأولى.<br>(د) مكتبة حصن الشموخ.                                              | ١       | ج       |
| ٧٤<br>٧٩       | ١<br>لكل نصف<br>درجة | أ- سمائل<br>ب-مسقط                                                                                                                                                | ٢       |         |

تابع إجابة الأسئلة المقالية:  
السؤال الرابع

الدرجة: ١٠

| الصفحة | الدرجة     | الإجابة الصحيحة                                                                                                                                        | المفردة | الجزئية |
|--------|------------|--------------------------------------------------------------------------------------------------------------------------------------------------------|---------|---------|
| ٨٥     | ١          | ب                                                                                                                                                      | ١       | أ       |
| ٨٤     | ٢ لكل درجة | الجص / الصاروج/ الطوب المصنوع من الطين/<br>الأخشاب مثل جذوع النخل<br>(يكتفى باثنين)                                                                    | ٢       |         |
| ٨٥     | ١          | المشربيات / القمريات                                                                                                                                   | ٣       |         |
| ٨٥     | ١          | - حواجز توضع على الأبراج أو الأسوار<br>تستخدم كفتحات لإطلاق النار أثناء عملية<br>الدفاع عن القلعة أو الحصن                                             | ١       |         |
| ٣٤     | ٣ لكل درجة | مناخ البحر المتوسط<br>المناخ الصحراوي الجاف<br>المناخ الموسمي                                                                                          | ١       | ب       |
| ٣٢     | ١          | أهمية جزيرة مصيرة تعد من اكبر الجزر المأهولة<br>بالسكان في عمان ومناسبة للاستقرار<br>البشري/توجد بها العيون المائية/ شواطئها مناسبة<br>لتعشيش السلاحف. | ٢       |         |
| ٢٥     | ١          | يضع نجمة بداية سهل الباطنة من خطمة ملاحه إلى<br>رأس الحمراء في محافظة مسقط                                                                             | ٣       |         |

تابع إجابة الأسئلة المقالية:  
السؤال الخامس

الدرجة: ١٠

| الصفحة   | الدرجة     | الإجابة الصحيحة                                                                                                                                                     | المفردة | الجزئية |
|----------|------------|---------------------------------------------------------------------------------------------------------------------------------------------------------------------|---------|---------|
| ٨٥       | ١          | مثلت مصدرا هاما من مصادر التاريخ العماني / عكست تقدم النشاط الاقتصادي في عمان في تلك الفترة/ بينت أهمية عمان ومانتها في شبه الجزيرة العربية/ النشاط التجاري في عمان | ١       |         |
| ٨٤       | ٢          |  <p>( يتم التظليل من القرن ٣ هجري إلى ٦ هجري )</p>                               | ٢       | أ       |
| ٨٥       | ١          | - حواجز توضع على الأبراج أو الأسوار تستخدم كفتحات لإطلاق النار أثناء عملية الدفاع عن القلعة أو الحصن                                                                | ١       |         |
| ٨١<br>٨٢ | ٤ لكل درجة | ١- سرحان بن سعيد الأزكوي<br>٢- أبو بكر محمد بن الحسن الأزدي<br>٣- درويش بن جمعة المحروقي<br>٤- راشد بن عميرة الرستاقى                                               |         | ب       |
| ٧٥       | ١          | - مدرسة حمود بن حميد الصوافي في سناو                                                                                                                                | ١       | ج       |
| ٧٠       | ١          | - التبرع بالدم / تنظيف الحقائق<br>إذا ذكر الطالب أي عمل تطوعي ظهر حديثا تعتبر إجابة صحيحة                                                                           | ٢       | ج       |