

تم تحميل هذا الملف من موقع المناهج العمانية



تجميع أسئلة اختبارات نهائية لدرس التجارة الدولية

[موقع المناهج](#) ⇨ [المناهج العمانية](#) ⇨ [الصف الحادي عشر](#) ⇨ [جغرافيا](#) ⇨ [الفصل الثاني](#) ⇨ [الملف](#)

تاريخ إضافة الملف على موقع المناهج: 09:22:20 2024-06-01

إعداد: لخيار سعيد العمري

التواصل الاجتماعي بحسب الصف الحادي عشر



اضغط هنا للحصول على جميع روابط "الصف الحادي عشر"

روابط مواد الصف الحادي عشر على تلغرام

[الرياضيات](#)

[اللغة الانجليزية](#)

[اللغة العربية](#)

[التربية الاسلامية](#)

المزيد من الملفات بحسب الصف الحادي عشر والمادة جغرافيا في الفصل الثاني

[تجميع أسئلة اختبارات نهائية لدرس السياحة المفهوم والأهمية](#)

1

[تجميع أسئلة اختبارات نهائية لدرس أنواع السياحة](#)

2

[تجميع أسئلة اختبارات نهائية لدرس النظام السياحي مخرجات](#)

3

[امتحان تحريبي نهائي في محافظة ظفار مع نموذج الإجابة](#)

4

[ملخص شرح درس الاتصالات](#)

5

تجميع اختبارات نهاية في مادة الجغرافيا الاقتصادية للصف الحادي عشر الدرس الثالث التجارة الدولية
الأستاذة: لخيار سعيد العمري مدرسة خديجة بنت خويلد للتعليم الأساسي (٥-١٢) محافظة ظفار

السؤال الأول: ضع دائرة حول رمز الإجابة الصحيحة لكل مفردة من المفردات الآتية:-

١-الولاية العمانية التي يوجد بها المنطقة الاقتصادية في محافظة الوسطى:- أ-محوت ب-الدمج ج-هيماء د-الجازر

٢-الاسم المختصر للاتفاقية العامة للتعرفة الجمركية والتجارة: أ-WTO ب-GATT ج-EC د-BOT

٣- جميع ما يلي من مميزات التجارة الإلكترونية ما عدا:-

أ-انخفاض التكاليف ب-توفير الوقت والجهد ج-حرية الاختيار د-ارتفاع درجة الأمان

٤-جميع ما يلي من عيوب التجارة الإلكترونية ما عدا:-

أ-ارتفاع التكاليف ب-ضعف القوانين ج-انتشار عمليات اختراق الحواسيب د-قلة الشعور بالأمان والحماية

٥- انضمت سلطنة عمان إلى منظمة التجارة العالمية:- أ-١٩٩٨ م ب-٢٠٠٠ م ج-٢٠٠٢ م د-٢٠٠٤ م

٦- يبلغ الميزان التجاري لدولة ما بلغت قيمة وارداتها عام ٢٠١٠ (٤٥٠٠٠٠٠٠ دولار) وقيمة صادراتها (٣٠٠٠٠٠٠٠ دولار):-

أ-١٠٠٠٠٠٠٠ ب-١٥٠٠٠٠٠ ج-٢٠٠٠٠٠٠ د-٢٥٠٠٠٠٠

٧- العامل المؤثر في التجارة الدولية الذي يمثله الشكل المقابل:

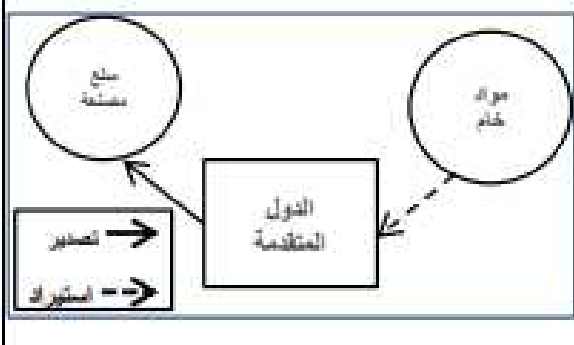
أ-البيئة الطبيعية ب-السكان ج-التطور الاقتصادي د-النقل والاتصالات

٨- العام الميلادي الذي تم التوقيع فيه لإنشاء منظمة التجارة العالمية (الجات):-

أ-١٩٣٧ م ب-١٩٤٧ م ج-١٩٥٧ م د-١٩٦٧ م

٩-اتفقت دول مجلس التعاون الخليجي عام ٢٠٠٣ م بفرض تعرفه جمركية موحدة على السلع الأجنبية المستوردة من خارج دول مجلس التعاون

بنسبة:- أ-٣٪ ب-٤٪ ج-٥٪ د-٦٪



السؤال الثاني :-

١- عرف كلاً من : التجارة الدولية - الميزان التجاري - التعرفة الجمركية - الجات

٢- اذكر النتائج الاقتصادية التي ترتبت على

أ- انضمام سلطنة عمان إلى منظمة التجارة العالمية عام ٢٠٠٠ م

ب- الاتفاقيات التجارية الثنائية والإقليمية والدولية

٣- عدد اختصاصات منظمة التجارة العالمية (WTO)

٤- عدد العوامل المؤثرة في التجارة الدولية

٥- وضح أهمية الاتفاقيات التجارية بين دول العالم

٦- وضح كيف تؤثر العوامل الآتية على التجارة الدولية :- أ- البيئة الطبيعية ب- السكان

٧- (قام محمد بشراء جهاز لاب توب عن طريق الإنترنت) في ضوء العبارة السابقة :-

أ- ما نوع التجارة الواردة في النص

ب- وضح طريق الدفع

٨- أمامك جدول يمثل إجمالي الصادرات والواردات السلعية لدولة الإمارات ودولة الكويت لعام ٢٠١٣ م ادرسه جيداً ثم أجب عن الأسئلة الآتية :-

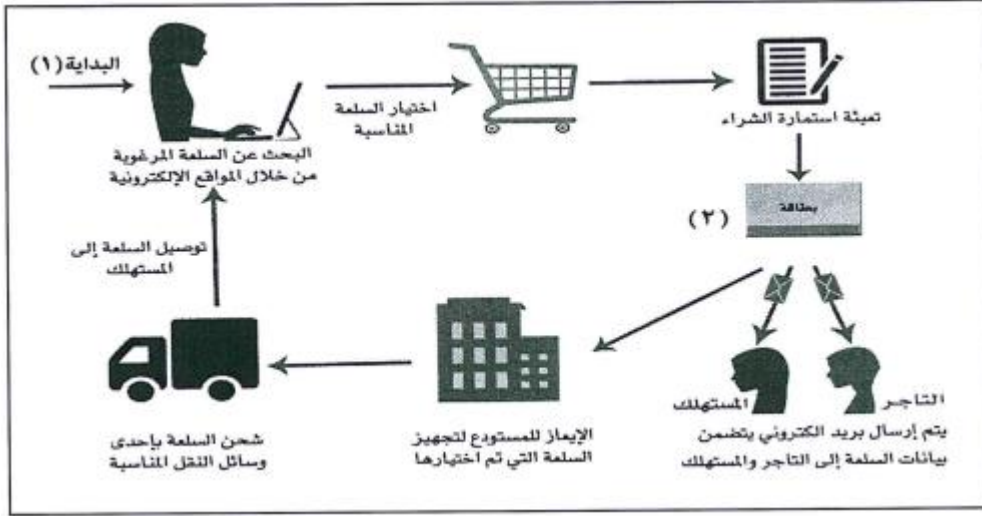
الدولة	الصادرات (مليار دولار)	الواردات (مليار دولار)	الميزان التجاري (مليار دولار)
الإمارات	٢٢٦	١٨٦
الكويت	١١٤	٢٩

أ- احسب الميزان التجاري لدولة الكويت

ب- الدولة التي حققت أكبر فائض في الميزان التجاري

ضع علامة (√) على الإجابة الصحيحة الإمارات الكويت

٩- انظر إلى الشكل الذي أمامك والذي يوضح مراحل التجارة الإلكترونية باستخدام الحاسب الآلي ثم اكتب ما يأتي :-



أ- ما الإجراءات الآمنة الواجب اتخاذها قبل البحث عن السلعة المرغوبة في الرقم (١) لضمان وصول السلعة

ب- نوع البطاقة المصرفية التي تستخدم لتسوق عبر الإنترنت في الرقم (٢)

١٠- الشكل يوضح أحد العوامل المؤثرة في التجارة

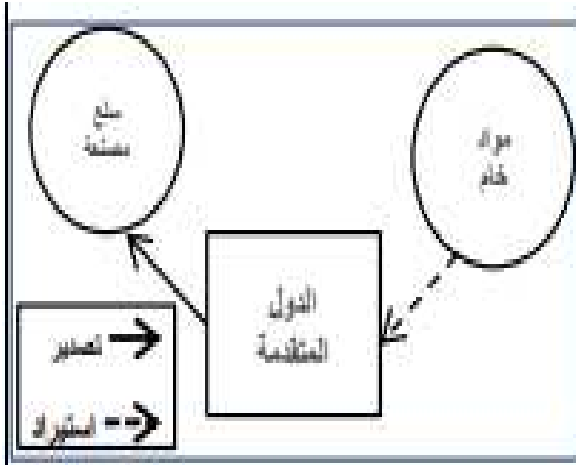
الدولية .. في ضوء ذلك أجب عن الأسئلة التالية :-

أ- ما المقصود بالتجارة الدولية

ب- ما العامل المؤثر في التجارة الدولية

ج- اشترى محمد جهاز لوحي من موقع Ephone في ضوء العبارة ما نوع التجارة

التي استخدمها في عملية الشراء



١١- الشكل يوضح الميزان التجاري لإحدى الدول ادرسه جيداً ثم أجب عما يلي :-

أ- ما المقصود بالميزان التجاري

ب- من خلال الشكل المقابل كم يبلغ الميزان التجاري للدولة

ج- أيهما تفضل في الميزان التجاري

السالب الموجب (اختر)

فسر اجابتك.....

