

تم تحميل هذا الملف من موقع المناهج العُمانية



\*للحصول على أوراق عمل لجميع الصفوف وجميع المواد اضغط هنا

<https://almanahj.com/om>

\* للحصول على أوراق عمل لجميع مواد الصف الحادي عشر اضغط هنا

<https://almanahj.com/om/11>

\* للحصول على جميع أوراق الصف الحادي عشر في مادة اجتماعيات ولجميع الفصول, اضغط هنا

<https://almanahj.com/om/11social>

\* للحصول على أوراق عمل لجميع مواد الصف الحادي عشر في مادة اجتماعيات الخاصة بـ الفصل الثاني اضغط هنا

<https://almanahj.com/om./11social2>

\* لتحميل كتب جميع المواد في جميع الفصول للـ الصف الحادي عشر اضغط هنا

<https://almanahj.com/om./grade11>

للتحدث إلى بوت المناهج العمانية على تلغرام: اضغط هنا

[https://t.me/omcourse\\_bot](https://t.me/omcourse_bot)



امتحان الصف الحادي عشر  
للعام الدراسي ١٤٣٧/١٤٣٨ هـ - ٢٠١٦/٢٠١٧ م  
الدور الثاني - الفصل الدراسي الثاني

- المادة: الجغرافيا الاقتصادية.
- زمن الإجابة: ساعتان.
- عدد صفحات أسئلة الامتحان: (٩) صفحات.
- الإجابة في الورقة نفسها.

|      |  |            |
|------|--|------------|
|      |  | اسم الطالب |
| الصف |  | المدرسة    |

| التوقيع بالاسم |              | الدرجة  |          | السؤال        |
|----------------|--------------|---------|----------|---------------|
| المصحح الثاني  | المصحح الأول | بالحروف | بالأرقام |               |
|                |              |         |          | ١             |
|                |              |         |          | ٢             |
|                |              |         |          | ٣             |
|                |              |         |          | ٤             |
| مراجعة الجمع   | جمعه         |         |          | المجموع       |
|                |              |         |          | المجموع الكلي |

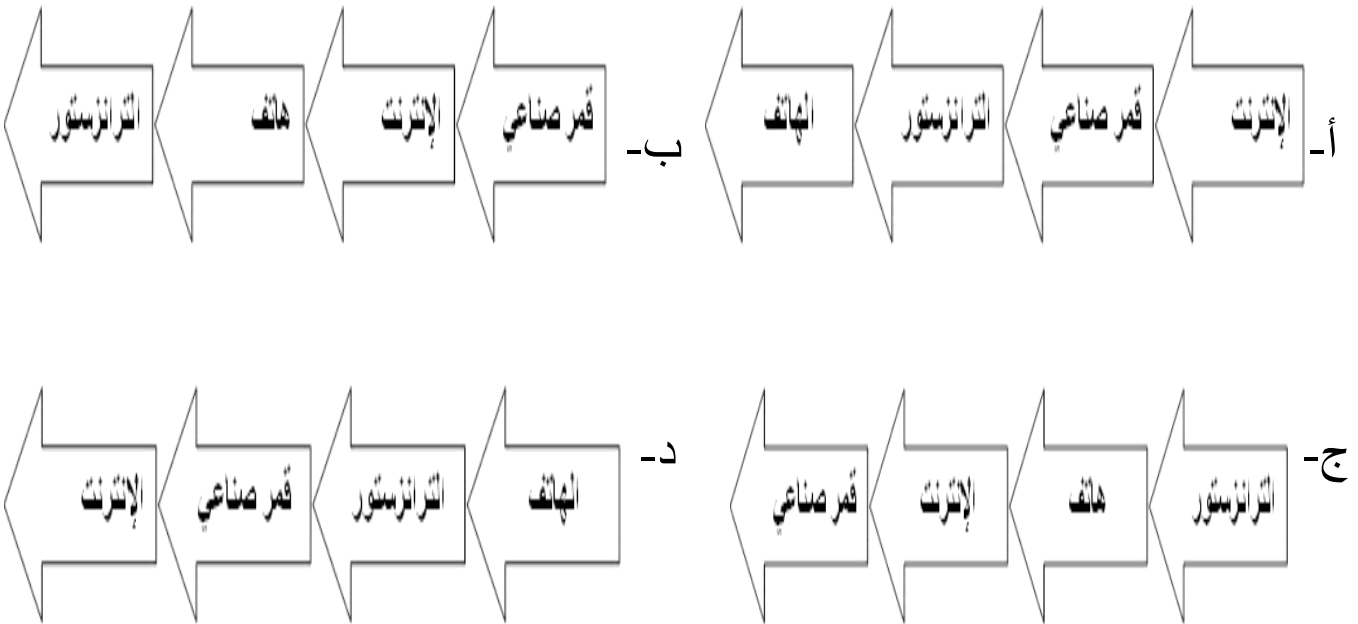
## أجب عن جميع الأسئلة الآتية

السؤال الأول: ضع دائرة حول رمز الإجابة الصحيحة لكل مفردة من المفردات الآتية:

- ١- التقنية الحديثة المستخدمة في تخطيط شبكات الطرق وإجراء دراسات تحليلية عنها:
- أ- GIS.  
ب- GPS.  
ج- RS.  
د- Google Earth.

- ٢- يربط خط راس الرجاء الصالح بين:
- أ- أوروبا وآسيا.  
ب- أمريكا وأستراليا.  
ج- أمريكا وآسيا.  
د- أوروبا وأستراليا.

٣- الترتيب الصحيح لتطور الاختراعات في مجال الاتصالات:



٤- انضمت سلطنة عمان إلى منظمة التجارة العالمية:

- أ- ١٩٩٨ م.  
ب- ٢٠٠٠ م.  
ج- ٢٠٠٢ م.  
د- ٢٠٠٤ م.

يتبع/٢

### تابع السؤال الأول:

٥- " القيمة النقدية النهائية لجميع السلع والخدمات المنتجة في اقتصاد ما خلال فترة

زمنية محددة" يقصد به:

أ- التعرفة الجمركية.

ب- الناتج المحلي الإجمالي.

ج- ميزان المدفوعات.

د- الميزان التجاري.

٦- الرقم الذي يشير إلى الدولة التي تعد من أوائل الدول المطبقة لنظام الحسابات

السياحية:



أ- ١.

ب- ٢.

ج- ٣.

د- ٤.

٧- نوع السياحة في الصورة التي أمامك:



أ- ثقافية.

ب- رياضية.

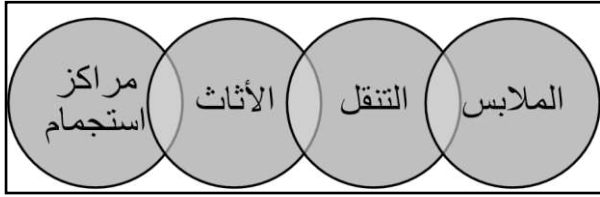
ج- علاجية.

د- جيولوجية.

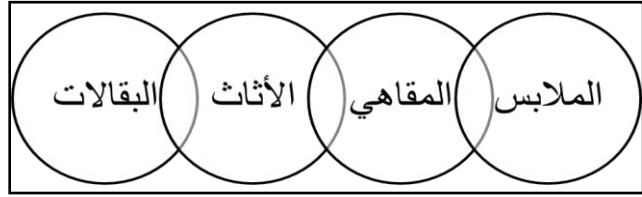
يتبع/ ٣

تابع السؤال الأول:

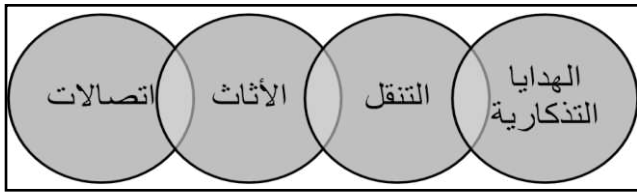
٨- الشكل الصحيح الذي يمثل تسهيلات الإمداد (الراحة) في الموقع السياحي:



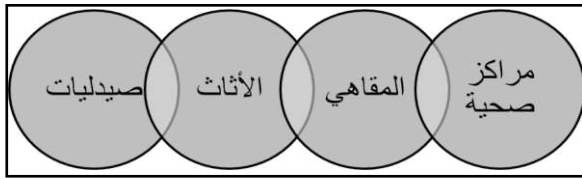
(ب)



(أ)



(د)



(ج)



٩- يوجد متحف التاريخ الطبيعي الواضح في الشكل الذي أمامك:

- أ- نيويورك.
- ب- كاليفورنيا.
- ج- واشنطن.
- د- لوس أنجلوس.

١٠- تعد من أنواع السياحة المكلفة والمحدودة سياحة:

- أ- رحلات السفاري.
- ب- تسلق الجبال.
- ج- الأعمال.
- د- الفضاء.

**تابع السؤال الأول:**

- ١١- من أكثر الشعوب القديمة شهرة في تمهيد شبكة كبيرة من الطرق البرية:  
أ- اليونان .  
ب- الفراعنة.  
ج- الرومان.  
د- الفرس.

- ١٢- من خلال الجدول الذي أمامك الدولة الأوربية الأكثر جذباً للسياح:

| الدولة   | عدد السياح/ مليون |
|----------|-------------------|
| الصين    | ٥٥,٧              |
| إيطاليا  | ٤٧,٧              |
| مصر      | ٩,٢               |
| تركيا    | ٣٧,٨              |
| بريطانيا | ٣١,٢              |

- أ- بريطانيا. ب- الصين. ج- تركيا. د- إيطاليا.

**السؤال الثاني:**

- أ- عرّف المفاهيم الآتية:  
١- النقل المستدام.

٢- ميزان المدفوعات.

ب- عدد اثنين لكل من:

- ١- أهمية النقل في المجال الاقتصادي.

.....  
.....

## تابع السؤال الثاني:

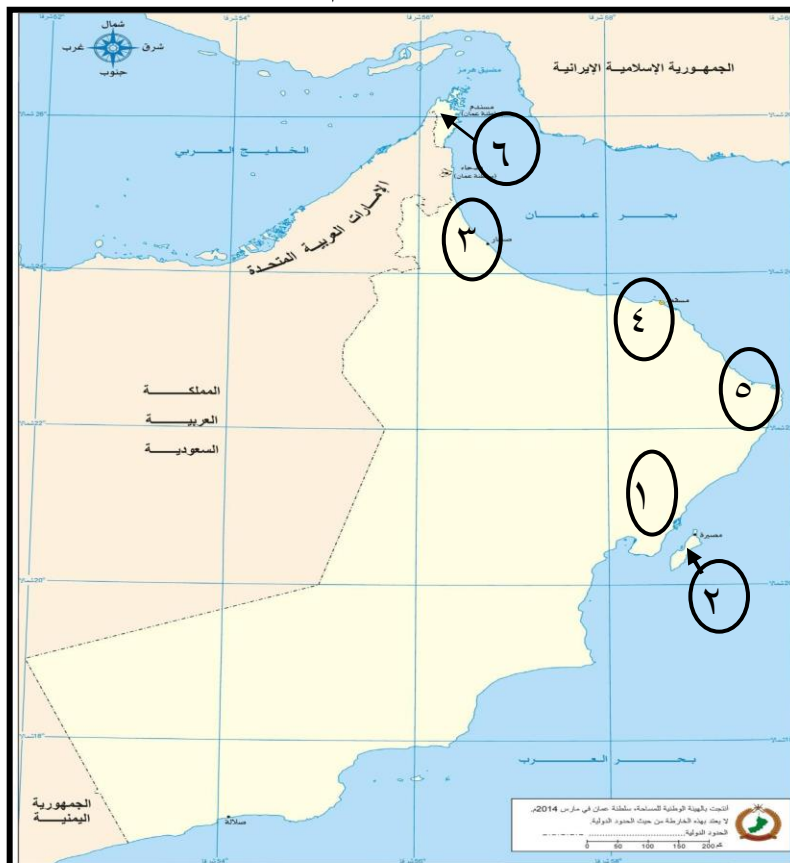
٢- العوامل المؤثرة في التجارة الدولية.


- ..... ■
- ..... ■

٣- أهمية السياحة بالنسبة للأفراد والمجتمعات.

- ..... ■
- ..... ■

ج- أمامك خريطة سلطنة عمان ادرسها جيداً ثم أجب عن الأسئلة التالية:



- ١- نوع المناخ في المنطقة المشار إليها بالرقم (٦). .....
- ٢- ما نوع وسيلة النقل السياحية المناسبة بين المنطقتين (١ و ٢).....
- ٣- ظل باستخدام الرمز  موقع محمية جبل سمحان.
- ٤- ما الرقم الذي يشير إلى موقع ميناء تصدير الغاز الطبيعي. ( ) .

### السؤال الثالث:

أ (١) - فسر ما يأتي:

أ- استخدام جهاز (GPS) في الملاحة البحرية.

ب- يجب أن يكون مصب النهر عريضاً لكي يكون صالحاً للملاحة.

أ (٢) - أمامك مجموعة من الأشكال تمثل أنواع السياحة المختلفة، ادرسها جيداً ثم أجب عن الأسئلة التالية:



(٢)



(١)

أ- كم تشكل نسبة السياحة التي يمثلها الشكل المشار إليها بالرقم (١) من إجمالي سوق السياحة.

ب- بماذا تتميز السياحة التي يمثلها الشكل المشار إليها بالرقم (٢).

ب (١) - وضح في جدول مميزات وعيوب النقل بالأنابيب.

| مميزات النقل بالأنابيب | عيوب النقل بالأنابيب |
|------------------------|----------------------|
| ■ .....                | ■ .....              |
| ■ .....                | ■ .....              |

يتبع/٧



### تابع السؤال الثالث:

ب (٢)- الشكل المقابل يوضح إحدى التقنيات الحديثة في مجال الاتصالات،



أدرسه جيداً ثم أجب عن الأسئلة الآتية:

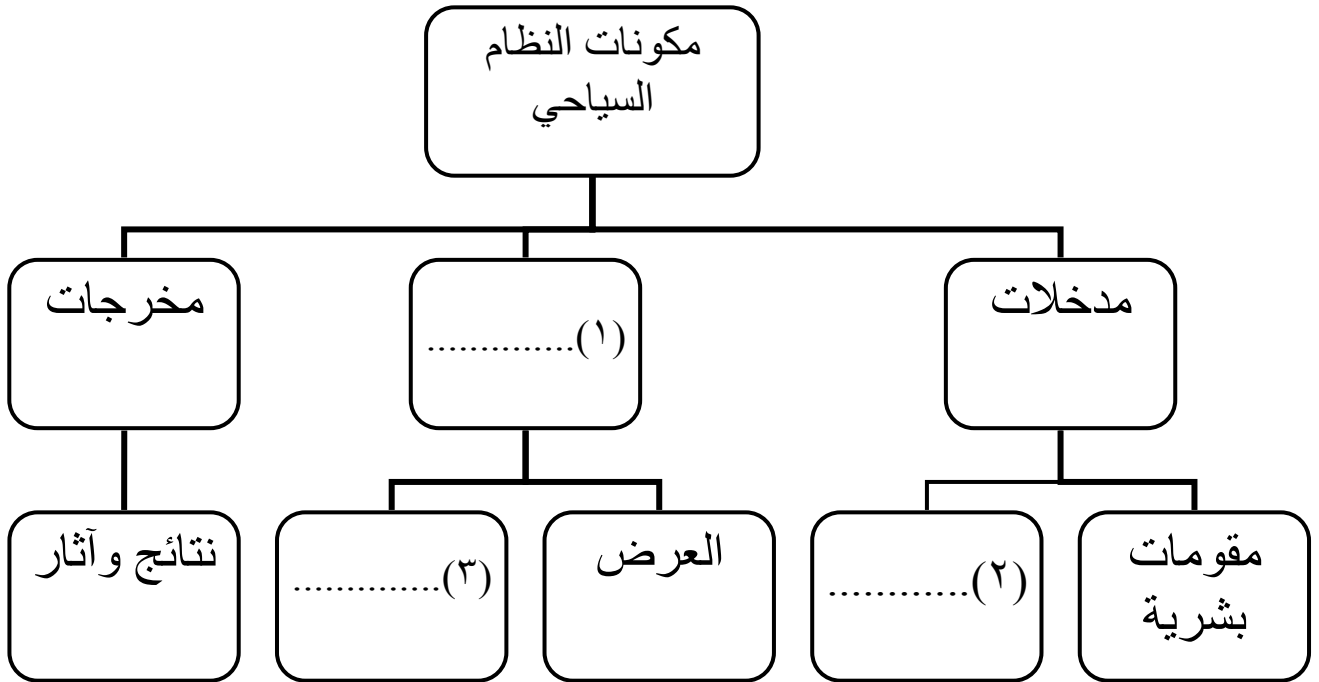
أ- عرف التقنية الموضحة في الشكل الذي أمامك.

.....  
.....

ب- وضح أثر هذه التقنية على مجال الاتصالات ونقل البيانات.

■ .....  
■ .....

ج- أكمل المخطط الآتي:



## السؤال الرابع:



أ (١)- ادرس الشكل المقابل جيداً ثم أجب عن الأسئلة الآتية:

أ- ما أسم المدونة التي يرمز لها الشعار الواضح في الشكل المقابل.

.....  
.....

ب- اذكر مجالاً واحداً من المجالات الرئيسية التي اشتملت عليها المدونة.

.....

أ (٢)- "قام محمد بشراء جهاز لاب توب عن طريق الأنترنت" في ضوء العبارة السابقة:

أ- ما نوع التجارة الواردة في النص.

.....

ب- وضح طريقة الدفع.

.....

ب- (١) فرق بين مفهوم كل من المسافرين والسائح في الجدول التالي:

| السائح | المسافر |
|--------|---------|
| .....  | .....   |
| .....  | .....   |
| .....  | .....   |

تابع السؤال الرابع:

ب- (٢) وضح آثار السياحة على البيئة على كل من:  
أ- الغلاف الغازي.

ب- البيئة الجبلية.

ج- البيئة البحرية.

ج- صنف الأنشطة الترفيهية التالية حسب الدولة التي تمارس فيها (التزلج على الجليد- التزلج على الرمال- التزلج على الماء).

| النشاط السياحي | الدولة         |
|----------------|----------------|
|                | ١- الأردن      |
|                | ٢- لبنان       |
|                | ٣- سلطنة عُمان |

انتهت الأسئلة مع الدعاء للجميع بالتوفيق والنجاح.



نموذج إجابة امتحان الصف الحادي عشر  
للعام الدراسي ١٤٣٧/١٤٣٨ هـ - ٢٠١٦/٢٠١٧ م  
الدور الثاني - الفصل الدراسي الثاني

المادة: الجغرافيا الاقتصادية  
تنبيهه: نموذج الإجابة في ( ٤ ) صفحات.  
الدرجة الكلية: ( ٦٠ ) درجة.

أولاً: إجابة السؤال الموضوعي:

إجابة السؤال الأول

| المفردة | البديل الصحيح | الإجابة                | الدرجة | الصفحة |
|---------|---------------|------------------------|--------|--------|
| ١       | أ             | GIS                    | ٢      | ١٠٦    |
| ٢       | د             | أوروبا وأستراليا.      | ٢      | ١١٥    |
| ٣       | د             |                        | ٢      | ١٢٢    |
| ٤       | ب             | ٢٠٠٠م                  | ٢      | ١٣٢    |
| ٥       | ب             | الناتج المحلي الإجمالي | ٢      | ١٤٦    |
| ٦       | د             | ٤                      | ٢      | ١٤٨    |
| ٧       | د             | جيولوجية               | ٢      | ١٦٢    |
| ٨       | ب             |                        | ٢      | ١٧٣    |
| ٩       | أ             | نيويورك.               | ٢      | ١٨٧    |
| ١٠      | د             | الفضاء.                | ٢      | ١٥٩    |
| ١١      | ج             | الرومان.               | ٢      | ١٠٦    |
| ١٢      | د             | إيطاليا.               | ٢      | ١٧٨    |
|         |               | المجموع                | ٢٤     |        |

( ٢ )

تابع نموذج إجابة امتحان الصف الحادي عشر  
للعام الدراسي ١٤٣٧/١٤٣٨ هـ - ٢٠١٦/٢٠١٧ م  
الدور الثاني- الفصل الدراسي الثاني  
المادة : الجغرافيا الاقتصادية

ثانيا: إجابة الأسئلة المقالية:

| إجابة السؤال الثاني |         | الرمز (/) يعني إجابة أخرى صحيحة  | الدرجة الكلية: ( ١٢ ) درجة |
|---------------------|---------|--|----------------------------|
| الجزئية             | المفردة | الإجابة الصحيحة  | الدرجة                     |
| أ                   | ١       | استخدام وسائل نقل أقل تأثيراً على البيئة.  | ١                          |
|                     | ٢       | سجل يوضح جميع المعاملات الاقتصادية لدولة ما مع بقية دول العالم خلال فترة زمنية معينة عادة تكون سنة.  | ١                          |
| ب                   | ١       | <ul style="list-style-type: none"> <li>يساعد على ربط مناطق الإنتاج بمناطق الاستهلاك. / تأمين إنتقال الأفراد والمواد الخام والبضائع. / عاملاً مساعداً في استغلال الموارد الطبيعية. / يحقق التكامل الاقتصادي بين الدول. / مساهمته في تشغيل الأيدي العاملة. / توفير فرص العمل لشريحة كبيرة من السكان.</li> </ul> <b>(يكتفى بمفردتين، لكل مفردة درجة).</b>   | ٢                          |
|                     | ٢       | <ul style="list-style-type: none"> <li>البيئة الطبيعية.</li> <li>السكان.</li> <li>التطور الاقتصادي.</li> <li>النقل والاتصالات.</li> <li>الاتفاقيات التجارية.</li> <li>السياسات الحكومية</li> </ul> <b>(يكتفى بمفردتين، لكل مفردة درجة).</b>  | ٢                          |
|                     | ٣       | <ul style="list-style-type: none"> <li>تعزز روح الانتماء عند الوطن.</li> <li>توطد روح العمل الجماعي بين المشاركين في الرحلات.</li> <li>وسيلة مهمة لتحقيق التقارب بين الشعوب.</li> <li>تعمل على تطوير العلاقات الاجتماعية من خلال الانفتاح على العالم.</li> <li>تساعد على الاهتمام بالتراث والمحافظة عليه.</li> <li>تعمل على الترويح عن النفس.</li> </ul> <b>أي إجابة تفيد المعنى (يكتفى بمفردتين، لكل مفردة درجة).</b> | ٢                          |
| ج                   | ١       | شبة صحراوي.  | ١                          |
|                     | ٢       | السياحة بواسطة السيارة وسفن العبور.  | ١                          |
|                     | ٣       | التظليل على محمية جبل سحان.  | ١                          |
|                     | ٤       | ٥  | ١                          |

(٣)

تابع نموذج إجابة امتحان الصف الحادي عشر  
للعام الدراسي ١٤٣٧/١٤٣٨ هـ - ٢٠١٦/٢٠١٧ م  
الدور الثاني - الفصل الدراسي الثاني.  
المادة : الجغرافيا الاقتصادية.

تابع ثانيا: إجابة الأسئلة المقالية:

| الدرجة الكلية: (١٢) درجة  |   | الرمز (/) يعني إجابة أخرى صحيحة   | إجابة السؤال الثالث                          | الجزئية                |   |   |  |       |
|---|---|---|--|------------------------|---|---|--|-------|
| الصفحة  | الدرجة  | الإجابة الصحيحة   | المفردة                                      |                        |   |   |  |       |
| ١١٥   | ١   | يساعد السفن على تحديد المواقع في البحار والمحيطات في مختلف الظروف الجوية عن طريق الاتصال بالأقمار الصناعية.   | أ  | أ (١)                  |   |   |  |       |
| ١١٣   | ١   | كي يسهل حمل الرواسب التي قد تعيق الملاحة النهرية.   | ب  |                        |   |   |  |       |
| ١٥٣   | ١   |   | أ ٣٧%  | أ (٢)                  |   |   |  |       |
| ١٥٨   | ١   | بالاستمرارية دون انقطاع / يولد شعوراً بالراحة النفسية لدى الزائر.   | ب  |                        |   |   |  |       |
| ١١١   | ٢   | <table border="1"> <tr> <td>عيوب النقل بالأنابيب</td> <td>مميزات النقل بالأنابيب</td> </tr> <tr> <td>امتداد الأنابيب على أراضي عدة دول مما يجعلها عرضة لمخاطر الانقلابات السياسية في الدول التي تمتد عبرها/ الطاقة الاستيعابية محدودة ولا يمكن زيادتها إلا بعد زيادة قطر الأنبوب أو استخدام المضخات.</td> <td>أرخص أنواع النقل / تنخفض التكلفة كلما زاد قطر الأنبوب/ لا تقف الظروف الجوية أو التضاريس عائقاً أمام النقل/ إمكانية نقل الغاز أو النفط بسرعة ولمسافات طويلة.</td> </tr> </table> | عيوب النقل بالأنابيب                         | مميزات النقل بالأنابيب | امتداد الأنابيب على أراضي عدة دول مما يجعلها عرضة لمخاطر الانقلابات السياسية في الدول التي تمتد عبرها/ الطاقة الاستيعابية محدودة ولا يمكن زيادتها إلا بعد زيادة قطر الأنبوب أو استخدام المضخات. | أرخص أنواع النقل / تنخفض التكلفة كلما زاد قطر الأنبوب/ لا تقف الظروف الجوية أو التضاريس عائقاً أمام النقل/ إمكانية نقل الغاز أو النفط بسرعة ولمسافات طويلة. |  | ب (١) |
| عيوب النقل بالأنابيب  | مميزات النقل بالأنابيب  |   |  |                        |   |   |  |       |
| امتداد الأنابيب على أراضي عدة دول مما يجعلها عرضة لمخاطر الانقلابات السياسية في الدول التي تمتد عبرها/ الطاقة الاستيعابية محدودة ولا يمكن زيادتها إلا بعد زيادة قطر الأنبوب أو استخدام المضخات. | أرخص أنواع النقل / تنخفض التكلفة كلما زاد قطر الأنبوب/ لا تقف الظروف الجوية أو التضاريس عائقاً أمام النقل/ إمكانية نقل الغاز أو النفط بسرعة ولمسافات طويلة. |   |  |                        |   |   |  |       |
|   |   | <b>يكتفى بمفردة لكل عنصر ( لكل مفردة درجة).</b>   |  |                        |   |   |  |       |
| ١٢٤   | ١   | هي ألياف مصنوعة من الزجاج النقي تكون طويلة ورفيعة ولا يتعدى سمكها سمك الشعرة.   | أ  |                        |   |   |  |       |
| ١٢٤   | ٢   | <ul style="list-style-type: none"> <li>▪ زيادة عدد المكالمات بين دول العالم.</li> <li>▪ تحسين نوعية الاتصال فأصبح أكثر نقاوة وسرعة.</li> </ul>  | ب  | ب (٢)                  |   |   |  |       |
|   |   | <b>( لكل مفردة درجة).</b>   |  |                        |   |   |  |       |
| ١٦٦   | ٣   |   | ١- عمليات.<br>٢- مقومات طبيعية.<br>٣- الطلب. | ج-                     |   |   |  |       |

(٤)

تابع نموذج إجابة امتحان الصف الحادي عشر  
للعام الدراسي ١٤٣٧/١٤٣٨ هـ - ٢٠١٦/٢٠١٧ م  
الدور الثاني - الفصل الدراسي الثاني.  
المادة : الجغرافيا الاقتصادية

تابع ثانيا: إجابة الأسئلة المقالية:

| إجابة السؤال الرابع   |   | الرمز (/) يعني إجابة أخرى صحيحة  | الدرجة الكلية: (١٢) درجة |                 |   |  |           |                    |                |                    |   |
|---|---|--|--------------------------|-----------------|---|--|-----------|--------------------|----------------|--------------------|---|
| الجزئية   | المفردة   | الإجابة الصحيحة  | الدرجة                   |                 |   |  |           |                    |                |                    |   |
| أ (١)   | أ   | المدونة العالمية لأخلاقيات السياحة.  | ١                        |                 |   |  |           |                    |                |                    |   |
|   | ب   | المحافظة على الموارد البيئية / المحافظة على المجتمع وثقافته / تحقيق منافع اقتصادية مهمة.<br><u>يكتفى بمفردة واحدة</u>  | ١                        |                 |   |  |           |                    |                |                    |   |
| أ (٢)   | أ   | التجارة الإلكترونية.   | ١                        |                 |   |  |           |                    |                |                    |   |
|   | ب   | بطاقة الإنتمان.  | ١                        |                 |   |  |           |                    |                |                    |   |
| ب- (١)  | <table border="1"> <thead> <tr> <th>المسافر</th> <th>السائح</th> </tr> </thead> <tbody> <tr> <td>هو كل شخص يخرج في رحلة بين دولتين أو أكثر أو بين موقعين أو أكثر داخل حدود بلده.</td> <td>شخص يسافر إلى أي مكان خارج نطاق بيئته العادية لمدة لا تقل عن ١٢ ساعة؛ بهدف ممارسة أنشطة لا تستهدف التكسب من المكان المزار.</td> </tr> </tbody> </table> |  | المسافر                  | السائح          | هو كل شخص يخرج في رحلة بين دولتين أو أكثر أو بين موقعين أو أكثر داخل حدود بلده. | شخص يسافر إلى أي مكان خارج نطاق بيئته العادية لمدة لا تقل عن ١٢ ساعة؛ بهدف ممارسة أنشطة لا تستهدف التكسب من المكان المزار. | ٢         |                    |                |                    |   |
|   | المسافر   | السائح   |                          |                 |   |  |           |                    |                |                    |   |
| هو كل شخص يخرج في رحلة بين دولتين أو أكثر أو بين موقعين أو أكثر داخل حدود بلده. | شخص يسافر إلى أي مكان خارج نطاق بيئته العادية لمدة لا تقل عن ١٢ ساعة؛ بهدف ممارسة أنشطة لا تستهدف التكسب من المكان المزار.  |  |                          |                 |   |  |           |                    |                |                    |   |
| <u>لكل مفردة درجة</u>   |   |  |                          |                 |   |  |           |                    |                |                    |   |
| ب- (٢)  | أ   | ما تنتفثه عوادم السيارات من أكاسيد.  | ١                        |                 |   |  |           |                    |                |                    |   |
|   | ب   | حدوث التعرية والانهيارات الأرضية نتيجة استخدام الممرات الجبلية وتسلق الجبال من قبل أعداد كبيرة من السياح / تلوث التربة بالمواد السامة (الأكاسيد) نتيجة سير المركبات بسرعة بطئية. | ١                        |                 |   |  |           |                    |                |                    |   |
|   | ج   | ما يقوم به الصيادون وصناع التحف من تدمير للشعاب المرجانية/ إلقاء كميات كبيرة من المخلفات في البحر مما يؤدي إلى تلوث الحياة البحرية وانتشار الأمراض.                              | ١                        |                 |   |  |           |                    |                |                    |   |
| ج   | <table border="1"> <tbody> <tr> <td>الدولة</td> <td>النشاط السياحي.</td> </tr> <tr> <td>١- الأردن.</td> <td>التزلج على الماء.</td> </tr> <tr> <td>٢- لبنان.</td> <td>التزلج على الجليد.</td> </tr> <tr> <td>٣- سلطنة عمان.</td> <td>التزلج على الرمال.</td> </tr> </tbody> </table>   |  | الدولة                   | النشاط السياحي. | ١- الأردن.  | التزلج على الماء.  | ٢- لبنان. | التزلج على الجليد. | ٣- سلطنة عمان. | التزلج على الرمال. | ٣ |
|   | الدولة  | النشاط السياحي.  |                          |                 |   |  |           |                    |                |                    |   |
|   | ١- الأردن.  | التزلج على الماء.  |                          |                 |   |  |           |                    |                |                    |   |
|   | ٢- لبنان.   | التزلج على الجليد.   |                          |                 |   |  |           |                    |                |                    |   |
| ٣- سلطنة عمان.  | التزلج على الرمال.  |  |                          |                 |   |  |           |                    |                |                    |   |
| <u>لكل مفردة درجة</u>   |   |  |                          |                 |   |  |           |                    |                |                    |   |

نهاية نموذج الإجابة