

تم تحميل هذا الملف من موقع المناهج العُمانية



*للحصول على أوراق عمل لجميع الصفوف وجميع المواد اضغط هنا

<https://almanahj.com/om>

* للحصول على أوراق عمل لجميع مواد الصف الحادي عشر اضغط هنا

<https://almanahj.com/om/11>

* للحصول على جميع أوراق الصف الحادي عشر في مادة حضارة اسلامية ولجميع الفصول, اضغط هنا

<https://almanahj.com/om/11culture>

* للحصول على أوراق عمل لجميع مواد الصف الحادي عشر في مادة حضارة اسلامية الخاصة بـ الفصل الأول اضغط هنا

<https://almanahj.com/om/11culture1>

* لتحميل كتب جميع المواد في جميع الفصول للـ الصف الحادي عشر اضغط هنا

<https://almanahj.com/om/grade11>

* لتحميل جميع ملفات المدرس سليمة بنت علي الهنائية اضغط هنا

للتحدث إلى بوت على تلغرام: اضغط هنا

https://t.me/omcourse_bot

سلطنة عمان

وزارة التربية والتعليم

المديرية العامة للتربية والتعليم بمحافظة شمال الباطنة

مدرسة عاتكة للتعليم ما بعد الأساسي

أسرة الدراسات الاجتماعية

رؤية المدرسة
غايتنا التميز
بروح عالية
ومشاركة
فاعلة



ملتزمون بتحقيق رؤيتنا ، الإجابة في موادنا

دفترتي

سنة تميزتي

الحضارة الإسلامية

الصف الحادي عشر / الفصل الدراسي الثاني



اسم الطالب :

الصف :

إعداد الأستاذة : سليمة بنت علي الهنائية

العام الدراسي ٢٠١٨ / ٢٠١٩م

الحضارة الإسلامية في وسط آسيا وجنوبها

س ١: أكمل البطاقة التعريفية عن منطقة وسط آسيا

فتح المسلمون وسط آسيا في القرن الهجري.....

يطلق على وسط بعد لها اسم الفتح الإسلامي.....

تقع وسط آسيا خلف نهر يسمى ب.....

نقسم منطقة وسط آسيا (تركستان).....و.....

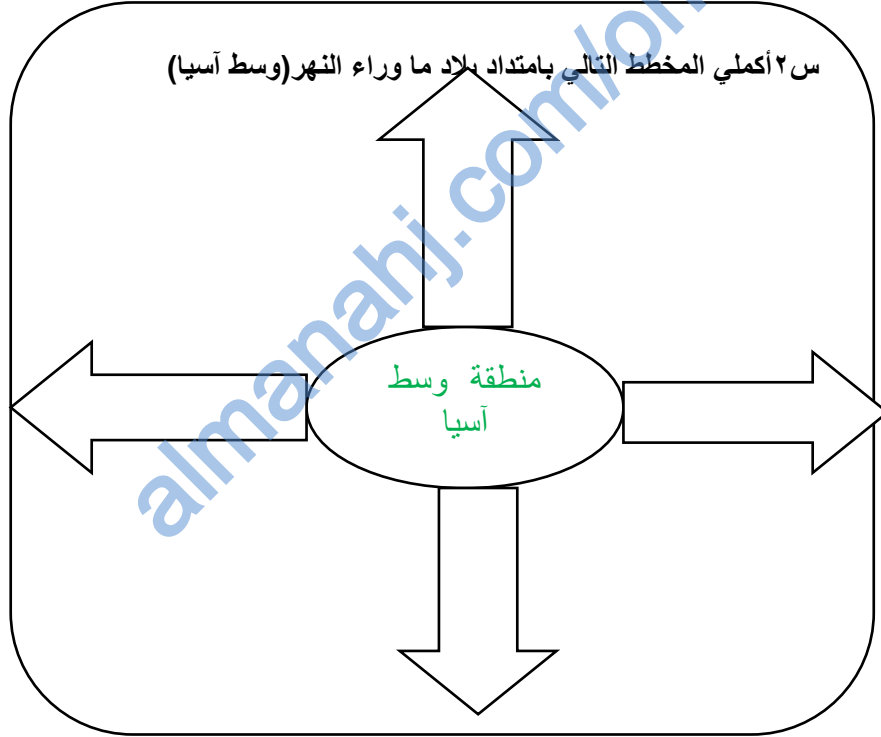
من الاجناس التي سكنت اقليم ما وراء النهر.....و.....

قسم الاقليم الى ممالك مستقلة بذاتها تسمى.....

كانت بداية انتشار الاسلام في وسط آسيا في عهد الخليفة.....

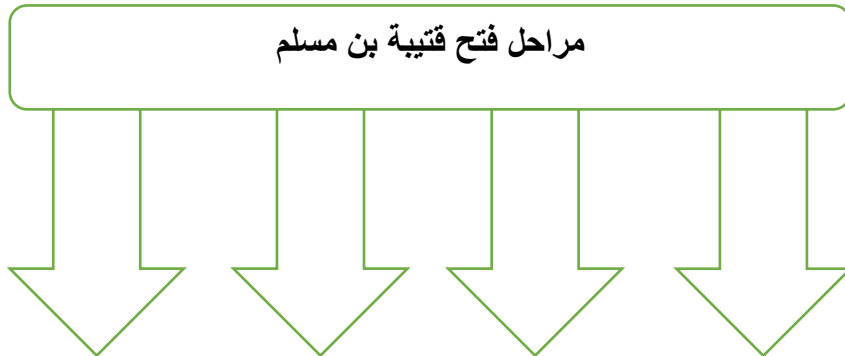
من أهم مدن اقليم ما وراء النهر.....و.....و.....و.....

س ٢ أكمل المخطط التالي بامتداد بلاد ما وراء النهر (وسط آسيا)



مراحل فتح قتيبة بن مسلم

س: أكمل المخطط التالي:



س٣: علل:فتح المسلمون لوسط آسيا.

- ١.....
- ٢.....
- ٣.....

س٥: وضح النتائج المترتبة على فتح وسط آسيا

- ١.....
- ٢.....
- ٣.....
- ٤.....

س٦:قارني بين الدويلات الاسلامية المستقلة في وسط آسيا من خلال الجدول التالي:

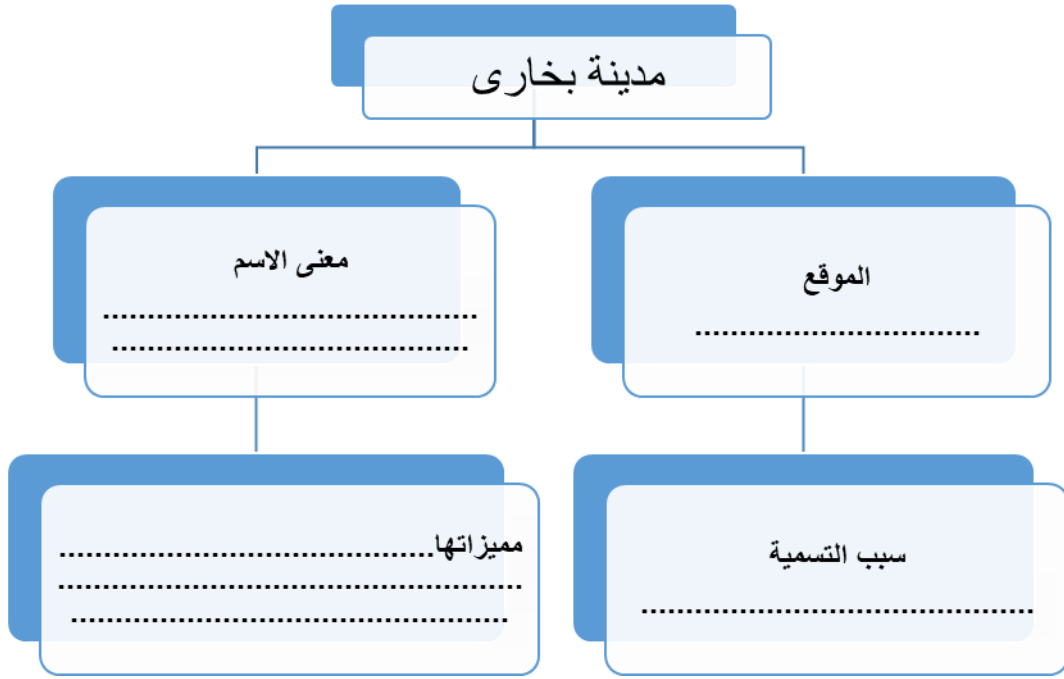
الدولة الخوارزمية	الدولة السلجوقية	الدولة البويهية	الدولة السامانية	وجهة المقارنة
				فترة قيامها
				نسيها
				أهم الاحداث
				نهايتها
				ملاحظات

س٦: فسري شهد إقليم ما وراء النهر في ظل الحكم الاسلامي نهضة علمية زاهرة

-
-
-
-

س٧: وضح مظاهر النهضة العلمية في إقليم ما وراء النهر في ظل الحكم الاسلامي

-
-
-



س: ادرسي الصورة التالية وأجيبني على ما يليها:

١. سمي المعلم الذي تشير اليه الصورة.....

٢. أين يقع المعلم؟

٣. سمي اللقب الذي أطلقه الرحالة العرب على المدينة.....

٤. الرحالة الذي وصف المدينة بأنها مبنية على شاطئ واد يعرف بوادي القصارين.....

س: ادرسي الخريطة التالية وأجيبني على ما يليها:

١. سمي ما تشير إليه المنطقة المحاطة بالمربع

.....

٢. أكتبني على الخريطة الدول التالية:

كازاخستان/قيرقيزستان/طاجيكستان/أوزبكستان/تركمنستان

اختاري الاجابة تعتبر الدولة المحاطة بدائرة ضمن:

تركستان الشرقية تركستان الغربية



س: أعطي أمثلة على الديانات المنتشرة في جنوب آسيا

- ١
- ٢
- ٣
- ٤
- ٥

س: وضحني أهم مميزات منطقة جنوب آسيا

- ١
- ٢
- ٣
- ٤

س: ادرسي خريطة قارة آسيا الصماء وأجيبني على ما يليها:

١. استخرجني من الخريطة دول جنوب آسيا.

.....
.....

٢. ضعي دائرة على :

أ. الدولة التي يقع فيها مركز السلطان تكران

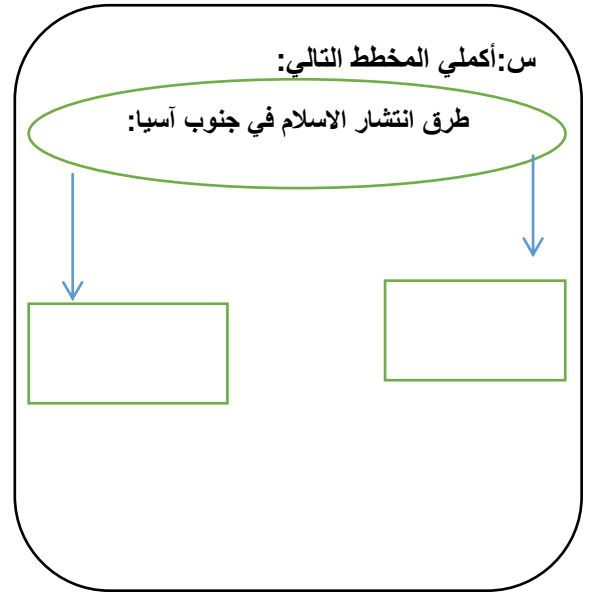
ب. ضعي مربع على الدولة التي وصل اليها الاسلام في القرن الاول الهجري



س: قارني في الجدول التالي بين الدويلات المستقلة في جنوب آسيا:

الدولة المغولية	الدولة الغزنوية	وجه المقارنة
		فترة قيامها
		مؤسسها
		أهم منجزاتها
		ملاحظات

س: أكمل المخطط التالي:



	<p>س: ادرسي الشكل التالي وأجيبني على ما يليها:</p> <p>١. سمي ما تشير اليه الصورة؟.....</p> <p>٢. سمي الدولة التي يقع فيها المعلم.....</p> <p>٣. يعود تاريخ المعلم الى الدولة.....</p>



س: ادرسي الصور التالية وأجيبني على ما يليها:



(٢)



(١)

١. تسمى ما تشير إليه الصور ١ و٢

.....

٢. الدولة التي يقع فيها المعلمين.....

٣. علي: تسمية المعلم المشار اليه بالرقم ١ بهذا الاسم

٤. وضح معنى الاسم.....

٥. سمي المدينة التي يقع فيها المعلمين المشار اليه بالرقمين

١.....

٢.....

٦. سمي الشاه الذي شيد المعلم المشار اليه بالرقم ٢.....

الحضارة الإسلامية في شرق آسيا وجنوبها الشرقي

س ١: أكمل البطاقة التعريفية عن منطقة شرق آسيا:

تقع منطقة شرق آسيا على سواحل المحيط

تتميز منطقة شرق آسيا ب..... و.....

الحضارات الأقدم في منطقة شرق آسيا..... و.....

س ٢: وضح طرق انتشار الإسلام في شرق آسيا

١.....

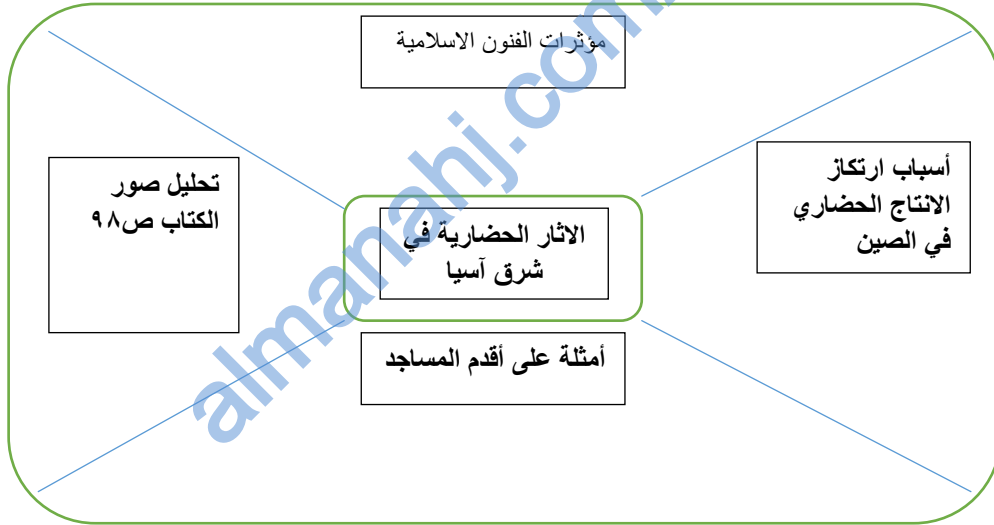
٢.....

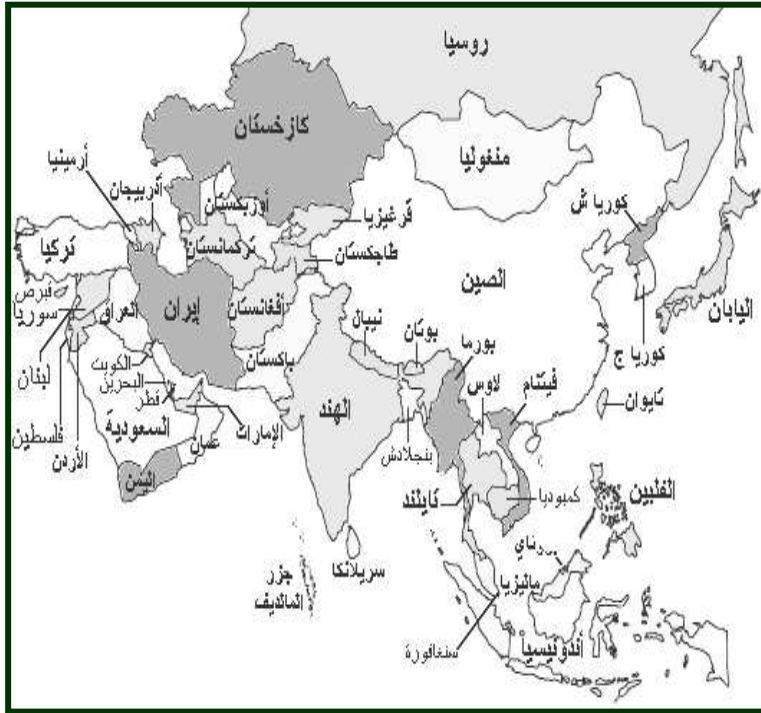
س: فسري: نشطت العلاقات التجارية بين تجار عمان والصين

.....

.....

س: أكمل المخطط التالي عن الآثار الحضارية في شرق آسيا (الصين):





أدرسي خريطة قارة آسيا المقابلة وأجيبني على مايليها:

- حددي بمربع على الخريطة منطقة جنوب شرق آسيا

- أكلمي المخطط التالي بحدود جنوب شرق آسيا:

جنوب
شرق آسيا

جنوب شرق آسيا



س:بيني النتائج المترتبة على اتصاف التجار العمانيين بالاخلاق والصفات الطيبة

..... ١

..... ٢

..... ٣

س ٤: وضح عوامل انتشار الاسلام في جنوب شرق آسيا

..... ١

..... ٢

..... ٣

..... ٤

س:أكلمي العبارات التالية:

١. من مراكز استقرار التجار العمانيين في جنوب شرق آسيا ميكاء.....ويقع في.....

٢. يلقب حكام الممالك الاسلامية في جنوب شرق آسيا ب.....

٣. من أشهر حكام ملقا راجا عبدالله بن القاسم الملقب ب.....

وضحي أهم آثار الحضارة الاسلامية في جنوب شرق آسيا
..... ١
..... ٤
..... ٣
..... ٤

دور العمانيين في نشر الحضارة الاسلامية في السواحل الاسيوية

س: أصممي خريطة مفاهيم بعوامل نجاح العمانيين في نشر الحضارة الاسلامية بالسواحل الاسيوية

س ٢: وضح النتائج المترتبة على امتداد الساحل العماني على مياه المحيط

- ١
- ٢

س ٤: فسر العبارة تملك عمان رصيذا حضاريا وافرا.

-
-
-
-

س ٣: اذكر جوانب استفادة عمان من الحضارات التي تعاقبت على أرضها.

-
-
-
-

س ٤: لخصي في نقاط الدور الاقتصادي الذي قامت به السفن العمانية.

- ١
- ٢
- ٣

س ٥: علل نشاط العلاقات التجارية والصلات الحضارية بين الهند وعمان

-
-

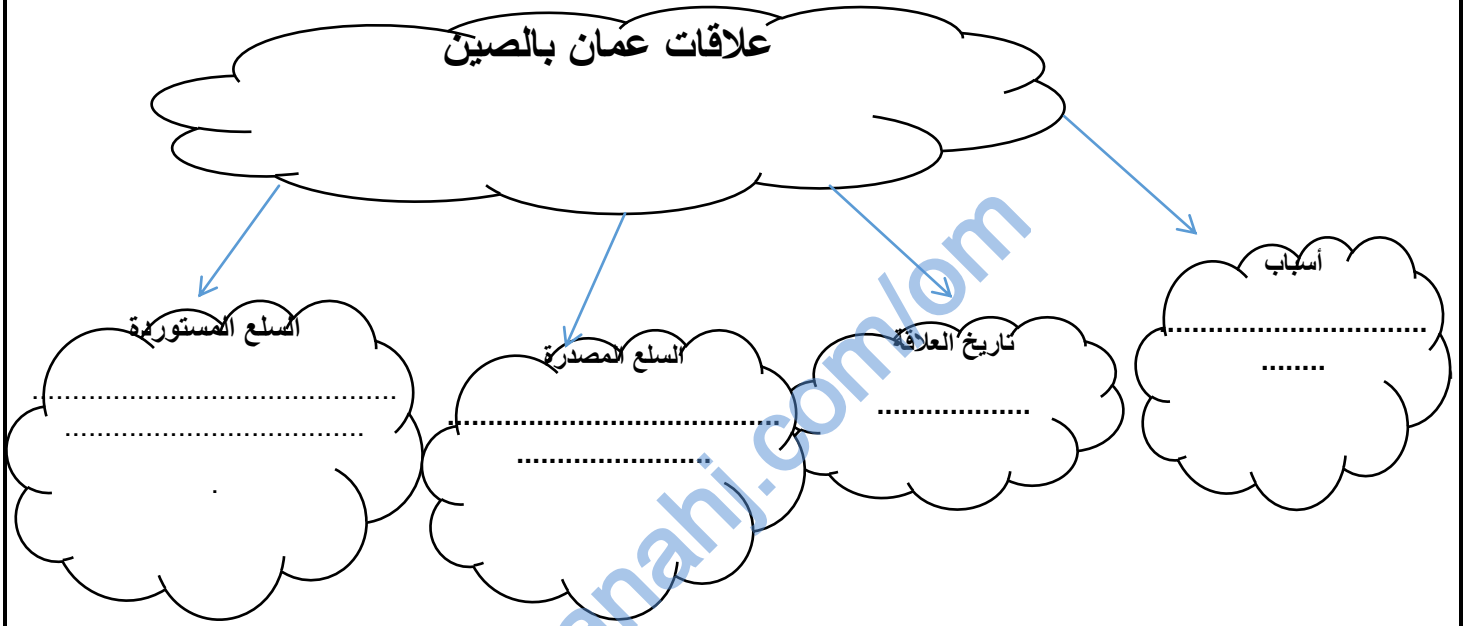
س ٦: دلل على استيطان عرب عمان في مناطق مختلفة من الهند

-
-
-
-
-

س: أكمل الجدول التالي:

صنّابور	فندرينا	صيمور	المدينة
			الموقع
			أهم انجازات العمانيين فيها
			ملاحظات

علاقات عمان بالصين



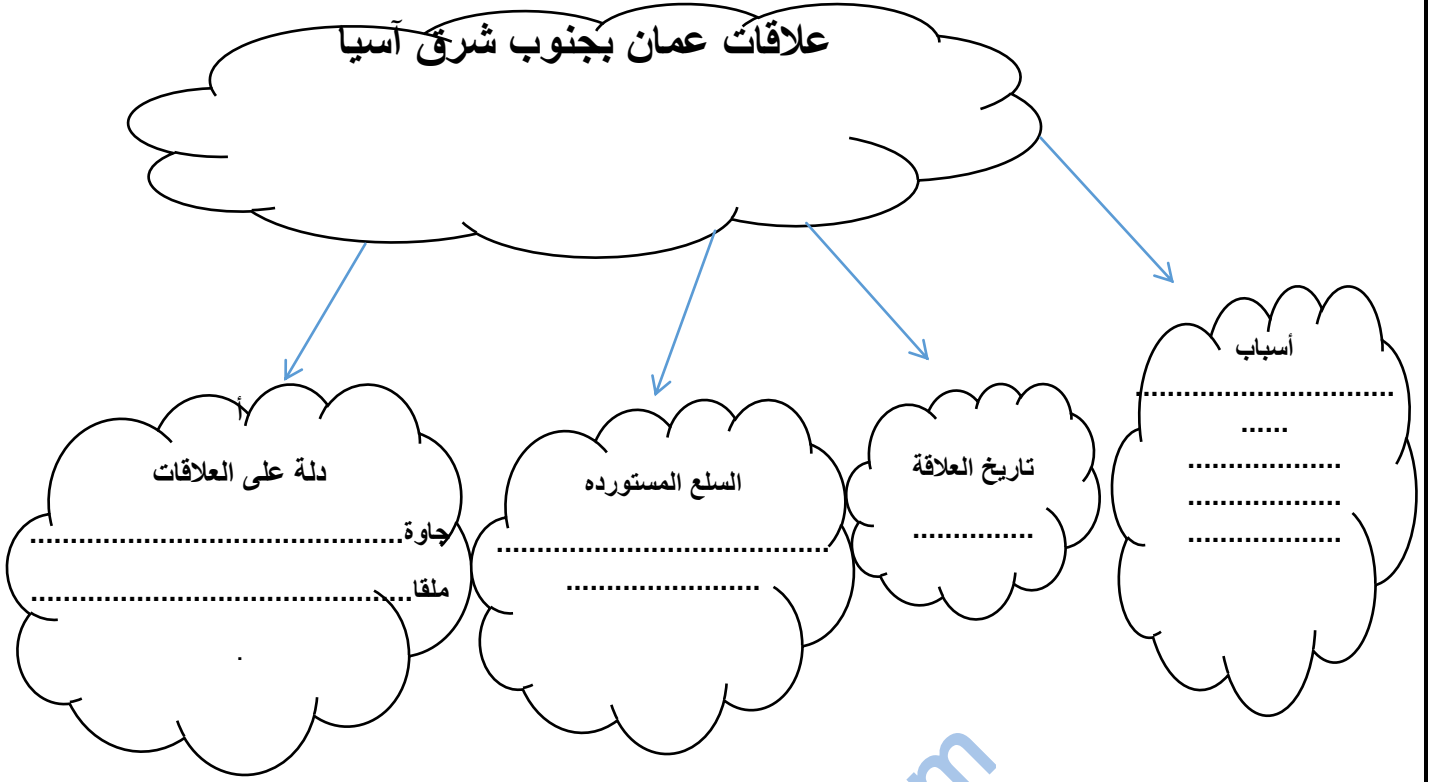
س: قارني بين أهم التجار العمانيين إلى الصين في الجدول التالي:

وجه المقارنة	أبو عبيدة عبدالله بن القاسم البسيوي	أبو عبيدة عبدالله الصحاري
الفترة الزمنية		
دوره في الصين		
ملاحظات		

س: ٥: علل اسباب ارتياد العمانيون منطقة جنوب شرق آسيا

- ١
- ٢
- ٣

علاقات عمان بجنوب شرق آسيا



س:قارني بين أهم الملاحين العمانيين في منطقة جنوب شرق آسيا:

اسماعيلويه بن ابراهيم بن مرداس	محمد بن بلشاد	وجه المقارنة
		الفترة الزمنية
		رحلته
		ملاحظات

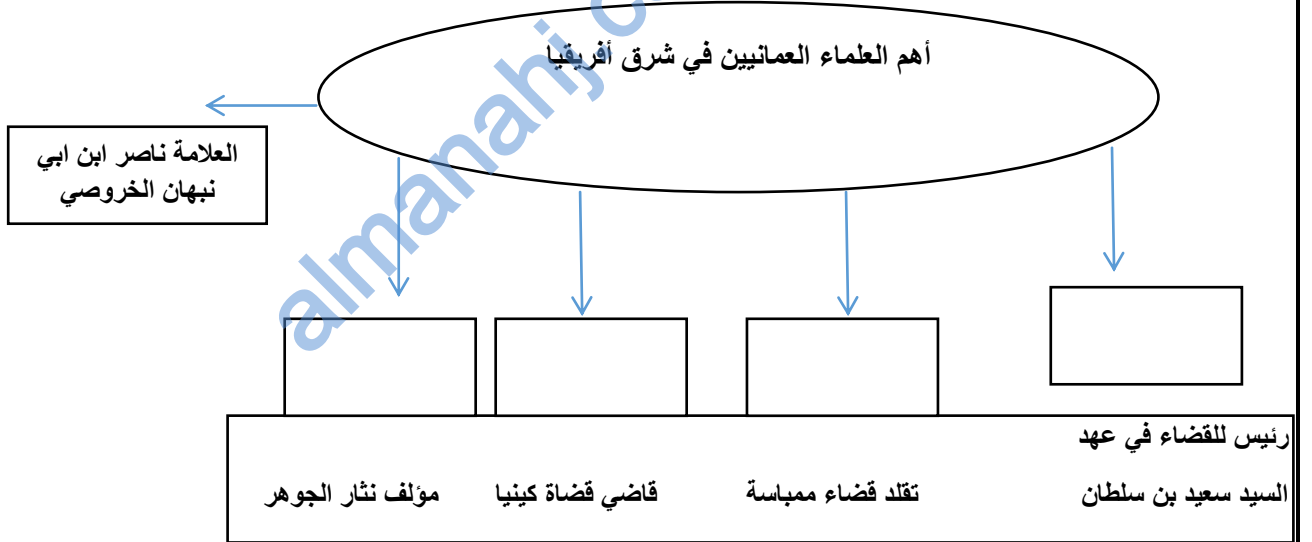
س: أكمل الجدول التالي بمظاهر ازدهار الحياة الاقتصادية في شرق أفريقيا:

مظاهر الازدهار	المجال الاقتصادي
..... ١	التجارة
..... ٢	
..... ٣	
..... ٤	
..... ٥	
..... ١	الزراعة
.....	
.....	
.....	

س: اكتب في الشكل مظاهر الحياة الثقافية والفكرية:



س: أكمل المخطط التالي بأهم العلماء العمانيين في شرق أفريقيا:



معايير انتقال الحضارة الإسلامية إلى أوروبا (المعبر الإسلامي)

س: حددي معايير الحضارة الإسلامية إلى أوروبا

١.....

٢.....

س٣: فسري كان البحر المتوسط جسر التواصل الحضاري؟

ز.....

ادرسي الخريطة التالية وأجيبني على ما يأتي:

١. سمي المسطح المائي الذي يعتبر جسر التواصل الحضاري بين الحضارة الإسلامية والغرب.

استخرجي من الخريطة المعبر الثاني للحضارة الإسلامية إلى أوروبا



س: حللي معنى كلمة الاندلس

صفي وضع الاندلس قبل الفتح الاسلامي لها.

س: فسري بلغت الحضارة الاسلامية ذروتها في القرن الثاني من القرن العاشر الميلادي.

س: دللي على التطورات التي أحدثها المسلمون في نظام الزراعة في الاندلس.

س ٥: وضح دور مدينة طليطلة في نقل الحضارة الاسلامية إلى أوروبا

س: بلغت العاصمة قرطبة درجة عالية من التقدم الثقافي. اثبتني العبارة.

س:دليلي على مساهمة الدولة العثمانية في
نشر الاسلام في الدول الاوربية.

.....
.....
.....
.....
.....

س:اعطي نبذة تعريفية عن الدولة العثمانية.

.....
.....
.....
.....
.....
.....

س:أعطي أمثلة على النماذج المعمارية للدولة العثمانية.

.....
.....
.....
.....
.....



ادرسى الصورة التالية وأجيبى على ما يليها:

١. سمي ما تشير إليه الصورة.....
٢. استنتجى من الصورة أهم ما يميز
المساجد في الدولة العثمانية

س:فسري أصبحت الدولة العثمانية وسيطا تجاريا بين الشرق والغرب

.....
.....
.....
.....
.....

س:برهني حرصت الجمهوريات التجارية الايطالية
على توطيد علاقتها بالدولة العثمانية

.....
.....
.....
.....
.....
.....
.....

معايير الحضارة الاسلامية إلى أوروبا: المعبر الاوربي

س: عرفى الحروب الصليبية

.....

.....

.....

.....

س٣: دلى: على الرغم من فشل أوروبا فى تحقيق الاهداف الاستعمارية إلا انها تمكنت من تحقيق العديد من الاهداف.

.....

.....

.....

.....

س: وضحى أبرز الجوانب التى تأثر بها الغرب من خلال الحروب الصليبية

.....

.....

.....

س: دلى تركت اللغة العربية أثرا واضحا فى اللغات الاوربية.

.....

.....

.....

.....

.....

.....

.....

س: فسرى كان تأثر الاوربيون بالآداب والعلوم الاسلامية واضحا.

.....

.....

.....

.....

س: دلل على صحة العبارة: توصل الصليبيون في مجال الزراعة والصناعة والتجارة إلى نتائج أعظم مما وصلوا إليه في العلوم

س: أعطي أمثلة على جوانب استفادة الأوربيين من المسلمين في الجوانب العسكرية

.....

.....

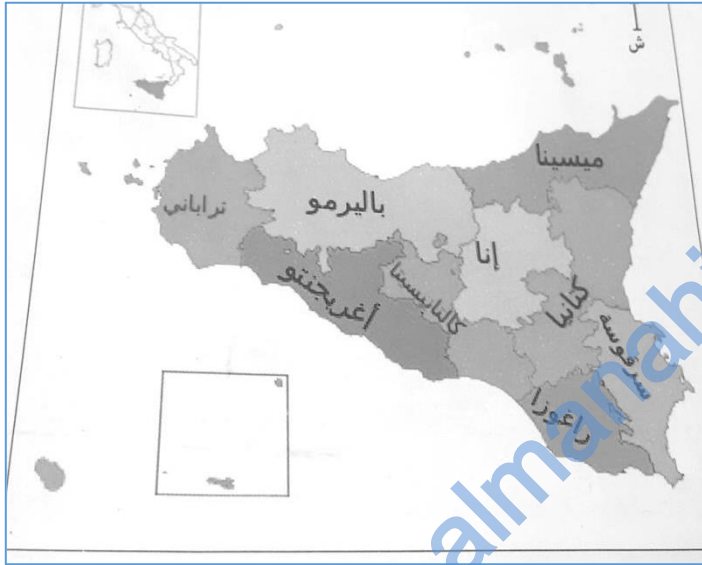
.....

.....

.....

.....

.....



س: ادرسي الخريطة التالية وأجيب على الاسئلة المقابلة:

١. أ. سمي الجزيرة التي تشير إليها الخريطة.....

ب. الدولة التي تتبع إليها الجزيرة.....

٢. استنتج الشكل الذي تتخذه الجزيرة

٣. استخرج المقاطعة التي افتتحت فيها جامعة لتعليم اللغة العربية وآدابها

.....

أكمل البطاقة التعريفية التالية عن جزيرة صقلية

١
٢
٣
٤
٥

س: لم تكن الأذواق الجديدة التي اكتسبها الأوربيون مقتصرة على المأكّل.

.....

.....

.....

.....

س: وضح العوامل التي
ساعدت صقلية على نقل علوم
المسلمين إلى الغرب الاوربي.


- ١
- ٢
- ٣
- ٤
- ٥

فسري العبارة :على الرغم من استعادة النورمان جزيرة صقلية الا
انهم حرصوا على ابقاء المسلمين فيها.

-
-
-
-
-
-

س: أكمل المخطط التالي:

مظاهر الحضارة الاسلامية في صقلية في العصرين الاغربي والفاطمي



س قارني بين حكام جزيرة صقلية في الجدول التالي:

وجه المقارنة	روجر الاول	روجر الثاني	وليم الثاني
فترة الحكم			
أهم أعماله			
موقفه من المسلمين			

س: أدرسي الشكل المقابل وأجيبني على الاسئلة:



١ ما تشير إليه الصورة.....

٢. الحاكم الذي ضربت في عهده.....



س: ادرسي الشكل المقابل وأجيبني على ما يليه:

- سمي ما تشير إليه الصورة

- العالم المسلم الذي رسم
الشكل.....

س: برهني على حرص الصقليين على إحياء
العلاقات الحضارية بينهم وبين العرب.

.....
.....
.....
.....

مظاهر تأثر الحضارات الاوربية بالحضارة الاسلامية في مجالات المنهج العلمي والآداب والجغرافيا والفلك والرياضيات

س: وضح الافكار التي يقوم عليه المنهج العلمي عند المسلمين

- ١
- ٢
- ٣
- ٤

س: دلل ايمان المسلمين بفكرة التخصص

-
-
-

س ٤: برهنني: بغ الشعر العربي درجة فائقة من السمو ودقة الاحكام

-
-

س: قارني بين علماء المسلمين وفلاسفة اليونان من حيث المنهج العلمي

وجه المقارنة	علماء المسلمين	اليونان

س: برهنني: تأثر الاوربيون بشعر الموشحات والازجال

-
-
-

س: ضعني مفهوما للشعر التعليمي

س: دللي على اهتمام الاوربيون بالمؤلفات الادبية عند العرب

-
-
-
-



س: ادرسي خريطة أوروبا المقابلة وأجيبني على ما يليها:

ضعي الرمز (س) في الجزيرة التي ولد فيها الشعر الايطالي.

سمي الدولتين اللتين ظهر فيهما شعر الموشحات والازجال

س: أعطي أمثلة على أهم انجازات المسلمين في علم الجغرافيا

س: فسر العبارة لم يقتصر دور الجغرافيين المسلمين على نقل معلومات اليونان وترجمتها.

س: ١٣: دلي على صحة العبارة: تشير كثير من الدراسات أن المسلمين هم أول من اكتشف أمريكا

س: قارني بين أبو عبدالله محمد البتاني ونصر الدين الطوسي

س: فسري العبارة: يعترف الاوروبيون صراحة بأنهم تلاميذ المسلمين في علم الفلك

وجه المقارنة	أبو عبدالله محمد البتاني	ونصر الدين الطوسي
مكائنه		
مولفاته		

عرفي الارقام الهندية

س: برهني استخدام المسلمين للتقاويم الفلكية

س: فسر لم يقتصر فضل الثقافة الاسلامية في ميدان الرياضيات
على علم الحساب

س: فسر لم يقتصر المسلمين على معلومات
اليونان

مظاهر تأثر الحضارات الاوربية بالحضارة الاسلامية في مجالات العلوم والعمارة والحياة الاجتماعية والصناعة

س: أعطي أمثلة على أهم الاطباء المسلمين

.....

س: دلل كان عدد المختصين والمؤلفين من الاطباء المسلمين كبيرا.

.....

س: أكمل الجدول التالي:

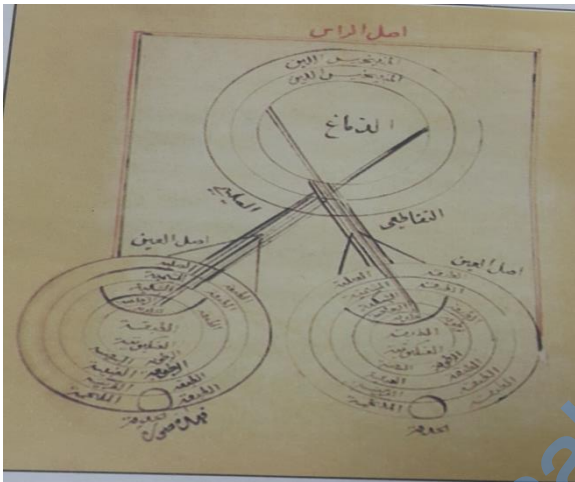
الطبيب	التخصص	أهم الانجازات	المؤلفات	ملاحظات

س: أعطي أمثلة على أهم إنجازات الرازي

.....
.....
.....
.....

س: أثبتني اعتراف الاوروبيون بفضل الرازي

.....
.....
.....
.....



١. سمي ما تشير إليه الصورة

٢. الطبيب العماني الذي رسم الصورة

هو.....

٣. من مؤلفات هذا الطبيب.....

س: أكمل الجدول التالي بأهم إنجازات المسلمين في العلوم المختلفة:

العلوم	أهم الانجازات	أهم المؤلفات

س: وضح أهم سمات العمارة الإسلامية

.....

.....

.....

.....

س: فسر العبارة: أجمع علماء الغرب المسلمون على أن المسلمين تفوقوا تفوقاً باهراً في ميدان الفيزياء

١-.....

٢-.....

٣-.....

س: علل تصميم المدخل الحربي في باب القلعة الى داخلها وجعله متعرجاً على شكل زاوية قائمة

.....

.....

.....

فسري: تأثر تأثر الاوربيون بالعمارة الإسلامية في المجال الحربي

.....

.....

.....

.....

.....

.....

س: ادرسي الاشكال التالية وأجبي على ما يأتي:

١. سمي ما تشير إليه الصور التالية:



٢- استنتجي من الاشكال نوع العمارة.....

٣. اعطي أمثلة على أهم الدول الاوربية التي تأثرت بهذا الفن من العمارة

...../...../...../.....

س: فسري تغيرت نظرة الاوربيون الى المرأة بعد احتكامهم بالمسلمين.

.....
.....
.....

س: اعطي أمثلة على أهم الصناعة التي تجلت فيها مهارة المسلمين

١.....
٢.....
٣.....
٤.....
٥.....

صنفي الاقمشة التالية حسب المدن التي تنتمي إليها:

	قماش الفستيان
	قماش الدمشقي
	قماش الموصلين
	قماش التابي



ادرس الخريطة وأجيبني على ما يليها:

١- استرجع الدول التي عثر فيها على حلي وزخارف عليها مسحة شرقية

.....و.....و.....و.....

٢- ظللي على الخريطة الاوربية التي أقام فيها العرب مصانع للورق

٣- سمى دولتين أوروبيتين تأثرتا بصناعة قماش التابي

س: "تأثر الإيطاليون في عصر النهضة بصناعة المعادن الشرقية"

.....

.....

.....

.....

س: قارني بين مواد صنع الورق عند المسلمين والصينيين

الصينيين	المسلمين

ادرسى الخريطة وأجيبى على ما يليها:

١- استخرجي من الخريطة المدينة التي أقيم فيها أول مصنع للورق في البلاد الإسلامية.

٢- ضعي دائرة حول المدينة التي ينسب اليها قماش الفستيان

٣- ظللي المنطقة التي عرفت بصناعة الزجاج



س: ادرسي الخريطة التالية وأجيبني على ما يليها:



- ١- استخرجي من الخريطة المدينة التي اشتهرت بصناعة الاسلحة
- ٢- سمي المدينة التي نسب اليها الاوروبيون النوع الممتاز من الجلود
- ٣- ضعي دائرة حول المدينة التي كانت تزدهم بالآلاف الحمامات العامة.

س: صممي خريطة مفاهيم بالنتائج المترتبة على تأثير الحضارة الاسلامية على الحضارة الاوربية



المديرية العامة للتربية و التعليم بمحافظة جنوب الباطنة
الامتحان التدريسي للصف الحادي عشر
للعام الدراسي ١٤٣٧/١٤٣٨ هـ - ٢٠١٦ / ٢٠١٧ م
الفصل الدراسي الثاني - الدور الأول

• زمن الإجابة: ساعتان

• المادة: الحضارة الإسلامية

أجبا عن جميع الأسئلة

السؤال الأول: ضع دائرة حول الرمز الدال على الإجابة الصحيحة من بين البدائل المعطاة:

١) الجدول الذي يوضح ترتيباً هجراً القبائل العمانية إلى الساحل الشرقي لأفريقيا من الأقدم إلى الأحدث:

ب

القبائل العمانية	الترتيب
الحرث	١
النباهة	٢
آل الجلندي	٣
البرسيج	٤

أ

القبائل العمانية	الترتيب
آل الجلندي	١
الحرث	٢
النباهة	٣
البرسيج	٤

د

القبائل العمانية	الترتيب
النباهة	١
آل الجلندي	٢
الحرث	٣
البرسيج	٤

ج

القبائل العمانية	الترتيب
الحرث	١
آل الجلندي	٢
النباهة	٣
البرسيج	٤

٢) العام الميلادي الذي انطلقت فيه السفينة العمانية الشراعية " جوهرة مسقط" من عمان إلى موانئ جنوب وجنوب شرق آسيا:

د- ٢٠١٥

ج- ٢٠١٠

ب- ٢٠٠٥

أ- ٢٠٠٠

(٢)

تابع الامتحان التدريبي للصف الحادي عشر
للعام الدراسي ١٤٣٧/١٤٣٨ هـ — ٢٠١٦ / ٢٠١٧ م
امتحان مادة: الحضارة الإسلامية - الفصل الدراسي الثاني - الدور الأول

تابع السؤال الأول :

٣) الرقم الذي يشير إلى الساحل الذي استقر فيه بعض العمانيين بجنوب آسيا قديماً في

الخريطة المقابلة:



- أ- ١
ب- ٢
ج- ٣
د- ٤

٤) النمط المعماري الذي يعد أول نموذج للأسوار ذات النوافذ الذي تم تطويره في القاهرة

تم نقل إلى إيطاليا:

أ- الأقبية . ب- المشربيات . ج- المداخل الحربية . د- العقود المدببة .

٥) المجال الذي أسهم به العالم العماني راشد بن عميرة الرمطاني في إثراء المعرفة الإنسانية:

أ- الآداب . ب- الجغرافيا . ج- الطب . د- الفلك .

٦) الرمز الذي يشير إلى أول منطقة فتحها القائد المسلم قتيبة بن مسلم الباهلي في إقليم

وسط آسيا:



أ-	
ب-	
ج-	
د-	

تابع ٣١

(٣)

تابع الامتحان التدريبي للصف الحادي عشر
للعام الدراسي ١٤٣٧/١٤٣٨ هـ — ٢٠١٦ / ٢٠١٧ م
امتحان مادة: الدراسات الاجتماعية الفصل الدراسي الثاني - الدور الأول

تابع: السؤال الأول:

(٧) المعلم المعماري الذي يمثل أحد روائع فن العمارة الإسلامية في الهند:



ب



ا



د



ج

٨- أول تاجر وداعية عماني كان له أثر في المنطقة التي استوطن فيها من قارة آسيا:

التاجر العماني	المنطقة التي استوطن فيها
أ- عيد العزيز الملكاوي	كانتون
ب- حسن التاجر	ملقا
ج- أبو عبيدة البسيوي	كانتون
د- أبو عبيدة الصحاري	قوانتشو

(٩) الجزيرة التي حررها العمانيون من التصاري في القرن الثالث الهجري:

أ- زنجبار ب- موريشيوس ج- سقطرى د- جاوة

تابع / ٤

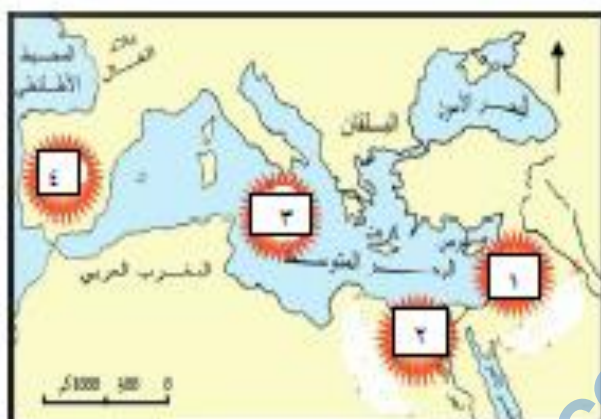
(٤)

تابع الامتحان التدريبي للصف الحادي عشر
للعام الدراسي ١٤٣٧/١٤٣٨ هـ — ٢٠١٦ / ٢٠١٧ م
امتحان مادة: الحضارة الإسلامية - الفصل الدراسي الثاني - الدور الأول

تابع السؤال الأول:

١٠) الرقم الذي يشير إلى أقدم معبر نقل من خلاله مؤثرات الحضارة الإسلامية إلى أوروبا في

الخريطة المقابلة :



أ- ١

ب- ٢

ج- ٣

د- ٤

١١) أشهر العلماء المسلمين الذين اشتهروا بالمعرفة العميقة التي توضحها المخطوطة المقابلة:



أ- ابن الهيثم.

ب- البيهقي.

ج- ابن البيطار.

د- الطوسي.

١٢) المدينة التي أنشئ فيها أول مصنع للورق في العالم الإسلامي:

أ- دمشق.

ب- بغداد.

ج- الموصل.

د- صحار.

تابع / ٥

(٥)

تابع الامتحان التدريبي للصف الحادي عشر
للعام الدراسي ١٤٣٧/١٤٣٨ هـ — ٢٠١٦ / ٢٠١٧ م
امتحان مادة: الحضارة الإسلامية ، الفصل الدراسي الثاني - الدور الأول

السؤال الثاني: أجب عن الأسئلة الآتية:

أولاً: أ- فرق بين مفهومي اللغة الأوردية واللغة السواحلية:

١- اللغة الأوردية:.....

.....

٢- اللغة السواحلية:.....

.....

ثانياً : أ- اذكر اثنين من النتائج المترتبة على فتح المسلمين منطقة وسط آسيا:

.....

.....

ب- ادرس الوصف الجغرافي ثم أجب عن الأسئلة التي تليه:

من اهم التماذج العمرانية التي بناها العمانيون وفق نموذج المدينة الاسلامية في القارة الافريقية فاتسعت بسرعة وظهرت فيها المساجد الجامعة والطرق المعبدة والمهيدة ، وشيدت فيها مبان رسمية مثل دار الشورى وانشئت بها مصانع للملابس . حتى بدأت بتصديرها للخارج ، واحيط بالمدينة سور كبير لحمايتها من هجمات الاعداء

١- ما اسم المدينة التي تناولها الوصف الجغرافي ؟

.....

٢- استنتج اهم المنجزات العمرانية العمانية في هذه المدينة.

.....

ثالثاً: - دال على ما يأتي:

١- فضل العرب المسلمين في اطلاق الأوروبيين على الكتابات اليونانية في علم الفلك.

.....

٢- التقدّم الثقافي الذي شهدته العاصمة قرطبة في القرن العاشر الميلادي.

.....

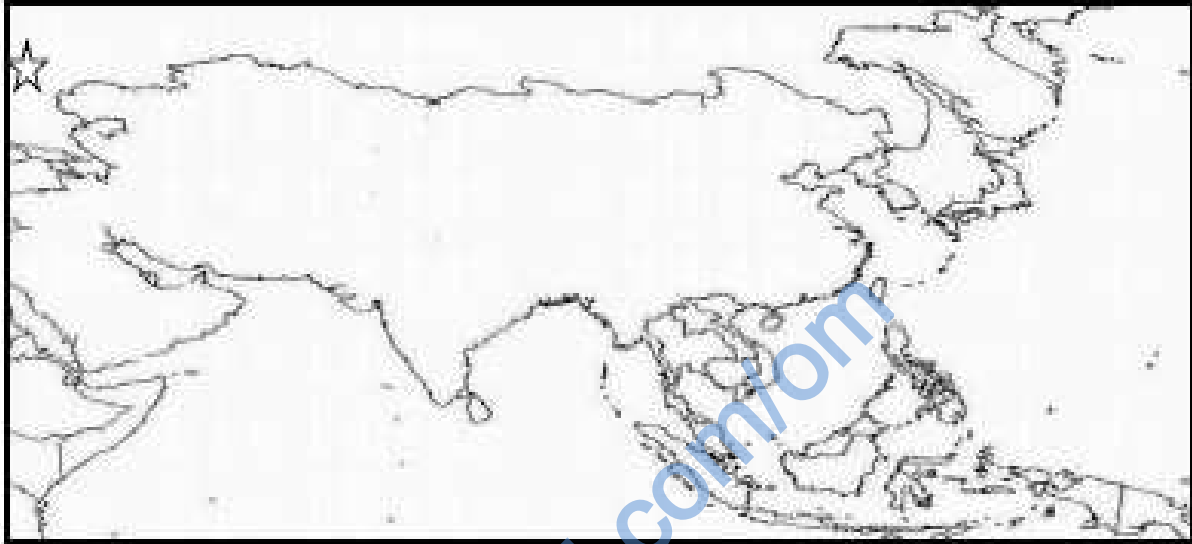
يتبع/٦

(٦)

تابع الامتحان التربوي للصف الحادي عشر
للعام الدراسي ١٤٣٧/١٤٣٨ هـ — ٢٠١٦ / ٢٠١٧ م
امتحان مادة: الحضارة الإسلامية - الفصل الدراسي الثاني - الدور الأول

السؤال الثالث:

أولاً : ادرس الخريطة التي امامك ثم أجب عن الأسئلة التي تليها:



١- ادرس على الخريطة خط سير كلا من:

- أ- أشهر هجرتين غير عربيتين إلى الساحل الشرقي لأفريقيا باستخدام الرمز : ← →
ب- رحلة إسماعيلويه بن إبراهيم بن مرداس من الملايو إلى صحار باستخدام الرمز : — — —
ج- طريق الحرير البري باستخدام الرمز :

٢- اكتب على الخريطة كلا من الأسماء الجغرافية الآتية:

- أ- الجزيرة التي عثر فيها على مساجد أثرية ومقابر تظهر عليها نقوش عربية تعود إلى القرن الخامس الهجري .
ب- دولة أسسها ناصر الدين سبكتكين في القرن (٤-٦ هـ).

٣- ضع دائرة على الدول التي كانت تعرف قديماً بكل من :
أ- بلاد (الشيلال).

ب- بلاد (الواق واق)


(٧)

تابع الامتحان التدريبي للصف الحادي عشر
للعام الدراسي ١٤٣٧/١٤٣٨ هـ — ٢٠١٦ / ٢٠١٧ م
امتحان مادة: الحضارة الإسلامية بالفصل الدراسي الثاني - الدور الأول

ثانياً: ادرس الصورتين الآتيتين اللتين توضحان بعض منجزات العرب المسلمين، ثم اجب
عن الأسئلة التي تليها:



(٢)



(١)

١ - استنتج اثنين من العلوم التي برع فيها المسلمون منذ القرن الثامن الميلادي.

.....

٢ - اذكر اثنين لكلاما مما يأتي:

أ- النتائج المترتبة على اهتمام العرب المسلمين بهذه العلوم.

.....

ب- الدول الأوروبية التي تأثرت بهذه المنجزات.

.....

٣- وضح علاقة الملك روجر الأول (١٠٦١-١١٠١م) لما تشبه الصورة الأولى.

.....

ثالثاً: أ- أكتب نبذة تاريخية عن الحروب الصليبية موضحاً ما يأتي :

١ - أهدافها الاستعمارية.

٢ - دورها في نقل الحضارة الإسلامية.

.....

.....

.....

ب- اكتشف الخطأ في العبارتين الآتيتين ثم قم بتصويبهما:

١- تصبب النوبة السامانية الى الترك وسقطت على يد النوبة الغزنوية.

.....

٢- ظهر شعر الترويلور في جنوب اسبانيا واتسم بالقوة والرقعة والخيال.

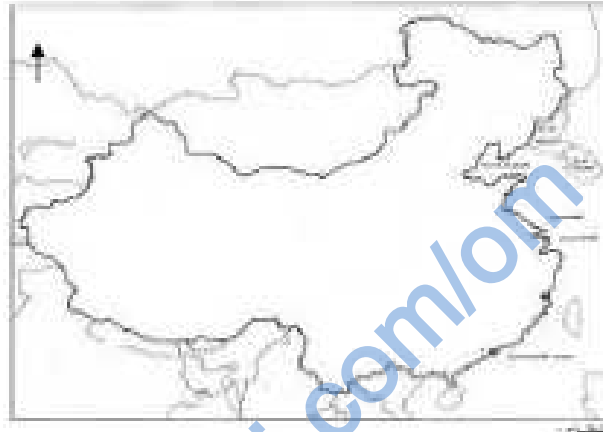
.....

(٨)

تابع الامتحان التدريبي للصف الحادي عشر
للعام الدراسي ١٤٣٧/١٤٣٨ هـ - ٢٠١٦ / ٢٠١٧ م
امتحان مادة: الحضارة الإسلامية - الفصل الدراسي الثاني - الدور الأول

المسؤال الرابع:

أولاً : ادرس خريطة دول شرق آسيا، ثم اجب عن الأسئلة التي تليها:



١ - ارسـم باستخدام الرموز الآتية في الشكل مواقع كل من المعالم المعمارية في الدول الواضحة على الخريطة.

□	مسجد تشان منار
△	مسجد هوانينغ
○	مسجد الأصحاب

٢ - اذكر اثنين من السلع التي كان يتاجر بها العمانيون مع موانئ هذه المنطقة.

.....
٣- ما الدلالة التاريخية لوجود مسجد الأصحاب في هذه المنطقة الجغرافية.
.....

يتبع /٩

(٩)

تابع الامتحان التدريبي للصف الحادي عشر

(١)

امتحان الصف الحادي عشر

للعام الدراسي ١٤٣٧/١٤٣٨ هـ - ٢٠١٦/٢٠١٧ م

الدور الأول - الفصل الدراسي الثاني

المادة: الحضارة الإسلامية

أجب عن جميع الأسئلة الآتية

السؤال الأول: ضع دائرة حول رمز الإجابة الصحيحة لكل مفردة من المفردات الآتية:

(١) الدولة التي يقع فيها مسجد الأصحاب الذي يمتاز بتصميمه العربي، وبنى عام ١٠٠٩م:
أ- الهند. ب- الصين. ج- باكستان. د- سيرلانكا.

(٢) شخصية ذات أصول عمانية حكمت ملقا، وعرفت بمنصور شاه الكبير:
أ- أحمد بن إبراهيم. ب- عبد الله بن القاسم. ج- إسماعيلويه بن إبراهيم. د- سعيد بن عباد.

(٣) عام ميلادي تم فيه تسيير سفينة جوهرة مسقط لموانئ الصين وجنوب شرق آسيا:
أ- ٢٠٠٠ ب- ٢٠٠٥ ج- ٢٠١٠ د- ٢٠١٥

(٤) الترتيب الصحيح لمراحل فتوحات القائد المسلم قتيبة بن مسلم الباهلي لوسط آسيا من الأقدم إلى الأحدث:

ب-
١- سمرقند.
٢- طخارستان.
٣- الشاش.

أ-
١- طخارستان.
٢- سمرقند.
٣- الشاش.

د-
١- الشاش.
٢- طخارستان.
٣- سمرقند.

ج-
١- طخارستان.
٢- الشاش.
٣- سمرقند.

(٢)

تابع امتحان الصف الحادي عشر
للعام الدراسي ١٤٣٧/١٤٣٨ هـ - ٢٠١٦/٢٠١٧ م
الدور الأول - الفصل الدراسي الثاني
المادة: الحضارة الإسلامية

تابع السؤال الأول:

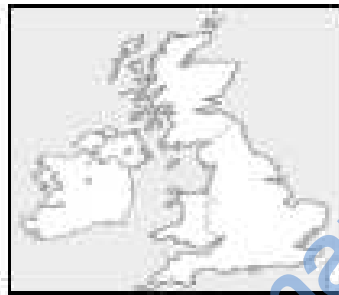
٥) الميناء الذي انطلق منه التاجر العماني محمد بن بشار للمساهمة في نشر الإسلام في سواحل جنوب شرق آسيا:

أ- صحار. ب- مطرح. ج- ريسوت. د- صور.

٦) جزيرة تقع في أرخبيل لامو على الساحل الكيني اتخذها النباهنة عاصمة لهم:

أ- زنجبار. ب- مدغشقر. ج- كلوة. د- ياتي.

٧) الخريطة الصحيحة التي تمثل الأندلس:



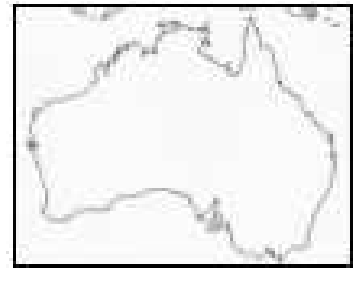
ب-



أ-



د-



ج-

٨) النبات الذي تعرف عليه الصليبيون على ساحل سوريا ونقلوه إلى أوروبا، ويدخل في تركيب الحديد من الوصفات الطبية:

أ- قصب السكر. ب- البطيخ. ج- الذرة البيضاء. د- المشمش.

يشع/٢

(٣)

تابع امتحان الصف الحادي عشر
للعام الدراسي ١٤٣٧/١٤٣٨ هـ - ٢٠١٦/٢٠١٧ م
الدور الأول - الفصل الدراسي الثاني
المادة: الحضارة الإسلامية

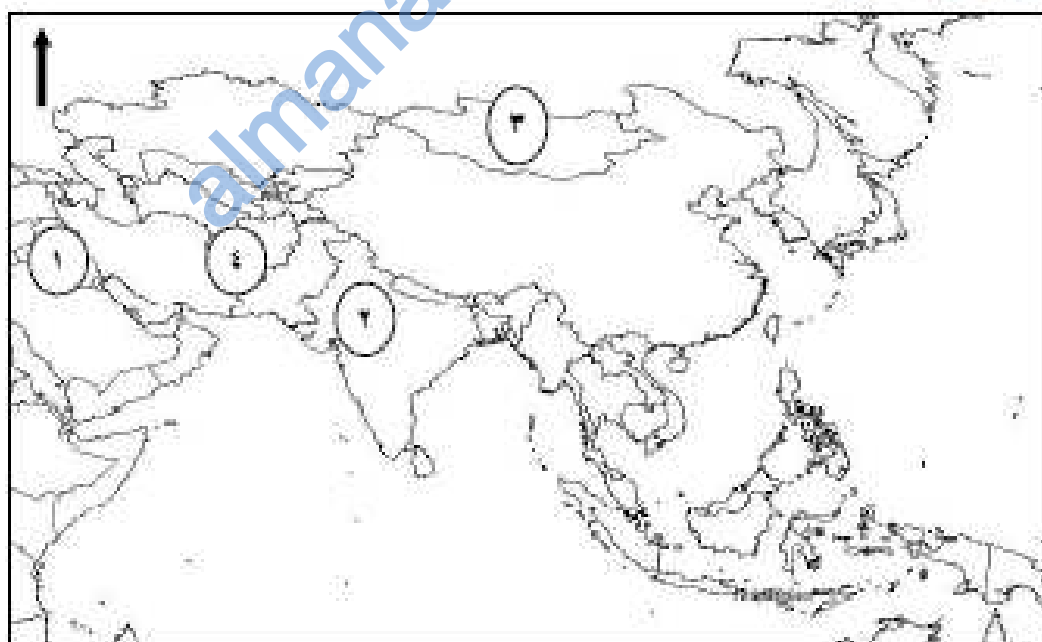
تابع السؤال الأول:

٩) من أشهر كتب ابن حزم بين فيه مميزات شعر التروبادور:
أ- الزيج الصائبي. ب- طوق الحمامة. ج- جامع المفردات. د- نثار الجواهر.

١٠) طبيب مسلم مشهور أطلق اسمه على أفخم أجنحة جامعة يرئسون الأمريكية:
أ- راشد العيني. ب- أبو بكر الرازي. ج- نصير الدين الطوسي. د- جابر بن حيان.

١١) المدينة التي أنشئ فيها أول مصنع للورق في البلاد الإسلامية:
أ- دمشق. ب- القاهرة. ج- بغداد. د- القيروان.

١٢) الرقم الصحيح الذي يشير إلى موقع خراسان التي كان واليا عليها القائد العماني المهلب بن أبي صفرة:



د-٤

ج-٢

ب-٢

أ-١

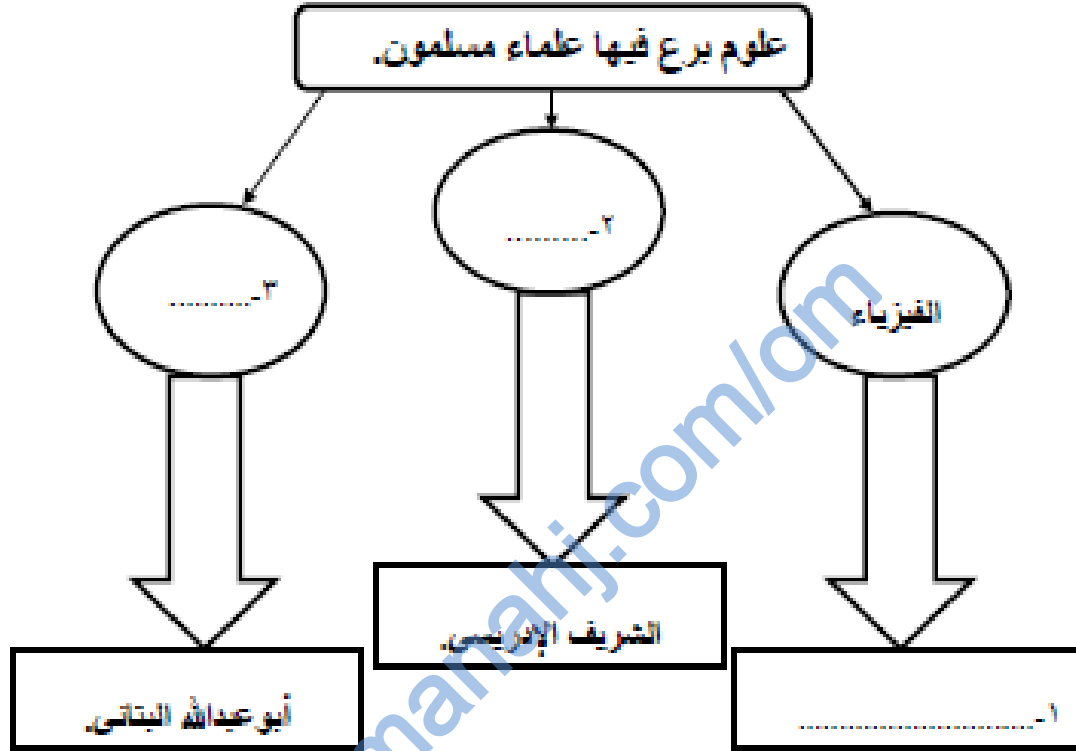
يتم/٤

(٥)

تابع امتحان الصف الحادي عشر
للعام الدراسي ١٤٣٧/١٤٣٨ هـ - ٢٠١٦/٢٠١٧ م
الدور الأول - الفصل الدراسي الثاني
المادة: الحضارة الإسلامية

تابع/ السؤال الثاني:

ب) أكمل الخريطة الذهنية التالية :



ثالثاً:

أ) قارن بين الدويلات الإسلامية المستقلة في جنوب آسيا وفق الجدول التالي:

اسم الدولة	بداية النشأة بالقرن الهجري.	المؤسس
الغزنوية.
المغولية.

بتبع/٦

(٦)

تابع امتحان الصف الحادي عشر
للعام الدراسي ١٤٣٧/١٤٣٨ هـ - ٢٠١٦/٢٠١٧ م
الدور الأول - الفصل الدراسي الثاني
المادة: الحضارة الإسلامية

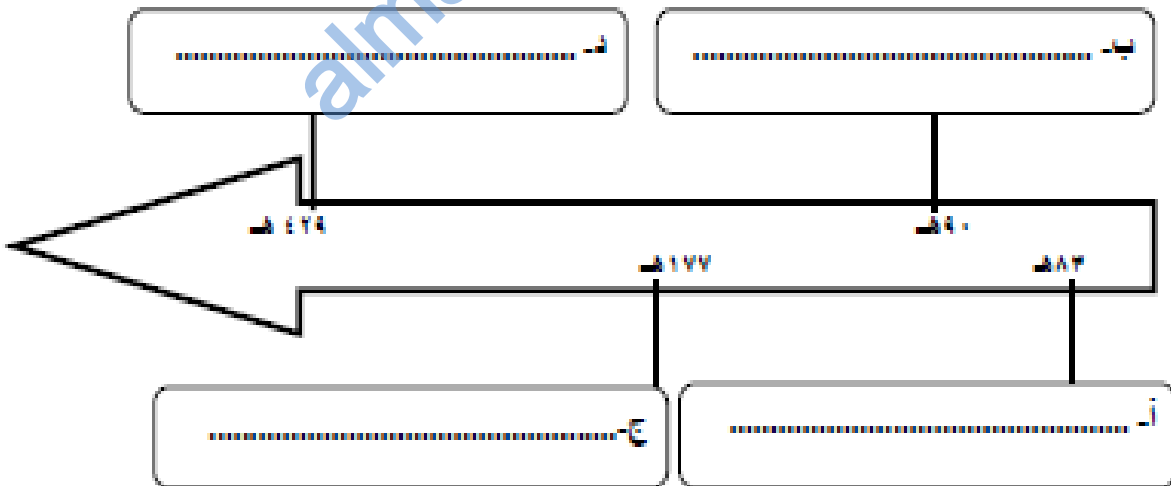
تابع/ السؤال الثاني:

تألتا: ب) فسر: تختبر الصين أبرز الوجهات التجارية العالمية في شرق آسيا
بالقرن الهجري الأول.

السؤال الثالث: أجب عن الأسئلة التالية:

أولاً: رتب الأحداث التاريخية الآتية وفق الفترة الزمنية التي وقعت فيها مستعينا
بالمسطرة الزمنية:

(قيام دولة السلاجقة، فتح بخارى، هجرة آل الجلندي إلى منطقة لامو،
تأسيس الإمامة الإباضية الثانية)



يشبع/٧

(٧)

تابع امتحان الصف الحادي عشر
للعام الدراسي ١٤٣٧/١٤٣٨ هـ - ٢٠١٦/٢٠١٧ م
الدور الأول - الفصل الدراسي الثاني
المادة: الحضارة الإسلامية

تابع / السؤال الثالث:

تانيا : أ) دلل لما يلي :

١- تأثر الإيطاليون في عصر النهضة بصناعة المعادن الشرقية.

.....
.....


٢- حرص الصقليون على إحياء العلاقات الحضارية بينهم وبين العرب عام ١٩٥٩ م.

.....
.....

ب) أنظر للصورة التي أمامك، ثم أجب عن الأسئلة التالية:

١- ما اسم المطبعة التي كانت من نتائجها ظهور الصحيفة التي تشير إليها الصورة؟

٢- سم الحاكم الذي أنشاء هذه المطبعة.



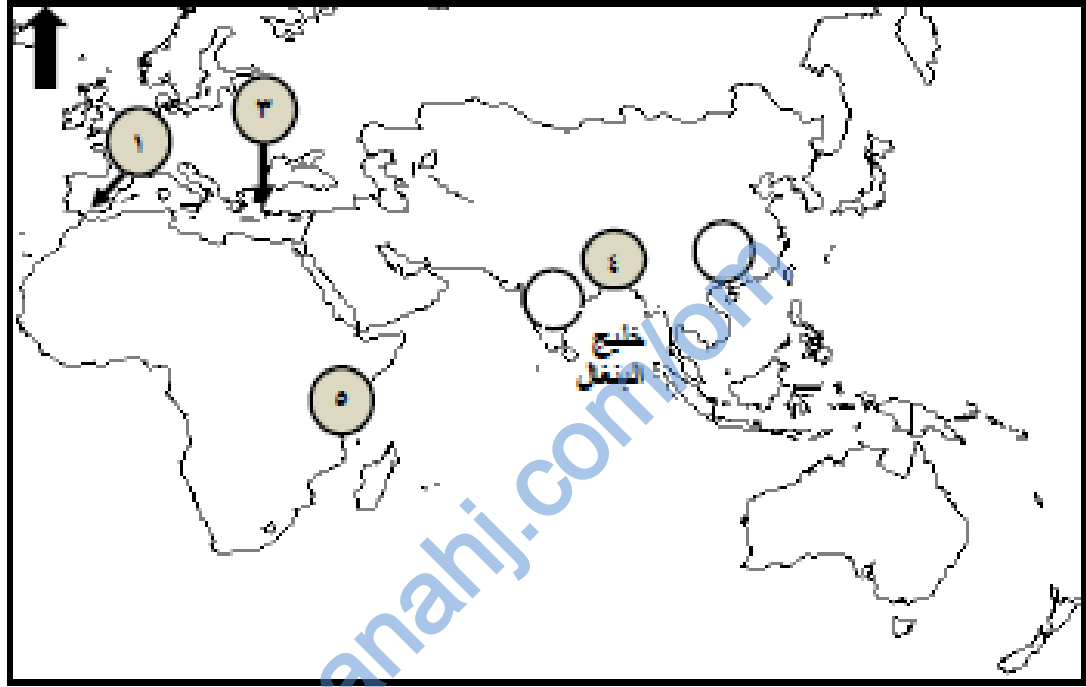
يتبع

(أ)

تابع امتحان الصف الحادي عشر
للعام الدراسي ١٤٣٧/١٤٣٨ هـ - ٢٠١٦/٢٠١٧ م
الدور الأول - الفصل الدراسي الثاني
المادة: الحضارة الإسلامية

تابع السؤال الثالث:

تالفا: أدرس الخريطة الآتية ثم أجب عن الأسئلة التي تليها :



أ- ما الرقم الدال على عاصمة الدولة العثمانية التي كانت أحد معاير انتقال الحضارة الإسلامية إلى أوروبا.

ب- أكتب الرقم (٢) في الدائرة التي تشير للدولة التي يوجد بها مسجد قطب منار.
ج- ما طرق انتشار الإسلام في المنطقة المشار إليها بالرقم (٥) في عهد حكم الدولة اليوسعيدية.

د- ما الجهة الرئيسية التي تقع فيها الدولة المشار إليها بالرقم (٤) بالنسبة لخليج البنغال.

يتبع/٩

(٩)

تابع امتحان الصف الحادي عشر
للعام الدراسي ١٤٣٧/١٤٣٨ هـ - ٢٠١٦/٢٠١٧ م
الدور الأول - الفصل الدراسي الثاني
المادة: الحضارة الإسلامية

السؤال الرابع: أجب عن الأسئلة التالية :

أولا : علل ما يلي:

أ- تمتاز طريقة تصميم العمارة للمدخل الحربي في باب القلعة إلى داخلها بالتحرج على شكل زاوية قائمة.

.....

ب- تلقى العثمانيون أثناء فتوحاتهم في أوروبا ترحيبا من شعوبها.

.....

ثانيا :

"نشطت العلاقات والصلات الحضارية بين عمان والهند من فترات سبقت ظهور الإسلام، واستوطن كثير من العمانيين مناطق مختلفة في الهند، وخاصة على ساحل الهند الغربي".

في ضوء العبارة السابقة أجب عن الأسئلة الآتية:

أ- ما العامل الرئيسي لنشاط العلاقات بين عمان والهند منذ القدم.

.....

ب- ما الاسم الذي يطلق على ساحل الهند الغربي ؟

.....

يتبع/١٠

(١٠)

تابع امتحان الصف الحادي عشر
للعام الدراسي ١٤٣٧/١٤٣٨ هـ - ٢٠١٦/٢٠١٧ م
الدور الأول - الفصل الدراسي الثاني
المادة: الحضارة الإسلامية

تابع / السؤال الرابع:

تالفا:

أ - صنف العلماء المسلمين الأتية أسماءهم في مجال العلوم الطبية حسب إنجازاتهم كما في الجدول: (ابن سينا - أبو القاسم الزهراوي - علي بن العباس - ابن النفيس)

الإنجاز	العالم المسلم
تمكن في كتابه الملكي من اكتشاف أخطاء كبيرة لأطباء اليونان.
أصبح كتابه المرجع الأساسي في تدريس الطب بالجامعات الأوروبية.
صاحب الفضل الأول في الكشف عن الدورة الدموية في الرئتين.
أشهر جراحى العرب، قام بالعديد من العمليات الجراحية في العين والأسنان.

ب - " هناك العديد من العوامل التي ساعدت على انتشار الإسلام في منطقة جنوب شرق آسيا" أذكر اثنتين منها

.....

.....

.....

انتهت الأسئلة مع الدعاء للجميع بالتوفيق والنجاح.

(١)

امتحان الصف الحادي عشر

للعام الدراسي ١٤٣٧/١٤٣٨ هـ - ٢٠١٦/٢٠١٧ م

الدور الثاني - الفصل الدراسي الثاني

المادة: الحضارة الإسلامية

أجب عن جميع الأسئلة الآتية

السؤال الأول: ضع دائرة حول رمز الإجابة الصحيحة لكل مفردة من المفردات الآتية:

١) يطلق على المنطقة الواقعة بين شبه القارة الهندية وجنوب الصين:
أ- شرق آسيا. ب- جنوب شرق آسيا. ج- غرب آسيا. د- شمال شرق آسيا.

٢) العام الميلادي الذي بني فيه مسجد الأصحاب بالصين:
أ- ١٠٠٩ ب- ١١٠٩ ج- ١٢٠٩ د- ١٣٠٩

٣) السفينة الشراعية العمانية التي تم تصيرها إلى موانئ الصين والهند عام ١٩٨١ م:
أ- جوهرة مسقط. ب- الرحماني. ج- صحار. د- سلطنة.

٤) الترتيب الصحيح لمراحل قيام الدويلات المنبثقة في وسط آسيا من الأقدم إلى الأحدث:

١- النوبهية	أ-	١- السامانية	ب-
٢- السامانية		٢- النوبهية	
٣- السلجوقية		٣- السلجوقية	
١- السلجوقية	ج-	١- السامانية	د-
٢- السامانية		٢- السلجوقية	
٣- النوبهية		٣- النوبهية	

يضع/٢

(٢)

تابع امتحان الصف الحادي عشر
للعام الدراسي ١٤٣٧/١٤٣٨ هـ - ٢٠١٦/٢٠١٧ م
الدور الثاني - الفصل الدراسي الثاني
المادة: الحضارة الإسلامية

تابع/ السؤال الأول:

٥) الشجرة التي أدخلها العمانيون إلى منطقة شرق إفريقيا:
أ- القرنفل. ب- قصب السكر. ج- النعناع. د- جوز الهند.

٦) الإمام العماني الذي استطاع طرد البرتغاليين من آخر معاقلهم بشرق إفريقيا:
أ- سلطان بن سيف. ب- سيف بن سلطان. ج- أحمد بن سعيد. د- ناصر بن مرشد.

٧) عاصمة الأمويين في الأندلس:
أ- قرطبة. ب- سرقسطة. ج- بلنسية. د- طليطلة.

٨) جميع ما يلي كلمات من أصول عربية ذكر لها الأوروبيين ما عدا:
أ- طاولة (Tavola). ب- بترول (Petroleum).
ج- قطن (Cotton). د- صابونة (Sapona).



٩) من خلال دراسة الصورة التي أمامك، فن العمارة التي نقلها الأوربيون إلى بلادهم من العمارة الإسلامية:
أ- العقود المدببة.
ب- العقود المنقطة.
ج- المشربيات والتشرفات.
د- البناء المستدير.

يشع/٣

(٣)

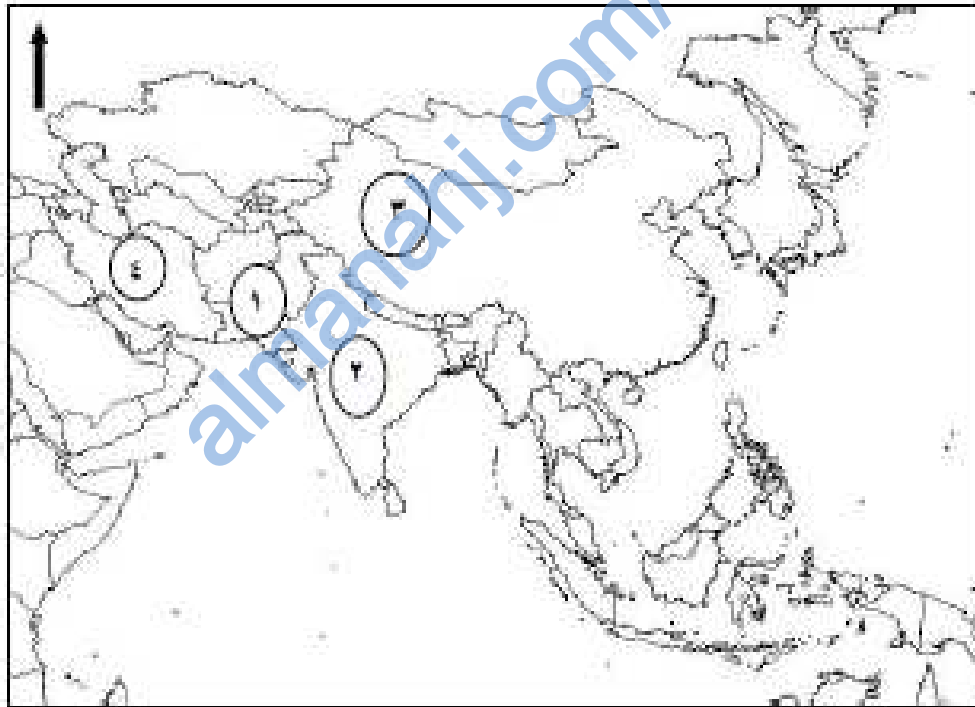
تابع امتحان الصف الحادي عشر
للعام الدراسي ١٤٣٧/١٤٣٨ هـ - ٢٠١٦/٢٠١٧ م
الدور الثاني - الفصل الدراسي الثاني
المادة: الحضارة الإسلامية

تابع/ السؤال الأول:

(١٠) من مؤلفات العالم المسلم أبو عبدالله محمد البتاني:
أ- طوق الحمامة. ب- الزيج الصائبي. ج- الزيج الإيلخاني. د- جامع المفردات.

(١١) التخصص الذي برع فيه العالم المسلم علي بن العباس:
أ- الفلك. ب- الرياضيات. ج- الجغرافيا. د- الطب.

(١٢) الرقم الصحيح الذي يشير إلى الدولة التي تقع فيها تركستان الشرقية حاليًا:



د-٤

ج-٣

ب-٢

أ-١

تابع/٤

(٤)

تابع امتحان الصف الحادي عشر
للعام الدراسي ١٤٣٧/١٤٣٨ هـ - ٢٠١٦/٢٠١٧ م
الدور الثاني - الفصل الدراسي الثاني
المادة: الحضارة الإسلامية

السؤال الثاني: أجب عن الأسئلة التالية:

أولاً: استبدل العبارتين الآتيتين بـ (المفهوم / المصطلح) الدال عليها:

- أ- (.....) إمبراطورية إسلامية حكمت أجزاء كبيرة من شبه القارة الهندية وقد أسسها ظهير الدين بابر في القرن السادس الهجري واستمرت ٣٢٢ عام.
- ب- (.....) مدينة تقع حالياً في جمهورية أوزبكستان كانت عاصمة لإقليم ما وراء النهر وقد أطلق عليها العرب اسم (اليقونه).

ثانياً : صنف عوامل نجاح العمانيين في نشر الحضارة الإسلامية بالسواحل الآسيوية الآتية إلى مجالاتها كما في الجدول التالي : (إسهام السفن العمانية في نقل السلع - امتداد الساحل العماني على مياه المحيط الهندي - قيام الإمامة الإباضية الثانية - موقع عمان الجغرافي بين الحضارات).

المجالات	العوامل
طبيعية	-
سياسية	-
اقتصادية	-

يتبع/٥

(٥)

تابع امتحان الصف الحادي عشر
للعام الدراسي ١٤٣٧/١٤٣٨ هـ - ٢٠١٦/٢٠١٧ م
الدور الثاني - الفصل الدراسي الثاني
المادة: الحضارة الإسلامية

تابع/ السؤال الثاني:

تالفاً: أ) انسب المعالم التاريخية التالية بكتابة رمز كل صورة أسفل اسم الدولة/ المدينة التي تنتمي إليها كما في الجدول التالي:



ب



أ



د



ج

الدولة/ المدينة	الهند	زنجبار	إسطنبول	المالديف
رمز الصورة

يتبع/٦

(٦)

تابع امتحان الصف الحادي عشر
للعام الدراسي ١٤٣٧/١٤٣٨ هـ - ٢٠١٦/٢٠١٧ م
الدور الثاني - الفصل الدراسي الثاني
المادة: الحضارة الإسلامية

تابع / السؤال الثاني :

ب) علل ما يلي:

١- إقبال الإرساليات التصويرية في أوروبا على دراسة اللغة العربية في فترة الحروب الصليبية.

٢- أصبحت الدولة العثمانية وسطا تجاريا بين الشرق والغرب.

السؤال الثالث: أجب عن الأسئلة الآتية :

أولاً: أذكر اثنين مما يلي:

أ- أسباب الفتح الإسلامي لوسط آسيا.

ب- أشهر كتب أبو بكر الرازي في الطب.

(٧)

تابع امتحان الصف الحادي عشر
للعام الدراسي ١٤٣٧/١٤٣٨ هـ - ٢٠١٦/٢٠١٧ م
الدور الثاني - الفصل الدراسي الثاني
المادة: الحضارة الإسلامية

تابع / السؤال الثالث:

تانياً: دال على ما يلي:

أ- أثر التجار العمانيين في جزيرة جاوة بإندونيسيا.

ب- تأثر الغرب بالحضارة الإسلامية من خلال الحروب الصليبية في مجال الآلات والوسائل العسكرية.

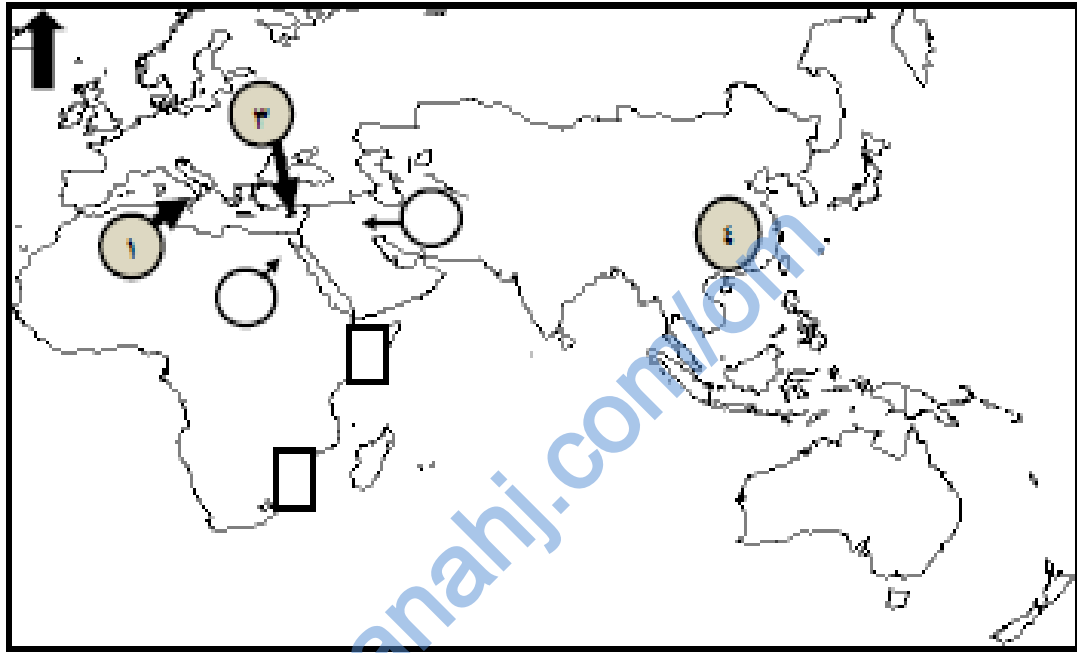
يتبع /

(٨)

تابع امتحان الصف الحادي عشر
للعام الدراسي ١٤٣٧/١٤٣٨ هـ - ٢٠١٦/٢٠١٧ م
الدور الثاني - الفصل الدراسي الثاني
المادة: الحضارة الإسلامية

تابع/ السؤال الثالث

تالفا: أدرس الخريطة الآتية ثم أجب عن الأسئلة التي تليها :



أ- ما الرقم الدال على جزيرة صقلية التي كانت أحد معاير انتقال الحضارة الإسلامية إلى أوروبا.

ب- أكتب الرقم (٢) في الدائرة التي تشير إلى موقع المدينة التي أنشئ فيها أول مصنع للورق في البلاد الإسلامية.

ج- ما اسم التاجر العماني الذي بنى بالقرن الهجري الثاني مسجدًا في الدولة المشار إليها بالرقم (٤).

د- ظلل المستطيل الصحيح الذي يشير إلى الموقع الذي هاجرت إليه قبائل الحرت العمانية عام ٩٠٧ م.

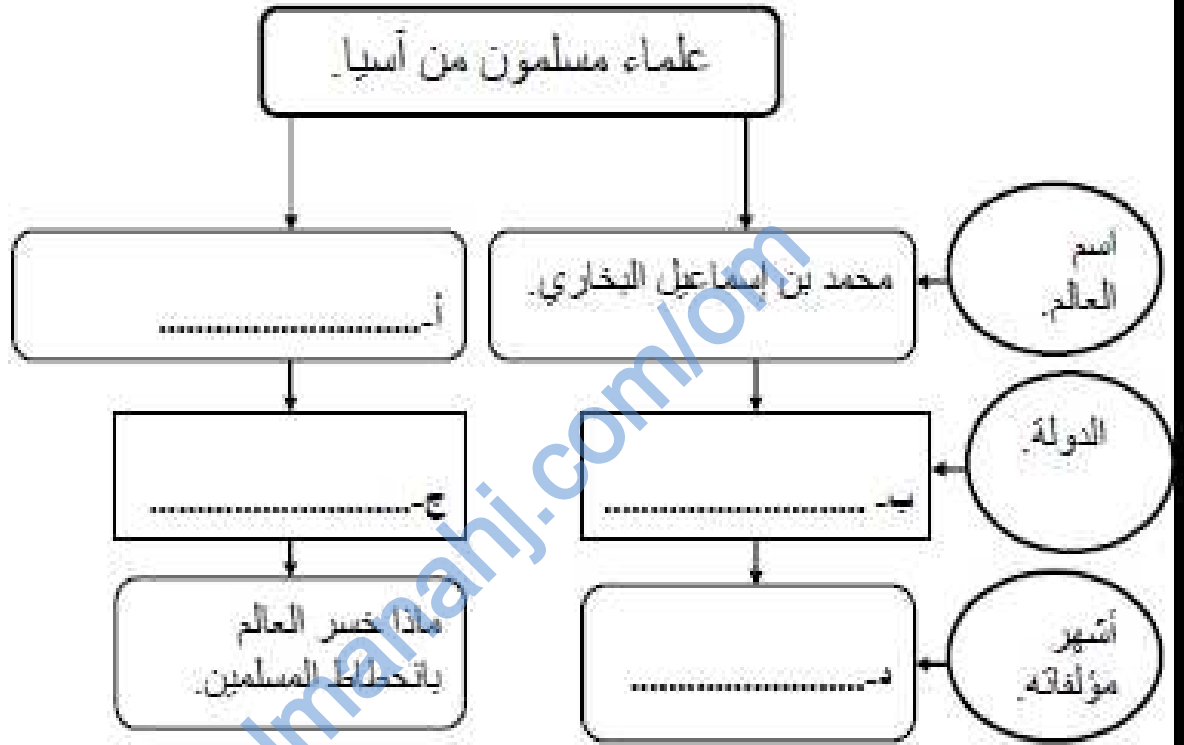
ينبع / ٩

(٩)

تابع امتحان الصف الحادي عشر
للعام الدراسي ١٤٣٧/١٤٣٨ هـ - ٢٠١٦/٢٠١٧ م
الدور الثاني - الفصل الدراسي الثاني
المادة: الحضارة الإسلامية

السؤال الرابع: أجب عن الأسئلة التالية :

أولاً : أكمل الخريطة الذهنية التالية:



ثانياً :

رتب الأحداث التالية بكتابة الأرقام (١، ٢، ٣، ٤) أمام الأحداث من الأقدم إلى الأحدث:

(.....) نهاية الحروب الصليبية.

(.....) سيطرة المسلمين على جزيرة صقلية نهائياً.

(.....) نهاية الدولة العثمانية.

(.....) وصول الفتوحات الإسلامية إلى فيينا عاصمة النمسا.

يتبع / ١٠

(١٠)

تابع امتحان الصف الحادي عشر
للعام الدراسي ١٤٣٧/١٤٣٨ هـ - ٢٠١٦/٢٠١٧ م
الدور الثاني - الفصل الدراسي الثاني
المادة: الحضارة الإسلامية

تابع السؤال الرابع

ثالثاً: قارن بين حكم أسرة النباهنة وحكم أسرة اليوسجيد في شرق إفريقيا كما في الجدول التالي:

وجه المقارنة	العاصمة.	بداية حكم الأسرة بالقرن الميلادي.
النباهنة.
اليوسجيد.

انتهت الأسئلة مع الدعاء للجميع بالتوفيق والنجاح.

almanahj.com/om

almanahj.com/om

almanahj.com/om

almanahj.com/om

almanahj.com/om