

شكراً لتحميلك هذا الملف من موقع المناهج العمانية



حل أنشطة الكتاب

[موقع المناهج](#) ⇨ [المناهج العمانية](#) ⇨ [الصف الحادي عشر](#) ⇨ [جغرافيا](#) ⇨ [الفصل الثاني](#) ⇨ [الملف](#)

تاريخ نشر الملف على موقع المناهج: 2023-04-25 07:34:18 | اسم المدرس: عابدة الريامي

التواصل الاجتماعي بحسب الصف الحادي عشر



روابط مواد الصف الحادي عشر على تلغرام

[الرياضيات](#)

[اللغة الانجليزية](#)

[اللغة العربية](#)

[التربية الاسلامية](#)

المزيد من الملفات بحسب الصف الحادي عشر والمادة جغرافيا في الفصل الثاني

[نموذج إجابة الامتحان الرسمي الفترة الصباحية](#)

1

[نموذج إجابة الامتحان النهائي الجديد](#)

2

[امتحان تحريبي نهائي جديد](#)

3

[حل أنشطة الكتاب](#)

4

[ملخص الوحدة الرابعة السياحة](#)

5

حل أنشطة كتاب الجغرافيا، الصف الحادي عشر الفصل الدراسي الثاني

اعداد الأستاذة عايذة الريامي



نشاط (١) :

- أ. بالاستعانة بالنص السابق، والشكل (١٧) :
١. لخص في جدول فوائد الاتصالات لكل من: الفرد، والمجتمع، والدولة.
 ٢. ما أهم اختراع في مجال الاتصالات من وجهة نظرك؟ ادعم رأيك بالأدلة.
- ب. تساعد الاتصالات على إنجاز الأنشطة الاقتصادية بسرعة، وبجودة وكفاءة عالية. في ضوء ذلك أعط مثلاً توضح فيه دور وسائل الاتصال المختلفة في سرعة إنجاز الأنشطة الاقتصادية وزيادة كفاءتها.

نشاط (١) :

أ. بالاستعانة بالنص السابق، والشكل (١٧) :

١. لخص في جدول فوائد الاتصالات لكل من: الفرد، والمجتمع، والدولة.

الدولة	المجتمع	الفرد
نمو اقتصاد الدولة	الترابط بين افراد المجتمع الواحد ، وبينه وبين المجتمعات الأخرى	التواصل مع الآخرين داخل الدولة وخارجها
تعزيز العلاقات مع دول العالم	توفير فرص العمل	معرفة كل ما هو جديد في مختلف مجالات الحياة
تسهيل التواصل بين أجهزة الدولة وأفراد المجتمع	تطور المجتمع ثقافياً وعلمياً	متابعة اخبار واحداث عالمية
انتشار الأمن والاستقرار في أرجاء الدولة	التواصل بين أفراد المجتمع والحكومة	أمكانية الحصول على سلع وخدمات من مختلف دول العالم

٢. ما أهم اختراع في مجال الاتصالات من وجهة نظرك؟ ادعم رأيك بالأدلة.

الترانزستور، فهو أهم المكونات
الإلكترونية الحديثة التي تدخل في تصنيع
أجهزة الاتصالات

يأخذ بوجهة نظر الطالب

ب. تساعد الاتصالات على إنجاز الأنشطة الاقتصادية بسرعة، وبجودة وكفاءة عالية. في ضوء ذلك أعط مثلاً توضّح فيه دور وسائل الاتصال المختلفة في سرعة إنجاز الأنشطة الاقتصادية وزيادة كفاءتها.

التجارة	الصناعة	الزراعة
<p>- ساهمت الاتصالات في سرعة إنجاز المعاملات التجارية، فظهر ما يسمى بالاقتصاد الرقمي</p> <p>- سهلت عملية التسويق والترويج لمختلف الخدمات والسلع باستخدام وسائل الاتصال المختلفة كالإنترنت وتطبيقات الهاتف والتلفاز والراديو.</p> <p>- سهلت الحصول على السلع والخدمات حول العالم عن طريق الهاتف وتطبيقاته.</p>	<p>تستخدم الاتصالات في تيسير الاتفاقيات المرتبطة بالصناعة، وتسهيل سير العمل في المصانع</p>	<p>سهلت الاتصالات على المزارعين الحصول على الأدوات الزراعية وتبادل الخبرات في مجال الزراعة بتالي تطوير المنتجات وزيادة جودتها</p>

اضيفي امثلة

اقرأ الخبر الصحفي، وبلاستعانة بخريطة العالم الواردة في نهاية الكتاب :

ماليزيا تطلق قمرا اصطناعيا للاتصالات

فائق السرعة في ماليزيا.
ويبت أن القمر الاصطناعي الجديد سوف يوسع خدمات البث والاتصالات اللاسلكية في ماليزيا واندونيسيا وأستراليا ومنطقة جنوب آسيا وأن «ميسات بي ٣» سوف يبدأ الخدمة الشهر المقبل ويصل عمره الافتراضي إلى ١٥ عاما. ■
جريدة الوطن، السبت ١٣ سبتمبر/٢٠١٤م

■ كوالالمبور: العمالية : أطلقت ماليزيا أمس الجمعة قمرا اصطناعيا جديدا للاتصالات إلى مداره من مركز الفضاء الأوروبي في غينيا الفرنسية .
وقالت وكالة أنباء (برناما) الماليزية إنه من المتوقع أن يرفع القمر الاصطناعي «ميسات بي ٣» الذي بلغت تكلفته ٣٥٠ مليون دولار من كفاءة خدمات الانترنت

- أ. حدّد أهم الدول التي سيغطيها القمر الصناعي «ميسات بي ٣».
- ب. وضح الفوائد التي سيضيفها القمر الصناعي «ميسات بي ٣» لتلك الدول.

- أ- ماليزيا واندونيسيا وأستراليا ومنطقة جنوب اسيا
- ب- يرفع كفاءة خدمات الانترنت

نشاط (٣) :

أ. على الرغم من الإيجابيات والخدمات التي يقدمها لنا الهاتف المحمول في حياتنا اليومية، إلا أن سلبياته ومخاطره لا يمكن تجاهلها، ابحث وزملاءك في مصادر التعلم المختلفة حول مخاطر استخدام الهواتف المحمولة على صحة الإنسان، ثم اقترحوا إجراءات السلامة التي يمكن اتباعها للتقليل من تلك المخاطر.

ب. أعط أمثلة على تطبيقات الهواتف الذكية التي يمكن استخدامها في المجال الاقتصادي.

- أ- حدوث ألم وتشنج في عضلات الظهر والرقبة. صداع ناتج عن إجهاد العين. اضطراب النوم، وخاصة في حال استخدام الهاتف قبل الخلود للنوم. زيادة الحوادث المرورية الناتجة عن استخدام الهواتف المحمولة أثناء القيادة
- ب- تطبيق الأسهم، تطبيقات التسوق الإلكتروني.

أ. بالاستعانة بالجدول (٣) وشبكة المعلومات العالمية (الإنترنت) :

١. قارن بين الدول الواردة في الجدول من حيث مستخدمي الإنترنت فيها، مع التعليل.
٢. كم تبلغ نسبة مستخدمي الإنترنت في سلطنة عُمان؟ وما الجهود التي تبذلها السلطنة لنشر المعرفة الرقمية في المجتمع؟

ب. وضح أثر شبكة (الإنترنت) على التطور الاقتصادي حول العالم.

- أ- (١) يلاحظ تفاوت بين الدول الواردة في الجدول من حيث نسبة مستخدمي الإنترنت فيها، حيث ترتفع النسبة في بعض الدول مثل هولندا وفنلندا واليابان وقد يرجع ذلك الى تطور خدمات الشبكات في تلك الدول ووعي المواطنين وارتفاع المستوى التعليمي والثقافي ليديهم بضرورة استخدام الإنترنت. بينما تقل النسبة في دول أخرى مثل الصين والبرازيل، وقد يكون ذلك ناتج عن ضعف خدمة الشبكة أو قلة وعي المواطنين بضرورة استخدام الإنترنت، أو غيرها من الأسباب وبشكل عام يلاحظ ارتفاع نسبة مستخدمي الإنترنت في جميع الدول خلال الفترة ٢٠٠٩م - ٢٠١٣م
- (٢) نسبة مستخدمي الإنترنت في عام ٢٠٢٠م في سلطنة عمان بلغ ٩٥%، واهم الجهود التي بذلتها السلطنة بهدف نشر المعرفة الرقمية هي تطبيقها للحكومة الالكترونية من خلال مشروع مجتمع عمان الرقمي وتدشين جائزة السلطان قابوس للإجادة في الخدمات الالكترونية لتعزيز استخدام التقنية الرقمية.

ب- ظهور الإنترنت وزيادة عدد مستخدميها أدى الى ظهور ما يسمى بالاقتصاد الرقمي الذي يعتمد على التكنولوجيا الرقمية لإنجاز المعاملات التجارية الامر الذي ساهم في تطور الاقتصاد حول العالمي وزيادة نسبة مساهمة الإنترنت في الناتج المحلي للدول كون استخدام الإنترنت يشمل جميع الأنشطة الاقتصادية

- أ. من خلال دراستك لإيجابيات الحكومة الإلكترونية، وضح دورها في تطور اقتصاد الدول.
- ب. قم بزيارة الموقع الرسمي لشرطة عُمان السلطانية على الرابط <http://www.rop.gov.om/arabic/index.asp>، ثم حدّد أهم الخدمات التي يتم توفيرها إلكترونياً.
- ج. ما التحديات التي تواجه تطبيق الحكومة الإلكترونية في السلطنة من وجهة نظرك؟ وما الحلول المناسبة للتغلب عليها؟

- أ- تعمل الحكومة الالكترونية على تقليل الوقت والأموال المهدرة اثناء تقديم الخدمات بالحكومية بالطريقة التقليدية مما يسهم إيجاباً في اقتصاد الدولة وتطوره حيث يوفر الفرصة المناسبة لتحسين الخدمات ورفع جودتها.
- ج- اهم التحديات: صعوبات متعلقة بالأمن وسرية المعلومات المتناقلة، عدم وجود شبكة انترنت واسعة النطاق وذات جودة عالية، قلة وعي المواطنين.

ب. قم بزيارة الموقع الرسمي لشرطة عُمان السلطانية على الرابط <http://www.rop.gov.om/arabic/index.asp>، ثم حدّد أهم الخدمات التي يتم توفيرها إلكترونياً.

الأمن والسلامة

خدمات الأمن السيبراني،
خدمات الأمن القومي،
القوانين والسياسات، نقل
الأموال.

الإسكان والتخطيط

الاحتياجات والخدمات
السكنية، طلب أرض ، طلب
قرض سكني ،القوانين
والتشريعات.

الإقامة و الجوازات

يمكن للمواطنين والمقيمين
العثور على خدمات الجوازات
والبطاقات الشخصية
والبطاقات الاقامه هنا.

البحث العلمي والتعليم

المدارس ، التعليم الاساسي
والعام ، التعليم العالي
والمنح الدراسية ، الخدمات
الالكترونية.

البلديات

يمكنك طلب خدمة قطع/
تقليم الأشجار او كاسرات
السرعه، كما يمكنك العثور
على باقي الخدمات هنا.

البيئة

ابلق عن رؤية جيتان او دافين،
او الحصول على التصاريح
البيئية وخدمات اعادة
التدويرهنا.

الخدمات الاجتماعية

خدمات لكل من :المعاقين،
التأمين الاجتماعي، رعاية
المسنين، المعاشات
التقاعدية، الخدمات
والقوانين.

الزراعة والثروة السمكية

الخدمات التي تتعلق بالزراعة
والثروة السمكية ، القوانين
والتشريعات.

السياحة

خطط لرحلتك السياحية الى
سلطنة عمان، كما يمكنك
الحصول على جميع
المعلومات والخدمات
الضرورية أثناء زيارتك للسلطنة

الشؤون الخارجية

احصل على تأشيره و اطلع
على السياسات الخارجيه
للسلطنة، او ابحت عن باقي
الخدمات.

الشؤون الدينية

الخدمات الإسلامية المختلفة،
الحج، المساجد، صندوق
الزكاة، القوانين والسياسات.

الشورى

مجلس الشورى، المجلس
البلدى، الانتخابات، التصويت،
القوانين والسياسات.

المال والأعمال

بدء نشاط تجاري في عمان،
القوانين والسياسات التجارية،
المؤسسات الصغيرة
والمتوسطة والضرائب.

العمل

يمكنك البحث عن وظائف
شاعره أو عرض الاجور
وتصنيفها وجميع الخدمات
المتعلقه بالعمل هنا.

العدالة

البحث عن محامين او نصائح
قانونيه، يمكنك ايجاد
الخدمات القانونيه هنا.

الصحة والرياضة

صحة الطفل، الأطباء،
المستشفيات، الصيدليات،
الخدمات الرياضية، الملاعب
الرياضية، القوانين
والسياسات.

مكافحة الفساد

ابلق عن ظاهرة فساد وساعد
على التخلص من جميع انواع
الفساد في السلطنه.

رعاية الطفل والأسرة

خدمات رعاية الطفل والأسرة،
برامج الطفل والأسرة، خدمة
ذوي الاحتياجات الخاصة ،
القوانين والسياسات.

النقل والاتصالات

مجموعة متنوعة من خدمات
المواصلات والنقل ، خدمة
الدفع والرسائل القصيرة ،
القوانين والتشريعات.

المياه والكهرباء والصرف الصحي

خدمات عدادات المياه، الصرف
الصحي والمخلفات الصلبة
والخضراء تجدها هنا.

نشاط (١) :

أ. وضح المقصود بالمقايضة.

ب. من خلال الشكل المقابل:

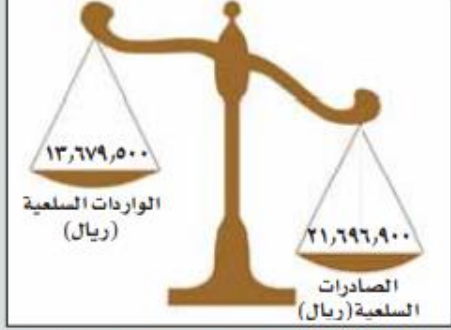
١. احسب الميزان التجاري لسلطنة عُمان.

٢. فسّر معنى أن يكون الميزان التجاري للدولة سالباً (-)،

وما تأثير ذلك على برامج التنمية فيها.

٣. اقترح ومجموعتك بعض الإجراءات التي يمكن للدولة

اتباعها لتحقيق فائض في ميزانها التجاري.



شكل (٢١) إجمالي قيمة صادرات سلطنة عُمان

و وارداتها السلعية لعام ٢٠١٣م

المصدر: المركز الوطني للإحصاء والمعلومات (٢٠١٤م)

- أ- هي نظام الذي يتم عبره تبادل البضائع أو الخدمات مباشرة بسلع أخرى دون استخدام المال
- ١- الميزان التجاري = الصادرات - الواردات
- $$18017400 = 13679500 - 21696900$$
- ٢- تكون قيمة الواردات اعلى من الصادرات ويحقق عجزا في الميزان التجاري ويؤدي الى توقف المشاريع التنموية وتدهور الأوضاع الاقتصادية في البلاد.
- ٣- تطوير الأنشطة الاقتصادية المختلفة وتنويع مصادر الدخل
- ادخال التكنولوجيا في استغلال الموارد الطبيعية.
- توفير اليد العاملة المدربة

نشاط (٢) :

أ. فسّر ما يلي:

١. يُسهم اختلاف المناخ على سطح الأرض في تنشيط التبادل التجاري بين دول العالم.
٢. يعتبر السُّكان أهم العوامل المؤثرة في الإنتاج الاقتصادي لأي دولة.

ب. بالاستعانة بالجدول (٤):

١. قارن بين الدول الواردة في الجدول من حيث قيمة صادراتها من الوقود والمنتجات الزراعية وقيمة وارداتها.
٢. علل: زيادة واردات الولايات المتحدة الأمريكية من الوقود عن صادراتها.

ج. بالاستعانة بموقع منظمة التجارة العالمية على شبكة الإنترنت، ابحث عن قيمة صادرات السلطنة و وارداتها بالنسبة للمنتجات الزراعية والوقود والمنتجات المعدنية، ثم قارن بينهما.

أ- (١) ان اختلاف المناخ على سطح الأرض يؤثر في تنوع الموارد الطبيعية واختلاف توزيعها حول العالم مثل اختلاف المحاصيل الزراعية والنباتات الطبيعية والحيوانات بتالي يساعد هذا التنوع في تنشيط التبادل التجاري بين دول العالم.

(٢) الإجابة صفحة ١٢٩

ب- (١) تتصدر الولايات المتحدة وكندا الدول في قيمة الصادرات النفطية نظرا لوجود هذه الموارد في البلاد، وتتصدر اليابان والولايات المتحدة قيم الواردات كونها دول صناعية كبيرة في حاجة للنفط.

اما قيم الصادرات من المنتجات الزراعية فأكثرها هي الولايات المتحدة والبرازيل وذلك لوجود عوامل ازدهار الزراعة فيها مثل الأراضي الخصبة والتكنولوجيا والمناخ، ونظرا لكثرة عدد السكان والمستهلكين في الصين وأمريكا فإنها تتصدر في استيراد المنتجات الزراعية.

(٢) نظرا لاعتبار الولايات المتحدة الأمريكية من أكبر الدول الصناعية في العالم فإنها تستهلك كميات كبيرة من الوقود اللازم للصناعة حيث تعتبر أكبر مستهلكي النفط

أ. «اتفقت دول مجلس التعاون الخليجي في الأول من يناير عام ٢٠٠٣م على تعرفه جمركية موحدة بواقع ٥% على السلع الأجنبية المستوردة من خارج دول المجلس، مع إعفاء عدد من السلع الضرورية من الرسوم الجمركية» «الأمانة العامة لمجلس التعاون لدول الخليج العربية (٢٠١٢م) في ضوء ما سبق، ناقش النتائج المتوقعة من الاتفاقية على دول مجلس التعاون الخليجي.

ب. تعتبر المنطقة الاقتصادية بالدقم في سلطنة عُمان شكل (٢٢) من أكبر المناطق الاقتصادية في الشرق الأوسط، حيث تمتد على مساحة شاسعة تتيح تنفيذ مشاريع واستثمارات ضخمة ومتنوعة. في ضوء ذلك أجب عن الآتي:

١. بالاستعانة بخريطة سلطنة عمان في الأطلس المدرسي صفحة (٩٦)، حدد موقع ولاية الدقم، ثم استنتج أسباب اختيارها لإقامة المنطقة الاقتصادية.
٢. ما النتائج المتوقعة من إنشاء المنطقة الاقتصادية الخاصة بالدقم على اقتصاد السلطنة بشكل عام، ومحافظة الوسطى بشكل خاص؟

٣. لو كنت أحد المستثمرين الراغبين في إقامة مشروع استثماري في منطقة الدقم، ما المشروع الذي سوف تقيمه؟ وما المقومات اللازمة لنجاحه؟

- أ- سيؤدي الى تسهيل حركة البضائع بين دول الخليج وتنشيط التبادل التجاري بينها مما سيؤثر إيجاباً على اقتصاده.
- ب- (١) تقع ولاية الدقم في محافظة الوسطى على شواطئ بحر العرب، سبب اختيارها: لموقعها المتميز المطل على بحر العرب والمحيط الهندي وقريبة من الممر الرئيسي للتجارة في المحيط الهندي، وطبيعة جغرافيتها وبعدها عن التجمعات السكنية وقربها من الأسواق العالمية.
- (٢) تنشيط حركة الصناعة والتجارة والسياحة في الولاية، توفير فرص العمل، جذب الاستثمارات الأجنبية



شكل (٢٢) المنطقة الاقتصادية بالدقم في سلطنة عمان

نشاط (٤) :

- أ. يُحفز نظام التجارة في منظمة التجارة العالمية النمو الاقتصادي للدول، وضح ذلك.
- ب. يُعدُّ اتفاق تريبس (TRIPS) اتفاقاً دولياً تديره منظمة التجارة العالمية، ويتضمن القوانين المتعلقة بحقوق الملكية الفكرية، في ضوء ذلك وضح المقصود بحقوق الملكية الفكرية، وما أهمية هذا الاتفاق؟
- ج. ناقش ومجموعتك تأثير انضمام سلطنة عمان لمنظمة التجارة العالمية على:
١. تنوع السلع والبضائع المعروضة.
 ٢. المنتجات المحلية.
 ٣. أسعار السلع والبضائع.

أ. تعمل منظمة التجارة العالمية اتاحة الفرصة للمنتجات والخدمات المحلية للنفاذ الى أسواق دول أعضاء المنظمة وتنشيط التبادل التجاري بينها كما تقدم تسهيلات جمركية للسلع بتالي ممارسة التجارة بشكل أوسع واكبر وزيادة معدل الاستثمارات مما يسهم في زياد في معدل الناتج المحلي والدخل القومي.

ب. حقوق الملكية الفكرية هي حقوق تتعلق بمختلف ابداعات العقل البشري الفكرية وتكفل لأصحابها حق استغلال ابداعاتهم.

يتضمن اتفاق تريبس الشروط التي يجب توافرها في قوانين الدول فيما يتعلق بحقوق المؤلف ومنتجي التسجيلات الصوتية وهيئات الإذاعة وحقوق المؤشرات الجغرافية بما في ذلك تسميات المنشأ والبراءات والاختراعات والعلامة التجارية.

ج. قدرة المنتجات المحلية والخدمات من النفاذ الى أسواق الدول الأعضاء في المنظمة على اعتبار ان التعرفة الجمركية لها سقف محددة لا يمكن تجاوزها.

-منافسة المنتجات المستوردة للمنتجات المحلية مما يجعل المنتجات المحلية تبحث عن رضا المستهلك من خلال الجودة والسعر المنخفض.

-جذب المزيد من الاستثمارات الأجنبية ونقل التقنية وزيادة فرص العمل.

-تنوع السلع والخدمات المعروضة للمستهلكين.

أ. قارن بين التجارة الإلكترونية والتجارة التقليدية من حيث :

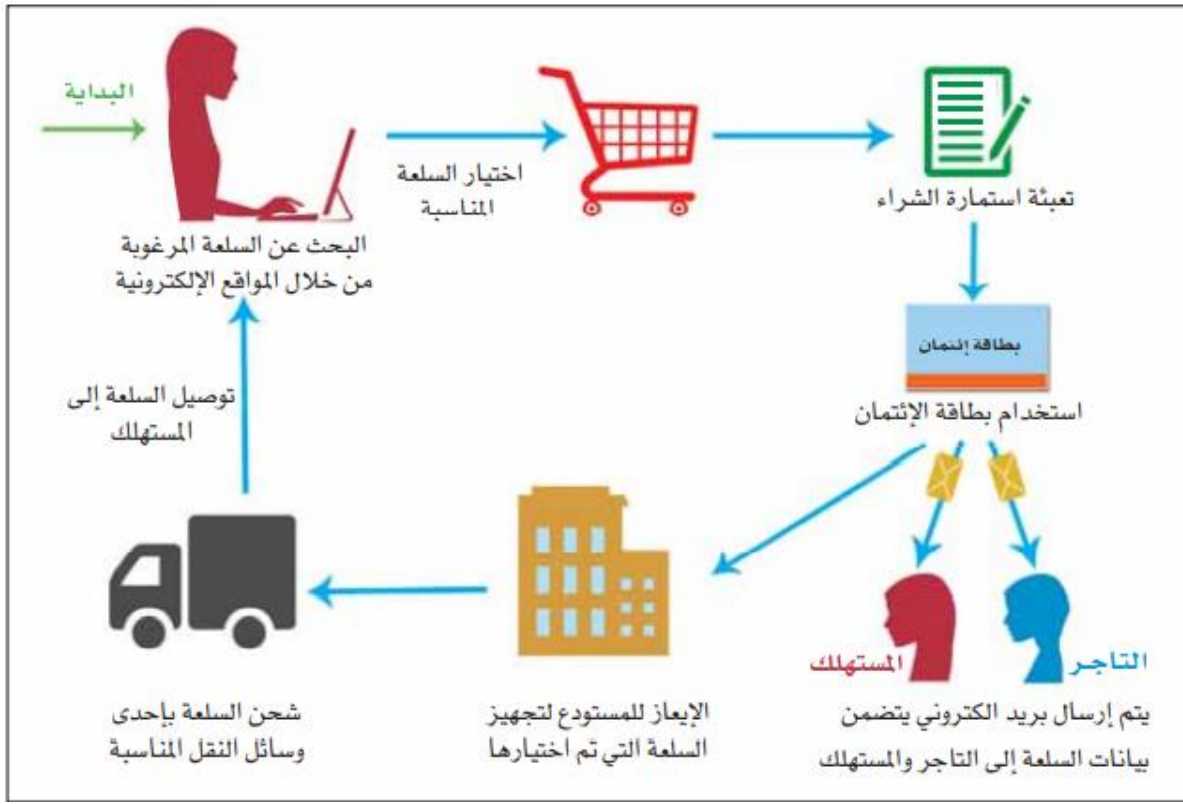
- أسلوب البيع والشراء - طريقة الدفع - الوقت والجهد المبذول

ب. بالاستعانة بالشكل (٢٤)، تتبع المراحل التي تمر بها التجارة الإلكترونية للسلع والخدمات منذ طلب المستهلك لها عبر شبكة المعلومات العالمية حتى وصولها إليه، ثم ناقش الصعوبات التي قد يواجهها المستهلك في كل مرحلة.

ج. ناقش الإجراءات التي يمكن اتباعها لتطوير التجارة الإلكترونية في سلطنة عُمان.

د. بالاستعانة بشبكة المعلومات العالمية، ابحث وزملاءك عن بعض مواقع التسوق الإلكتروني، ثم صمّم جدولاً موضحاً فيه اسم الموقع الإلكتروني، وأهم السلع والخدمات المعروضة، وطريقة عرضها، وإيجابيات الموقع وسلبياته .

التجارة التقليدية	التجارة الإلكترونية	أسلوب البيع والشراء
تتم عملية البيع والشراء مباشرة ويستطيع المستهلك معاينة البضائع	تتم عملية البيع والشراء عبر الأنترنت وتعرض البضائع على هيئة صور يختارها المستهلك	
الدفع مباشرة او باستخدام بطاقة الائتمان	غالبا يتم الدفع باستخدام بطاقة الائتمان	طريقة الدفع
يأخذ الوقت في انشاء المحلات التجارية وتنظيمها، ويحتاج للمال من اجل الصيانة. زيادة في مجهود المستهلك في التنقل والحركة.	انخفاض تكلفة الصيانة، لا تحتاج الى انفاق الأموال في عملية تسويق المنتجات. وقلة الجهد المبذول في عرض المنتجات كم ان المستهلك لا داعي ان يتنقل.	الوقت والجهد المبذول



ما هي
الصعوبات
والتحديات في
كل مرحلة؟

١. تبدأ التجارة الالكترونية عندما يبدأ المستهلك بتصفح الانترنت للبحث عن السلعة حسب الموصفات التي يحتاجها والسعر المناسب. **(عدم وضوح مواصفات السلع المعروضة كون انها مجرد صور)**
٢. وضع السلعة المختارة في السلة على الموقع.
٣. تعبئة الاستمارة وهي تتضمن بيانات المستهلك مثل الاسم والعنوان الموقع ومكان التوصيل وأرقام التواصل حتى يستطيع التاجر التواصل معه. **(تعبئة بيانات خاطئة)**
٤. الدفع باستخدام بطاقات الدفع، وتضع المواقع نظام امن خاص بها بحيث تضمن للمستهلكين عدم حدوث أي اختراقات. **(صعوبات في ثقة المستهلكين بأمن المواقع)**
٥. الموقع الالكتروني يرسل ٣ رسائل، الرسالة الأولى تتوجه الى التاجر والثانية الى المستهلك والثالثة الى المستودع الخاص بالسلع وهي رسائل عبر البريد الالكتروني يتضمن بيانات السلعة، التاجر يرسل الى المستودع يطلب منه تجهيز السلع. **(صعوبات في احتمالية حدوث اعطال اثناء تلقي الرسائل واستلامها)**
٦. تجهيز السلع في المستودع تمهيدا لعملية الشحن.
٧. عملية الشحن بالوسائل المناسبة والمتاحة (اما عن طريق الجو او عن طريق البر او عن طريق البحر) **(صعوبات في حماية السلع من التلف)**
٨. توصيل السلعة الى المستهلك.

ج. ناقش الإجراءات التي يمكن اتباعها لتطوير التجارة الإلكترونية في سلطنة عُمان.

تسهيل المراسلات للبيانات الإلكترونية من خلال سجلات إلكترونية محمية.
التخفيف بل وإزالة أي عوائق أمام حركة التجارة الإلكترونية محلياً
وعالمياً. تعزيز القوانين والأنظمة التي تدعم من فعالية تطبيق التجارة
الإلكترونية. محاولة التقليل من فرص الاحتيال في الأنشطة
التجارية الإلكترونية والمعاملات الإلكترونية كذلك الأمر. تحسين البنية
الأساسية للإنترنت.

نشاط (٢):

- تعتبر أسواق العرب منتديات أدبية كانت تقام في الجاهلية والإسلام، حيث كان لها دور مهم في حياة العرب الدينية والثقافية والاقتصادية والاجتماعية. من خلال العبارة السابقة والخريطة شكل (٢) أجب عن الأسئلة الآتية:
- أ. بالاستعانة بمصادر التعلم، اكتب تقريرًا مبسطًا (٢٠٠ كلمة) عن أهم أسواق العرب والأنشطة التي كانت تقام بها.
- ب. فسّر كيف تعتبر هذه الأسواق العربية نوعًا من أنواع السياحة حسب عالم اليوم.
- ج. ما وجه الشبه والاختلاف بين المهرجانات السياحية التي تقام اليوم في دول شبه الجزيرة العربية وأسواق العرب قديمًا؟



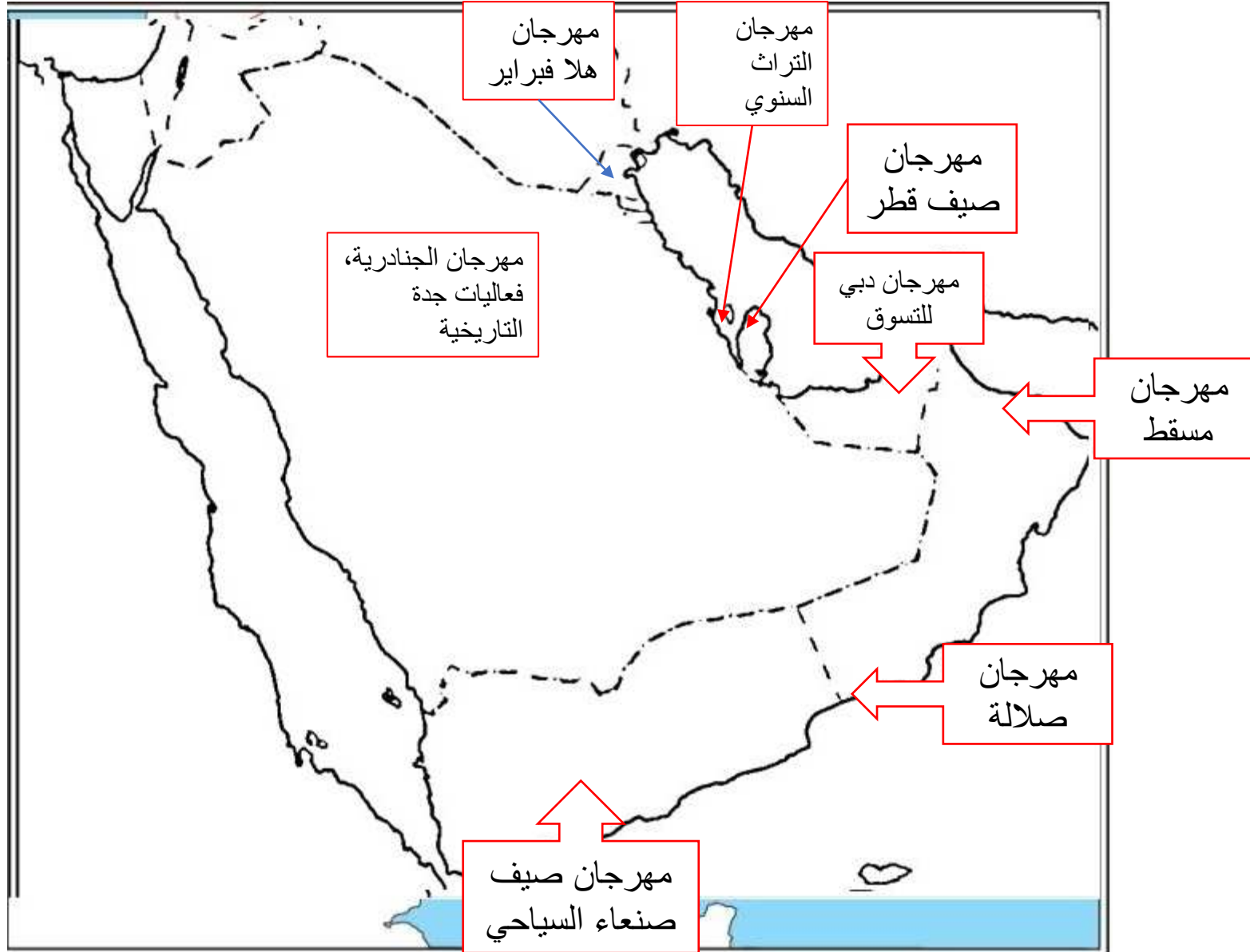
- د. وضح كيف تسهم المهرجانات في تنشيط السياحة.
- هـ. ارسم خريطة شبة الجزيرة العربية، وحدد عليها مواقع أهم المهرجانات السياحية.

ب- وذلك لأنه يقصدها الكثير من الناس من مختلف المناطق وذلك بغرض الترفيه والترويح عن النفس.

ج- تتشابه المهرجانات الحالية مع أسواق العرب في النشاط التجاري حيث يقصد الزائرين كلا الحدثين من أجل شراء المنتجات المحلية، كما ان كلا الحدثين يكون الغرض فيهما الترويح عن النفس، أما الاختلاف يكون في تنوع الأنشطة في المهرجانات السياحية الحالية وتنوع الخدمات والسلع المقدمة للزائرين.

د- تؤدي دورا مهما في تكوين الوجهات السياحية من خلال قدرتها على زيادة حجم الحركة السياحية على العديد من المواقع السياحية.

- تسهم في توعية المجتمعات في تصحيح مفاهيم خاطئة عن السياحة.
- تسهم في تعزيز الوطنية والتنمية الاجتماعية والاقتصادية.
- تسهم في خلق فرص استثمارية ووظيفية مؤقتة ودائمة.
- جذب الاستثمارات السياحية وتحقيق التنمية الإقليمية المتوازنة في جميع المحافظات.



من خلال الشكل (٤) :

أ. تتبع تطور السياحة.

ب. استنتج علاقة السياحة بالتقدم التكنولوجي.

ج. اذكر أنواع السياحة الواردة ضمن الشكل.

ان التقدم التكنولوجي اثر بشكل ملحوظ في تطور وازدهار السياحة حيث تحولت السياحة الى الصناعة بشكل متزامن مع التقدم والتطور التكنولوجي فساهمت التكنولوجيا في ترويج السياحة لمختلف الأماكن حول العالم، كما سهلت التنقل والسفر، وحجز الفنادق ووسائل النقل مسبقا....

ج- العصور القديمة...السياحة الترفيهية.

العصور الوسطى.... السياحة الدينية.

القرون ١٤-١٧مالسياحة الترفيهية والثقافية.

القرن ١٨م.....السياحة العلاجية والتعليمية

القرن ١٩م..... السياحة الترفيهية.

القرن ٢٠مالسياحة الرياضية

نشاط (٤) :

أ. حدّد مفاهيم السياحة للعبارات الآتية، ثم صغ عبارات من لديك ضمن الصفوف الفارغة:

م	الحالة	سائح / مسافر / متنزه	سياحة داخلية / خارجية
١	شخص انتقل من بلاده متجهًا إلى بلد آخر لحضور مؤتمر في السياحة .	سائح	خارجية
٢	شخص سافر إلى الجزء الشمالي من بلده ليعمل ضمن شركة اتصالات لمدة عامين .	مسافر	
٣	أسرة ذهبت إلى شاطئ البحر في يوم إجازة نهاية الأسبوع .	متنزه	داخلية
٤	سافرت مجموعة من الأفراد لبناء منتجع سياحي في أحد بلدان الشرق الأوسط .	مسافر	
٥	سافرت أسرة من محافظة مسقط للتمتع بخريف محافظة ظفار .	سائح	داخلية

ب. فرّق بين كلّ من:

- السياحة الداخلية، والسياحة الخارجية.
- السياحة الداخلية، والتنزه.

ج. فسّر العبارة الآتية:

«كل سائح مسافر وليس كل مسافر سائح».

ب- الفرق بين السياحة الداخلية والخارجية في الكتاب المدرسي صفحة ١٤٤ .

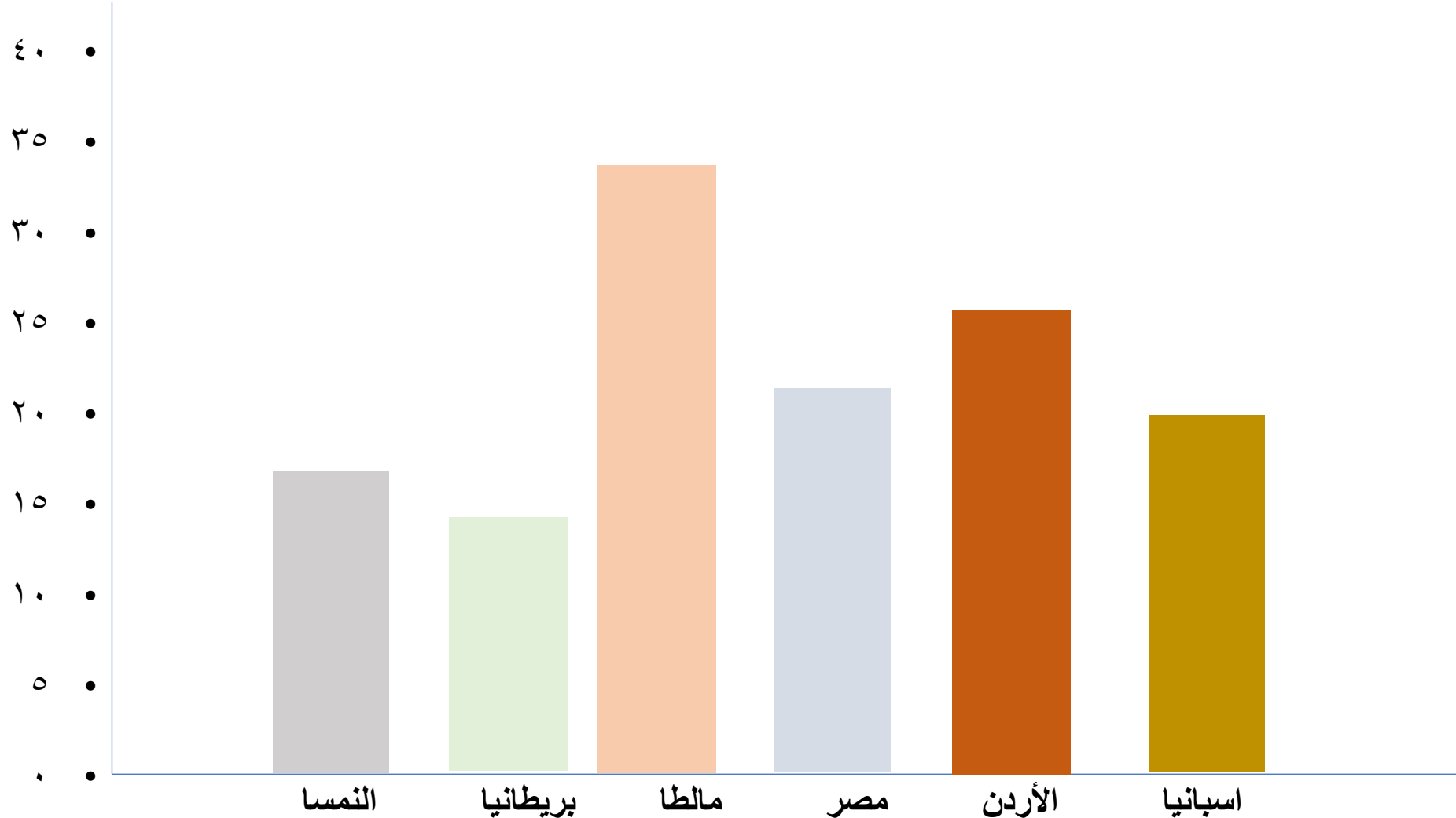
السياحة الداخلية يشترط فيها ان يقيم السائح ليلة على الأقل في المكان المزار أما التنزه زيارة المكان السياحي والرجوع في نفس اليوم.

ج- أي سائح يسافر من منطقة الى أخرى بتالي يطلق عليه مسافر ولكن المسافر لا نطلق عليه سائح دائما لأن السائح محدد بعدة شروط منها لا يستهدف التكسب بينما المسافر يمكن ان يتنقل من اجل العمل وتكسب، او عقد صفقة تجارية، فالسائح ينفق أمواله ولكن لا يكتسبها بينما المسافر ينفقها ويكتسبها.

المحلي الإجمالي لبعض

أ. بالاستعانة بالجدول رقم (١)، ابحث ومجموعتك حول الأسئلة الآتية، ثم اعرضوا نتائج بحثكم في الصف:
١. حوّل البيانات الواردة ضمن الجدول رقم (١) إلى شكل بياني.

الدول



نشاط (٥) :

- أ. بالاستعانة بالجدول رقم (١)، ابحث ومجموعتك حول الأسئلة الآتية، ثم اعرضوا نتائج بحثكم في الصف :
١. حوّل البيانات الواردة ضمن الجدول رقم (١) إلى شكل بياني.
٢. فسّر: سبب ارتفاع نسبة مساهمة قطاع السياحة في الناتج المحلي لكل من مالطا، والأردن.
- ب. من خلال تطبيقك لما درسته عن فوائد السياحة اختر منطقة ريفية من بلدك أو أي بلد آخر من العالم، ثم ناقش كيف تسهم السياحة في تنميتها.
- ج. ناقش العبارة الآتية: « تهدف السلطنة الوصول إلى نسبة ٣% لمساهمة القطاع السياحي ضمن الناتج المحلي بحلول عام ٢٠٢٠م. » (الخزينة، ٢٠١٤م).
- د. دُلّ على الأهمية الاقتصادية للسياحة.

ج- تحقيقاً لرؤية عمان حول تنويع مصادر الدخل سعت وزارة السياحة الى تنفيذ خطط لزيادة عدد الزوار الدوليين الى اكثر من الضعف خلال العقدين المقبلين لرفع مساهمة السياحة في الناتج المحلي الى ٣%

أ-(٢) تعتبر السياحة احد اهم الأنشطة الاقتصادية في كلا من مالطا والأردن والذي تعتمد عليها كمصدر للدخل القومي.

ففي مالطا وصل اعداد السائحين فيها لعام ٢٠١٨م لأكثر من مليونين سائح حيث تتميز مالطا بعدد من مناطق الجذب السياحي التي تشمل عناصر من تاريخ الجزيرة الغني وثقافتها، فضلاً عن الأنشطة المائية المرتبطة بالبحر الأبيض المتوسط. بالإضافة إلى ذلك، أصبحت السياحة العلاجية شائعة فيها.

ووصل عدد السائحين في الأردن الى ما يقارب ٥ مليون عام ٢٠١٨م و يُعتبر الأردن أحد أهم مناطق الجذب السياحي في الشرق الأوسط. ويعود ذلك أساساً إلى أهميته الدينية والتاريخية. ويتمتع الأردن بمواصفات فيما يخص السياحة العلاجية، إذ يُعتبر الخامس في العالم في هذا المجال.

نشاط (٦) :

بالاستعانة بالجدول (٢)، ومصادر التعلّم المختلفة :

١. حوّل البيانات الواردة إلى شكل بياني.
٢. ما العوامل التي أدت إلى تصدر فرنسا قائمة أفضل دول العالم المستقبلية للسّياح عام ٢٠١٢م؟
٣. ناقش العبارة الآتية : على الرغم من توافر الكثير من المقوّمات السياحية الجاذبة في الولايات المتحدة الأمريكية من مساحة شاسعة وتنوّع في البيئات والجوانب الثقافية المتعددة، إلا أن فرنسا تتفوق عليها سنويًا في استقطاب السّياح بفارق قد يصل إلى ٢٠ مليون سائح .
٤. ما أكثر القارات استقطابًا للسّياح؟ دّل على إجابتك.
٥. حدّد الجهات السياحية العالمية الأولى في استقطاب السّياح (حسب آخر الإحصائيات المتوفرة).

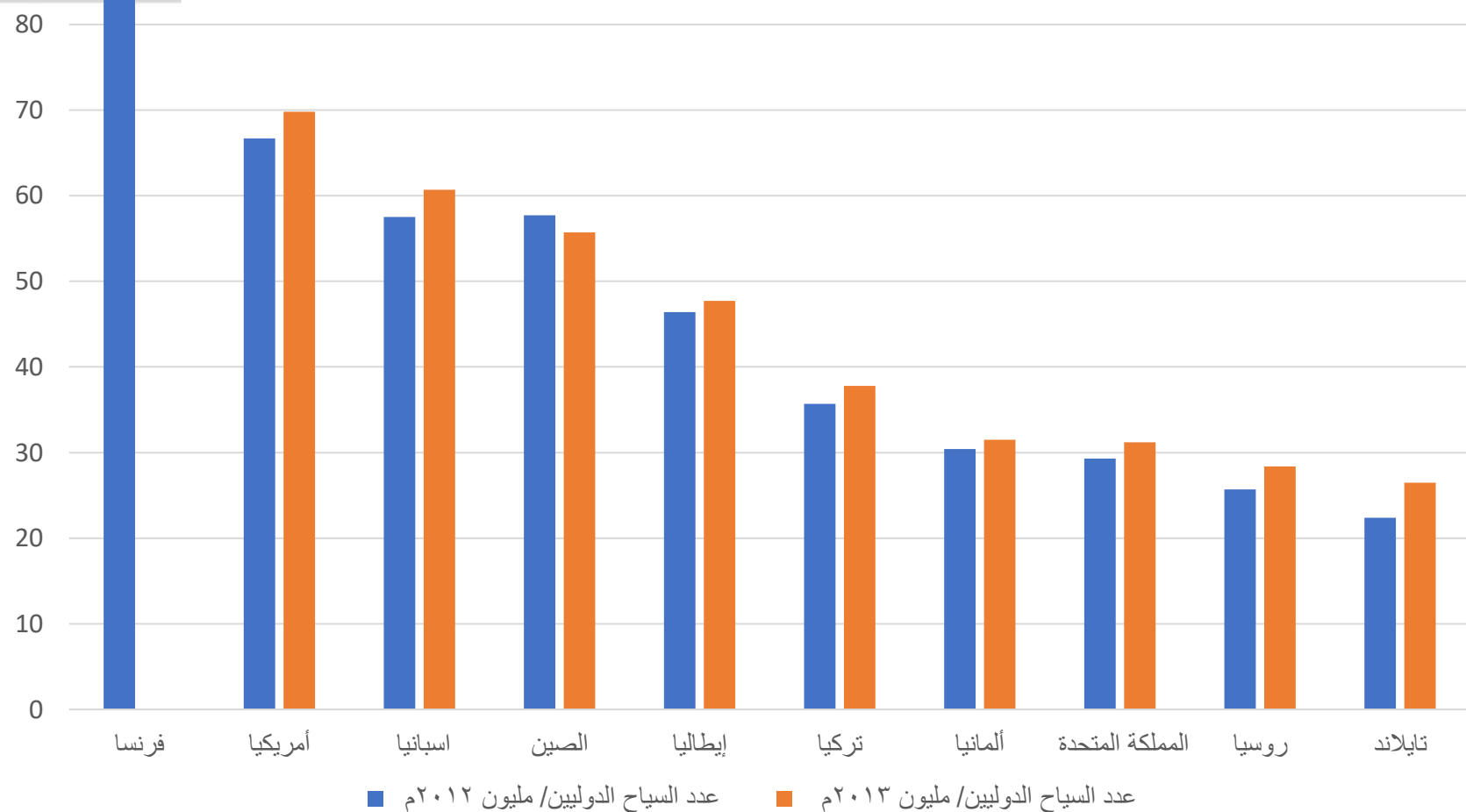
٢. أهم العوامل التي أدت إلى استقطاب السّياح في فرنسا: موقع فرنسا الذي يتوسط قارة أوروبا، التنوع الجغرافيا، التاريخ والثقافة الفريدة، المعالم الحضارية.
٣. يرجع هذا إلى الموقع الاستراتيجي لفرنسا مقارنة بالولايات المتحدة التي يفصلها المحيطين الأطلسي والهادي عن العالم. وكذلك عوامل أخرى مرتبطة بتسهيلات الدخول والحصول على التأشيرات وأسعار الإقامة والخدمات السياحية.
٤. تعتبر أوروبا أكثر القارات استقطابا للسياحة ويمكن ملاحظة ان قائمة الوجهات العالمية العشرة الأولى تتضمن ٦ دول أوروبية.

- ٥.
١. فرنسا
٢. امريكا
٣. إسبانيا
٤. الصين
٥. إيطاليا
٦. المملكة المتحدة
٧. ألمانيا
٨. المكسيك
٩. تايلاند
١٠. تركيا

المصدر: منظمة السياحة العالمية التابعة للأمم المتحدة،

م	الدولة	عدد السياح الدوليين / مليون م ٢٠١٢	عدد السياح الدوليين / مليون م ٢٠١٣
١	فرنسا	٨٣,٠	—
٢	الولايات المتحدة الأمريكية	٦٦,٧	٦٩,٨
٣	إسبانيا	٥٧,٥	٦٠,٧
٤	الصين	٥٧,٧	٥٥,٧
٥	إيطاليا	٤٦,٤	٤٧,٧
٦	تركيا	٣٥,٧	٣٧,٨
٧	ألمانيا	٣٠,٤	٣١,٥
٨	المملكة المتحدة	٢٩,٣	٣١,٢
٩	روسيا	٢٥,٧	٢٨,٤
١٠	تايلاند	٢٢,٤	٢٦,٥

الوجهات العالمية العشر الأولى



المصدر: منظمة السياحة الدولية www2.unwto.org

نشاط (١) :

بعد دراستك للشكل (٦) :

- أ. وضح طبيعة العلاقة بين أنواع السياحة وفق المعايير المذكورة.
- ب. وضح الفرق بين السياحة الجماعية والسياحة الفردية.
- ج. «تتصف أنواع السياحة بالديناميكية والتطور المستمر، لذا تظهر أنواع جديدة للسياحة باستمرار». بناءً على هذه العبارة وبلاستعانة بمصادر التعلم، ابحث عن الأنواع الجديدة للسياحة والتي لم تذكر ضمن الشكل (٦)، ثم اعرض نتائج بحثك أمام زملائك في الصف.

ب- السياحة الجماعية تشمل الرحلات التي تكون على شكل فرق بحيث يزيد فيها عدد الافراد عن شخصين وغالبا تحتوي هذه الرحلات على أنشطة سياحية جماعية كالسفاري وأنشطة المغامرات، اما السياحة الفردية تشمل الرحلات التي لا يتعدى عدد السياح فيها اكثر عن شخص واحد كزيارة المتاحف والمعارض والتسوق .. الخ.

ج أنواع السياحة وفق معيار الغرابة : سياحة الكلمات المتقاطعة، سياحة الرعب. السياحة وفق الكم والعدد والجودة وتنقسم الى سياحة راقية وسياحة شعبية سياحة السيارات والدراجات

- أ. كم يبلغ عدد القلاع والحصون في وطنك عُمان؟
- ب. ابحث حول المواقع التراثية العُمانية المادية وغير المادية المسجلة ضمن القائمة الدولية لليونسكو، ثم ناقش كيف يمكن الاستفادة منها لتنشيط قطاع السياحة.
- ج. ينقسم طلاب الصف إلى مجموعات، ثم تبحث كل مجموعة عن أحد أشهر متاحف العالم وتعرض نتائج بحثها في الصف.
- د. أين يوجد مقر إيكوموس (ICOMOS)؟

أضف لمعلوماتك:

متحف اللوفر في باريس بفرنسا يعتبر من أهم متاحف الفن في العالم وهو عبارة عن قلعة بُنيت عام ١١٩٠م، ثم تحولت متحفًا في ١٠ / أغسطس / ١٧٩٣م.



شكل (٨) متحف اللوفر في باريس

أ. أكثر من ٥٠٠ قلعة وحصن وبرج منتشرة في أرجاء السلطنة.

ب. المادية تضم سلطنة عمان ٥ مواقع أثرية مهمة ضمتها اليونسكو على لائحتها للتراث العالمي، وكانت البداية عام ١٩٨٧ عندما تم ضم قلعة بهلاء، وتبعتها المواقع الأثرية في بات والخطم والعين. وفي عام ٢٠٠٠ تم ضم طريق اللبان، وبعدها بست سنوات تم ضم أنظمة الري "الأفلاج"، وأخيرا تم ضم مدينة قلعات عام ٢٠٠٨.

غير مادية: فن البرعة، فن التغرود، فن العيالة ، فن العازي.

ج. أشهر المتاحف في العالم: متحف اللوفر في فرنسا، متحف الفاتيكان، المتحف البريطاني، متحف المتروبوليتان للفنون في أمريكا.

د. باريس، فرنسا

نشاط (٣) :

أ. ما الحضارات التي قامت في كل من : المكسيك، العراق ، مصر؟ وما أثر ذلك على السياحة في كل دولة؟

ب. ما المناطق السياحية التي يزورها السُّيَّاح بهدف التنمية الثقافية في كل من : سلطنة عُمان، الأردن، سوريا، مصر؟

ج. ناقش ومجموعتك الجوانب الآتية:

- كيف يكون السائح سفيراً لبلده أثناء قيامه بزيارة سياحية لبلد ما؟
- كيف تسهم السياحة الثقافية في دعم التواصل الحضاري والثقافي بين شعوب العالم؟
- كيف تعمل السياحة الثقافية على تعزيز الانتماء الوطني لدى مواطن البلد المضيف للسُّيَّاح؟

أ. المكسيك حضارات المايا والازتك
العراق الحضارات السومرية والاكادية والبابلية والاشورية استغلّت هذه الدول المواقع الاثرية لحضاراتها ومنجزاتها لتنشيط السياحة من حيث إقامة المتاحف والتعريف بهذه الحضارات فتعتبر السياحة من الأنشطة الاقتصادية الرئيسية التي تساهم في الدخل القومي في هذه الدول.

الدولة	أمثلة على منطقة سياحية ثقافية
عمان	القلاع والحصون، مهرجانا مسقط وصلالة، المتحف الوطني
الأردن	اثار مدينة البتراء
سوريا	المسجد الاموي في حلب
مصر	الاهرامات

بالاستعانة بمصادر التعلم المختلفة:

أ. عدد بعض المناطق الترفيهية الجاذبة للسياح في سلطنة عُمان.

ب. اذكر منطقة ترفيهية واحدة جاذبة للسياح في كل من: الإمارات العربية المتحدة، لبنان، فرنسا، تركيا، ماليزيا، أستراليا.

أ- الملاهي (هابي لاند، فن زون، حديقة أكوا فن المائية...الخ) والحدايق (حديقة القرم، حديقة النسيم...الخ)

الدولة	لبنان	فرنسا	تركيا	ماليزيا	استراليا
المناطق السياحية الترفيهية	مدينة بعلبك	دزني لاند بباريس	ساحل الفيروز	حديقة بينانج الوطنية	الساحل الذهبي (جولدن كوست) بشرق استراليا على المحيط الهادي.



شكل (١١) طواف عُمان

- أ. ما الأسباب التي ساهمت في ازدياد أهمية الرياضة سياحياً في العقود الأخيرة من القرن العشرين؟
- ب. عدد أنواع الرياضات المرتبطة بالسياحة الرياضية.
- ج. وضح كيف يمكن تنشيط السياحة الرياضية في بلدك عُمان وفق الآتي:
١. نوع الرياضة ، والموقع المقترح، والبنية الأساسية اللازم توفيرها.
 ٢. اعرض نتائج ما توصلت إليه أمام زملائك في الصف.

- أ- وذلك نتيجة لدور السياحة الرياضية في النمو الاقتصادي العالمي وتعزيز الاخوة والصدقة الإنسانية بين الشعوب وكذلك بسبب التطور الحاصل في وسائل النقل الذي ساهم في دعم السياحة الرياضية وتنشيطها.
- ب- رياضة كرة القدم، التنس، تسلق الجبال، سباقات الدراجات...

أ. اذكر أماكن دينية في العالم يقصدها السُياح .

ب. اكتب تقريرًا (لا يتجاوز ٢٠٠ كلمة) عن كيفية تسيير رحلات العمرة في سلطنة عُمان
موضحًا: (وسائل النقل، وأماكن المبيت، والأماكن الممكن زيارتها).

الدولة	فلسطين	الهند	الفاتيكان	اسبانيا	اليابان
أماكن السياحة الدينية	المسجد الاقصى	نهر الجانج المقدس للهندوس	كاتدرائية القديس بطرس	الكاتدرائية الكبيرة في قرطبة	المعابد البوذية وأضرحة الشنتو

مستقبل مزدهر للسياحة الفضائية

«قادت رحلة المليونيير دنيس تيتو إلى تنشيط فكرة السياحة في الفضاء ، فهل يبدو الوقت قريباً كي نسمع طلب قبطان مركبة فضائية وهو يتحدث عبر السماعات أمراً بربط أحزمة الأمان استعداداً لدخول جو الأرض؟ يقدر الخبراء أن هناك عدداً من التداير الضرورية يجب تحقيقها قبل أن يصبح إرسال الناس للفضاء تجارة رائجة. لذا فإن على السياحة الفضائية لتصبح شيئاً عادياً أن تبدأ من الصفر وتتوسع مع الوقت.

ويصعب تقدير سرعة توسع ميدان السفر إلى الفضاء، فهناك عدد كبير من المتغيرات والتي يمكنها التحكم بسرعة نمو السياحة الفضائية، وتمتد من الاقتصاد إلى السياسة إلى تقنية كوكب الأرض ونمو عدد سكانه. وبدون شك هناك ضرورة لشراكة بين القطاع الصناعي الخاص والحكومة.

ويقول بيتر ديامانديس وهو رئيس ومؤسس جائزة «إكس» أنه هناك حاجة لسوق تتطلب عدداً كبيراً ومتكرراً من الانطلاقات، وأن هناك «خوفاً متأسلاً» في الصناعة حول إرسال أفراد الجمهور إلى الفضاء، إذ نحتاج لبيئة تشجع وتكافئ المخاطرة بالابتكار. وتقوم جائزة إكس على تشجيع الناس للتفكير خارج النمط العادي، ودراسة الأفكار الغريبة، واتخاذ قدر قليل من المخاطرة.

ووضعت دراسات في كل من اليابان والمملكة المتحدة وكندا وألمانيا والولايات المتحدة خلال العقد الماضي لتقدير حجم الطلب على السياحة الفضائية، وكانت النتائج إيجابية ومنتظمة، ولكن ما تزال هناك عدة تساؤلات ومخاوف، ويقول الخبراء أنه بالرغم من اعتبار هذه الدراسات بداية قد تساعد على جذب انتباه الأسواق المالية حول إمكانية الاستثمار في السياحة الفضائية، إلا أنه لا يمكن الاعتماد عليها لوحدها لإقناع الأسواق المالية حالياً».

جريدة الشرق الأوسط الاثنين ٢١ ربيع الأول ١٤٢١ هـ - ١٨ يونيو ٢٠٠١ العدد ٨٢٨

<http://classic.aawsat.com/details.asp?section=14&article=43509&issue=8238#.U-iE#ZlodU>

بعد قراءة تلك للمقال أجب عن الأسئلة الآتية :

١. ما التساؤلات والمخاوف من تنشيط سياحة الفضاء ؟
٢. ما التداير التي يمكن اتخاذها للتوسع في سياحة الفضاء ؟
٣. في رأيك : هل تؤيد تنشيط سياحة الفضاء ؟ ولماذا ؟

(٢)

- الترويج والتشجيع على سياحة الفضاء، -
- تطوير رحلات الفضاء بحيث تنقل اكبر عدد من السياح في رحلة واحدة من اجل تقليل التكاليف

إجابة السؤال الاول

أجب عن الآتي :

أ. تنقسم السياحة البيئية إلى أنواع متعددة منها: سياحة المغامرات Adventure tourism، وسياحة البراري Wilderness tourism، وسياحة المعسكرات Camping، والسياحة الساحلية Coastal tourism، ومشاهدة الطيور Birdwatching وغيرها. من خلال الاستعانة بمصادر التعلم، ابحث في أحد هذه الأنواع واكتب تقريراً مبسطاً يتناول: المفهوم، والأهمية، وأمثلة عليه من دول العالم، ثم قدم ما توصلت إليه من نتائج أمام زملائك في الصف.

ب. من خلال خريطة سلطنة عُمان للمحميات الطبيعية شكل (١٥) ، أكمل الجدول الآتي :

م	اسم المحمية الطبيعية	موقع المحمية حسب المحافظة	الأنواع السياحية التي يمكن تنشيطها ضمن المحمية
١			
٢			
٣			
٤			
٥			

ج. صنف الأنشطة السياحية الآتية وفق أنواعها :

م	النشاط السياحي	نوع / أنواع السياحة
١	زيارة أبناء دول الخليج العربية لمحافظة ظفار .	
٢	زيارة عين الكسفة في ولاية الرستاق.	
٣	زيارة الأهرامات في مصر.	
٤	زيارة حديقة الصحور في ولاية البقم.	
٥	زيارة القصور الأموية في بادية الشام .	
٦	تنفيذ مسابقة الفطس العالي بوادي شاب- طيوي في ولاية صور.	
٧	تنفيذ بطولة مهرجان صلالة السياحي للرماية المفتوحة.	
٨	زيارة حديقة Vulcania البركانية في منطقة (أوفرن) بفرنسا.	

اسم المحمية	موقع المحمية	الأنواع السياحية
محمية جبل سمحان	محافظة ظفار	تسلق الجبال، السياحة الجيولوجية
محمية الكائنات الحية والفطرية	الوسطى	رحلات السفاري، تأمل الطبيعة واكتشاف ما فيها
محمية السلاحف	الشرقية جنوب	تأمل الطبيعة واكتشاف ما فيها، السياحة الخضراء.

ج. صنف الأنشطة السياحية الآتية وفق أنواعها :

م	النشاط السياحي	نوع / أنواع السياحة
١	زيارة أبناء دول الخليج العربية لمحافظة ظفار .	بيئية
٢	زيارة عين الكسفة في ولاية الرستاق.	علاجية
٣	زيارة الأهرامات في مصر.	ثقافية
٤	زيارة حديقة الصحور في ولاية البقم.	جيولوجية
٥	زيارة القصور الأموية في بادية الشام .	ثقافية
٦	تنفيذ مسابقة الفطس العالي بوادي شاب- طيوي في ولاية صور.	رياضية
٧	تنفيذ بطولة مهرجان صلالة السياحي للرماية المفتوحة.	رياضية
٨	زيارة حديقة Vulcania البركانية في منطقة (أوفرن) بفرنسا.	بيئية

أ. تعاون مع مجموعتك لتكلمة بيانات الجدول التالي:

م	المنطقة السياحية	أسباب جذبها السياح (من وجهة نظركم)
١	عين / حدائق ألعاب وتسلية	<ul style="list-style-type: none"> - الشمس بالنسبة للأطفال - الإحساس بالمرح. - الاستمتاع بالجو العام للمكان - خوض غمار تجارب جديدة
٢	بور الأوبرا والمسرح	<ul style="list-style-type: none"> - الطبيعة الاستثنائية للمدينة - الاستمتاع بالموسيقى - الإحساس بقيمة الذات.
٣	التأثير	<ul style="list-style-type: none"> - إقامة القرعة للتعليم - الحنين للماضي. - زيارة مكان يخزنل في التاريخ بطرق مختلفة
٤	المنتجات الصحية	<ul style="list-style-type: none"> - الاستمتاع بالمشايخ - الاستجمام والاسترخاء - الإحساس بقيمة الذات. - الهروب من الروتين اليومي

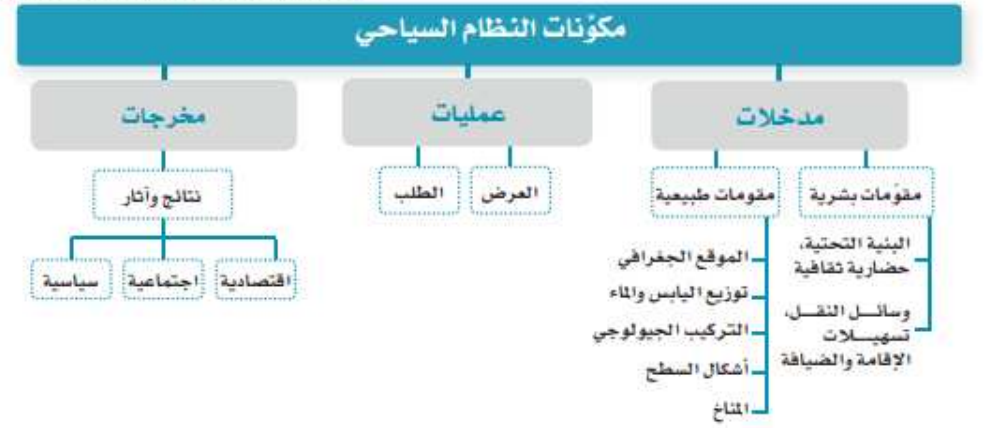
ب. اذكر أمثلة لما ورد من مناطق سياحية في الجدول أعلاه من سلطنة عمان والعالم.

ج. قم ومجموعتك بإجراء دراسة مسحية لتحديد أنواع السياحة التي يفضلها الطلاب في مدرستك ثم ناقشوا نتائج دراستكم في الصف.

أ- مدخلات: تمثل مقومات السياحة سواء كانت طبيعية أم بشرية.
العمليات: تتمثل في الحركة السياحية وخصائصها وهي نتاج التفاعل بين العرض والطلب.
المخرجات: وتتمثل في النتائج أو الآثار المترتبة على عملياته سواء كانت اقتصادية أم اجتماعية أم سياسية.

ب- النظام السياحي منظومة متكاملة لا يمكن حذف أحد مكوناته حتى لا يختل النظام.
وسعي الدول الى النمو السياحي مرتبط بالاهتمام والتركيز على جميع مكونات النظام السياحي

ج- هو نظام متكامل يشمل ثلاثة عناصر رئيسية:
المدخلات وهي المقومات السياحية البشرية والطبيعية
العمليات ويتكون من العرض والطلب لسياحي.
المخرجات وهي النتائج والآثار السياحية.



شكل (١٦) مكونات النظام السياحي

نشاط (١) :

- من خلال دراستك للشكل (١٦) :
- حلل مكونات النظام السياحي.
 - هل يتأثر النظام السياحي بحذف أحد مكوناته؟ وضح إجابتك.
 - استنتج مفهوم النظام السياحي.

بالاستعانة بمصادر التعلم والخريطة في الشكل (١٧):

- أ. حدّد الموقع الفلكي لبلدك عُمان.
- ب. وضّح أثر الموقع الفلكي للسلطنة على مناخها.
- ج. وضّح كيف يسهم التنوع المناخي في عُمان في تنشيط السياحة الداخلية.
- د. ناقش مقومات الجذب السياحية الطبيعية في الجبل الأخضر.
- هـ. سمّ الدول التي يأتي منها السُياح العرب للتمتع بخريف صلالة صيفاً.

أ- بين خطي عرض ٤٠,١٦ و ٢٦,٢٠ شمالاً وبين خطي طول ٥٠,٥١ و ٥٩,٤٠ شرقاً.

ب- وقد ساهم الموقع الفلكي في تباين المناخ بين مناطق السلطنة ليكون حاراً رطباً على السواحل، وحاراً جافاً في المناطق البعيدة عن الساحل، ومعتدلاً ممطراً في المرتفعات، أما الجنوب فيتأثر بمناخ موسمي استوائي ذي أمطار صيفية غزيرة منذ بداية يونيو إلى سبتمبر من كل عام.

ج- يسهم التنوع المناخي في عمان الى تنشيط السياحة حيث يفد المواطنون الى المناطق ذات المناخ المختلف عن ولاياتهم، فمنطقة الجبل الأخضر تعد من ابرز المناطق السياحية في عمان لاختلاف مناخها، يزورها المواطنون من باقي الولايات للتمتع بالمناخ المعتدل صيفا. وكذلك بالنسبة لولاية صلالة.

د- المناخ المعتدل، المدرجات الجبلية، القرى التاريخية، مزارع الورد، المحاصيل الزراعية الفريدة

هـ دول الخليج خاصة الامارات العربية المتحدة، مصر والدول العربية

نشاط (٢) :

بالاستعانة بالشكلين (١٩، ١٨):

١. حدّد الموقع الجغرافي لمنطقة الأخاديد في قارة أستراليا.
٢. سمّ المنتزهات الوطنية الواضحة لديك في الخريطة.
٣. فسّر تأثير غرابة أشكال السطح على السياحة.

١. تقع منطقة الاخاديد في الجنوب الشرقي استراليا على سواحل بحر تسمانيا وتوجد على امتداد ٣ منتزهات طبيعية.
٢.
٣. تسهم في تنشيط حركة السياحة وزيادة عدد السياح كونها تجمع بين جمال المكان وخطورة الأنشطة المرتبطة بها وحب المغامرة والاثارة



شكل (١٩) أستراليا

نشاط (٦) :

تعتبر العبّارات في سلطنة عُمان داعمة لاستراتيجية النقل بها، كما أنها تعزز الحركة السياحية فيها. بالاستعانة بمصادر التعلم المختلفة، ابحث عن العبّارات البحرية في السلطنة، وحدّد أسماءها.

توجد حالياً عبّارات سريعة وهي: (هرمز، وشناص، وصوقرة، والحلانيات، ومصيرة ٤) بالإضافة إلى عبّارتين ثلاثيّات المياه الضحلة بين شنة وجزيرة مصيرة وهي: (شنة، وجوهرة)، وكذلك سفينة الإنزال (حلانيات) والتي تضم إنزال الحاويات.

نشاط (٨) :

ادرس الجدول (٣)، ثم أجب عن الأسئلة التي تليه:

المجال / السنة	٢٠٠٥	٢٠٠٦	٢٠٠٧	٢٠٠٨	٢٠٠٩	٢٠١٠	٢٠١١	٢٠١٢	٢٠١٣	٢٠١٤
عدد الفنادق	١٦١	١٧٢	١٩٠	١٩٦	٢٢٤	٢٢٩	٢٤٨	٢٥٨	٢٨٢	٢٩٧
عدد الغرف	٨,١٣٢	٨,٥٦٣	٩,٢٩٨	٩,٣١٨	١٠,٤٩١	١٠,٩٣٧	١٢,٠٩٥	١٢,٧٩٢	١٤,٣٦٩	١٥,٣٦٣
نسبة إشغال الغرف%	٤٧	٥٨	٥٨	٥٨	٤٩	٥١,١	٤٣,٤	٤٥,٨	٤٧,٧	٥٧,٥

المصدر: وزارة السياحة دائرة الإحصاء والمعلومات الجغرافية في سلطنة عُمان.

جدول (٣) المنشآت الفندقية في سلطنة عُمان ونسبة إشغال الغرف في عام ٢٠١٤م لغاية شهر سبتمبر لفنادق ٤ وه نجوم.

- إذا علمت أن عدد الفنادق المسجلة في السلطنة في عام ٢٠٠٢م بلغ نحو ١٢٤ فندقاً، احسب نسبة الزيادة في عام ٢٠١٤م.
- مثل بيانياً - بطريقة الأعمدة - عدد المنشآت الفندقية في السلطنة.
- حسب رأيك، هل زيادة عدد الفنادق في عُمان مناسب لخطط تطوير السياحة بها؟ ولماذا؟

أ- نسبة الزيادة: $2002 = 124$ ، $2014 = 297$

لإيجاد نسبة أي شي نستخدم القانون = (العدد) تقسيم (العدد الكلي) ضرب (١٠٠)

العدد = رقم الزيادة وهو عبارة عن الفرق في عدد الفنادق بين السنتين

$$297 - 124 = 173$$

$$\text{العدد الكلي} = 297$$

$$\text{بتطبيق القانون} = (173) \text{ تقسيم } (297) \text{ ضرب } (100)$$

$$= 58\%$$

نشاط (١):

١. بالاستعانة بالجدول (٤):

١. مثل بيانياً - بطريقة الأعمدة- البيانات الواردة .

٢. فسّر معطيات الرسم البياني.

٣. حدّد على خريطة العالم في نهاية الكتاب الدول الواردة ضمن الجدول.

ب. «حسب إحصاءات منظمة السياحة العالمية وصل عدد السّياح في العالم إلى مليار و٣٥ مليون سائح والعائدات تريليون و٧٥ مليون دولار، وذلك بنهاية عام ٢٠١٢م».

- من خلال العبارة السابقة استنتج أهمية السياحة في العالم.
- بم تفسّر رغبة هذا العدد الكبير من سكان العالم في السياحة؟

ب- السياحة لها اثر في تنوع مصادر الدخل القومي في البلاد.

- لما له من أثر على الفرد والمجتمع (مع ذكر الاثار)

نشاط (٢):

بالاستعانة بمصادر التعلم المختلفة:

- أعط أمثلة لدول عربية عملت على جذب الاستثمارات السياحية نحوها، موضحًا تأثير ذلك على اقتصادها.
- ب. فسّر: اهتمام الدول بفتح باب الاستثمار في قطاع السياحة.

- أ. عملت دبي على جذب السياحي من خلال العديد من التسهيلات والخدمات والأنشطة السياحية ، ولأن تساهم السياحة في الاقتصاد الاماراتي بنسبة ١١,٦٪.
- ب. الإجابة في صفحة ١٧٧

نشاط (٣):

انظر إلى الجدول (٥)، ثم أجب عن الأسئلة التي تليه:

العام	عدد السياح القادمين (الوافدين) ألف	إنفاق السياحة الوافدة (ألف ريال عماني)
٢٠٠٥	١,١٠١	١٢٧,٦٦٣
٢٠٠٦	١,٣٨٥	١٤٦,٨٧٦
٢٠٠٧	١,٣٦٠	١٦٧,٦٥٤
٢٠٠٨	١,٥٤٠	١٧٨,٦٥٥
٢٠٠٩	١,٥٨٤	١٤٤,٣٦٧
٢٠١٠	١,٥٠٠	١٤٠,٥٤٨
٢٠١١	١,٣٩٣	١٥٨,٦١٤
٢٠١٢	١,٧١٤	٢٠٠,٢٧٠
٢٠١٣	١,٩٦١	٢٢٨,٣٩٨

المصدر: وزارة السياحة، دائرة الإحصاء والمعلومات الجغرافية - سلطنة عمان

جدول (٥) أعداد السياح والدخل في سلطنة عمان

- أ. مثل بيانيًا إنفاق السياحة الوافدة بالريال العماني خلال الأعوام (٢٠٠٥م - ٢٠١٣م).
- ب. احسب مقدار إنفاق السياحة الوافدة بالدولار لعام ٢٠١٣ م، علمًا بأن الدولار يعادل ٣٨٦ بيعة تقريبًا.
- ج. ما أهمية قدوم السياح لسلطنة عمان؟
- د. ما العوامل الجاذبة للسياحة في عمان؟
- هـ. كيف يمكن للسلطنة زيادة الدخل العائد من السياحة؟

ب- لاستخراج مقدار إنفاق السياحة الوافدة بالدولار يتم قسمة الدخل على مقدار ما يعادله الدولار بالريال العماني وذلك علة النحو التالي

$$\frac{228168 \text{ ريال}}{591704,663 \text{ دولار}} = \dots$$

٠,٣٨٦

أ. استنتج الآثار الاجتماعية الناتجة عن السياحة بناءً على الجدول أدناه:

آثار السياحة الاجتماعية	على المجتمع المستقبل للسياح	على السياح القادمين
الإيجابية	-	-
السلبية	-	-

ب. وضح أهمية السياحة في الجانب السياسي والثقافي للدول.

الإيجابية

يجعل المجتمع أكثر تسامحا وتقبلا للجماعات المختلفة. وقد يساعد على تبديد التحيز وتصحيح سوء الفهم

السياح القادمين

نسهم السياحة في رفع وعي و ثقافة أبناء الشعوب حيث عادة ينقل ما تعلمه إلى بلده ، * توطيد العلاقات الطيبة بين أبناء الشعوب ، و اكتساب المزيد من الخبرات لكل من الطرفين سواء السياح أو المجتمع المضيف .

السلبية

وجود السياح ذو الثقافات المختلفة قد يؤدي الى تغيير أو فقدان الهوية الأصلية. تغيير في العادات والقيم المجتمعية حتى تتناسب مع اذواق السياح.

نقل قيم الى مجتمعاتهم الاصلية مخالفة لأعرافهم.

ب- أهمية السياحة في الجانب الثقافي: تسهم السياحة في التواصل الحضاري بين الشعوب والمجتمعات مما ينعكس على ترسيخ وتعزيز الثقافات المحلية وتواصلها الإيجابي مع الثقافات الأخرى. أهمية السياحة في المجال السياسي: للسياحة دور معهم في تعزيز السلام الدولي من خلال توطيد اواصل الصداقة بين الشعوب، وتطوير العلاقات السياسية والدبلوماسية بين الدول.