

شكراً لتحميلك هذا الملف من موقع المناهج العمانية



امتحان تجريبي نموذج ثاني

موقع المناهج ← المناهج العمانية ← الصف الحادي عشر ← هذا وطني ← الفصل الثاني ← الملف

التواصل الاجتماعي بحسب الصف الحادي عشر



روابط مواد الصف الحادي عشر على تلغرام

[الرياضيات](#)

[اللغة الانجليزية](#)

[اللغة العربية](#)

[التربية الاسلامية](#)

المزيد من الملفات بحسب الصف الحادي عشر والمادة هذا وطني في الفصل الثاني

الامتحان النهائي الرسمي	1
نموذج إجابة الامتحان الرسمي النهائي	2
حصار درس الجهاز الإداري للدولة ومؤسساتها	3
امتحان تجريبي نموذج ثاني	4
امتحان تجريبي نهائي	5



امتحان تجريبي مادة: الدراسات الاجتماعية
للصف: الحادي عشر

للعام الدراسي ١٤٤٣/١٤٤٢ هـ - ٢٠٢١/٢٠٢٢ م
الدور الأول - الفصل الدراسي الثاني

- زمن الامتحان : (ساعتان) ● عدد صفحات أسئلة الامتحان: (١٠)
صفحات.
● الإجابة في الدفتر نفسه .

اسم الطالب	
الصف	المدرسة

التوقيع بالاسم		الدرجة		السؤال
المصحح الثاني	المصحح الأول	بالحروف	بالأرقام	
				١
				٢
				٣
				٤
مراجعة الجمع	جمعه			المجموع
				المجموع الكلي

(١)

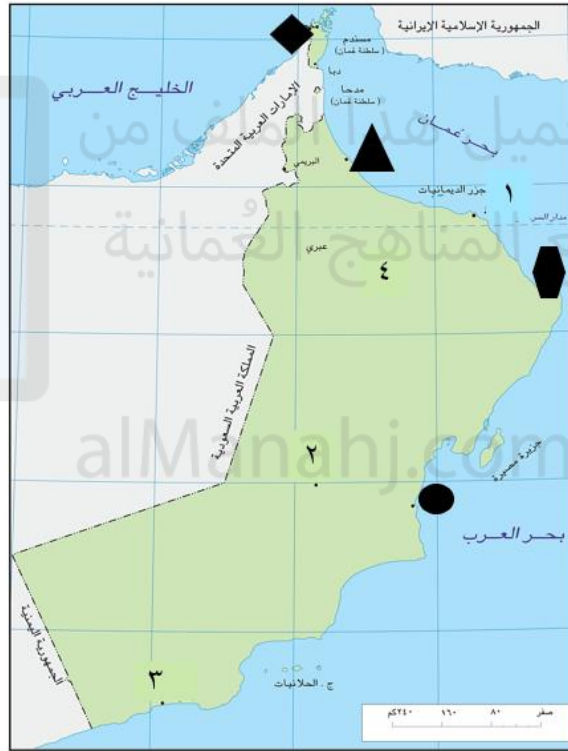
المادة : هذا وطني الصف : الدور الاول- الفصل الدراسي الثاني-العام الدراسي
٢٠٢١/٢٠٢٢ م

أجب عن جميع الأسئلة الآتية

السؤال الأول: ضلل الشكل المقترن بالإجابة الصحيحة من بين البدائل المعطاة لكل مفردة من المفردات التالية:

أ- مسقط ب- صحار ج- صور د- صلالة

من خلال الخريطة التالية أجب عن المفردات ٢-٤:



٢ - الرمز الصحيح لموقع ميناء صحار الصناعي :

أ- ب- ج- د-

٣- شهدت مولد السلطان قابوس بن سعيد - طيب الله ثراه - في يوم ١٨ نوفمبر ١٩٤٠م المدينة المشار لها بالرقم:

أ- ١ ب- ٢ ج- ٣ د- ٤

٤ - الرمز الصحيح لموقع ميناء الدقم:

أ- ب- ج- د-

٥ - تعد من المقومات البشرية للاقتصاد العماني :

أ- الامن والاستقرار ب- التنوع البيئي ج- البنية التحتية د- القيم الاجتماعية

(٢)

المادة : هذا وطني الصف : الحادي عشر الدور الأول - الفصل الدراسي الثاني-العام الدراسي ٢٠٢١/٢٠٢٢م

تابع السؤال الأول:

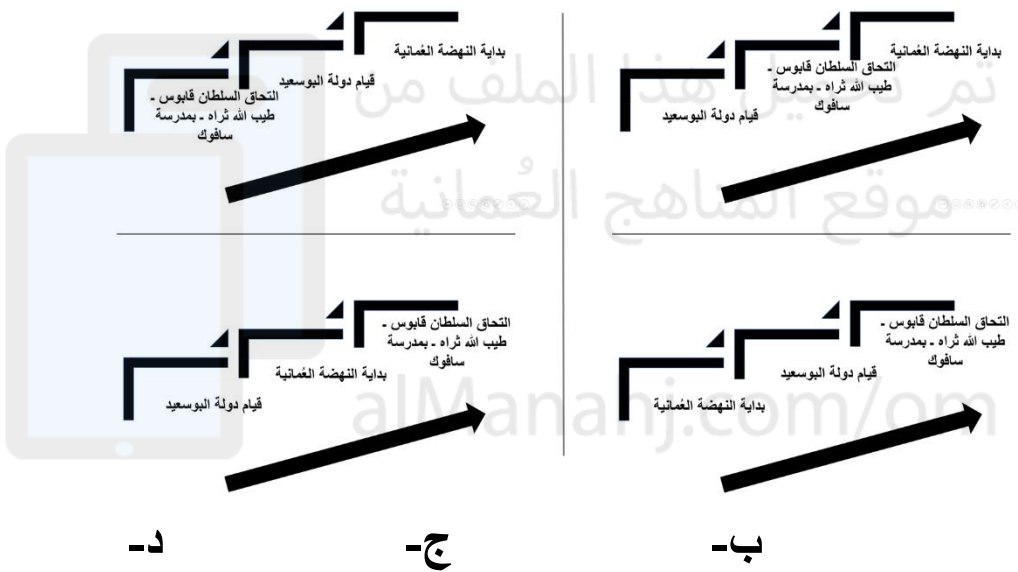
٦- منح المركز العربي لأوروبي لحقوق الانسان والقانون الدولي جائزة الانسان العربي الدولية للسلطان قابوس بن سعيد (طيب الله ثراه) في العام الميلادي

أ - ٢٠١٠ ب- ٢٠١٢ ج- ٢٠١٤ د- ٢٠١٦

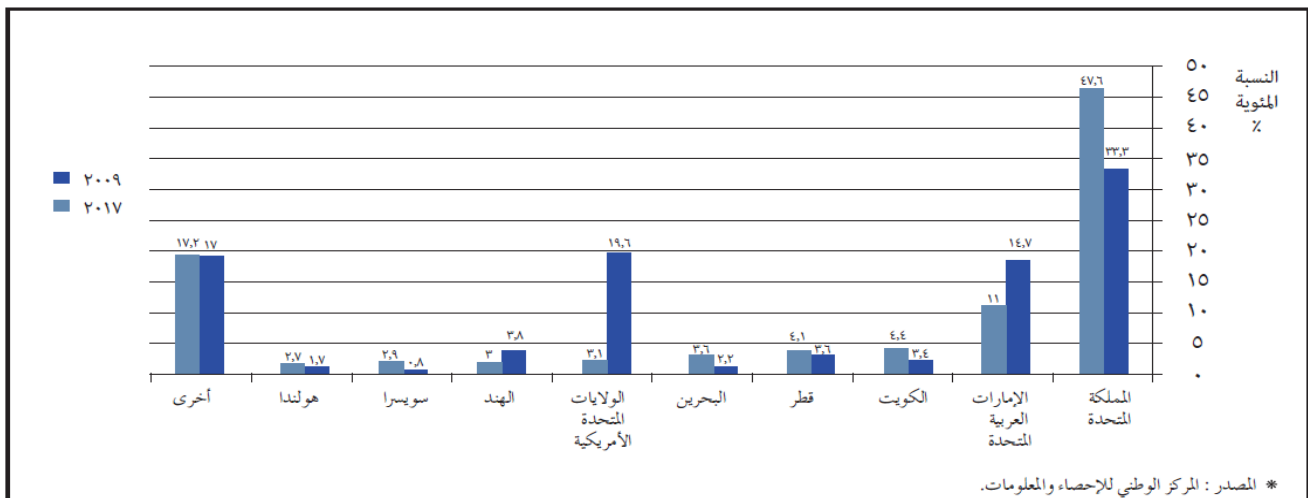
٧- "عملية تهدف الى تنويع هيكل الإنتاج وإيجاد قطاعات جديدة مولده للدخل يعرف ب:

أ- التنويع الاقتصادي ب- مقومات الاقتصاد ج- الاستثمارات د- الناتج المحلي الإجمالي

٨- الترتيب الصحيح للأحداث التالية المرتبطة بسيرة السلطان قابوس بن سعيد - طيب الله ثراه - من الأقدم إلى الأحدث يمثلته الشكل:



٩- خلال الشكل التالي، احتلت المرتبة الأولى من حيث حجم الاستثمارات الأجنبية في سلطنة عُمان عام ٢٠٠٩م و٢٠١٧م:



أ- الإمارات العربية المتحدة ب- البحرين ج- المملكة المتحدة د- الولايات المتحدة الأمريكية

(٣)

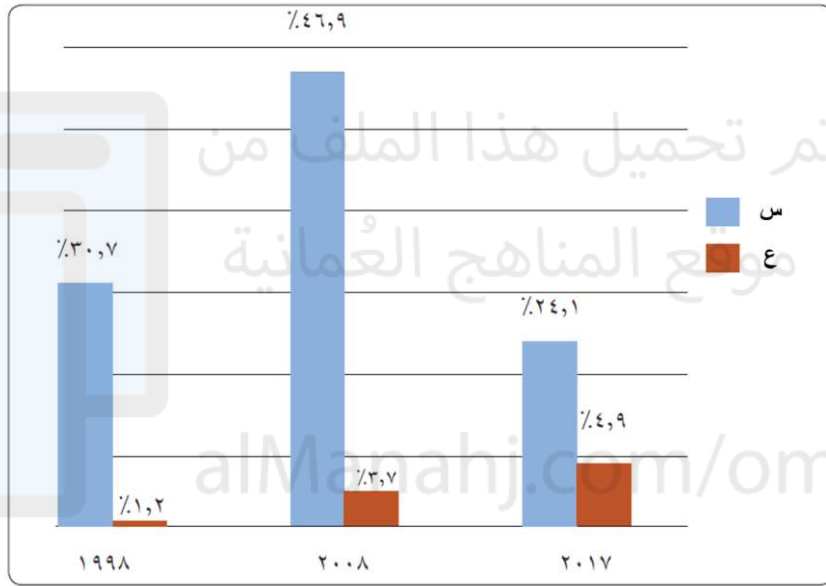
المادة : هذا وطني الصف : الحادي عشر الدور الأول - الفصل الدراسي الثاني-العام
الدراسي ٢٠٢١/٢٠٢٢ م

تابع السؤال الأول:

١٠- من المشاريع الإستراتيجية الاقتصادية اللوجستية المنفذة بالسلطنة بالشراكة مع القطاع الخاص:

- أ- ميناء صحار الصناعي
ب- طريق الباطنة السريع
ج- منتجع شاطئ صلالة
د- مجمع لوى للصناعات البلاستيكية

١١- إذا كان الشكل التالي يمثل مساهمات القطاع النفطي في الناتج المحلي الإجمالي بسلطنة عُمان فإن الرمز (س و ع) يشير إلى:



أ- النفط والغاز ب- النفط والفحم الحجري ج- الغاز والطاقة المتجددة د- النفط والهيدروجين

١٢- الصورة التي يمثلها القائد الأعلى للقوات المسلحة:

ب-



أ-



د-



ج-



(٤)

المادة : هذا وطني- الصف : الحادي عشر - الدور الأول - الفصل الدراسي الثاني-العام
الدراسي ٢٠٢١/٢٠٢٢ م

السؤال الثاني: أجب عن جميع الأسئلة التالية :

أولاً: عدد اثنين مما يلي:

١- القطاعات الاقتصادية الواعدة في سلطنة عُمان.

-
-

٢- الخطوات الأساسية التي قام بها السلطان قابوس بن سعيد - طيب الله ثراه - لبناء عُمان العصرية.

-
-

ثانياً : : أستبدل العبارات الاتية الاسم أو المفهوم الدال عليها:

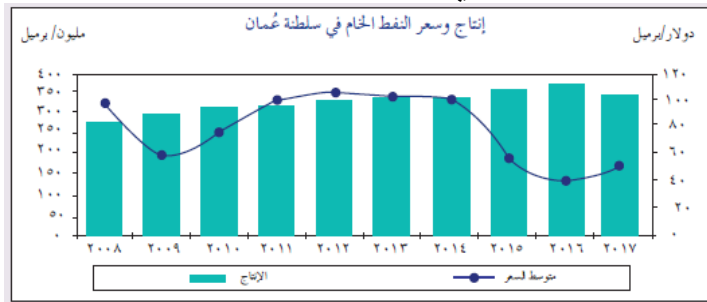
١- مؤشر اقتصادي يقيس القيمة النقدية لأجمالي السلع في دولة ما (.....)

٢- ادارة تدفق الموارد المختلفة كالبضائع والطاقة والمعلومات والخدمات البشرية من

مناطق الإنتاج الى مناطق الاستهلاك (.....).

٣- يتكون من رئيس الدولة والمجالس والهيئات واللجان (.....)

ثالثاً: أدرس الشكل التالي ، ثم أجب عن السؤال الذي يليه:



١- الوصف الصحيح لإنتاج وأسعار النفط خلال الفترة من ٢٠٠٨-٢٠١٧ م

() تذبذب إنتاج وأسعار النفط

() ثبات إنتاج وأسعار النفط

() تذبذب إنتاج النفط وثبات أسعاره

ضع علامة (✓) بين القوسين يمين الإجابة الصحيحة

() ثبات إنتاج النفط وتذبذب أسعاره

٢- استنتج ما العملة النقدية المستخدمة في تسعيرة النفط على مستوى دول العالم ؟

.....

٣- بم تفسر تأثير الامن والاستقرار على النمو الاقتصادي للدول ؟

.....

(٥)

المادة : هذا وطني الصف : الحادي عشر- الدور الأول - الفصل الدراسي الثاني-العام
الدراسي ٢٠٢١/٢٠٢٢م

السؤال الثالث: أجب عن جميع الأسئلة التالية:

أولاً: علل لما يأتي:

١- ركزت سلطنة عُمان في خططها التنموية على التنوع الاقتصادي بإنشاء المناطق الاقتصادية والصناعية والحررة.

-
-

٢- يواجه المنتج العُماني العديد م التحديات والمعوقات.

-
-

٣- حرصت السلطنة على تأكيد استقلالية القضاء.

-
-

ثانياً: أنظر إلى خريطتين التاليتين لاثنتين من قارات العالم، أدرسهما جيداً، ثم أجب عن الأسئلة التي تلي كل خريطة:



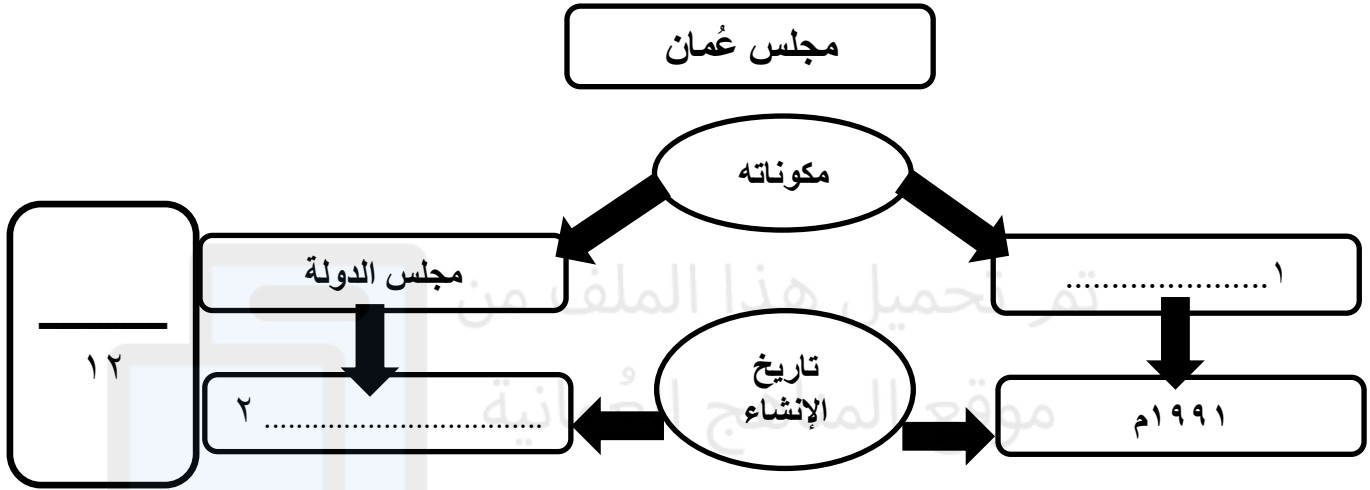
- ١ - ما الرقم الذي يشير إلى الدولة التي منحت السلطان قابوس -
طيب الله ثراه - جائزة جواهر لال نهرو للثقافة الدولي ٢٠٠٧م
الدولية عام ١٩٩٨م؟ (.....)
- ٢ - ما الرمز الذي يشير إلى الدولة التي منحت
السلطان قابوس - طيب الله ثراه - جائزة السلام
الدولية عام ١٩٩٨م؟ (.....)

(٦)

المادة : هذا وطني -الصف : الحادي عشر- الدور الأول - الفصل الدراسي الثاني-العام
الدراسي ٢٠٢١/٢٠٢٢م

تابع السؤال الثالث:

ثالثاً: أكمل بيانات المخطط التالي:



السؤال الرابع: أجب عن جميع الأسئلة التالية:
أولاً: ما المقصود بـ"الحوكمة"؟

..... •

ثانياً: "يتكون الاقتصاد العُماني من قطاعين رئيسيين هما: القطاع النفطي والقطاع غير النفطي ولكل منهما عدد من القطاعات الفرعية". في ضوء ذلك أجب عن الأسئلة الآتية:

١ - ما المقياس الذي تقاس به أهمية مساهمة هذه القطاعات الرئيسية والفرعية في الاقتصاد المحلي؟

..... •

٢ - ما القطاع الذي يندرج تحته قطاع الخدمات: القطاع النفطي أم القطاع غير النفطي؟

..... •

٣ - بم تفسر: ارتفعت مساهمة القطاع غير النفطي في الناتج المحلي الإجمالي بالسلطنة عام ٢٠١٧م؟

..... •

.....

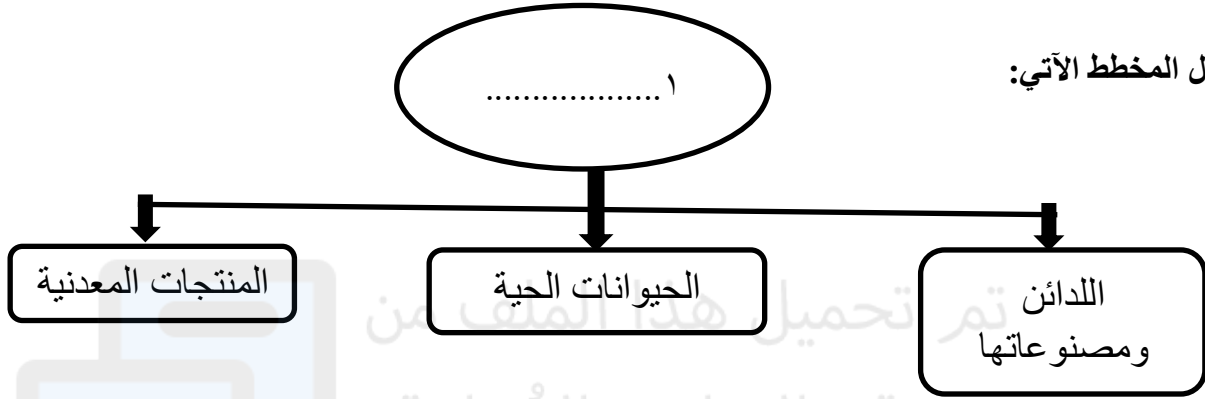
(٧)

المادة : هذا وطني -الصف : الحادي عشر الدور الأول - الفصل الدراسي الثاني-العام
الدراسي ٢٠٢١/٢٠٢٢م

تابع السؤال الرابع:

ثالثاً: أجب عن جميع الأسئلة التالي :

١ - أكمل المخطط الآتي:



٢ - دلل على صحة العبارة التالية:

يتبع/٩

" عملت السلطنة على تهيئة مناخ جاذب للمستثمرين من خلال سلسلة من الإجراءات".



٣- تشير الصورة المقابلة إلى جانب من جوانب اهتمامات السلطان قابوس بن سعيد - طيب الله ثراه -.

ما هذ الجانب؟

.....

.....

٤- "كان لجلالة السلطان قابوس بن سعيد - طيب الله ثراه - هوايات واهتمامات عديدة".

اذكر واحداً منها؟

.....

يتبع/٨

(٨)

المادة : هذا وطني- الصف : الحادي عشر- الدور الأول - الفصل الدراسي الثاني-العام
الدراسي ٢٠٢١/٢٠٢٢ م

السؤال الخامس: أجب عن جميع الأسئلة التالية:

أولاً: ١- صنف السلع التي بين القوسين التي استوردها العمانيون خلاص العصور الإسلامية والحديثة الى مناطقها حسب الجدول المرفق : (المنسوجات - العاج - الجلود -المصنوعات الحديدية)

المنطقة	الهند والصين	شرقي افريقيا
السلع		

٢- بين أسباب تنوع الأنشطة الاقتصادية التي مارسها العمانيون منذ القدم؟

.....
.....

ثانياً : اذكر اثنين من :

١- الأسس والقواعد التي قامت عليها النهضة العمانية؟

.....

٢- المهام التي يقوم بها السلطان (رئيس الدولة) حسب نص المادة ٩٤ من المظام الأساسية للدولة؟

.....

ثالثاً:

١- عدد الجوانب التي ركزت عليها رؤية عمان ٢٠٤٠م؟

.....

٢- فرق بين اختصاصات القضاء العادي والقضاء الإداري؟

.....

انتهت الأسئلة مع الدعاء للجميع بالتوفيق والنجاح.