

تم تحميل هذا الملف من موقع المناهج العُمانية



*للحصول على أوراق عمل لجميع الصفوف وجميع المواد اضغط هنا

<https://almanahj.com/om>

* للحصول على أوراق عمل لجميع مواد الصف الحادي عشر اضغط هنا

<https://almanahj.com/om/11>

* للحصول على جميع أوراق الصف الحادي عشر في مادة جغرافيا وجميع الفصول, اضغط هنا

<https://almanahj.com/om/11geography>

* للحصول على أوراق عمل لجميع مواد الصف الحادي عشر في مادة جغرافيا الخاصة بـ الفصل الأول اضغط هنا

<https://almanahj.com/om/11geography1>

* لتحميل كتب جميع المواد في جميع الفصول للـ الصف الحادي عشر اضغط هنا

<https://almanahj.com/om/grade11>

للتحدث إلى بوت على تلغرام: اضغط هنا

https://t.me/omcourse_bot



امتحان مادة : الجغرافيا الاقتصادية

للفيف : الحادي عشر

للعام الدراسي ١٤٣٨/١٤٣٩ هـ - ٢٠١٧/٢٠١٨ م

الدور الأول - الفصل الدراسي الأول

- زمن الامتحان : (ساعتان) ● عدد صفحات أسئلة الامتحان : (١٠) صفحات.
- الإجابة في دفتر نفسه .

اسم الطالب	
الصف	المدرسة

السؤال	الدرجة		التوقيع بالاسم	
	بالأرقام	بالحروف	المصحح الأول	المصحح الثاني
١				
٢				
٣				
٤				
المجموع			جمعه	مراجعة الجمع
المجموع الكلي				

(١)

المادة: الجغرافيا الاقتصادية الصف: الحادي عشر الدور الأول - الفصل الدراسي الأول العام الدراسي ٢٠١٧/٢٠١٨ م

أجب عن جميع الأسئلة الآتية :

السؤال الأول: ضع دائرة حول رمز الإجابة الصحيحة لكل مفردة من المفردات الآتية:

١. تستخدم الألياف البصرية لصناعة أسلاك الهاتف كبديل لمعدن :
أ- النحاس ب- الحديد ج- الرصاص د- الألمنيوم

٢. ترغب إحدى شركات التعدين باستغلال معدن الحديد بشكل اقتصادي، بناء على ذلك فإن الجدول الصحيح لاستغلال هذا المعدن :

طبقات معدنية قليلة السمك	أ-	طبقات معدنية قليلة السمك	ب-
المعدن بعيد من سطح الأرض		المعدن بعيد من سطح الأرض	
نسبة المعدن في الخام ٢٠%		نسبة المعدن في الخام ٥٠%	
طبقات معدنية سميكة	ج-	طبقات معدنية قليلة السمك	د-
المعدن قريب من سطح الأرض		المعدن قريب من سطح الأرض	
نسبة المعدن في الخام ٢٠%		نسبة المعدن في الخام ٥٠%	

٣. الصورة الصحيحة التي توضح العلامة التجارية للمنتج العضوي :



٤. تم تسجيل أول كارثة ناتجة عن التلوث الصناعي عام ١٩٣٠م في :

أ- بلجيكا ب- فرنسا ج- هولندا د- الدنمارك

٥. مادة عضوية متحللة توجد في المناطق الرطبة من العالم على مساحات كبيرة :


أ- البيرليت ب- اليورانيوم ج- البوكسيت د- البيتموس

(٢)

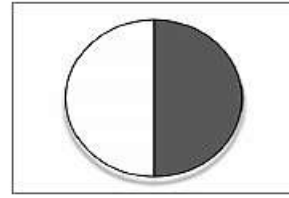
المادة : الجغرافيا الاقتصادية الصف : الحادي عشر الدور الأول - الفصل الدراسي الأول - العام الدراسي ٢٠١٧/٢٠١٨ م

تابع السؤال الأول:

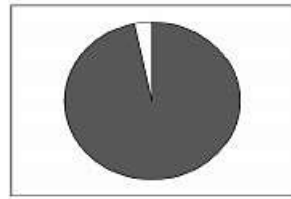
٦. الرسم البياني الذي يوضح نسبة إنتاج الطاقة في العالم من وقود الفحم والنفط والغاز معاً :



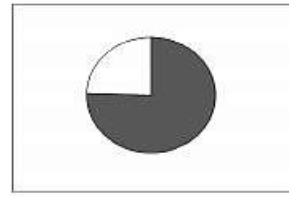
ب



أ-

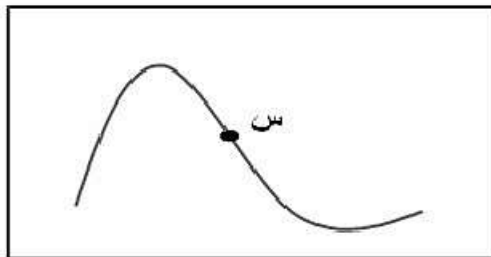


د-



ج

٧. أراد أحد المزارعين استغلال المنطقة المشار لها بالرمز (س) في الشكل المقابل، فالخطوة الأولى التي سيقوم بها المزارع لاستغلال تلك المنطقة :




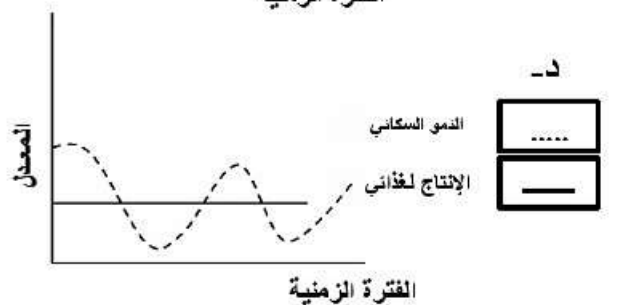

أ- الحراثة الحافظة

ب- استخدام المخلفات العضوية

ج- استخدام المخصبات العضوية

د- التغطية البلاستيكية

٨. الشكل الصحيح الذي يوضح علاقة معدل النمو السكاني بمعدل الإنتاج الغذائي في الدول النامية :



(٣)

المادة : الجغرافيا الاقتصادية الصف : الحادي عشر الدور الأول - الفصل
الدراسي الأول - العام الدراسي ٢٠١٧/٢٠١٨ م

تابع السؤال الأول:

٩. العوامل الطبيعية المؤثرة في انخفاض نسبة الأراضي الصالحة للزراعة وضعف إنتاجها :

ب-

الجفاف
الانفجار السكاني
انجراف التربة

أ-

الفقر
الانفجار السكاني
الجفاف

د-

الجفاف
انجراف التربة
الظروف المناخية

ج-

الجفاف
انخفاض مستوى الدخل
الظروف المناخية

١٠. ركزت نظرية فيير لتفسير التوطن الصناعي بشكل أساسي على :
أ- تكلفة النقل ب- المادة الخام ج- الطاقة د- السوق

١١. الجهة التي يتم فيها بناء أكبر محطة للطاقة الشمسية في سلطنة عُمان :
أ- الشرق ب- الغرب ج- الشمال د- الجنوب

١٢. المرحلة التي يمثلها الرمز ♻️ في هرم التعامل مع النفايات الصلبة في الشكل المقابل:

أكثر الحلول أفضلية
↑
↓
أقل الحلول أفضلية



أ- الثانية
ب- الثالثة
ج- الرابعة
د- الخامسة

(٤)

المادة : الجغرافيا الاقتصادية الصف : الحادي عشر الدور الأول - الفصل
الدراسي الأول - العام الدراسي ٢٠١٧/٢٠١٨ م

السؤال الثاني:

أولاً :

أ) عرف ما يأتي :

١. نسيج التربة
٢. الاكتفاء الذاتي

ب) اكتب اثنين مما يأتي :

١. الطرق التي تعتمد عليها استصلاح الأراضي للزراعة .

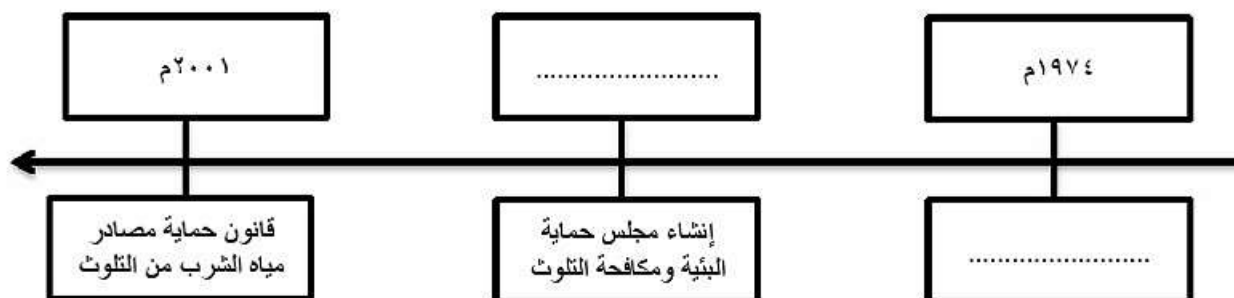
..... -
..... -

٢. السياسات والإجراءات التي تساعد الدول على تحقيق الأمن الغذائي .

..... -
..... -

ثانياً :

أ) أكمل الخط الزمني الذي يوضح اهتمام سلطنة عمان بالمحافظة على البيئة وصون مواردها الطبيعية :

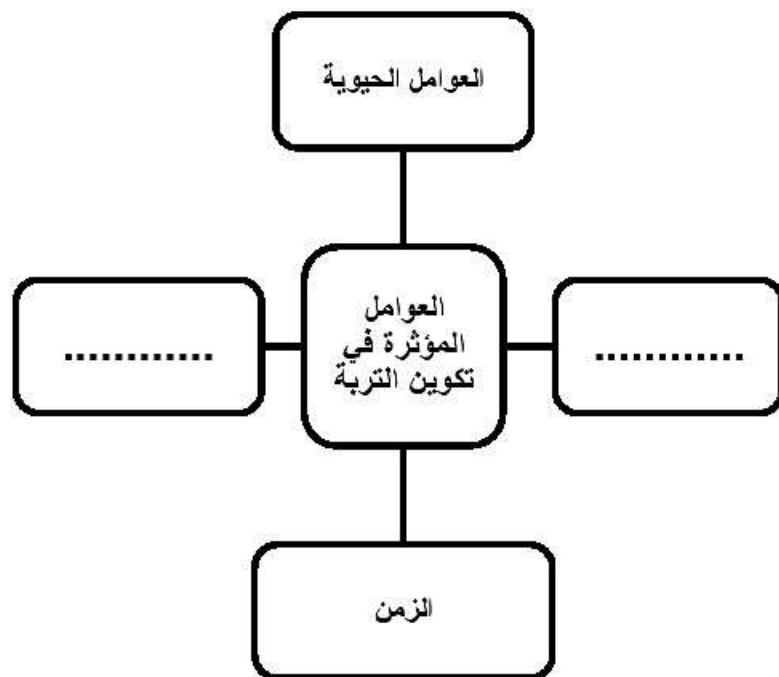


(٥)

المادة : الجغرافيا الاقتصادية الصف : الحادي عشر الدور الأول - الفصل
الدراسي الأول - العام الدراسي ٢٠١٧/٢٠١٨ م

تابع : السؤال الثاني:

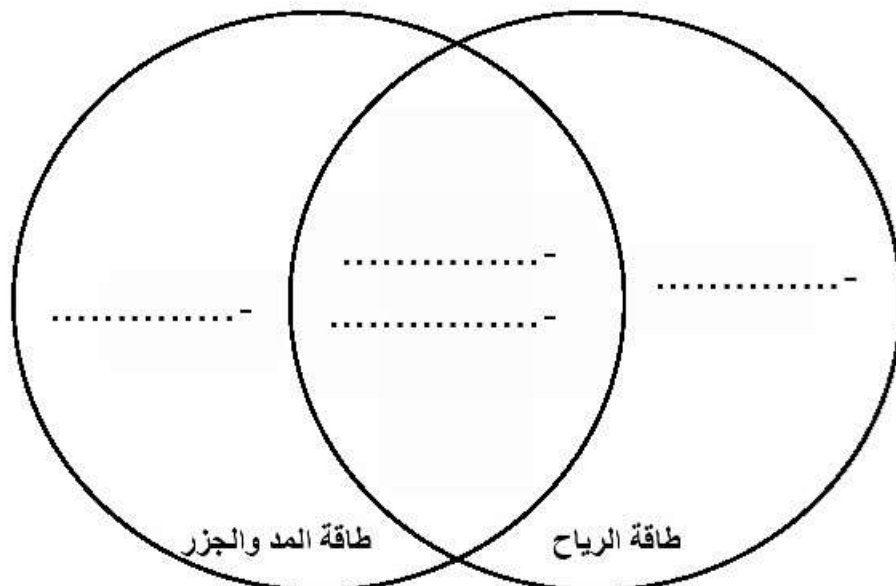
ب) أكمل المخطط الآتي :



ثالثاً:

أ) صنف الخصائص الآتية حسب أوجه الشبه والاختلاف بين طاقة الرياح وطاقة المد والجزر في الشكل الذي أمامك :

تستخدم التوربينات - تتعرض للصدأ - متجددة - عالية التكاليف



(٦)

المادة : الجغرافيا الاقتصادية الصف : الحادي عشر الدور الأول - الفصل الدراسي الأول - العام الدراسي ٢٠١٧/٢٠١٨ م

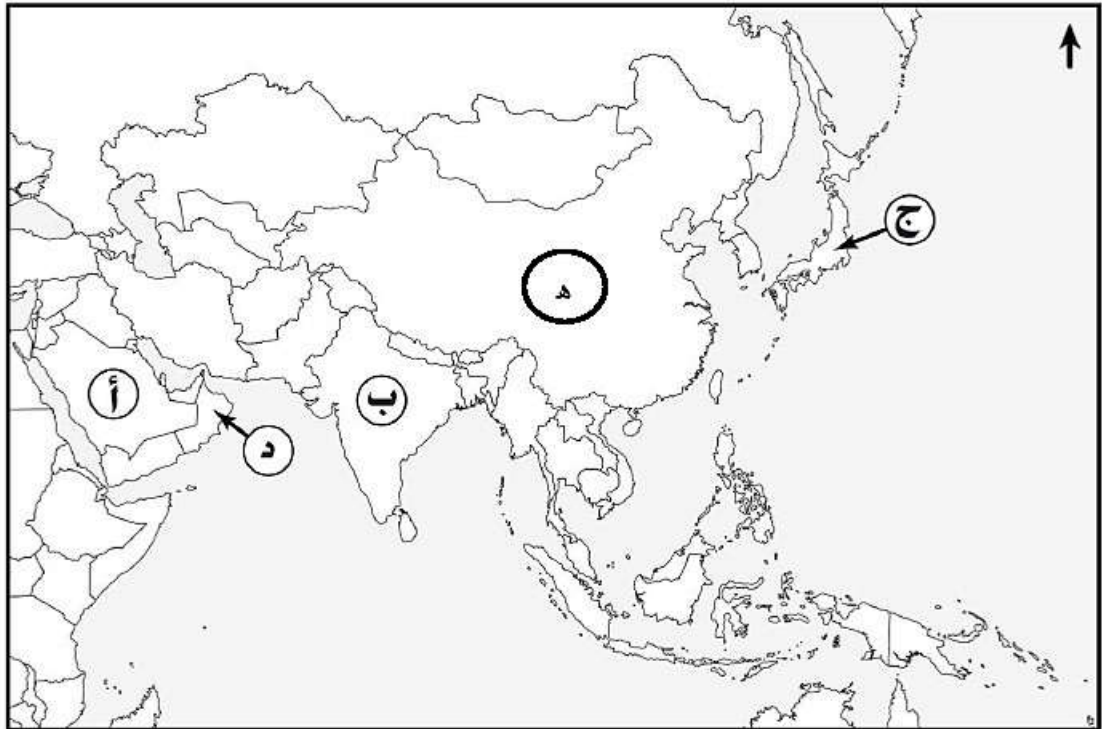
تابع : السؤال الثاني:

ب) أكتب النتيجة المترتبة على المشكلات الواردة في الجدول الآتي:

النتيجة المترتبة عليها	المشكلة البيئية
.....	انفجار المفاعل النووي في حادثة تشيرنوبل
.....	تلوث بخار الماء بالغازات السامة الناجمة عن المصانع

السؤال الثالث :

أولاً : أمامك خريطة لقارة آسيا، أدرسها جيداً ثم أجب عن الأسئلة التي تليها :



أ- ما الرمز الذي يشير إليه كلاً مما يأتي :

- الدولة التي نُفذ بها أول مشروع لطاقة الرياح على مستوى دول الخليج العربي
- أكبر دول الشرق الأقصى إنتاجاً للطاقة النووية
- الدولة التي تنتج ٩٧% من المعادن النادرة في العالم

(٧)

المادة : الجغرافيا الاقتصادية الصف : الحادي عشر الدور الأول - الفصل
الدراسي الأول - العام الدراسي ٢٠١٧/٢٠١٨ م

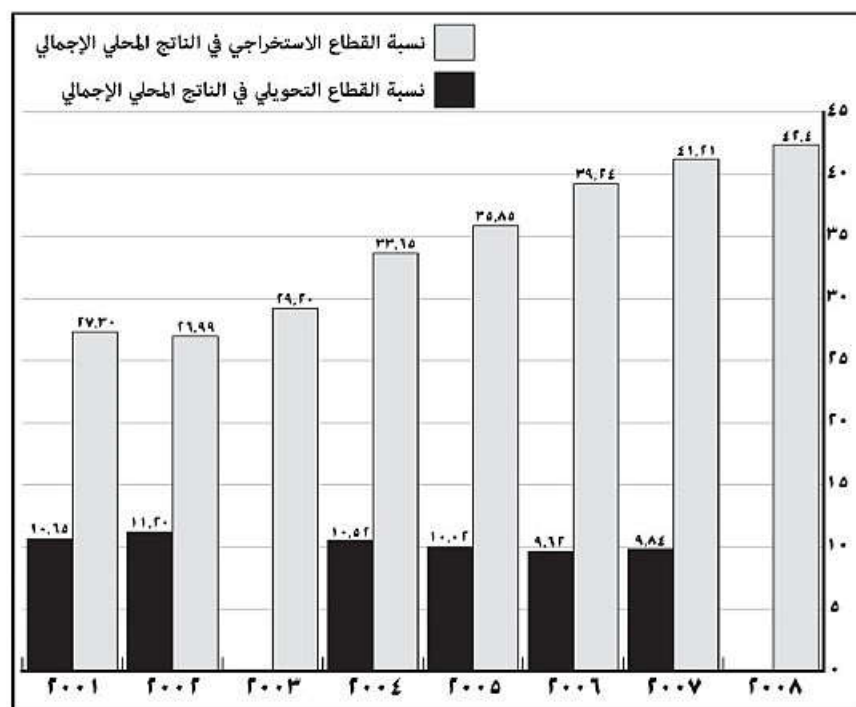
تابع :السؤال الثالث :

ثانياً :

أ) قارن بين المعادن الفلزية والمعادن اللافلزية في الجدول الآتي :

المعادن اللافلزية	المعادن الفلزية	أنواع المعادن وجه المقارنة
.....	الخصائص
.....	الأمثلة

ب) يمثل الشكل الآتي الصناعات الاستخراجية والصناعات التحويلية في الوطن العربي ، استعن به للإجابة عن الأسئلة التالية :



- ١- كم تبلغ نسبة الصناعات الاستخراجية في الوطن العربي في عام ٢٠٠١م؟
- ٢- ما العام الذي سجل فيه أعلى نسبة للصناعات التحويلية؟
- ٣- ارسم عموداً في الشكل السابق يوضح نسبة الصناعة التحويلية والتي تبلغ ٩% لعام ٢٠٠٨م

ج) " يمثل الفحم أحد المصادر الرئيسية للطاقة ". وضح كيف نشأ الفحم .

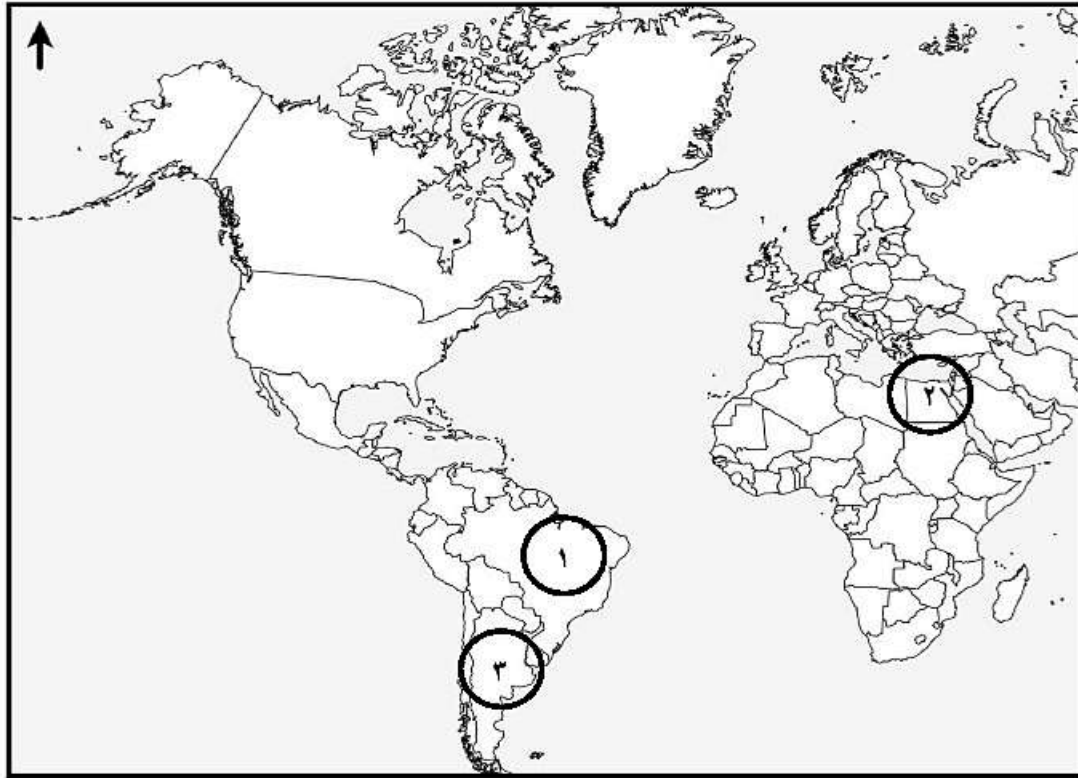
.....
.....

(٨)

المادة : الجغرافيا الاقتصادية الصف : الحادي عشر الدور الأول - الفصل
الدراسي الأول - العام الدراسي ٢٠١٧/٢٠١٨ م

تابع :السؤال الثالث :

ثالثاً: أمامك خريطة أدرسها جيداً ثم أجب عن الأسئلة التي تليها :



أ- ما الرقم الذي يشير إليه كلاً مما يأتي :

- الدولة التي عقد بها مؤتمر قمة الأرض لأول مرة

- الدولة العربية التي تعد من أبرز الأمثلة لاستصلاح الأراضي الزراعية

ب- اكتب على الخريطة الرمز (س) في القارة التي تحتل المرتبة الثانية في إنتاج النفط عالمياً .

ج- تسمى السهول التي تشتهر بها الدولة المشار إليها بالرقم (٣) :

□ سيبيريا □ البمباس □ (ضع علامة √)

(٩)

المادة : الجغرافيا الاقتصادية الصف : الحادي عشر الدور الأول - الفصل

الدراسي الأول - العام الدراسي ٢٠١٧/٢٠١٨ م

السؤال الرابع :

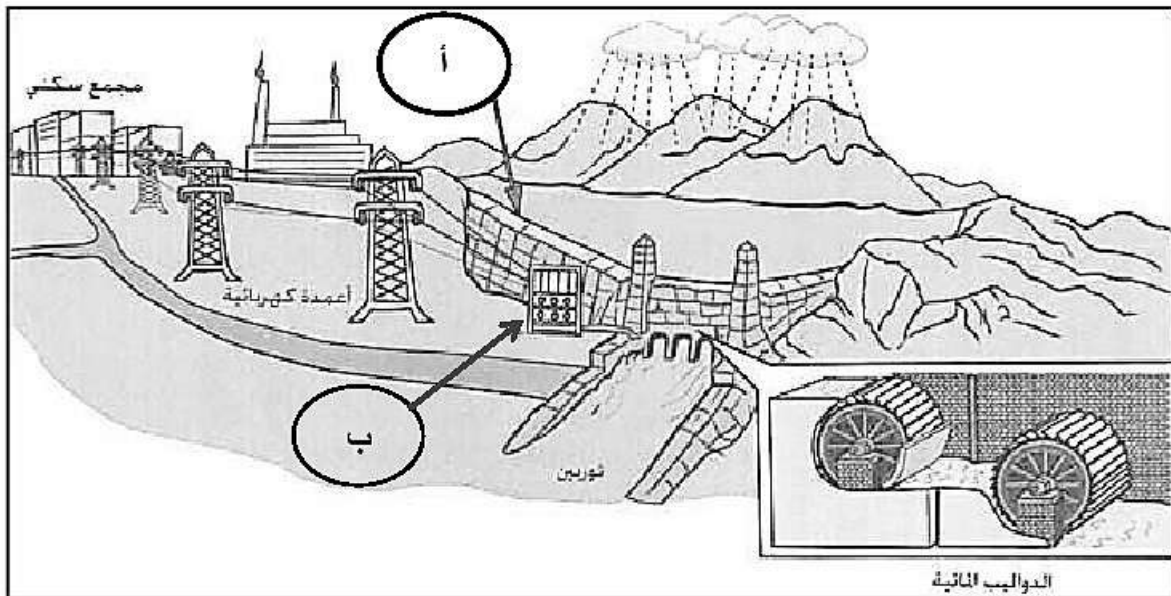
أولاً : اقرأ الفقرة الآتية ثم أجب عن الأسئلة التي تليها :
 " يعتبر الضجيج شكلاً من أشكال التلوث البيئي والذي جاء نتاجاً للتقدم الصناعي والتكنولوجي ، حيث يرتبط ارتباطاً وثيقاً بالأماكن الصناعية سواءً داخل المصنع أو في المنطقة المحيطة به "

١ . ما نوع التلوث الذي تشير إليه الفقرة ؟

٢ . اكتب اثنين من الأضرار الناجمة عن هذا التلوث .

١-.....
 ٢-.....

ثانياً : أدرس الشكل جيداً، ثم أجب عن الأسئلة التي تليه :



١ . أكتب ما تشير إليه الرموز الآتية :

..... أ ب

٢ . ما الطاقة التي يتم توليدها من الشكل السابق؟

٣ . اكتب اثنين من المشكلات التي تؤثر على منطقة المشروع .

..... -

..... -

(١٠)

المادة : الجغرافيا الاقتصادية الصف : الحادي عشر الدور الأول - الفصل
الدراسي الأول - العام الدراسي ٢٠١٧/٢٠١٨ م

تابع :السؤال الرابع :

ثالثاً: أكتب أسفل كل صورة نوع الزراعة المتبعة:



٢-.....



١-.....



٤-.....



٣-.....

انتهت الأسئلة مع الدعاء للجميع بالتوفيق والنجاح.



نموذج إجابة امتحان الصف الحادي عشر
للعام الدراسي ١٤٣٨/١٤٣٩ هـ - ٢٠١٧/٢٠١٨ م
الدور الأول - الفصل الدراسي الأول

المادة: الجغرافيا الاقتصادية الدرجة الكلية: (٦٠) درجة.
تنبيه: نموذج الإجابة في (٦) صفحات.

أولاً: إجابة السؤال الموضوعي:

إجابة السؤال الأول				
المفردة	البديل الصحيح	الإجابة	الدرجة	الصفحة
١	أ	النحاس	٢	٢٥
٢	ب	طبقات معدنية سميكة المعدن قريب من سطح الأرض نسبة المعدن في الخام ٥٠ %	٢	٢١
٣	أ		٢	٧٣
٤	أ	بلجيكا	٢	٨٧
٥	د	البيتموس	٢	٧٥
٦	د		٢	٤٧
٧	أ	الحراثة الحافظة	٢	٣٣
٨	ج		٢	٦٩
٩	د	الجفاف انجراف التربة الظروف المناخية	٢	٧٠
١٠	أ	تكلفة النقل	٢	٨٢
١١	د	الجنوب	٢	37
١٢	ب	الثالثة	٢	٩٣
المجموع				

(٢)

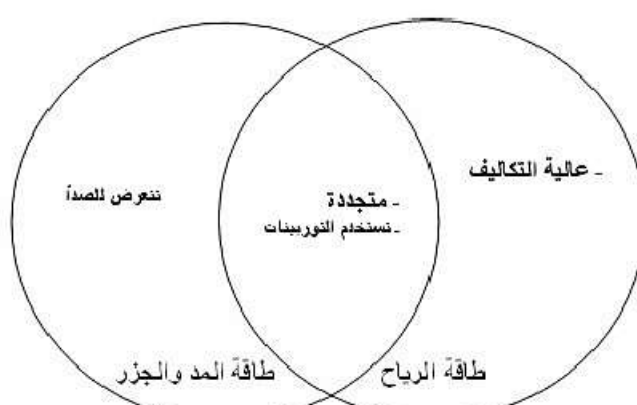
تابع نموذج إجابة امتحان الصف الحادي عشر
للعام الدراسي ١٤٣٨/١٤٣٩ هـ - ٢٠١٧/٢٠١٨ م
الدور الأول - الفصل الدراسي الأول
المادة : الجغرافيا الاقتصادية

ثانيا: إجابة الأسئلة المقالية:

الدرجة الكلية: (١٢) درجة		إجابة السؤال الثاني		
الصفحة	الدرجة	الإجابة الصحيحة	المفردة	الجزئية
٢٨	١	١ - نسبة مكونات التربة من الحبيبات الرملية والغرينية والطينية .	أ	
٧١	١	٢ - أن يعتمد بلدا ما على إمكانياته الخاصة للحصول على احتياجاته من السلع الإستهلاكية والاستثمارية بهدف التقليل من التبعية السياسية والاقتصادية للدول الأخرى .		
٣١	١ لكل جزئية نصف درجة	١ - التخلص من الأملاح الذائبة . - التخلص من الصوديوم المتبادل . - تحسين الخواص الطبيعية والكيميائية والحيوية . (يكتفى بذكر اثنين)	ب	أولاً
٧١	١ لكل جزئية نصف درجة	٢ - تحقيق التنمية الزراعية المستدامة . - التعاون والتكامل الاقتصادي بين المجتمعات والدول عن طريق التبادل والاستيراد . - التخزين لبعض المواد الغذائية ذات القيمة الاستراتيجية . - الاهتمام بتصنيع الفائض من الإنتاج . - الاهتمام بالتطور التكنولوجي والعلمي واستخدام الأساليب والوسائل الزراعية الحديثة . (يكتفى بذكر اثنين)		
٩٧	٢		أ	ثانياً
٢٧	٢		ب	

(٣)

تابع نموذج إجابة امتحان الصف الحادي عشر
للعام الدراسي ١٤٣٨/١٤٣٩ هـ - ٢٠١٧/٢٠١٨ م
الدور الأول - الفصل الدراسي الأول
المادة : الجغرافيا الاقتصادية

الدرجة الكلية: (١٢) درجة		إجابة السؤال الثاني							
الصفحة	الدرجة	الإجابة الصحيحة	المفردة						
٤٠	٢ لكل جزئية نصف درجة		أ						
٨٧	٢ لكل جزئية درجة	<table border="1"> <tr> <td>النتيجة المترتبة</td> <td>المشكلة البيئية</td> </tr> <tr> <td>إشعاعات نووية</td> <td>انفجار المفاعل النووي في حادثة تشيرنوبل</td> </tr> <tr> <td>المطر الحمضي</td> <td>تلوث بخار الماء بالغازات السامة الناجمة عن المصانع</td> </tr> </table>	النتيجة المترتبة	المشكلة البيئية	إشعاعات نووية	انفجار المفاعل النووي في حادثة تشيرنوبل	المطر الحمضي	تلوث بخار الماء بالغازات السامة الناجمة عن المصانع	ب
النتيجة المترتبة	المشكلة البيئية								
إشعاعات نووية	انفجار المفاعل النووي في حادثة تشيرنوبل								
المطر الحمضي	تلوث بخار الماء بالغازات السامة الناجمة عن المصانع								

ثالثاً

(٤)

تابع نموذج إجابة امتحان الصف الحادي عشر
للعام الدراسي ١٤٣٨/١٤٣٩ هـ - ٢٠١٧/٢٠١٨ م

الدور الأول - الفصل الدراسي الأول

المادة : الجغرافيا الاقتصادية

تابع ثانيا: إجابة الأسئلة المقالية:

الدرجة الكلية: (١٢) درجة		إجابة السؤال الثالث																											
الصفحة	الدرجة	الإجابة الصحيحة	الجزئية																										
٣٨	١	د -	أ																										
٤٦	١	ج -																											
٢٣	١	هـ -																											
٢٠	٢ لكل جزئية نصف درجة	<table border="1"> <thead> <tr> <th>المعادن اللافلزية</th> <th>المعادن الفلزية</th> <th></th> </tr> </thead> <tbody> <tr> <td>- غير قابلة للطرق والسحب - غير موصلة للكهرباء</td> <td>- قابلة للطرق والسحب - جيدة التوصيل للحرارة والكهرباء</td> <td>الخصائص</td> </tr> <tr> <td>- الألماس - البوناس - الكبريت - الزبرجد - الباقوت - الملح الجبس - المعادن الطينية</td> <td>- المعادن الحديدية كالحديد - المنجنيز - الكروم - المعادن غير الحديدية كالنحاس - الرصاص - الزنك - المغنيسيوم</td> <td>الأمثلة</td> </tr> </tbody> </table> <p>يكتفى بذكر مثال واحد لكل نوع</p>	المعادن اللافلزية	المعادن الفلزية		- غير قابلة للطرق والسحب - غير موصلة للكهرباء	- قابلة للطرق والسحب - جيدة التوصيل للحرارة والكهرباء	الخصائص	- الألماس - البوناس - الكبريت - الزبرجد - الباقوت - الملح الجبس - المعادن الطينية	- المعادن الحديدية كالحديد - المنجنيز - الكروم - المعادن غير الحديدية كالنحاس - الرصاص - الزنك - المغنيسيوم	الأمثلة	أ																	
المعادن اللافلزية	المعادن الفلزية																												
- غير قابلة للطرق والسحب - غير موصلة للكهرباء	- قابلة للطرق والسحب - جيدة التوصيل للحرارة والكهرباء	الخصائص																											
- الألماس - البوناس - الكبريت - الزبرجد - الباقوت - الملح الجبس - المعادن الطينية	- المعادن الحديدية كالحديد - المنجنيز - الكروم - المعادن غير الحديدية كالنحاس - الرصاص - الزنك - المغنيسيوم	الأمثلة																											
٨١	نصف درجة	١ - ٢٧,٣٠ %	ب -																										
٨١	نصف درجة	٢ - ٢٠٠٢ م																											
٨١	١	<table border="1"> <caption>نسبة القطاع الصناعي في الناتج المحلي الإجمالي</caption> <thead> <tr> <th>السنة</th> <th>النسبة في الناتج المحلي الإجمالي في عمان (%)</th> <th>النسبة في الناتج المحلي الإجمالي في العالم (%)</th> </tr> </thead> <tbody> <tr> <td>2001</td> <td>27.20</td> <td>10.65</td> </tr> <tr> <td>2002</td> <td>26.99</td> <td>11.05</td> </tr> <tr> <td>2003</td> <td>28.20</td> <td>11.35</td> </tr> <tr> <td>2004</td> <td>31.65</td> <td>10.35</td> </tr> <tr> <td>2005</td> <td>32.85</td> <td>10.05</td> </tr> <tr> <td>2006</td> <td>32.25</td> <td>9.05</td> </tr> <tr> <td>2007</td> <td>31.20</td> <td>9.85</td> </tr> <tr> <td>2008</td> <td>32.1</td> <td>20.1</td> </tr> </tbody> </table>		السنة	النسبة في الناتج المحلي الإجمالي في عمان (%)	النسبة في الناتج المحلي الإجمالي في العالم (%)	2001	27.20	10.65	2002	26.99	11.05	2003	28.20	11.35	2004	31.65	10.35	2005	32.85	10.05	2006	32.25	9.05	2007	31.20	9.85	2008	32.1
السنة	النسبة في الناتج المحلي الإجمالي في عمان (%)	النسبة في الناتج المحلي الإجمالي في العالم (%)																											
2001	27.20	10.65																											
2002	26.99	11.05																											
2003	28.20	11.35																											
2004	31.65	10.35																											
2005	32.85	10.05																											
2006	32.25	9.05																											
2007	31.20	9.85																											
2008	32.1	20.1																											

(٥)

تابع نموذج إجابة امتحان الصف الحادي عشر
للعام الدراسي ١٤٣٨/١٤٣٩ هـ - ٢٠١٧/٢٠١٨ م
الدور الأول - الفصل الدراسي الأول
المادة : الجغرافيا الاقتصادية

تابع ثانياً: إجابة الأسئلة المقالية:

إجابة السؤال الثالث			الجزئية
٤١	١	نشأ نتيجة تجمع مواد نباتية طمرت تحت طبقات من الرواسب وتعرضت للضغط الشديد والحرارة المرتفعة ففقدت الكثير من الماء والأكسجين والنتروجين وتكونت مادة ترتفع بها نسبة الكربون .	ج ثانياً
٦٨	١	١ -	أ
٣١	١	٢ -	
٤٢	١	 <p>كتابة الرمز (س) في أي موقع في قارة أمريكا الشمالية تعتبر الإجابة صحيحة</p>	ب ثالثاً
٦٤	١	البمباس	ج

(٦)

تابع نموذج إجابة امتحان الصف الحادي عشر
للعام الدراسي ١٤٣٨/١٤٣٩ هـ - ٢٠١٧/٢٠١٨ م
الدور الأول - الفصل الدراسي الأول
المادة : الجغرافيا الاقتصادية

تابع ثانياً: إجابة الأسئلة المقالية:

الدرجة الكلية: (١٢) درجة		إجابة السؤال الرابع		
الصفحة	الدرجة	الإجابة الصحيحة	المفردة	الجزئية
٩١	١	التلوث الضوضائي / التلوث الصوتي	١	أولاً
٩١	٢	<ul style="list-style-type: none"> - الإرهاق والصمم . - اضطرابات سلوك الفرد . - زيادة ميله إلى العنف . - ازدياد دقات القلب . - التوتر العصبي والنفسي . - اضرار تصيب الجهاز التنفسي والجهاز الهضمي . - اضرار تلحق بالعمالين كتدني مستويات الإنتاج . (يكتفى بذكر اثنين)	٢	
٣٩	١	أ- سد مائي	١	ثانياً
٣٩	١	ب- مجمع كهربائي		
٣٩	١	الكهرومائية .		
٤٠	٢	<ul style="list-style-type: none"> - المياه المحتجزة خلف السدود تدمر الحياة البرية . - تتأثر الطاقة المائية بفترات الجفاف . - تتوافر في نقاط محددة . (يكتفى بذكر اثنين)	٣	
٦٥-٦٣	٤ درجات لكل مفردة درجة	<div style="display: flex; justify-content: space-around;"> <div style="text-align: center;">  <p>٣- الزراعة العصرية (المحمية)</p> </div> <div style="text-align: center;">  <p>١- الزراعة التجارية (الواسعة)</p> </div> </div> <div style="display: flex; justify-content: space-around; margin-top: 10px;"> <div style="text-align: center;">  <p>٤- الزراعة البدائية (التقليدية)</p> </div> <div style="text-align: center;">  <p>٣- الزراعة الكثيفة</p> </div> </div>		ثالثاً

نهاية نموذج الإجابة



امتحان مادة : الجغرافيا الاقتصادية

للف : الحادي عشر

للعام الدراسي ١٤٣٨/١٤٣٩هـ-٢٠١٧/٢٠١٨م

الدور الثاني- الفصل الدراسي الأول

- زمن الامتحان : (ساعتان) ● عدد صفحات أسئلة الامتحان: (٩) صفحات.
- الإجابة في الدفتر نفسه .

اسم الطالب	
الصف	المدرسة

التوقيع بالاسم		الدرجة		السؤال
المصحح الثاني	المصحح الأول	بالحروف	بالأرقام	
				١
				٢
				٣
				٤
مراجعة الجمع	جمعه			المجموع
				المجموع الكلي

أجب عن جميع الأسئلة الآتية

السؤال الأول: ضع دائرة حول رمز الإجابة الصحيحة لكل مفردة من المفردات الآتية:

١- الدولة التي تستخدم غاز الميثان كوقود للسيارات والشاحنات:
أ- البرازيل ب- الهند ج- كندا د- اليابان

٢- العام الميلادي الذي نظم فيه مؤتمر قمة الأرض لأول مرة في مدينة ريودي جانيرو:
أ- ١٩٩٠ ب- ١٩٩١ ج- ١٩٩٢ د- ١٩٩٣

٣- الطريقة المتبعة في الحفاظ على التربة من التدهور في الصورة المقابلة :



- أ- إدارة الطبوغرافيا
ب- الغطاء الطبيعي
ج- المكافحة للآفات
د- الزراعة العضوية

٤- فكرت إحدى الدول بإنشاء مصنع للحديد والصلب معتمدة على المقومات الطبيعية ، فإن المكان الأمثل لتوطن هذه الصناعة بالقرب من :

أ- السوق والطاقة ب- الأيدي العاملة والطاقة

ج- المياه والطاقة د- السوق والأيدي العاملة

٥- ينتمي الألماس ضمن معايير تصنيف الموارد الطبيعية حسب التوزيع الجغرافي إلى موارد :

أ- احتكارية ب- واسعة الانتشار ج- نادرة الوجود د- تتوافر في كل مكان

٦- تعتبر أكياس القمامة منتج معاد تدويره من المخلفات :

أ- الورقية ب- البلاستيكية ج- العضوية د- العظمية

٧- توضح الصورة التي أمامك عاملان طبيعيين مؤثران في الإنتاج الزراعي :

أ- التربة والتكنولوجيا ب- المناخ والسكان
ج- التربة والتضاريس د- المياه والسوق



(٢)

المادة : الجغرافيا الاقتصادية الصف : الحادي عشر الدور الثاني - الفصل الدراسي الأول - العام الدراسي

٢٠١٧/٢٠١٨م

تابع : السؤال الأول:

٨- نسبة اقتصاد مجموعة الثمانية G8 من اقتصاد العالم:

د - ٧٥%

ج - ٦٥%

ب - ٥٠%

أ- ٤٥%

٩- الجدول الذي يمثل توزيع المحاصيل الزراعية في بعض محافظات سلطنة عمان حسب الظروف المناخية :

المحافظة	المحصول
الداخلية	الرومان
ظفار	النخيل
الوسطى	جوز الهند

ب-

المحافظة	المحصول
الداخلية	الرومان
الوسطى	النخيل
الشرقية	جوز الهند

أ-

المحافظة	المحصول
ظفار	الرومان
الوسطى	النخيل
الظاهرة	جوز الهند

د-

المحافظة	المحصول
الداخلية	الرومان
الظاهرة	النخيل
ظفار	جوز الهند

ج-

١٠- أكثر أشكال التلوث البيئي انتشاراً على سطح الأرض:

د- الهوائي

ج- الحراري

ب- المائي

أ- الضوضائي

١١- رقم الموقع الأمثل لاستغلال المعادن اقتصادياً حسب عامل العمق في الجدول الآتي :

الموقع	العمق
١	٣٥-٤٥ متر
٢	٥٥-٦٥ متر
٣	٧٥-٨٥ متر
٤	٩٥-١٠٥ متر

أ- ١

ب- ٢

ج- ٣

د- ٤

تابع السؤال الأول:

١٢- التدرج الصحيح لتطور استخدامات الطاقة عبر الفترات الزمنية التي عاشها الإنسان من الأقدم إلى الأحدث :

النفرة
الرياح والمياه
الفحم
النفط
اكتشاف النار

ب-

اكتشاف النار
الرياح والمياه
الفحم
النفط
النفرة

أ-

الفحم
الرياح والمياه
اكتشاف النار
النفط
النفرة

د-

اكتشاف النار
الرياح والمياه
النفرة
النفط
الفحم

ج-

السؤال الثاني:

أولاً:

أ) عرف ما يأتي:

١-البصمة البيئية

٢-الأمن الغذائي

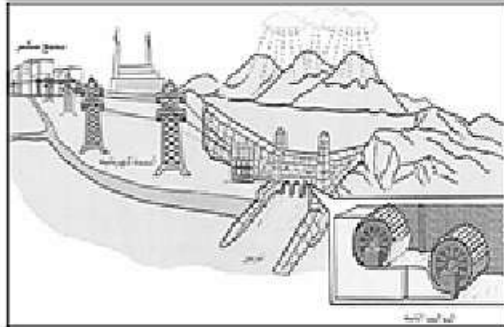
ب)أكمل الخريطة المفاهيمية الآتية :



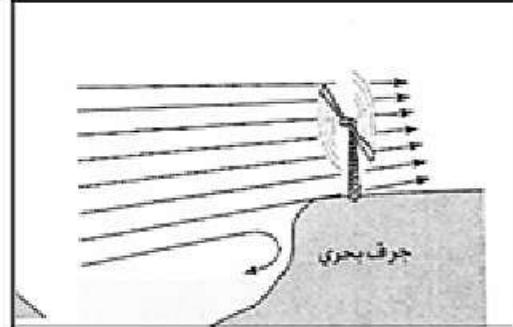
تابع السؤال الثاني:

ثانياً:

أ) "تعتمد العديد من مصادر الطاقة على الموارد الطبيعية". في ضوء ذلك، أكتب أسفل كل صورة أحد الآثار السلبية لها :



.....



.....

ب) علل لما يأتي :

١- قلة إقبال الدول النامية على المنتج العضوي .

.....

٢- يعد الغاز الطبيعي أهم مصدر للطاقة في الوقت الحاضر.

.....

ثالثاً:

أ) قام مجموعة من الطلاب بزيارة لمصنعين هما :

١. المصنع (س): يعمل على تصنيع السفن والأحواض العائمة .

٢. المصنع (ص): يعمل على إنتاج الخيوط من الصوف أو القطن .

في ضوء ذلك استنتج نوع الصناعة في كلٍ من :

١. المصنع (س) :

٢. المصنع (ص) :

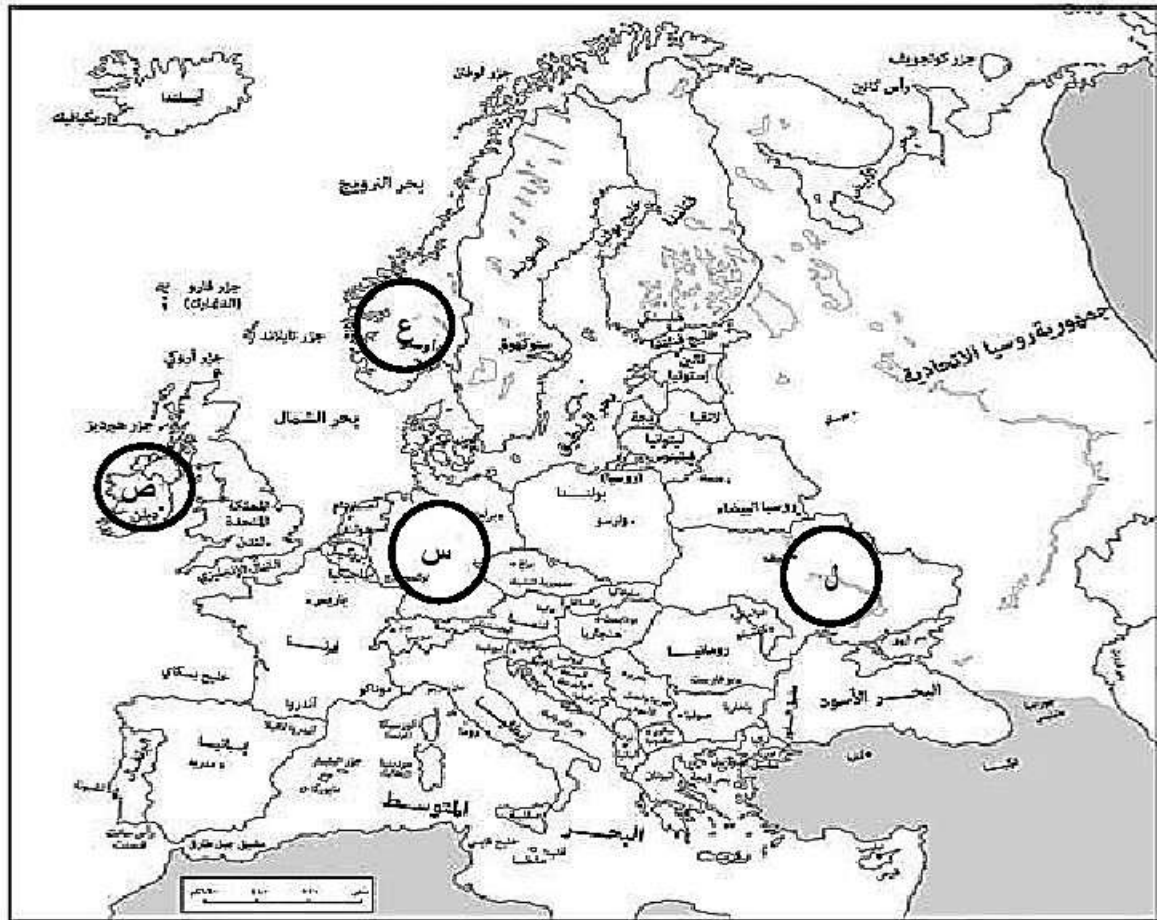
ب) صنف المواد الخام الآتية حسب الجدول الآتي:

(حديد - زيوت - ذهب - مشتقات النفط)

نصف مصنعة	معدنية
.....
.....

السؤال الثالث:

أولاً: أمامك خريطة أوروبا ، ادرسها جيدا ثم أجب عن الأسئلة التي تليها :



أ) ما الرمز الذي يشير إليه كلاً مما يأتي :

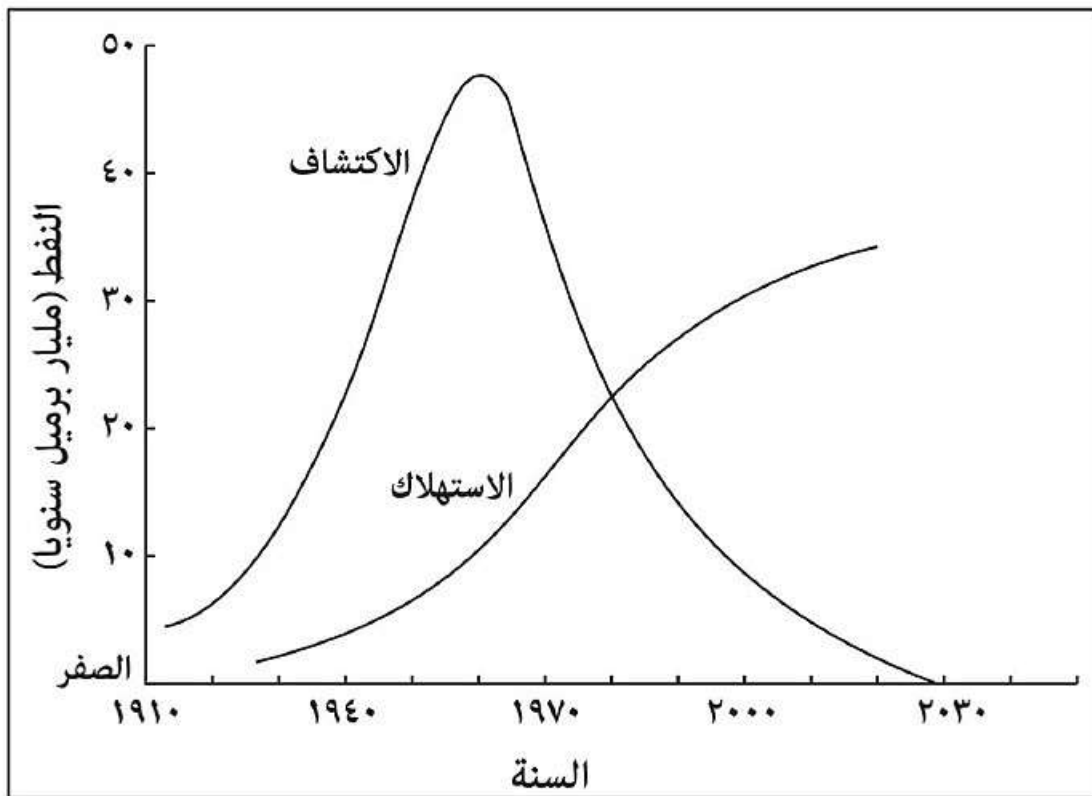
- الدولة التي تعد الأولى في العالم من حيث استثمار طاقة الرياح في إنتاج الطاقة الكهربائية
- الدولة التي صنعت أول كمبيوتر صديق للبيئة في العالم
- الدولة التي تستهلك ٩٠% من الطاقة الكهرومائية في توليد الكهرباء.....

ب) اكتب نتيجة واحدة ترتبت على انفجار المفاعل النووي في الدولة المشار إليها بالرمز(ل).

.....

تابع:السؤال الثالث:

ثانيا : الشكل الذي أمامك يوضح تاريخ النفط العالمي من حيث معدل الاكتشاف والاستهلاك ، استعن به للإجابة عن الأسئلة التالية:

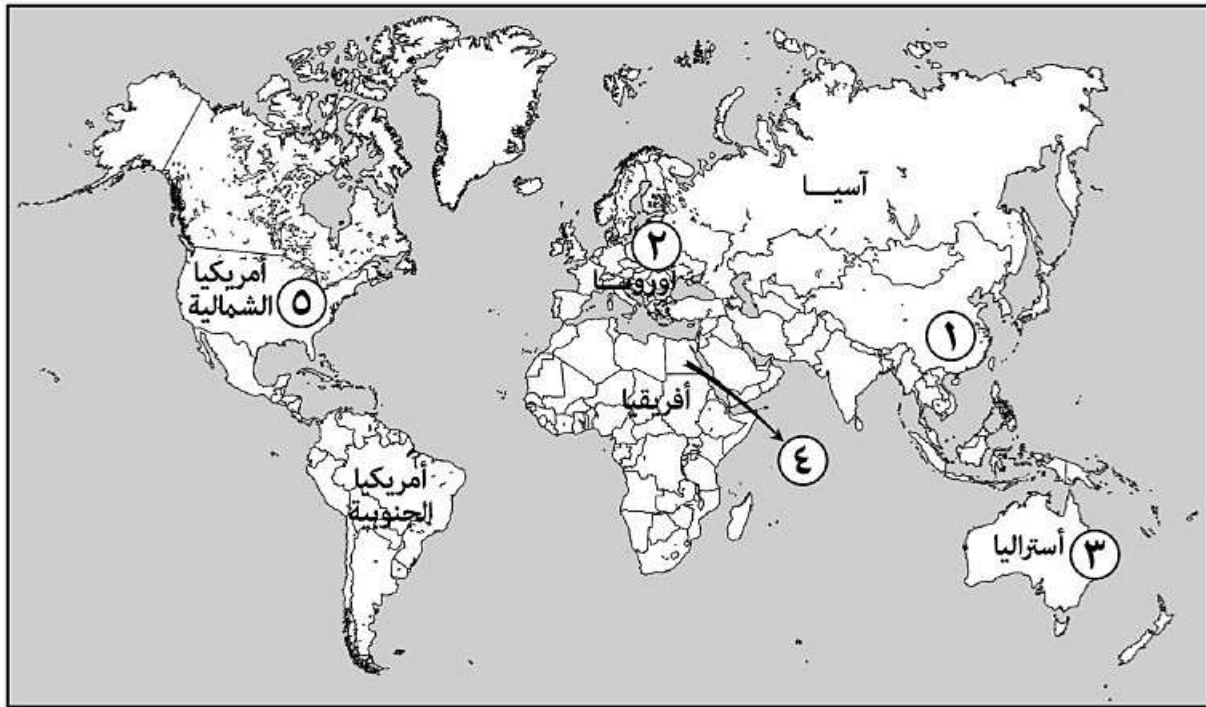


- (أ) كم بلغت كمية النفط المستهلكة بالبرميل عام ١٩٦٠ ؟
- (ب) ما العام الذي تساوى فيه معدل الاستهلاك والاكتشاف للنفط ؟
- (ج) ما العام الذي بلغ فيه معدل اكتشاف النفط أعلى مستوى له ؟
- (د) يشير الشكل إلى أن معدل استهلاك النفط العالمي يتجه نحو :

(ضع علامة √) الانخفاض الزيادة

تابع :السؤال الثالث:

ثالثاً : أمامك خريطة ادرسها جيداً، ثم أجب عن الأسئلة التي تليها :



أ) استخراج من الخريطة الأرقام التي تشير إلى ما يأتي :

- الدولة التي تتحكم بإنتاج ٩٧% من المعادن النادرة
- القارة التي تبلغ نسبة إنتاجها ٧% من الإنتاج العالمي للنفط
- الدولة التي يقع فيها النهر الذي يمارس عليه الانسان حرفة الزراعة منذ ١٠٠٠٠ عام
- الدولة التي تستخدم الذرة وفول الصويا كوقود لإنتاج الطاقة البيولوجية

السؤال الرابع:

أولاً: أ) أكمل الجدول الآتي :

نوع الزراعة		وجه المقارنة
		
.....	نوع الزراعة
.....	حجم المساحة

تابع السؤال الرابع:

(ب) أقرأ الفقرة الآتية ثم أجب عن الأسئلة التي تليها :

"قدمت التقنيات الجغرافية الحديثة الكثير من الحلول في مجالات التنمية والتخطيط الزراعي " في ضوء هذه العبارة اكتب اثنين مما يأتي .

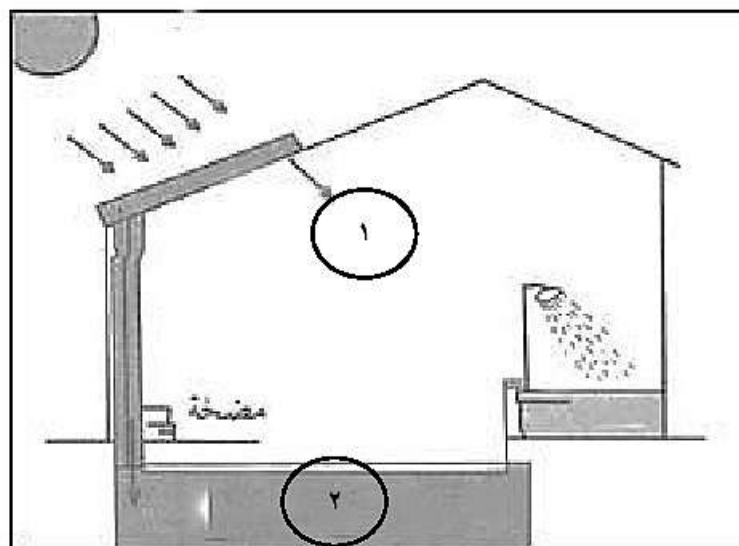
١- التقنيات الجغرافية الحديثة المستخدمة في مجال التنمية الزراعية .

..... -
 -

٢- استخدامات هذه التقنيات في مجال التنمية الزراعية .

..... -
 -

ثانياً: من خلال الشكل الذي أمامك أجب عن الأسئلة التالية :



أ- ما مصدر الطاقة المستخدم لتسخين المياه في الشكل ؟.....

ب- اكتب ما تشير إليها الأرقام الآتية :

١-
 ٢-

ج- علل تغطية الصندوق بغطاء زجاجي .

.....

تابع السؤال الرابع:

ثالثاً:

(أ) قارن بين التربة الرملية والتربة الطينية من حيث :

وجه المقارنة	التربة الرملية	التربة الطينية
اللون
الخصائص

(ب) الجدول الذي أمامك يوضح نسبة المساحة المعتمدة للزراعة العضوية ، استعن به للإجابة عن الأسئلة التالية :

القارة	نسبة المساحة المعتمدة للزراعة العضوية
أوروبا	٢٤,٣%
أمريكا الشمالية	٧,٣%
أفريقيا	١,٤%
استراليا	٤٠,٧%
آسيا	١٠,٤%
أمريكا الجنوبية	١٦,٢%

١. ما القارة التي تمثل المرتبة الثالثة من حيث نسبة المساحة المعتمدة للزراعة العضوية ؟

.....

٢. كم تبلغ نسبة المساحة المعتمدة للزراعة العضوية في قارة آسيا ؟

.....

٣. أوجد الفرق بين نسبة المساحة المعتمدة للزراعة العضوية بين قارتي أفريقيا واستراليا .

.....

انتهت الأسئلة مع الدعاء للجميع بالتوفيق والنجاح.



نموذج إجابة امتحان الصف الحادي عشر
للعام الدراسي ١٤٣٨/١٤٣٩ هـ - ٢٠١٧/٢٠١٨ م
الدور الثاني - الفصل الدراسي الأول

المادة: الجغرافيا الاقتصادية الدرجة الكلية: (٦٠) درجة.
تنبيه: نموذج الإجابة في (٤) صفحات.

أولاً: إجابة السؤال الموضوعي:

إجابة السؤال الأول				
المفردة	البديل الصحيح	الإجابة	الدرجة	الصفحة
١	أ	البرازيل	٢	٤٨
٢	ج	١٩٩٢	٢	٦٨
٣	أ	إدارة الطبوغرافيا	٢	٣٣
٤	ج	المياه والطاقة	٢	٨٣
٥	ج	نادرة الوجود	٢	١٢
٦	ب	البلاستيكية	٢	٩٤
٧	ج	التربة والتضاريس	٢	٦٠
٨	ج	٦٥%	٢	٧٩
٩	ج	المحصول	٢	٤٠
		المحافظة		
		الرومان		
		النخيل		
١٠	د	الهوائي	٢	٨٨
		١		
١١	أ		٢	٢١
١٢	أ	اكتشاف النار	٢	٣٥
		الرياح والسماد		
		الفحم		
		النفض		
		الذرة		
المجموع				

(٢)

تابع نموذج إجابة امتحان الصف الحادي عشر
للعام الدراسي ١٤٣٨/١٤٣٩ هـ - ٢٠١٧/٢٠١٨ م
الدور الثاني - الفصل الدراسي الأول
المادة : الجغرافيا الاقتصادية

ثانيا: إجابة الأسئلة المقالية:

الدرجة الكلية: (١٢) درجة		إجابة السؤال الثاني							
الصفحة	الدرجة	الإجابة الصحيحة	المفردة						
١٧	١	١- مقياس استهلاك الفرد من الموارد الطبيعية مقارنة بمساحة الأرض المطلوبة لتزويد السكان بالموارد	أ						
٦٩	١	٢- قدرة المجتمع أو الدولة على توفير الغذاء للمواطنين كما ونوعا في الوقت الحاضر والمستقبل							
٨٥-٨٤	٢	<p style="text-align: center;">المقومات البشرية لإختيار الموقع الصناعي</p> <pre> graph TD A[المقومات البشرية لإختيار الموقع الصناعي] --> B[رأس عمل] A --> C[الأيدي العاملة] A --> D[وسائل النقل والنواصط] A --> E[سوق] </pre>	ب						
٣٩-٣٨	٢	<table border="1" style="width: 100%;"> <tr> <th style="width: 50%;">طاقة الرياح</th> <th style="width: 50%;">الطاقة المائية</th> </tr> <tr> <td>غير فعالة في المناطق قليلة الرياح . تحتاج إلى محول كهربائي. كفّة تجهيزها مرتفعة .</td> <td>توافر في نقاط محددة . المياه المحتجزة خلف السدود تدمر الحياة البرية. تتأثر بفترات الجفاف .</td> </tr> <tr> <td style="text-align: center;"><u>يكتفى بذكر واحد</u></td> <td style="text-align: center;"><u>يكتفى بذكر واحد</u></td> </tr> </table>	طاقة الرياح	الطاقة المائية	غير فعالة في المناطق قليلة الرياح . تحتاج إلى محول كهربائي. كفّة تجهيزها مرتفعة .	توافر في نقاط محددة . المياه المحتجزة خلف السدود تدمر الحياة البرية. تتأثر بفترات الجفاف .	<u>يكتفى بذكر واحد</u>	<u>يكتفى بذكر واحد</u>	أ
طاقة الرياح	الطاقة المائية								
غير فعالة في المناطق قليلة الرياح . تحتاج إلى محول كهربائي. كفّة تجهيزها مرتفعة .	توافر في نقاط محددة . المياه المحتجزة خلف السدود تدمر الحياة البرية. تتأثر بفترات الجفاف .								
<u>يكتفى بذكر واحد</u>	<u>يكتفى بذكر واحد</u>								
٧٣	١	١- بسبب ارتفاع كلفته والاعتماد على الطرق التقليدية في الزراعة.	ب						
٤٤	١	٢- لاحتوائه على وحدات حرارية أعلى من الفحم والنفط.							
٨١	٢	١- صناعة انشائية. ٢- صناعة تحويلية.	أ						
٨٢	٢	<table border="1" style="width: 100%;"> <tr> <td style="width: 50%;">معدنية</td> <td style="width: 50%;">نصف مصنعة</td> </tr> <tr> <td>ذهب</td> <td>مشتقات النفط</td> </tr> <tr> <td>حديد</td> <td>زيوت</td> </tr> </table>	معدنية	نصف مصنعة	ذهب	مشتقات النفط	حديد	زيوت	ب
معدنية	نصف مصنعة								
ذهب	مشتقات النفط								
حديد	زيوت								

(٣)

تابع نموذج إجابة امتحان الصف الحادي عشر
للعام الدراسي ١٤٣٨/١٤٣٩ هـ - ٢٠١٧/٢٠١٨ م
الدور الثاني - الفصل الدراسي الأول
المادة : الجغرافيا الاقتصادية

تابع ثانيا: إجابة الأسئلة المقالية:

إجابة السؤال الثالث			
الدرجة الكلية: (١٢) درجة	الدرجة	الإجابة الصحيحة	المفردة
٣٨	١	- س	أ
٨٧	١	- ص	
٤٠	١	- ع	
٤٦	١	- وفاة وإصابة العديد من الضحايا - انتشار التلوث الإشعاعي يكتفي بذكر نتيجة واحدة	ب
٤٤	١	١٠ مليار برميل سنويا.	أ
٤٤	١	١٩٨٠ م	ب
٤٤	١	١٩٦٠ م.	ج
٤٢-٤١	١	الزيادة.	د
٢٣	١	- ١	أ
٤٢	١	- ٢	
٥٥	١	- ٤	
٤٨	١	- ٥	

(٤)

تابع نموذج إجابة امتحان الصف الحادي عشر
للعام الدراسي ١٤٣٨/١٤٣٩ هـ - ٢٠١٧/٢٠١٨ م
الدور الثاني - الفصل الدراسي الأول
المادة : الجغرافيا الاقتصادية

تابع ثانيا: إجابة الأسئلة المقالية:

الدرجة الكلية: (١٢) درجة		إجابة السؤال الرابع												
الصفحة	الدرجة	الإجابة الصحيحة		المفردة	الجزئية									
٦٤	٢		نوع الزراعة وجه المقارنة	أ										
		تجارية أو واسعة كبيرة	كثيفة صغيرة	نوع الزراعة المساحة										
٧٦	١ لكل مفردة نصف درجة	١ - نظم المعلومات الجغرافية. - الاستشعار عن بعد			أولاً									
٧٦	١ لكل مفردة نصف درجة	٢ - إنشاء خرائط استخدام الأراضي الزراعية. - دراسة خصائص التربة. - مراقبة ظروف النمو في الغابات باستخدام الصور الفضائية. - تتبع المحاصيل والتنبؤ بإنتاجيتها - معرفة الأمراض التي تصيب المحاصيل - متابعة التغيرات الحرارية المؤثرة على النبات- توظيف الصور الفضائية في فترات زمنية لمتابعة نمو المحصول. (يكتفى بذكر اثنين)		ب										
٣٧	١	الأشعة الشمسية.		أ										
٣٧	١ لكل مفردة نصف درجة	١- مجمع للأشعة ملئ بالماء. ٢- خزان تجميع الماء الساخن.		ب	ثانياً									
٣٧	١	لأنه يسمح بدخول أشعة الشمس ويمنع خروجها وبذلك يتم حبس الحرارة في الصندوق		ج										
٢٩-٢٨	٢ لكل مفردة نصف درجة	<table border="1"> <tr> <td>التربة الطينية</td> <td>التربة الرملية</td> <td>وجه المقارنة</td> </tr> <tr> <td>بني داكن</td> <td>بني فاتح</td> <td>اللون</td> </tr> <tr> <td>حببيبات صغيرة متماسكة تحتفظ بالماء</td> <td>خشنة لا تحتفظ بالماء</td> <td>الخصائص</td> </tr> </table>	التربة الطينية	التربة الرملية	وجه المقارنة	بني داكن	بني فاتح	اللون	حببيبات صغيرة متماسكة تحتفظ بالماء	خشنة لا تحتفظ بالماء	الخصائص		أ	ثالثاً
التربة الطينية	التربة الرملية	وجه المقارنة												
بني داكن	بني فاتح	اللون												
حببيبات صغيرة متماسكة تحتفظ بالماء	خشنة لا تحتفظ بالماء	الخصائص												
٧٢	١	١- أمريكا الجنوبية		ب										
٧٢	١	٢- ١٠,٤%												
٧٢	١	٣- ٣٩,٣% = (١,٤ - ٤٠,٧)												

نهاية نموذج الإجابة