

شكراً لتحميلك هذا الملف من موقع المناهج العمانية



امتحان نهائي الدور الأول

[موقع المناهج](#) ← [المناهج العمانية](#) ← [الصف الحادي عشر](#) ← [هذا وطني](#) ← [الفصل الثاني](#) ← [الملف](#)

التواصل الاجتماعي بحسب الصف الحادي عشر

روابط مواد الصف الحادي عشر على تلغرام

[الرياضيات](#)

[اللغة الانجليزية](#)

[اللغة العربية](#)

[التربية الاسلامية](#)

المزيد من الملفات بحسب الصف الحادي عشر والمادة هذا وطني في الفصل الثاني

[الامتحان النهائي الرسمي](#)

1

[نموذج إجابة الامتحان الرسمي النهائي](#)

2

[حصاد درس الجهاز الإداري للدولة ومؤسساتها](#)

3

[امتحان تحريبي نموذج ثاني](#)

4

[امتحان تحريبي نهائي](#)

5



امتحان مادة: الدراسات الاجتماعية (هذا وطني)
للصف: الحادي عشر
للعام الدراسي 1443 هـ - 2022/2021 م
الفصل الدراسي الثاني (الدور الأول)

- زمن الامتحان: (ساعتان) ● عدد صفحات أسئلة الامتحان: (8) صفحات.
- الإجابة في الدفتر نفسه.

اسم الطالب	
الصف	المدرسة

التوقيع بالاسم		الدرجة		السؤال
المصحح الثاني	المصحح الأول	بالحروف	بالأرقام	
				1
				2
				3
				4
				5
مراجعة الجمع	جمعه			المجموع
			60	المجموع الكلي

(1)

المادة: هذا وطني الصف: الحادي عشر- الفصل الدراسي الثاني (الدور الأول) - العام الدراسي 2021/2022م

أجب عن جميع الأسئلة الآتية

السؤال الأول: ضع دائرة حول رمز الإجابة الصحيحة لكل مفردة من المفردات الآتية:

1- المدينة العمانية التي اشتهرت بصناعة السفن عبر العصور القديمة:

- أ- بركاء. ب- مسقط. ج- صحار. د- صور.

2- التاريخ الذي تولى فيه جلالة السلطان قابوس بن سعيد - طيب الله ثراه - زمام الحكم في عمان:

- أ- 23 يوليو 1970م ب- 23 يوليو 1971م ج- 23 يونيو 1970م د- 23 يونيو 1971م

3- يعدّ من المشاريع اللوجستية الاقتصادية العمانية الواعدة:

- أ- مطار مسقط الدولي. ب- المتحف الوطني. ج- منتجع شاطئ صلالة. د- الموج مسقط.

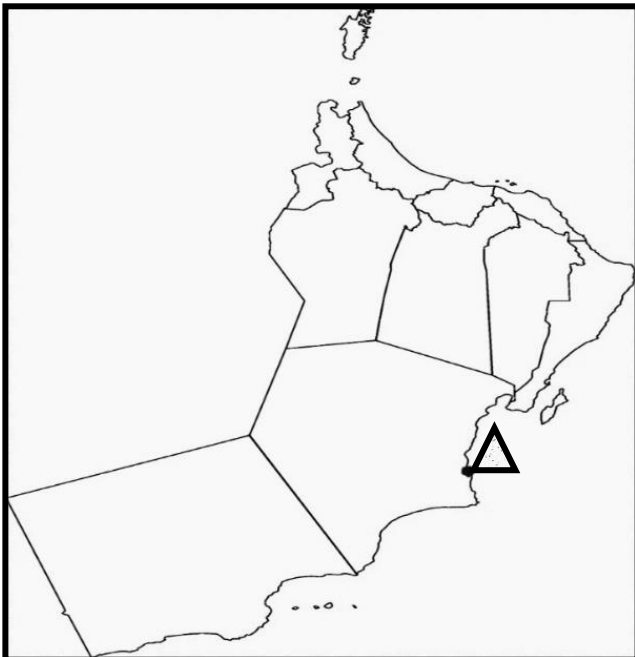
4- تعبّر الصورة المقابلة عن النشاط الاقتصادي الذي ارتبط به العمانيون منذ القدم:



- أ- التجاري. ب- السياحي.

- ج-الصناعي. د- الزراعي.

5- اسم الميناء المشار إليه بالرمز Δ في الخريطة المجاورة:



- أ- صحار. ب- مطرح.

- ج- صلالة. د- الدقم.

(2)


المادة: هذا وطني الصف: الحادي عشر- الفصل الدراسي الثاني (الدور الأول) - العام الدراسي 2021/2022م

تابع السؤال الأول:

6- زيادة مساهمة المنتجات والخدمات غير النفطية في الناتج المحلي الإجمالي يرتبط بسياسة :
أ- الميزان التجاري. ب- الإنفاق الجاري. ج- الدخل القومي. د- التنوع الاقتصادي.

7- المجلس الذي كان قائما قبل أن يحلّ محله مجلس الشورى:
أ- الدفاع. ب- الأمن الوطني. ج- الاستشاري للدولة. د- الوزراء.

8- السفينة التراثية التي تظهر في الصورة التي أمامك:



أ- فلك السلامة. ب- فتح الخير.

ج- شباب عمان. د- جوهرة مسقط.

9- الإمام الذي أسس الأسرة البوسعيدية في عمان:

أ- الصلت بن مالك. ب- ناصر بن مرشد. ج- أحمد بن سعيد. د- راشد بن سعيد.

10- الشكل الصحيح الذي يشير إلى المقومات البشرية للاقتصاد العماني:



(3)

المادة: هذا وطني الصف: الحادي عشر- الفصل الدراسي الثاني (الدور الأول) - العام الدراسي 2021/2022م

تابع السؤال الأول:

11- الشكل الذي أمامك يمثل مبنى إحدى مؤسسات القضاء في سلطنة عمان:



أ- المحكمة العليا . ب- محكمة الاستئناف.

ج- الادعاء العام. د- معهد القضاء.

12- تتميز الدول الصناعية من حيث مساهمة قطاعات اقتصادها في الناتج المحلي الإجمالي:
أ- ارتفاع القطاع النفطي وارتفاع قطاع الخدمات.

ب- ارتفاع القطاعات غير النفطية وارتفاع القطاع النفطي.

ج- ارتفاع القطاعات غير النفطية وانخفاض القطاع النفطي.

د- ارتفاع القطاع النفطي وانخفاض قطاع الخدمات.

السؤال الثاني:

أولاً: أكمل الجدول الآتي بكتابة اسم المجلس مقابل الاختصاص الذي يناسبه.

م	الاختصاصات	المجالس
1	يضع السياسة النقدية الملازمة للسلطنة
2	يختص برسم السياسة العامة للقضاء ويكفل استقلاله

ثانياً:

1- عرّف كل من:

أ- الحوكمة.

.....

ب- الناتج المحلي الاجمالي.

.....

(4)

المادة: هذا وطني الصف: الحادي عشر- الفصل الدراسي الثاني (الدور الأول) - العام الدراسي 2021/2022م

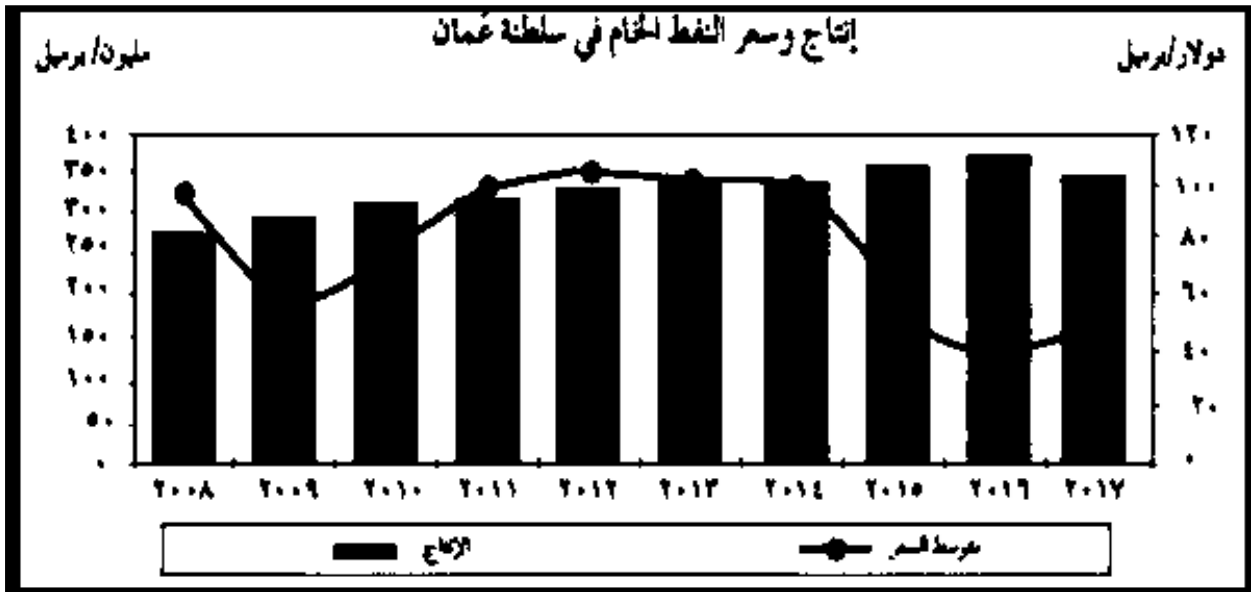
تابع السؤال الثاني:

ثانيا: 2- اعط مثالين على الأنشطة الاقتصادية التي ارتبط ظهورها بنشاط الزراعة في العصور الإسلامية والحديثة.

3- (نهج السلطان قابوس بن سعيد – طيب الله ثراه – منهج التسامح والسلام على المستوى المحلي) دلل على ذلك.

ثالثا:

1- ادرس الشكل الآتي ، ثم أجب عن الأسئلة التي تليه:



أ- ماذا تلاحظ على أسعار النفط خلال الفترة من 2008 إلى الفترة 2017م؟

ب – استنتج العلاقة بين الإنتاج السنوي ومتوسط السعر خلال الفترة من (2017- 2015).

طردية عكسية (ظلل الإجابة الصحيحة)

2- (تنبثق عن مجلس الشورى عدد من اللجان المتخصصة التي تعمل على تحقيق أهدافه) اذكر واحدة من هذه اللجان.

(5)

المادة: هذا وطني الصف: الحادي عشر- الفصل الدراسي الثاني (الدور الأول) - العام الدراسي 2021/2022م

السؤال الثالث:

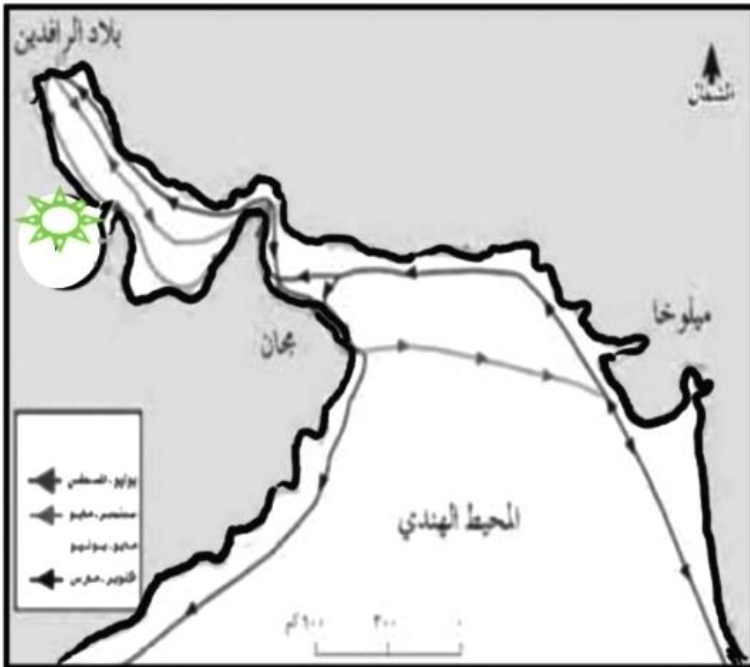
أولاً: وضح النتيجة المترتبة لكل من:

1- اختلاف طبيعة السطح وتنوع الأقاليم الجغرافية في الجانب الاقتصادي.

2- قيام الجهات المختصة بالسلطنة بدعم المنتج العماني.

3- الامتيازات والحوافز التي تقدمها الحكومة للمستثمرين الأجانب.

ثانياً: ادرس الخريطة المقابلة جيداً ، ثم أجب عن الأسئلة الآتية:



1- ضع عنواناً مناسباً للخريطة.

2- ما اسم الحضارة المشار إليها بالرمز ()؟

3- اكتب اثنين من المسطحات المائية التي تمر بها الرحلة التجارية بين مجان ومبلوخا.

(6)

المادة: هذا وطني الصف: الحادي عشر- الفصل الدراسي الثاني (الدور الأول) - العام الدراسي 2021/2022م

تابع السؤال الثالث:

ثالثاً: ادرس جدول مساهمة قطاعات الاقتصاد العماني في الناتج المحلي جيداً، ثم أجب عن الأسئلة الآتية:

السنوات				القطاعات
2017م	2008م	2003م	1998م	
				القطاع النفطي
24,1	46,9	39,3	30,7	• النفط
4,9	3,7	2,5	1,2	• الغاز
				القطاع غير النفطي
20,5	13,7	16,4	12,5	• الصناعة
2,3	2,2	1,1	3,2	• الزراعة والأسماك
51,6	43,7	32,9	52,6	• الخدمات

1- احسب إجمالي مساهمة القطاعات غير النفطية في الناتج المحلي خلال السنة 2017م.

.....
.....

2- ما القطاعات الفرعية التي يشملها القطاع النفطي؟

.....
.....

3- ماذا تلاحظ على مساهمة القطاع النفطي (النفط والغاز) في الناتج المحلي عام 2017م مقارنة بعام 2003م؟

.....
.....

السؤال الرابع:

1- مستعينا بالشكل المقابل حدد اثنين من:



أ- من هوايات السلطان قابوس بن سعيد
- طيب الله ثراه -

.....
.....

ب- المهام التي يقوم بها السلطان حسب النظام الأساسي للدولة.

.....

2- اقترح بديل واحد لتنويع مصادر الدخل وعدم الاعتماد على النفط في السلطنة.

.....

(7)

المادة: هذا وطني الصف: الحادي عشر- الفصل الدراسي الثاني (الدور الأول) - العام الدراسي 2021/2022م

تابع السؤال الرابع:

ثانيا: اقرأ الخبر المقابل قراءة جيدة ، ثم أكمل الجدول الذي أمامك بما يناسبه:

* تلغراف * منح حضرة صاحب الجلالة السلطان قابوس بن سعيد المعظم - حفظه الله ورعاه - جائزة الإنسان العربي الدولية لعام 2016م من قبل المركز العربي الأوروبي لحقوق الإنسان والقانون الدولي. تقديرا لجهود جلالته العظيمة وإسهاماته النبيلة في مجال حماية ودعم حقوق الإنسان محليا وعربيا ودوليا.
تسلم الجائزة صاحب السمو السيد أسعد بن طارق آل سعيد خلال استقبال سموه للدكتور إيهاب جاف الأمين العام للمركز العربي-الأوروبي لحقوق الإنسان والقانون الدولي والوفد المرافق له.
العمانية

اسم الجائزة	الجهة المانحة	السنة
.....
.....
.....
.....

ثالثا: ادرس جدول حجم الاستثمارات الأجنبية في سلطنة عمان لعامي 2009 و 2017 جيدا، ثم أجب عن الأسئلة الآتية:

النسبة المئوية من حجم الاستثمارات في عمان	الدولة	
	2009م	2017م
	47,6%	33,3%
	19,6%	3,1%
	17%	17,2%
	14,7%	11%
	3,8%	3%
	3,6%	4,1%
	3,4%	4,4%
	2,2%	3,6%
	1,7%	2,7%
	0,8%	2,9%

1- ما الدولة الأعلى في حجم الاستثمارات الأجنبية في سلطنة عمان لعام 2017م؟

2- قارن بين حجم استثمارات الولايات المتحدة الأمريكية في سلطنة عمان لعامي 2009م و2017م.

3- احسب إجمالي استثمارات دول الخليج في السلطنة لعام 2009م.

السؤال الخامس:

أولاً: 1- عدد اثنين لكل من:

أ - الأسس التي تقوم عليها السياسة الخارجية العمانية.

.....
.....

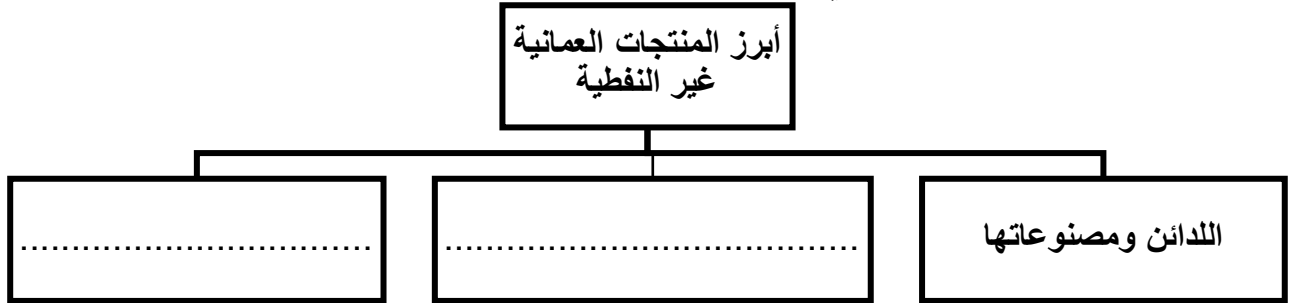
ب- الصناعات العمانية التي تعتمد على الخامات المحلية.

.....
.....

2- عرّف مفهوم الخدمات اللوجستية.

.....
.....

ثانياً: 1- أكمل الشكل الآتي بما يناسبه:



2- أ - النتيجة المترتبة على صدور قانون استثمار رأس المال الأجنبي عام 2019 في السلطنة .

 تشجيع التنافسية الاقتصادية. (ظلل الإجابة الصحيحة)

 الحد من التنافسية الاقتصادية.

ب- فسّر إجابتك.

.....

ثالثاً: 1- صنّف الاختصاصات الآتية حسب الجهة القضائية المسؤولة عنها في السلطنة:

(القضاء العادي - القضاء الإداري)

الجهة القضائية	القضية	م
.....	رفض موظف قرار نقله لقسم آخر صدر من مسؤوله في العمل	أ
.....	مطالبة امرأة بحق لأولادها في النفقة الشهرية من زوجها السابق	ب

2- اكتب واحدة من أهداف الهيئة العامة لحماية المستهلك.

.....

انتهت الأسئلة مع الدعاء للجميع بالتوفيق والنجاح.