

تم تحميل هذا الملف من موقع المناهج العمانية



أسئلة درس النظم السياسية مع الإجابات

موقع فايلاتي ← المناهج العمانية ← الصف الحادي عشر ← حضارة اسلامية ← الفصل الأول ← ملفات متنوعة ← الملف

تاريخ إضافة الملف على موقع المناهج: 2024-10-16 23:04:22

ملفات اكتب للمعلم اكتب للطالب الاختبارات الكترونية الاختبارات ا حلول اعروض بوربوينت ا أوراق عمل
منهج انجليزي ا ملخصات وتقارير ا مذكرات وبنوك الامتحان النهائي للمدرس

المزيد من مادة
حضارة اسلامية:

التواصل الاجتماعي بحسب الصف الحادي عشر



صفحة المناهج
العمانية على
فيسبوك

الرياضيات

اللغة الانجليزية

اللغة العربية

التربية الاسلامية

المواد على تلغرام

المزيد من الملفات بحسب الصف الحادي عشر والمادة حضارة اسلامية في الفصل الأول

أسئلة درس أصول الحضارة الإسلامية وخصائصها

1

أسئلة درس مجالات البناء الحضاري للمجتمع الإسلامي مع الإجابات

2

واجب منزلي ثاني نموذج حديث

3

اختبار قصير ثاني حديث نموذج ثاني

4

اختبار قصير ثاني حديث نموذج أول

5



بسم الله الرحمن الرحيم

أسئلة الدرس الرابع في منهج الحضارة الإسلامية

للفصل الحادي عشر الفصل الدراسي الأول

درس (النظر السياسية)

عمل الأستاذ : عمر ربيع عبد اللطيف

مدرسة أبو تمام للبنين (١١-١٢)

أعمارنا


أعمالنا

امتحان مادة : الحضارة الإسلامية
للفصل : الحادي عشر
للعام الدراسي ١٤٣٨/١٤٣٩ هـ - ٢٠١٧/٢٠١٨ م
الدور الأول - الفصل الدراسي الأول

ب) اعط دليلاً واحداً على ما يأتي:

١- تولية العهد لأكثر من واحد في العصر العباسي.

١- هارون الرشيد عهد بولاية العهد إلى أبنائه الثلاثة الأمين والمأمون والقاسم.



٢- تأثر الحضارة الأموية بمظاهر الحضارات الأخرى في الحكم.

٢- اتخذ معاوية سريراً للملك / أقام الشرطة لحراسته / اتخذ المقصورة في المسجد خوفاً على نفسه / وفي عهد عبد الملك بن مروان كان يجلس على كرسي الخلافة وعن يمينه الأمراء وعن يساره كبار رجال الدولة ويقف أمامه من يريد المثل بين يديه.



ثالثاً: أجب عن الأسئلة التالية:

أ) (امتزجت التقاليد العربية بالروح الإسلامية في اختيار شخص الخليفة في العهد الراشدي). وضح ذلك .

فكرة الانتخاب والتجربة وكبر السن مأخوذة من التقاليد العربية وفكرة الشورى وإستناد الخليفة إلى موافقة الناس عليه عامة، لا إلى أسرته وقبيلته كانت فكرة إسلامية.



١- اذكر نتيجة واحدة ترتبت على تقصير مدة بقاء الولاة في ولاياتهم في العهد العباسي.

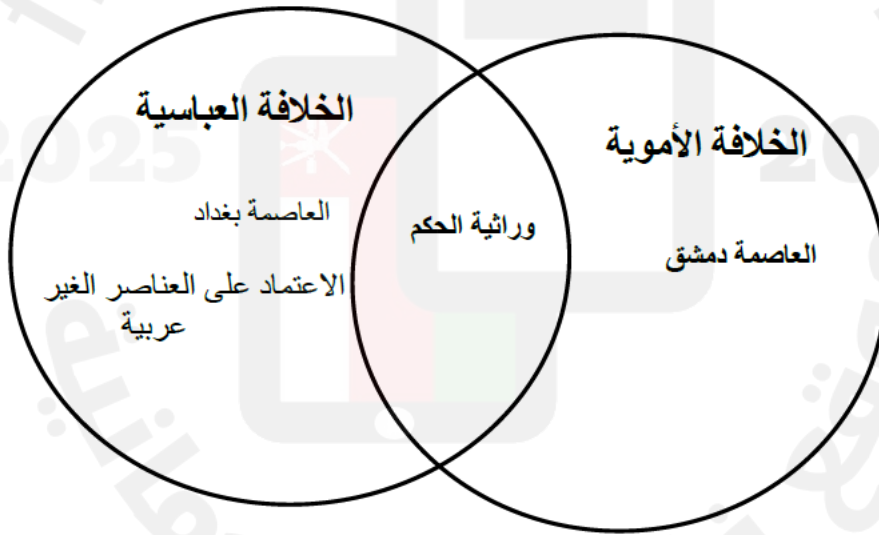
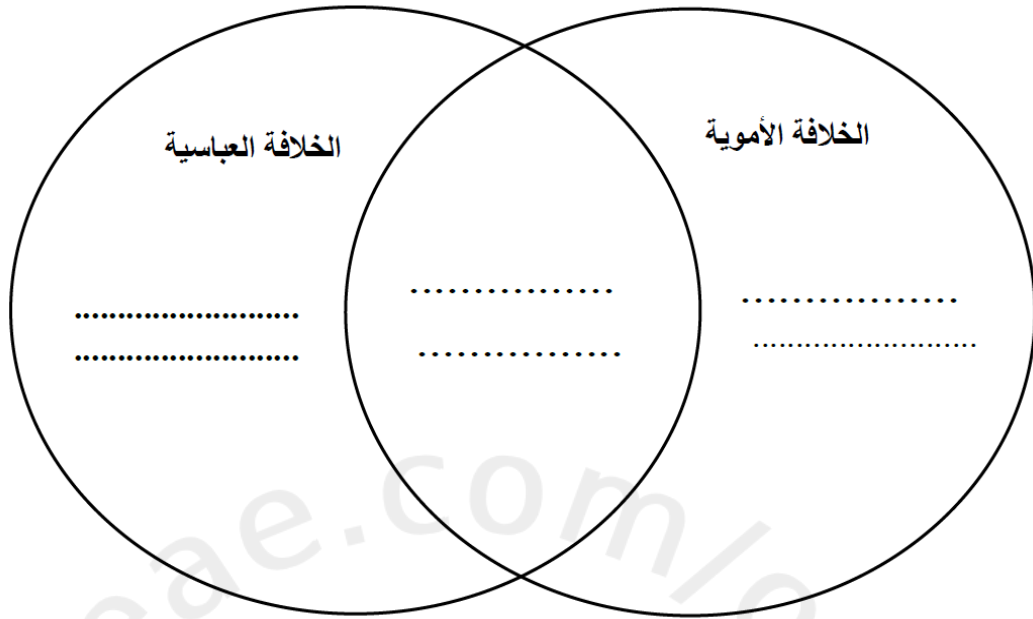
فقدان الاستقرار / وكثرة الاضطرابات في الأقاليم.



يكتفى بنتيجة واحدة

٢- اكتب في الشكل التالي أوجه التشابه والاختلاف بين الخلافة الأموية والعباسية:

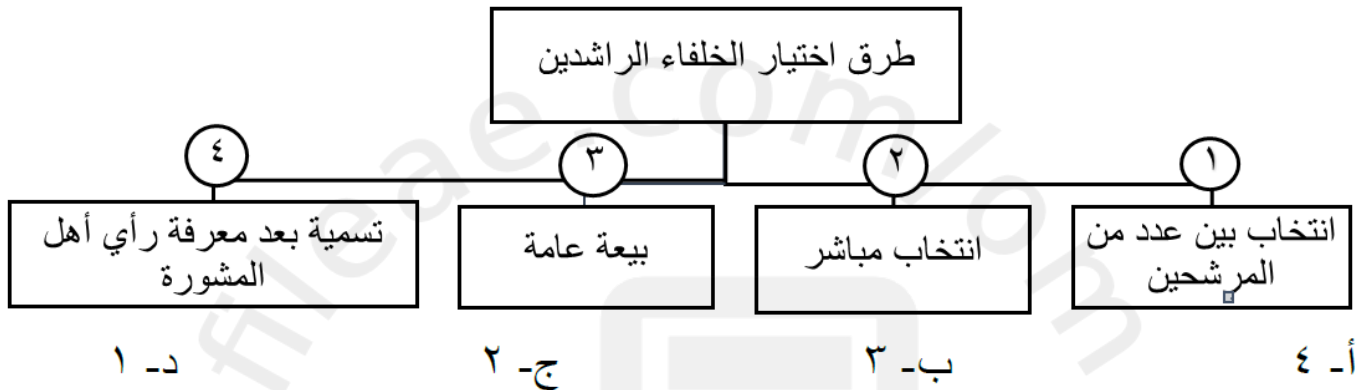
(وراثية الحكم / العاصمة بغداد / العاصمة دمشق / الإعتماد على العناصر الغير عربية)



٣) الخليفة العباسي الذي عهد ولاية العهد لثلاثة من أبنائه :

أ- أبو جعفر المنصور ب- أبو العباس ج- المأمون د- هارون الرشيد

٨) الرقم الذي يوضح طريقة اختيار الخليفة عمر بن الخطاب للخلافة وفقا للمخطط التالي :



٧- الخلافة التي ظهر فيها مسمى (وزير) لأول مرة:

أ- الراشدة ب- الأموية ج- العباسية د- الفاطمية

أ) ما المقصود بكل مما يلي:

الخلافة

الخلافة : تعني شكل الحكم الذي اتفق عليه المسلمون بعد وفاة الرسول صلى الله عليه وسلم واختيار من يتولى النظر في مصالح المسلمين وتطبيق الشرع الإسلامي

ج ←

١- ما النتائج المترتبة على تقصير الخلفاء العباسيون لمدة بقاء الولاية في مناصبهم

ج ← فقدان الاستقرار وكثرة الاضطرابات في الأقاليم .

أ) كيف أظهر الخليفة الأموي معاوية بن أبي سفيان مظاهر الأبهة في الحكم ؟

ج ← اتخذ سريرا للملك وأقام الشرطة لحراسته واتخذ مقصورة في المسجد
١ - استعن بالمسطرة الزمنية للدولة العباسية ثم اجب عن الاسئلة التي تليها :



أ - احسب الفترة الزمنية بالسنوات لخلافة الأسرة العباسية في العصر الأول .

ج ← ٢٣٢ هـ - ١٣٢ هـ = ١٠٠ سنة
المطلوب فقط الناتج (١٠٠ سنة)

ب - استنتج سمة من سمات الخلافة العباسية في العصر الثاني .

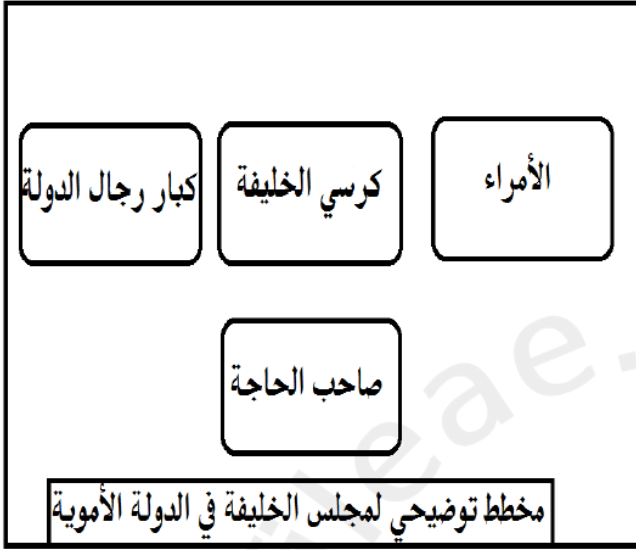
تسلط على الخلفاء عدد من القادة العرب والأتراك والفرس / ازدياد العناصر الغير عربية في المناصب المختلفة بالدولة العباسية / تدخل العناصر الغير عربية في شؤون الدولة / ضعف نفوذ الخلفاء

ج ←

ب- اذكر دليلاً واحداً على ضعف نفوذ الخلفاء في العصر العباسي الثاني.

..... تسلط على الخلفاء عدد من القادة العرب والأترك والفرس /
تعدد الخلفاء في العهود العباسية المتأخرة/ ظهور خليفة
عباسي في بغداد وفاطمي في القاهرة وأموي في قرطبة.
يكتفى بدليل واحد فقط

ثانياً من خلال المخطط الذي يوضح بعض مظاهر الحكم في الدولة الأموية، أجب عن الأسئلة التي تليه:



١- صف مجلس الخليفة في العصر الأموي؟

٢- وضح رأيك في نظام الحكم الوراثي في الدولة الأموية؟

ثالثاً: ادرس المسطرة الزمنية ثم أجب عن الأسئلة التي تليها:

1- ما اسم الدولة الإسلامية التي حكمت خلال الفترة المظللة في المسطرة؟

..... / ١

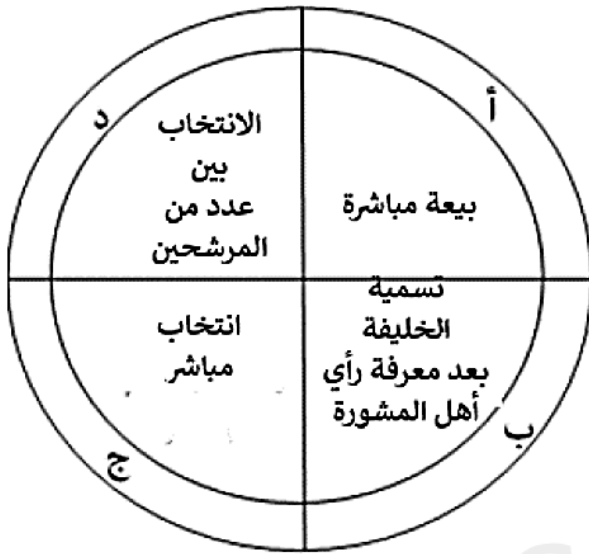
2- من مؤسس هذه الدولة؟

..... / ١

3- أذكر سمة من سمات الخلافة في هذه الدولة؟

..... / ١

ثالثا: يوضح الشكل المقابل طرق انتخاب الخلفاء الراشدين ، أكتب في الجدول الرمز الصحيح الذي يشير إلى طريقة اختيار كل خليفة .



الرمز	الخليفة
.....	أبوبكر الصديق
.....	عمر بن الخطاب
.....	عثمان بن عفان
.....	علي بن أبي طالب

..... / ٤

