

تم تحميل هذا الملف من موقع المناهج العمانية



تطبيقات على التمثيل البياني (الإزاحة -- الزمن)

موقع فايلاتي ← المناهج العمانية ← الصف الحادي عشر ← فيزياء ← الفصل الأول ← ملفات متنوعة ← الملف

تاريخ إضافة الملف على موقع المناهج: 12:35:56 2024-11-13

ملفات اكتب للمعلم اكتب للطالب الاختبارات الكترونية الاختبارات ا حلول اعروض بوربوينت ا أوراق عمل
منهج انجليزي ا ملخصات وتقارير ا مذكرات وبنوك الامتحان النهائي للمدرس

المزيد من مادة
فيزياء:

التواصل الاجتماعي بحسب الصف الحادي عشر



صفحة المناهج
العمانية على
فيسبوك

الرياضيات

اللغة الانجليزية

اللغة العربية

التربية الاسلامية

المواد على تلغرام

المزيد من الملفات بحسب الصف الحادي عشر والمادة فيزياء في الفصل الأول

ملخص شرح درس السرعة والسرعة المتجهة

1

ملخص شرح درس المسافة والإزاحة

2

اختبار الوحدة الأولى المهارات العملية

3

اختبار قصير أول بمحافظة مسقط

4

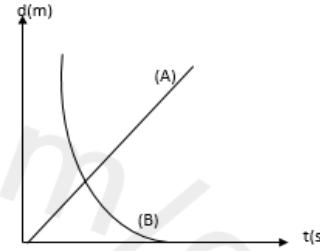
اختبار قصير أول نموذج رابع مع الإجابات بمحافظة جنوب الشرقية

5

تطبيقات على التمثيل البياني (الازاحة - الزمن)

١ في الشكل المقابل جسمان (A)، (B) يتحركان بمرور الزمن ويوضح الشكل ازاحتهما بالنسبة لمبنى كبير (النقطة المرجعية) ادرسي الشكل ثم اجيبي:

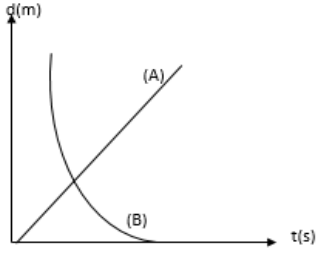
- (أ) الجسم الذي يتحرك مقتربا من المبنى هو (.....)
 (ب) الجسم الذي يتحرك مبتعدا عن المبنى هو (.....)
 (ج) الجسم الذي يتحرك بسرعة متغيره هو (.....)
 (ح) الجسم الذي يصل لنهاية حركته أولا هو (.....)



تطبيقات على التمثيل البياني (الازاحة - الزمن)

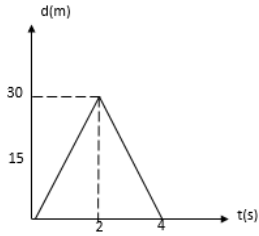
١ في الشكل المقابل جسمان (A)، (B) يتحركان بمرور الزمن ويوضح الشكل ازاحتهما بالنسبة لمبنى كبير (النقطة المرجعية) ادرسي الشكل ثم اجيبي:

- (ت) الجسم الذي يتحرك مقتربا من المبنى هو (.....)
 (ث) الجسم الذي يتحرك مبتعدا عن المبنى هو (.....)
 (خ) الجسم الذي يتحرك بسرعة متغيره هو (.....)
 (د) الجسم الذي يصل لنهاية حركته أولا هو (.....)



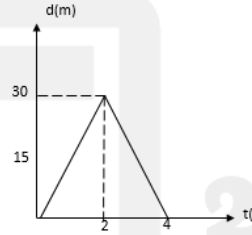
٢ الشكل الاتي يوضح حركة جسم في خط مستقيم احسبي:

- (ت) المسافة التي قطعها الجسم .
 (ث) الازاحة.
 (ح) السرعة خلال الثانيةين الاولتين.

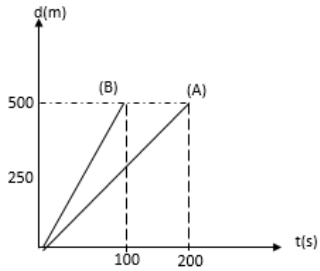


٢ الشكل الاتي يوضح حركة جسم في خط مستقيم احسبي:

- (أ) المسافة التي قطعها الجسم .
 (ب) الازاحة.
 (ج) السرعة خلال الثانيةين الاولتين.



٢ الشكل المقابل يوضح جسمان (A)، (B) تحركا من السكون أي الجسمين أسرع ؟ أثبت ذلك رياضيا؟



٢ الشكل المقابل يوضح جسمان (A)، (B) تحركا من السكون أي الجسمين أسرع ؟ أثبت ذلك رياضيا؟

