

شكراً لتحميلك هذا الملف من موقع المناهج العمانية



الملف إجابات كتاب النشاط

موقع المناهج ← المناهج العمانية ← الصف الخامس ← رياضيات ← الفصل الأول ← الملف

روابط مواقع التواصل الاجتماعي بحسب الصف الخامس



روابط مواد الصف الخامس على تلغرام

[الرياضيات](#)

[اللغة الانجليزية](#)

[اللغة العربية](#)

[التربية الاسلامية](#)

المزيد من الملفات بحسب الصف الخامس والمادة رياضيات في الفصل الأول

إجابات كتاب النشاط	1
إجابات كتاب النشاط	2
بنك أسئلة في وحدة الهندسة	3
نموذج إجابة الاختبار الرسمي لمحافظة (الداخلية)	4
نموذج إجابة الاختبار الرسمي لمحافظة (جنوب الباطنة)	5

النشاط التقويمي للدرس الأول ص ١٣

(إنجازات الأوائل .. طريق المستقبل)

إعداد المعلم : صالح بن محمد السيابي

السؤال الأول : اختر الإجابة الصحيحة :

- (١) استحداث نظام العملات ليحل محل نظام المقايضة في التبادل التجاري يندرج ضمن الإنجازات :
أ) الفكرية ب) السياسية ج) الاقتصادية د) العلمية
- (٢) نادى بأن يكون حاكم المدينة الفاضلة فيلسوفاً انطلاقاً من نظريته في النفس الانسانية :
أ) أفلاطون ب) سقراط ج) توينبي د) لامارتين
- (٣) يعود تاريخ بناء أقدم المستوطنات في شبه الجزيرة العربية إلى ما قبل الميلاد في الألف :
أ) الرابعة ب) السادسة ج) الثامنة د) العاشرة
- (٤) تُعد من مراكز الحضارات القديمة في الجزء الجنوبي الشرقي من شبه الجزيرة العربية :
أ) ميلوفا ب) أكاد ج) مجان د) آشور
- (٥) انطلقت الرحلة الفينيقية حول القارة الإفريقية في القرن السادس ق.م من :
أ) البحر المتوسط ب) المحيط الهندي ج) البحر الأحمر د) المحيط الأطلسي
- (٦) العامل الحضاري الأكثر تأثيراً في ابتكار الإنسان العماني لنظام الأفلاج :
أ) البيئة ب) الزمن ج) فكر الإنسان د) التبادل التجاري
- (٧) العام الميلادي الذي صدر فيه النظام الأساسي للدولة في سلطنة عمان :
أ) ١٩٩٤ م ب) ١٩٩٥ م ج) ١٩٩٦ م د) ١٩٩٧ م
- (٨) أول من قام برحلة بحرية حول القارة الأفريقية في القرن السادس الميلادي :
أ) السومريون ب) الفينيقيون ج) البابليون د) الفراعنة
- (٩) الدولة التي انطلقت منها الرحلة الفينيقية حول القارة الأفريقية في القرن السادس قبل الميلاد :
أ) مصر ب) عمان ج) العراق د) اليمن

١٠ ترتيب ظهور الكتابات الآتية من الأقدم إلى الأحدث :

أ) المسمارية ← الفينيقية ← الهيروغليفية ← (ب) الفينيقية ← الهيروغليفية ← المسمارية

ج) المسمارية ← الهيروغليفية ← الفينيقية ← (د) الهيروغليفية ← الفينيقية ← المسمارية

١١ الحضارة التي لا تنتمي لمنطقة الشرق الأدنى القديم :

أ) المصرية (ب) بلاد فارس (ج) الصينية (د) بلاد الرافدين

١٢ أقدم المناطق التي عرفت الكتابة في الوطن العربي مع منتصف الألف الرابعة قبل الميلاد :

ب) اليمن (ب) بلاد الرافدين (ج) بلاد الشام (د) مصر

١٣ يضم الشرق الأدنى القديم المناطق والحضارات التالية ما عدا :

أ) بلاد الشام (ب) بلاد فارس (ج) مصر (د) الهند

١٤ يرى توينبي أن المحرك الأساسي في نشوء الحضارة وتطورها :

أ) قدرة المجتمع على مجابهة التحديات (ب) الاستقرار

ج) التجانس بين العناصر السكانية (د) الزمن

١٥ ظهر مفهوم المواطنة في القرن الخامس قبل الميلاد في :

أ) فرنسا (ب) اليونان (ج) اسبانيا (د) إيطاليا

١٦ تمكنوا من ابتكار أول أبجدية في التاريخ :

أ) السومريون (ب) الفراعنة (ج) الفينيقيون (د) الرومان

١٧ الإنجاز الحضاري الذي اعتُبر بداية للعصور التاريخية :

أ) اكتشاف النار (ب) ظهور العملات (ج) اختراع الكتابة (د) اكتشاف الزراعة

١٨) بدأ الإنسان حياة الاستقرار عندما استقر في مستوطنات بسيطة منذ الألف :

أ) الرابعة ق م . ب) الثالثة ق م . ج) الثانية ق م . د) الأولى ق م .

١٩) صاحب نظرية التحدي والاستجابة :

أ) أفلاطون ب) توينبي ج) أرسطو د) ابن خلدون

٢٠) الجدول الصحيح الذي يمثل مناطق الشرق الأدنى القديم :

الهند		مصر	
العراق		العراق	أ
بلاد فارس	ب	بلاد الشام	
بلاد الهند		بلاد فارس	
السودان		مصر	
الهند	د	اليمن	ج
بلاد الشام		السودان	
اليمن		بلاد الهند	

٢١) الترتيب الصحيح لمراحل تطور النظام السياسي الروماني القديم من الأقدم إلى الأحدث :

الفوضوية		النظام الملكي	
النظام الملكي	ب	الفوضوية	أ
تدوين القانون		تدوين القانون	
النظام الملكي		الفوضوية	
تدوين القانون	د	تدوين القانون	ج
الفوضوية		النظام الملكي	

٢٢) الجدول الصحيح الذي يربط بين الشخصيات والأفكار المرتبطة بهم :

ابن خلدون	صاحب نظرية التحدي والاستجابة
أفلاطون	الإنسان مدني بطبعه
توينبي	صاحب نظرية المدينة الفاضلة

ب

ابن خلدون	صاحب نظرية التحدي والاستجابة
أفلاطون	صاحب نظرية المدينة الفاضلة
توينبي	الإنسان مدني بطبعه

أ

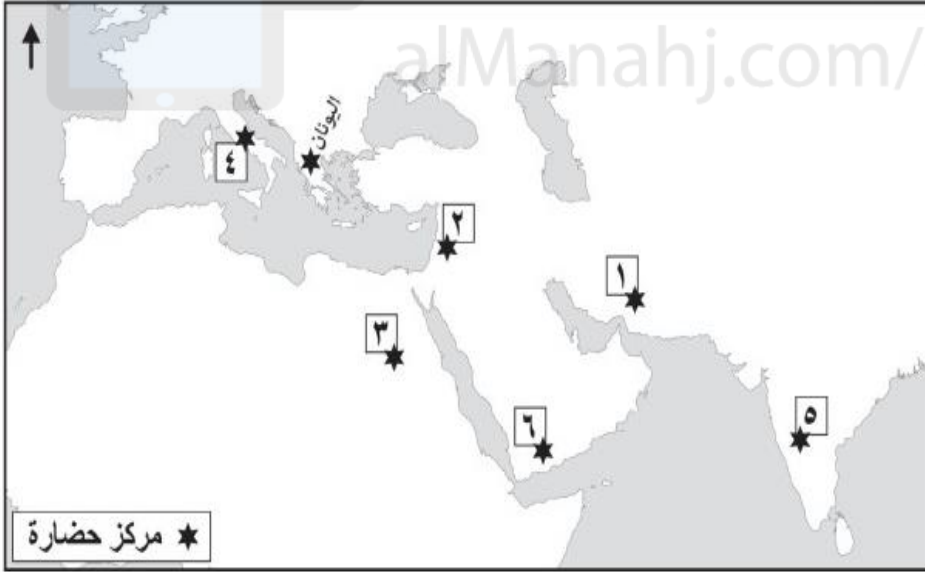
ابن خلدون	الإنسان مدني بطبعه
أفلاطون	صاحب نظرية المدينة الفاضلة
توينبي	صاحب نظرية التحدي والاستجابة

د

ابن خلدون	صاحب نظرية المدينة الفاضلة
أفلاطون	صاحب نظرية التحدي والاستجابة
توينبي	الإنسان مدني بطبعه

ج

٢٣) الأرقام الصحيحة التي تمثل الحضارات التي شملتها امبراطورية الإسكندر المقدوني حسب الأرقام الظاهرة في الخريطة :



أ) ١، ٢، ٣، ٥

ب) ١، ٢، ٣، ٤

ج) ١، ٤، ٤، ٦

د) ٢، ٣، ٤، ٥

٢٤) المدينة التي ظهر فيها مفهوم المواطنة من خلال الحوار داخل المنتديات في القرن ٥ ق. م :

أ) أثينا ب) روما ج) الإسكندرية د) بابل

السؤال الثاني : أجب عما يأتي :

(١) اذكر اثنين مما يأتي :

أ) النتائج التي ترتبت على استقرار الإنسان منذ عصور ما قبل التاريخ في مستوطنات بسيطة .

ب) الإنجازات الحضارية للإنسان في المجال الاقتصادي قديماً .

ج) مقومات الحضارة البشرية .

د) الإنجازات الحضارية للإنسان في المجال الفكري قديماً .

٢) صنف المنجزات الحضارية الآتية (المقايضة - الرحلات الكبرى - الفنون - نظام الحكم) كل حسب المجال الذي ينتمي إليه :

المجال	المنجزات الحضارية التي تنتمي إليه
السياسي	
الاقتصادي	
الفكري	

٣) صنف في الجدول أدناه الإنجازات الفكرية الآتية كل حسب الشعوب التي تنسب إليها :

(استعمال الكتابة الهيروغليفية - ابتكار أول أبجدية مكونة من ٢٢ حرفاً - إضافة الأحرف الصوتية بدلاً من الحركات التي تلفظ ولا تكتب - ابتكار الكتابة المسمارية)

الشعب	الإنجاز الفكري
السومريون	
المصريون	
الفينيقيون	
اليونانيون والرومان	

٤) انقل في الجدول أدناه الأفكار الآتية قرين كل شخصية ارتبطت بها :

(نظرية التحدي والاستجابة - نظرية المدينة الفاضلة - مقولة الإنسان مدني بطبعه)

الفكرة	الشخصية
	ابن خلدون
	أفلاطون
	توينبي

السؤال الثالث :

١) يقول توينبي " إن قدرة المجتمع على مجابهة التحديات التي تواجهه والرد الإيجابي عليها يمثلان المحرك الأساسي في نشوء الحضارة وتطورها " في ضوء العبارة السابقة أجب عن الآتي :

أ) ما اسم النظرية التي اشتهر بها توينبي .

ب) أثبت بدليل على صدق العبارة السابقة من واقع العمانيين الأوائل .

٢) اكتب في الجدول أدناه اسم المصطلح الدال على كل عبارة من العبارات الآتية :

المصطلح	العبارة
	ثمرة كل جهد يقوم به الإنسان لتحسين ظروف حياته المادية والمعنوية .
	أقدم كتابة عرفها التاريخ مع منتصف الألف الرابعة ق.م على شكل رموز تكتب على ألواح طينية .
	تعديل الجينات للكائن الحي من خلال عملية نقل الجينات بين الكائنات الحية .

٣) دلل لما يأتي :

أ) تطور الملاحة في القرن السادس قبل الميلاد .

ب) للزمن دورٌ أساسيٌّ في قيام الحضارات البشرية .

ج) التفاعل بين الانسان والبيئة عاملٌ مهمٌ في نشوء الحضارات .

د) تمكن الإنسان مع نهاية الألف الثانية ق.م من الوصول إلى حل جذري يخرج البشرية من طور استعمال آلاف الرسوم والصور إلى طور الحروف .

٤) رتب مراحل تطور النظام السياسي الروماني حتى مطلع القرن الخامس ق.م من الأقدم

إلى الأحدث بكتابة الأرقام (١ ، ٢ ، ٣) :

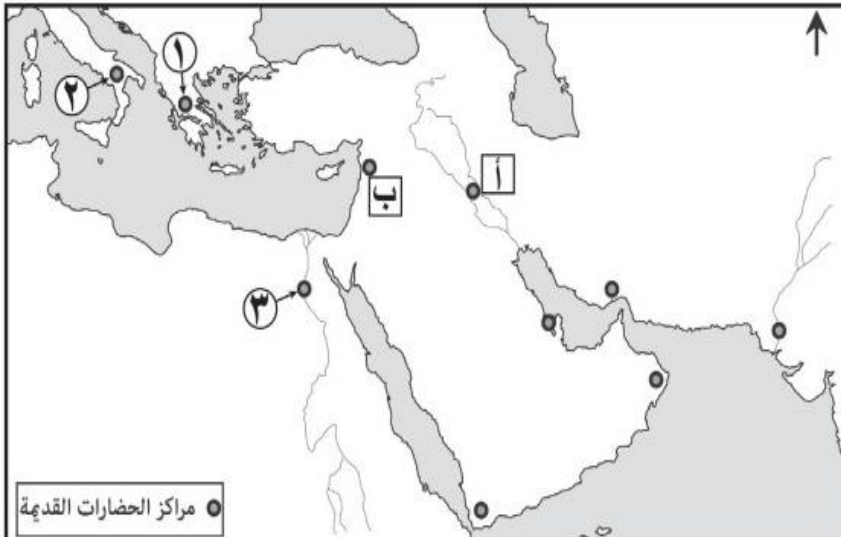
(.....) تدوين القانون الروماني .

(.....) الفوضوية وظهور الأكواخ .

(.....) النظام الملكي وظهور مؤسساته .

٥) وضح الأثر الفكري للرحلات الكبرى التي قام بها القدماء على الحضارة الإنسانية .

٦) ادرس خريطة مراكز الحضارات القديمة ، ثم اجب عن الأسئلة الآتية :



أ) الرمز الذي يشير إلى مواقع التمدن الآتية :

رأس شمرا : - أ - ب

تل الحريري : - أ - ب

ضع دائرة حول الإجابة الصحيحة .

ب) ما الرقم الذي يشير إلى مركز الحضارة

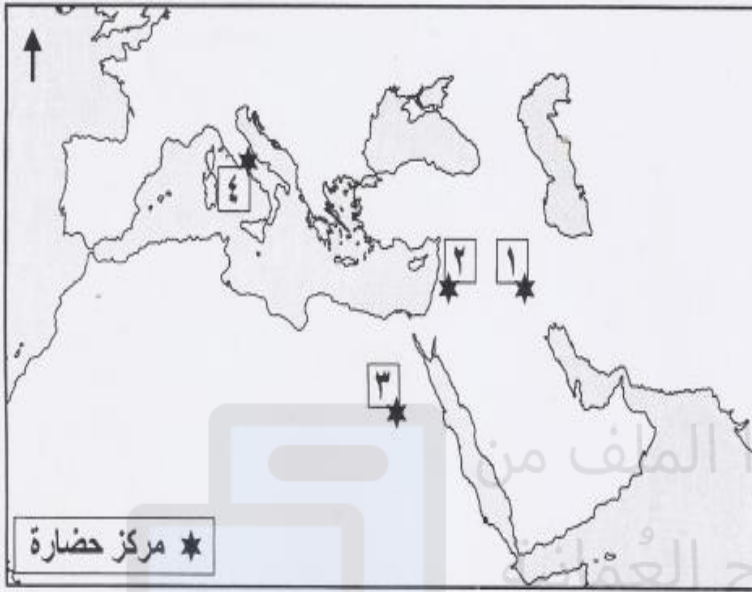
الرومانية القديمة ؟ ()

ج) ما الرقم الذي يشير إلى الدولة التي انطلقت

منها أول رحلة بحرية حول القارة الأفريقية في

القرن السادس قبل الميلاد ()

٧) أمامك خريطة ادرسها جيدا ثم أجب عن الأسئلة الآتية :

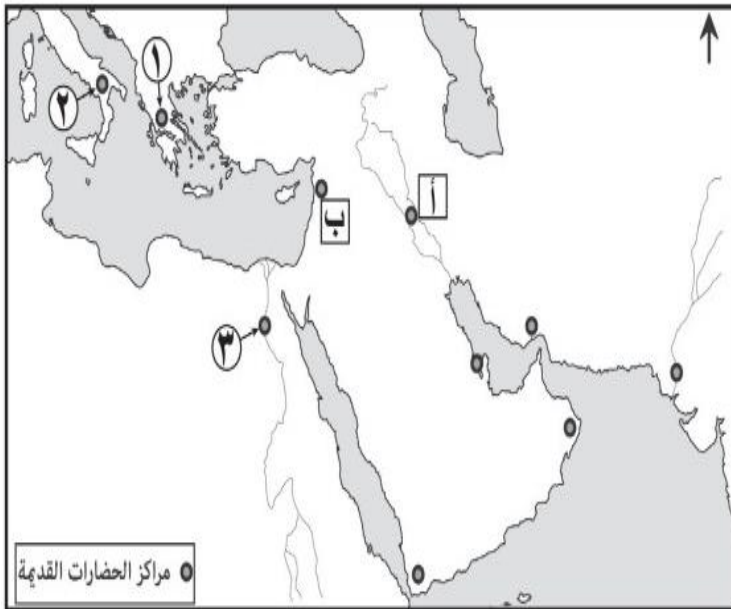


أ) انقل في الجدول التالي أرقام مراكز الحضارات مقابل الإنجاز الفكري الذي يُنسب إليها :

مركز الحضارة	الإنجاز الفكري (الكتابة)
	الهيروغليفية .
	أول أبجدية .
	المسمارية.
	إضافة الأحرف الصوتية للأبجدية .

ب) وقع على الخريطة حضارة بلاد فارس في موقعها الصحيح .

٨) ادرس خريطة مراكز الحضارات القديمة ، ثم اجب عن الأسئلة الآتية :



أ) ما الإضافة التي قدمتها الدولة المشار إليها بالرقم (٢) لتطوير الأبجدية الفينيقية .

ب) ما الرمز الذي يشير إلى موقع الحضارة التي ابتكرت أول ابجدية مكونة من (٢٢) حرفاً .

ج) ما الرقم الذي يشير إلى موقع الدولة التي ظهر فيها مفهوم المواطنة في القرن الخامس قبل الميلاد .

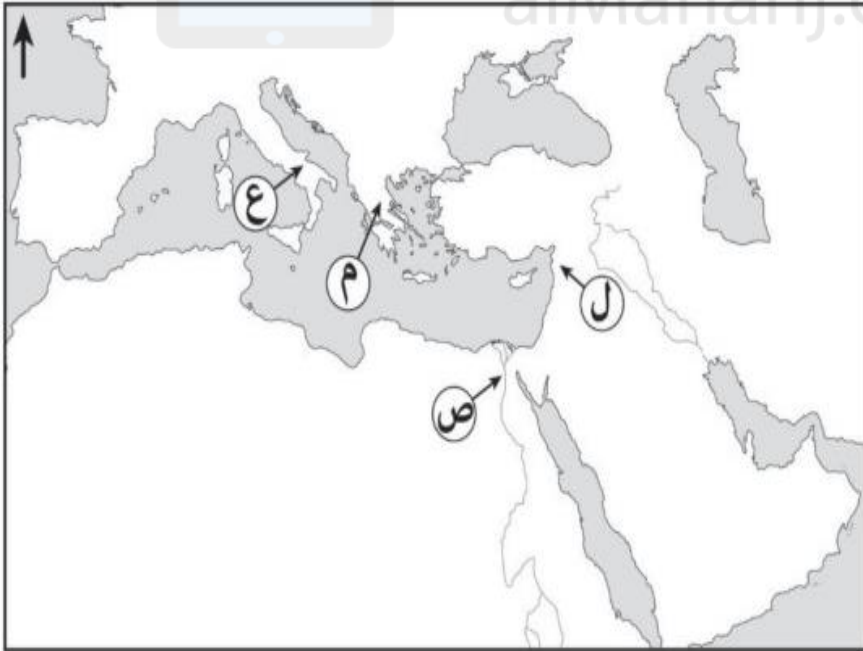
٩) امامك خريطة ، ادرسها جيدا ثم اجب عن الأسئلة الآتية :



أ) ارسم مسار الرحلة البحرية التي قام بها الفينيقيون في القرن ٦ ق.م. موضحا نقطة الانطلاقة والنهاية .

ب) ما الرقم الذي يشير إلى موقع حضارة مجان .

١٠) استخرج من الخريطة المقابلة ما يلي :



أ) الرمز الذي يشير إلى المدينة التي شهدت بدايات ظهور مفهوم المواطنة ()

ب) الرمز الذي يشير إلى الحضارة التي ظهرت فيها الكتابة الهيروغليفية . ()

ج) الرمز الذي يشير إلى الحضارة التي أضافت الأحرف الصوتية إلى الأبجدية الفينيقية . ()

السؤال الرابع : أجب عن الأسئلة الآتية :

(١) ما الحلول التي أوجدها الإنسان للتغلب على المشكلات الآتية :

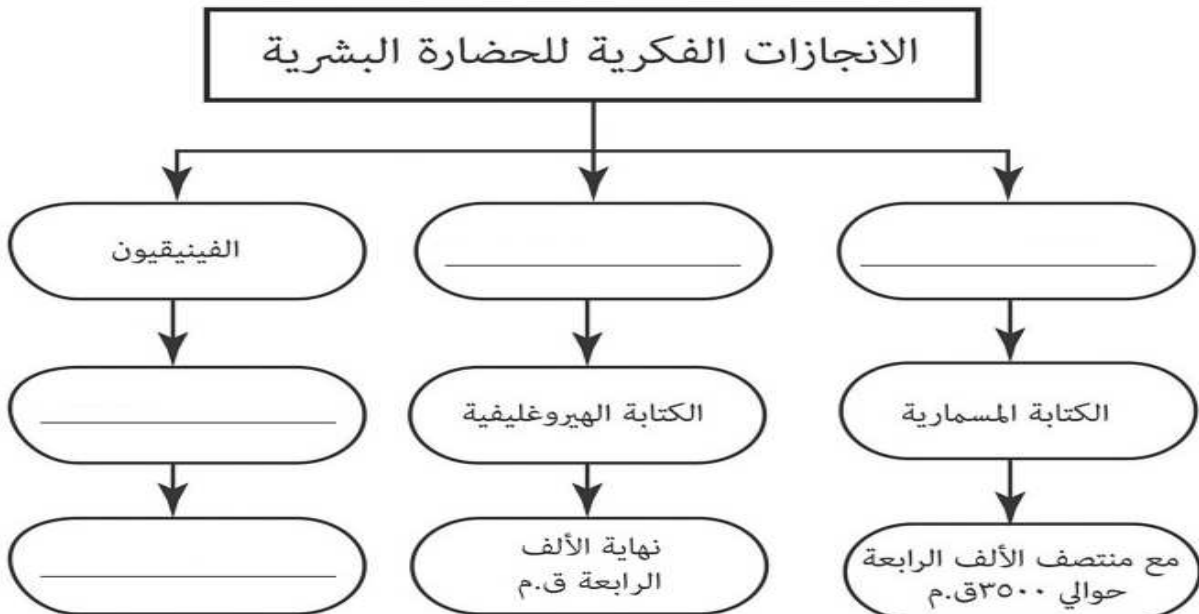
م	المشكلة	الحل
١	صعوبة نظام المقايضة في عملية التبادل التجاري في العصور الحجرية .	
٢	استعمال الإنسان آلاف الرسوم والصور والرموز للتعبير عما يجول في خاطره من أفكار يريد التعبير عنها أو إبلاغها للآخرين .	

(٢) صنّف المنجزات الحضارية البشرية الآتية كل حسب المجال الذي تنتمي إليه في الجدول :

(أنظمة الحكم - العملات - المقايضة - المواطنة)

الاقتصادي	السياسي
.....
.....

(٣) أكمل خريطة المفاهيم التالية :



٤) قال ابن خلدون : " الإنسان مدني بطبعه " حلل العبارة في ضوء ما درسته عن تطور الحضارة .

٥) انظر إلى الصورة المقابلة ثم أجب عن الأسئلة الآتية :



أ) سم الكتابة الظاهرة في الصورة .

ب) من ابتكر هذه الكتابة .

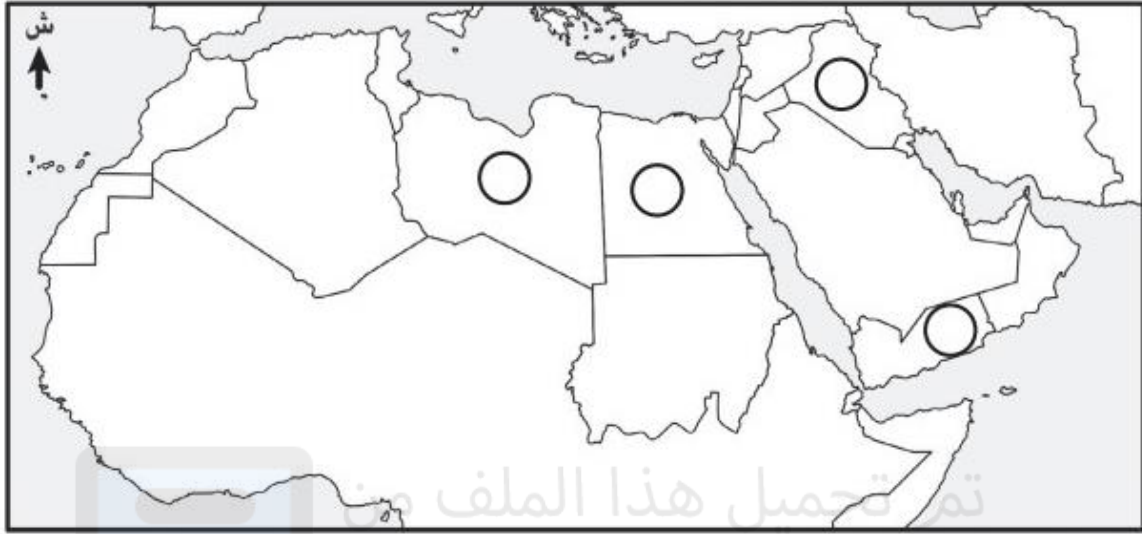
٦) صنف في الجدول أدناه المنجزات الآتية كل حسب مجاله :

(ظهور الدول – استعمال التصوير والنحت – اختراع الكتابة – تداول العملات)

المنجزات الفكرية	المنجزات الاقتصادية	المنجزات السياسية

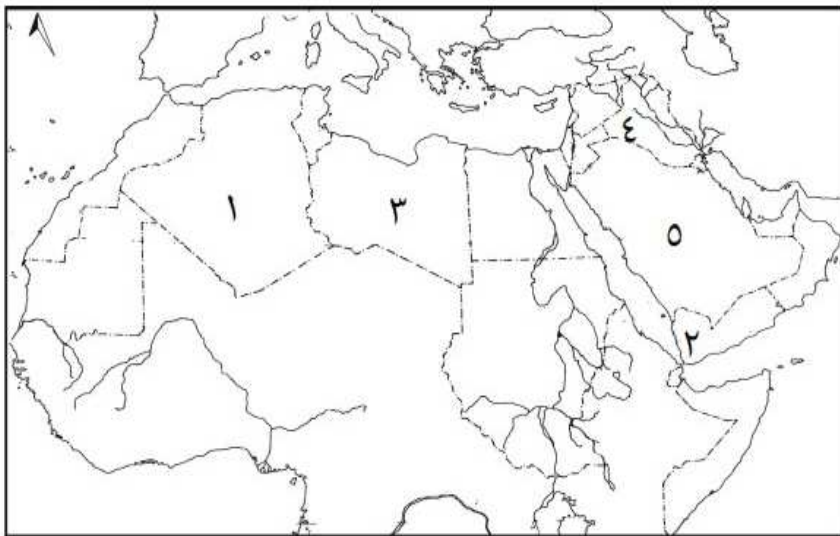
٧) وضح تأثير الزمن على تطور النظام السياسي الروماني حتى مطلع القرن الخامس ق.م .

٨) اكتب في ○ على الخريطة الأتية أرقام ما تشير إليه العبارات التي تليها :



أ) حضارة قديمة ينتمي إليها المنجز الحضاري
الظاهر في الصورة المقابلة حسب تخيل
الفنان بروجل .
ب) حضارة ظهرت فيها الكتابة الهيروغليفية .

٩) ادرس الخريطة المقابلة ثم أجب عن الأسئلة التي تليها :



أ) ما الرقم الذي يشير إلى الدولة
التي ظهرت فيها الكتابة
المسمارية مع منتصف الألف
الرابعة ق.م.
ب) ظلل المسطح المائي الذي
انطلقت منه رحلة الفينيقيين
حول القارة الأفريقية في القرن
السادس قبل الميلاد.

انتهت الأسئلة ، رجائي لكم كل التوفيق