

شكراً لتحميلك هذا الملف من موقع المناهج العمانية



اختبار قصير ثاني نموذج خامس

[موقع المناهج](#) ← [المناهج العمانية](#) ← [الصف الثاني عشر](#) ← [رياضيات أساسية](#) ← [الفصل الثاني](#) ← [الملف](#)

تاريخ إضافة الملف على موقع المناهج: 04:22:00 2024-05-06

إعداد: شيماء عبد الرحمن أحمد

التواصل الاجتماعي بحسب الصف الثاني عشر



اضغط هنا للحصول على جميع روابط "الصف الثاني عشر"

روابط مواد الصف الثاني عشر على تلغرام

[الرياضيات](#)

[اللغة الانجليزية](#)

[اللغة العربية](#)

[التربية الاسلامية](#)

المزيد من الملفات بحسب الصف الثاني عشر والمادة رياضيات أساسية في الفصل الثاني

[اختبار قصير ثاني نموذج رابع](#)

1

[اختبار قصير ثاني نموذج ثالث](#)


2

[اختبار قصير ثاني نموذج ثاني](#)

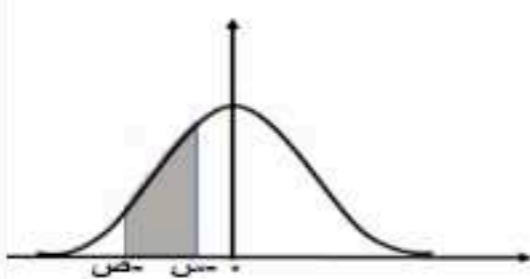
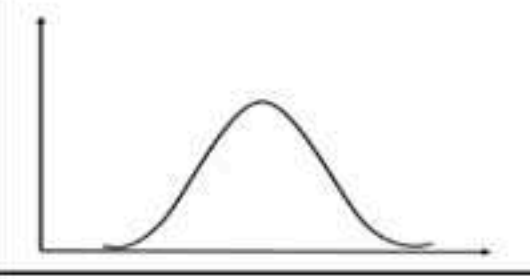
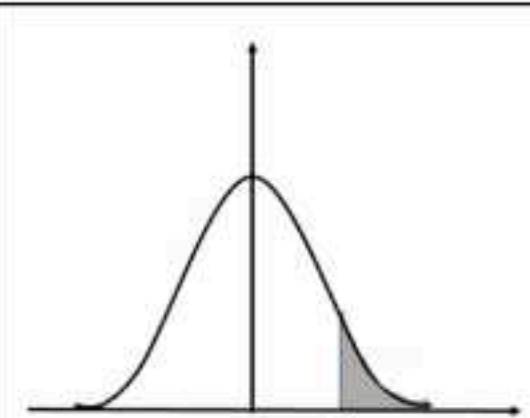
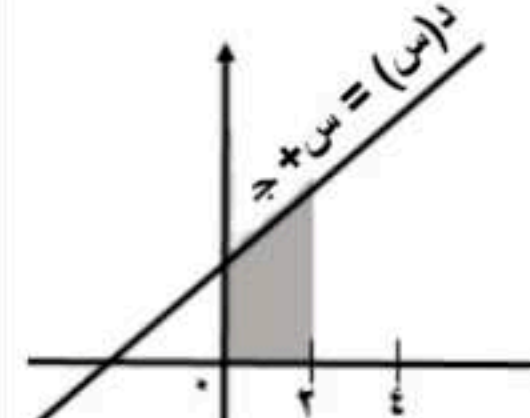
3

[اختبار قصير ثاني نموذج أول](#)

4

| | | | |
|--------|------------|--|---|
| المادة | رياضيات | الاختبار القصير الثاني الفصل الدراسي الثاني الصف الثاني عشر أساسي العام الدراسي ٢٠٢٣/٢٠٢٤ المدرسة : سفانة بنت حاتم الطائي (١٢-١) |  |
| الزمن | حصة دراسية | | |
| الدرجة | | | |

الإسم : الصف :

| الدرجة | المفرد | التسلسل |
|--------|---|---------|
| [١] |  <p>الشكل المجاور يمثل منحنى طبيعي ظل الشكل <input type="checkbox"/> المقترن بمساحة الجزء المظلل</p> <p><input type="checkbox"/> $D(S) - D(V)$ <input type="checkbox"/> $D(S) + D(V)$ <input type="checkbox"/> $D(V) - D(S)$ <input type="checkbox"/> $D(V) + D(S)$</p> | ١ |
| [١] |  <p>الشكل المجاور يمثل منحنى طبيعي ، انحرافه المعياري أقل مما يبدو عليه ظل الشكل <input type="checkbox"/> المقترن بالعباراة الصحيحة</p> <p><input type="checkbox"/> يتحرك المنحنى لليمين <input type="checkbox"/> يتحرك المنحنى لليسار <input type="checkbox"/> يزداد اتساعه ويقل ارتفاعه <input type="checkbox"/> يزداد ارتفاعه ويقل اتساعه</p> | ٢ |
| [٣] | <p>منحنى الدالة ص يمر بالنقطة (٣، ٢) ، $\frac{5}{5} = 4 - 2 \times 3$ أوجد معادلة المنحنى</p> | ٣ |
| [٢] |  <p>س متغير عشوائي طبيعي ، متوسطه (٥٠) ، وانحرافه (٤) مساحة الجزء المظلل في الرسم المجاور تساوي ٠,٠٣١٤ أوجد قيمة ك</p> | ٤ |
| [١] | <p>س متغير عشوائي طبيعي ، وسطه و ، انحرافه المعياري ع ظل الشكل <input type="checkbox"/> المقترن بقيمة ل(س > و)</p> <p><input type="checkbox"/> ١ - <input type="checkbox"/> $\frac{1}{2}$ <input type="checkbox"/> $\frac{1}{4}$ <input type="checkbox"/> ١</p> | ٥ |
| [٢] |  <p>مساحة الجزء المظلل في الرسم المجاور يساوي ٦ وحدات مربعة أوجد قيمة ج</p> <p>$6 = S + J$</p> | ٦ |