

تم تحميل هذا الملف من موقع المناهج العمانية



الملف امتحان تدريبي وتجريبي للاختبار النهائي مع الإجابة نموذج خامس

[موقع المناهج](#) ← [المناهج العمانية](#) ← [الصف الثاني عشر](#) ← [هذا وطني](#) ← [الفصل الثاني](#)

روابط مواقع التواصل الاجتماعي بحسب الصف الثاني عشر



روابط مواد الصف الثاني عشر على تلغرام

[الرياضيات](#)

[اللغة الانجليزية](#)

[اللغة العربية](#)

[التربية الاسلامية](#)

المزيد من الملفات بحسب الصف الثاني عشر والمادة هذا وطني في الفصل الثاني

<a href="#">ملخص شرح درس صناعه السباحه العمانية بين التنوع والاستدامة</a>	1
<a href="#">ملخص هذا وطني في العراقة والمجد</a>	2
<a href="#">كراسة أنشطة وأسئلة واختبارات امتحانية شاملة</a>	3
<a href="#">مذكرة أنشطة وأسئلة هامة من مقتطفات نماذج امتحانية</a>	4
<a href="#">مقرر الدروس المحذوفة والمطلوبة حسب وثيقة المحتوى التدريسي في ظل جائحة الكورونا</a>	5



الاختبار التجريبي للعام الدراسي ١٤٤١-١٤٤٢هـ / ٢٠٢٠-٢٠٢١م

الصف: الثاني عشر

الدور: الأول

مدرسة نعيم بن مسعود للتعليم الأساسي (١٠-١٢)

\*المادة: الدراسات الاجتماعية \* عدد صفحات أسئلة الاختبار (١٥)

\* زمن الإجابة: ٣ ساعات \* الإجابة في الورقة نفسها

اسم الطالب: .....
الصف الثاني عشر: .....

السؤال	الدرجة		التوقيع بالاسم	
	بالأرقام	بالحروف	المصحح الأول	المصحح الثاني
١٥ - ١				
١٦				
١٧				
١٨				
١٩				
٢٠				
٢١				
المجموع الكلي	٦٠			

التوقيع /

اسم المصحح /

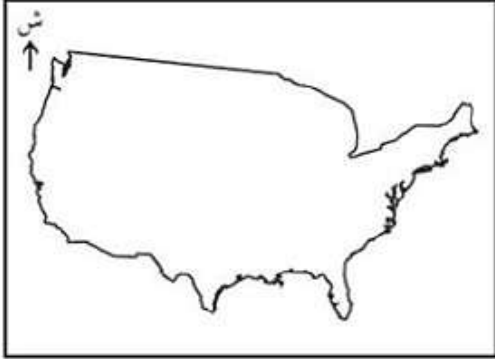
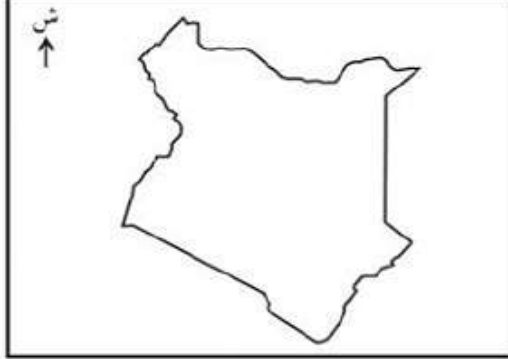
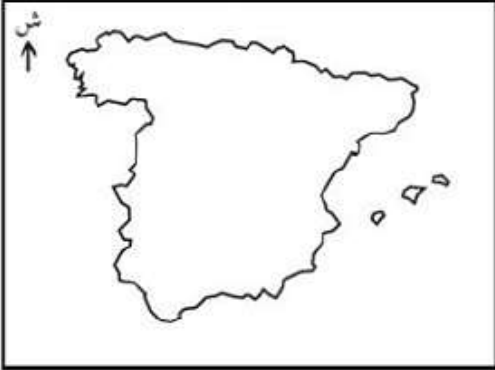
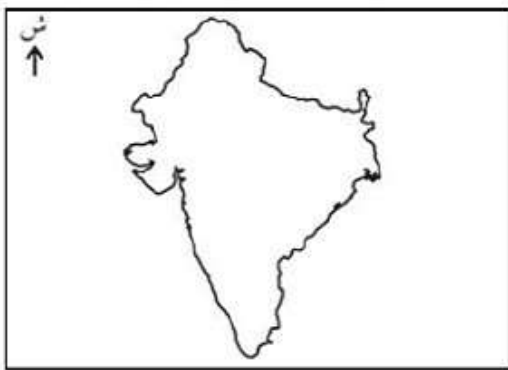








التوقيع /

اسم المراجع /



سَلْطَنَةُ عُومَانِ  
وَزَارَةُ التَّرْبِيَةِ وَالْتَعْلِيمِ  
لِلْمَدَرَسَةِ الْعَامَّةِ وَاللُّغَةِ الْعَرَبِيَّةِ وَاللُّغَةِ الْإِنجليزيةِ



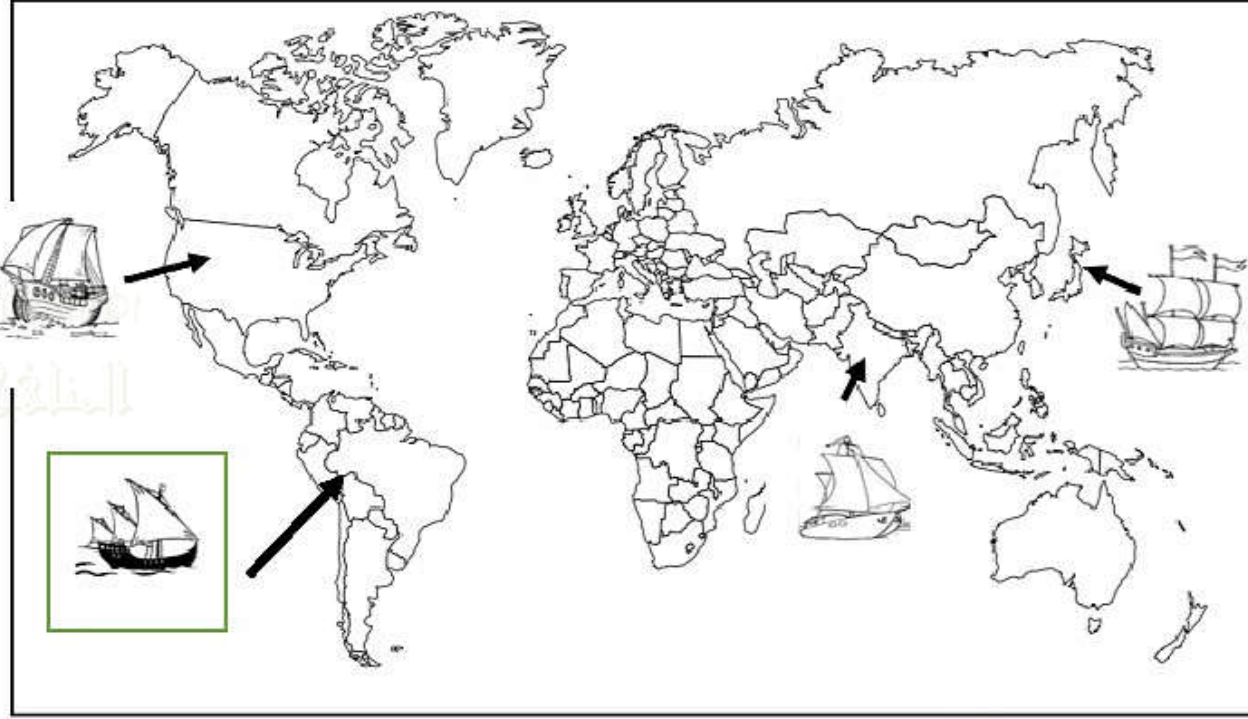
الامتحان التجريبي للصف الثاني عشر / الدور الأول للعام الدراسي  
٢٠٢٠/٢٠٢١ م

المادة الدراسات الاجتماعية	الزمن ساعتان								
٦٠ درجة	تنبيه الأسئلة في ١٥ صفحات								
الاسم: .....	الشعبة: .....								
أجب عن جميع الأسئلة التالية: السؤال الأول: ضلل الشكل <input type="checkbox"/> المقترن بالإجابة الصحيحة من بين البدائل المعطاة لكل مفردة من المفردات التالية: ١ - بدأ عصر البوسعيد في عُمان في العام الميلادي : ١٤٤٢ <input type="checkbox"/> ١٧٤٤ <input type="checkbox"/> ١٧٤٦ <input type="checkbox"/> ١٧٤٨ <input type="checkbox"/> ٢ - خريطة الدولة التي زارها السيد سعيد بن تيمور في قارة أمريكا الشمالية كأول حاكم عربي: <table border="0"><tr><td></td><td><input type="checkbox"/></td><td></td><td><input type="checkbox"/></td></tr><tr><td></td><td><input type="checkbox"/></td><td></td><td><input type="checkbox"/></td></tr></table>			<input type="checkbox"/>		<input type="checkbox"/>		<input type="checkbox"/>		<input type="checkbox"/>
	<input type="checkbox"/>		<input type="checkbox"/>						
	<input type="checkbox"/>		<input type="checkbox"/>						

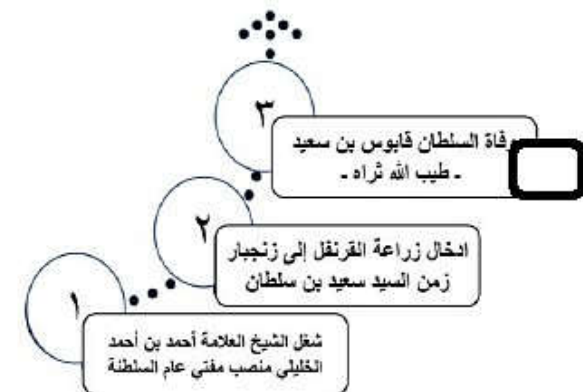
يتبع/٢



٣ - شكل السفينة الذي يشير إلى الدولة التي تم في إحدى مدنها طبعة ديوان الشاعر سعيد بن مسلم ١٩٣٧م من خلال الخريطة الآتية:



٤ - الشكل الذي يمثل الترتيب الصحيح للأحداث المرتبطة بعصر البوسعيد في عمان من الأقدم للأحدث:




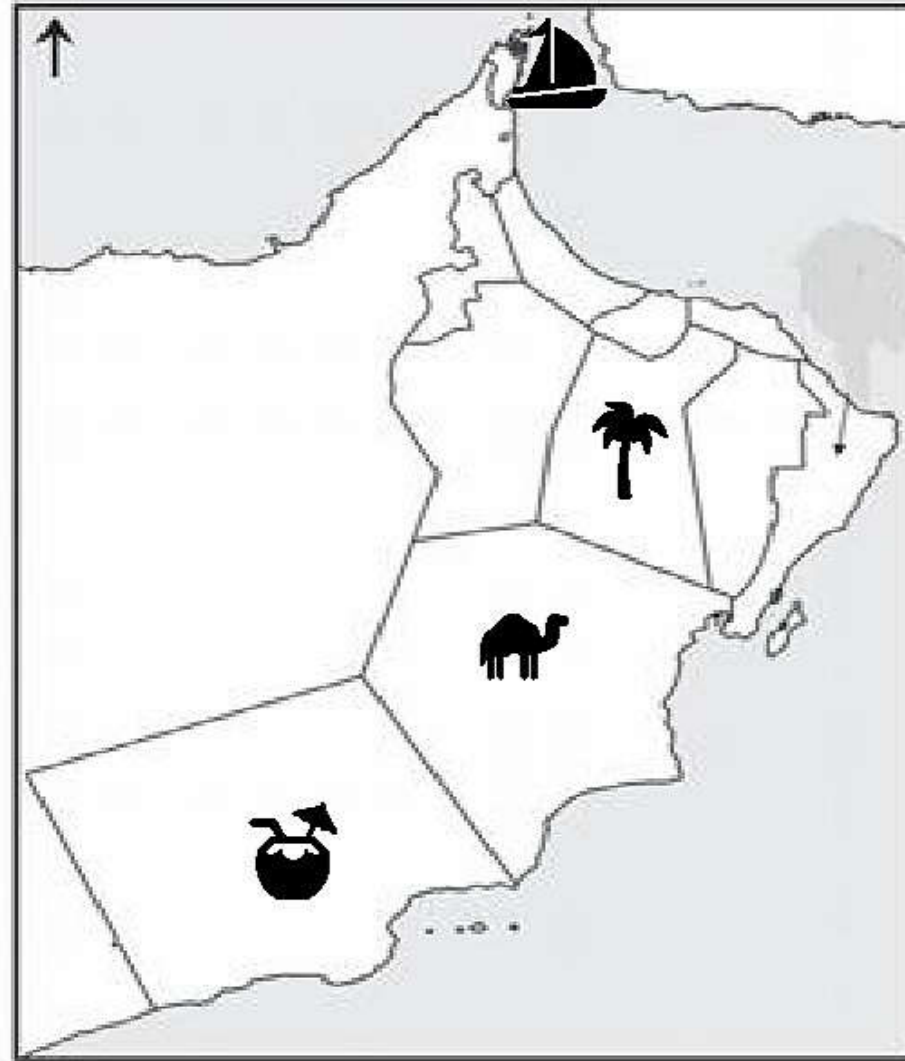
يتبع/٣

٥ - " المستوى العلمي والتكنولوجي " من المؤثرات على سوق العمل وتدخل ضمن العامل:  
 الاقتصادي  السياسي والقانوني  الثقافي والاجتماعية  الجغرافي

٦ - سبب قيام المؤسسات العالمية بإعادة هيكلتها نتيجة للتطور العلمي والتكنولوجي والتي أدت إلى مجموعة من التغيرات في سوق العمل:

- تحقيق أقصى نسب الربح  
 جذب الأيدي العاملة الرخيصة  
 تعددية عمليات الإنتاج والتوزيع  
 التنافس الوظيفي وتعدد الوظائف

٧ - المحافظة التي بها محطتي للطاقة الكهربائية ومعالجة الغاز مشار لها بالرمز:



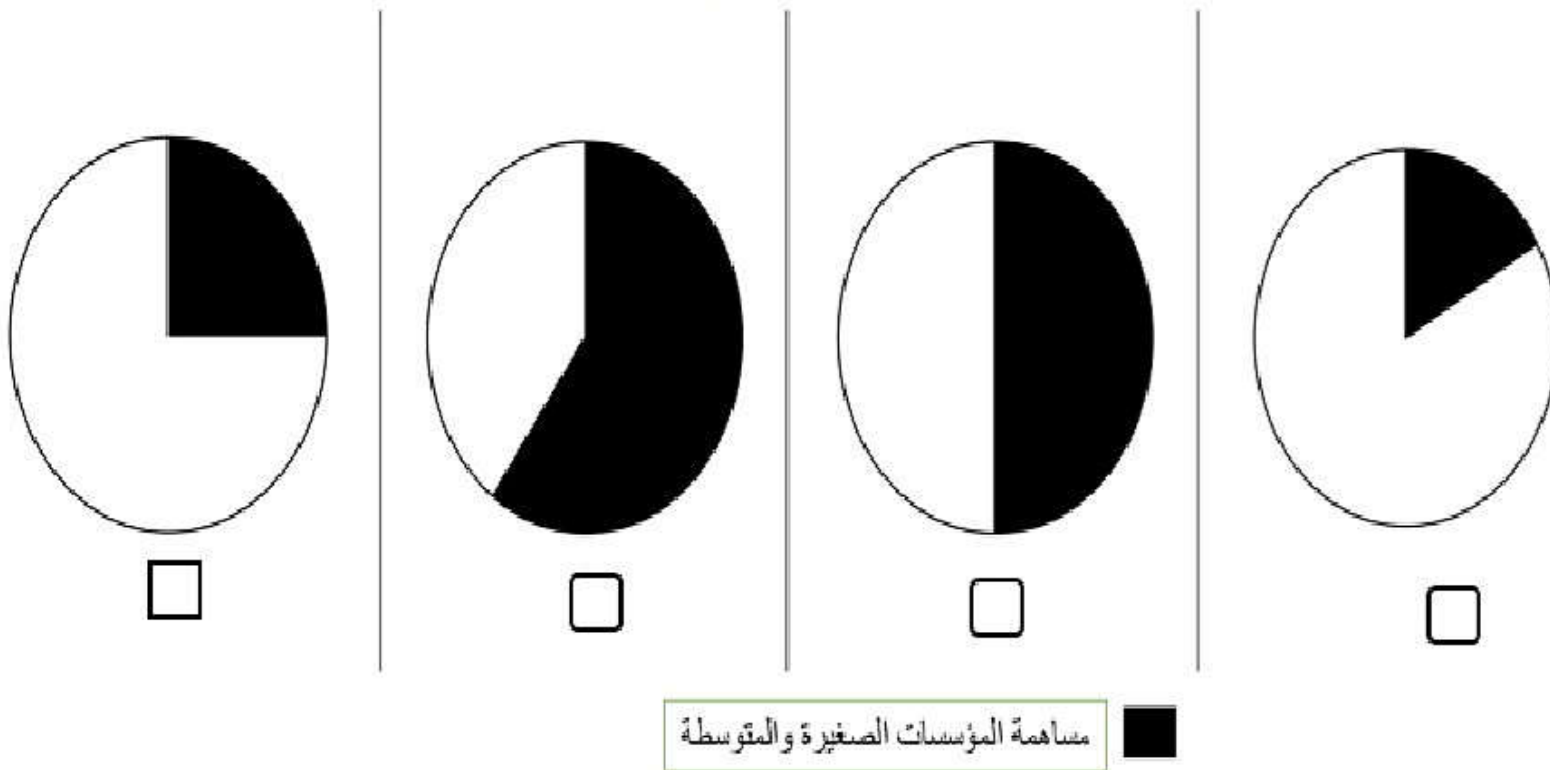
يتبع/٤

٨ - الوصف الصحيح للهرم السكاني في سلطنة عُمان عام ١٩٩٨ م من خلال الشكل التالي:



- ارتفاع نسبة صغار السن (الأقل من ١٥ سنة)
- ارتفاع نسبة متوسطي العمر (١٥ - ٦٤ سنة)
- ارتفاع نسبة كبار السن (من ٦٥ فما فوق)
- انخفاض نسبة صغار السن (الأقل من ١٥ سنة)

٩ - الدائرة البيانية التي تمثل مساهمة المؤسسات الصغيرة والمتوسطة في الناتج المحلي الإجمالي للصين عام ٢٠١٧ م:



يتبع/٥



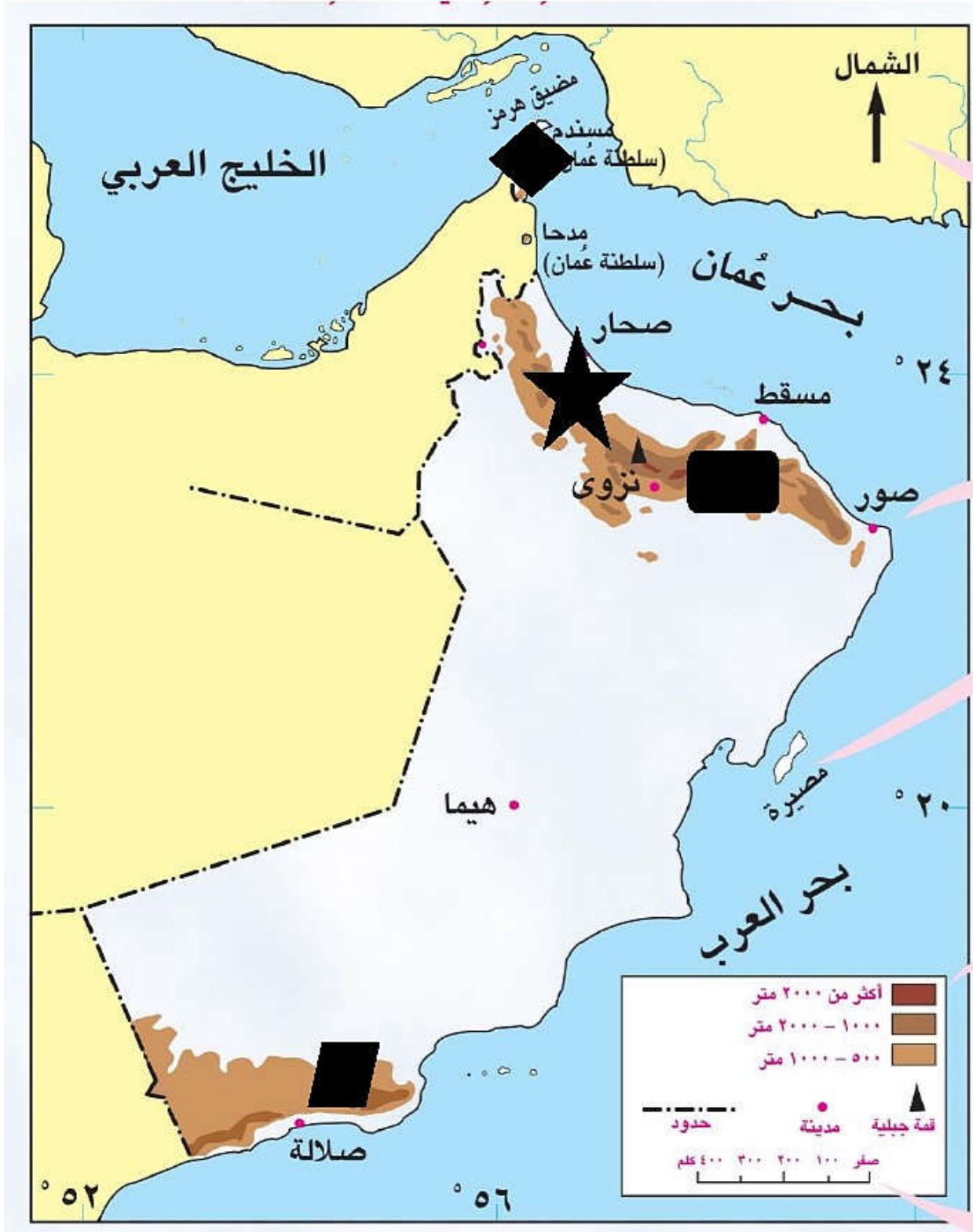
١٠ - جميع ما يلي من فوائد المؤسسات الصغيرة والمتوسطة للمجتمع ما عدا:

- تقليل التفاوت بين مستويات دخل الأفراد
- تعزيز اقتصاد الدولة
- تحقيق التكامل الاقتصادي مع المؤسسات الكبرى
- تحقيق التوازن الجغرافي لعمليات التنمية


١١ - المؤسسة التي يتراوح عدد عمالها ما بين (١١ - ٥٠ عامل) وإيرادها السنوية من ١٥٠,٠٠٠ إلى أقل من ١,٢٥٠,٠٠٠ ريال عماني تصنف على أنها مؤسسة:

- صغيرة
- متوسطة
- كبيرة

١٢ - الجبال التي تم تحريرها من الحركة المتمردة والمدعومة من الخارج في ١١ ديسمبر ١٩٧٥ م المشار لها بالرمز:



يتبع/٦



١٣ - تعود أصل اللهجات العمانية من مسندم إلى ظفار إلى اللغة:  
 السواحيلية  العربية  الفارسية  السنسكريتية

١٤ - يطلق على "الكم الهائل من المعلومات التي شهدتها العالم والتي أدت إلى العديد من التطورات العلمية والتكنولوجية والتي نتج عنها مجموعة من الوسائل والتطبيقات والبرامج الحاسوبية وانتشار القنوات الفضائية" بـ:

الهوية الوطنية  الثورة الرقمية  التراث الوطني  الثقافة العالمية

المنهج العمانية

١٥ - جميع ما يلي تمثل نتائج الثورة المعرفية ما عدا:

- ظهور الآلة ذات الاحتراق الداخلي وإحلال الآلة محل الإنسان  
 الوسائل والتطبيقات والبرامج الحاسوبية  
 انتشار القنوات الفضائية  
 ظهور شبكة المعلومات العالمية "الانترنت" وانتشارها وشيوع استخدامها عند الجميع

١٥

١٦ -

(أ) اذكر اثنين لما يأتي:

١ - المناصب والوظائف والمهام التي وكلت لسعيد بن خلفان البوسعيد زمن السيد سعيد بن سلطان.

درجة

٢ - أعمال الامام أحمد بن سعيد قبل وبعد توليه الامامة.

درجة

٣ - النتائج التي ترتبت على قيام المؤسسات الكبرى بإعادة هيكلتها نتيجة التطور العلمي والتكنولوجي.

درجة

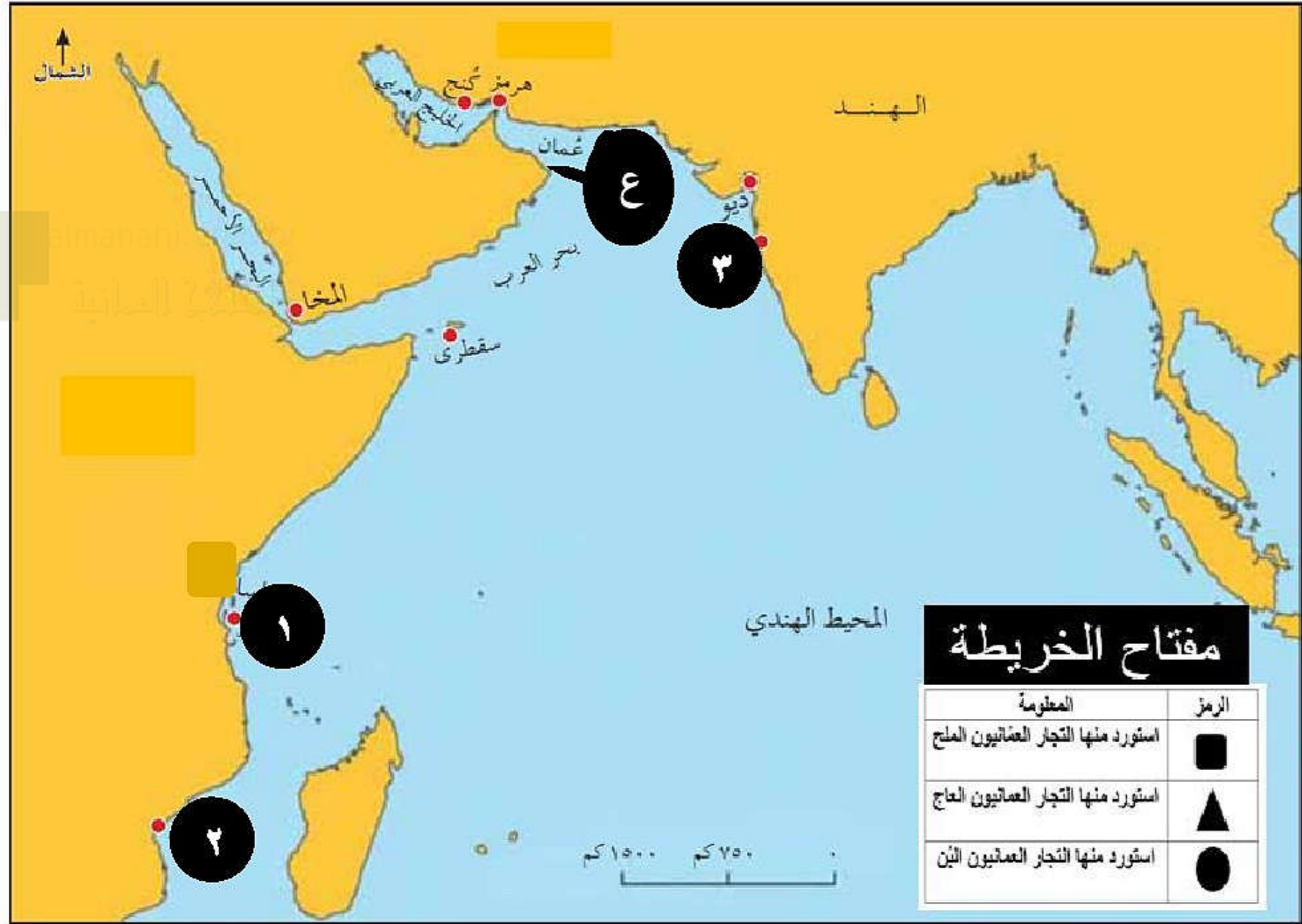
(ب) أنسب العبارات الآتية إلى الشخصية المرتبطة بها:

١. ( ) أقام إمبراطورية عمانية واسعة الامتداد في آسيا وأفريقيا. درجة

٢. ( ) تأسست في عهده المدرسة السلطانية الأولى. درجة يتبع/٧



ج) أدرس الخريطة التالية، ثم أجب عن الأسئلة الآتية:



من المدن التي واجه فيها العُمانيون البرتغاليين خارج عُمان

1 ½

½

٣ - ما الرقم الذي يشير إلى الميناء اكتسبت شهرة عالمية وزارها ١ سفينة تجارية خلال الفترة (١٨٣٢-١٨٣٤م)؟

½

٤ - ما الصناعة التي اشتهرت بها المدينة العمانية المشار لها بالرقم بالرمز (أ) زمن السيد سعيد بن سلطان؟

½

يتبع/٨

(أ) أعط مثلاً واحداً لكل مما يأتي:

١. الأسباب التي جعلت رؤية عمان ٢٠٤٠ نركز ضمن أولوياتها على سوق العمل والتشغيل.

درجة

المنشآت العمالية

٢. خدمات هيئة تنمية المؤسسات الصغيرة والمتوسطة.

درجة

٣. جهود السلطنة لتنمية المؤسسات الصغيرة والمتوسطة في مجال تعزيز ثقافة ريادة الأعمال.

درجة

(ب) برهن لما يأتي:

١. الأهمية التجارية الكبيرة لميناء مسقط في أواخر القرن الثامن عشر.

درجة

٢. اهتمام السلطان برغش بن سعيد بالعمران.

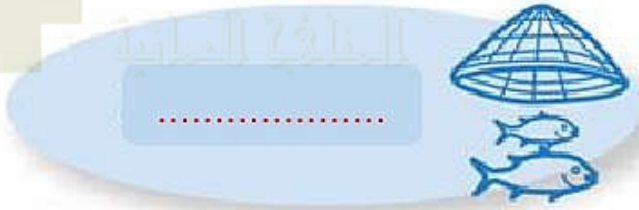
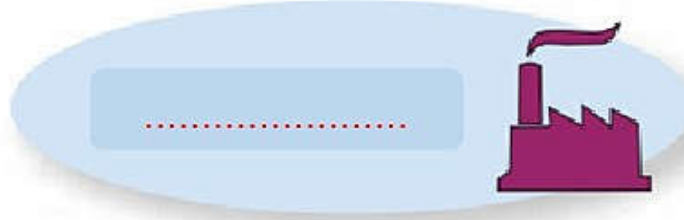

درجة

٣. الجهود الكبيرة التي بذلتها السلطنة لوضع المؤسسات الصغيرة والمتوسطة على خريطة الاقتصاد العالمي مواكبة للتوجهات العالمية.

درجة

ج) تشير الرموز التالية إلى القطاعات الاستثمارية الواعدة في سوق العمل العماني "، اكتب يسار كل رمز القطاع الذي تمثله.

درجتان



١٨ -

أ) دّل بمثال واحد على صحة العبارات الآتية:

١. سعت السلطنة إلى المحافظة على الهوية الوطنية وتعزيز المواطنة الرقمية من خلال مجموعة من الإجراءات.

درجتان

٢. تمسك العماني بأرضه رغم قساوة بعض تضاريسها.

درجتان

٣. تهتم السلطنة بتنمية القطاعات الاقتصادية المختلفة.

درجة

يتبع/١٠



ب) أجب عن الأسئلة الآتية:

١. وضح أهمية اللغة العربية كمرتكز من مرتكزات الهوية العمانية.

درجة

٢. " تتعدد المعايير المعتمدة لتصنيف المؤسسات الصغيرة والمتوسطة من دولة لأخرى " وضح المعيار الذي اعتمده السلطنة مع ذكر أسباب اعتماد هذا المعيار.

درجة

ج) أكمل بيانات الشكل التالي:

خطاب حضرة صاحب الجلالة السلطان هيثم بن طارق  
- حفظه الله ورعاه - في ٢٢ فبراير ٢٠٢٠م

مجالات قطاع المؤسسات الصغيرة والمتوسطة

الابتكار

½

½

يتبع/ ١١

١. ما النتائج المترتبة على التقنيات الحديثة متمثلة في شبكة المعلومات العالمية وتطبيقاتها المختلفة؟

درجتان

٢. علل لما يأتي:

أ. أهمية مواكبة تطورات العصر من خلال الموازنة بين الاصاله والمعاصرة.

درجة

ب. تعد المؤسسات الصغيرة والمتوسطة أحد أبرز الدعائم الاقتصادية في الكثير من دول العالم.

درجة

ب) أنظر إلى الخريطة الإدارية للسلطنة، ثم أجب عن الأسئلة الآتية:



١ - اذكر واحداً من المشاريع الاستثمارية الواعدة في سوق العمل العماني في المحافظة المشار لها بالرقم (١).

درجة

درجة

٢ - ضع الرمز ▲ في الخريطة على المحافظة التي توجد بها مصفاة الدقم.

ج) امامك مجموعة من الاحداث المرتبطة بعصر دولة البوسعيد في عمان، أعد ترتيبها تنازليا من الأحدث إلى الأقدم بكتابة رقم الترتيب الصحيح أسفل كل عبارة:

١. تولى الحكم السلطان سعيد بن تيمور

(\_\_\_\_\_)  
½

٢. قيام النهضة العمانية الحديثة زمن السلطان قابوس بن سعيد - طيب الله ثراه -

(\_\_\_\_\_)  
½

٣. ولد السلطان هيثم بن طارق - حفظه الله ورعاه - في مدينة مسقط.

(\_\_\_\_\_)  
½

٤. عقد السيد سعيد بن سلطان معاهدة مع الولايات المتحدة الامريكية تعد أقدم العلاقات السياسية بينها وبين دولة عربية.

(\_\_\_\_\_)  
½

- ٢٠ -

أ) اكتب أمام العبارات الآتية المصطلح أو المفهوم أو الاسم الدال عليها:

١. (\_\_\_\_\_) سوق افتراضي نظري يتضمن القوى العاملة والعارضين لفرص العمل من المؤسسات الحكومية والخاصة.

٢. (\_\_\_\_\_) الاستخدام المسؤول والأخلاقي والأمن لتكنولوجيا المعلومات والاتصالات.

٣. (\_\_\_\_\_) مجموع السمات والخصائص المشتركة منها الثقافية والاجتماعية والجغرافية والتاريخية التي تشعر الفرد بانتمائه وولائه لوطنه.


٤. (\_\_\_\_\_) مؤسسة حكومية تعني بتنمية المؤسسات الصغيرة والمتوسطة والتخطيط والترويج لها بالتنسيق بين القطاعين الحكومي والخاص.



ب) أمامك مجموعة من الصور تمثل مرتكزات الهوية العمانية، أكتب المرتكز الصحيح أمام رمز كل صورة:



٢



١



٤



٣

- ½  
½  
½  
½

رقم الصورة	المرتكز الذي تمثله من مرتكزات الهوية العمانية
١	
٢	
٣	
٤	

ج) " قامت في عُمان حضارة قديمة، كان لها دور فاعل في التواصل مع الحضارات الأخرى " في ضوء العبارة السابقة، أجب عن الأسئلة الآتية:

١ - ما اسم هذه الحضارة؟

درجة

٢ - ما الحضارات التي وتواصلت معها هذه الحضارة؟

درجة

يتبع/١٤

أ) لتدقق المعارف والمعلومات الناتجة عن الثورة المعرفية على الهوية الوطنية آثار:

إيجابية

سلبية

ضع علامة (√) في المربع يمين الإجابة الصحيحة،  
فسر إجابتك.

درجتان

ب)

١. فرق بين سوق العمل المحكم وسوق العمل الراكد.

درجتان

٢. ما التحديات التي تواجه سوق العمل العالمي؟

درجة

—  
٥

"انتهت الأسئلة مع تمنياتنا للجميع بالتوفيق والنجاح"

محمد إسماعيل عبدالله البلوشي

معلم أول مادة تاريخ