

تم تحميل هذا الملف من موقع المناهج العُمانية



* للحصول على أوراق عمل لجميع الصفوف وجميع المواد اضغط هنا

<https://almanahj.com/om>

* للحصول على أوراق عمل لجميع مواد الصف الثاني عشر اضغط هنا

<https://almanahj.com/om/12>

* للحصول على جميع أوراق الصف الثاني عشر في مادة هذا وطني ولجميع الفصول, اضغط هنا

<https://almanahj.com/om/12country>

* للحصول على أوراق عمل لجميع مواد الصف الثاني عشر في مادة هذا وطني الخاصة بـ الفصل الأول اضغط هنا

<https://almanahj.com/om/12country1>

* لتحميل كتب جميع المواد في جميع الفصول للـ الصف الثاني عشر اضغط هنا

<https://almanahj.com/om/grade12>

* لتحميل جميع ملفات المدرس صالح حديد ثويني العلوي اضغط هنا

للتحدث إلى بوت على تلغرام: اضغط هنا

https://t.me/omcourse_bot

تجميع اختبارات للدرس الثاني والثالث الوحدة الثانية للفصل الدراسي الاول لمادة هذا وطني

عند بداية المذاكرة :

اللهم إني أسألك فهم النبيين وحفظ الملائكة المقربين
وأن تجعل لساني عامراً بذكرك وقلوبنا بخشيتك
وبدني بطاعتك فأنت حسبي ونعم الوكيل

٦- بلغ عدد مرات منح جائزة السلطان قابوس لحماية البيئة منذ إنشائها وحتى نهاية

عام ٢٠١١م:

موقع المناهج العمانية almanahj.com/om

٢٨ ○

٢٢ ○

١٦ ○

١١ ○

٩- العام الميلادي الذي يمثل أعلى نسبة عجز مائي في سلطنة عمان خلال الفترة من

١٩٩٠-٢٠٠٠م:

٢٠٠٠ ○

١٩٩٧ ○

١٩٩٤ ○

١٩٩٠ ○

١٠- المحافظة التي تقع فيها أكبر محطة تحلية مياه في سلطنة عمان:

جنوب الباطنة ○

مسندم ○

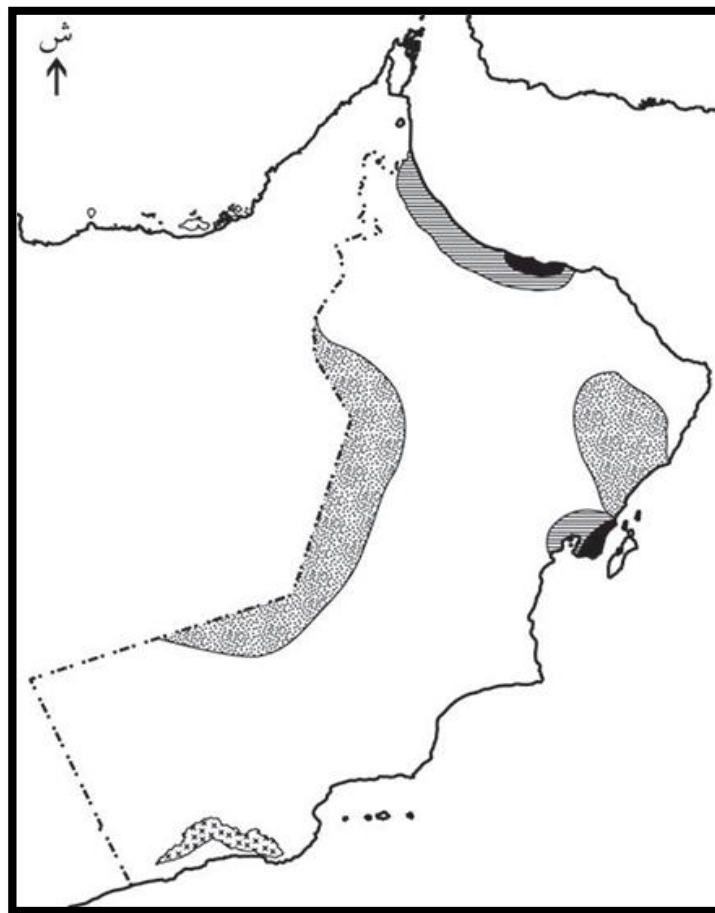
جنوب الشرقية ○

مسقط ○

تجميع اختبارات للدرس الثاني والثالث الوحدة الثانية للفصل الدراسي الاول لمادة هذا وطني

موقع المناهج العمانية almanahj.com/om

١٣ - أمامك خريطة توضح المشكلات البيئية في سلطنة عمان، اختر المفتاح المناسب لها:



تجميع اختبارات للدرس الثاني والثالث الوحدة الثانية للفصل الدراسي الاول لمادة هذا وطني
علل.

ب- قلة استفادة سلطنة عمان من كميات الأمطار الساقطة أثناء تشكّل العواصف المطرية.

• برهن صدق العبارة التالية :-

ب- بدأت سلطنة عمان مبكرا في وضع التشريعات في مجال البيئة البحرية.
موقع المناهج العمانية almanahj.com/om

٢ - "أنشئت جائزة السلطان قابوس لحماية البيئة بمبادرة السلطان قابوس لدى زيارته لمقر اليونسكو عام ١٩٨٩م". في ضوء هذه العبارة:

أ - ما شروط منح جائزة السلطان قابوس لحماية البيئة؟

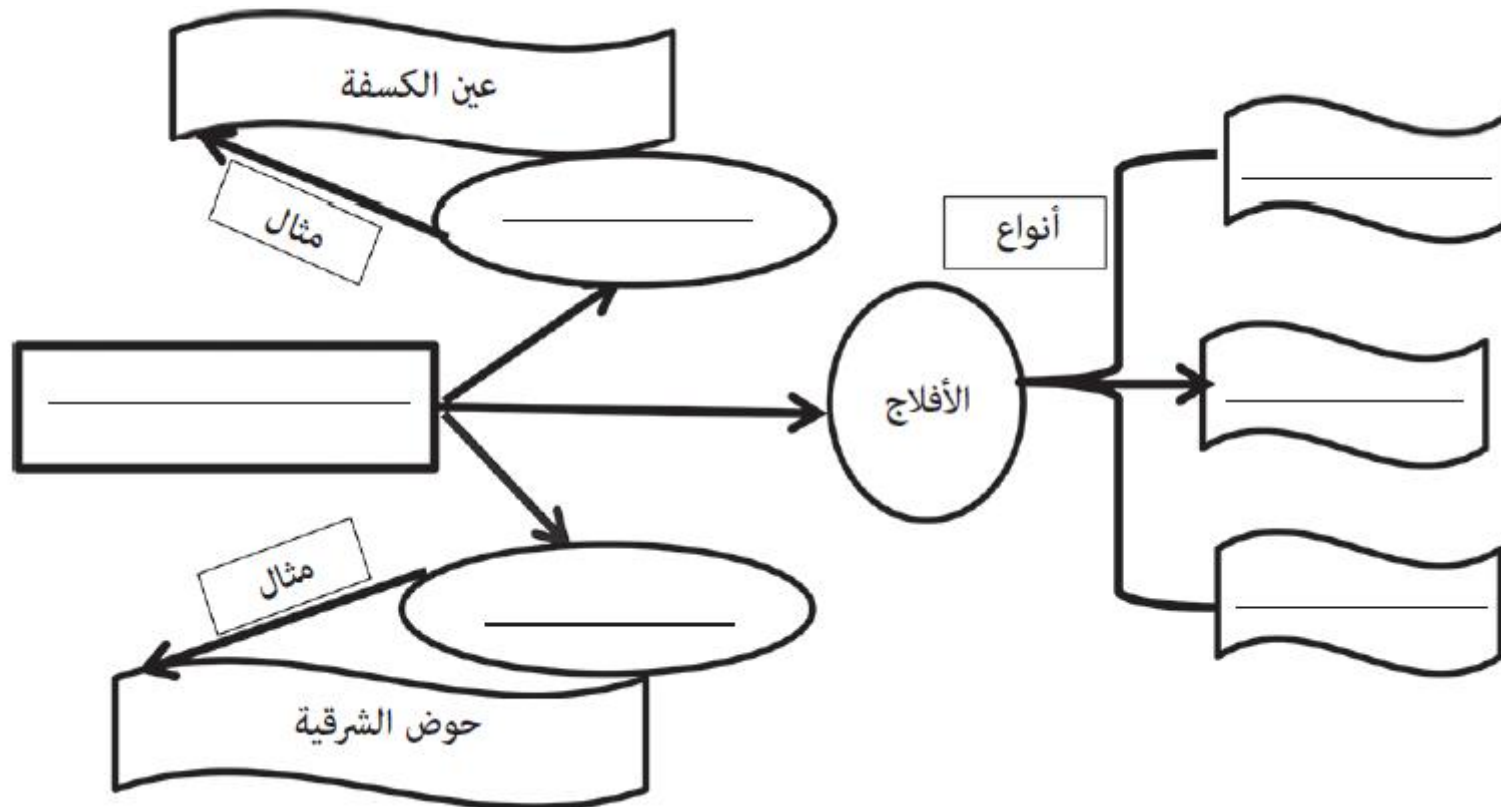
ب - مم تتكون جائزة السلطان قابوس لحماية البيئة؟

تجميع اختبارات للدرس الثاني والثالث الوحدة الثانية للفصل الدراسي الاول لمادة هذا وطني

١٩- المخطط الذي أمامك يمثل أحد الموارد المائية في سلطنة عمان. أكمله بكتابة الإجابة

الصحيحة :

موقع المناهج العُمانية almanahj.com/om



تجميع اختبارات للدرس الثاني والثالث الوحدة الثانية للفصل الدراسي الاول لمادة هذا وطني

٢٠ - ما الاسم المحلي الذي أطلقه العمانيون قديما على نظم إدارة الموارد المائية الآتية:

استخراج المياه من الآبار اليدوية المفتوحة.	_____
تمكين قنوات الأفلاج من عبور مجاري الأودية	موقع المناهج العمانية almanahj.com/om _____

٢١- وضح الأثر الذي ترتب على تنوع البيئات الحضرية في عمان.

٥- تصبح المخلفات الإشعاعية خطرة إذا تجاوز نشاطها الإشعاعي:

- ٧٠ بيكريل/جم ٨٠ بيكريل/جم ٩٠ بيكريل/جم ١٠٠ بيكريل/جم

تجميع اختبارات للدرس الثاني والثالث الوحدة الثانية للفصل الدراسي الاول لمادة هذا وطني

٢٢- تضمّ البيئة العمانية العديد من الحيتان والدلافين والنباتات والزواحف مما ساعد في تحقيق التنوع الإحيائي .

في ضوء العبارة السابقة أجب عن الأسئلة الآتية:

أ- ما المقصود بالتنوع الإحيائي؟

موقع المناهج العمانية almanahj.com/om

ب- رتب الأنواع الواردة في العبارة السابقة بدءًا بأكثرها وجودًا في البيئة العمانية.

تجميع اختبارات للدرس الثاني والثالث الوحدة الثانية للفصل الدراسي الاول لمادة هذا وطني

(٢) تُمنح جائزة السلطان قابوس لحماية البيئة كل:

- عام.
 ثلاثة أعوام.
 عامين.
 أربعة أعوام.

(٣) تظهر مشكلة تملُّح المياه الجوفية في عمان في جنوب ساحل الشرقية ومحافظة :

- الباطنة.
 مسندم.
 الداخلية.
 موقع المناهج العمانية almanahj.com/om
 الوسطى.

(٤) أول دولة عربية أسست مجلسا خاصا لحماية البيئة ومكافحة التلوث:

- سلطنة عمان.
 الإمارات العربية المتحدة.
 مملكة البحرين.
 دولة قطر.

(٣) تم منح جائزة السلطان قابوس لحماية البيئة عام ٢٠١٥م للمرة:

- الحادية عشر.
 الثانية عشر.
 الثالثة عشر.
 الرابعة عشر.

تجميع اختبارات للدرس الثاني والثالث الوحدة الثانية للفصل الدراسي الاول لمادة هذا وطني
(٩) تم افتتاح محطة تحلية مياه البحر بالغبرة في العام الميلادي:

١٩٧٦

١٩٧٥

١٩٨٦

١٩٨٥

(١٠) تعدد أنواع الكائنات وكثرتها وتباين أنواعها وبيئاتها يطلق عليه التنوع:

البيئي.

المناخي.

التضاريسي.

الأحيائي.

موقع المناهج العمالية almanahj.com/om

(١٢) المنظمة التي ترعى جائزة السلطان قابوس لحماية البيئة تعرف بـ :

الإليско.

اليونيسيف.

الفاو.

الونسكو.

(ب) أعطِ مثالين على:

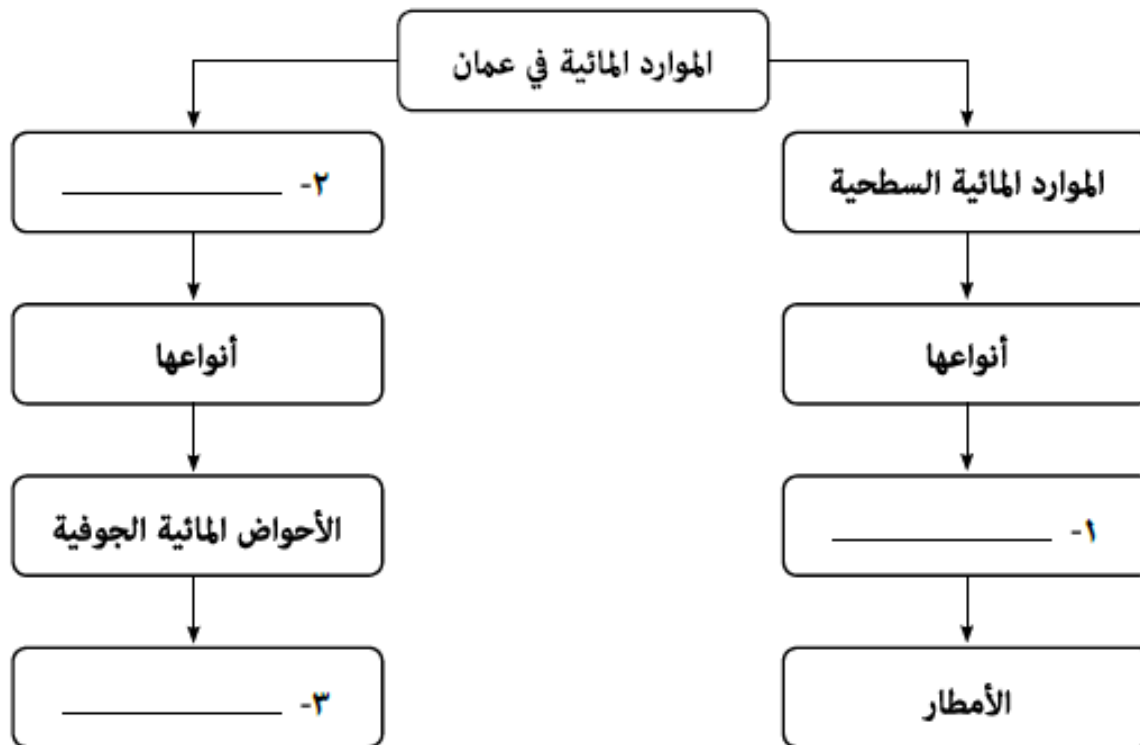
١ - اهتمام سلطنة عمان بمواردها المائية.

٢ - الفوائد الاقتصادية للتنوع الأحيائي.

تجميع اختبارات للدرس الثاني والثالث الوحدة الثانية للفصل الدراسي الأول لمادة هذا وطني

موقع المناهج العمانية almanahj.com/om

ج) أكمل المخطط مستعينا بالمعطيات الآتية:



تجميع اختبارات للدرس الثاني والثالث الوحدة الثانية للفصل الدراسي الأول لمادة هذا وطني

موقع المناهج العمانية almanahj.com/om

٤) أي المناخات الآتية تظهر بشكل واضح في سلطنة عُمان؟

استوائية		شبه جافة	
شبه موسمية	<input type="checkbox"/>	معتدلة	<input type="checkbox"/>
جافة		استوائية	
معتدلة		شبه موسمية	
جافة		معتدلة	
شبه جافة	<input type="checkbox"/>	شبه موسمية	<input type="checkbox"/>
موسمية		جافة	
استوائية		شبه جافة	

١١) جميع ما يأتي من أشكال المياه الجوفية في سلطنة عُمان عدا:

العيون المائية.

الآبار.

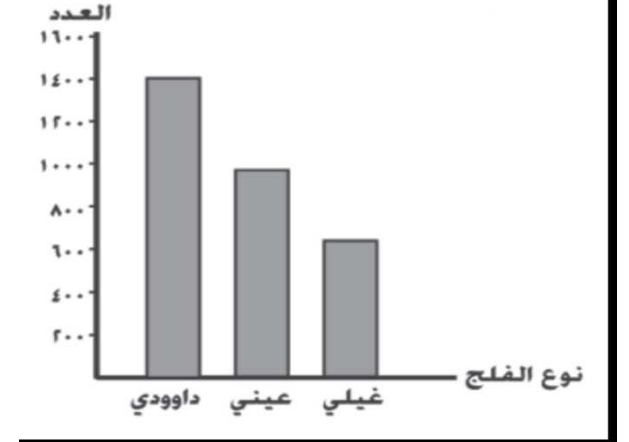
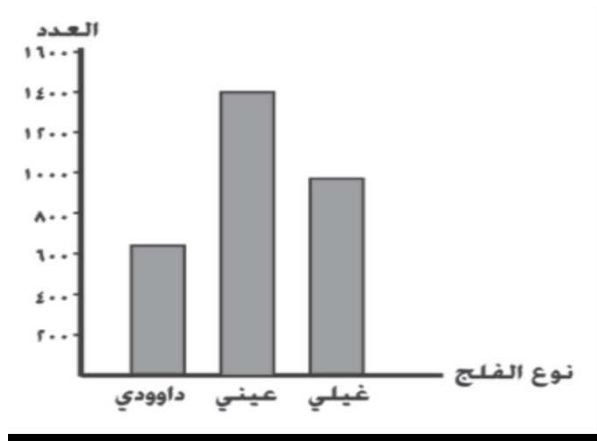
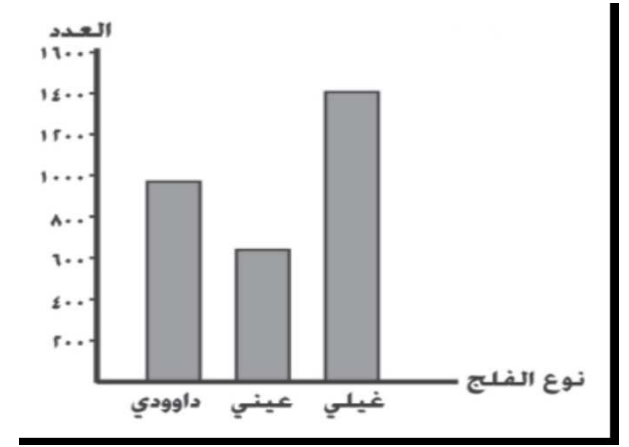
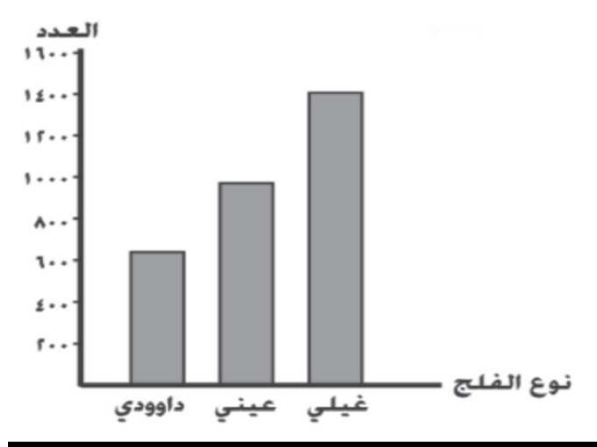
الغيول.

الأفلاج الداوودية.

تجميع اختبارات للدرس الثاني والثالث الوحدة الثانية للفصل الدراسي الاول لمادة هذا وطني

موقع المناهج العُمانية almanahj.com/om

٥) الرسم البياني الصحيح الذي يوضح عدد الأفلاج الحية في سلطنة عُمان:



تجميع اختبارات للدرس الثاني والثالث الوحدة الثانية للفصل الدراسي الاول لمادة هذا وطني

(٨) المدينة التي يوجد بها فائض في الموازنة المائية: موقع المناهج العُمانية almanahj.com/om

المدينة	الطلب على المياه بالمتراً ^٣	التغذية المائية بالمتراً ^٣
أ	٣٠١١	٢٥٣٦
ب	٢٥٣٦	٣٠١١
ج	٢٥٣٦	٢٥٣٦
د	٣٠١١	١١٠٣

(١٢) الدولة العربية التي أسست أول مجلس لحماية البيئة ومكافحة التلوث:

- مصر. عُمان.
 العراق. الكويت.

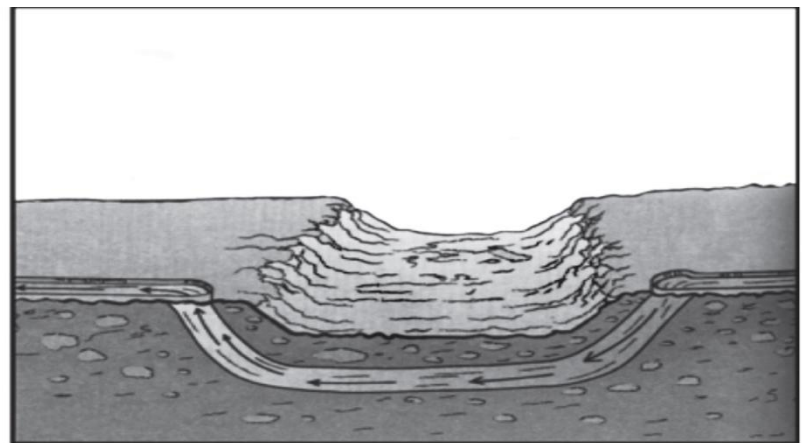
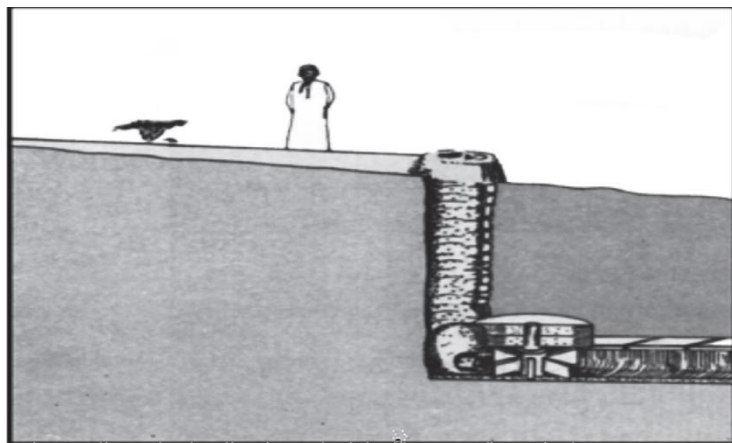
• سم المصطلح الدال على العبارة التالية :-

ب. نظام تقليدي قديم لاستخراج المياه من الآبار المفتوحة

بواسطة الحيوانات في سلطنة عُمان.

(ب) _____

تجميع اختبارات للدرس الثاني والثالث الوحدة الثانية للفصل الدراسي الاول لمادة هذا وطني



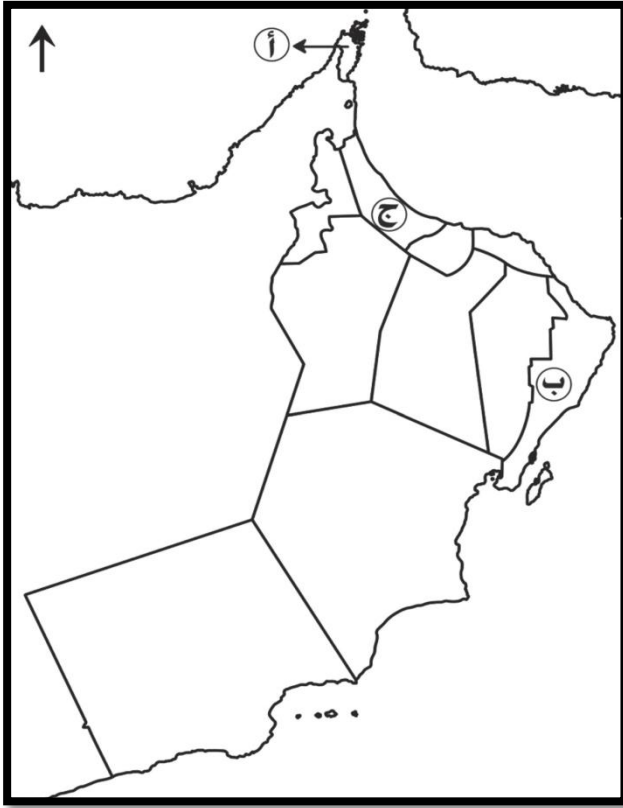
موقع المناهج العمانية almanahy.com/om

وجه المقارنة	الصورة ١	الصورة ٢
اسم الطريقة		
الهدف من الطريقة		

• بما تفسر

ب. تتميز سلطنة عُمان بتنوع البيئات الطبيعية؟

تجميع اختبارات للدرس الثاني والثالث الوحدة الثانية للفصل الدراسي الاول لمادة هذا وطني



أ. اكتب الرقم (١) على المحافظة التي لا يوجد بها أي نوع من أنواع الأفلاج.

موقع المناهج العمانية almanahj.com/om

ج. ارسم شكل \triangle في المحافظة التي تعاني من مشكلة تدهور المراعي.

د. تظهر مشكلة زحف الرمال في الموقع المشار إليه بالرمز:

ظلل الإجابة الصحيحة

أ. ب. ج.

تجميع اختبارات للدرس الثاني والثالث الوحدة الثانية للفصل الدراسي الاول لمادة هذا وطني

(٢٣) "إن الحفاظ على البيئة مسؤولية جماعية لا تحدها الحدود السياسية للدول. ثبت ذلك غير مرّة، وعليه فإن الإنسان، أينما كان، عليه أن يساهم في الحفاظ على البيئة، وأن يتصالح معها، وأن يتعامل معها بعقلانية، وأن ينتبه للمسببات الكثيرة للتلوث، سواء كانت طبيعية أو بيولوجية، أو صناعية و كيميائية و فيزيائية. وعلى كثير من الشعوب أن تحد من التكاثر العشوائي، وتحافظ على ما تبقى لها من مراعي ومياه، بعيداً عن مؤثرات التصحر والجفاف..."

موقع المناهج العُمانية almanahj.com/om من خطاب جلالة السلطان قابوس المعظم حفظه الله ورعاه
في قمة الأرض، عام ١٩٩٢م

في ضوء الخطاب السامي أجب عن الأسئلة الآتية:

أ. سمّ المؤتمر الذي وجه جلالته هذا الخطاب إليه.

ب. استخرج اثنين من مجالات الاستراتيجية الوطنية لحماية البيئة العمانية الواردة في خطاب جلالته.

ج. اعط مثالاً واحداً على مشكلة بيئية وردت في خطاب جلالته.

تجميع اختبارات للدرس الثاني والثالث الوحدة الثانية للفصل الدراسي الاول لمادة هذا وطني

(٢٨) أمامك صورتان تمثلان نماذج من البيئات العمانية. ادرسهما جيداً ثم أجب عن الأسئلة التي تليهما:



(٢)



(١)

موقع المناهج العمانية almanahj.com/om

أ. اتفاقية ماربول ١٩٧٣م ترتبط ارتباطاً وثيقاً بالبيئة التي تمثلها الصورة:

ظلل الإجابة الصحيحة

(٢).

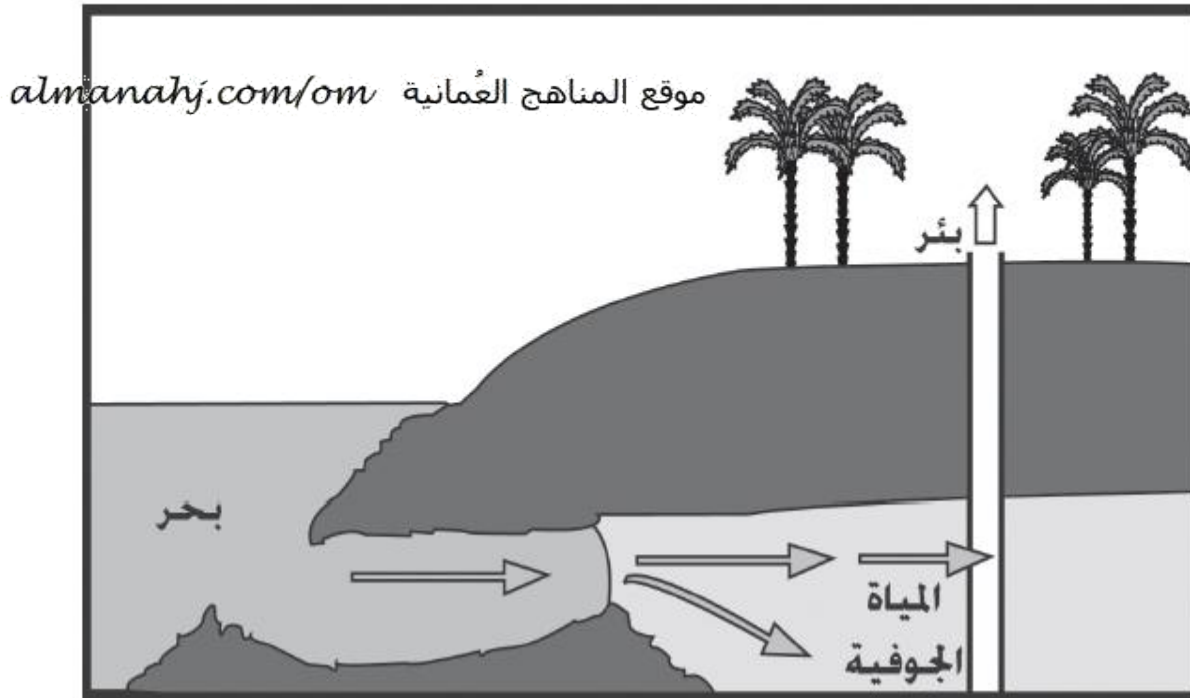
(١).

ب. فسر إجابتك:

٨) الوزارة التي تمثل البناء المؤسسي الحالي للعمل البيئي في السلطنة:

- البيئة وموارد المياه. البلديات الإقليمية والبيئة وموارد المياه.
- البيئة والشؤون المناخية البلديات الإقليمية والبيئة.

٩) المحافظة التي تتركز فيها المشكلة البيئية الموضحة في الصورة التي أمامك:



١٠ المصدر المائي الذي يعتمد عليه العمانيون لري مزروعاتهم في المنطقة التي توضحها الصورة التي أمامك:



الينابيع. الغيول.

الآبار. الأودية.

١١ أول محطة لتحلية مياه البحر في السلطنة:

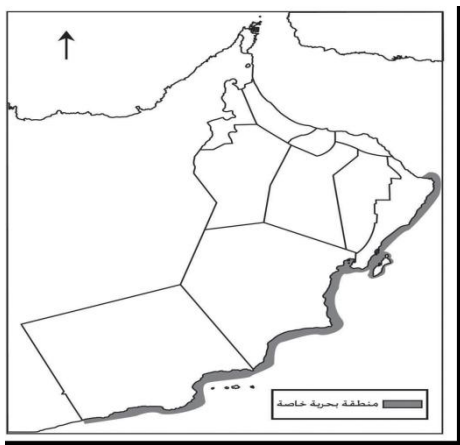
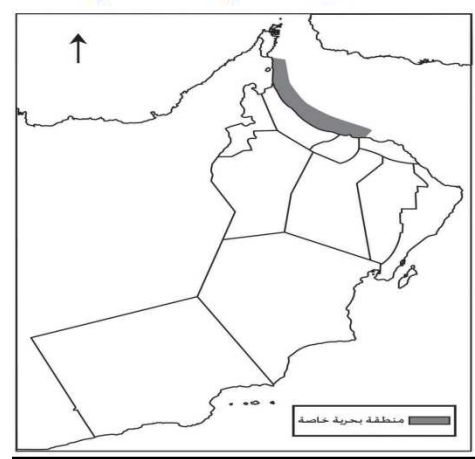
صحار. بركاء.

الغبرة. الدقم.

ب. أسباب إنشاء محطات الصرف الصحي في السلطنة.

تجميع اختبارات للدرس الثاني والثالث الوحدة الثانية للفصل الدراسي الاول لمادة هذا وطني

١٣) الخريطة التي تبين المنطقة البحرية الخاصة في السلطنة حسب تصنيف المنظمة البحرية الدولية عام ٢٠٠٢م :



٢٠١٦م-٢٠١٧م

مدرسة السلطان قابوس للتعليم ما بعد الاساسي

أ. صالح حديد العلوي عالم من الابداع

تجميع اختبارات للدرس الثاني والثالث الوحدة الثانية للفصل الدراسي الاول لمادة هذا وطني

١٨) الصور الآتية تعبر عن بعض البيئات الطبيعية في السلطنة ادرسها ثم أجب عن الاسئلة التالية :



موقع المناخ العمانيه almanahy.com/om



أ. هل يوجد تنوع احيائي في البيئة التي تمثلها الصورة المشار إليها بالرقم (١)؟

(ظلل الإجابة الصحيحة)

نعم لا

- فسر إجابتك.

ب. اقترح مجالاً استثمارياً للشباب في البيئة المشار إليها بالرقم (٢).


خالق من الابداع أ. صالح حديد العلوي مدرسة السلطان قابوس للتعليم ما بعد الاساسي ٢٠١٦م-٢٠١٧م

تجميع اختبارات للدرس الثاني والثالث الوحدة الثانية للفصل الدراسي الاول لمادة هذا وطني

١٩) يرغب أحد المواطنين في السلطنة بإقامة مصنع إنتاج مواد تنظيف كيميائية في المنطقة التي

أمامك. بالإستعانة بالشكل أجب عما يلي:

موقع المناهج العُمانية almanahj.com/om



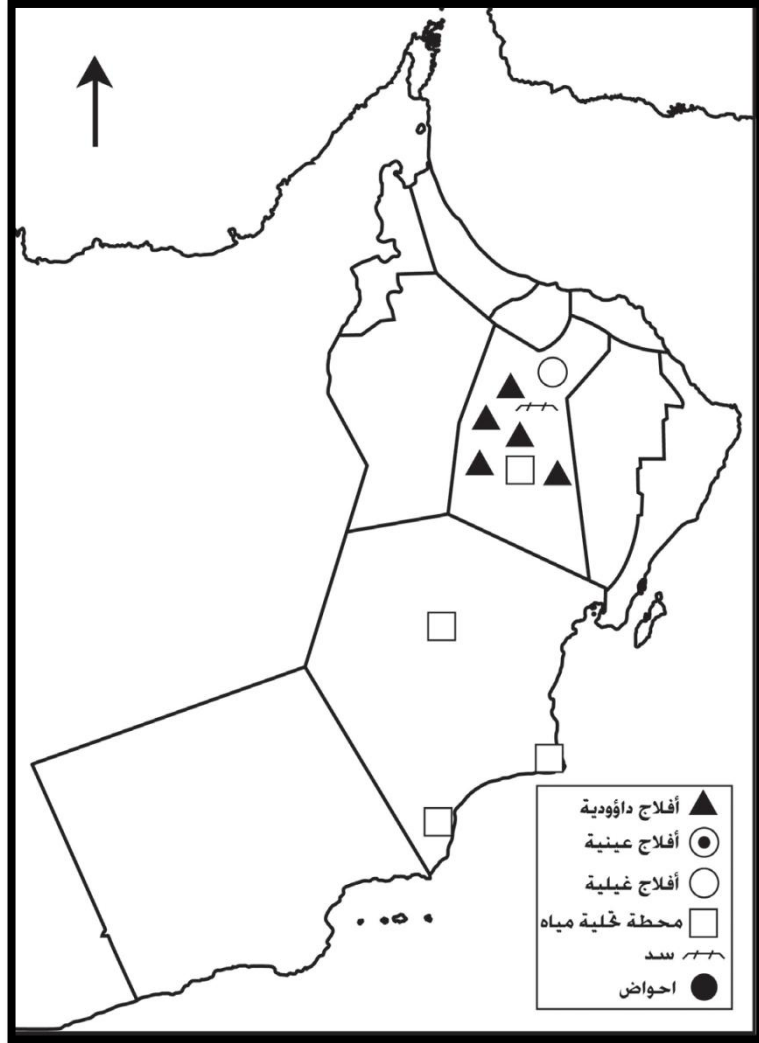
أ. ما الإجراء الإداري البيئي الذي سيقوم به المواطن قبل إقامة المشروع في المنطقة (أ) ؟

ب أين يجب معالجة المخلفات الكيميائية للمصنع ؟

الموقع (أ) الموقع (ب) (ظلل الإجابة الصحيحة)

- ولماذا ؟

تجميع اختبارات للدرس الثاني والثالث الوحدة الثانية للفصل الدراسي الاول لمادة هذا وطني



أ. ارسم الرمز الدال على نوع الأفلاج الموجودة بمحافظة ظفار على الخريطة.

موقع المناهج العُمانية almanahj.com/om

ب. وقع حوض المسرات في موقعه الصحيح على الخريطة باستخدام الرمز الآتي (●)

استخرج من الخريطة الوضع الحالي لإدارة المياه في المحافظات التالية

المحافظة	الوضع الحالي لإدارة المياه
الوسطى	
الداخلية	

تجميع اختبارات للدرس الثاني والثالث الوحدة الثانية للفصل الدراسي الاول لمادة هذا وطني

٢٢) ادرس جدول تقديرات الوضع المائي في السلطنة ثم أجب عن الأسئلة التالية :

السنة	التغذية المائية بالمتر مكعب	الطلب على المياه بالمتر مكعب
٢٠٠٠م	١١٠٤	١٤٣٥
٢٠٢٠م	١١٠٤	١٧١٠

أ. احسب كمية العجز المائي للسلطنة المتوقعة عام ٢٠٢٠م.

موقع المناهج العُمانية almanahj.com/om

ب. استنتج اثنتين من التنبؤات المستقبلية لوضع المياه في السلطنة عام ٢٠٢٠م.

تجميع اختبارات للدرس الثاني والثالث الوحدة الثانية للفصل الدراسي الاول لمادة هذا وطني

أ. علل تمثل إدارة المناطق الساحلية وحماية البيئة البحرية أهمية كبيرة بالنسبة للسلطنة.

موقع المناهج العمانية almanahj.com/om

نسأل الله أن يجعلنا من الفالحين الناجحين في الدنيا
والفائزين الناجحين في الآخرة إنه سميع مجيب