

شكراً لتحميلك هذا الملف من موقع المناهج العمانية



مراجعة درس سوق العمل توجه عالمي واهتمام وطني من الوحدة الثالثة

[موقع المناهج](#) ← [المناهج العمانية](#) ← [الصف الثاني عشر](#) ← [هذا وطني](#) ← [الفصل الثاني](#) ← [الملف](#)

التواصل الاجتماعي بحسب الصف الثاني عشر



روابط مواد الصف الثاني عشر على تلغرام

[الرياضيات](#)

[اللغة الانجليزية](#)

[اللغة العربية](#)

[التربية الاسلامية](#)

المزيد من الملفات بحسب الصف الثاني عشر والمادة هذا وطني في الفصل الثاني

[اختبارات تدريبية للامتحانات النهائية والقصيرة](#)

1

[دفتر الطالب مع اختبارات قصيرة ونهائية للمنهج](#)

2

[أسئلة اختبارات قصيرة ونهائية للوحدة الرابعة مع الإجابة](#)

3

[أسئلة اختبارات قصيرة ونهائية للوحدة الثالثة مع الإجابة](#)

4

[اختبار قصير ثاني](#)

5

هذا وطني في العراق والمجد (الصف الثاني عشر )  
الوحدة الثالثة / سوق العمل العماني ... استثمار وتوجهات

تم تحميل هذا الملف من  
موقع المناهج العمانية  
سوق العمل توجه عالمي واهتمام وطني



إعداد الاستاذة: وفاء بنت عوض العلوية

# الدرس الأول : سوق العمل توجه عالمي واهتمام وطني

السؤال الأول : اختر الاجابة الصحيحة من بين البدائل المعطاة :

- ١- المصطلح الذي يعبر عن زيادة عدد الوظائف المتاحة عن عدد الباحثين عن عمل سوق العمل /  
أ- المحكم      ب- الراكد      ج- الثابت      د- المتذبذب
- ٢- تزيد عدد الوظائف في بلد ما عن ٥٠٠ الف وظيفه بينما بلغ عدد الباحثين عن عمل فيها حوالي ٣٥٠ الف باحث عن عمل فسوق العمل في هذا البلد /  
أ- راكد      ب- متغير      ج- محكم      د- ثابت
- ٣- الرمز الذي يعبر عن الصناعات التحويلية /

أ-      ب-      ج-      د-



٤- القطاع الذي يشير اليه الرمز الواضح في الصورة /



أ- السياحة      ب- الثروة السمكية      ج- التعدين      د- الخدمات اللوجستية

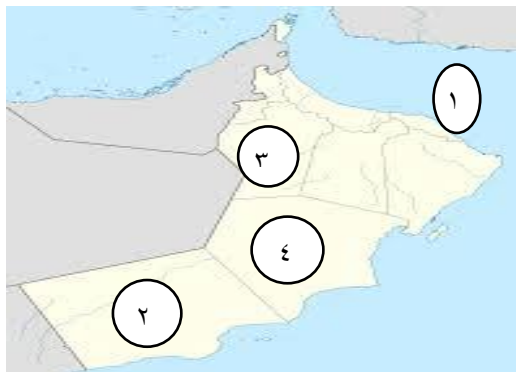
٥- المشروع الاقتصادي الذي يصنف ضمن قطاع السياحة /

أ- مدينة خزائن      ب- مدينة العرفان      ج- الرسيل      د- المزيونة

٦- القطاع الذي يدرج فيه مشروع صلالة ميثانول للأمم المتحدة

أ- الصناعات التحويلية      ب- الخدمات اللوجستية      ج- السياحة      د- التعدين

٧- الرقم الذي يشير إلى المحافظة التي يوجد بها مدينة العرفان /



أ- ( ١ )      ب- ( ٢ )

ج- ( ٣ )      د- ( ٤ )



٨- المشروع الذي يقع ضمن القطاع الذي يمثله الرمز /

أ- مصفاة الدقم ب- طريق الباطنة السريع

ج- شركة مزون للألبان د- نماء للدواجن

٩- التحديات التي واجهت سوق العمل العالمي /

أ- ارتفاع أعداد الباحثين عن عمل

ج- انخفاض الباحثين عن عمل

د- زيادة نسبة العاملين من صغار السن

ب- انتشار التجارة الإلكترونية

١٠- يوجد مشروع شركة مزون للألبان في ولاية /

أ- محضة ب- المزيونة ج- لوى د- السنينة

١١- المخطط الصحيح للقطاعات الاستثمارية والمشاريع التي تمثلها /

أ- ب- ج- د-

المشروع	القطاع
مدينة عرفان	السياحة
مدينة خزائن	الخدمات اللوجستية
تعددين النحاس	التعددين


المشروع	القطاع
مدينة خزائن	السياحة
طريق بدبد - صور	الخدمات اللوجستية
مصفاة الدقم	التعددين

د-

ج-

المشروع	القطاع
مدينة العرفان	السياحة
نماء للدواجن	الخدمات اللوجستية
مصفاة الدقم	التعددين

المشروع	القطاع
مطار مسقط	السياحة
طريق الباطنة السريع	الخدمات اللوجستية
ميثانول لأمونيا	التعددين



١٢- المصطلح الذي تعبر عنه الصورة /

أ- البنية السكانية ب- الكثافة السكانية

ج- سوق العمل د- القوى العاملة

١٣- العوامل المؤثرة على سوق العمل اقتصاديا /

أ- المسافة بين مكان الإقامة ومكان العمل

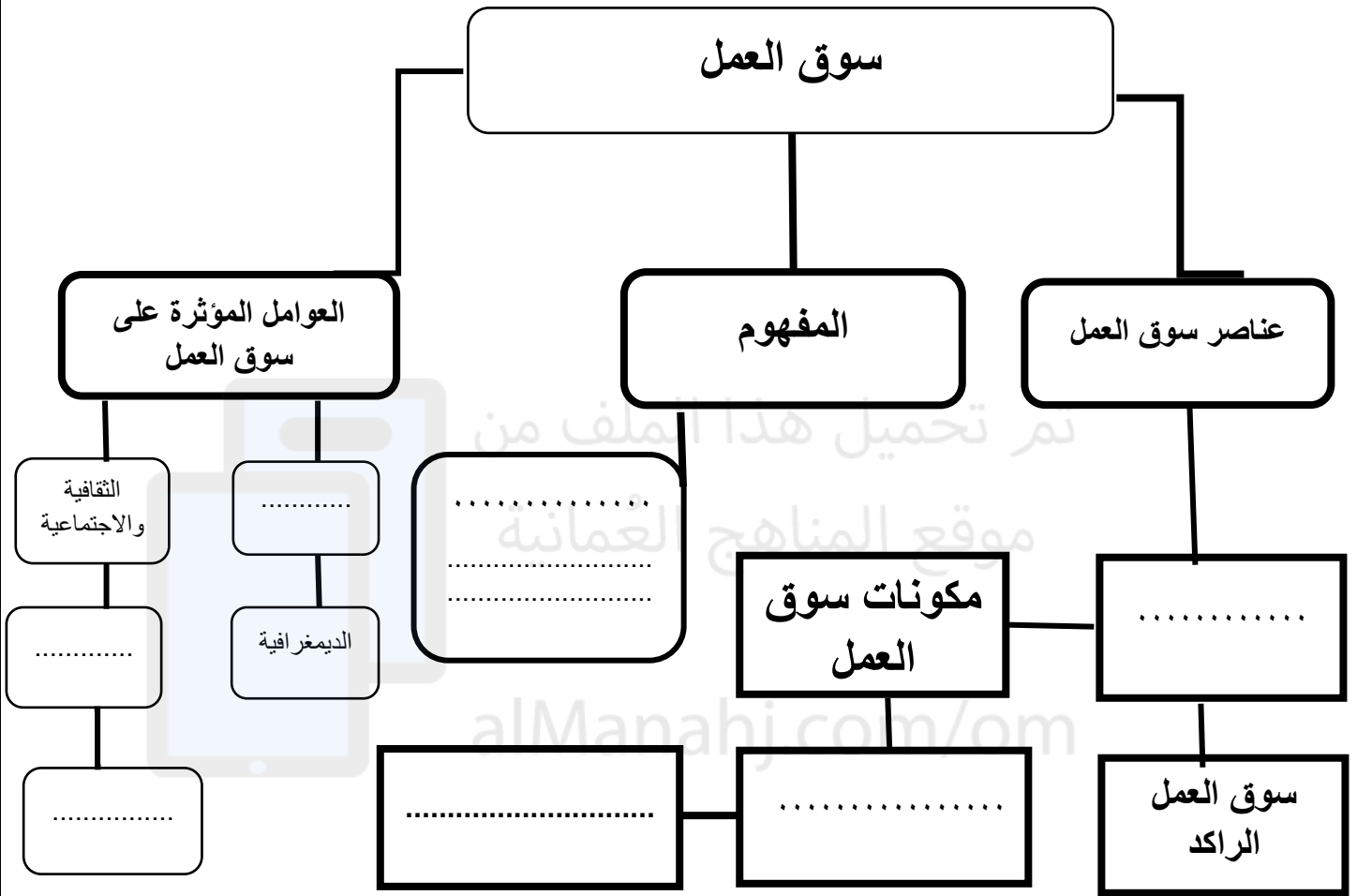
ج- الخصائص السكانية

ب- المستوى التعليمي والتكنولوجي

د- الأزمات المالية

\*\* اجب عن الأسئلة التالية :

١- أكمل المخطط التالي :



٢- صنف العوامل المؤثرة على سوق العمل كلا حسب مجاله في الجدول التالي /

المسافة بين مكان العمل الدائم ومكان العمل - العادات والتقاليد ومشاركة المرأة - التطورات الاقتصادية - تشريعات وقوانين العمل  
الأزمات الاقتصادية - الخصائص السكانية - المستوى التعليمي والتكنولوجي

العوامل	
الجغرافية	
السكانية	
الاقتصادية	
السياسية والقانونية	
الثقافية والاجتماعية	

٣- اذكر النتائج التي تترتب على التطور العلمي والتكنولوجي في مجال سوق العمل؟

٤- ما التحديات التي تواجه سوق العمل العالمي؟

٥- برهن على الاتي /

أ-اهتمام السلطنة بسوق العمل العماني؟

ب-اهتمام السلطنة بالقطاع الخاص؟

٥- وضح أهمية تنوع القطاعات الاقتصادية في سلطنة عمان؟

٦-كيف واجهت سلطنة عمان التغيرات والتطورات التي طرأت على الاقتصاد العالمي؟

٧-أعط أمثلة على المبادرات والإجراءات التي قامت بها السلطنة من أجل تطوير سوق العمل العماني؟

٨- أ- ادرس الخريطة التالية ثم أجب عما يليها من أسئلة /

١- المحافظة التي يوجد بها مشروع تعدين النحاس ؟


٢- القطاع الاستثماري الذي يمثل المشاريع المنفذة في محافظة مسندم .....

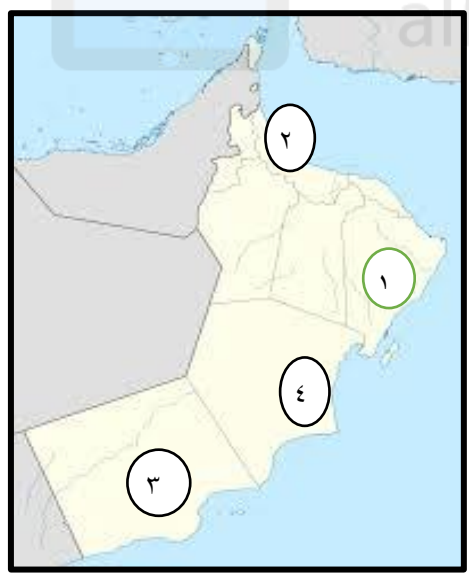
٣- اكتب ثلاثة مشاريع اقتصادية منفذة في محافظة مسقط .....

٤- اسم المشروع الاقتصادي المنفذ في محافظة الظاهرة ؟

٥- كم عدد مشاريع الخدمات اللوجستية المنفذة في السلطنة كما توضحها الخريطة ؟

٦- المشروع الذي يدرج ضمن قطاع السياحة ؟

٧- (  ) الرمز يشير الى قطاع .....



ب- ادرس الخريطة التالية ثم اجيب عما يليها من أسئلة /


١- الرقم الذي يشير إلى موقع مشروع مصفاة الدقم ؟

٢- ظلل على الخريطة المحافظة التي تقع بها مدينة العرفان ؟

٣- المحافظة التي يوجد بها مشروع شركة مزون للألبان؟

٤- مشروع الصناعات التحويلية الذي يوجد في المحافظة رقم (٢) ؟

وسع مداركك وتذكر أن العقل هو الشيء الوحيد الذي كلما أفرغت فيه اتسع



تم تحميل هذا الملف من  
موقع المناهج العُمانية

[alManahj.com/om](http://alManahj.com/om)