

## شكراً لتحميلك هذا الملف من موقع المناهج العمانية



## اختبارات قصيرة أولى

[موقع المناهج](#) ← [المناهج العمانية](#) ← [الصف الثاني عشر](#) ← [جغرافيا](#) ← [الفصل الأول](#) ← [الملف](#)

تاريخ نشر الملف على موقع المناهج: 2023-10-22 05:50:37

## التواصل الاجتماعي بحسب الصف الثاني عشر



## روابط مواد الصف الثاني عشر على تلغرام

[الرياضيات](#)

[اللغة الانجليزية](#)

[اللغة العربية](#)

[التربية الاسلامية](#)

## المزيد من الملفات بحسب الصف الثاني عشر والمادة جغرافيا في الفصل الأول

[أنشطة وأوراق عمل درس نظام تحديد المواقع العالمي GPS](#)

1

[ورقة عمل في درس علم الخرائط](#)

2

[ورقة عمل في درس كيف استفاد الأوربيون من الفكر الإسلامي](#)

3

[ورقة عمل في درس العوامل التي ساهمت في تطور علم الجغرافيا](#)

4

[أوراق عمل اكمال الجدول بالمعلومات وفق الصورة التوضيحية نموذج ثاني](#)

5



## الاختبار القصير الأول للصف الثاني عشر في مادة الجغرافيا والتقنيات الحديثة الفصل الدراسي الأول للعام

اسم الطالب: ..... الصف: 12 /

3

السؤال الأول: ظلل الدائرة الدالة على الإجابة الصحيحة من بين البدائل المعطاة: (3 درجات)

(1) عند تمثيل ظاهرة جغرافية مثل (طريق) نستخدم الرموز ....

النقطية  الخطية  النقطية والخطية  المساحية 

(2) المقياس النسبي للمقياس الكتابي 1 سنتيمتر لكل 60 كيلومتر هو:

6000:1  60000:1  600000:1  6000000:1 

(3) تميزت خرائطهم بالدقة واشتملت على قارات العالم وأقطاره المعروفة آنذاك هم:

قدماء المصريين  الإغريق  الرومان  البابليون 

السؤال الثاني: أجب عن الأسئلة التالية:

(1) عدد اثنين من أهمية الخريطة.

(درجة واحدة)

(2) علل: اهتمام الرومان بعلم الجغرافيا؟ (درجة واحدة)

(3) صنف الخرائط التالية حسب التصنيف الصحيح الخاص بمحتوى أو موضوع الخريطة:- (درجتان)

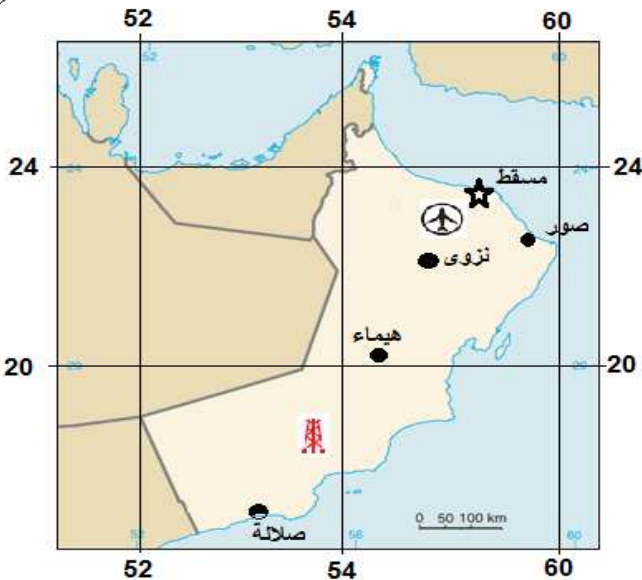
[الخرائط الاقتصادية - الخرائط المناخية - الخرائط الإدارية - خرائط السطح]

الطبيعية	البشرية	نوع الخريطة
-	-	-
-	-	-
-	-	-

3

السؤال الثالث: ادرس الخريطة التالية ثم أجب عن الأسئلة:-

1. ارسم مفتاح (دليل) للخريطة:- درجتان

2- ما المدينة الأقرب لهذه الإحداثيات:-  
{ 20° N }  
{ 56° E }

.....



سلطنة عمان

وزارة التربية والتعليم

المديرية العامة للتربية والتعليم بمحافظة الداخلية

مدرسة أبو عبيدة للتعليم الأساسي (10-12)

الاختبار القصير الأول للصف الثاني عشر في مادة الجغرافيا والتقنيات الحديثة الفصل الدراسي الأول للعام

اسم الطالب: ..... الصف: 12 /

3

(3 درجات)

السؤال الأول: ظلل الدائرة الدالة على الإجابة الصحيحة من بين البدائل المعطاة:

(1) عند تمثيل ظاهرة جغرافية مثل (مطار) نستخدم الرموز ....

المساحية

النقطية والخطية

الخطية

النقطية

(2) أول من استخدم مصطلح (Geography) هو :

كريستوفر كولمبس

مركبتور

ايراتوستينس

بطليموس

(3) المقياس الكتابي للمقياس النسبي 1:40000 هو :

1 سنتيمتر لكل 40

1 سنتيمتر لكل 40 متر

1 سنتيمتر لكل 400 متر

1 سنتيمتر لكل 4 كيلومتر

كيلومتر

4

السؤال الثاني: أجب عن الأسئلة التالية :

(1) عرف الجغرافيا؟

(2) "أسهم العمانيون في تطوير علم الخرائط من أمثال شهاب الدين احمد بن ماجد" دلل على هذه العبارة (درجة واحدة)

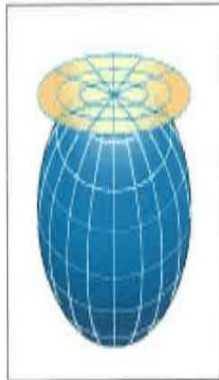
(3) صنف الخرائط التالية حسب التصنيف الصحيح الخاص بمقياس الرسم :- اكتب الصحيحة فقط في الجدول (درجتان)

[خرائط استخدامات الأرض - الخرائط الجيولوجية - خرائط العالم - خرائط مخططات المدن - خرائط القارات - الخرائط الكنتورية ]

خرائط ذات مقياس رسم كبير	خرائط ذات مقياس رسم صغير	نوع الخريطة
-	-	-
-	-	-

3

(3 درجات)

السؤال الثالث: انظر الى الاشكال التالية (أنواع المسقط) ثم اجب عن التالي :

(1) رقم المسقط الخرائطي الذي يستخدم

لرسم الدول والمناطق الاستوائية هو .....

(2) عندما نريد رسم خرائط نصف الكرة الأرضية فان

المسقط الخرائطي المناسب هو المشار الية بالرقم.....

(3) رقم المسقط الخرائطي المستخدم لرسم خرائط الدول ذات المساحات

الواسعة والواقعة في العروض المتوسطة هو .....

3

2

1



## الاختبار القصير الأول للصف الثاني عشر في مادة الجغرافيا والتقنيات الحديثة الفصل الدراسي الأول للعام

اسم الطالب: ..... الصف: 12 /

3

(3 درجات)

السؤال الأول: ظلل الدائرة الدالة على الإجابة الصحيحة من بين البدائل المعطاة:

(1) تصنف خرائط مخططات المدن حسب التصنيف الخاص بمقياس الرسم الى خرائط :

تخطيطية

مليونيه

طبوغرافية

تفصيلية

(2) من أهم المصادر في دراسة علم الجغرافيا عند الرومان تلك التي تناسب الى:

كريستوفر كولمبس

مركيتور

ايراتوستينس

بطليموس

(3) المقياس النسبي للمقياس الكتابي 1 سنتيمتر لكل 600 متر هو :

60:1

600:1

6000:1

60000:1

السؤال الثاني: أجب عن الأسئلة التالية:

4

(1) كيف أسهمت العبادات مثل [الصلاة - الحج] في تطور علمي الجغرافيا والخرائط عند المسلمين؟ (درجة واحدة)

(2) علل : اختلاف الجغرافيون في تعريف علم الجغرافيا ؟ (درجة واحدة)

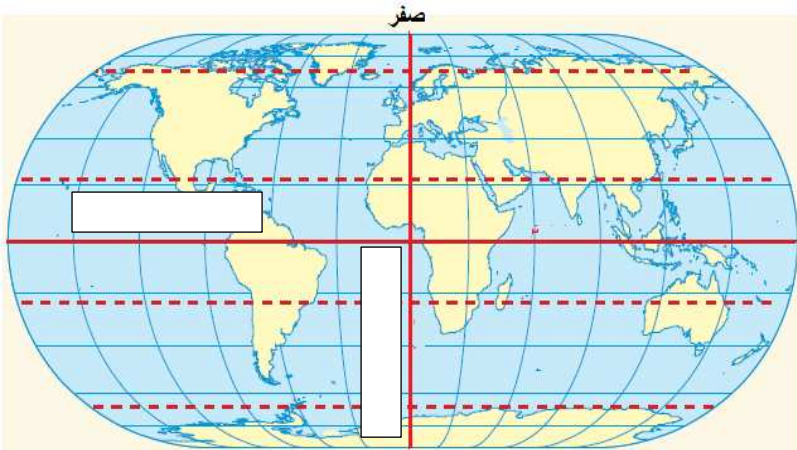
(3) صنف في الجدول الظواهر الجغرافية الصحيح فقط حسب نوع الرموز المستخدمة في تمثيلها :- (درجتان)

[مدينة - بحيرة - بئر - طريقة معبد - كثبان رملية - حدود سياسية]

الرموز المساحية	الرموز النقطية
-	-
-	-

3

السؤال الثالث: انظر الى الخريطة التي توضح الإحداثيات الجغرافية ثم قارن بين خطوط الطول ودوائر العرض حسب الجدول التالي :



امتدادها (اتجاهها)	عددتها	
		دوائر العرض
		خطوط الطول
وقع (اكتب) على الخريطة اسم دائرة العرض وخط الطول الرئيسي		



سلطنة عمان

وزارة التربية والتعليم

المديرية العامة للتربية والتعليم بمحافظة الداخلية

مدرسة أبو عبيدة للتعليم الأساسي (10-12)

الاختبار القصير الأول للصف الثاني عشر في مادة الجغرافيا والتقنيات الحديثة الفصل الدراسي الأول للعام

اسم الطالب: ..... الصف: 12 /

3

(3 درجات)

السؤال الأول: ظلل الدائرة الدالة على الإجابة الصحيحة من بين البدائل المعطاة:

(1) تصنف الخرائط الكنتورية حسب التصنيف الخاص بمقياس الرسم الى خرائط:

تفصيلية  طبوغرافية  مليونية  تخطيطية 

(2) يُعدُّ البابليون من أوائل الشعوب الذين قاموا برسم خرائط تفصيلية لسهل العراق خلال الألف ...

الأول ق.م  الثاني ق.م  الثالث ق.م  الرابع ق.م 

(3) هو الذي بين محتوى واسم المنطقة التي تظهر على الخريطة ...

مقياس الرسم  إشارة الشمال  عنوان الخريطة  مفتاح الخريطة 

السؤال الثاني: أجب عن الأسئلة التالية:

4

(درجة واحدة)

(1) علل : اهتمام الرومان بعلم الجغرافيا.

(درجة واحدة)

(2) دلل: تعد الكشوف الجغرافية مرحلة جديدة في تاريخ علم الخرائط.

(درجتان)

(2) صنف في الجدول الظواهر الجغرافية الصحيح فقط حسب نوع الرموز المستخدمة في تمثيلها :-

[مدينة - بحيرة - بئر - طريقة معبّد - كثبان رملية - حدود سياسية]

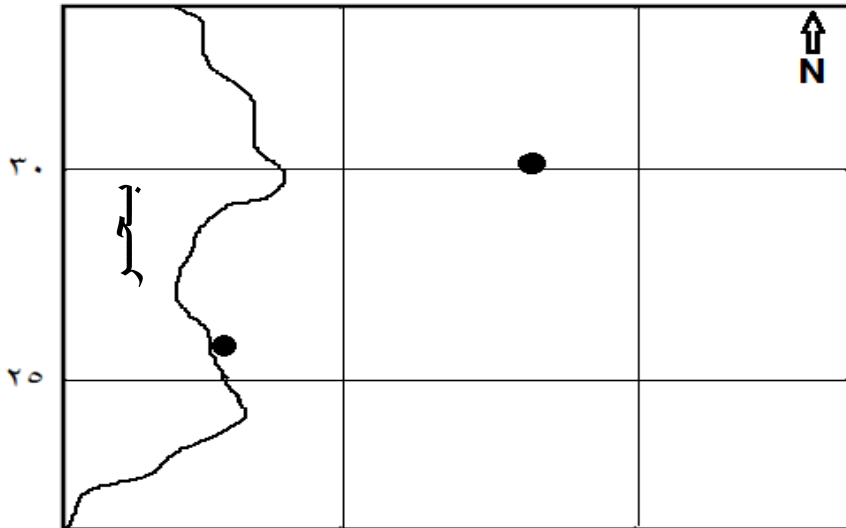
الرموز المساحية	الرموز النقطية
-	-
-	-

3

السؤال الثالث: انظر الى الخريطة التي توضح بعض الظواهر الجغرافية ثم وقع (اكتب) عليها بالطريقة الصحيحة ما يلي :

١٤٠

١٤٥



(1) كلمة (مدينة) بجانب الرموز الدالة عليها. (درجتين)

(2) ارسم مقياس خطي داخل الخريطة للمقياس النسبي

(300000:1) (درجة واحدة)