

تجميع أسئلة اختبارات نهائية لدرس سوق العمل



تم تحميل هذا الملف من موقع المناهج العمانية

موقع فايلاتي ← المناهج العمانية ← الصف الثاني عشر ← هذا وطني ← الفصل الثاني ← ملفات متنوعة ← الملف

تاريخ إضافة الملف على موقع المناهج: 01:09:38 2025-04-11

ملفات اكتب للمعلم اكتب للطالب الاختبارات الكترونية الاختبارات ا حلول ا عروض بوربوينت ا أوراق عمل
منهج انجليزي ا ملخصات وتقارير ا مذكرات وبنوك ا الامتحان النهائي للمدرس

المزيد من مادة
هذا وطني:

إعداد: لطيفة الكعبية

التواصل الاجتماعي بحسب الصف الثاني عشر



صفحة المناهج
العمانية على
فيسبوك

الرياضيات

اللغة الانجليزية

اللغة العربية

التربية الاسلامية

المواد على تلغرام

المزيد من الملفات بحسب الصف الثاني عشر والمادة هذا وطني في الفصل الثاني

عشر نماذج اختبارات قصيرة أولى مع نماذج الإجابة

1

نماذج أسئلة قصيرة حول درس سوق العمل

2

سؤال قصير حول درس الاقتصاد القائم على المعرفة نموذج ثاني

3

سؤال قصير حول درس الاقتصاد القائم على المعرفة نموذج أول

4

سؤال قصير حول درس المؤسسات الصغيرة والمتوسطة نموذج ثاني

5

تجميع أسئلة إختبارات نهائية لدرس سوق العمل / أ.لطيفة الكعبية ، مدرسة زينب بنت خزيمة ٢٠٢٥

١) العام الميلادي الذي تأسست فيه وزارة العمل في سلطنة عُمان:

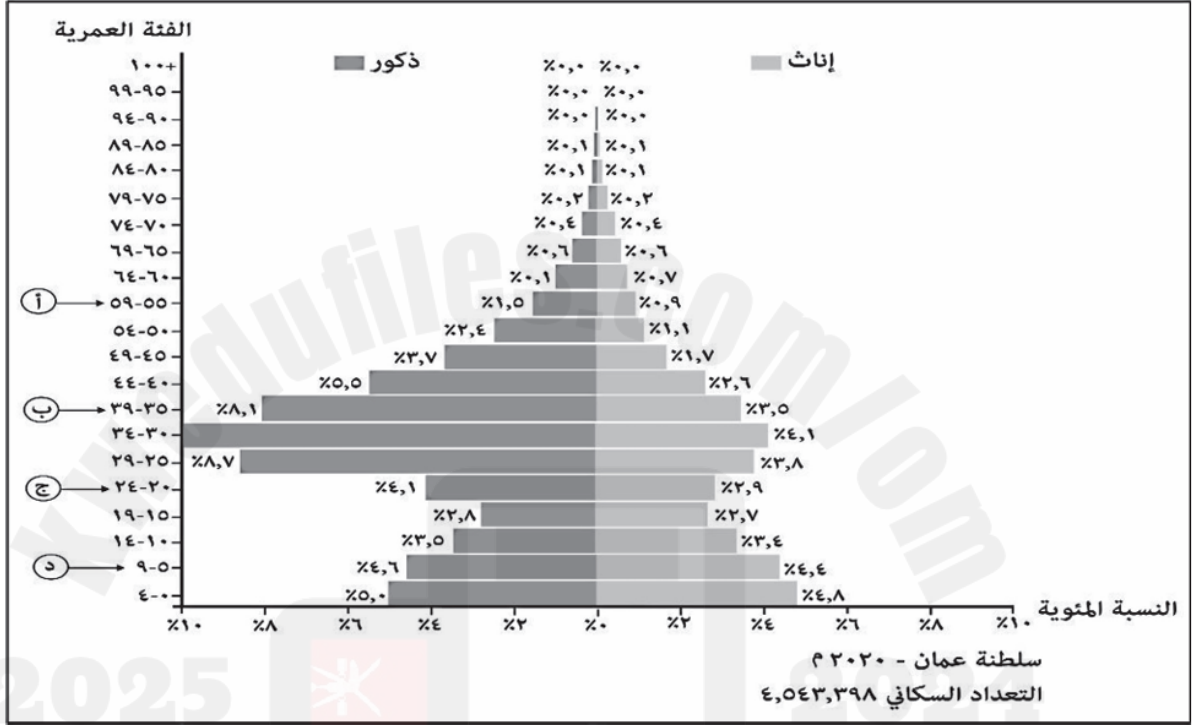
٢٠٢١

٢٠٢٠

٢٠٢٣

٢٠٢٢

٢) الرمز الذي يُشير إلى الفئة العمرية التي تمثل ٩% من نسبة السكان في سلطنة عُمان حسب الشكل الآتي:



ب

أ

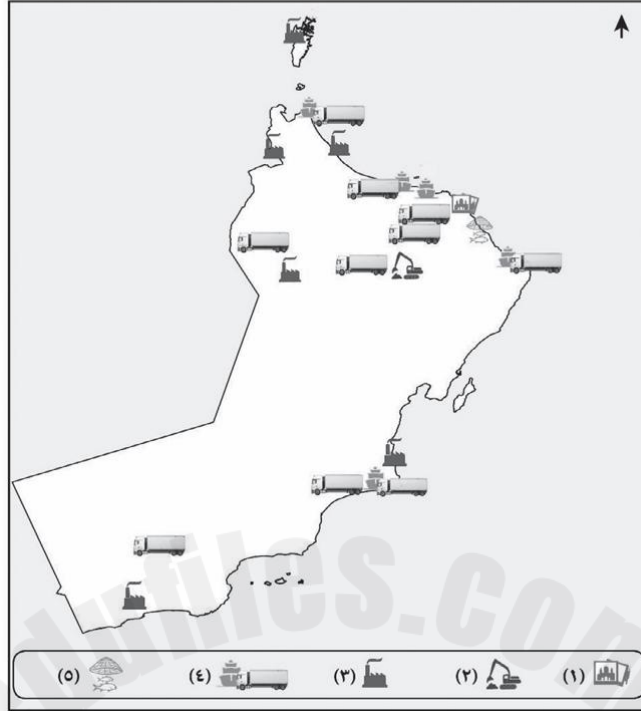
د

ج

ج. صنف تأثيرات التطور العلمي والتكنولوجي على سوق العمل حسب الجدول الآتي:

م	تأثير التطور العلمي والتكنولوجي	إيجابي / سلبي
١	في أثناء انتشار وباء كورونا (COVID-١٩) تحولت العديد من الشركات إلى العمل عن بعد امتثالاً لإرشادات التباعد الاجتماعي.	
٢	يضطر العمال إلى تعلم مهارات جديدة باستمرار؛ حتى يتمكنوا من مواكبة التطورات التكنولوجية.	
٣	إزاحة الوظائف الحالية، حيث تحل الآلات محل البشر في العديد من المؤسسات.	

(١٥) أ. تنوعت القطاعات الاستثمارية في سوق العمل العُماني، اكتب نوع القطاع الاستثماري ورقمه الذي ينتمي إليه في مفتاح الخريطة في الجدول التالي:



م	العبارات	نوع القطاع الاستثماري ورقمه
١	يُعدّ أحد القطاعات الاقتصادية الواعدة لا سيما في توفير فرص العمل للمواطنين العُمانيين، حيث تتميز سلطنة عُمان بخط ساحلي يمتد على طول ٣١٦٥ كم.	قطاع الثروة السمكية رقم (٥)
٢	يعتبر من أكثر القطاعات التي تحقق وظائف مباشرة وغير مباشرة في سلطنة عُمان، ويعتمد على الأنشطة التي تعالج المواد الخام المستخرجة من الطبيعة، والمواد الزراعية والنباتية والحيوانية، وتحويلها إلى شكل آخر قابل للاستفادة منه.	
٣	أحرزت سلطنة عُمان تقدماً في هذا القطاع من خلال تطوير بنيته التحتية، مثل: إقامة موانئ بحرية، ومناطق اقتصادية حرة في كل من صحار، وصلالة، والدقم، التي أدت إلى توسيع إمكانيات البلاد وساهمت في تحقيق التنوع الاقتصادي.	
٤	يُعدّ أحد المراكز الاقتصادية التي تسعى "رؤية عُمان ٢٠٤٠" إلى تحقيقها فهو قائم على استخلاص أي مواد جيولوجية خام من باطن الأرض، وتشتمل على عمليات الحفر وبناء الأنفاق، وأقنية المياه، والمصارف والصحاري، ومد الأنابيب، وتركيب الآلات، وتشبيد المباني.	

ب. ادرس الشكل الآتي، ثم أجب عن الأسئلة التالية:



(١) سمّ القطاع الاستثماري في سوق العمل العُماني الذي يمثله الشكل السابق.

(٢) علّل اهتمام حكومة سلطنة عُمان بتنمية القطاع الذي يُشير إليه الشكل السابق.

(١) المحافظة العُمانية التي يوجد فيها مشروع مدينة خزائن الاقتصادية:

مسقط. ظفار.

جنوب الباطنة. شمال الشرقية.

(٢) الجدول الصحيح الذي يُقارن بين سوق العمل الراكد وسوق العمل المُحكّم:

أوجة المقارنة	سوق العمل الراكد	سوق العمل المُحكّم
أعداد الباحثين عن عمل	يقل	يزيد
أعداد الوظائف المتاحة	يزيد	يقل

أوجة المقارنة	سوق العمل الراكد	سوق العمل المُحكّم
أعداد الباحثين عن عمل	يزيد	يقل
أعداد الوظائف المتاحة	يقل	يزيد

أوجة المقارنة	سوق العمل الراكد	سوق العمل المُحكّم
أعداد الباحثين عن عمل	يزيد	يزيد
أعداد الوظائف المتاحة	يقل	يقل

أوجة المقارنة	سوق العمل الراكد	سوق العمل المُحكّم
أعداد الباحثين عن عمل	يقل	يزيد
أعداد الوظائف المتاحة	يزيد	يزيد

(١٦) أ. ادرس الشكل الآتي، ثم استخراج ما يأتي:



(١) اسم الجهة التي ركزت ضمن أولوياتها على السوق المشار إليه بالرمز (ب).

(٢) التوجه الاستراتيجي الذي تسعى إليه حكومة سلطنة عُمان في السوق المشار إليه بالرمز (ب).

(٣) الرمز الذي يشير إلى قابلية قانون العمل للتكيف مع التطورات المختلفة.

١٥ أ. ادرس الخبر الصحفي الآتي، ثم أجب عن الأسئلة التي تليه:

ب

أعلنت وزارة العمل العُمانية يوم أمس الأربعاء عن عزم الحكومة توفير حوالي ٣٢ ألف وظيفة للباحثين عن عمل، سوف تعلن عنها خلال العام الحالي ٢٠٢١ م ، إضافة إلى تعزيز سوق العمل بأكثر من ١٠ آلاف فرصة تدريب في مختلف القطاعات المهنية بهدف مواجهة أزمة الباحثين عن عمل المتصاعدة في البلاد.

وقال وكيل وزارة العمل في مؤتمر استعرض الخطة التنفيذية للوزارة، إن الباحثين عن عمل المسجلين لدى الوزارة بلغ عددهم حوالي ٦٥ ألفاً، أغلبهم من الإناث بما نسبته ٦١٪، حيث سجلت الحكومة حوالي ٢٤ ألف باحث عن عمل من الذكور مقارنة بحوالي ٤١ ألفاً من الإناث، وفق نتائج التعداد لعام ٢٠٢٠ م.

٢٨ / ١ / ٢٠٢١ م مسقط

(١) استنتج من الخبر الصحفي ما يأتي:

أ- العامل المؤثر في سوق العمل العُماني الوارد في العبارة التي تحتها خط.

ب- النسبة المئوية للباحثين عن عمل من الذكور وفق نتائج تعداد عام ٢٠٢٠ م.

ج- اثنين من أبرز تحديات سوق العمل العُماني.

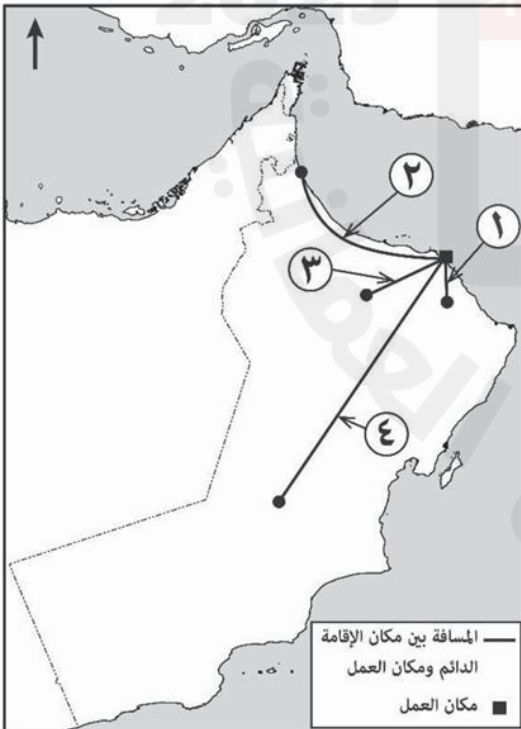
(٢) عرف المفهوم الذي تحتته خط والمشار إليه بالرمز (ب).

ب. اكتب اثنين من الإجراءات والمبادرات لتطوير سوق العمل العُماني.

ب. صف العبارات الواردة في الجدول الآتي حسب نوع العامل المؤثر في سوق العمل العُماني.

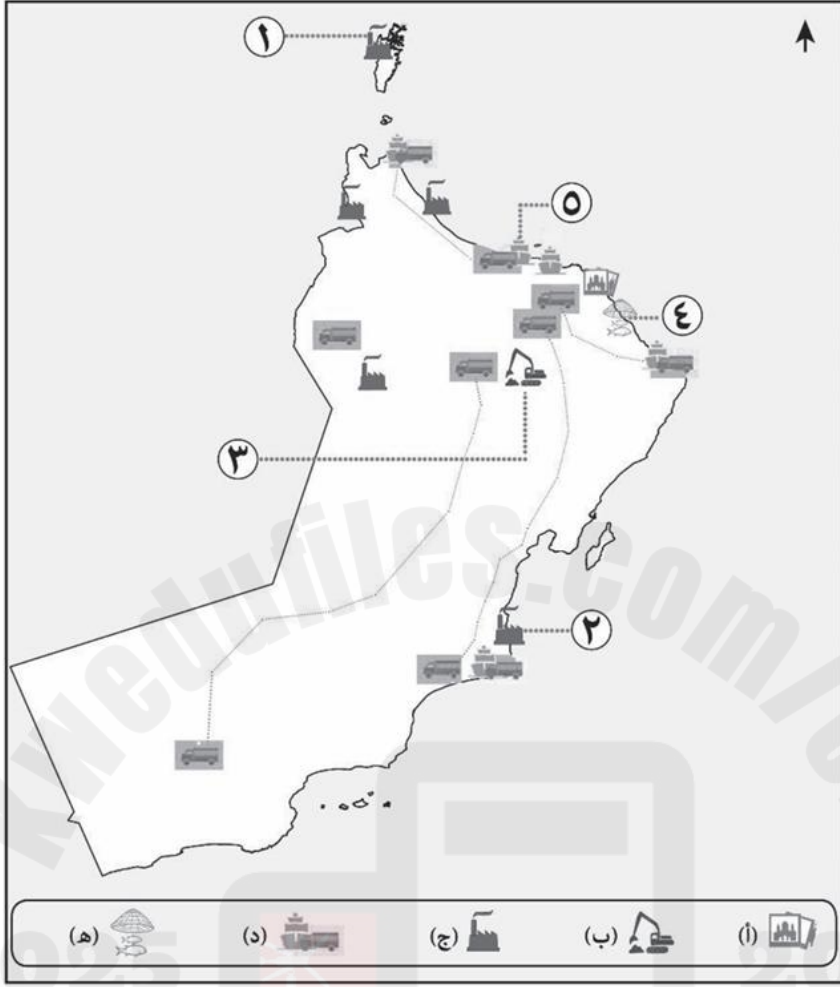
م	العبارات	نوع العامل المؤثر في سوق العمل العُماني
١	وضع حلول لعدد من الأطراف في سوق العمل العُماني، ومتطلب يدعم القضاء في إصدار الأحكام وتسوية النزاعات المتعلقة بمستحقات القوى العاملة.	
٢	كشفت تبعات جائحة "كورونا" وآثارها على سوق العمل العُماني الكثير من الثغرات والتحديات، حيث تزامنت معها تدنُّ حادٌّ في أسعار النفط، بسبب تباطؤ الإنتاج.	
٣	أصبحت المهارة هي محور الارتكاز في أي عملية توظيف في سوق العمل العُماني.	

(٢) رقم العامل الجغرافي الذي يزيد أثره السلبي في سوق العمل العُماني الموضح بالخريطة المقابلة:



- ١
- ٢
- ٣
- ٤

١٦ أ. ادرس الخريطة الآتية التي تُمثل بعض المشاريع الاقتصادية في سلطنة عُمان ، ثم أجب عن الأسئلة التي تليها:



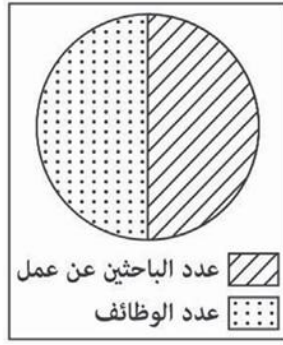
١) ما اسم المشروع الاقتصادي المشار إليه بالرقم (٣)؟

٢) اكتب نوع القطاع الاستثماري الذي تنتمي إليه المشاريع المشار لها بالرمز (ج).

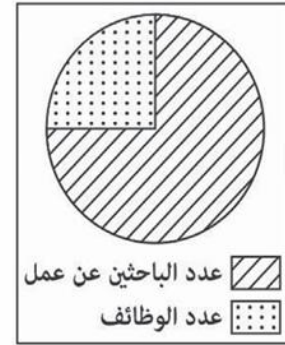
٣) "مشروع يقع على ساحل بحر العرب افتتح بتاريخ ٧ فبراير ٢٠٢٤م، وهو أكبر مشروع استثماري مشترك بين سلطنة عُمان ودولة الكويت".

ما الرقم الذي يُشير إلى موقع المشروع الوارد في الفقرة السابقة؟

(٣) الشكل البياني الذي يُعبّر عن مفهوم سوق العمل الراكد:



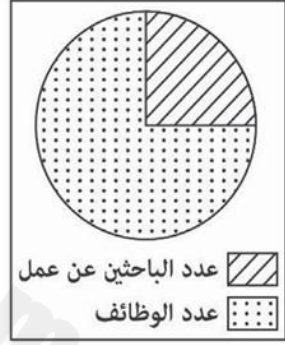
○



○



○



○

ب. اذكر نتيجتين لكل مما يأتي:

(١) قيام المؤسسات الكبرى بإعادة هيكلتها على الوظائف.

•

2025



2024

•

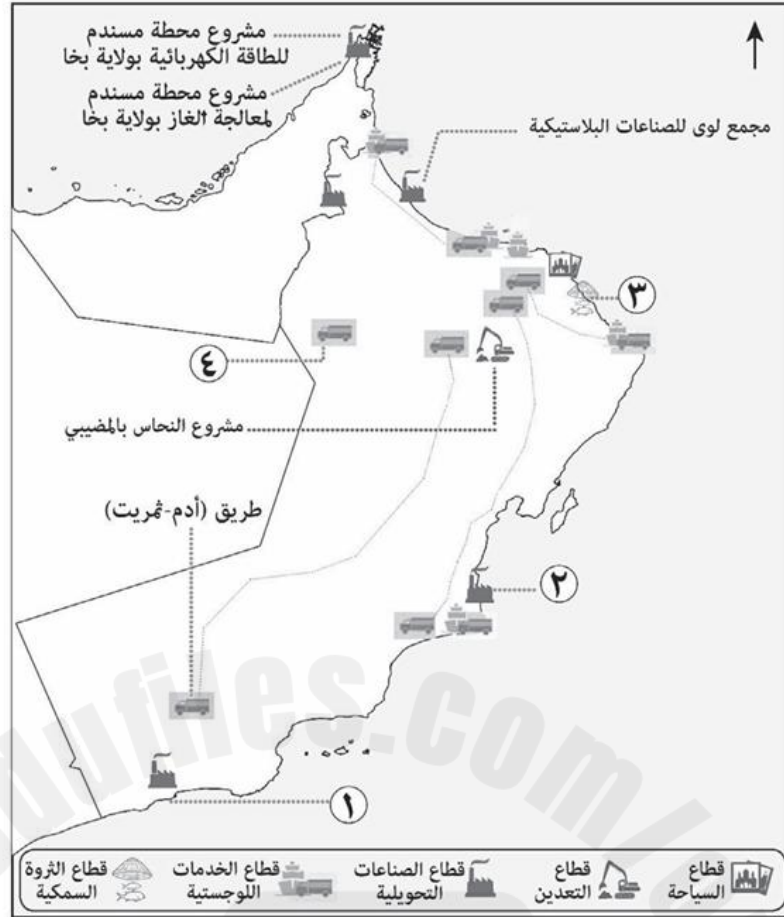
(٢) تنوع القطاعات الاقتصادية في سلطنة عُمان.

•

•

(١٦) أ. اكتب نوع القطاع الاقتصادي الاستثماري في سلطنة عُمان حسب المشاريع الواردة في الجدول الآتي.

نوع القطاع الاقتصادي	اسم المشروع	م
	النماء للدواجن	١
	مدينة العرفان	٢



(١) بالإستعانة بصورة شعار المشروع الذي أمامك، أجب عن الأسئلة الآتية:

أ- ما الرقم الذي يشير إلى موقع المشروع في الخريطة؟



ب- ما نوع القطاع الاستثماري الذي ينتمي إليه المشروع؟

(٢) من خلال دراستك للخريطة أجب عما يأتي:

أ- سمّ الدولة المجاورة التي يربطها الطريق السريع مع سلطنة عُمان والمشار إليه بالرقم (٤).

ب- كم عدد المشاريع في قطاع التعدين؟

ج- استنتج طبيعة التوزيع الجغرافي للمشاريع الاستثمارية.

(١٨) أ. علل لما يأتي:

(١) تعمل المؤسسات المعنية في سلطنة عُمان على تطوير الاشتراطات والمزايا المتعلقة ببيئة العمل في الشركات .

(٣) أعلنت إحدى الجامعات الخاصة عن وظيفة محاضر من الذكور شريطة حصوله على درجة الماجستير) من خلال قراءتك للعبارة ودراستك للشكل السابق أجب عما يأتي:
أ- ما العاملان المؤثران على عدد المتقدمين للوظيفة؟

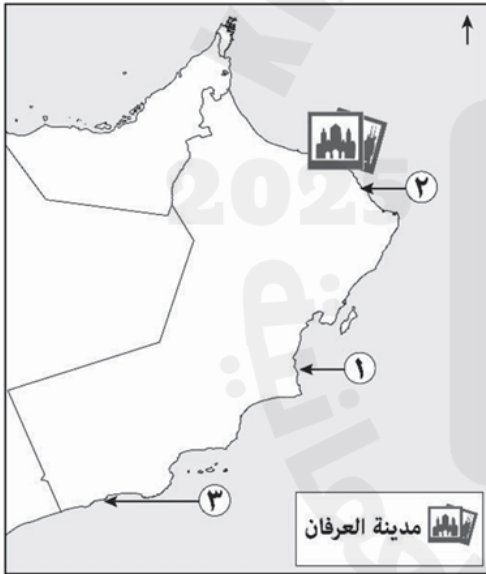
(١) من العوامل الاقتصادية التي يتأثر بها سوق العمل العالمي:

- المستوى التكنولوجي. التركيبة العمرية.
 الأزمات المالية. قوانين العمل.

بالاستعانة بالخريطة المقابلة أجب عن المفردتين (٢، ٣):

(٢) القطاع الاستثماري الذي يمثله الشكل الوارد في الخريطة:

- السياحة.
 التعدين.
 الصناعات التحويلية.
 الثروة السمكية.



(٣) الجدول الذي يمثل التوزيع الصحيح لمواقع المشاريع الاقتصادية العُمانية على الخريطة:

اسم المشروع الاقتصادي	الاستزراع السمكي بقريات	مصفاة الدقم	صلاة ميثانول للأمونيا
رقم الموقع على الخريطة	٣	٢	١

اسم المشروع الاقتصادي	الاستزراع السمكي بقريات	مصفاة الدقم	صلاة ميثانول للأمونيا
رقم الموقع على الخريطة	٢	٣	١

اسم المشروع الاقتصادي	الاستزراع السمكي بقريات	مصفاة الدقم	صلاة ميثانول للأمونيا
رقم الموقع على الخريطة	١	٢	٣

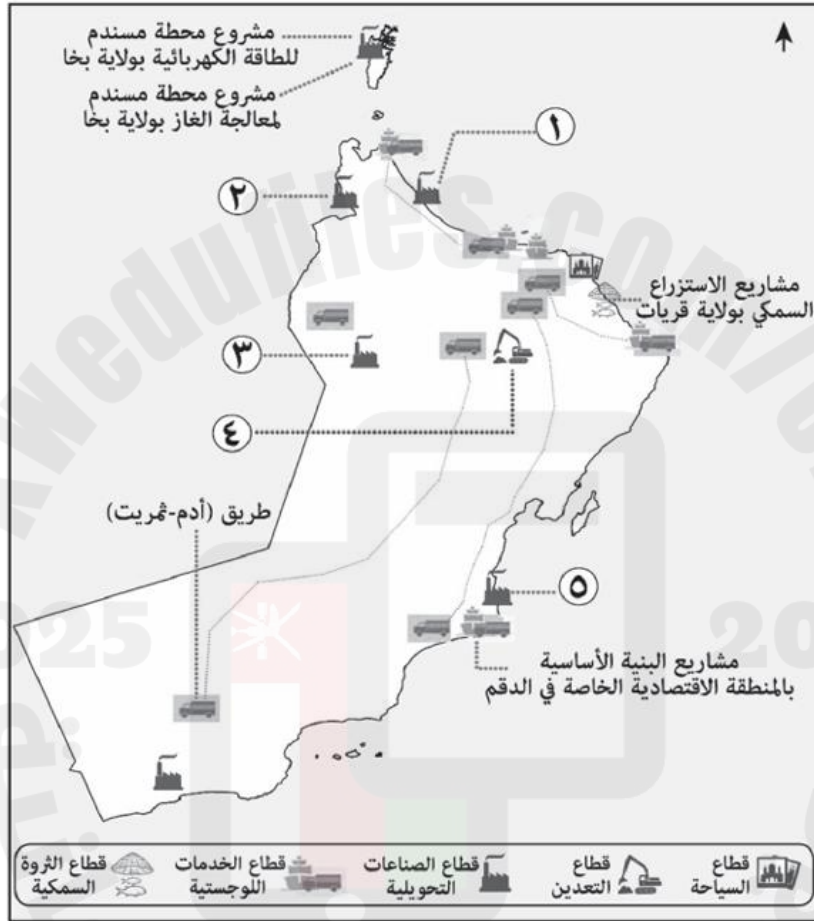
اسم المشروع الاقتصادي	الاستزراع السمكي بقريات	مصفاة الدقم	صلاة ميثانول للأمونيا
رقم الموقع على الخريطة	٢	١	٣

تجميع إسئلة إختبارات نهائية لدرس سوق العمل / أ.لطيفة الكعبية ، مدرسة زينب بنت خزيمة ٢٠٢٥

١٦ أ. اكتب نوع القطاع الاستثماري الاقتصادي في سلطنة عُمان حسب المشاريع الواردة في الجدول الآتي:

م	اسم المشروع	نوع القطاع الاستثماري الاقتصادي
١	مدينة خزائن الاقتصادية.	_____
٢	شركة مزون للألبان.	_____

١٥ ادرس الخريطة التي تمثل بعض المشاريع الاقتصادية في سلطنة عُمان، ثم أجب عن الأسئلة التي تليها.



أ. اذكر:

(١) المعدن المستخرج من المشروع المشار إليه بالرقم (٤).

(٢) المنتج الصناعي للمشروع المشار إليها بالرقم (١).

ب. بالاستفادة من صورة المنتج العُماني الذي أمامك، أجب عن الأسئلة الآتية:

(١) ما الرقم الذي يشير إلى موقع الشركة المنتجة له في الخريطة؟

(٢) ما نوع القطاع الاستثماري الذي ينتمي إليه المشروع؟



ج. دَلِّ على ما يأتي:

(١) اهتمام سلطنة عُمان بتنويع القطاعات الاقتصادية الاستثمارية.

(٢) مراعاة سلطنة عُمان للعامل الجغرافي المؤثر في تنمية القطاعات الاقتصادية المختلفة.

وظيفة شاغرة

شركة متخصصة في المقاولات
تعلن عن رغبتها في تعيين (مهندس مدني)

شروط شغل الوظيفة :

- ١- المؤهل بكالوريوس (تخصص هندسة مدنية).
- ٢- أن يكون من سكان محافظة مسقط.
- ٣- أن لا يزيد عمره عن (٣٠) سنة.
- ٤- اجتياز اختبار القبول.

فعلى من يجد لديه الرغبة والكفاءة التقدم
للوظيفة قبل نهاية الشهر الحالي

(٣) خريج جامعي من قسم الهندسة المدنية يبلغ من العمر ٢٥ سنة، يسكن بمدينة صلالة، وتقدم للوظيفة في الإعلان الواضح أمامك.

- العامل المؤثر على عدم قبول طلبه للوظيفة:

الجغرافي.

الثقافي.

الديموغرافي.

القانوني.

ب. ادرس الشكل البياني الذي أمامك، ثم أجب عن الأسئلة التالية.



(١) اكتب ما يدل عليه مفتاح الشكل البياني.

أ:

ب:

(٢) كيف تؤثر إعادة هيكلة بعض المؤسسات الكبرى على هذا السوق؟