

تم تحميل هذا الملف من موقع المناهج العمانية



اختبار قصير ثاني نموذج ثاني

موقع المناهج ← المناهج العمانية ← الصف الثاني عشر ← هذا وطني ← الفصل الثاني ← الملف

تاريخ إضافة الملف على موقع المناهج: 17:33:36 2024-05-13

التواصل الاجتماعي بحسب الصف الثاني عشر



اضغط هنا للحصول على جميع روابط "الصف الثاني عشر"

روابط مواد الصف الثاني عشر على تلغرام

[الرياضيات](#)

[اللغة الانجليزية](#)

[اللغة العربية](#)

[التربية الاسلامية](#)

المزيد من الملفات بحسب الصف الثاني عشر والمادة هذا وطني في الفصل الثاني

نموذج إجابة الاختبار القصير الثاني	1
اختبار قصير ثاني	2
مذكرة اختبارية لدرس الهوية العمانية مع نموذج الإجابة	3
مذكرة اختبارية لدرس الاقتصاد القائم على المعرفة مع نموذج الإجابة	4
مذكرة اختبارية لدرس المؤسسات الصغيرة والمتوسطة مع نموذج الإجابة	5

الاختبار القصير الثاني في مادة هذا وطني للصف الثاني عشر - الفصل الدراسي الثاني للعام الدراسي 2024/2023م


(3 درجات)

السؤال الأول: ظلل رمز الإجابة الصحيحة من بين البدائل المعطاة:

1. الوزارة المشرفة على تنفيذ مشاريع البنية الأساسية لمجتمع عُمان الرقمي:

○ العمل ○ التربية والتعليم ○ النقل والاتصالات وتقنية المعلومات ○ الداخلية

2. الشكل الذي يُعبّر عن مفهوم الثورة الصناعية الرابعة:



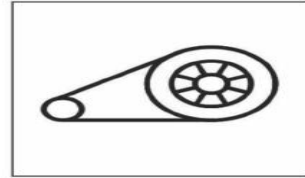
○



○



○



○

3. الصورة التي تعبر عن إحدى تقنيات الثورة الصناعية الرابعة التي يعمل مركز ساس لمحاكاة الواقع لتطوير مشاريعه



○



○



○

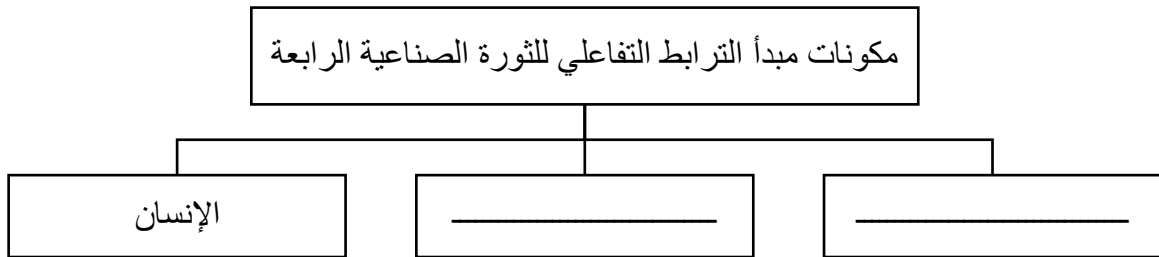


○

(4 درجات)

السؤال الثاني: أجب عن جميع الاسئلة التالية:

1. أكمل بيانات المخطط الآتي:



2. عدد اثنين من محاور استراتيجية عمان الرقمية.

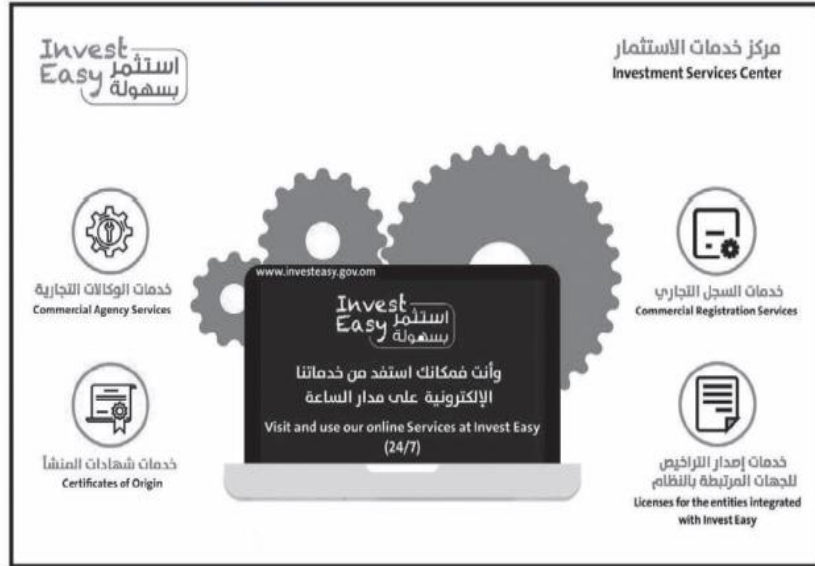
-
-

3. علل: إنشاء مركز ساس لمحاكاة الواقع عام 2014م

.....
.....

(3 درجات)

السؤال الثالث: ادرس الشكل الذي أمامك، ثم أجب عن الأسئلة التي تليه:



(١) ما نوع الاقتصاد الذي يعد التطبيق الموضح بالشكل أحد نتاجاته؟

.....

(٢) اكتب اثنين من خصائص هذا الاقتصاد.

.....

.....

(٣) استخرج خدمة إلكترونية واحدة يقدمها التطبيق.

.....