

## شكراً لتحميلك هذا الملف من موقع المناهج العمانية



## دفتر الطالب مع اختبارات قصيرة ونهاية للمنهج

[موقع المناهج](#) ← [المناهج العمانية](#) ← [الصف الثاني عشر](#) ← [هذا وطني](#) ← [الفصل الثاني](#) ← [الملف](#)

تاريخ نشر الملف على موقع المناهج: 01-05-2023 19:21:43 | اسم المدرس: علي المشرفي

## التواصل الاجتماعي بحسب الصف الثاني عشر



## روابط مواد الصف الثاني عشر على تلغرام

[الرياضيات](#)

[اللغة الانجليزية](#)

[اللغة العربية](#)

[التربية الاسلامية](#)

## المزيد من الملفات بحسب الصف الثاني عشر والمادة هذا وطني في الفصل الثاني

[اختبارات تدريبية للامتحانات النهائية والقصيرة](#)

1

[دفتر الطالب مع اختبارات قصيرة ونهاية للمنهج](#)

2

[أسئلة اختبارات قصيرة ونهاية للوحدة الرابعة مع الإجابة](#)

3

[أسئلة اختبارات قصيرة ونهاية للوحدة الثالثة مع الإجابة](#)

4

[اختبار قصير ثاني](#)

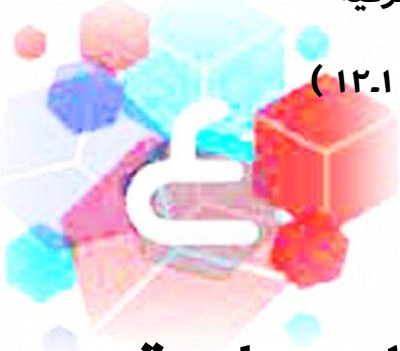
5

سلطنة عمان

وزارة التربية والتعليم

المديرية العامة للتربية والتعليم بمحافظة جنوب الشرقية

مدرسة الإمام عبد الملك بن حميد للتعليم الأساسي (١٢.١٠)



دفتر الطالب في الدراسات الاجتماعية

"هذا وطني"

في العراق والمجد

الثاني عشر

الفصل الدراسي الثاني

إعداد الأستاذ: علي بن سعيد المشرفي

العام الدراسي ٢٠٢٢-٢٠٢٣م



الاسم:

الصف:

عزيزي الطالب :

.تذكر أن الدعاء والتوكل على الله والجد والمثابرة هي مفاتيح النجاح والتفوق.

.كن صبوراً, الدروس التي تتعلمها اليوم ستفيدك غداً

ملاحظات ولي أمر الطالب:

# الوحدة الثالثة

## سوق العمل العماني..

## استثمار وتوجهات

### دروس الوحدة:

- ١- سوق العمل ... توجه عالمي واهتمام وطني
- ٢- المؤسسات الصغيرة والمتوسطة.. الأهمية والجهود الوطنية
- ٣- الاقتصاد القائم على المعرفة.. تطلعات ورؤى.

عنوان الدرس:

سوق العمل .. توجه عالمي واهتمام وطني ( ١ )

التاريخ:

في هذا الدرس أتعلم:

١. مفهوم سوق العمل. ٢. العوامل المؤثرة في سوق العمل.

المناقشة:

س ١. ما المقصود بسوق العمل؟

.....

س ٢. يتكون سوق العمل من عنصرين هما أ..... ب.....

س ٣. ميز بين سوق العمل المحكم وسوق العمل الراكد.

	سوق العمل المحكم
	وسوق العمل الراكد

س ٤. ما العوامل المؤثرة في سوق العمل؟

.....

.....

س ٥. برأيك ما أهمية مشاركة المرأة العمانية في سوق العمل.

.....

الواجب المنزلي:

س ١. وضح كيف تؤثر العوامل الآتية في سوق العمل.

أ. العوامل الجغرافية.

.....

.....

ب. العوامل الثقافية.

.....

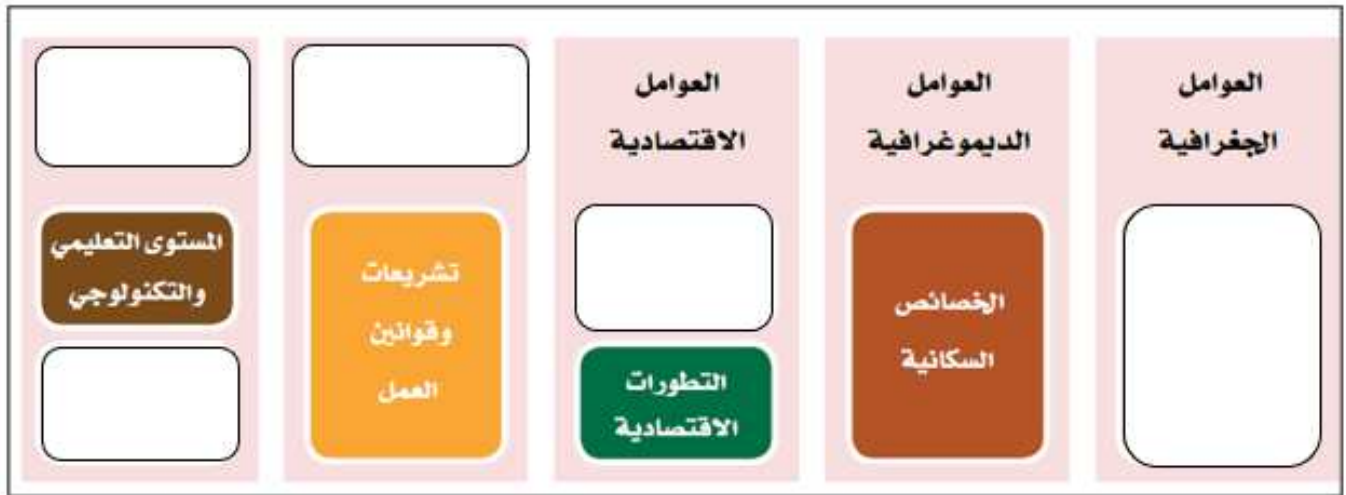
.....

## الأنشطة:

نشاط ١. من خلال الأشكال التي أمامك تعرّف على مكونات سوق العمل.



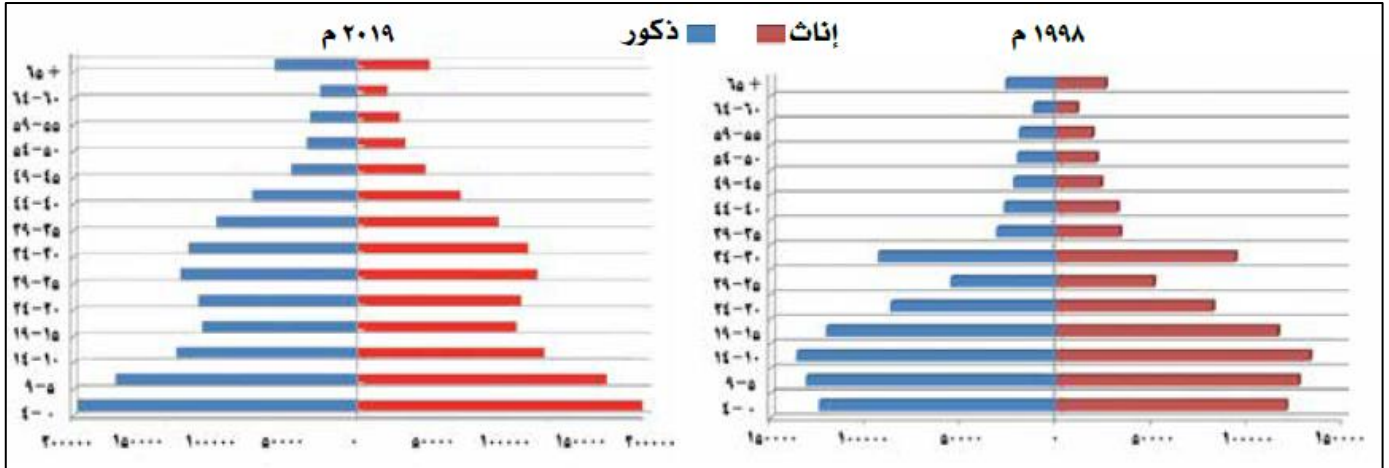
نشاط ٢. أكمل بيانات المخطط الآتي الذي يبين العوامل المؤثرة في سوق العمل.



نشاط ٣. برأيك ما النتائج الإيجابية والسلبية للعوامل الاقتصادية على سوق العمل.

النتائج الإيجابية
<input type="text"/>
النتائج السلبية
<input type="text"/>

نشاط ٤. ادرس الهرم السكاني لسلطنة عمان لعامي ١٩٩٨ م ، و ٢٠١٩ م ثم أحب عن الأسئلة التالية.



أ. صف الوضع السكاني في السلطنة عام ١٩٩٨ م وعام ٢٠١٩ م.

.....  
 .....

ب. وضح التغيرات التي حدثت في التركيبة السكانية وأثرها على سوق العمل العماني.

.....  
 .....

ج. بين أهمية دراسة الخصائص الديموغرافية للدولة عند وضع الخطط التنموية المستقبلية.

.....  
 .....

نشاط ٥. جميع ما يلي من العوامل الثقافية المؤثرة في سوق العمل ما عدا :

أ. المستوى التعليمي ب. العادات ج. قوانين العمل د. التقاليد

نشاط ٦. صنف العوامل المؤثرة في سوق العمل كما هو موضح في الجدول.

( الخصائص السكانية . المسافة بين مكان الإقامة الدائم ومكان العمل . قوانين العمل .

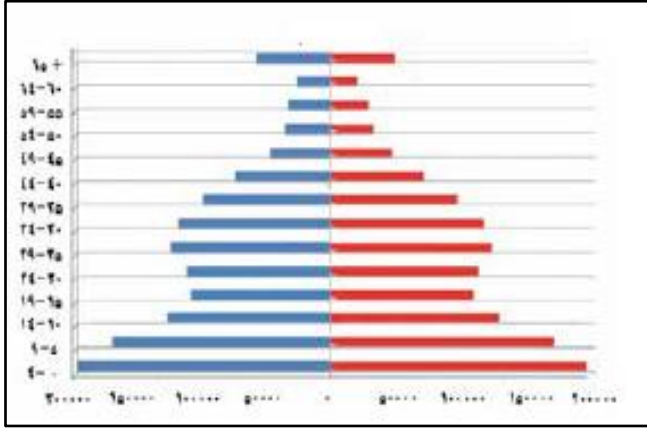
الازمات المالية . المستوى التعليمي . العادات والتقاليد . التطورات الاقتصادية )

العوامل الجغرافية	العوامل الديموغرافية	العوامل الاقتصادية	العوامل السياسية والقانونية	العوامل الثقافية والاجتماعية

نشاط ٧. العامل المؤثر في سوق العمل الذي تشير إليه العبارة الآتية: "المسافة بين مكان الإقامة الدائم ومكان العمل" هو:

- أ. الديموغرافي      ب. الجغرافي      ج. الاقتصادي      د. الاجتماعي

نشاط ٨. الوضع السكاني في السلطنة الذي يمثله الشكل المجاور يعود إلى العام:



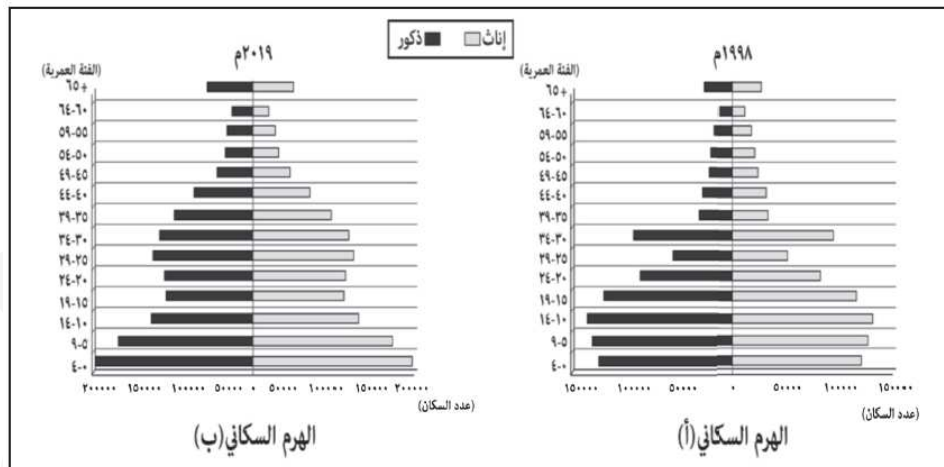
أ. ٢٠١٧ م

ب. ٢٠١٨ م

ج. ٢٠١٩ م

د. ٢٠٢٠ م

نشاط ٩. الجدول الصحيح الذي يصف الوضع السكاني في سلطنة عمان كما يوضحه الهرم السكاني الآتي لعامي ١٩٩٨ م و ٢٠١٩ م.



الهرم السكاني (ب)

الهرم السكاني (أ)

(ب)	(أ)	الهرم السكاني
سنة (٩-٥)	سنة (١٤-١٠)	الفئة العمرية الأكثر في عدد السكان
سنة (٥٩-٥٥)	سنة (٥٤-٥٠)	الفئة العمرية الأقل في عدد السكان

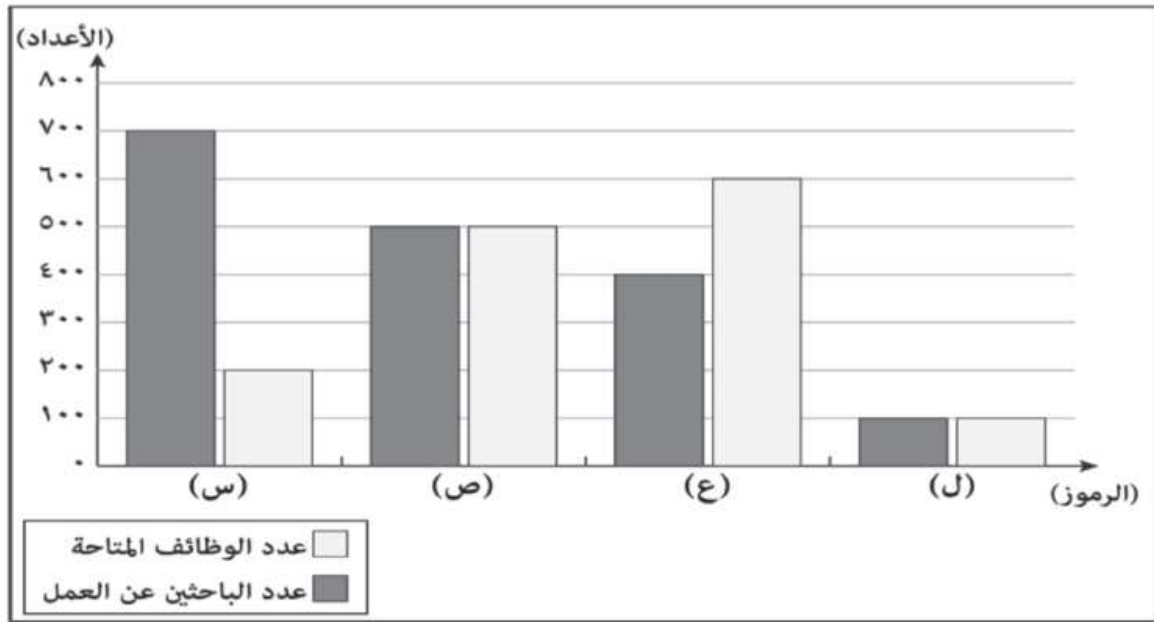
(ب)	(أ)	الهرم السكاني
سنة (١٩-١٥)	سنة (٩-٥)	الفئة العمرية الأكثر في عدد السكان
سنة (٥٤-٥٠)	سنة (٥٤-٥٠)	الفئة العمرية الأقل في عدد السكان

(ب)	(أ)	الهرم السكاني
سنة (١٤-١٠)	سنة (١٩-١٥)	الفئة العمرية الأكثر في عدد السكان
سنة (٥٤-٥٠)	سنة (٥٩-٥٥)	الفئة العمرية الأقل في عدد السكان

(ب)	(أ)	الهرم السكاني
سنة (٤-٠)	سنة (١٤-١٠)	الفئة العمرية الأكثر في عدد السكان
سنة (٦٤-٦٠)	سنة (٦٤-٦٠)	الفئة العمرية الأقل في عدد السكان



نشاط ١٠. الرمز الذي ينطبق عليه مفهوم سوق العمل الراكد كما في الرسم البياني الآتي:



أ. ( ل )      ب. ( ع )      ج. ( ص )      د. ( س )

نشاط ١١. صنف العبارات الواردة في الجدول الآتي حسب نوع العامل المؤثر في سوق العمل العالمي:

م	العبارات	نوع العامل المؤثر في سوق العمل العالمي
مثال	زيادة نسبة الذكور عن الإناث في المجتمع.	ديموغرافي
(١)	بُعد مكان العمل عن مقر السكن الدائم للعمال.	
(٢)	سن العمل المسموح به في الدولة يتراوح ما بين (١٨ - ٦٠) سنة.	
(٣)	نسبة (٨٠%) من الباحثين عن عمل حاصلين على شهادة دبلوم التعليم العام.	

في هذا الدرس أتعلم:

١. التوجهات العالمية لسوق العمل. ٢. القطاعات الاستثمارية في سوق العمل العماني

### المناقشة:

س ١. " نتيجة للتطور العلمي والتكنولوجي الذي يشهده العالم طرأت مجموعة من التغيرات على سوق العمل العماني ، مما حدا بالمؤسسات الكبرى إلى إعادة هيكلتها من أجل تحقيق أرباح عالية ومواجهة المنافسة الدولية" في ضوء العبارة السابقة أجب عن الآتي:

أ. استنتج من الفقرة السابقة الأسباب التي دفعت المؤسسات الكبرى إلى إعادة هيكلتها

.....

ب. ما النتائج التي ترتبت على الحراك الذي شهدته تلك المؤسسات؟

.....

.....

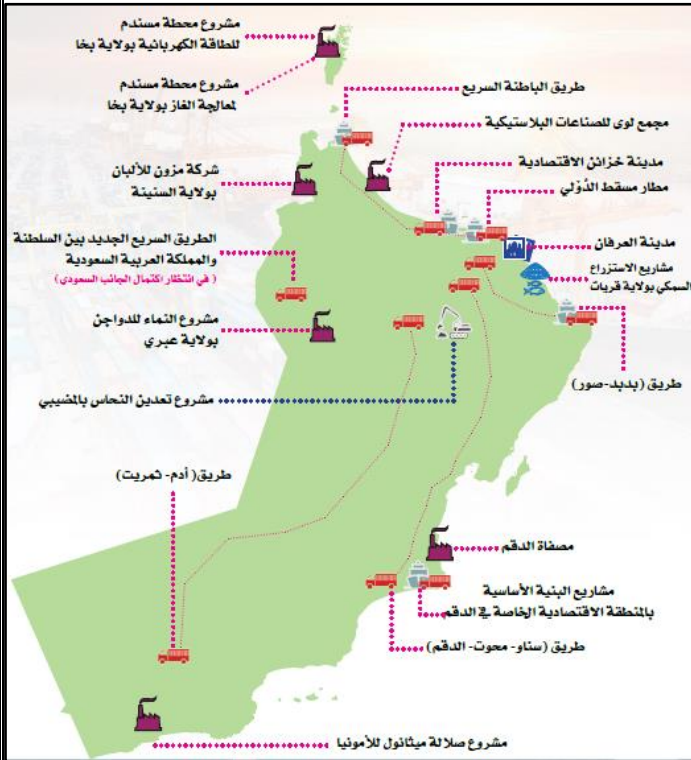
ج. اذكر اثنين من التحديات التي تواجه سوق العمل.

.....

س ٢. من خلال الصور الآتية تعرّف على أهم القطاعات الاستثمارية في سوق العمل العماني.



## الواجب المنزلي: ادرس الخريطة التي أمامك ثم أجب عن الأسئلة الآتية.



١. اعط مثال على أحد المشاريع السياحية في

سلطنة عمان.

٢. اقترح عدد من الإجراءات لتطوير هذا المشروع.

### الأنشطة:

١. نشاط ١. برأيك ما أهمية إدراك الشخص للتخصصات والوظائف الواعدة في بلده.


٢. نشاط ٢. " يعد سوق العمل العماني جزءًا من منظومة الأسواق العالمية التي تواجه العديد من التحديات

في ضوء ذلك أجب عن:

أ. اذكر أبرز التحديات التي تواجه سوق العمل العماني.

ب. اقترح عددًا من الحلول التي تسهم في مواجهة تلك التحديات.

٣. نشاط ٣. نوع القطاع الاستثماري في سوق العمل العماني الموضح أمامك هو:



أ. الخدمات اللوجستية

ب. التعدين

ج. الصناعات التحويلية

د. السياحة

نشاط ٤. المدينة العمانية التي يوجد بها مشروع ميثانول للأمونيا هي:

أ. صور      ب. صلالة      ج. مسقط      د. عبري

نشاط ٥. من المشاريع الاقتصادية الموجودة في ولاية المضبيبي:

أ. تعدين النحاس      ب. الصناعات البلاستيكية      ج. الألبان      د. الاستزراع السمكي

نشاط ٦. القطاع الاستثماري الذي يمثله مشروع (مدينة خزائن الاقتصادية) في سوق العمل العماني:

أ. الصناعات التحويلية      ب. السياحة      ج. التعدين      د. الخدمات اللوجستية

نشاط ٧. ادرس خريطة المشاريع الاقتصادية لسلطنة عمان ثم أجب عن الأسئلة الآتية.



أ. استخراج من الخريطة اسم مشروع اقتصادي في

قطاع التعدين. ....

ب. اذكر اثنين من المحافظات التي يمر بها مشروع

الطريق المشار إليه بالرمز (ص).  
.....

ج. ما نوع القطاع الاستثماري الذي ينتمي إليه المشروع

الموجود في ولاية صلالة حسب الخريطة؟  
.....

في هذا الدرس أتعلم:

١ . جهود السلطنة في الارتقاء بسوق العمل العماني.

المناقشة:

س ١. اتخذت السلطنة سلسلة من الإجراءات لمواكبة التغيرات التي طرأت على المنظومة الاقتصادية العالمية اذكرها.

.....  
.....

س ٢. دلل على جهود السلطنة في تطوير سوق العمل العماني.

.....  
.....

الواجب المنزلي:

تأمل نص الخطاب السامي لحضرة صاحب الجلالة السلطان هيثم بن طارق المعظم . حفظه الله ورعاه . الوارد في كلمات مضيئة ( الصفحة ٨٦ ) ثم أجب عن الأسئلة الآتية:

١ . فسر اهتمام جلالة السلطان هيثم بن طارق . حفظ الله ورعاه . بتطوير سوق العمل والتشغيل.

.....

٢ . استنتج الإجراءات التي ركز عليها جلالته لتطوير سوق العمل والتشغيل في السلطنة.

.....

٣ . حدد الاطار الزمني للنص.

.....

٤ . ما المصدر الذي أخذ منه النص السابق؟

.....

الأنشطة:

نشاط ١. بالرجوع إلى المرسوم السلطاني رقم (٢٠٢٠/٨٩) والخاص بإنشاء وزارة العمل، أجب عن الأسئلة الآتية:  
أ. استخلص الإجراءات التي تضمنها المرسوم المرتبطة بتطوير سوق العمل والتشغيل.

.....  
.....

ب. ما انعكاسات تلك الإجراءات في التغلب على تحديات سوق العمل العماني من وجهة نظرك؟

.....

عنوان الدرس **المؤسسات الصغيرة والمتوسطة.. الأهمية والجهود الوطنية ( ١ )** لتاريخ

في هذا الدرس أتعلم:

١. أهمية المؤسسات الصغيرة والمتوسطة للفرد والمجتمع والدولة.

المناقشة:

س ١. " تعد المؤسسات الصغيرة والمتوسطة أحد أبرز الدعائم الاقتصادية في كثير من دول العالم، وذلك لما لها من دور إيجابي في تطور الاقتصاد ونموه" في ضوء العبارة السابقة أجب عن الآتي:

أ. ما أهمية المؤسسات الصغيرة والمتوسطة للفرد والمجتمع والدولة؟

.....  
.....

ب. بما تفسر الاهتمام العالمي بالمؤسسات الصغيرة والمتوسطة؟

.....

ج. أكمل بيانات الجدول الآتي:

الدولة	نسبة مساهمة المؤسسات الصغيرة والمتوسطة في الناتج الإجمالي
الولايات المتحدة الأمريكية	
الصين	

س ٢. عدد فوائد المؤسسات الصغيرة والمتوسطة؟

.....  
.....

س ٣. اكتب نبذة مختصرة عن المؤسسة الحكومية الموضحة في الشكل المقابل.



.....  
.....  
.....

الواجب المنزلي:

" تتعدد المعايير المعتمدة لتصنيف المؤسسات الصغيرة والمتوسطة من دولة إلى أخرى " في ضوء ذلك أجب عن الآتي.

أ. عدد معايير تصنيف المؤسسات الصغيرة والمتوسطة.

.....

ب. ما المعيار المعتمد في تصنيف تلك المؤسسات في سلطنة عمان؟ .....

الأنشطة:

نشاط ١. أكمل بيانات الشكل الآتي الذي يبين فوائد المؤسسات الصغيرة والمتوسطة.



نشاط ٢. ادرس الشكل المقابل ثم أجب عن الآتي:

أ. ما المعيار المعتمد في تصنيف المؤسسات الصغيرة والمتوسطة في سلطنة عمان؟

ب. استنتج العلاقة بين عدد العمال وحجم المبيعات.

.....





نشاط ٣. تصنف أي مؤسسة ضمن المؤسسات المتوسطة إذا بلغ حجم إيراداتها السنوية بالريال العماني:

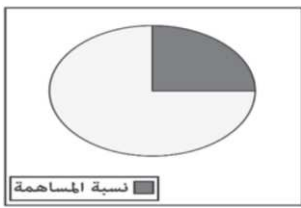
أ. أقل من (١٥٠,٠٠٠)

ب. من (١٥٠,٠٠٠) إلى أقل من (١,٢٥٠,٠٠٠)

ج. من (١,٢٥٠,٠٠٠) إلى أقل من (٥,٠٠٠,٠٠٠)

د. أكثر من (٥,٠٠٠,٠٠٠)

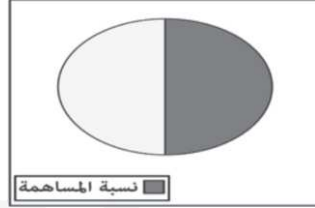
نشاط ٤. الدائرة البيانية التي تمثل النسبة التقريبية لمساهمة المؤسسات الصغيرة والمتوسطة في الناتج المحلي الإجمالي للولايات المتحدة الأمريكية عام ٢٠١٧م.



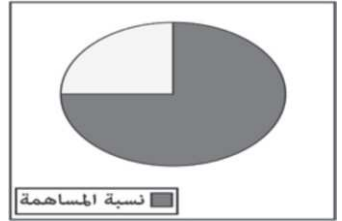
د



ج




ب




أ

نشاط ٥. الشكل الذي يمثل مؤسسة صناعية صغيرة وفقاً لمعيار أعداد العاملين المعتمد لتصنيف


المؤسسات الصغيرة والمتوسطة في سلطنة عمان حسب المفتاح الآتي:  = ١٠ عمال




د



ج



ب



أ

نشاط ٦. أكمل بيانات الجدول الآتي:

المؤسسات المتوسطة	المؤسسات الصغيرة	المؤسسات الصغرى	
			عدد العمال
			الإيرادات السنوية

نشاط ٧. الجدول الصحيح الذي يمثل نسبة مساهمة المؤسسات الصغيرة والمتوسطة في الناتج

المحلي الإجمالي للولايات المتحدة الأمريكية والصين لعام ٢٠١٧م:

النسبة	الدولة
%٦٠	الولايات المتحدة
%٥٠	الصين

د

النسبة	الدولة
%٥٠	الولايات المتحدة
%٦٠	الصين

ج

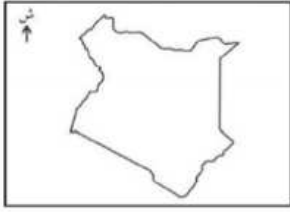
النسبة	الدولة
%٤٠	الولايات المتحدة
%٥٠	الصين

ب

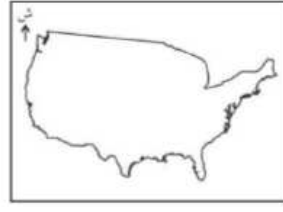
النسبة	الدولة
%٤٠	الولايات المتحدة
%٤٠	الصين

أ

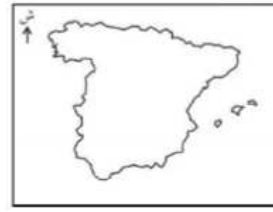
نشاط ٨. خريطة الدولة التي بلغت فيها نسبة مساهمة المؤسسات الصغيرة والمتوسطة ( ٥٠% ) من جملة الناتج المحلي لعام ٢٠١٧م:



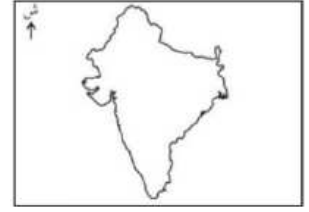
د



ج



ب



أ

نشاط ٩. الدائرة البيانية التي تمثل نسبة مساهمة المؤسسات الصغيرة والمتوسطة في الناتج المحلي الإجمالي للولايات المتحدة الأمريكية لعام ٢٠١٧م:



د



ج

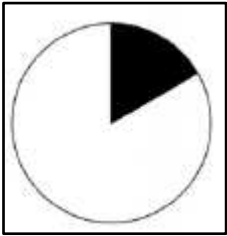


ب




أ


نشاط ١٠. الدائرة البيانية التي تمثل نسبة مساهمة المؤسسات الصغيرة والمتوسطة في الناتج المحلي الإجمالي في الصين لعام ٢٠١٧م:




د



ج



ب



أ

في هذا الدرس أتعلم:

١. اهتمام سلطنة عمان بتنمية المؤسسات الصغيرة والمتوسطة.

٢. خدمات تنمية المؤسسات الصغيرة والمتوسطة.

المناقشة:

س ١. اعط أمثلة على أهم المؤسسات الحكومية التي تُعنى بالمؤسسات الصغيرة والمتوسطة في سلطنة عمان.

.....

س ٢. اعط أمثلة على جهود السلطنة في تنمية المؤسسات الصغيرة والمتوسطة في المجالات الآتية.

الجهود	المجال
	تعزيز ثقافة رجال الأعمال
	التشريعات والقوانين
	الدعم الحكومي
	التمويل

س ٣. ما المقصود بالمحطة الواحدة؟

.....

س ٤. ما الخدمات التي تقدمها هيئة تنمية المؤسسات الصغيرة والمتوسطة؟

.....

.....

الواجب المنزلي:

تأمل نص الخطاب السامي لجلالة السلطان هيثم بن طارق المعظم . حفظه الله ورعاه . الوارد في كلمات مضيئة في الكتاب المدرسي ( الصفحة ٩١ ) ثم أجب عن الأسئلة الآتية.

١ . استخلص المجاملات التي ركّز جلالته السلطان هيثم بن طارق المعظم . حفظه الله ورعاه . في قطاع المؤسسات الصغيرة والمتوسطة.

.....

٢ . فسّر اهتمام جلالته السلطان . حفظه الله ورعاه . بتنمية وتدريب الشباب العماني.

.....

٣ . ما المصدر الذي أخذ منه النص السابق؟

.....

٤ . حدد الإطار الزمني للنص السابق.

.....

الأنشطة:

نشاط ١. الجدول الصحيح الذي يمثل اهتمام السلطنة بالمؤسسات الصغيرة والمتوسطة في مجال "تعزيز ثقافة ريادة الأعمال"

إصدار قوانين وتشريعات
تبني نماذج لمشاريع ريادة الأعمال في البيئة المدرسية
زيادة التسهيلات الائتمانية

ب

تنفيذ برامج تدريبية
إنشاء المحطة الواحدة
تخصيص الأراضي للإستثمار

أ

تنفيذ برامج تدريبية
تضمين مفاهيم ريادة الأعمال في المناهج التعليمية
تبني نماذج لمشاريع ريادة الأعمال في البيئة المدرسية

تضمين مفاهيم ريادة الأعمال في المناهج التعليمية
تنفيذ برامج تدريبية
تخصيص الأراضي للاستثمار

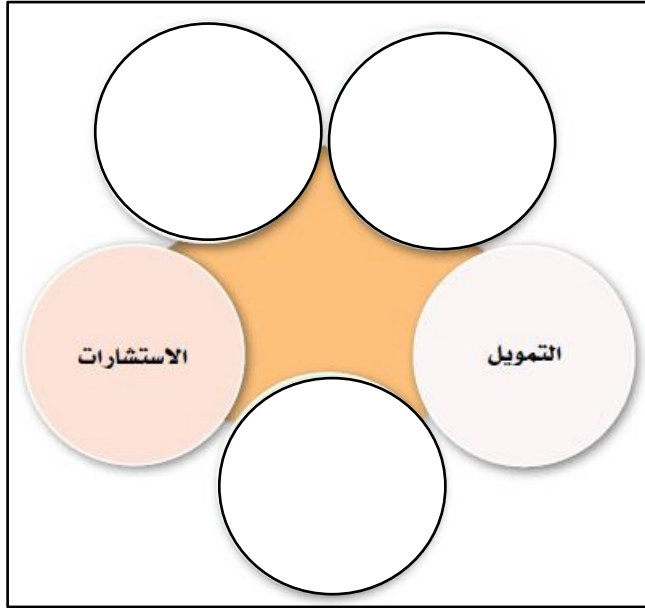
ج

نشاط ٢ . برأيك ما التحديات التي قد تواجه المؤسسات الصغيرة والمتوسطة؟

.....

.....

نشاط ٣. أكمل بيانات المخطط الآتي الذي يبيّن خدمات هيئة تنمية المؤسسات الصغيرة والمتوسطة.



نشاط ٤. " تعد التجربة العمانية في مجال المؤسسات الصغيرة والمتوسطة تجربة رائدة ، حيث تسعى السلطنة لتفعيل دور تلك المؤسسات لتسهم بشكل ملموس في عجلة الاقتصاد العماني " في ضوء ذلك أجب عن الآتي:

أ. ما الأهداف التي وردت في رؤية عمان ٢٠٤٠ لتطوير المؤسسات الصغيرة والمتوسطة؟

.....

ب. اقترح عدد من الإجراءات لتفعيل دور المؤسسات الصغيرة والمتوسطة في الاقتصاد العماني.

.....

.....

نشاط ٥. علل "أصبحت المؤسسات الصغيرة والمتوسطة الركيزة الأساسية للاقتصاد العالمي"

.....

في هذا الدرس أتعلم:

١. مفهوم الثورة الصناعية الرابعة. ٢. تقنيات الثورة الصناعية الرابعة.

### المناقشة:

س ١. "أسهم التطور الهائل والمتسارع الذي يشهده العالم اليوم في المجالين المعلوماتي والتكنولوجي في ظهور ما يعرف الثورة الصناعية الرابعة" في ضوء ذلك أجب عن الآتي.

أ. عرف الثورة الصناعية الرابعة.

.....

ب. ما أهمية الثورة الصناعية الرابعة؟

.....

ج. صاحب ظهور الثورة الصناعية الرابعة العديد من التقنيات اذكرها؟

.....

س ٢. عرف كلا من :

أ. الذكاء الاصطناعي.

.....

ب. الواقع الافتراضي.

.....

ج. انترنت الأشياء.

.....

س ٣. عدد المجالات التي توظف تقنيات الثورة الصناعية الرابعة.

.....

.....

الواجب المنزلي:

برأيك كيف تسهم تقنيات الثورة الصناعية الرابعة في تنمية المجالات الآتية:  
أ. البحث العلمي.


.....

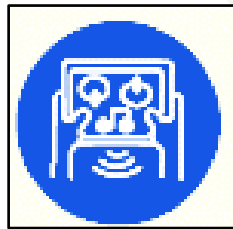
ب. الاقتصاد.


.....


الأنشطة:

نشاط ١. انسب التقنيات الموضحة بين القوسين إلى ما يناسبها من أشكال.  
( الواقع الافتراضي . الذكاء الاصطناعي . انترنت الأشياء . التقنيات الحاسوبية )











نشاط ٢. تقنية الثورة الصناعية الرابعة التي يوضحها الشكل المقابل هي:

أ. التقنيات الحاسوبية

ب. الواقع الافتراضي

ج. الروبوتات

د. الذكاء الاصطناعي



في هذا الدرس أتعلم:

١. أهمية الاقتصاد القائم على المعرفة. ٢. جهود السلطنة في الاهتمام بالاقتصاد القائم على المعرفة

المناقشة:

س ١. ما المقصود بالاقتصاد القائم على المعرفة؟

.....

س ٢. ما الخصائص التي يتميز بها الاقتصاد القائم على المعرفة؟

.....

.....

س ٣. "تسعى السلطنة الى التحول للاقتصاد القائم على المعرفة وذلك من خلال مجموعة من الإجراءات التي تتماشى مع رؤية عمان ٢٠٤٠" في ضوء العبارة السابقة أجب عن الآتي.

أ. سم الاستراتيجية التي اتبعتها السلطنة في هذا المجال.

.....

ب. تتكون هذه الاستراتيجية من عدة محاور اذكرها.

.....

.....

الواجب المنزلي:

قارن بين الاقتصاد القائم على المعرفة والاقتصاد التقليدي كما هو موضح في الجدول.

الاقتصاد التقليدي	الاقتصاد القائم على المعرفة	
		الأسواق
		المرونة
		المحرك الأساسي للاقتصاد
		المكان



الأنشطة:

نشاط ١. برأيك ما دور الاقتصاد القائم على المعرفة في تنمية اقتصاديات الدول.



نشاط ٢. ادرس الشكل المقابل ثم أجب عن الآتي.

أ. سم المشروع الموضح أمامك. ....

ب. ما الجهة المشرفة على هذا المشروع؟ .....

نشاط ٣. وضح دور وزارة التقنية والاتصالات ( سابقا ) في تنمية الاقتصاد الوطني.

نشاط ٤. اكتب نبذة مختصرة عن مركز ساس لمحاكاة الواقع مبيناً الآتي:

أ. سنة الانشاء. ب. الهدف منه.

نشاط ٥. الجهة الحكومية التي تشرف على المشروع الموضح أمامك في سلطنة عمان هي:

أ. وزارة التربية والتعليم ب. وزارة النقل والاتصالات وتقنية المعلومات



ج. وزارة التجارة والصناعة وترويج الاستثمار د. وزارة التراث والسياحة

نشاط ٦. العام الميلادي الذي أنشئ فيه مركز ساس لمحاكاة الواقع:

أ. ٢٠١١ م ب. ٢٠١٢ م ج. ٢٠١٣ د. ٢٠١٤

نشاط ٧. عرّف كلا من:

أ. الحوكمة.

ب. الجيل الجديد.

# الوحدة الثانية

## وطني عُمان ..هُويّة راسخة ومواكبة للعصر

### دروس الوحدة:

- ١- الهوية العمانية.. استحضار الموقع واستنطاق التاريخ.
- ٢- الهوية العمانية في ظل الثورة المعرفية.
- ٣- عمان ... والمواطنة العالمية.

في هذا الدرس أتعلم:

١- ماهية الهوية العمانية. ٢. مرتكزات الهوية العمانية.

### المناقشة:

س ١. " لكل أمة هوية تميزها عن غيرها من الأمم ونسعى جاهدة للمحافظة عليها" في ضوء العبارة السابقة أجب عن الآتي:

أ. ما المقصود بالهوية؟

.....


ب. ما الدلالة اللغوية لمصطلح الهوية؟

.....

س ٢. تقوم الهوية العمانية على عدد من المرتكزات اذكرها.

.....

س ٣. المرتكز الذي تقوم عليه الشخصية العمانية الموضح أمامك هو:



أ. التاريخ ب. الدين الإسلامي

ج. الجغرافيا د. اللغة العربية

### الواجب المنزلي:

ادرس الشكل المقابل ثم أجب عن الأسئلة الآتية.

أ. سم المرتكز الذي تقوم عليه الهوية العمانية الموضح أمامك.

.....

ب. وضح كيف ساهم هذا المرتكز في تشكيل الشخصية العمانية.

.....


.....



الأنشطة:

نشاط ١ . "تعرف الهوية بأنها السمات والخصائص المشتركة التي تشعر الفرد بانتمائه وولائه لوطنه"  
في ضوء العبارة السابقة اذكر بعض تلك السمات.

نشاط ٢ . بالاستعانة بالأشكال الاتية تعرف على أهم مرتكزات الهوية العمانية.



في هذا الدرس أتعلم:

١- ارتباط الإنسان العماني بهويته الوطنية.

### المناقشة.

س ١. اذكر أهم الحضارات القديمة التي قامت في عمان.

.....

س ٢. ما النتائج التي ترنبت على تمسك العمانيين بالمبادئ السمحة للدين الإسلامي؟

.....

س ٣. دلل على تمسك الإنسان العماني ببيئته رقم قساوة تضاريسها.

.....

س ٤. استطاعت قوات السلطنة المسلحة تحرير جبال ظفار من حركة التمرد المدعومة من الخارج عام

د - ١٩٧٥م

ج - ١٩٧٠م

ب - ١٩٦٥م

أ - ١٩٦٠م

### الواجب المنزلي:

اقرأ الأبيات الآتية، ثم أجب عن الأسئلة التي تليها:

وَأَبَيْتُ بَحْرَةَ الْمَزُونِ إِبَاءَ  
لِعُمَانَ لَا شَيْعًا وَلَا أَجْزَاءَ  
فَالْعِلْمُ سَوْفَ يُبَدِّدُ الظُّلْمَاءَ

آمَنْتُ بِالْوَطَنِ الصَّغِيرِ جَمِيعِهِ  
وَشَهَدْتُ ضَمْنَ شَهَادَتِي شَهَادَةً  
يَا أُمَّنَا الْكُبْرَى عُمَانُ تَفْءَالِي

أ. ما الفكرة الرئيسية الواردة في الأبيات؟

.....

ب. استخرج من الأبيات قيم الانتماء والولاء.

.....

## الأنشطة:

نشاط ١. من خلال الشكل المقابل استنتج الحضارات التي كانت على صلة بعمان قديما.



.....

.....

.....

نشاط ٢. تحتفل السلطنة بيوم القوات المسلحة الذي يصادف الحادي عشر من شهر:

- أ. سبتمبر      ب. أكتوبر      ج. نوفمبر      د. ديسمبر

نشاط ٣. "يعد الحوار من أبرز وسائل التفاعل الحضاري والتواصل الثقافي بين مختلف الشعوب"

في ضوء العبارة السابقة أجب عن الآتي:

أ. ما المقصود بثقافة الحوار؟

.....

ب. من أين نستمد ثقافة الحوار؟

.....

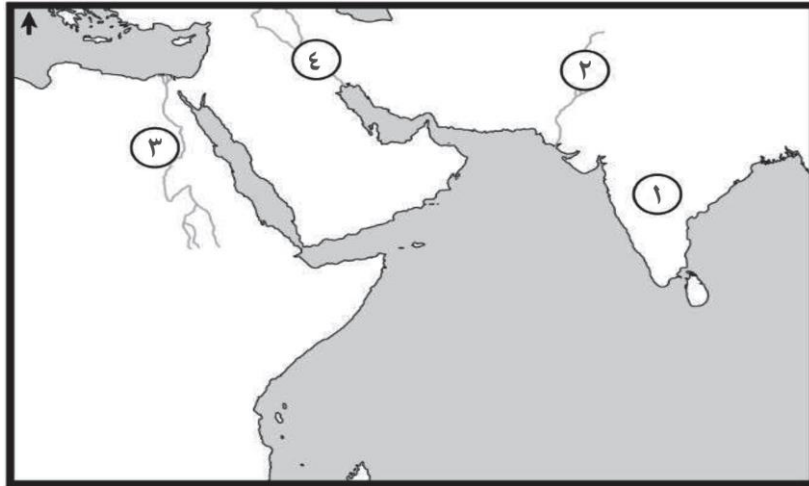
ج. ما الآداب التي تقوم عليها ثقافة الحوار؟

.....

د. برأيك ما أهمية تعزيز ثقافة الحوار لدى الأفراد؟

.....

نشاط ٤ . الجهات الصحيحة التي تقع فيها الحضارات القديمة المشار إليها بالأرقام على الخريطة بالنسبة لموقع عمان:



١ الشرق.  
٢ الشمال الغربي.  
٣ الغرب.  
٤ الشمال الشرقي.

١ الغرب.  
٢ الشمال الشرقي.  
٣ الشرق.  
٤ الشمال الغربي.

١ الشمال الغربي.  
٢ الغرب.  
٣ الشمال الشرقي.  
٤ الشرق.

١ الشرق.  
٢ الشمال الشرقي.  
٣ الغرب.  
٤ الشمال الغربي.

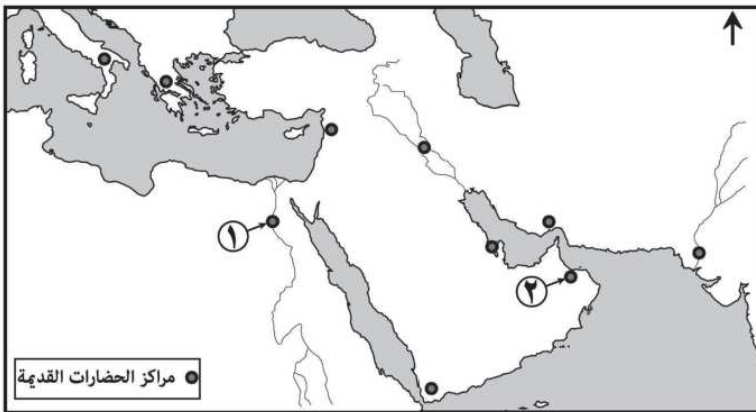
د

ج

ب

أ

نشاط ٥ . ادرس خريطة الحضارات القديمة الآتية ثم أجب عن الأسئلة.



أ . سم الحضارات القديمة المشار إليها:

بالرقم (١) .....

بالرقم (٢) .....

ب . اكتب حضارة بلاد الرافدين في موقعها الصحيح على الخريطة.

في هذا الدرس أتعلم:

١- ماهية الثورة المعرفية. ٢. أهمية الثورة المعرفية.

### المناقشة:

س ١. ما المقصود بالثورة المعرفية؟

.....

س ٢. ما أهمية الثورة المعرفية التي يشهدها العالم في الوقت الحاضر.

.....

س ٣. ما النتائج المترتبة على ظهور شبكة المعلومات العالمية على الجانب المعرفي؟

.....

### الواجب المنزلي:

أسهم تدفق المعارف والمعلومات في تعزيز الهوية الوطنية للفرد. فسر ذلك .

.....

.....

### الأنشطة:

نشاط ١. برأيك ما هي أهم التحديات العالمية التي قد تؤثر على الهوية الوطنية؟

.....

.....

نشاط ٢. كيف يمكن الاستفادة من وسائل التواصل الاجتماعي في الحياة اليومية؟

.....

.....



في هذا الدرس أتعلم:

١- آثار الثورة المعرفية على الهوية الوطنية. ٢. جهود السلطنة في المحافظة على الهوية الوطنية.

المناقشة:

س ١. ما الآثار الإيجابية والسلبية للثورة المعرفية على الجوانب الثقافية والاجتماعية.

الجوانب الاجتماعية	الجوانب الثقافية	
		الإيجابية
		السلبية



س ٢. ادرس الشكل المقابل ثم أجب عن الآتي.

أ. وضح القضية التي يجسدها الرسم.

.....

ب. ما الأبعاد السلبية لهذه القضية؟ وكيف تؤثر على الهوية العمانية؟

.....

.....

.....

ج. ما الإجراءات التي يمكن اتباعها لمعالجة هذه القضية والتخفيف من آثارها؟

.....

.....

س ٣. دلل على جهود السلطنة في المحافظة على الهوية العمانية.

.....

.....

الواجب المنزلي:

" تتمثل تأثيرات الثورة المعرفية على الجوانب الاجتماعية في ظهور قيم مغايرة للقيم السائدة في المجتمع " في ضوء ذلك أجب عن الآتي:  
أ. اذكر اثنين من تلك القيم.

.....

ب. ما النتائج المترتبة على انتشار تلك القيم؟

.....  
.....

الأنشطة:

نشاط ١. ما المقصود بالمواطنة الرقمية؟

.....

نشاط ٢. " إن التوجه نحو المستقبل والتعامل مع مستجداته والحفاظ على السمات الثقافية بتنوعها وتسامحها يشكل مدخلا منشوداً لرؤية عمان ٢٠٤٠ وهو القائم على الانفتاح على العالم بجذور راسخة وفهم واضح لمكونات الهوية العمانية " في ضوء ذلك أجب عن الآتي:  
أ. استنتج القيم المرتبطة بالهوية الوطنية التي وردت في النص.

.....


ب. ما المصدر الذي أخذ منه النص السابق؟

.....

نشاط ٣. المصطلح الذي يعني الاستخدام المسؤول والأخلاقي والآمن لتكنولوجيا المعلومات والاتصالات:

أ. الفجوة الرقمية      ب. المواطنة الرقمية      ج. الثورة الرقمية      د. الشبكة الرقمية

نشاط ٤. الأثر السلبي للثورة المعرفية على الجوانب الاجتماعية والذي تعبر عنه الصورة الآتية:



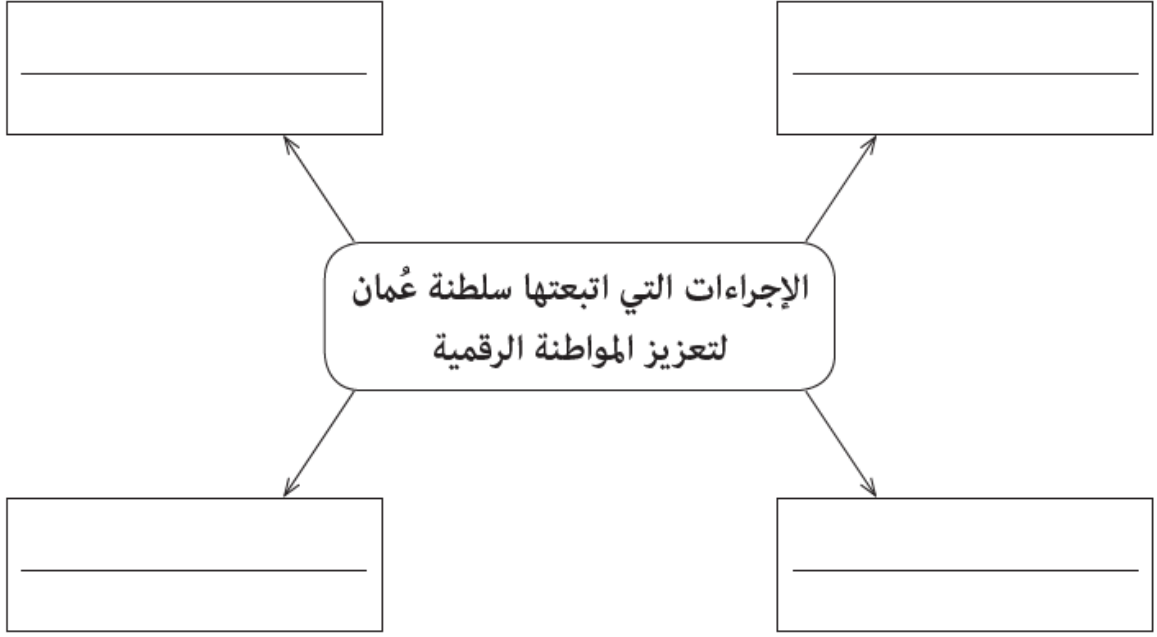
أ. تعزيز الهوية الوطنية

ب. اكتساب القيم والاتجاهات

ج. زيادة العزلة الاجتماعية

د. تقوية الروابط الأسرية

نشاط ٥. أكمل المخطط الآتي:



في هذا الدرس أتعلم:

١- أسباب ظهور المواطنة العالمية. ٢. صفات المواطن العالمي.

### المناقشة:

س ١ . بما تفسر توجه المجتمعات الإنسانية إلى الانفتاح نحو الثقافات الأخرى والانتماء إلى المجتمع الدولي؟

.....

س ٢ . ما المقصود بالمواطنة العالمية؟

.....

س ٣ . عدّد أسباب ظهور المواطنة العالمية.

.....

.....

س ٤ . اكتب خصائص المواطنة العالمية.

.....

.....

.....

### الواجب المنزلي:

بالرجوع إلى الآيات ( ١١ . ١٣ ) من سورة الحجرات ، استخلص القيم المرتبطة بالمواطنة العالمية التي دعت إليها.

.....

.....

الأنشطة:

نشاط ١. " لقد جاء الإسلام منذ فترة مبكرة من تاريخ الإنسانية بقيم الأمة الواحدة"  
اذكر دليلاً من القرآن يدل على العبارة السابقة.

.....

نشاط ٢. يتصف المواطن العالمي بالعديد من الصفات اذكرها.

.....

.....

نشاط ٣. أكمل بيانات الشكل الآتي:



نشاط ٤. اقرأ النص الآتي، ثم أجب عن الأسئلة التي تليه:

" المواطنة العالمية ترى بأن لكل إنسان الحق في المحافظة على هويته الوطنية، وفي الوقت نفسه تؤكد على انتمائه لمكان أوسع ( الكرة الأرضية ) وإلى مجموعة بشرية أكبر ( المجتمع الإنساني ).  
أ. استخراج قيم المواطنة العالمية.

.....

ب. وضح العلاقة بين المواطنة العالمية والهوية الوطنية.

.....

ج. ما أهمية تعزيز قيم المواطنة العالمية لدى أطفال العالم اليوم؟

.....

.....

في هذا الدرس أتعلم:

١- اهتمام سلطنة عمان بتعزيز قيم المواطنة العالمية.

### المناقشة.

س ١. دلل على جهود السلطنة في تعزيز قيم المواطنة العالمية.

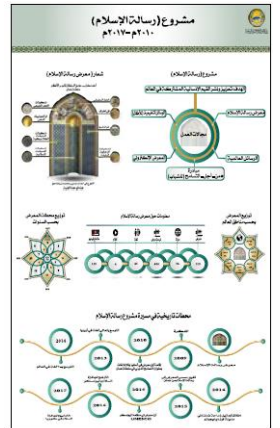
.....

.....

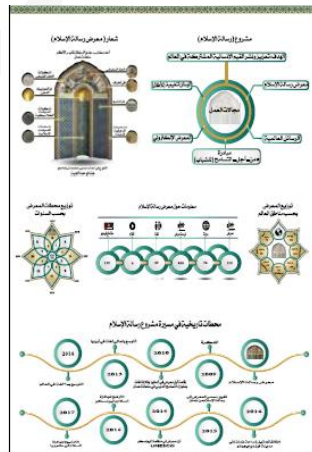
س ٢. انضمت سلطنة عمان إلى منظمة الأمم المتحدة عام:

أ. ١٩٧٠ م      ب. ١٩٧١ م      ج. ١٩٧٢ م      د. ١٩٧٣ م

س ٣. تعرّف على جهود السلطنة لتعزيز قيم المواطنة العالمية من خلال الصور الآتية:



س ٤. الجهد الذي تبذله السلطنة لتعزيز قيم المواطنة العالمية والذي يوضحه الشكل المقابل هو:



أ. الأيام الثقافية العمانية

ب. المدارس العمانية

ج. معرض رسالة الإسلام

د. جائزة اليونسكو



### الواجب المنزلي:

ادرس الشكل المقابل ثم أجب عن الآتي.

أ. سم الفعالية الموضحة أمامك.

.....

ب. برأيك كيف تسهم هذه الفعالية في تعزيز قيم المواطنة العالمية.

.....

### الأنشطة:

نشاط ١. ادرس الشكل المقابل ثم أجب عن الآتي:

أ. سم المشروع الموضح أمامك.

.....

ب. متى تم الإعلان عن هذا المشروع؟

.....

ج. ما الهدف من هذا المشروع؟

.....

نشاط ٢. تم الإعلان عن مشروع السلطان قابوس للمؤتلف العماني عام:

أ. ٢٠١٦ م

ب. ٢٠١٧ م

ج. ٢٠١٨ م

د. ٢٠١٩ م

هـ. ٢٠١٩ م

نشاط ٣. بالرجوع إلى ( كلمات مضيئة ) في الكتاب المدرسي (الصفحة ١١١) أجب عن الآتي:

أ. استنتج الإجراءات التي يجب على الدول اتباعها لتحقيق الأمن والسلام العالمي.

.....

.....

ب. ما المصدر الذي أخذ منه النص السابق؟

.....



نشاط ٤ .

أ. سم الشخصية الموضحة أمامك.

.....

ب. متى تم ادراجه ضمن قائمة الشخصيات العالمية؟

.....

ج. علل ادراج هذه الشخصية ضمن الشخصيات العالمية.

.....