

تم تحميل هذا الملف من موقع المناهج العُمانية



*للحصول على أوراق عمل لجميع الصفوف وجميع المواد اضغط هنا

<https://almanahj.com/om>

* للحصول على أوراق عمل لجميع مواد الصف الثاني عشر اضغط هنا

<https://almanahj.com/om/12>

* للحصول على جميع أوراق الصف الثاني عشر في مادة هذا وطني ولجميع الفصول, اضغط هنا

<https://almanahj.com/om/12country>

* للحصول على أوراق عمل لجميع مواد الصف الثاني عشر في مادة هذا وطني الخاصة بـ الفصل الثاني اضغط هنا

<https://almanahj.com/om/12country2>

* لتحميل كتب جميع المواد في جميع الفصول للـ الصف الثاني عشر اضغط هنا

<https://almanahj.com/om/grade12>

للتحدث إلى بوت على تلغرام: اضغط هنا

https://t.me/omcourse_bot

المديرية العامة للتربية والتعليم بمحافظة جنوب الباطنة
دائرة التقويم التربوي "قسم مراقبة وتقويم التحصيل الدراسي"
امتحان تدريبي للصف الثاني عشر للعام الدراسي ١٤٤١ / ١٤٤٢ هـ — ٢٠٢٠ / ٢٠٢١ م
المادة: الدراسات الاجتماعية " هذا وطني "

السؤال الأول: ضع دائرة حول رمز الإجابة الصحيحة لكل مفردة من المفردات الآتية:

(١) القائد العماني الذي حرر جبال ظفار من حركة المتمردين المدعومة من الخارج في السبعينات من القرن العشرين:

أ- سعيد بن سلطان ب- فيصل بن تركي ج- سعيد بن تيمور د- قابوس بن سعيد

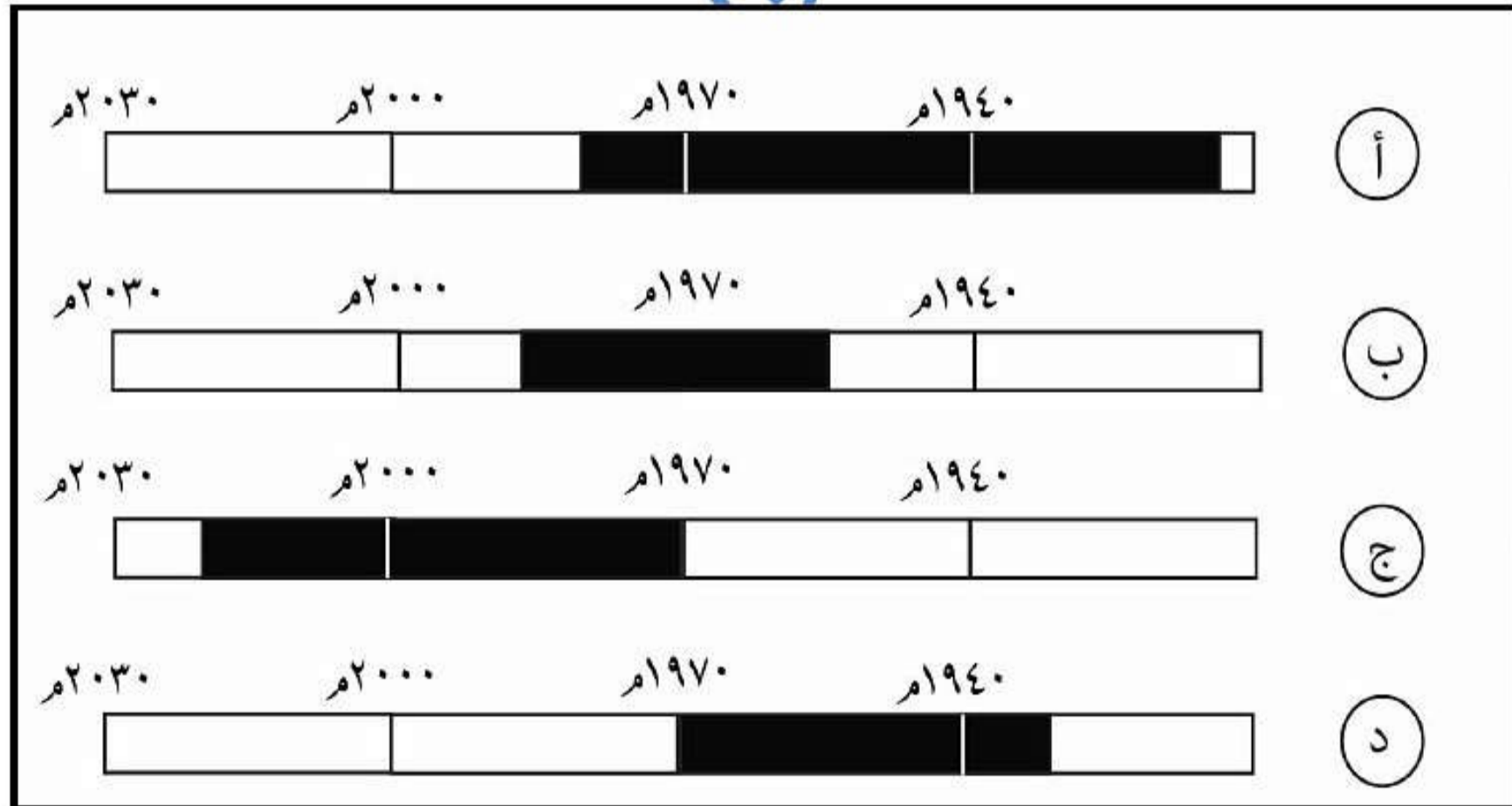
(٢) المحافظة العمانية التي يوجد فيها المعلم التاريخي الواضح في الشكل المقابل:



أ- جنوب الشرقية ب- جنوب الباطنة

ج- مسقط د- البريمي

(٣) المسطرة الزمنية التي يمثل فيها الجزء المظلل فترة حكم السيد سعيد بن تيمور لعمان:

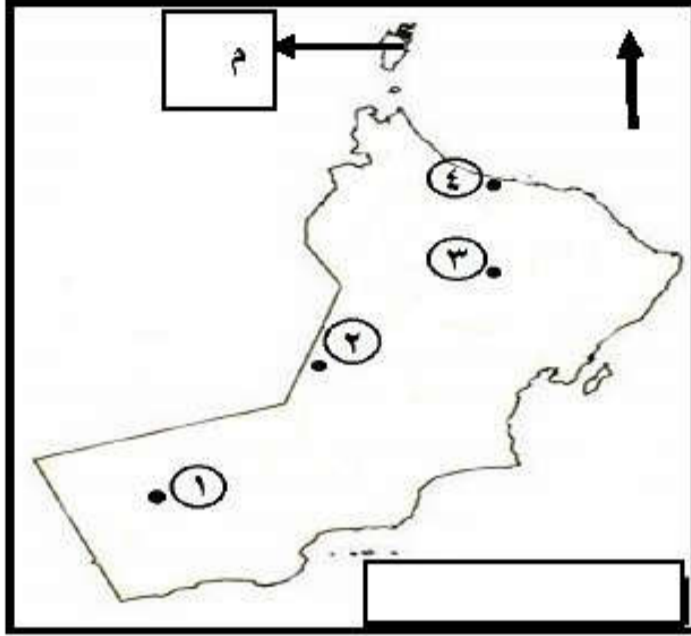


(٤) أول ظهور للمدارس النظامية في عمان في عهد السيد:

أ- فيصل بن تركي ب- سعيد بن سلطان ج- حمود بن فيصل د- تيمور بن فيصل

تابع: الامتحان التدريبي للصف الثاني عشر للعام الدراسي ٢٠٢٠ / ٢٠٢١ م المادة " هذا وطني "

تابع السؤال الأول: ضع دائرة حول رمز الإجابة الصحيحة لكل مفردة من المفردات الآتية:
(الإجابة على المفردتين (٥) و (٦) من خلال خريطة سلطنة عمان)



(٥) الرقم الذي يشير إلى موقع مدينة خزائن الاقتصادية:

أ- ١

ب- ٢

د- ٤

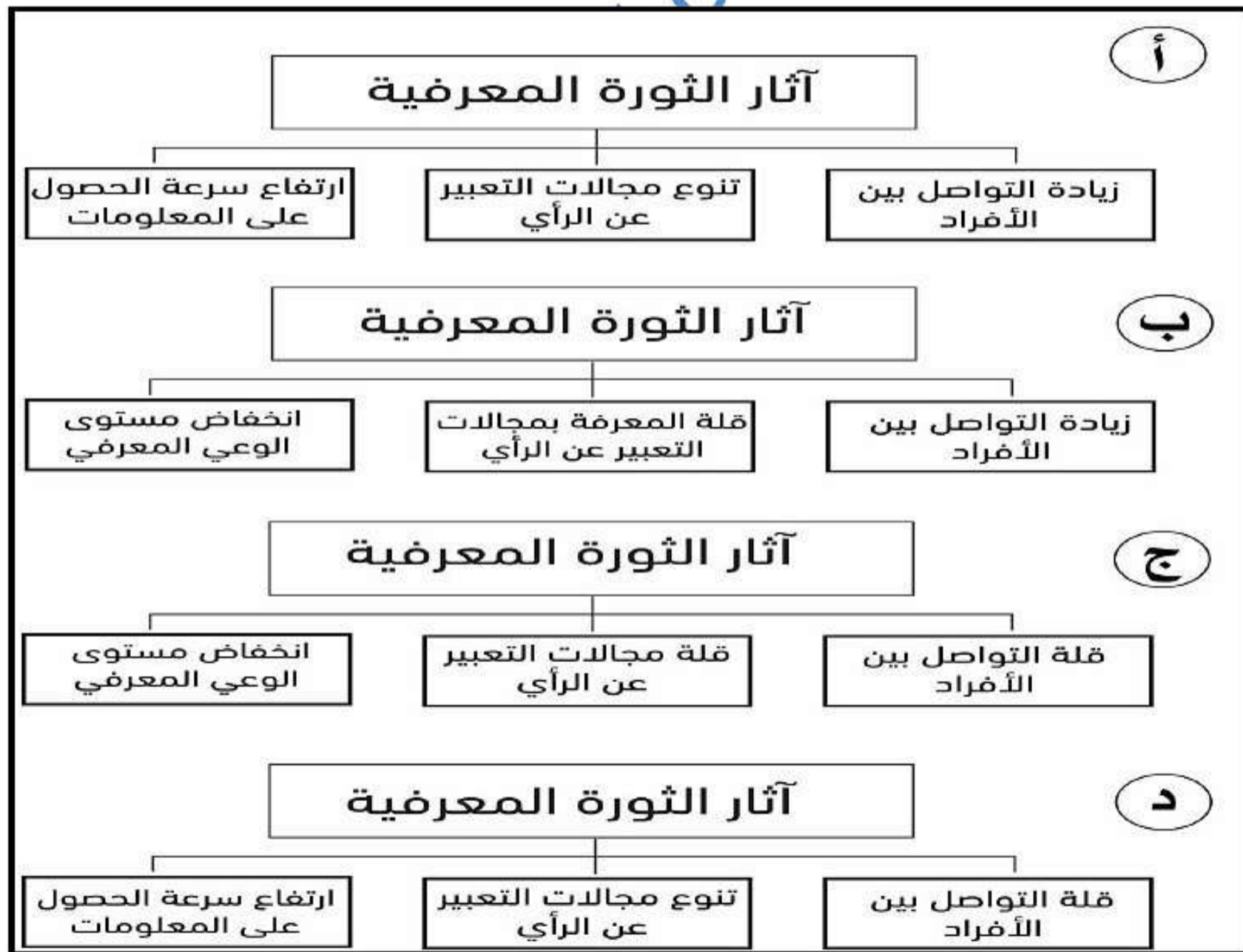
ج- ٣

(٦) المشروع الاقتصادي الذي أقيم في المحافظة

المشار إليها بالرمز (م):

أ- ميثانول الأمونيا ب- معالجة الغاز ج- النماء للدواجن د- مزون للألبان

(٧) المخطط الصحيح الذي يوضح الآثار الإيجابية لشبكة المعلومات العالمية وتطبيقاتها:



تابع السؤال الأول: ضع دائرة حول رمز الإجابة الصحيحة لكل مفردة من المفردات الآتية:

٨) التحدي الذي يواجهه سوق العمل العالمي نتيجة دخول المؤثرات الواضحة في الشكل المقابل:



ب- تدني المهارات الفنية

ا- تنوع فرص العمل

د- تنوع عمليات الانتاج

ج- فقدان فرص العمل

٩) يصنف كتاب "برهان الحق" للعلامة أحمد بن حمد الخليفي ضمن علوم:

د- البلاغة

ج- اللغة والأدب

ب- التاريخ

ا- الشريعة الإسلامية

١٠) العام الميلادي الذي صدر فيه المرسوم السلطاني بإنشاء وزارة العمل:

د- ٢٠٢٠

ج- ٢٠١٥

ب- ٢٠١٠

أ- ٢٠٠٥

١١) المفهوم الذي يشير إليه الرمز (ص) في المخطط

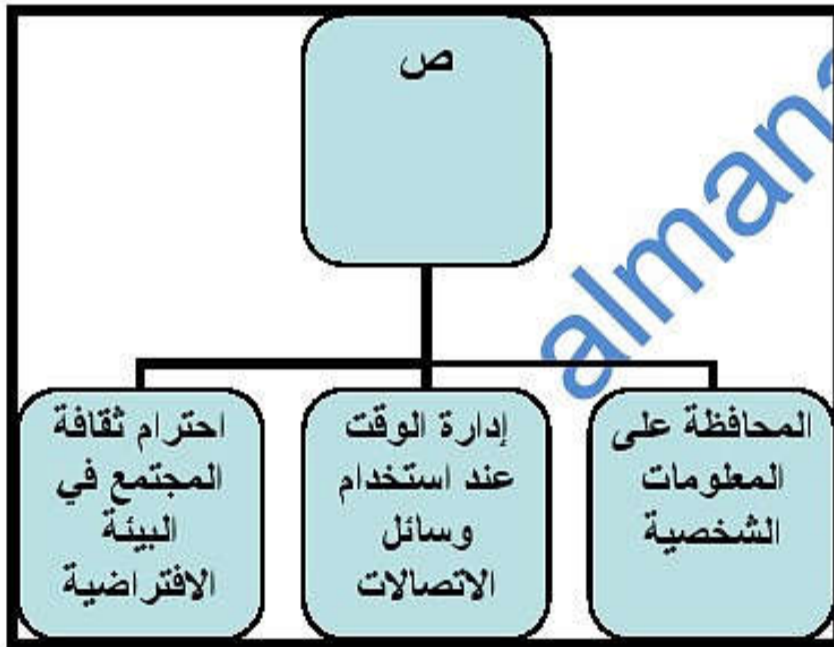
المقابل:

ب- المواطنة الرقمية

أ- الثورة المعرفية.

د- المواطنة العالمية

ج- الذكاء الاصطناعي



١٢) المرتكز الذي تقوم عليه الهوية العمانية في الحوار والتواصل الفكري:

د - التاريخ المشترك

ج- الموقع الجغرافي

ب- القيم الإنسانية

أ- اللغة العربية

تابع الأسئلة الموضوعية: ضع دائرة حول رمز الإجابة الصحيحة لكل مفردة من المفردات الآتية:

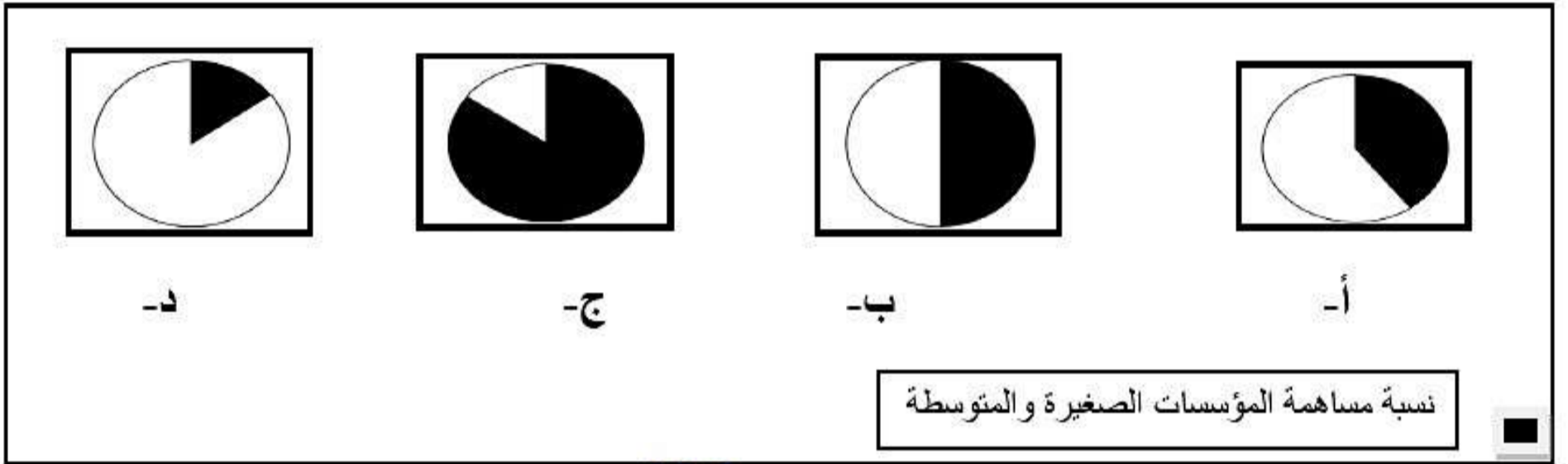
١٣) الفائدة التي يجنيها الفرد من العمل في مشروع صغير:

- أ- تنمية المواهب والابتكار
ب- تحقيق التوازن الجغرافي التنموي
ج- تعزيز اقتصاد الدولة
د- تحقيق التكامل الاقتصادي المؤسسي

١٤) إذا بلغ عدد العاملين في مؤسسة ما، ١٠٠ عامل، وحجم إيراداتها ٤ مليون ريال عماني، فإنها تصنف ضمن المؤسسات:

- أ- الصغرى ب- الصغيرة ج- المتوسطة د- الكبيرة

١٥) القطاع الدائري الذي يمثل نسبة مساهمة المؤسسات الصغيرة والمتوسطة في الناتج المحلي للولايات المتحدة الأمريكية عام ٢٠١٧ م:



الأسئلة المقالية: أجب عن جميع الأسئلة الآتية:

١٦) أ_ عرف المصطلحات الآتية:

١- الهوية:

٢- هيئة تنمية المؤسسات الصغيرة والمتوسطة:

ب- اذكر دوراً حضارياً واحداً قامت به كلٌّ من الشخصيات العمانية في الجدول الآتي:

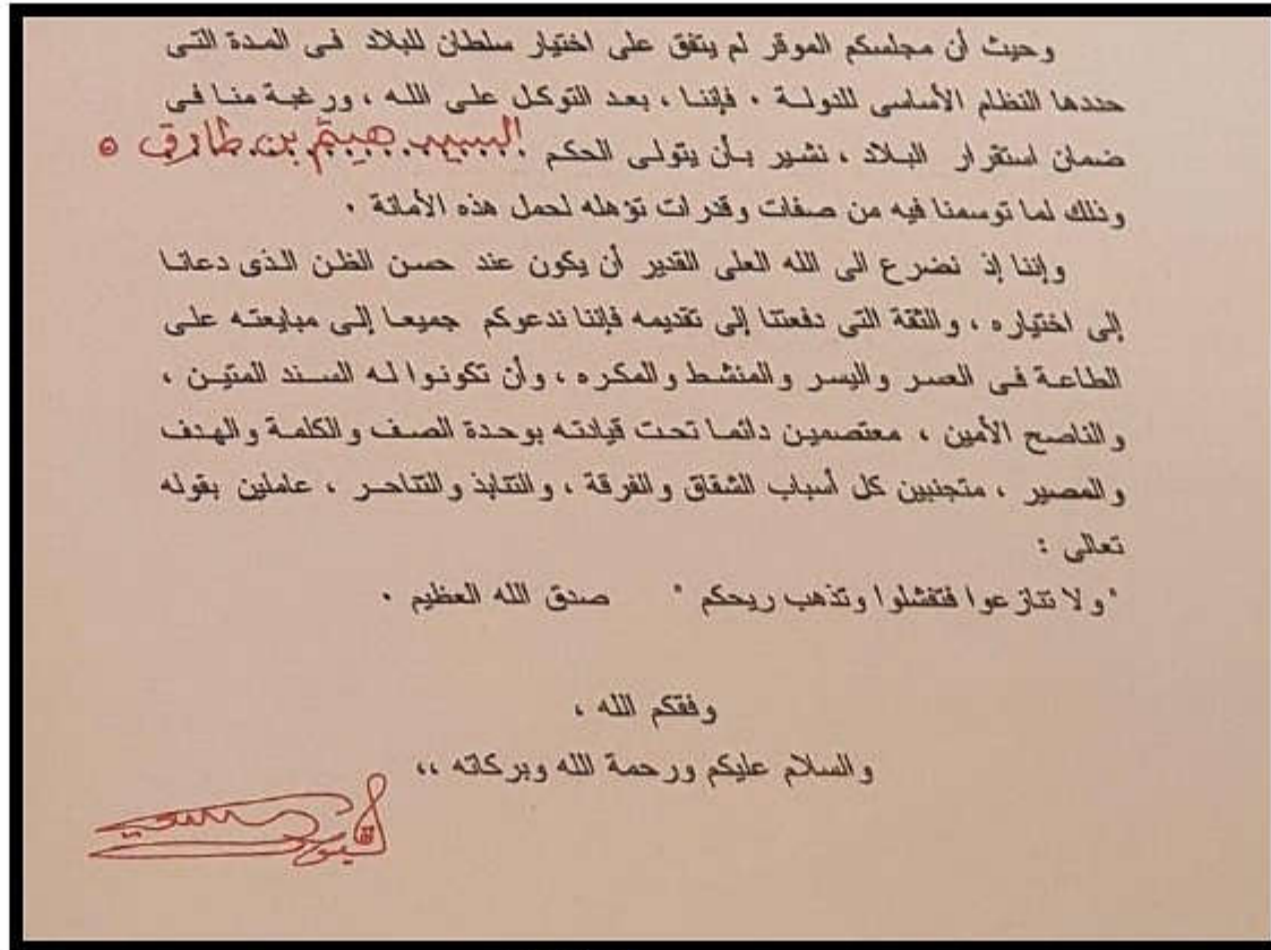
الشخصية	الدور الحضاري الذي قام به
١- سعيد بن خلفان البوسعيدي	
٢- الشيخ ناصر بن جاعد الخروصي	

ج

١- دلل على النشاط التجاري الذي قام به ميناء مسقط في نهاية القرن الثامن عشر.

٢- وضح العلاقة بين الدين الإسلامي والهوية العمانية.

أ- من خلال دراستك لجزء من رسالة جلالة السلطان طيب الله ثراه- إلى أعضاء مجلس العائلة، اجب عن الأسئلة الآتية:



١- استخراج القيم المتضمنة في الرسالة السابقة حسب الجدول الآتي:

	قيمة سياسية
	قيمة اجتماعية

٢- وضح نهج السياسة الخارجية الذي اتبعه السلطان هيثم بن طارق بعد توليه الحكم

ب- اكتب اسم الشخصية التاريخية حسب الإنجاز الحضاري الذي قامت به في الجدول الآتي:

المنجز الحضاري	اسم الشخصية التاريخية
١- بيت العجائب	
٢- مدرسة بيت القرن	

ج- اذكر اثنين من الأفعال الإجرامية التي يعاقب عليها قانون مكافحة جرائم تقنية المعلومات في السلطنة.

أ- : قارن بين سوق العمل المحكم، وسوق العمل الراكد حسب الجدول الآتي:

وجه المقارنة	سوق العمل المحكم	سوق العمل الراكد
عدد الوظائف المتاحة		
عدد الباحثين عن عمل		

ب-

- ١- ما دلالة: بناء الإنسان العماني المدرجات الجبلية رغم قساوة التضاريس؟
- ٢- ما أهمية التواصل الحضاري العماني مع الحضارات القديمة؟
- ج- وضح العلاقة بين التنشئة الاجتماعية والهوية العمانية.....

١٩ أ- ادرس القطاعات الاستثمارية في الشكل المقابل، ثم اجب عن الأسئلة الآتية:



١- استنتج قطاعين اقتصاديين قديمين اسهما في نمو الاقتصاد العماني.

.....

٢- اذكر اثنين من الخدمات نفذتها السلطنة لنجاح المشاريع الاقتصادية ضمن القطاع المشار إليه بالرمز (س)

.....

٣- ما النتائج المترتبة لاعتماد قطاع الصناعات التحويلية على التكنولوجيا على كلا من:

الوظائف:

عمليات الإنتاج:

ب- "شهدت التركيبة العمرية للسكان العمانيين تغيرا طفيفا: حيث ارتفعت نسبة السكان في الفئة العمرية الأقل من

١٥ سنة من ٣٥% في تعداد ٢٠١٠، إلى ٣٨% في تعداد ٢٠٢٠م" في ضوء ذلك

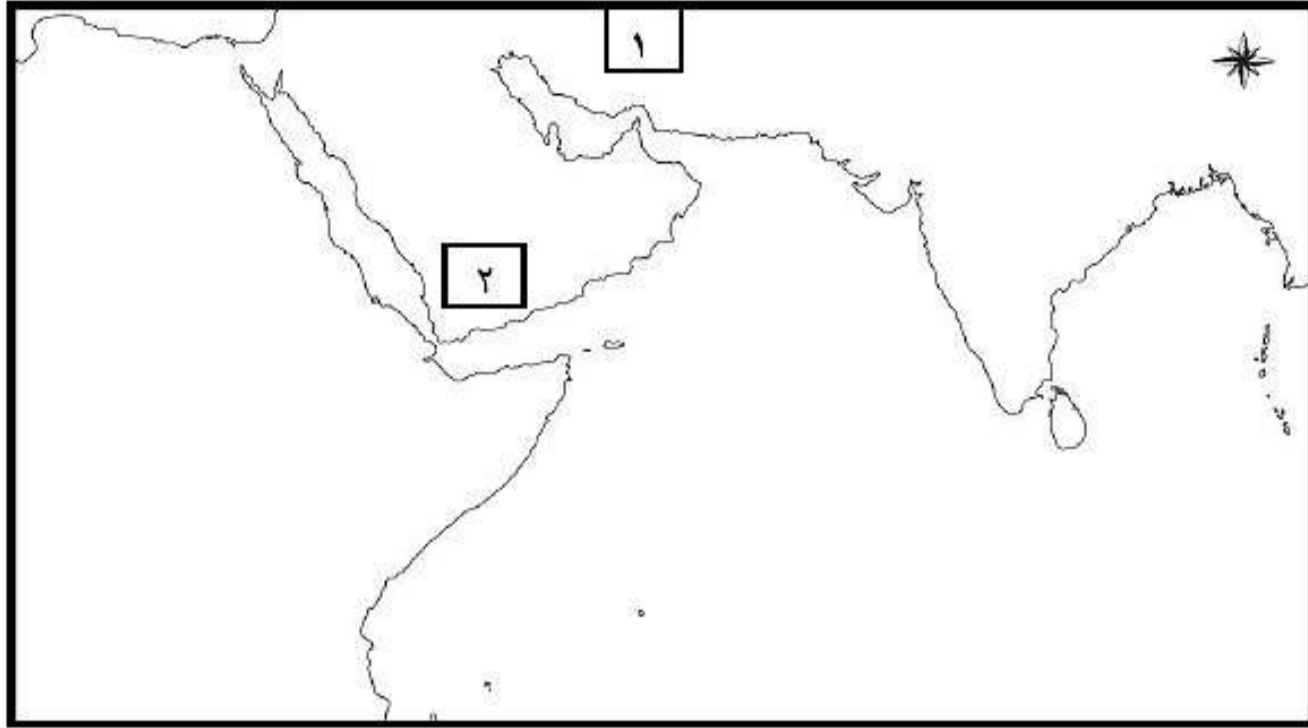
١ - بين التحديات المستقبلية التي ستواجهها السلطنة من خلال هذا الوضع السكاني في سوق العمل العماني.

.....

٢- اذكر اثنين من الخدمات التي تقدمها هيئة المؤسسات الصغيرة والمتوسطة في السلطنة للمشاريع الرائدة.

.....

٢٠) أ- ادرس الخريطة الآتية جيدا، ثم أجب عن الأسئلة التي تليها:



١- وقع على الخريطة ميناء عماني يقع في الشق الأفريقي وله شهرة عالمية في زمن البوسعيد

خلال الفترة (١٨٣٢-١٨٣٤م) مستخدما الرمز: Δ

٢- حضارة تقع شرق عمان وكان بينها وبين عمان تبادل تجاري منذ القدم. مستخدما الرمز: \bigcirc

ب- اذكر السلع المستوردة من المناطق المشار إليها بالأرقام في الخريطة زمن دولة البوسعيد:

المناطق	اسم السلع
(١)	
(٢)	

ج- ١- استنتج العامل المرتبط بالجغرافيا أسهم في التواصل الحضاري بين عمان والحضارات المجاورة.

٢- ما لآثار السلبية التي تتركها برامج التقنية الواضحة في الشكل المقابل على الهوية في الجوانب الآتية؟

١- الثقافية.....

٢- الاجتماعية.....





(٢١) أ- ادرس الشكل المقابل ثم اجب عن الأسئلة الآتية:

١- ما علاقة الموروث الذي تعبر عنه الصورة بالهوية العمانية؟

.....

.....

٢- ما دورك اتجاه هذا الموروث؟



ب- اذكر اثنين لكلٍ من:

١- جهود سلطنة عمان لتعزيز ثقافة ريادة الأعمال في المجال التعليمي.

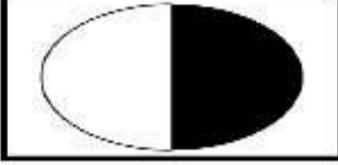
٢- المشاريع التي ركزت عليها رؤية عمان ٢٠٤٠، في مجال الاستثمار للمؤسسات الصغيرة والمتوسطة.

انتهت الأسئلة مع الدعاء للجميع بالتوفيق والنجاح

أولاً: إجابة السؤال الموضوعي:

المفردة	البديل الصحيح	الإجابة	الدرجة	الصفحة
١	د	قابوس بن سعيد	١	١٠٢
٢	ب	الباطنة جنوب	١	٤٤
٣	د		١	٣٧
٤	د	تيمور بن فيصل	١	٤٥
٥	د	٤	١	٨٤
٦	ب	معالجة الغاز	١	٨٤
٧	أ		١	١٠٣
٨	ج	فقدان فرص العمل	١	٨٢
٩	أ	الشريعة الإسلامية	١	٤٧
١٠	د	٢٠٢٠	١	٨٦
١١	ب	المواطنة الرقمية	١	١٠٥
١٢	أ	اللغة العربية	١	١٠٠
١٣	أ	تنمية المواهب والابتكار	١	٨٧

تابع إجابة الأسئلة الموضوعية:

الصفحة	الدرجة	الإجابة الصحيحة	المفردة	الجزئية
٨٨	١	متوسطة	ج	١٤
٨٧	١		ب	١٥
		المجموع		١٥

الدرجة الكلية : ٨

ثانيا: إجابة الأسئلة المقالية:

الصفحة	الدرجة	الإجابة الصحيحة	الجزئية/المفردة	السؤال
١٠٠	١	الهوية: مجموعة السمات والخصائص المشتركة؛ منها الثقافية، والاجتماعية، والجغرافية، والتاريخية التي تشعر الفرد بانتمائه وولائه لوطنه.	أ- ١	١٦
٨٨	١	مؤسسة حكومية تعنى بتنمية وتطوير المؤسسات الصغيرة والمتوسطة والتخطيط والترويج لها بالتنسيق بين القطاعين والخاص.	أ- ٢	
٤٥	١	- كان مترجما للسيد سعيد بن سلطان أثناء استقبال الوفود الرسمية في مسقط/ ونال لقب المندوب الفرنسي في مسقط / عينته فرنسا قنصلا فرنسيا لها في مسقط .	ب- ١	٤٧
٤٧	١	- ألف موسوعة "العلم المبين وحق اليقين" / ألف العديد من الكتب والمؤلفات العلمية	ب- ٢	
٤٢	٢	-بلغت التجارة التي تمر على ميناء مسقط في العقد الأخير من القرن الثامن عشر الميلادي ما يعادل خمسة أثمان مجموع التجارة في الخليج العربي/ التبادل التجاري مع موانئ المحيط الهندي. (يكتفى بذكر دور واحد)	ج- ١	
100	٢	يعتبر الدين الإسلامي مرتكز أساسي للهوية العمانية لأنها تستمد منه منبع التشريع/ ويهذب النفوس/ يبني الإنسان الصالح لكل زمان ومكان	ج- ٢	

الدرجة: ٨

السؤال	الجزئية/المفردة	الإجابة الصحيحة	الدرجة	الصفحة
١٧	أ - ١	قيمة سياسية: وحدة الصف / الكلمة / والمصير / الاعتصام تحت قيادة الحاكم/ تجنب الخلاف والنزاع/ تجنب الشقاق/ تجنب الفرقة/ تجنب التناذب/ تجنب التناحر قيمة اجتماعية: التعاون في العسر واليسر / وفي المنشط والمكره	١ ١	٤٠
	أ - ٢	- انتهج سياسة السلم والحوار / عدم التدخل في شؤون الغير (يكتفى بذكر نهج واحد)	٢	٤٧
	ب ١	- بيت العجائب: السلطان برغش بن سعيد	١	٤٥
	ب ٢	- مدرسة بيت القرن: الإمام أحمد بن سعيد	١	
	ج	- استخدام وسائل تقنية المعلومات في تزوير المعلومات. - عرض ونشر مواد منافية للأخلاق والقيم. - استخدام وسائل التقنية المزودة بألة تصوير في الاعتداء على حرمة الحياة الخاصة أو العائلية للأفراد. (يكتفى باثنين في سياق المعنى)	٢ لكل درجة	١٠٦

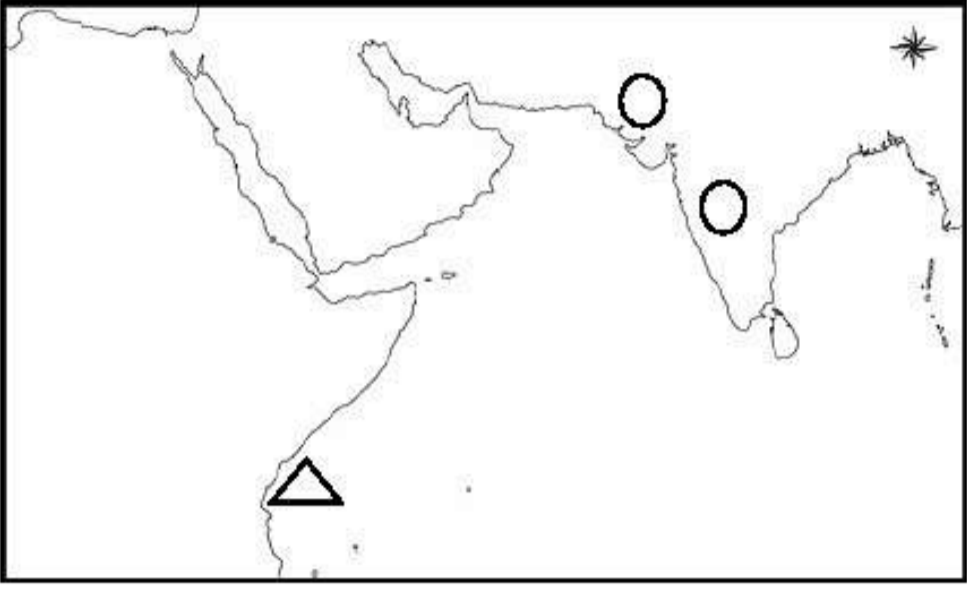
الدرجة: ٨

الجزئية	الجزئية/المفردة	الإجابة الصحيحة	الدرجة	الصفحة
١٨	أ	وجه المقارنة	سوق العمل	سوق العمل الراكد
		عدد الوظائف المتاحة	مرتفعة/ تتزايد/ كثيرة	قليلة/ تتناقص/ منخفضة
		عدد الباحثين عن عمل	قليل / منخفض	يتزايد/ يرتفع
١٨	ب - ١	إن العمانيين متمسكين بأرضهم/ القدرة على استغلال البيئة الطبيعية ومواردها	١	١٠٢
	ب - ٢	لعب التواصل الحضاري بين حضارة مجان والحضارات المجاورة كمرتكز للهوية العمانية/ وبين إن حضارة مجان قادرة على التفاعل مع الحضارات الأخرى	١	١٠١
	ج	لعبت مؤسسات التنشئة الاجتماعية دورا في بناء الشخصية العمانية من خلال دور الأسرة، والمسجد والمدرسة وجماعة الأقران ووسائل الاعلام في التنشئة والتربية وصقل شخصية الفرد وتربيته التربية الصحيحة مما عزز الهوية الوطنية العمانية.	٢	١٠٢

الدرجة: ٨

السؤال	الجزئية/ المفردة	الإجابة الصحيحة	الدرجة	الصفحة
	أ-١ أ-٢ أ-٣	<p>- الثروة السمكية والتعدين.</p> <p>- طريق الباطنة السريع/ مطار مسقط الدولي/ طريق بدبد صور/ مشاريع البنى الاقتصادية في الدقم / طريق أدم ثمريت. (يكتفى بذكر اثنين)</p> <p>النتائج المترتبة على</p> <p>- الوظائف: فقدان الكثير من الوظائف.</p> <p>- عمليات الإنتاج: اختزال عمليات الإنتاج/ تناقص عمليات الانتاج</p>	١ ١ ١	٨٤-٨٢
١٩	ب-١	<p>- توفير مزيد من الوظائف في القطاع الحكومي والخاص لمواجهة زيادة طلب الباحثين عن عمل للوظائف/ خطط لتنمية الموارد البشرية لمواجهة متطلبات سوق العمل/ تحسين القوانين والتشريعات المتعلقة بسوق العمل.</p>	٢	٨٥-٨٣
	ب-٢	<p>بطاقة رواد الأعمال/ دراسة الجدوى الاقتصادية للمشاريع/ الاستشارات/ التسهيلات الائتمانية من خلال البنوك/ التمويل/ تسريع تسليم الدفعات المالية للمؤسسات المرتبطة بالمشاريع الاقتصادية/ إنشاء محطة استثمار بسهولة/ تخصيص أراضي للاستثمار / اصدار تشريعات منظمة للاستثمار ومنع الاحتكار/ تنفيذ برامج تدريبية / تبني مشاريع ريادة الأعمال في البيئة المدرسية/ إلزام الشركات بتخصيص ما لا يقل من ١٠% من قيمة المناقصة لتمويل المشاريع المتوسطة والصغيرة. (يكتفى باثنين)</p>	٢ لكل درجة	٨٩ ٩٠

الدرجة: ٨

الصفحة	الدرجة	الإجابة الصحيحة	الجزئية/ المفردة	السؤال						
٤٣ ١٠١	٢ لكل درجة		أ- ١ أ- ٢							
٤٢	٢ لكل درجة	<table border="1"> <thead> <tr> <th>اسم السلع</th> <th>المناطق</th> </tr> </thead> <tbody> <tr> <td>الملح</td> <td>(١)</td> </tr> <tr> <td>البن</td> <td>(٢)</td> </tr> </tbody> </table>	اسم السلع	المناطق	الملح	(١)	البن	(٢)	ب-	٢٠
اسم السلع	المناطق									
الملح	(١)									
البن	(٢)									
١٠٤	٢ لكل درجة	<ul style="list-style-type: none"> - الموقع الجغرافي. - الآثار على الجوانب الثقافية: دخلت على اللغة العربية مفردات أجنبية/ ظهور أفكار وسلوكيات تخالف مبادئ الدين الإسلامي. - الآثار على الجوانب الاجتماعية: ظهور قيم مغايرة للقيم السائدة في المجتمع/ انتشار العزلة الاجتماعية/ قلة التجمعات الأسرية. 	ج- ١ ج- ٢							

الدرجة : هـ

الصفحة	الدرجة	الإجابة الصحيحة	الجزئية/ المفردة	السؤال
١٠٠	١	- يمثل هذا الموروث جزء من العادات والتقاليد العمانية وتمثل هوية المجتمع العماني الذي يشترك أفراده في الخصائص الثقافية والاجتماعية وتمثل إحدى مرتكزات الهوية التي تشكل الشخصية العمانية.	١- أ	٢١
١٠٠	١	-المحافظة عليه من أجل تعزيز الهوية العمانية لأنه يعد إحدى مرتكزاتها.	٢- أ	
٩١	١ ٢	-تضمين ثقافة ريادة الأعمال في المناهج الدراسية. - تبني مشاريع ريادة الأعمال في البيئة المدرسية. - مشاريع الابتكار/ الذكاء الاصطناعي/ التقنيات المتقدمة	١- ب ٢- ب	