

تم تحميل هذا الملف من موقع المناهج العُمانية



*للحصول على أوراق عمل لجميع الصفوف وجميع المواد اضغط هنا

<https://almanahj.com/om>

* للحصول على أوراق عمل لجميع مواد الصف الثاني عشر اضغط هنا

<https://almanahj.com/om/12>

* للحصول على جميع أوراق الصف الثاني عشر في مادة هذا وطني ولجميع الفصول, اضغط هنا

<https://almanahj.com/om/12country>

* للحصول على أوراق عمل لجميع مواد الصف الثاني عشر في مادة هذا وطني الخاصة بـ الفصل الثاني اضغط هنا

<https://almanahj.com/om/12country2>

* لتحميل كتب جميع المواد في جميع الفصول للـ الصف الثاني عشر اضغط هنا

<https://almanahj.com/om/grade12>

* لتحميل جميع ملفات المدرس أسماء بنت محمد البلوشي اضغط هنا

للتحدث إلى بوت على تلغرام: اضغط هنا

https://t.me/omcourse_bot



أسئلة مراجعة في درس الهوية العرقية استحضار الموقع واستنتاج التاريخ لمادة هذا وطني للصف الثاني عشر

الأسئلة الموضوعية:

اختر الإجابة الصحيحة من بين البدائل المعطاة:

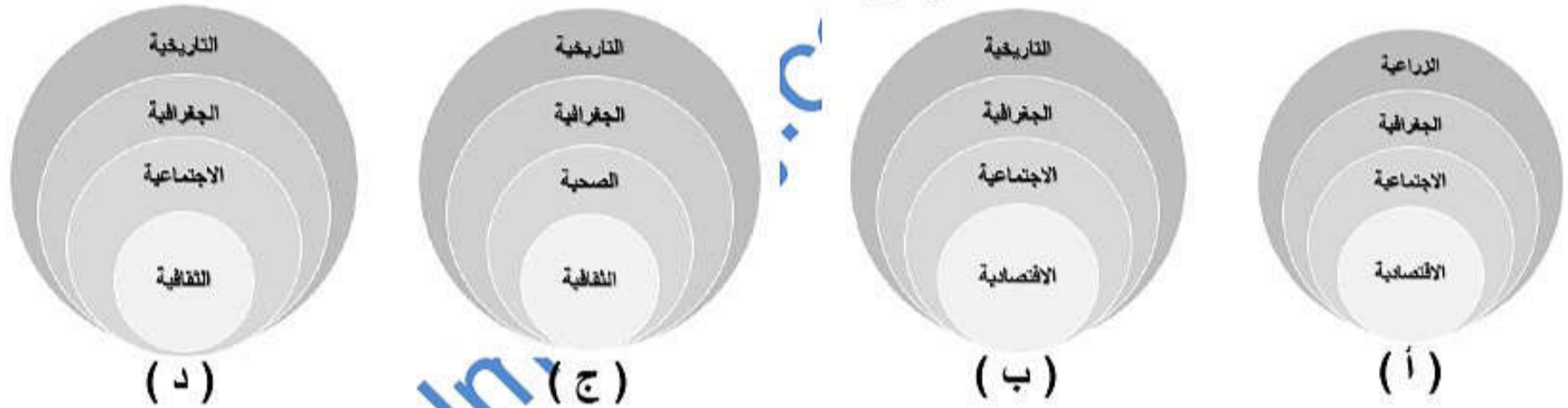
1- "الهوية" مفردة مشتقة من الضمير:

- أ- هي ب- هم ج- هن د- هو

2- تُعرف "مجموع السمات والخصائص المشتركة منها الثقافية والاجتماعية والجغرافية والتاريخية التي تُشعر الفرد بانتمانه وولائه لوطنه" بـ:

- أ- المكانة الجغرافية ب- الاستيطان ج- الهوية د- المعتقدات

3- الشكل الذي يعبر عن مجموع السمات المشتركة ضمن مفهوم الهوية هو:



4- واحدة من المفردات لا يمثل إحدى الخصائص المشتركة في مفهوم الهوية:

- أ- الثقافية ب- الاقتصادية ج- الاجتماعية د- التاريخية

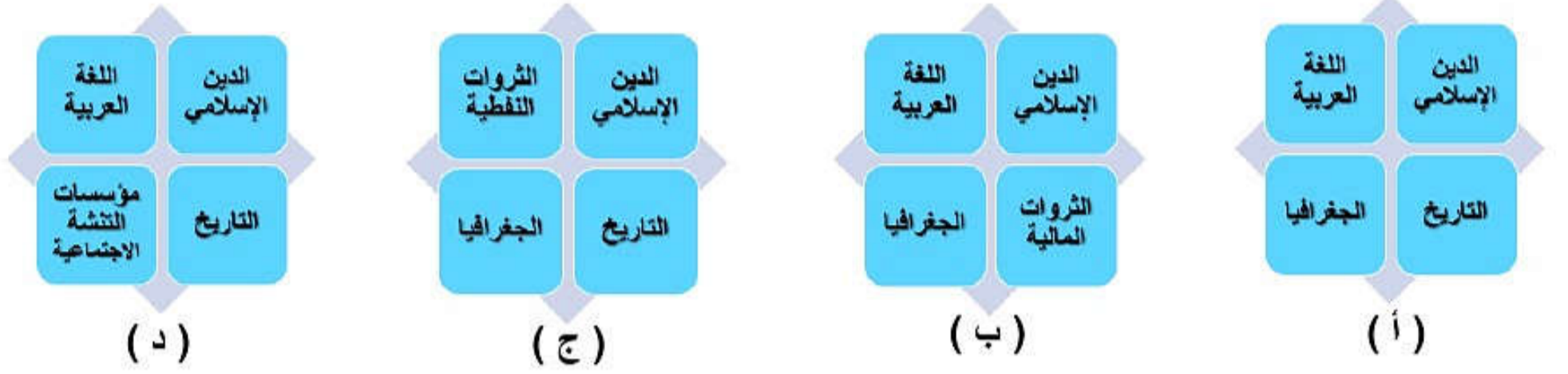
5- جميع ما يلي يعبر عن الخصائص الثقافية في مفهوم الهوية ما عدا:

- أ- اللغة ب- العلوم ج- الفنون د- الأرض

6- إحدى المفردات التالية تعبر عن السمات الاجتماعية ضمن مفهوم الهوية:

- أ- الأرض ب- العادات ج- التاريخ د- اللغة


7- الشكل الذي يُعبّر عن المرتكزات الراسخة التي تقوم عليها الهوية العمانية هو:



8- الصورة التي تشير إلى مرتكز اللغة العربية هي:



(د)



(ج)



(ب)



(أ)


9- الصورة التي تُعبّر عن مرتكز التاريخ هي:




(د)



(ج)



(ب)



(أ)


10- الصورة التي تُعبّر عن مرتكز الدين الإسلامي هي:



(د)




(ج)



(ب)



(أ)



11- تعبّر الصورة التي أمامك عن أحد المرتكزات التي تقوم عليها الهوية العمانية هو:

- أ- الدين الإسلامي
ب- اللغة العربية
ج- التاريخ
د - الجغرافيا

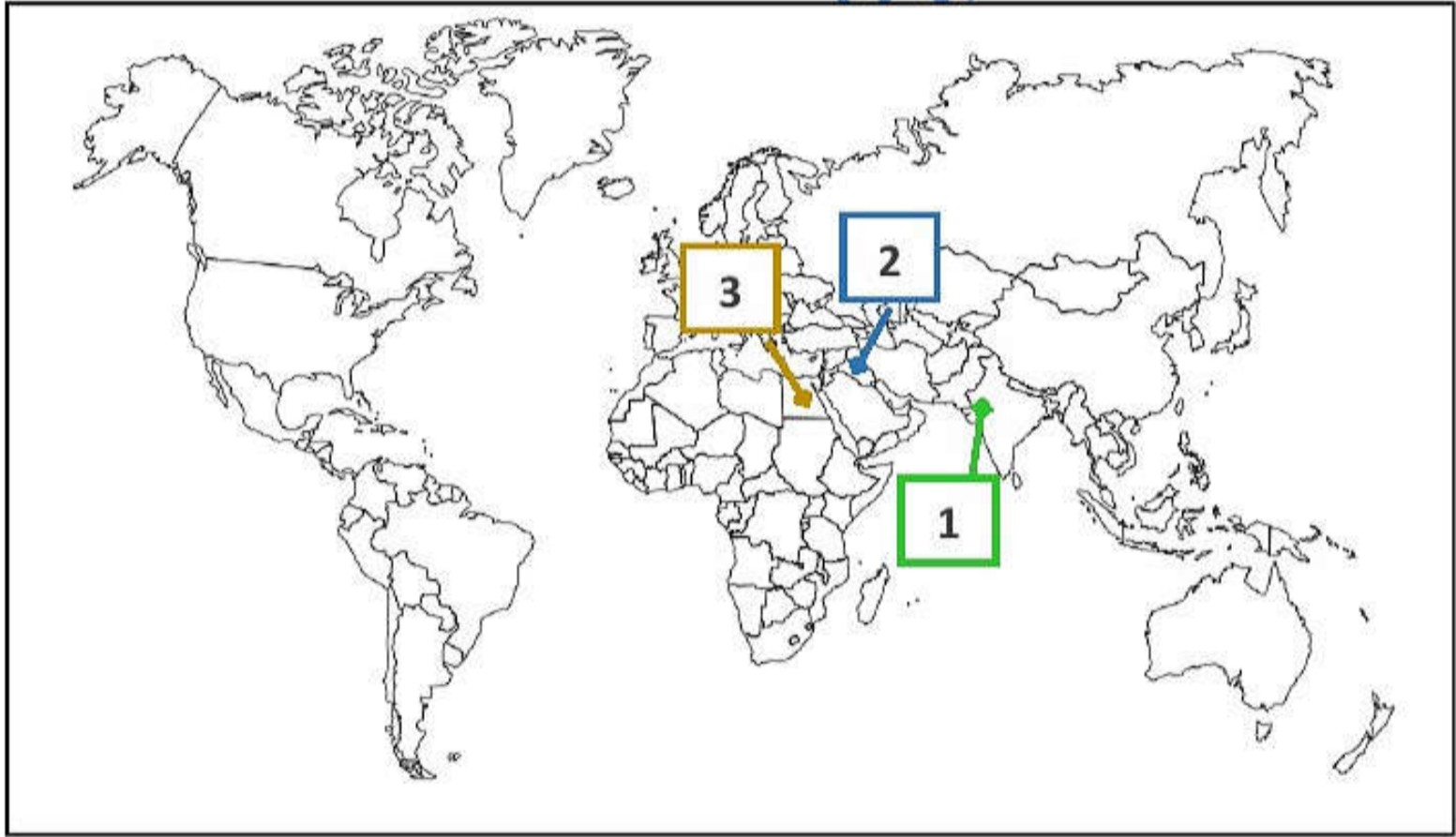
12- المرتكز الذي يُعدّ منبع تشريع يهذب النفوس والوجدان ويبني إنسانا صالحا لكل زمان ومكان:

- أ- اللغة العربية
ب- الجغرافيا
ج- الدين الإسلامي
د- التاريخ

13- المرتكز الذي يُعدّ وعاء الحضارة وعنوانها ووسيلة للتفاهم والتواصل والإنتاج الفكري هو:

- أ- الجغرافيا
ب- اللغة العربية
ج- الدين الإسلامي
د- التاريخ

14- ادرس الخريطة التي أمامك ثم قم باختيار الاجابة الصحيحة للأسئلة التي تليها:



1- الرقم الذي يُشير إلى حضارة النيل هو:

- أ- (1)
ب- (2)
ج- (3)
د- (4)

2- الرقم الذي يُشير إلى حضارة بلاد الرافدين هو:

- أ- (1)
ب- (2)
ج- (3)
د- (4)

ب- الرقم الذي يُشير إلى حضارة بلاد الهند والسند هو:

- أ- (1)
ب- (2)
ج- (3)
د- (4)

15- الاسم الذي عرفت به إحدى الحضارات القديمة التي قامت في عُمان:
 أ- بابل ب- دلمون ج- مجان د- سومر

16- الدولة الحالية التي قامت فيها حضارة بلاد الرافدين قديماً هي:
 أ- البحرين ب- العراق ج- مصر د- الهند

17- الدولة الحالية التي قامت فيها حضارة بلاد النيل قديماً هي:
 أ- الهند ب- مصر ج- الكويت د- العراق



18- المرتكز الذي تعبّر عنه الصورة التي أمامك هو:
 أ- الدين الإسلامي ب- التاريخ

ج- الجغرافيا د- اللغة العربية

19- الشكل الذي يعبر عن قدرة العُماني في التغلب على قساوة تضاريس بلاده الجبلية منذ القدم هو:
 أ- السهول الزراعية ب- المدرجات الجبلية ج- الهضاب د- الأودية


20- المنطقة التي توجد فيها المدرجات الجبلية في سلطنة عمان هي:
 أ- منطقة الجبل الأخضر ب- مدينة صلالة ج- الكامل والوافي د- مسقط

21- التاريخ الذي تحتفل به السلطنة بيوم القوات المسلحة من كل عام هو:
 أ- 1 سبتمبر ب- 10 أكتوبر ج- 11 ديسمبر د- 21 يناير

22- صورة السلطان الذي انتصر على الحركة المتمردة في محافظة ظفار في عام 1975م هو:



(د)



(ج)



(ب)



(أ)

23- العام الذي انتصرت فيه قوات السلطان قابوس -طيب الله ثراه- على القوة المتمردة في محافظة ظفار هو:

- أ- 1965م ب- 1970 ج- 1975م د- 1980م

24- المحافظة التي ظهرت فيها الحركة التي استهدفت القضاء على وحدة الصف العماني هي:

- أ- محافظة مسقط ب- محافظة ظفار ج- محافظة الوسطى د- محافظة مسندم

25- موقع المحافظة التي تحررت من القوة المتمردة المدعومة من الخارج عام 1975م هي:



(د)



(ج)



(ب)



(أ)

26- احدى المفردات التالية لا يقع ضمن مؤسسات التنشئة الاجتماعية:

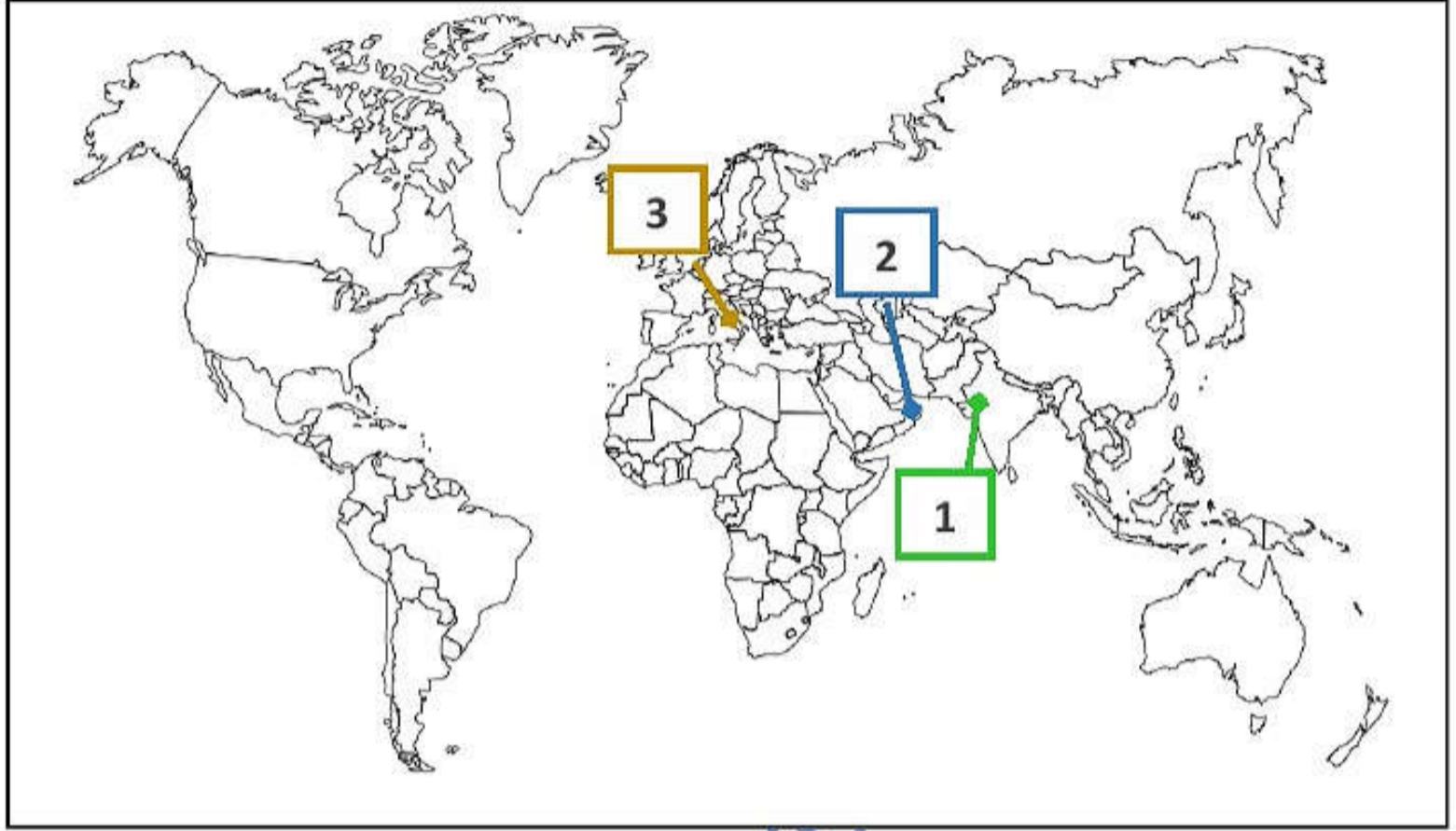
- أ- المؤسسات التجارية ب- المؤسسات الدينية ج- الأسرة د- الأندية الرياضية

almanahj.com

الأسئلة المقالية:

- 1- عرّف المقصود بالهوية؟.....
- 2- عدد مجموع السمات المشتركة التي تمثل الهوية؟.....
- 3- عدد المرتكزات التي تقوم عليها الهوية العمانية؟.....
- 4- وضح كيف يشكل الدين الإسلامي إحدى المرتكزات الراسخة التي تقوم عليها الهوية العمانية.....
- 5- تُعدّ اللغة العربية إحدى المرتكزات الراسخة التي تقوم عليها الهوية العمانية. وضح ذلك.....
- 6- ما اسم الحضارة القديمة التي قامت في عُمان؟.....
- 7- أعط أمثلة على الحضارات القديمة التي تواصلت معها عُمان؟.....
- 8- (مع ظهور الإسلام لبى العمانيون نداء الحق فدخلوا في دين الله أفواجا وساروا في ركب الإسلام حاملين لواءه) ما النتيجة التي ترتبت على ذلك؟.....
- 9- أين تقع الحضارات القديمة التالية: حضارة بلاد الهند والسند ، حضارة بلاد الرافدين، حضارة النيل.....
- 10- من خلال الصور التي أمامك استنتج كيف استطاع العماني أن يتأقلم مع قساوة تضاريس بلاده:
- 11- ما العام الذي حرّر فيه السلطان قابوس جبال ظفار من القوة المتمردة المدعومة من الخارج؟.....
- 12- استنتج الهدف من قيام القوة المتمردة في جبال ظفار؟.....
- 13- علل: تحتفل السلطنة سنويا بتاريخ 11 من ديسمبر بيوم القوات المسلحة.....
- 14- ما اسم السلطان الذي قضى على الحركة المتمردة في جبال ظفار بتاريخ 11 ديسمبر 1975م؟.....
- 15- من كاتب هذه الأبيات؟.....
 أمنت بالوطن الصغير جميعه وأبيت تجزئة المزون إباء
 وشهدت ضمن شهادتي شهادة لعمان لا شيعا ولا أجزاء
- 16- من خلال الأبيات الواردة في السؤال السابق استخرج اسما عرفت به عُمان قديما؟.....
- 17- أعط أمثلة على مؤسسات التنشئة الإجتماعية في السلطنة؟.....

18- ادرس الخريطة التي أمامك ثم قم بالإجابة على الأسئلة التي اليها:



- 1- ظل الموقع الحالي للحضارة القديمة التي عُرفت ببلاد الرافدين.
- 2- الرقم الذي يُشير إلى موقع حضارة بلاد الهند والسند هو.....
- 3- وقّع على الخريطة موقع حضارة بلاد النيل قديماً.
- 4- الرقم الذي يُشير إلى الدولة التي تحررت مناطقها من الحركة المتمردة المدعومة من الخارج عام 1975م هو...



- 19- من خلال الخريطة التي أمامك حدد موقع المحافظة التي تحررت عام 1975م من الحركة المتمردة التي استهدفت وحدة الصف العماني .