

تم تحميل هذا الملف من موقع المناهج العمانية



اختبار عملي تدريبي من خريجة تفوقي

موقع فايلاتي ← المناهج العمانية ← الصف الثاني عشر ← أحياء ← الفصل الأول ← أوراق عمل ← الملف

تاريخ إضافة الملف على موقع المناهج: 2025-01-31 12:05:50

ملفات اكتب للمعلم اكتب للطالب | اختبارات الكترونية | اختبارات | حلول | عروض بوربوينت | أوراق عمل
منهج انجليزي | ملخصات وتقارير | مذكرات وبنوك | الامتحان النهائي للمدرس

المزيد من مادة
أحياء:

التواصل الاجتماعي بحسب الصف الثاني عشر



صفحة المناهج
العمانية على
فيسبوك

الرياضيات

اللغة الانجليزية

اللغة العربية

التربية الاسلامية

المواد على تلغرام

المزيد من الملفات بحسب الصف الثاني عشر والمادة أحياء في الفصل الأول

رسومات الاختبار العملي

1

اختبارات شاملة من سلسلة البيان

2

نموذج إجابة الامتحان التجريبي في محافظة جنوب الباطنة

3

امتحان تجريبي في محافظة جنوب الباطنة

4


جميع الإنزييمات الموجودة في الكتاب

5

اختبار عملي تدريبي لعادة الأحياء

صف الثاني عشر الفصل الدراسي الأول.

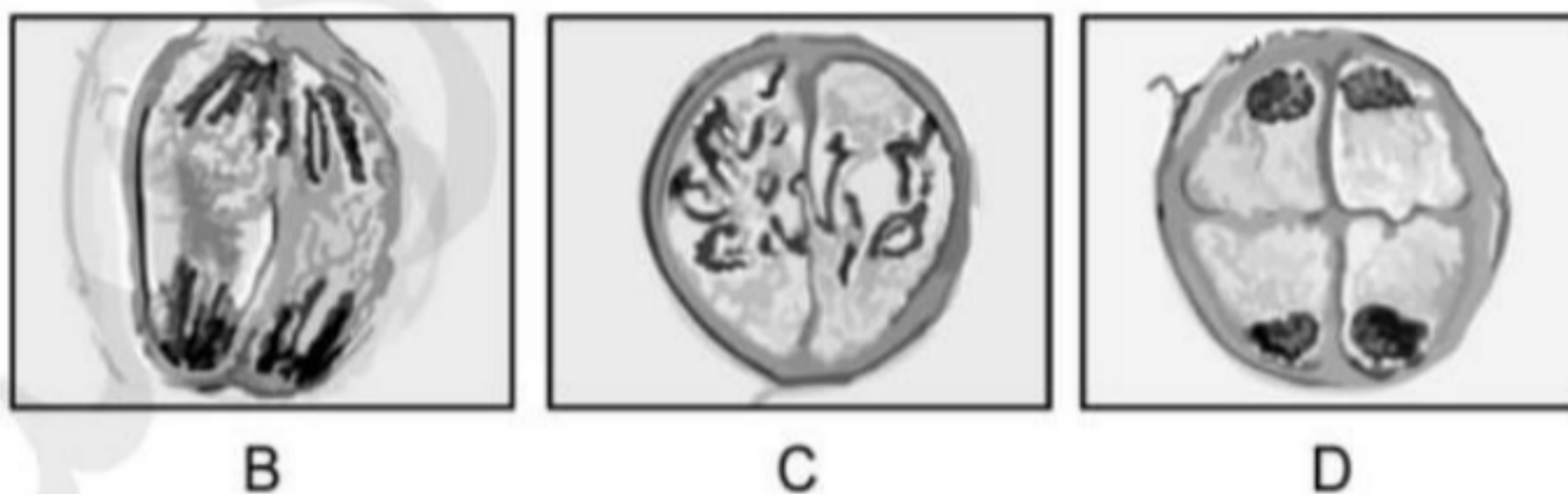
2025 2024



خريجة تفوقني: النهروان النهائية.

الجزء الأول:

الصور المجهرية التالية توضح خلايا تقوم بالانقسام الاختزالي:



أ. سم الأطور في الجدول الآتي:

الطور	الرمز
..... 2025 *	B 2024
.....	C
.....	D

ب. إذا كان الطور الناقص يرمز له بالرمز (A) اكتب اسم الطور الناقص؟

الطور (A)؟.....



tafawoki_12

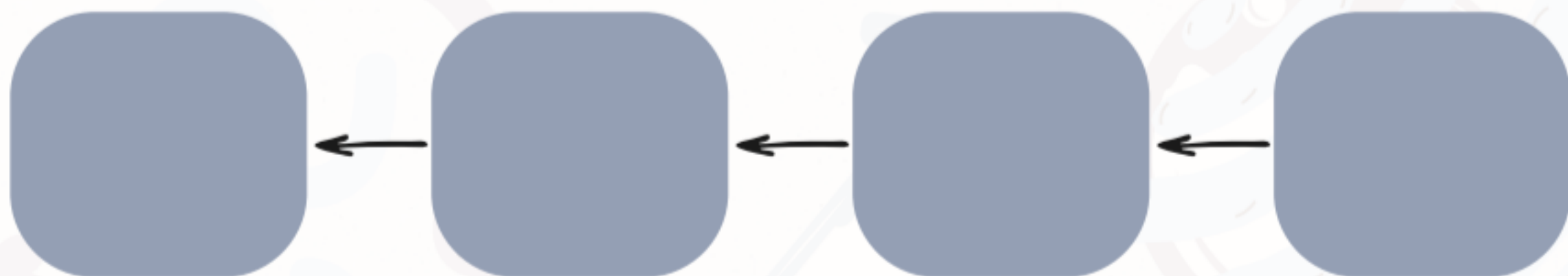


ج. ارسم الطور (A) مع كتابة البيانات

د. ما نوع المجهر المستخدم لالتقاط هذه الشرائح؟؟

ح. صف ما يحدث في الطور (B)؟

هـ. رتب مراحل الانقسام السابقة؟



tafawoki_12

الجزء الثاني:

1. قام مجموعة طلبة بأداء استقصاء لتركيب كلية الخروف وتضمن الاستقصاء عدة خطوات إضافية بعض القطرات من بيروكسيد الهيدروجين فوق القشرة والنخاع وتكونت رغوة كثيفة.

أ. اذكر أهمية إضافة مادة بيروكسيد الهيدروجين ؟

ب. ارسم رسماً تخطيطياً للتركيب الخارجي للكية (موضحاً الأجزاء).



2025

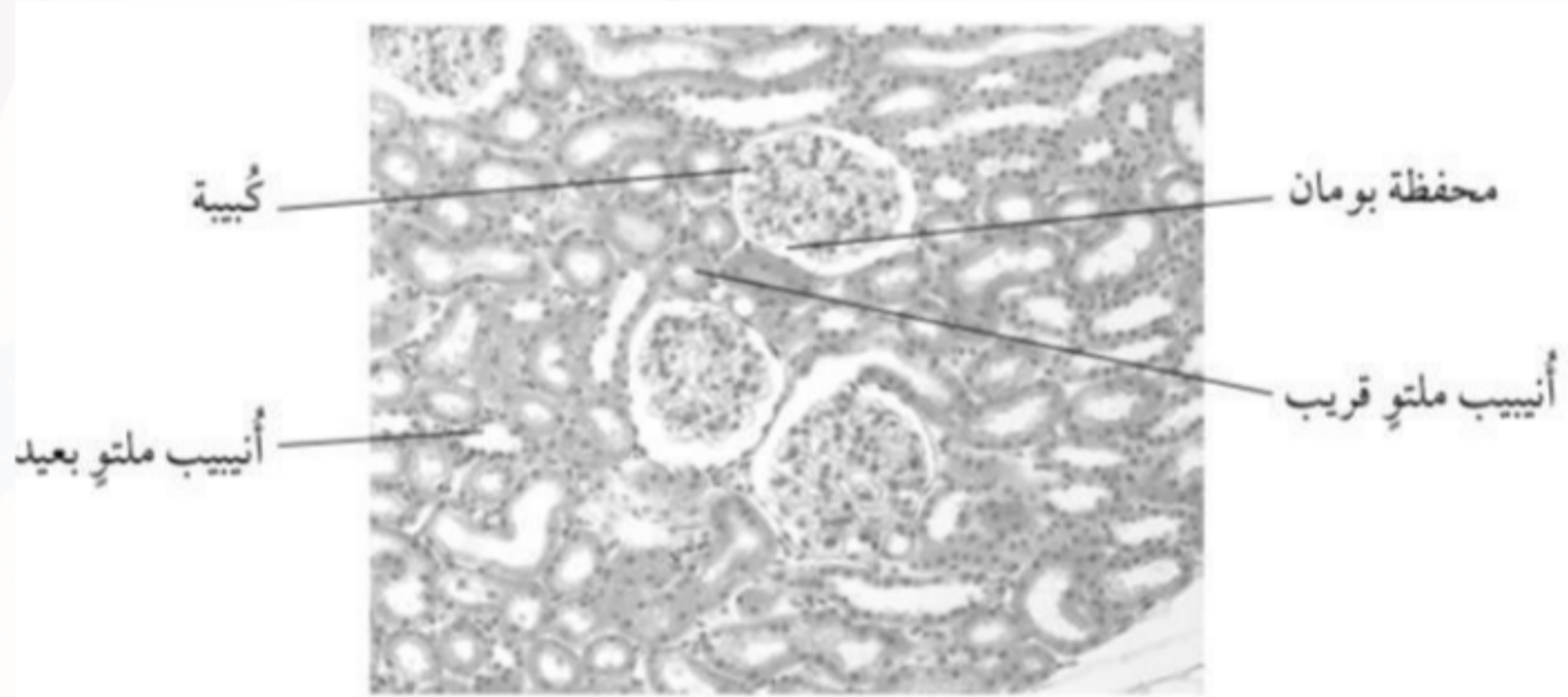
2024

tafawoki_12

ج. اكمل الجدول الآتي:

وصف التركيب	أجزاء الكلية
	النخاع
	القنوات الجامعة
القسم الداخلي أصفر اللون	

2. توضح الصورة (1-2) صورة مجهرية ضوئية لمقطع عرضي لجزء من الكلية.



أ. سم المقطع العرضي للصورة (1-2) ؟

ب. اذكر الجزء المشار اليه بالرمز (A) ؟



tafawoki_12

وَقُلِّدْ رَبِّ زِدْنِي عِلْمًا

اللهم اجعل دفعة 2025 من أهل التفوق والبركة، ووفقهم في كل خطوة يخطونها.
اللهم ارزقهم الفهم الصحيح، والقدرة على تحمل الصعاب، وكن لهم في كل أمر ميسرًا.
اللهم افتح لهم أبواب الرزق والعلم، وامنحهم من بركتك في كل مسعى، وحقق لهم ما يتمنون.
اللهم اجعل دربهم مزهرًا بالإنجازات، وبارك لهم في وقتهم وجهدهم، وسدد خطاهم إلى ما فيه خير لهم ولأمتهم.
اللهم آمين، واحفظهم من كل مكروه ووفقهم لما تحب وترضى.

عمل خريجة تفوقتي: النهروان الهنائية.



tafawoki_12