

شكراً لتحميلك هذا الملف من موقع المناهج العمانية



اختبارات قصيرة أولى مع نموذج الإجابة

[موقع المناهج](#) ← [المناهج العمانية](#) ← [الصف الثاني عشر](#) ← [اجتماعيات](#) ← [الفصل الأول](#) ← [الملف](#)

تاريخ نشر الملف على موقع المناهج: 04:28:55 2023-10-08

التواصل الاجتماعي بحسب الصف الثاني عشر



روابط مواد الصف الثاني عشر على تلغرام

[الرياضيات](#)

[اللغة الانجليزية](#)

[اللغة العربية](#)

[التربية الاسلامية](#)

المزيد من الملفات بحسب الصف الثاني عشر والمادة اجتماعيات في الفصل الأول

اختبار قصير أول مع نموذج الإجابة بصيغة الورد	1
اختبارات قصيرة أولى مع نموذج الإجابة	2
مراجعة الوحدة الأولى عالمنا عالم متسارع متغير وبلا حدود	3
مراجعة الوحدة الثالثة الثقافة الإنسانية المفهوم والأهمية	4
خرائط ذهنية للمادة	5

السؤال الأول:

ضلل الشكل المقترن بالإجابة الصحيحة لكل مفردة من المفردات التالية:

١ - كانت إمامته بعد عام ٩٠٦هـ / ١٥٠٠م إيذاناً بإنهاء العصر النبهاني الأول الامام:

محمد بن إسماعيل الحاضري

الجلندي بن مسعود

الوارث بن كعب الخروصي

أبو الحسن بن خميس بن عامر الخروصي

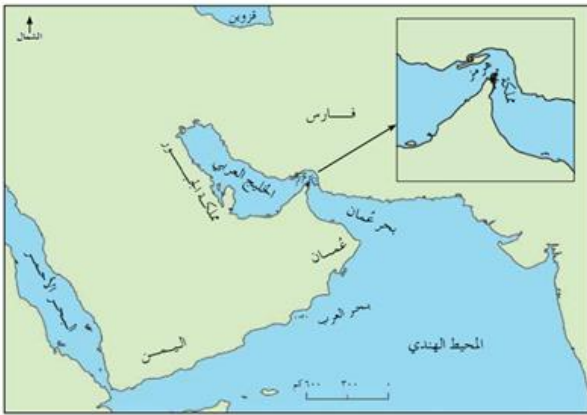
٢ - كانت علاقة النباهنة في عُمان بالمملكة المشار لها بالخريطة:

وطيدة

متطورة

مضطربة

متعاونة وإيجابية



قدرات عليا درجة

٣ - الجدول الصحيح للأفلاج التي شقت في عصر اليعاربة:

الولاية/ النيابة	الفلج
ضنك	الخطمين
بركة الموز	البزيلي
الرستاق	الصائغي

الولاية/ النيابة	الفلج
الرستاق	الخطمين
بركة الموز	البزيلي
ضنك	الصائغي

الولاية/ النيابة	الفلج
بركة الموز	الخطمين
ضنك	البزيلي
الرستاق	الصائغي

الولاية/ النيابة	الفلج
الرستاق	الخطمين
ضنك	البزيلي
بركة الموز	الصائغي

السؤال الثاني:

١ . د واحداً فقط مما يأتي:

معرفة درجة

أ - مال الامام ناصر بن مرشد اليعربي.

معرفة درجة

ب - دن العُمانية التي تحررت من البرتغاليين زمن الامام سلطان بن سيف الأول ١٦٥٠م.

٢ - أنسب الأعمال أو الأقوال التالية إلى الشخصية التاريخية من دولة اليعاربة:

معرفة 1/2

أ - قائل العبارة التالية: "لأن أعاشني الله لأجعلن المسافر للحج يخرج من عمان بلا زاد".

معرفة 1/2

ب - ظهر التعليم النظامي لأول مرة في عُمان في عهده بمدرسة جبرين.

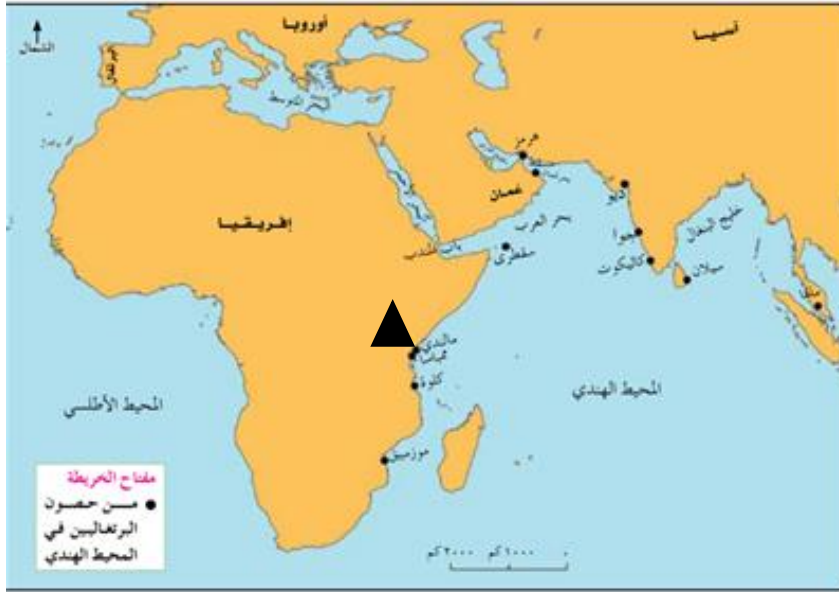


٣ - "تطور النظام الإداري في عُمان في عصر النباهنة، ومن نماذج التطور الإداري تنظيم تمثله الصورة المقابلة"
ما التنظيم الذي تمثله الصورة؟

قدرات عليا درجة

السؤال الثالث:

١ - أدرس الخريطة التالية، ثم أجب عن الأسئلة التي تليها:



أ - ضع دائرة في الخريطة على موقع المعركة التي انتصر فيها العُمانيون على البرتغاليين زمن الامام سلطان بن سيف الأول وتم بناء قلعة نزوى من غنائمها. فهم وتطبيق درجة

ب - عدد واحدا من السلع التي جلبها العُمانيون في عصر النباهنة من المنطقة المشار لها بالرمز ▲.

فهم وتطبيق درجة

فهم وتطبيق درجة


٢ - دلل على تطور العلاقات العمانية الفرنسية في عصر اليعاربة.

نموذج إجابة اختبار قصير أول لمادة الدراسات الاجتماعية للصف الثاني عشر

إجابة السؤال الأول				
المفردة	الإجابة	الدرجة	الصفحة	المستوى المعرفي
١	محمد بن إسماعيل الحاضري	١	١٤	المعرفة
٢	مضطربة	١	١٥	فهم وتطبيق
٣	الفلج	١	٣٦	قدرات عليا
	الخطمين			
	البيزلي			
	الصانغي			
المجموع		٣		

ثانيا: إجابة الأسئلة المقالية:

إجابة السؤال الثاني				
الدرجة الكلية: (٤) درجة				
الجزئية	الإجابة الصحيحة	الدرجة	الصفحة	المستوى المعرفي
١	أ - تحقيق الوحدة الوطنية أو توحيد البلاد أو ارسل حملات عسكرية أو استخدم أساليب المفاوضات والتواصل مع المدن/ حرر جميع مدن الساحل العماني ما عدا مسقط ومطرح / إرساء دعائم الأمن والاستقرار حرر مدينة جلفار من البرتغاليين / عقد اتفاقية مع البرتغاليين ١٦٤٨م ألزمتهم بدفع الجزية وتسليم بعض الحصون وحرية التجارة / عقد اتفاقية ١٦٤٦م مع شركة الهند الشرقية البريطانية. (يكتفى بواحدة منها فقط) ب - مسقط ومطرح (يكتفى بواحدة منها فقط)	١	٢٥ ٢٦ ٣٤	المعرفة
		١	٢٦	
٢	أ - سلطان بن سيف الثاني ب - بلعرب بن سلطان	½	٣٠	المعرفة
		½	٣٣	
٣	تنظيم المحكمة	١	٢٠	قدرات عليا

المستوى المعرفي	الصفحة	الدرجة	الإجابة الصحيحة	الجزئية
فهم وتطبيق	٣٢	١	<p>أ-</p>  <p>ب - العاج / الخشب / العنبر / الجلود (يكتفى بواحدة فقط)</p>	١
فهم وتطبيق	٣٤	١	زيادة حجم التبادل التجاري مع فرنسا ومستعمراتها	٢

السؤال الأول:

ضلل الشكل المقترن بالإجابة الصحيحة لكل مفردة من المفردات التالية:

١ - حاكم باتي وكان رجلاً كريماً حسن التصرف لقب بالعظيم ووسع من مملكته:

معرفة درجة

كهلان بن عمر بن نبهان

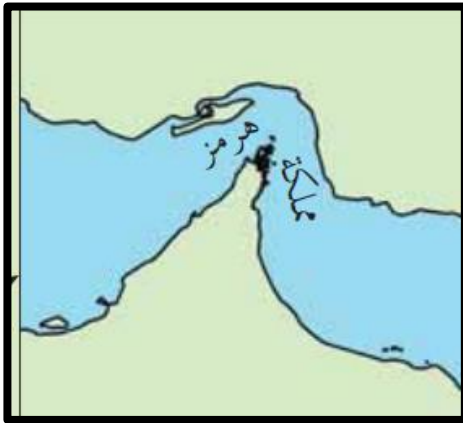
فلاح بن محسن النبهاني

محمد بن أحمد النبهاني

حسام بن سليمان بن مظفر

فهم وتطبيق درجة

٢ - مؤسس المملكة الواضحة بالخريطة من أصل:



هندي

فارسي

عُماني

تركي

قدرات

٣ - الجدول الصحيح للمصادر والواردات من الساحل الغربي للهند في عصر اليعاربة:

التمور والخبيل	الصادرات العمانية	<input type="checkbox"/>
الملابس والأرز	الواردات الهندية	

الملابس والأرز	الصادرات العمانية	<input type="checkbox"/>
التمور والخبيل	الواردات الهندية	

الملح والخشب	الصادرات العمانية	<input type="checkbox"/>
الفخار والعسل	الواردات الهندية	

التمور والخبيل	الصادرات العمانية	<input type="checkbox"/>
الحرير والخزف	الواردات الهندية	

السؤال الثاني:

١ - عدد واحداً فقط مما يأتي:

معرفة درجة

أ - ملوك العصر النبهاني الأول

معرفة درجة

ب - المكتبات في عصر اليعاربة.


٢ - أنسب الأعمال أو الأقوال التالية إلى الشخصية التاريخية من دولة اليعاربة:

معرفة 1/2

أ - قائل العبارة التالية: "لأن أعاشني الله لأجعلن المسافر للحج يخرج من عمان بلا زاد".

معرفة 1/2

ب - عقد اتفاقية مع شركة الهند الشرقية البريطانية ١٦٤٦م.

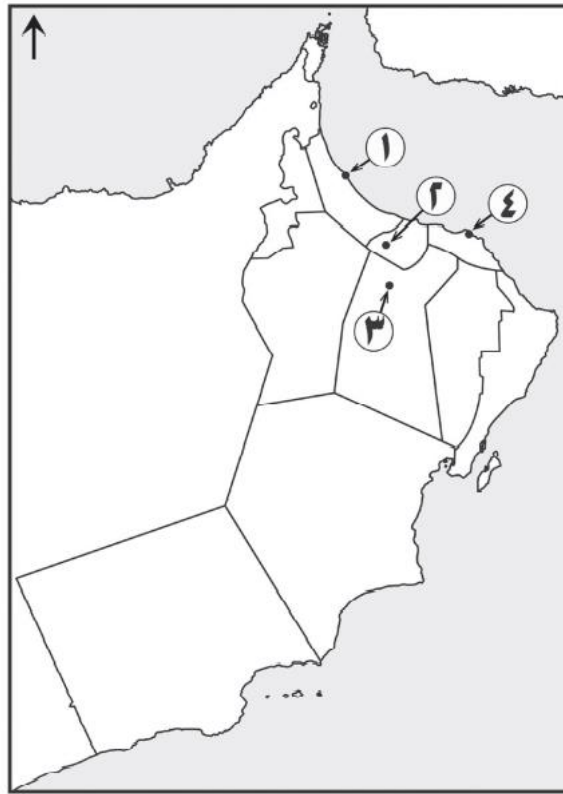


٣ - "تطور النظام الإداري في عُمان في عصر
النباهنة، ومن نماذج التطور الإداري تنظيم تمثله
الصورة المقابلة"
عدد مكونات هذا التنظيم .

.....
.....
.....

السؤال الثالث:

١ - أدرس الخريطة التالية، ثم أجب عن الأسئلة التي تليها:



فهم وتطبيق درجة

أ - ما الرقم الذي يشير إلى الميناء الذي ازدهر وانتعش سوقه في عصر اليعاربة؟

ب - ضع على الخريطة الرمز ▲ بالمحافظة التي يوجد بها فلج البزيلي. فهم وتطبيق درجة

فهم وتطبيق درجة

٢ - دال على تنوع الأنظمة التي حكمت عُمان عبر العصور التاريخية المختلفة.

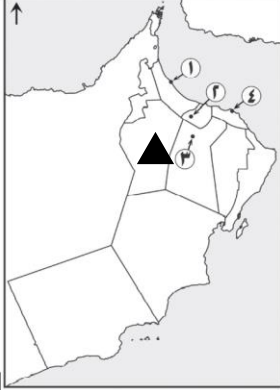
.....

نموذج إجابة اختبار قصير أول لمادة الدراسات الاجتماعية للصف الثاني عشر

إجابة السؤال الأول				
المفردة	الإجابة	الدرجة	الصفحة	المستوى المعرفي
١	محمد بن أحمد النبھاني	١	١٦	المعرفة
٢	عماني	١	١٥	فهم وتطبيق
٣	الصادرات العمانية	١	٣٠	قدرات عليا
	الواردات الهندية			
المجموع		٣		

ثانيا: إجابة الأسئلة المقالية:

الدرجة الكلية: (٤) درجة				إجابة السؤال الثاني
المستوى المعرفي	الصفحة	الدرجة	الإجابة الصحيحة	الجزئية
المعرفة	١٢ و ١٣	١	أ - سليمان بن مظفر النبھاني / وابنه سليمان أو سليمان بن سليمان بن مظفر النبھاني / حسام بن سليمان بن مظفر النبھاني. (يكتفى بواحدة منها فقط) ب - مكتبة جبرين / مكتبة حسن الرستاق أو مكتبة دولة اليعربية (يكتفى بواحدة منها فقط)	١
	٣٣	١		
المعرفة	٣٠ ٣٤	½ ½	أ - سلطان بن سيف الثاني ب - ناصر بن مرشد اليعربي	٢
	قدرات عليا	٢٠		

المستوى المعرفي	الصفحة	الدرجة	الإجابة الصحيحة	الجزئية
فهم وتطبيق	٣٠	١	<p>أ - ٤ ب -</p> 	١
فهم وتطبيق	١٤	١	تعددت مسميات حكام عمان بين سلطان وامام وملك عبر العصور التاريخية المختلفة	٢

السؤال الأول:

ضلل الشكل المقترن بالإجابة الصحيحة لكل مفردة من المفردات التالية:

١ - قام بتأليف العديد من المؤلفات في علم البحار ومنها النونية الكبرى:

معرفة درجة

- موسى بن حسين بن شوال الحسيني
 الخليل بن أحمد الفراهيدي
 احمد بن ماجد السعدي
 محمد بن عمر بن نبهان

فهم وتطبيق درجة

٢ - تشير الخريطة الظاهرة إلى موقع جزيرة:



هرمز

باتي

سوقطرة

مصيرة

قدرات عليا درجة

٣ - الجدول الصحيح للحواضر في عصر النباهنة:

العصر النباهني الأول	مقنيات	<input type="checkbox"/>
العصر النباهني الثاني	نزوى وبهلاء	

العصر النباهني الأول	نزوى وبهلاء	<input type="checkbox"/>
العصر النباهني الثاني	مقنيات	

العصر النباهني الأول	مقنيات	<input type="checkbox"/>
العصر النباهني الثاني	ازكي ونزوى	

العصر النباهني الأول	صحار وصور	<input type="checkbox"/>
العصر النباهني الثاني	نزوى وبهلاء	

السؤال الثاني:

١ - عدد واحداً فقط مما يأتي:

معرفة درجة

أ - الأفلاج العمانية التي شقت في عصر اليعاربة.....

معرفة درجة

ب - المحاصيل الجديدة التي أدخلها اليعاربة إلى عمان

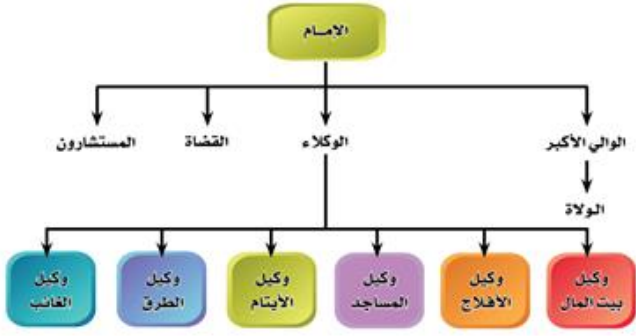
٢ - أنسب الأعمال التالية إلى الشخصية التاريخية:

معرفة 1/2

أ - بنى قلعة نزوى من الغنائم التي اكتسبها نتيجة انتصاره على البرتغاليين في معركة ديو.....

ب - ملك نبهاني جلب شجرة المانجو من الهند وأمر بزراعتها في مقنيات ومنها انتشرت في عمان.....

معرفة 1/2

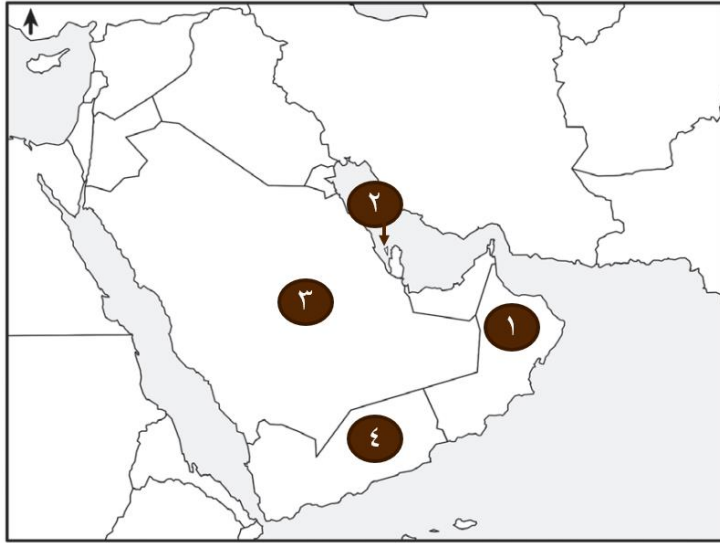


٣ - يمثل الشكل التنظيم الإداري لدولة اليعاربة
استخرج من الشكل: من يمثل العلماء الثقات
والذين حرص الامام على أخذ مشورتهم في
مختلف مناحي الحياة؟

..... قدرات عليا درجة

السؤال الثالث:

١ - أدرس الخريطة التالية، ثم أجب عن الأسئلة التي تليها:



فهم وتطبيق درجة

أ - ما الرقم الذي يشير إلى الدولة التي يوجد بها قلعة عراد؟

فهم وتطبيق درجة

ب - ضع الرمز ▲ بالموقع الصحيح للمحيط الهندي.

فهم وتطبيق درجة

٢ - دال على العلاقات الوطيدة بين النباهنة في عمان وملوك اليمن .

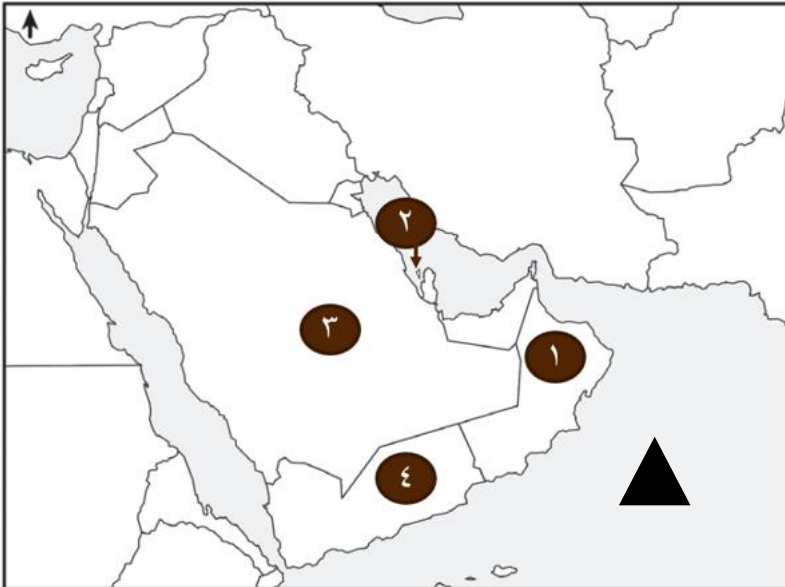
.....

نموذج إجابة اختبار قصير أول لمادة الدراسات الاجتماعية للصف الثاني عشر

إجابة السؤال الأول				
المفردة	الإجابة	الدرجة	الصفحة	المستوى المعرفي
١	أحمد بن ماجد السعدي	١	٢١	المعرفة
٢	عماني	١	١٦	فهم وتطبيق
٣	العصر النبهاني الأول	١	١٨	قدرات عليا
	العصر النبهاني الثاني			
المجموع		٣		

ثانيا: إجابة الأسئلة المقالية:

إجابة السؤال الثاني				الدرجة الكلية: (٤) درجة
الجزئية	الإجابة الصحيحة	الدرجة	الصفحة	المستوى المعرفي
١	أ - فلج الخطين في بركة الموز/ فلج البزيلي في ضنك / فلج الصائغي في الرستاق. (يكتفى بواحدة منها فقط ولا داعي لذكر مكان الوجود)	١	٣١	المعرفة
	ب - الزعفران والبن (يكتفى بواحدة منها فقط.)	١	٣١	
٢	أ - سلطان بن سيف الأول	½	٣٢	المعرفة
	ب - فلاح بن محسن النبهاني	½	٢٢	
٣	المستشارون	١	٢٠	قدرات عليا

المستوى المعرفي	الصفحة	الدرجة	الإجابة الصحيحة	الجزئية
فهم وتطبيق	٣٢	١	<p>أ- ٢ ب-</p> 	١
فهم وتطبيق	١٥	١	تبادل الهدايا بين الملك النبهاني عمر كهرن بن عمر بن نبهان مع ملك اليمن اليمى المظفر شمس الدين بن ازدمر أو تبادل الهدايا بينهم	٢

اسم الطالب: الصف الثاني عشر: (.....) الرقم: (.....)

السؤال الأول: ضلل الشكل المقترن بالإجابة الصحيحة لكل مفردة من المفردات التالية:

١ - جلب ثمرة المانجو من الهند وامر بزراعتها في مَقْنِيَات وانتشرت زراعتها في عُمان:

محمد بن أحمد النبهاني

سليمان بن مظفر النبهاني

فلاح بن محسن

حسام بن سليمان النبهاني

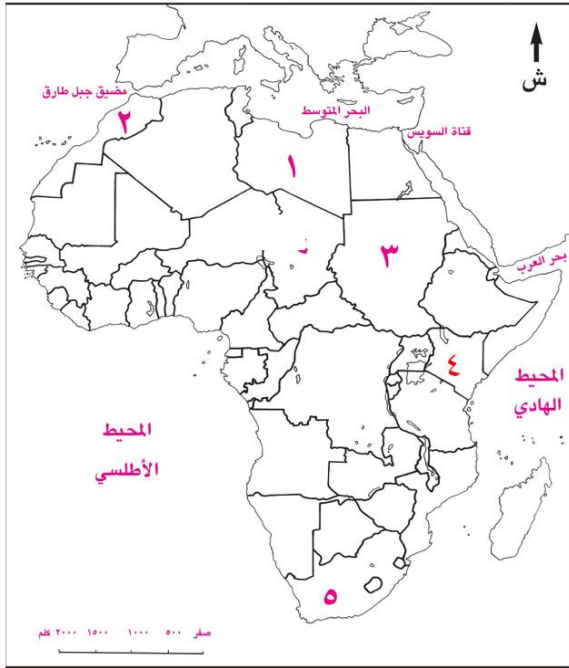
٢ - تتبع جزيرة باتي حالياً الدولة المشار لها بالرقم:

٤

٣

٢

١



قدرات عليا درجة

٣ - الجدول الصحيح لطبيعة العلاقات الخارجية في عصر النباهنة:

وطيدة	مملكة هرمز	<input type="checkbox"/>
مضطربة	ملوك اليمن	
متطورة تطوراً كبيراً	شرقي أفريقيا	

متطورة تطوراً كبيراً	مملكة هرمز	<input type="checkbox"/>
وطيدة	ملوك اليمن	
مضطربة	شرقي أفريقيا	

وطيدة	مملكة هرمز	<input type="checkbox"/>
متطوراً تطوراً كبيراً	ملوك اليمن	
مضطربة	شرقي أفريقيا	

مضطربة	مملكة هرمز	<input type="checkbox"/>
وطيدة	ملوك اليمن	
متطورة تطوراً كبيراً	شرقي أفريقيا	

السؤال الثاني:

١ - عدد واحداً فقط مما يأتي:

معرفة درجة

أ - الحصون التي بنيت في عصر النباهنة.

معرفة درجة

ب - ملوك العصر النبهاني الثاني.

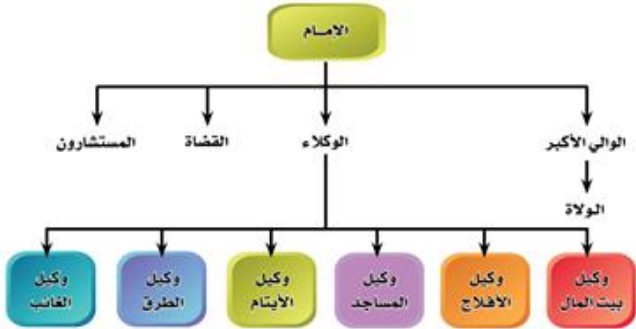
٢ - أنسب العبارات التالية إلى الشخصية التاريخية:

أ - مؤسس دولة اليعاربة وحدة البلاد من خلال المفاوضات والمعاهدات مع المدن والحملات العسكرية.

معرفة 1/2

ب - ملك نبهاني اشتهر بمهارته في الشعر، ويعد ديوانه من مصادر تاريخ عصر النباهنة.

معرفة 1/2



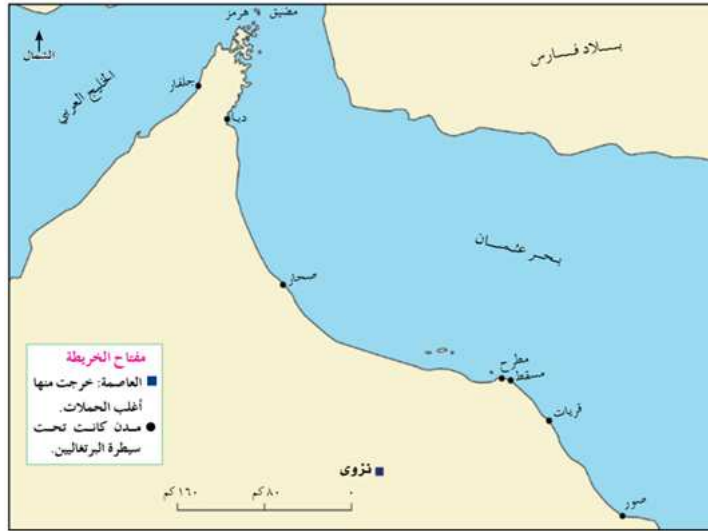
٣ - الشكل المقابل يمثل التنظيم الإداري لدولة اليعاربة، ادرس الشكل ثم اجب عن السؤال التالي:

من يمثل قمة التنظيم الإداري؟

قدرات عليا درجة

السؤال الثالث:

١ - ادرس الخريطة التالية، ثم اجب عن الأسئلة التي تليها:



فهم وتطبيق درجة

أ - ما المدينة العمانية المطلة على الخليج العربي؟

ب - ضع دائرة في الخريطة على المدن التي تحررت من البرتغاليين زمن الامام سلطان بن سيف الأول

١٦٥٠م.

فهم وتطبيق درجة

٢ - دال على تطور العلاقات العمانية البريطانية في عصر اليعاربة. فهم وتطبيق درجة

نموذج إجابة اختبار قصير أول لمادة الدراسات الاجتماعية للصف الثاني عشر

إجابة السؤال الأول				
المفردة	الإجابة	الدرجة	الصفحة	المستوى المعرفي
١	فلاح بن محسن	١	٢٢	المعرفة
٢	٤	١	١٧	فهم وتطبيق
٣	مملكة هرمز	١	١٦ و ١٥	قدرات عليا
	مضطربة			
	ملوك اليمن			
	متطورة تطوراً كبيراً			
المجموع		٣		

ثانياً: إجابة الأسئلة المقالية:

إجابة السؤال الثاني				
الدرجة الكلية: (٤) درجة				
الجزئية	الإجابة الصحيحة	الدرجة	الصفحة	المستوى المعرفي
١	أ - حصن الأسود في مقننيات في عبرى / حصن بيت المراح في ينقل (يكتفى بواحدة منها فقط ولا داعي لذكر مكان الوجود)	١	١٩	المعرفة
	ب - سلطان بن محسن النبهاني / واخوه فلاح أو فلاح بن محسن (يكتفى بواحدة منها فقط)	١	٢٢ و ١٢	
٢	أ - ناصر بن مرشد اليعربي	½ ½	٢٥ ١٤	المعرفة
	ب - سليمان بن سليمان النبهاني أو سليمان بن سليمان بن مظفر النبهاني			
٣	الامام	١	٢٩	قدرات عليا

المستوى المعرفي	الصفحة	الدرجة	الإجابة الصحيحة	الجزئية
فهم وتطبيق	٢٧ ٢٦	١ ١	<p>أ - جلفار ب -</p>	١
فهم وتطبيق	٣٤	١	<p>عقد اتفاقية ١٦٤٦م بين الامام ناصر بن مرشد اليعربي وشركة الهند الشرقية البريطانية والتي هدفت إلى علاقات سياسية واقتصادية</p>	٢