

تم تحميل هذا الملف من موقع المناهج العمانية



امتحان تجريبي نهائي بمدرسة مسعود بن رمضان

موقع فايلاتي ← المناهج العمانية ← الصف الثاني عشر ← اجتماعيات ← الفصل الأول ← الامتحان النهائي ← الملف

تاريخ إضافة الملف على موقع المناهج: 11:40:31 2025-01-13

ملفات اكتب للمعلم اكتب للطالب | اختبارات الكترونية | اختبارات | حلول | عروض بوربوينت | أوراق عمل
منهج انجليزي | ملخصات وتقارير | مذكرات وبنوك | الامتحان النهائي للمدرس

المزيد من مادة
اجتماعيات:

التواصل الاجتماعي بحسب الصف الثاني عشر



صفحة المناهج
العمانية على
فيسبوك

الرياضيات

اللغة الانجليزية

اللغة العربية

التربية الاسلامية

المواد على تلغرام

المزيد من الملفات بحسب الصف الثاني عشر والمادة اجتماعيات في الفصل الأول

تجميع تعاريف جميع وحدات الكتاب

1

المستويات المعرفية لإعداد الإختبارات النهائية

2

امتحان تدريبي حديث مع نموذج الإجابة

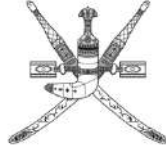
3

ملخص أسئلة الدرس الثاني ثورات كبرى تغير وجه العالم

4

مراجعة لدرس الطاقة حياة العالم

5



سَلْطَنَةُ عُضْمَانِ
وَزَارَةُ التَّرْبِيَةِ وَالتَّعْلِيمِ

امتحان تجريبي (٢) مادة: العالم من حولي

للف: الثاني عشر

العام الدراسي ٢٠٢٤/٢٠٢٥م

الفصل الدراسي الأول

- زمن الامتحان: (ثلاث ساعات).
- الإجابة في الدفتر نفسه.
- عدد صفحات أسئلة الامتحان: (١٧)

		اسم الطالب
الصف	المدرسة	

السؤال	الدرجة		التوقيع بالاسم	
	بالأرقام	بالحروف	المصحح الأول	المصحح الثاني
١٤ - ١				
١٥				
١٦				
١٧				
١٨				
١٩				
٢٠				
٢١				
المجموع			جمعه	مراجعة الجمع
المجموع الكلي				

(١)

المادة: العالم من حولي الصف: الثاني عشر
الامتحان التجريبي - الفصل الدراسي الأول - العام الدراسي ٢٠٢٤/٢٠٢٥م

أجب عن جميع الأسئلة الآتية

أولاً: الأسئلة الموضوعية

ظلل الشكل ■ المقترن بالإجابة الصحيحة لكل مفردة من المفردات الآتية:

١ - المسطح المائي الذي يُعد نهاية أولى الرحلات الفينيقية الكبرى في القرن السادس قبل الميلاد :
 البحر الأحمر. البحر المتوسط. المحيط الهندي. المحيط الأطلسي.



٢ - شكل الأداة المشابهة في كتابة الرموز الظاهرة في الصورة: .



٣- الصورة المعبره للإنجاز الحضاري الذي أسهمت النساء في اكتشافه في العصور الحجرية القديمة:

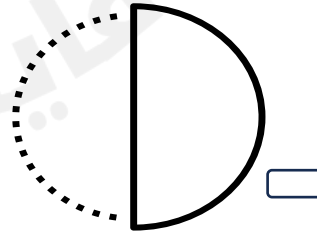


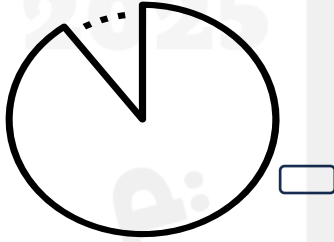


تابع أولاً: الأسئلة الموضوعية :

٤ - الوصف الصحيح المعبر لرسم الفنان بروجل لأحد معالم الحضارات القديمة :



٥ - الشكل البياني الصحيح لإنتاج نفط منظمة (الأوبك) من مجموع الإنتاج العالمي :



(٣)

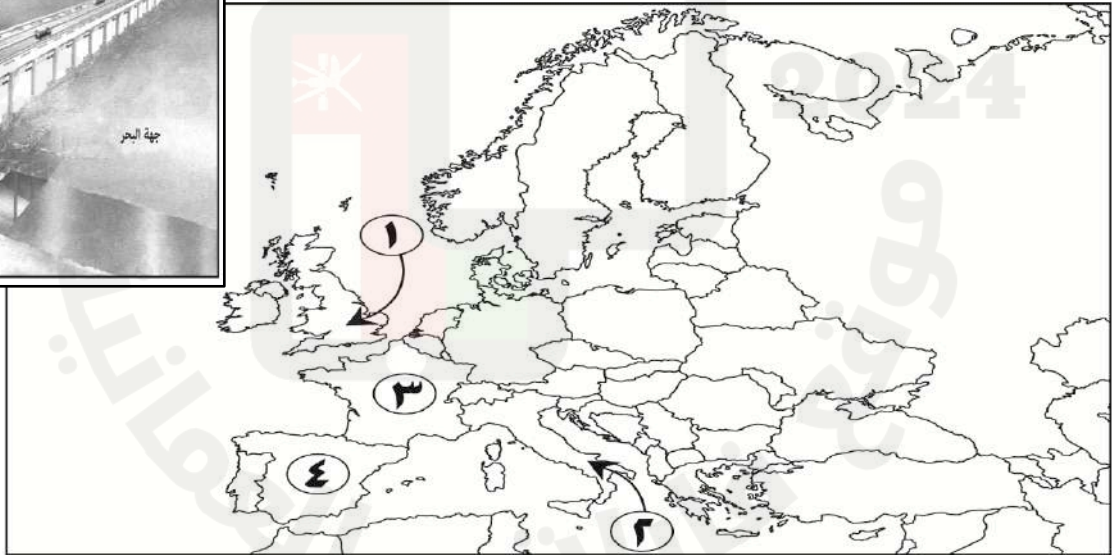

المادة: العالم من حولي الصف: الثاني عشر
الامتحان التدريبي الفصل الدراسي الأول - العام الدراسي ٢٠٢٤/٢٠٢٥ م

تابع أولاً: الأسئلة الموضوعية :

٦ - الأساس الثاني الذي تبنى عليه الأقاليم الثقافية حسب الشكل الآتي:



٧- الرقم الذي يشير الى الدولة التي يوجد بها صورة المعمل الواضح أمامك:



٢

٤

١

٣

(٥)

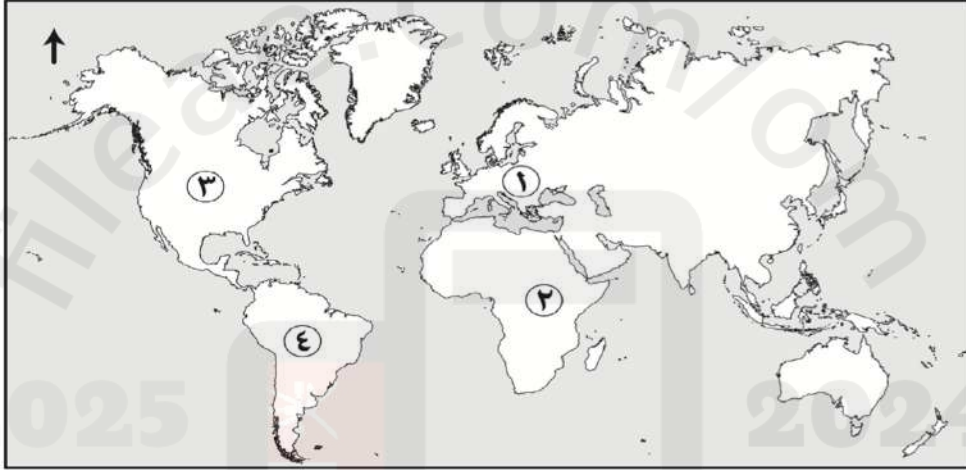
المادة: العالم من حولي الصف: الثاني عشر
الامتحان التجريبي الفصل الدراسي الأول - العام الدراسي ٢٠٢٤/٢٠٢٥ م

تابع أولاً: الأسئلة الموضوعية

٨ - المعنى اللغوي الذي يحمله الأصل اللغوي لكلمة ثقافة في اللغة العربية:

النصح. الإرشاد. التوجيه. التهذيب.

٩ - الرقم الذي يشير الى القارة التي يوجد بها دولة واحدة تستخدم مصادر الطاقة التقليدية :



١ ٢
 ٣ ٤

١٠- مقدار الفولت الكهربائي الناتج من وحدة واحدة من وحدات الجهاز الذي أمامك :



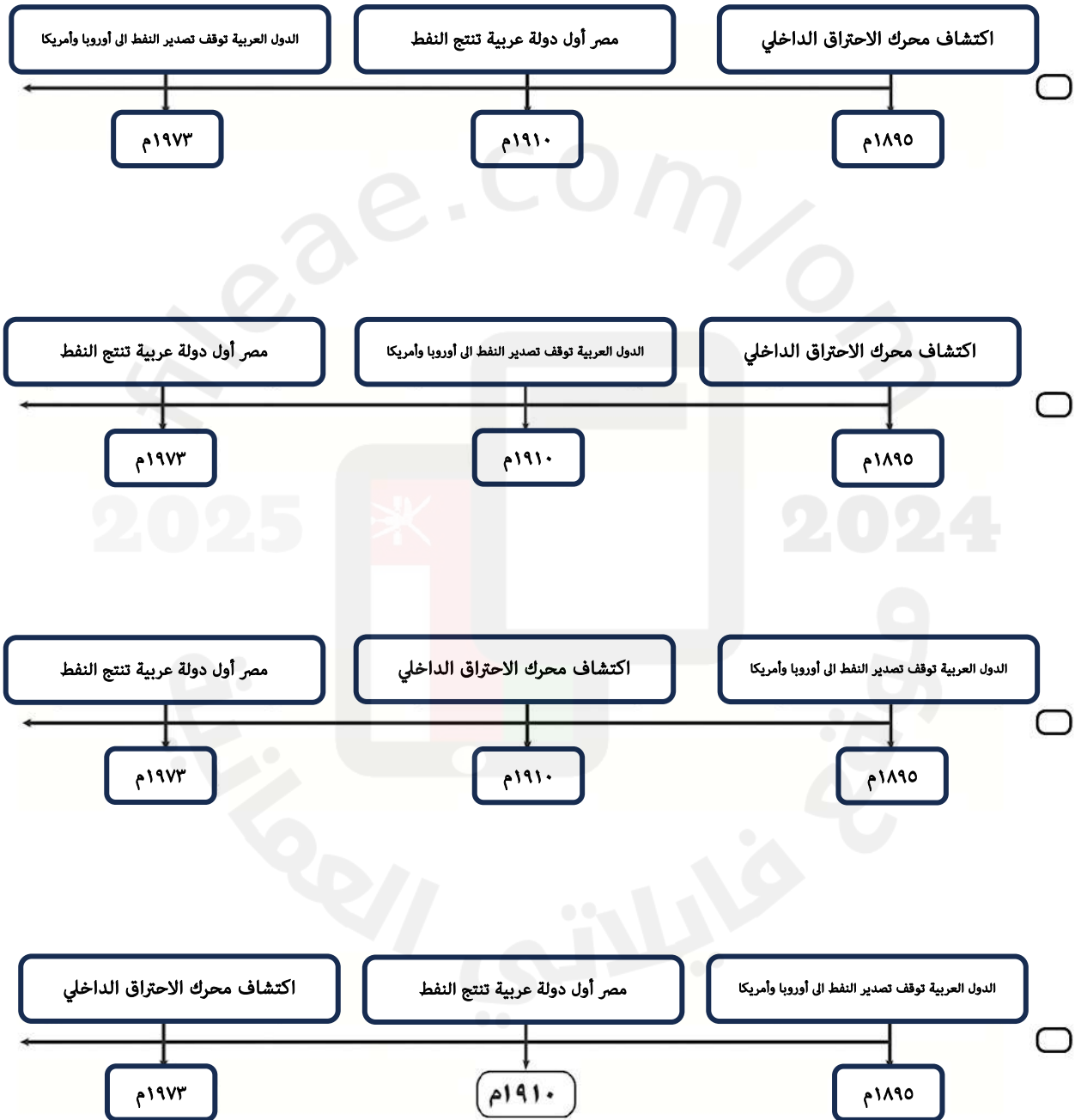
١ ٢ ٣ ٤

(٦)

المادة: العالم من حولي الصف: الثاني عشر
الامتحان التجريبي الفصل الدراسي الأول - العام الدراسي ٢٠٢٤/٢٠٢٥ م

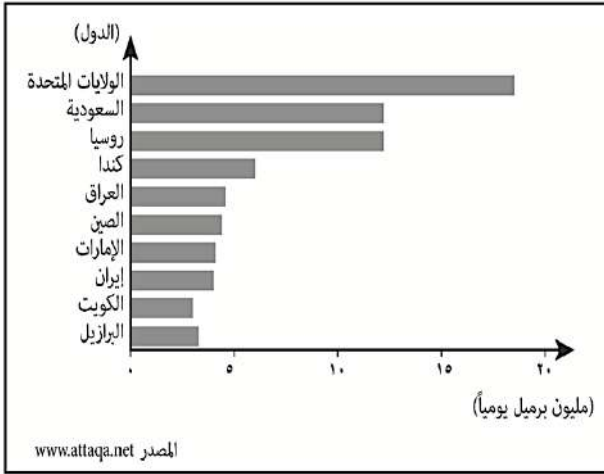
تابع أولاً: الأسئلة الموضوعية:

١١- الخط الزمني الصحيح الذي يمثل أهم أحداث اكتشاف النفط واستخداماته:



يتبع/٧

١٢ - الترتيب التنافسي للدولة العربية التي تجاوز إنتاجها للنفط (١٠) مليون برميل يومياً:



الثاني.

الرابع.

السادس .

الثامن .

١٣ - النسبة المئوية لمكون البنزين لمزيج الوقود الحيوي الظاهر في الشكل المقابل :



١٠

٥

٢٠

١٥

١٤ - الدولة التي تقوم فيها التعددية الثقافية على أساس العرق :

جنوب أفريقيا.

سويسرا.

المملكة المتحدة .

فرنسا.

(٨)

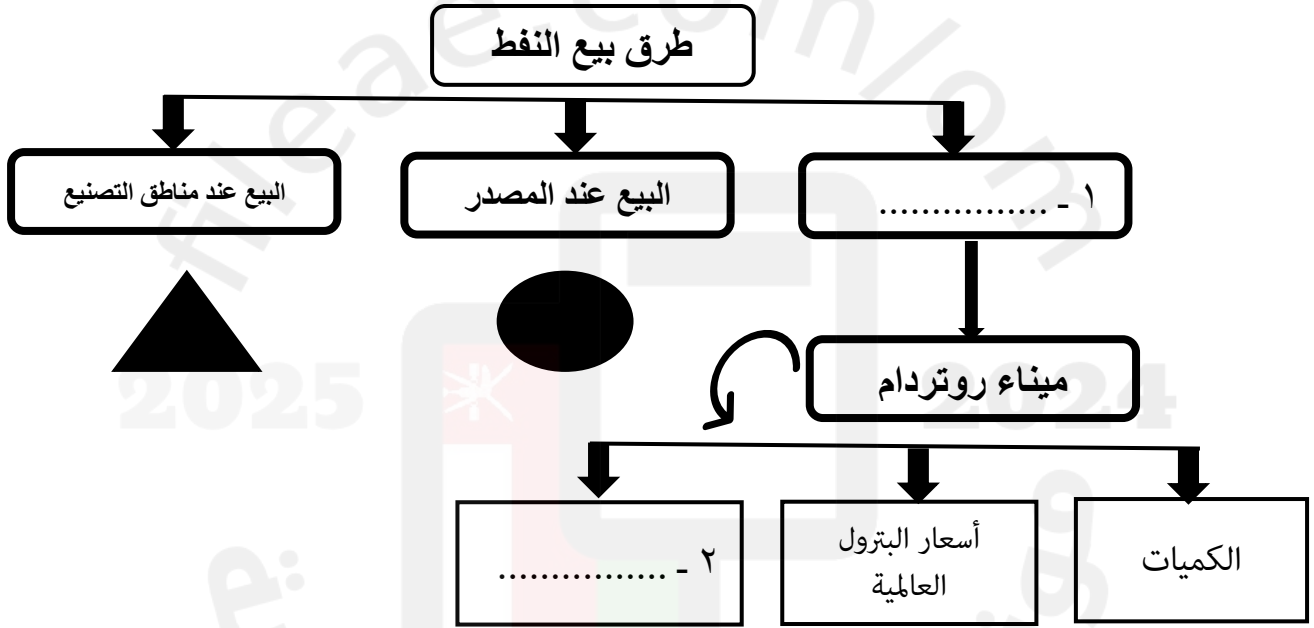
المادة: العالم من حولي الصف: الثاني عشر
الامتحان التجريبي الفصل الدراسي الأول - العام الدراسي ٢٠٢٤/٢٠٢٥ م

الأسئلة المقالية:

١٥ - أ. اكتب اسم المفهوم أو المصطلح الدال على العبارات الآتية:

المفهوم أو المصطلح	العبرة	م
	نظام اقتصادي ارتبط بالثورة الصناعية ،ويقوم على أساس تنمية الملكية الفردية والمحافظة عليها .	(١)
	زيادة درجة حرارة الكرة الأرضية نتيجة تزايد انبعاثات غاز ثاني أكسيد الكربون والميثان وغيرها في الغلاف الجوي .	(٢)

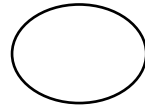
ب. ادرس المخطط الآتي ، ثم أجب عما يليه:



(١) - أكمل الفراغات (١) و (٢) في الشكل السابق.

(٢) - ظلل الرمز الصحيح الذي يشير الى المشتري (يدفع تكلفة النقل و التأمين عليه) .

(ظلل الرمز الصحيح)



(٣) - بم تفسر اختلاف طرق بيع النفط من إقليم الى آخر في العالم .

(٩)

المادة: العالم من حولي الصف: الثاني عشر
الامتحان التجريبي الفصل الدراسي الأول - العام الدراسي ٢٠٢٤/٢٠٢٥ م

تابع ثانياً: الأسئلة المقالية:

ج. أكتب مثلاً لكل من :

(١) مصادر الحصول على وقود الديزل الحيوي.

(٢) جهود السلطنة في إبراز الموروث الثقافي العماني المتمثل في القلاع والحصون.

د . دلل على التعاون العماني الأماني في مجال الإعلام عام ١٩٧٤م.

١٦ - أ. اقرأ النص الآتي ثم أجب عن الأسئلة التي تليه:

(إن المساعي التي بذلها شركاء الطاقة لحماية البيئة والحد من الآثار السلبية لحرق الوقود الأحفوري، مازالت خجولة وتواجه الكثير من الجدل غير المقنع).

في ضوء العبارة السابقة أجب عن الآتي :

١- من هم شركاء الطاقة المذكورين في النص؟

٢- ما الآثار السلبية على البيئة الناتجة عن الاستهلاك المفرط للوقود الأحفوري؟

(١٠)

المادة: العالم من حولي الصف: الثاني عشر
الامتحان التجريبي الفصل الدراسي الأول - العام الدراسي ٢٠٢٤/٢٠٢٥ م

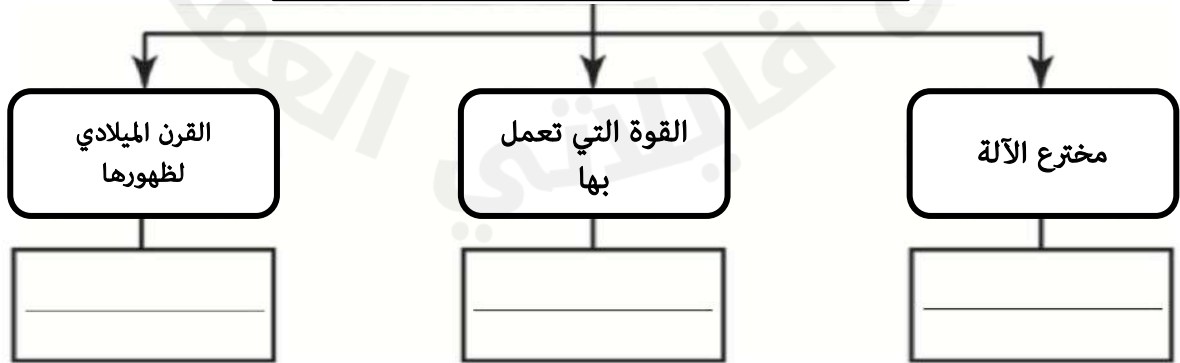

تابع ثانياً: الأسئلة المقالية:

ب . برهن على ما يأتي:

(١) استخدام النفط كسلاح من قبل الدول العربية.

(٢) - جهود السلطنة في توظيف أساليب العلم والتقنية في مجال الحفاظ على
المخطوطات والوثائق.

١٧ - أ - أدرس المخطط الآتي ، ثم أكمل الفراغات بما يناسبها:



(١١)

المادة: العالم من حولي الصف: الثاني عشر
الامتحان التجريبي الفصل الدراسي الأول - العام الدراسي ٢٠٢٤/٢٠٢٥ م

تابع ثانياً: الأسئلة المقالية:

ب . أكتب أرقام العبارات الصحيحة التي تنطبق على الشكل الذي أمامك :



- ١) يتميز بثبات الأسعار عالمياً .
- ٢) لا يخلف مواد ضارة بصحة الإنسان.
- ٣) لا يتوزع بصورة متساوية على قارات العالم .
- ٤) ينشأ من مواد عضوية (حيوانية ونباتية) .
- ٥) يحتاج الى مدة قصيرة من الزمن لكي ينشأ في باطن الأرض.
- ٦) من مصادر الطاقة الغير متجددة .
- ٧) من حيث وزنه النوعي وكثافته يعتبر الخفيف أكثر قيمة .

أرقام العبارات الصحيحة			

(١٢)

المادة: العالم من حولي الصف: الثاني عشر

الامتحان التجريبي الفصل الدراسي الأول - العام الدراسي ٢٠٢٤/٢٠٢٥م

تابع ثانياً: الأسئلة المقالية:

١٨ - أ. ادرس الخريطة التي أمامك، ثم أجب عن الأسئلة التي تليها:



(١)- ما الرقم الذي يشير الى الدولة التي:

أ - تستهلك (٢٪) من الطاقة العالمية، وعدد سكانها يناهز (٢٠٪) من سكان العالم؟

_____ .

ب - شهدت أول استخدام للطاقة الذرية؟ _____ .

(٢) - ما نوع النفط الخام حسب تصنيفه (وزنه النوعي أو كثافته) في الدولة المشار إليها بالرمز (▲) _____ .

(٣) - علل قيام الدولة المشار إليها بالرقم (١) بحفر بئراً للنفط في القرن الرابع ق.م.

_____ .

(١٣)

المادة: العالم من حولي الصف: الثاني عشر

الامتحان التجريبي الفصل الدراسي الأول - العام الدراسي ٢٠٢٤/٢٠٢٥م

تابع ثانياً: الأسئلة المقالية:

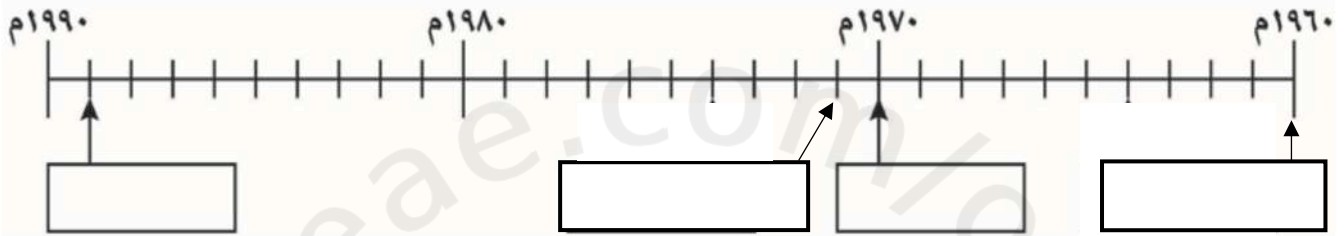
ب. انقل أرقام الاحداث التاريخية الآتية إلى المسطرة الزمنية في موقعها الصحيح:

١. إنشاء جائزة السلطان قابوس لصون البيئة.

٢. قيام الدول المصدرة للبترو (OPEC).

٣. أول صحيفة تصدر بسلطنة عمان.

٤. بدأ الإرسال الإذاعي من مسقط.



١٩ - برأيك هل سيكون تأثير ثورة الاتصالات على صعيد العلاقات الاسرية

(ظلل الإجابة الصحيحة)

سلبياً أم إيجابياً

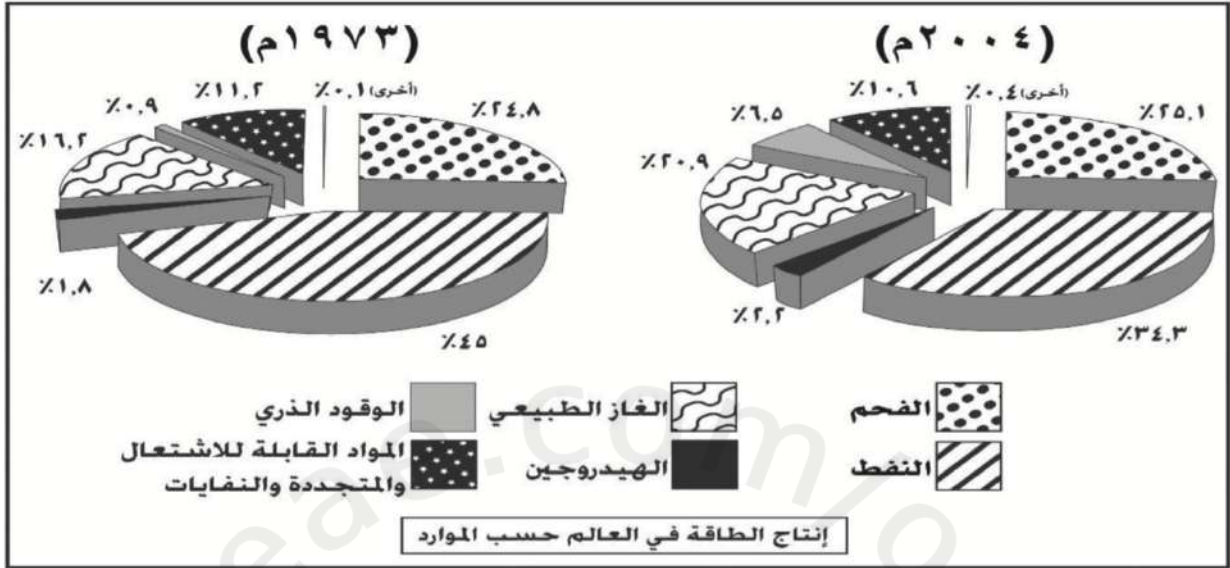
دلل على صحة رأيك.

(١٤)

المادة: العالم من حولي الصف: الثاني عشر
الامتحان التجريبي الفصل الدراسي الأول - العام الدراسي ٢٠٢٤/٢٠٢٥م

تابع ثانياً: الأسئلة المقالية:

٢٠- أ- أمامك شكل يوضح إنتاج الطاقة في العالم حسب الموارد ، ادرسه جيداً ثم اجب عن الأسئلة التي تليه.



(١) - أستخرج أعلى ثلاثة موارد طاقة إنتاجاً بالعالم عام ٢٠٠٤ م .

(٢) - ما مورد الطاقة الذي أرتفع معدل إنتاجه بنسبة ٥.٦% ؟

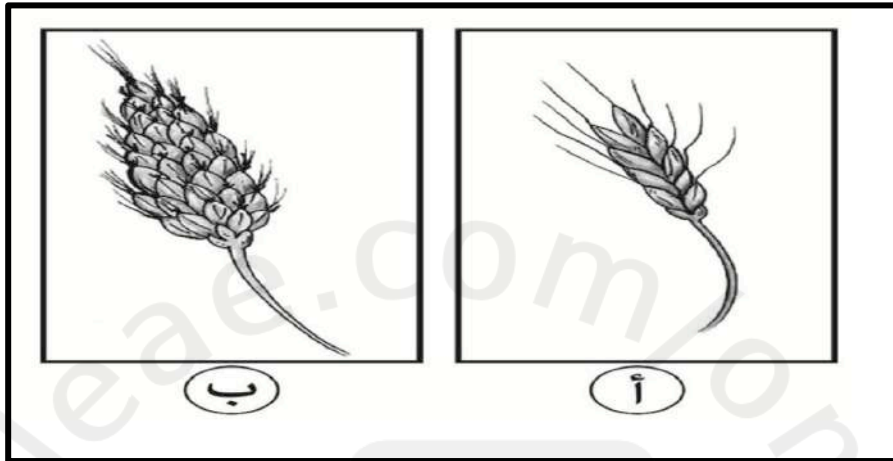
(٣) - ضع علامة (✓) على رمز المساحة لمورد الطاقة المرشح لأن يقود الثورة العالمية الخامسة .

(١٥)

المادة: العالم من حولي الصف: الثاني عشر
الامتحان التجريبي الفصل الدراسي الأول - العام الدراسي ٢٠٢٤/٢٠٢٥م

تابع ثانياً: الأسئلة المقالية:

ب . الشكل المقابل يوضح أحد التقنيات العلمية، أدرسه جيداً ثم أجب عن الأسئلة الآتية :



(١) ما المصطلح الذي يشير الى التقنية العلمية التي استخدمها العلماء للتحويل من الصورة (أ) الى الصورة (ب) ؟ .

(٢) علل سعى العلماء للتحويل الى الصورة (ب) .

(٣) صف التحولات المتوقعة لدى العلماء بعد استخدام التقنية العلمية على الصورة (أ).

(١٦)

المادة: العالم من حولي الصف: الثاني عشر
الامتحان التجريبي الفصل الدراسي الأول - العام الدراسي ٢٠٢٤/٢٠٢٥م

تابع ثانياً: الأسئلة المقالية:

٢١ - أ. فسر العبارة الآتية :

" هناك توقعات مستقبلية بعودة الزراعة الى ماكانت عليه من بدائية من قبل الثورة الصناعية نتيجة ارتفاع أسعار النفط "

ب- أذكر اثنين مما يلي :

(١) الصعوبات التي تواجه استخدام طاقة الرياح في سلطنة عُمان .

أ- _____

ب- _____

(٢) صف أصدرها بعض العمانيين في زنجبار .

أ- _____

ب- _____

(١٧)

المادة: العالم من حولي الصف: الثاني عشر
الامتحان التجريبي الفصل الدراسي الأول - العام الدراسي ٢٠٢٤/٢٠٢٥ م

تابع ثانياً: الأسئلة المقالية:

ج- فرّق بين الثقافة الظاهرة والثقافة الخفية كما في الجدول الآتي:

الثقافة الخفية	الثقافة الظاهرة	الثقافة أوجه الفرق
		المفهوم
		أمثال

انتهت الأسئلة مع تمنياتنا للجميع بالنجاح والتوفيق