


شكراً لتحميلك هذا الملف من موقع المناهج العمانية



مذكرة من سلسلة التميز

موقع المناهج ← المناهج العمانية ← الصف الثاني عشر ← هذا وطني ← الفصل الثاني ← الملف

التواصل الاجتماعي بحسب الصف الثاني عشر



روابط مواد الصف الثاني عشر على تلغرام

[الرياضيات](#)

[اللغة الانجليزية](#)

[اللغة العربية](#)

[التربية الاسلامية](#)

المزيد من الملفات بحسب الصف الثاني عشر والمادة هذا وطني في الفصل الثاني


اختبارات تدريبية لامتحانات النهائية والقصيرة	1
دفتر الطالب مع اختبارات قصيرة ونهائية للمنهج	2
أسئلة اختبارات قصيرة ونهائية للوحدة الرابعة مع الإجابة	3
أسئلة اختبارات قصيرة ونهائية للوحدة الثالثة مع الإجابة	4
اختبار قصير ثاني	5

سلسلة التميز هذا وطني

تم تحميل هذا الملف من
موقع المنهاج الإلكتروني
www.alManahj.com/om

في العراقة والمجد

الصف الثاني عشر



قناة

حمزة التعليمية يوتيوب

أ / عبدالنبي الفقي

سلسلة

التميز

مذكرات

مادة هذا وطني

الصف الثاني عشر

سلسلة مراجعات
قناة حمزة التعليمية

مراجعة رقم " 1 "



تابعونا على اليوتيوب مع
أحدث الفيديوهات التعليمية

مراجعة رقم (١)

تم تحميل هذا الملف من
موقع المناهج العمانية

alManahj.com/om

درس: -

سوق العمل توجه عالمي واهتمام وطني

اسم الطالب

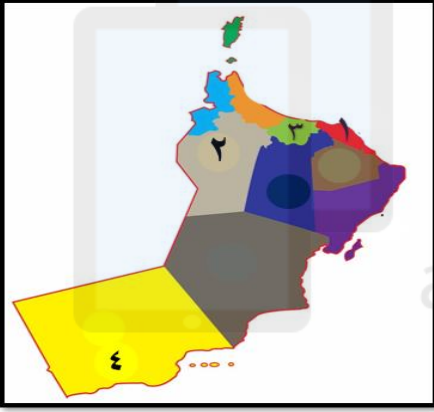
أولاً :- الأسئلة الموضوعية

السؤال الأول: ضع دائرة حول رمز الإجابة الصحيحة لكل مفردة من المفردات الآتية: (٢٠ درجة)

١- الوزارة التي تتبع لها المديرية العامة للتشغيل في سلطنة عُمان:

(أ) الاقتصاد (ب) العمل (ج) المالية (د) الداخلية

٢- الموقع الذي يشير الى مدينة خزائن الاقتصادية طبقاً للخريطة التي امامك:



أ- (١) ب- (٢)

ج- (٣) د- (٤)

٣- نوع العامل الذي يؤثر في سوق العمل الذي يظهر بالصورة التي أمامك:



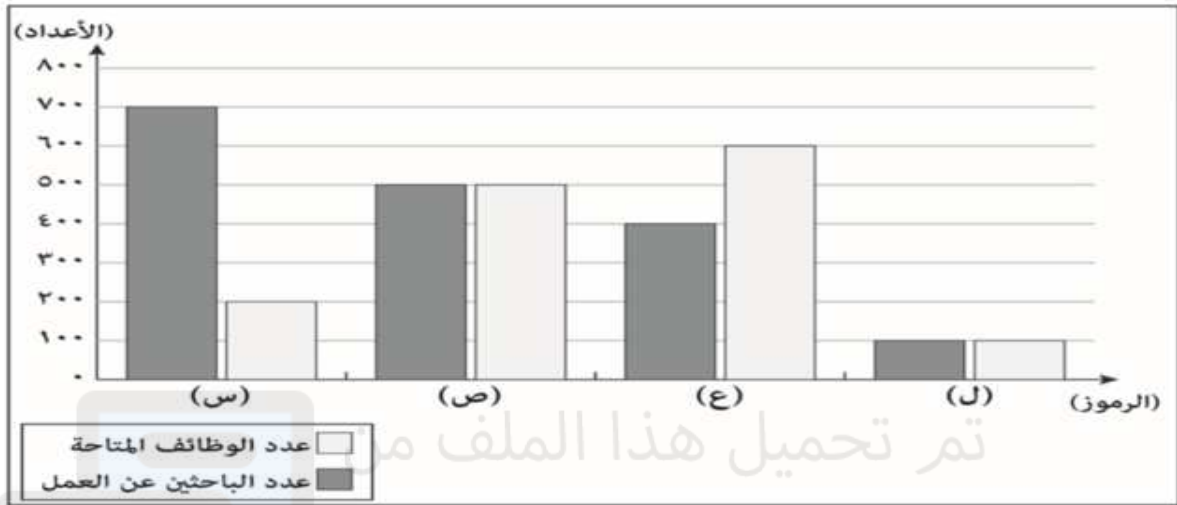
أ- العامل الجغرافي

ب - العامل الديموغرافي

ج - العامل الثقافي والاجتماعي

د - العامل الاقتصادي

٤- الرمز الذي ينطبق عليه مفهوم سوق العمل الراكد كما في الرسم البياني الآتي :



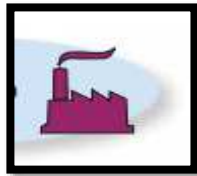
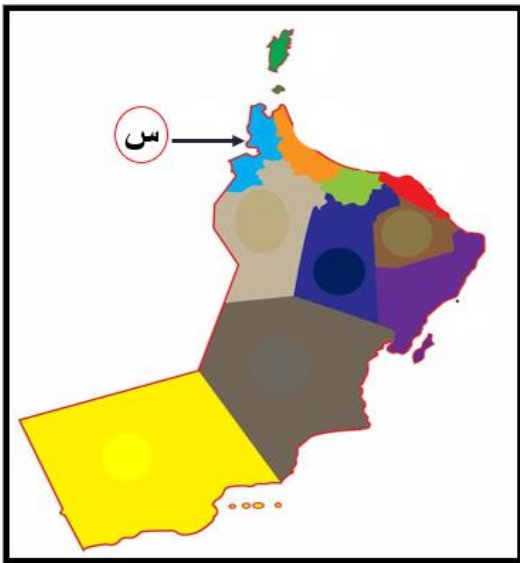
ب - (ع)

أ - (ل)

د - (س)

ج - (ص)

٥- الشكل الصحيح الذي يعبر عنه المشروع الاقتصادي الذي يشير اليه الرمز (س) حسب الخريطة التي امامك :



ب



أ



د



ج

٦- تمثل الصورة التي امامك :-



أ- العرض

ب - الطلب

ج - العرض والطلب

د - لأشياء مما ذكر

٧- مصفاة الدقم من المشروعات الهامة في قطاع :-

أ- السياحة

ب - التعدين

ج - الصناعات التحويلية

د - الخدمات اللوجستية

٨- تنتشر مزارع الاستزراع السمكي بسلطنة عمان بولاية :-

أ- قريات

ب - بخا

ج - السنية

د - طاقة

٩- أنشئت وزارة العمل بموجب مرسوم سلطاني رقم :-

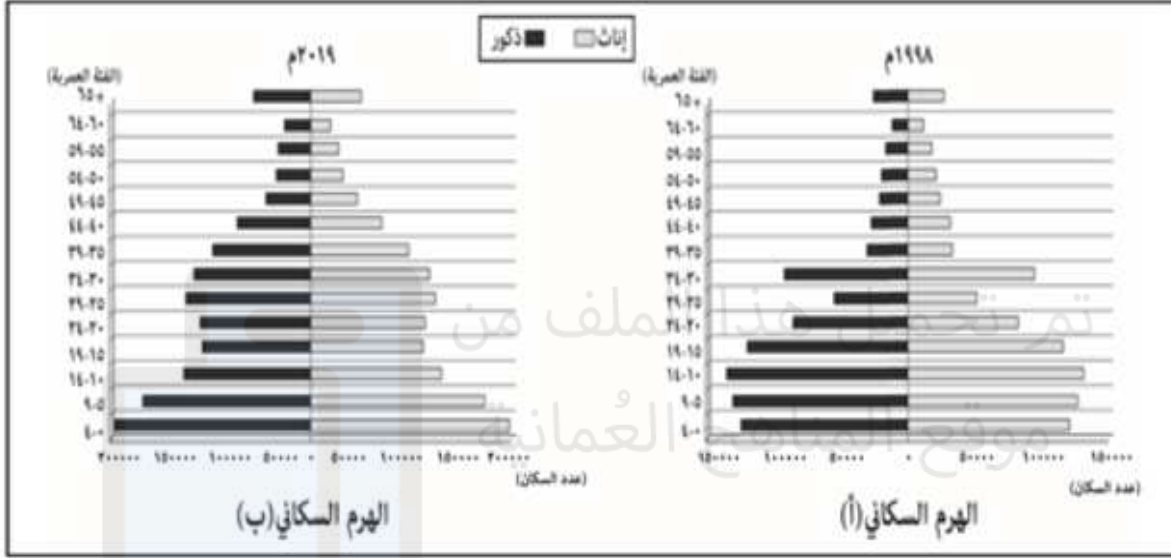
أ- (٢٠٢٠/٨٦)

ب - (٢٠٢٠/٧٨)

ج - (٢٠٢٠/٨٩)

د - (٢٠٢٠/٨٨)

١٠ - الجدول الصحيح الذي يصف الوضع السكاني لسلطنة عُمان كما يوضحه الهرم السكاني الآتي لعامي ١٩٩٨م و٢٠١٩م



الهرم السكاني (ب)	(أ)	الهرم السكاني
سنة (١٤-١٠) سنة	سنة (١٩-١٥)	الفئة العمرية الأكثر في عدد السكان
سنة (٥٤-٥٠) سنة	سنة (٥٩-٥٥)	الفئة العمرية الأقل في عدد السكان

الهرم السكاني (ب)	(أ)	الهرم السكاني
سنة (٤-٠) سنة	سنة (١٤-١٠)	الفئة العمرية الأكثر في عدد السكان
سنة (٦٤-٦٠) سنة	سنة (٦٤-٦٠)	الفئة العمرية الأقل في عدد السكان

الهرم السكاني (ب)	(أ)	الهرم السكاني
سنة (٩-٥) سنة	سنة (١٤-١٠)	الفئة العمرية الأكثر في عدد السكان
سنة (٥٩-٥٥) سنة	سنة (٥٤-٥٠)	الفئة العمرية الأقل في عدد السكان

الهرم السكاني (ب)	(أ)	الهرم السكاني
سنة (١٩-١٥) سنة	سنة (٩-٥)	الفئة العمرية الأكثر في عدد السكان
سنة (٥٤-٥٠) سنة	سنة (٥٤-٥٠)	الفئة العمرية الأقل في عدد السكان

أ

ب

ج

د

١١- مدينة خزائن الاقتصادية من المشروعات الهامة في قطاع :-

أ- السياحة ب - التعدين

ج - الصناعات التحويلية د - الخدمات اللوجستية

١٢- الشكل الصحيح الذي يعبر عن مدينة العرفان:



ج -



أ -



د -



ب -

١٣- يقع مشروع محطة مسندم للطاقة الكهربائية بولاية :-

أ- قريات ب - بخا ج - السنية د - عبري

١٤- يقع مشروع مزون للألبان بولاية :-

أ- قريات ب - بخا ج - السنية د - عبري

١٥ - مصنع لوى للصناعات البلاستيكية من المشروعات الهامة في قطاع :-

أ- السياحة ب - التعدين

ج - الصناعات التحويلية د - الخدمات اللوجستية

١٦- يُعرف سوق العمل الذي تزيد فيه عدد الوظائف المتاحة عن عدد الباحثين عن عمل :-

أ- العمل المُحكّم

ب - سوق العمل الراكد

ج - سوق العمل النظري

د - سوق العمل الاقتصاا

١٧- يُعد مشروع صلالة ميثانول للأمونيا من المشروعات الهامة في قطاع :-

أ- السياحة

ب - التعدين

ج - الصناعات التحويلية

د - الخدمات اللوجستية

١٨ - شركة مزون للألبان من المشروعات الهامة في قطاع :-

أ- السياحة

ب - التعدين

ج - الصناعات التحويلية

د - الخدمات اللوجستية

١٩- مشروع محطة مسندم للطاقة الكهربائية من المشروعات الهامة في قطاع :-

أ- السياحة

ب - التعدين

ج - الصناعات التحويلية

د - الخدمات اللوجستية

٢٠ - مطار مسقط الدولي من المشروعات الهامة في قطاع :-

أ- السياحة

ب - التعدين

ج - الصناعات التحويلية

د - الخدمات اللوجستية

ثانياً الأسئلة المقالية



١- اذكر اثنين من الأولويات التي ركزت عليها شعار الصورة المقابلة:

٢- يتأثر سوق العمل العماني بالتغيرات والتطورات التي تطرأ على المنظومة الاقتصادية العالمية، مما دفع حكومة سلطنة عمان الى اتخاذ سلسلة من الإجراءات لمواكبة تلك التطورات.....
اذكر اثنين من تلك الإجراءات.

٣- اكمل المخطط التالي والذي يمثل الإجراءات والمبادرات لتطوير سوق العمل العماني.

جعل القطاع الخاص
أكثر جذباً

تطوير حلول للقوى
العاملة الوطنية في
قطاعات التنويع

الإجراءات
والمبادرات
لتطوير
سوق العمل

..... (٢)

..... (١)

٤- ادرس خريطة المشاريع الاقتصادية لسلطنة عُمان، ثم أجب عن الأسئلة الآتية.

١١



أ- استخراج من الخريطة اسم مشروع اقتصادي في قطاع التعدين .

ب- استخراج اثنين من المحافظات التي يمر بها مشروع الطريق المشار إليه بالرمز (ص)

ج- صف نوع القطاع الاستثماري الذي ينتمي إليه المشروع الموجود في ولاية صلالة حسب الخريطة؟

د- دلل على قيام مشروع لوجستي بين محافظتي الوسطى وشمال الشرقية

هـ- اذكر ثلاث لكل من :

أ- التحديات التي تواجه سوق العمل العماني؟

.....

.....

.....

ب- نتائج حراك المؤسسات الكبرى لإعادة هيكلتها وتحقيق أرباح عالية لمواجهة المنافسة الدولية.

.....

.....

.....

٦- اكتب المصطلح الدال على العبارات الآتية

أ- سوق افتراضي نظري يتضمن القوى العاملة والعارضين لفرص العمل من المؤسسات الحكومية والخاصة

.....

ب- سوق يزيد فيه عدد الوظائف المتاحة على عدد الباحثين عن عمل

.....

ج- سوق يزيد فيه عدد الباحثين عن عمل على عدد الوظائف

.....

٧- اذكر العنصرين الأساسيين اللذين يتكون منهما سوق العمل .

١٣

- ٨- صنف العوامل المؤثرة في سوق العمل حسب العبارة المناسبة لها داخل الجدول
- العامل السياسي والقانوني
 - العامل الاقتصادي
 - العامل الديموغرافي
 - العامل الثقافي والاجتماعي

العامل	العبارات
	تشريعات وقوانين العمل
	التطورات الاقتصادية
	العادات والتقاليد ومشاركة المرأة
	الخصائص السكانية

صنف العبارات الواردة في الجدول الآتي حسب نوع العامل المؤثر في سوق العمل العالمي، مستعيناً بالمثلالموضح أدناه.

م	العبارات	نوع العامل المؤثر في سوق العمل العالمي
مثال	زيادة نسبة الذكور عن الإناث في المجتمع.	ديموغرافي
(١)	بُعد مكان العمل عن مقر السكن الدائم للعمال.	
(٢)	سن العمل المسموح به في الدولة يتراوح ما بين (١٨ - ٦٠) سنة.	
(٣)	نسبة (٨٠%) من الباحثين عن عمل حاصلين على شهادة دبلوم التعليم العام.	

-٩

لا تنسونا من صالح الدعاء

١٤

مادة هذا وطني

الصف الثاني عشر

سلسلة مراجعات
قناة حمزة التعليميةتابعونا على اليوتيوب واحذر
الفيديوهات والملخصات
التعليمية شرح+مراجعةأ/ عبد النبي الفقي
واتس / 79517445

alManahj.com/om

رابط
الاشتراك
في القناة

انتظرونا

ومراجعة رقم (2)

ومراجعة درس
المؤسسات الصغيرة
والمتوسطة

مع قناة حمزة الطريق للتفوق سهل

