

## شكراً لتحميلك هذا الملف من موقع المناهج العمانية



## كراسة أنشطة للمادة نموذج حديث

[موقع المناهج](#) ← [المناهج العمانية](#) ← [الصف الثاني عشر](#) ← [اجتماعيات](#) ← [الفصل الأول](#) ← [الملف](#)

تاريخ نشر الملف على موقع المناهج: 2023-11-25 04:12:07 | اسم المدرس: إيمان النجار وشريفة العجيلي

## التواصل الاجتماعي بحسب الصف الثاني عشر



## روابط مواد الصف الثاني عشر على تلغرام

[الرياضيات](#)

[اللغة الانجليزية](#)

[اللغة العربية](#)

[التربية الاسلامية](#)

## المزيد من الملفات بحسب الصف الثاني عشر والمادة اجتماعيات في الفصل الأول

<a href="#">كراسة أنشطة للمادة نموذج حديث</a>	1
<a href="#">نموذج اختبار قصير أول</a>	2
<a href="#">اختبار قصير أول مع نموذج الإجابة</a>	3
<a href="#">نموذج تقرير صحيفة الوطن العمانية</a>	4
<a href="#">نموذج تقرير النفط الخام</a>	5



اسم الطالبة:.....  
الصف: 12/.....  
العام الدراسي: 2023/2024



سلطنة عمان  
وزارة التربية والتعليم  
المديرية العامة للتربية والتعليم بمحافظة ظفار  
مدرسة السعادة للتعليم مابعد الأساسي 11-12



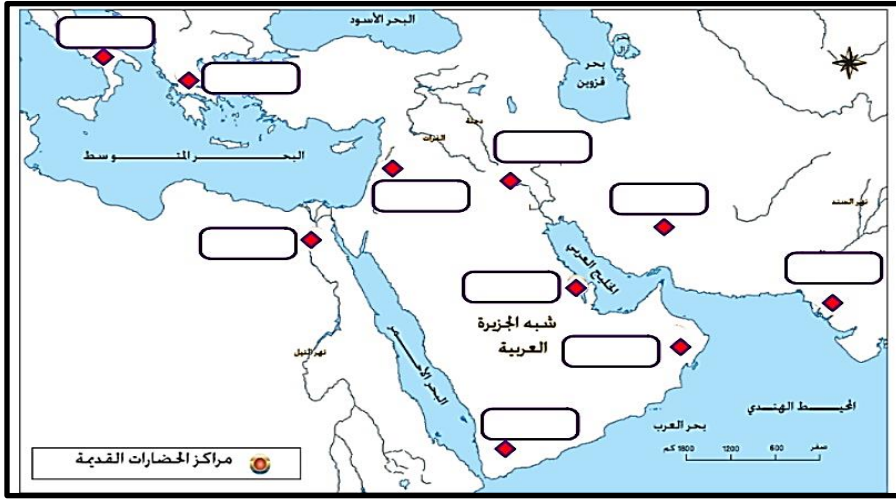
مدرسة السعادة للتعليم مابعد الأساسي (11-12)  
Al Saada School for Post-Basic Education (11-12)

كراسة أنشطة في مادة  
**العالم من حولي**  
الفصل الدراسي الأول

اعداد: أ. شريفة بنت علي عمر العجيلي  
أ. إيمان بنت أحمد عوض النجار



٧- حددي على الخريطة التالية مواقع الحضارات القديمة.



الوحدة الأولى: (عالمنا..عالم متسارع ومتغير وبلا حدود)

الدرس الأول: إنجازات الأوائل.. طريق المستقبل التاريخ: ...../...../.....م ٢٠.....

١- ما لعوامل التي ساعدت على ظهور الانجازات للانسان ؟

- أ- .....  
ب- .....

٢- عرفني الحضارة

٣- فسري : كانت الحضارات العالمية للانسان نتيجة جهد الانسان في خدمة الانسان

٤- ما لذي نتج عن استقرار الانسان قديما ؟

- أ- .....  
ب- .....  
ج- .....

٥- تتبع مراحل تطور الحضارة

- أ- .....  
ب- .....  
ج- .....  
د- .....

٦- ما النتائج المترتبة على حركة التمدن في الحضارات القديمة؟


- أ- .....  
ب- .....  
ج- .....  
د- .....

٨- أهم مواقع الاستقرار الإنساني القديم.



كرواسة أنشطة في مادة العالم من حوالي للصف الثاني عشر

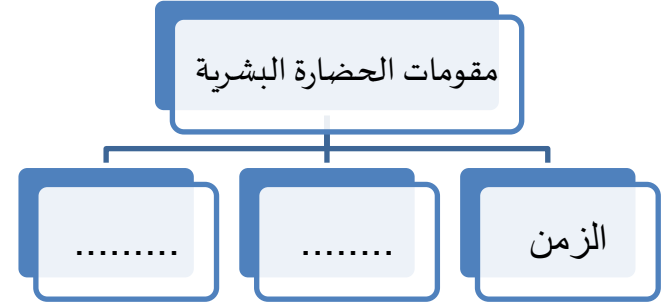
٩- تعد من مراكز الحضارات في الجنوب الشرقي من شبه الجزيرة العربية .....



١٠- من خلال الصورة المقابلة اجيبي عما يلي من أسئلة:

- أ- ما اسم المعلم المقابل في الصورة؟ .....
- ب- ما اسم الفنان الذي قام برسم صوره تخيليه لهذا الراج؟ .....
- ت- في أي عام رسمت هذه الصورة؟ .....

١١- اكمل المخطط التالي لمقومات الحضارة البشرية



١٢- علي: للزمن دور في قيام الحضارات .

١٣- النظام السياسي الروماني ، حيث مر ب ٣ مراحل :

أ- .....

ت- .....

ث- .....

١٤- تم تدوين القانون الروماني عام .....

١٥ - بماذا ميز الله الإنسان عن غيره من المخلوقات؟ .....

١٦- تتبع النتائج المترتبة من استخدام الانسان لفكره وعقله.

١- .....-٢ .....

٣- .....-٤ .....

١٧- ما المقصود بالبيئة ؟

.....

.....

١٨- كيف تؤثر البيئة على الإنجاز الإنساني ؟

أ- ..... ب- .....

١٩- دلي على تحدي العمانيين لظروف بيئتهم .

.....

٢٠- اذكر العوامل المؤثرة في الإبداع الإنساني .

أ- ..... ب- ..... ج- .....

د- ..... س- ..... ص- .....

بعد قراءتك للفقرة التالية اجيبي عما يلي :



**إشراقات من الوطن :**

تعد سلطنة عُمان من أوائل الدول العربية التي عرفت في تاريخها الحديث النظام المؤسسي للدولة بمؤسساتها وتنظيماتها الإدارية، وقد مرت هذه التجربة بمراحل عدة، حيث بدأت من مؤسسات بسيطة، ثم تطورت إلى نظم إدارية وسياسية واجتماعية، وبلغت هذه المؤسسات والنظم درجة عالية من الرقي والتقدم في عصر النهضة المباركة مستتيرةً بفكر جلاله السلطان قابوس (حفظه الله ورعاه) ورؤيته في بناء دولة المؤسسات والقانون، وتوج ذلك بصدور النظام الأساسي للدولة عام ١٩٩٦ م.

١- متى صدر النظام الأساسي للدولة ؟

٢- من الذي أصدر النظام الأساسي لسلطنة عمان؟

٢- تتبعي مراحل تطور النظام السياسي في عمان ؟

١- .....

٢- .....

٣- .....



٢٧- علي: اتجه الإنسان منذ استقراره على الأرض نحو الإجتماع والإتحاد مع غيره من الناس .

أ- ..... ب- ..... ج- .....

٢٨- رتب المراحل التي مرت بها تنظيم الجماعة الإنسانية

تكوين العادات والتقاليد
ظهور الدول والمؤسسات والقوانين
ظهور الشرائع الدينية
تعيين زعيم للجماعة

**أضف إلى معلوماتك:**  
ظهر مفهوم المواطنة عندما بدأ المواطنون يشاركون في الحوار داخل المنتديات، وكانت البدايات في أثينا واليونان في القرن الخامس ق.م، وبذلك كان المواطنون نشطين في خدمة مجتمعهم.  
سيف العمري، تربية المواطنة، ص ٣٢

بعد قراءتك للفقرة التالية أجبني عما يلي: ٢:

١- ما المقصود بالمواطنة؟ ومتى وأين ظهر هذا المفهوم؟

٢- فسري مشركة الأفراد في تسيير شؤون مجتمعهم .

٣- ما العوامل المؤسسة للهوية الوطنية

٣٠- أبرز الإنجازات الحضارية للإنسان في المجال الاقتصادي

.....	.....	.....	.....
.....	.....	.....	.....

**تعلم:** يعد أفلاطون (٤٢٧-٣٤٨ ق.م) نموذجاً لأصحاب الوعي الحضاري القدماء، حيث اشتهر بنظرته للمدينة الفاضلة التي يحكمها فيلسوف انطلاقاً من نظريته في النفس الإنسانية، وفلسفته الأخلاقية والاجتماعية، ويمثل السلطان قابوس نموذجاً لمواصفات الفيلسوف - الحاكم الذي نادى به أفلاطون، حيث نجح في نقل دولته إلى مصاف الدول المتقدمة، وأن يكون صوت سلام وتسامح وعدالة ومساعدة .  
نمر فريحة، التربية المواطنة في فكر السلطان قابوس، ص ٢٠٣ .

بعد قراءتك للفقرة التالية أجبني عما يلي :

١- ما اسم النظرية التي نادى بها أفلاطون؟

٢- عن ماذا تتحدث هذه النظرية؟

٣- من هي الشخصية التي تتطابق مع مواصفات الحاكم الذي نادى به أفلاطون؟

٤- لماذا تعتبر هذه الشخصية مطابقة لمواصفات أفلاطون؟

٢٣- اشرح نظرية التحدي والاستجابة لتويني .







٢٤- ما هما العاملان اللذان يمثلان المحرك الأساسي في نشوء الحضارة وتطورها من وجهة نظر توينبي ؟

٢٥-



٢٦- أهم إنجاز حضاري للإنسان في المجال السياسي هو العيش مع .....

٣٧- تتبع مراحل تطور الكتابة:

	٢-		١-
	٤-		٣-
	٦-		٥-

٣٨- ابتكرت أقدم كتابة على يد ..... في .....

٣٩- ظهرت أول أبجدية على يد ..... وكانت مكونة من ..... حرف

٤٠- على تسمية الكتابة السومرية بالكتابة المسمارية ؟

٤١- دللي على أهمية الكتابة.

٤٢- وضح دور الفتوحات الإسلامية في الإنجاز الفكري ؟

٤٣- إلى ماذا يشير ابتكار الحروف الأبجدية.

٤٤- عددي أبرز الفنون التي عرفها الإنسان البدائي .

أ- ..... ب- ..... ج- ..... د- .....

ع- ..... ف- ..... ص- .....

٤٥- ما العوامل المؤثرة في تطور وتقدم الفنون في الحضارة الإنسانية ؟

أ- ..... ب- ..... ج- ..... د- .....

٤٦- ما أهمية الرحلات الكبرى التي قام بها القدماء؟

أ- ..... ب- ..... ج- ..... د- .....

٣١- دللي : على مشاركة المرأة في صنع الحضارة منذ القدم.

٣٢- وضح كيف تطورت العملات المعدنية؟

٣٣- ما النتيجة المترتبة على حاجة الإنسان إلى كلا من :

الصيد	
الملابس	
التنقل	
الدفاع عن النفس	
الزراعة	
التبادل التجاري	

٣٤- علي : اتجه الإنسان منذ استقراره على الأرض نحو الإجتماع والإتحاد مع غيره من

الناس .

٣٥- الإنجازات الحضارية للإنسان في المجال الفكري

.....	....	.....
-------	------	-------

٣٦- على: يعد اختراع الكتابة من أبرز الإنجازات الفكرية؟

**الوحدة الأولى: (عالمنا ..عالم متسارع ومتغير وبلا حدود)**

الدرس الثاني: ثورات كبرى تغير وجه العالم التاريخ: ...../...../.....م ٢٠٠٠

١- كيف تمكن الإنسان من الانتقال من مرحلة حضارية إلى أخرى أكثر تقدما وتطورا

٢- عرف الثورة.

٣- أهم الثورات التي مرت بها الإنسانية

.....	.....	.....	.....
-------	-------	-------	-------

٤- متى تحول الإنسان من مرحلة الصيد إلى مرحلة الزراعة؟.....

٥- قارني بين الزراعة قديما وحديثا في الجدول التالي:

أوجه المقارنة	الزراعة قديما	الزراعة حديثا
أدوات حراثة الأرض		
أساليب الري		
طرق تسويق المنتجات		

٦-

**بعد قراءة الفقرة التالية اجب عما يلي من أسئلة:**

١- عددي الجهود التي تبذلها الدول لتحقيق تنمية مستدامة في المجال الزراعي.

أ-..... ب-.....

ج-..... د-.....

كيف أسهم ظهور الثورة الصناعية في تطور الزراعة

وهكذا نلاحظ اليوم الكثير من الدعوات للتنمية المستدامة في المجال الزراعي، من خلال الاهتمام بالمزارعين، ونشر التعليم بينهم، وتوطينهم بأهمية القطاع الزراعي، إضافة إلى تدريبهم على استعمال البذور المحسنة والأسمدة الكيماوية وغيرها من الخطوات التي ترفع من الإنتاجية في المجال الزراعي، وتزود البشر بما يحتاجونه من مواد غذائية.

وقد أسهم ظهور الثورة الصناعية في تطور الزراعة، ويظهر ذلك في العلاقة التبادلية بينهما في مجال الآلات وأساليب التصنيع والإنتاج، والتصدير والاستيراد والأبدي العاملة والمستشار رؤوس الأموال.

٧٤- من أول شعب تمكن من القيام برحلة كاملة حول قارة أفريقيا؟ ومتى كان ذلك؟



٤٨- دللي على أهمية الرحلة الفينيقية؟

٤٩- على ماذا يدل تمكن الفينيقيين من تحقيق أول دورة بحرية في القرن السادس ق. م.

٥٠- ما نتيجة تمكن الفينيقيين من تحقيق أول دورة بحرية.

٥١- بيني دور المسلمين في نشر العلم بين مختلف الدول والحضارات

٥٢- بماذا اتسم عصرنا الحالي؟ أ-..... ب-..... ج-.....

٥٣- وضحي: يشهد العصر الراهن الاتجاه نحو الاستثمارات الضخمة في مجال العلم وبحوث التطوير.

٥٤- عرفي كلا من:

الهندسة الوراثية:

الشركات متعددة الجنسيات

٥٥- دللي: على الأثر الإيجابي للتواصل بين الحضارات



ما اسم الآلة في الصورة المقابلة ؟

في أي جانب أثر ظهور هذه الآلة على المجتمعات؟

ما النتائج التي ترتبت على اختراعها ؟

-٤

٧- دلي على اهتمام السلطنة بالمجال الزراعي لتحقيق تنمية مستدامة ؟

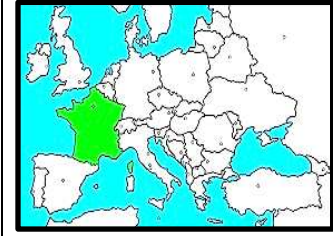
٨- متى عقدت ندوة التنمية المستدامة للقطاع الزراعي وتنظيم سوق العمل؟

٩- إلى ماذا يشير انعقاد هذه الندوة بأمر من السلطان قابوس بن سعيد -طيب الله ثراه-؟

-٥

### الثورة الصناعية:

١- اكمل المخطط التالي:



حركة التنوير:

التعريف:.....

الدولة التي ظهرت بها.....

الفترة التاريخية/.....

ما هي اول الآلة في مجال صناعة القطن؟ ومن مخترعها؟ ومتى؟

اسم الآلة:

المخترع

سنة الاختراع:.....

ما اول مجال للإختراعات الصناعية؟

متى انطلقت بدايات الثورة الصناعية؟

التعريف:

ما الطاقة التي كانت تعمل بها المكوك الطائر؟

اين كانت تقام معامل النسيج؟

ما النتيجة المترتبة على اختراع المكوك الطائر؟

٦- وضح أثر الثورة الصناعية في الجانب الثقافي للمجتمعات.



ما اسم الآلة في الصورة المقابلة؟

متى تم تطويرها؟

من قام بتطويرها؟

-٧

٢- علي: كانت ورشة الغزل لا بد أن تقام على أحد مساقط المياه.

٣- أكمل الجدول التالي لأهم إختراعات الثورة الصناعية ومخترعيها.

اسم المخترع	الاختراع
جون كاي	
توماس نيوكمان	
جيمس واط	
دربي	
موريس	
الكسندر جراهام بل	

٨- أقرأ الفقرة التالية ثم أجيب عما يلي:

"الثورة الصناعية في بعض انجازاتها لم تكن مرتبطة ارتباطا وثيقا بالنظريات والمبادئ العلمية عند انطلاقها في البداية"

أ- وضح المقصود بهذا النص.

ب- اعط دليلا على ذلك ؟

ت-



### % نظم المعلومات والاتصالات:

• ظهور شبكة الإنترنت وتحول العالم إلى قرية كونية صغيرة يسهل التواصل بين أجزائها

• أصبحت المعرفة متاحة للجميع في أي وقت وأي مكان

### % التجارة والاقتصاد:

أ- ظهور الإقتصاد المعرفي: هو الإقتصاد القائم على .....

ب- التجارة الإلكترونية: هي عملية .....

ترتب عليه الإستخدام المكثف .....

وتزايد صناعة .....

### % التعليم:

أ- ظهور مفهوم التعليم **عن بعد**

ب- ترتب على ظهور مفهوم التعليم عن بعد ظهور:

١- الجامعات الافتراضية ٢- ..... ٣- .....

ج- أصبح التعليم أكثر .....

### % العمل:

ظهر مفهوم كلا من:

أ- \* الحكومة الإلكترونية وهي: .....

مميزات الحكومة الإلكترونية:

١- ..... ٢- .....

٣- .....

\* علي: تتجه الحكومات إلى إستخدام تكنولوجيا المعرفة في تسيير شؤونها.

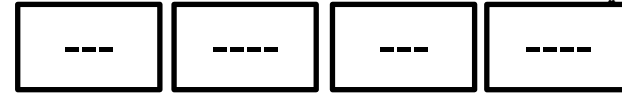
ب- آلية العمل في أي زمان ومكان

ج- متى بدأ الإتجاه نحو الاستثمار في مجال البحوث والتطوير؟

د- أعط مثال على الاستثمار البحثي في مجال الاختراعات المستقبلية.

### ثورة تكنولوجيا المعرفة

١- أرسى خريطة ذهنية لمقومات ثورة المعرفة.



٢- ما هي العولمة؟ .....

٣- علي: تسمية العصر الحالي بعصر المعرفة.

٤- متى استخدمت القنبلة الذرية لأول مره؟ وفي أي مجال؟

٥- عددي بعض الاستخدامات السلمية للطاقة الذرية.

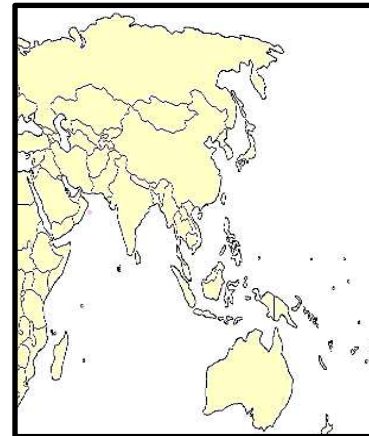
أ- المشروعات الهندسية الكبرى مثل: (..... و.....)

ب- .....

٦- حددي على الخريطة التي أمامك الدولة

التي ألقى عليها قنبلتان ذريتان عام ١٩٤٥م

٧- أثر تكنولوجيا المعرفة على المجالات التالية:



الوحدة الأولى: (عالمنا..عالم متسارع ومتغير وبلا حدود)

الدرس الثالث: عالم الغد.. آمال وتحديات التاريخ:...../...../.....م ٢٠٠٠

١- بيني أهمية استشراف المستقبل في التخطيط للحياه.

أ-.....

ب-.....

ج-.....

٢- من هم علماء المستقبليات؟ وما أهم المجالات التي شملتها توقعاتهم؟

.....

التكوينات الاجتماعية والعلاقات الأسرية في الألفية الثالثة

١- ما أهم التحولات والتغيرات الاجتماعية التي شهدتها الألفية الثالثة؟

التكوينات الاجتماعية

ظهور تحولات على بعض التكوينات الاجتماعية القائمة مثل : الأسرة والقبيلة والطبقة والفئة الإجتماعية لصالح صيغ جديدة مثل منظمات المجتمع المدني .

العلاقات الأسرية

بين آراء العلماء حول مستقبل العلاقات الأسرية في الألفية الثالثة .

متفائل: تحسن العلاقات الأسرية نتيجة لثورة الاتصالات واحلال الماكينات

الآلية والحوكات المبرمجة محل البشر في تسيير الأعمال

متشائم: بروز نوع من المشكلات الاجتماعية وأبرزها التفكك الاسري بسبب

ثورة الاتصالات وما صاحبها من تدفق للمعلومات وتنمية قيم الانتاج

والاستهلاك وارتباط شرائح اجتماعية عديدة بمصالح الشركات متعددة الجنسيات

• خفض كلفة الإنتاج

• أصبح الانتاج وفقا لمواصفات المستهلك وطلبه مثال على ذلك: شركة كومباك

وديل

٨- فسري: قيام السلطنة بمشروع الإستراتيجية الوطنية لمجتمع عمان الرقمي

.....

٩- عللي لما يلي :

أ- عدد العمال في مجال تجارة الحواسيب والبرمجيات يفوق عدد العمال في صناعة

السيارة في الولايات المتحدة.

.....

ب- تتجه الحكومات إلى استخدام تكنولوجيا المعرفة في تسيير شؤونها

.....

ج- ساعدت تكنولوجيا المعرفة على خفض كلفة الإنتاج .

.....

ب- ستكون المعرفة أساسا ..... نتيجة اعتماد العملية

الإنتاجية الحديثة على ما يعرف ب.....

٧- دلي على أهمية المعرفيين في قيادة المجتمعات .

.....

٨- عرف المنظومة القيمية ؟

.....

٩- سمات ومعالج المجتمع القادم

.....	.....	.....
.....	.....	

١٠- يتوقع علماء المستقبل أن تشهد الألفية الجديدة الكثير من

الاختراعات والاكتشافات منها :

.....	.....	.....	.....
.....	.....		

٢- ما المقصود بمنظمات المجتمع المدني.

.....

٣- علي ظهور منظمات المجتمع المدني.

.....

٤- علي : تسمية العصر الحالي بعصر المعرفة .

.....

٥- أهم مظاهر مجتمع (عصر المعرفة)

ظهور نظام إجتماعي
تسوده التغيرات
الإجتماعية
والفوارق بسبب :
.....١-
.....٢-

ظهور نظام
اقتصادي يعتمد
أساسا على المعرفة
، ينعكس إيجابيا
على :
أ- العمل
.....ب-
.....ج-

٦- ترتب على هذه المظاهر :

أ- انتقال زمام الريادة المجتمعية من أيدي .....

..... إلى .....

١١ - عددي أبرز المجالات والاختراعات التي يسعى العلماء إلى تطويرها

باستخدام الهندسة الوراثية

الإستفادة من علم الهندسة الوراثية في هندسة نبات القمح



\* عللي : اتجاه العلماء نحو هندسة نبات القمح وراثيا .

رسم خرائط جينية لجينات العديد من الأصول الوراثية  
لنباتات مهمة .



\* عللي : سعي العلماء إلى رسم خرائط جينية لأصول بعض  
النباتات .



انتاج دم صناعي بواسطة الهندسة الوراثية



- ما أهمية الدم للإنسان ؟ .....
- عللي : إتجاه العلماء نحو إيجاد دم صناعي .
- .....

١٢ - عرف مايلي:

أ- الخيال العلمي:

.....  
.....

ب- الخريطة الجينية:

.....  
.....