

تم تحميل هذا الملف من موقع المناهج العُمانية



* للحصول على أوراق عمل لجميع الصفوف وجميع المواد اضغط هنا

<https://almanahj.com/om>

* للحصول على أوراق عمل لجميع مواد الصف الثاني عشر اضغط هنا

<https://almanahj.com/om/12>

* للحصول على جميع أوراق الصف الثاني عشر في مادة هذا وطني ولجميع الفصول, اضغط هنا

<https://almanahj.com/om/12country>

* للحصول على أوراق عمل لجميع مواد الصف الثاني عشر في مادة هذا وطني الخاصة بـ الفصل الأول اضغط هنا

<https://almanahj.com/om/12country1>

* لتحميل كتب جميع المواد في جميع الفصول للـ الصف الثاني عشر اضغط هنا

<https://almanahj.com/om/grade12>


* لتحميل جميع ملفات المدرس نعيمة بنت سعيد البريكية اضغط هنا

للتحدث إلى بوت على تلغرام: اضغط هنا

https://t.me/omcourse_bot

سلطنة عمان
وزارة التربية والتعليم
المديرية العامة للتربية والتعليم
بمحافظة الباطنة شمال
مدرسة عاتكة للتعليم ما بعد

الأساسي



المساند لمادة

الدراسات الاجتماعية

للفصل الثاني عشر

الفصل الدراسي الأول

ملتزمون بتحقيق رؤيتنا ، الإجابة في موادنا

اعداد وتجميع: أ. نعيمة سعيد البريكية

معلمة جغرافيا

مديرة المدرسة: أ. سالمة مبارك الحوسنية

العام الدراسي : 2016 – 2017م

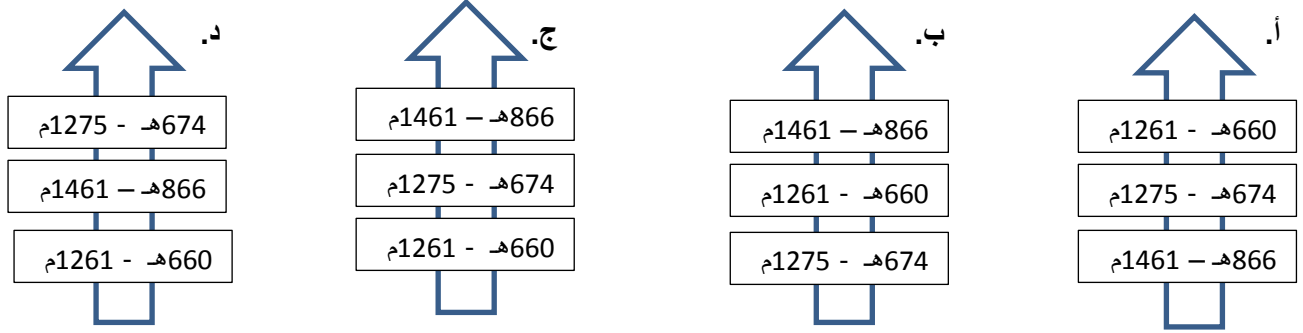
الوحدة الاولى :التاريخ العماني... انجاز حضاري وتواصل ثقافي

عنوان الدرس : عمان ... اسلام وحضارة

السؤال الأول: ظللي الرمز المقترن بالإجابة الصحيحة من بين البدائل المعطاة:

1. عدد الرسائل التي ارسلها الرسول صلى الله عليه وسلم الى اهل عمان:
 - أ. اثنتان
 - ب. ثلاث
 - ج. اربع
 - د. خمس
2. عدد الوفود الذين ارسلهم الرسول صلى الله عليه وسلم الى اهل عمان :
 - أ. اثنان
 - ب. ثلاثة
 - ج. اربعة
 - د. خمسة
3. عدد الوفود الذين استقبلهم الرسول صلى الله عليه وسلم من اهل عمان:
 - أ. اثنان
 - ب. ثلاثة
 - ج. اربعة
 - د. خمسة
4. (لو أن أهل عمان أتيت ما سيوك ولا ضريوك) قائل هذه العبارة :
 - أ. محمد صلى الله عليه وسلم
 - ب. ابو بكر الصديق
 - ج. عمرو بن العاص
 - د. ابو زيد الانصاري
5. كان يحكم عمان اثناء وصول رسالة النبي صلى الله عليه وسلم:
 - أ. مالك بن فهم
 - ب. عبد وجيفر ابني الجندى
 - ج. سعيد وسليمان ابني الجندى
 - د. الجندى بن مسعود
6. اسند اليه الرسول صلى الله عليه وسلم مهمة تعليم اهل عمان الصلاة وقراءة القرآن الكريم:
 - أ. مازن بن غضوبه
 - ب. عمرو بن العاص
 - ج. ابو زيد الانصاري
 - د. عبد بن الجندى
7. اسند اليه الرسول صلى الله عليه وسلم مهمة جمع الزكاة من اغنياء عمان وتوزيعها على فقرائها:
 - أ. مازن بن غضوبه
 - ب. عمرو بن العاص
 - ج. ابو زيد الانصاري
 - د. عبد بن الجندى
8. تقع بلاد المليبار بالنسبة للهند حاليا جهة الساحل:
 - أ. الشرقي
 - ب. الجنوب الغربي
 - ج. الغربي
 - د. الجنوب الشرقي
9. يعد من علماء الحديث العمانيين وصاحب كتاب المسند:
 - أ. جابر بن زيد
 - ب. الربيع بن حبيب
 - ج. نور الدين السالمي
 - د. العوتبي
10. يعد من ابرز العلماء العمانيين وصاحب كتاب الرسائل:
 - أ. جابر بن زيد
 - ب. الربيع بن حبيب
 - ج. نور الدين السالمي
 - د. العوتبي
11. يوجد مسجد الشواذنه الذي بني سنة (7) هجرية في ولاية:
 - أ. ادم
 - ب. نزوى
 - ج. ابرا
 - د. الرستاق
12. يوجد جامع سعال الذي بني سنة (8) هجرية في محافظة:
 - أ. الشرقية
 - ب. الباطنة
 - ج. الداخلية
 - د. الظاهرة
13. انتصر على الحملة العسكرية التي كانت بقيادة عيسى بن جعفر:
 - أ. غسان بن عبدالله
 - ب. الوارث بن كعب
 - ج. الصلت بن مالك
 - د. عزان بن تميم
14. انشئ المجلس الاستشاري (جومب) في شرقي افريقيا خلال فترة حكم :
 - أ. آل الجندى
 - ب. النباهنه
 - ج. اليعاربه
 - د. البوسعيد
15. كان للظروف التي مرت بها عمان في العصر الاسلامي العديد من الآثار منها انتقال العاصمة من صحار الى:
 - أ. سمائل
 - ب. مسقط
 - ج. نخل
 - د. نزوى

15. الترتيب الزمني الصحيح الذي يشير الى الغزوات التي تعرضت لها عمان من قبل حكام هرمز وشيراز تصاعديا هو:



16. اسهم العمانيون خلال العصر الاسلامي في تثبيت النظام في جزيرة سقطرى الواقعة على مدخل:

د. بحر العرب

ج. البحر المتوسط

ب. بحر عمان

أ. البحر الاحمر

17. الامام الذي اتخذ السفن الصغيرة كالشذاة والغرف لمواجهة بوارج القراصنة:

د. سلطان بن سيف

ج. غسان بن عبدالله

ب. احمد بن سعيد

أ. ناصر بن مرشد

18. يعتبر تطور نمط الابنية العمانية احد النتائج المنعكسة من تطور النشاط:

د. السياسي

ج. العسكري

ب. الاقتصادي

أ. الاداري

19. الصورة التي امامك تدل على احدى نتائج ازدهار العلاقات التجارية لعمان في العصر الاسلامي مع بلاد:

ب. العراق

أ. الصين

د. مصر

ج. فارس

20. توضح الصورة النقوش التي تأثر بها العمانيين نتيجة العلاقات التجارية

في العصر الاسلامي مع احدى الحضارات وتمثل محراب مسجد ولاية:

ب. سمائل

أ. نخل

د. نزوى

ج. الرستاق

21. اول كتابة منهجية ظهرت في عمان على يد العلامة العوتبي هي في كتابه: **المترجمون بتقريب رؤيتنا للإجادة في موادنا**

د. المسند في الحديث

ج. الانساب

ب. الرسائل

أ. الأمالي العمانية

22. صاحب كتاب الأمالي العمانية العالم :

د. الربيعي اليميني

ج. جابر بن زيد

ب. ابراهيم الحضرمي

أ. العوتبي

23. اول كتابة منهجية ظهرت في عمان على يد العلامة العوتبي في القرن الهجري:

د. السادس

ج. الخامس

ب. الرابع

أ. الثالث

24. الدولة التي ينتمي اليها العالم عيسى بن ابراهيم الربيعي صاحب كتاب الامالي العمانية:

د. البحرين

ج. اليمن

ب. المغرب

أ. العراق

مدرسة عاتكة للتعليم الاساسي

اعداد الاستاذة نعيمة البريكية

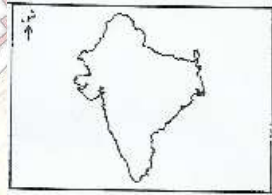
25. الجدول الذي يوضح الأعمال التي قام بها الإمام غسان بن عبدالله:

1. القضاء على القرصنة.	1.	1. وضع نظام الضرائب.	1.
2. استخدام قوارب الشذاة.	2.	2. استخدام قوارب الغرف.	2.
1. انشاء مجلس جومب.	1.	1. طرد الفرس من عمان.	1.
2. استخدام قوارب الغرف.	2.	2. القضاء على القرصنة.	2.

26. تميزت بدايات القرن الأول الهجري في عمان بانتشار بناء:

أ. الحصون ب. المدارس ج. المساجد د. المكتبات

27. الدولة التي تشير اليها الخريطة التي امامك واستورد منها العمانيين خشب الساج لتشييد المباني:



أ. الصين ب. العراق
ج. بلاد فارس د. الهند

28. الجدول الذي يوضح الشخصيات والمهام المرتبطة بها مع بدايات العصر الإسلامي في عُمان:

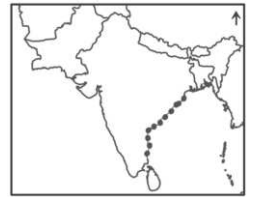
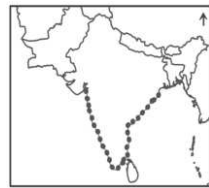
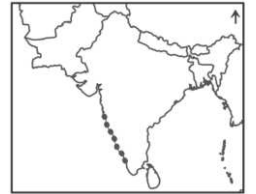
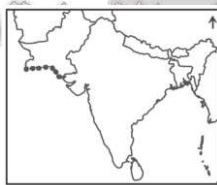
المهمة	الشخصية
جمع الزكاة	عمرو بن العاص
حكم عُمان	الأنصاري زيد أبو
تعليم الدين	جيفر بن الجلندي

المهمة	الشخصية
حكم عُمان	عمرو بن العاص
جمع الزكاة	الأنصاري زيد أبو
تعليم الدين	جيفر بن الجلندي

المهمة	الشخصية
جمع الزكاة	عمرو بن العاص
تعليم الدين	الأنصاري زيد أبو
حكم عُمان	جيفر بن الجلندي

المهمة	الشخصية
تعليم الدين	عمرو بن العاص
جمع الزكاة	الأنصاري زيد أبو
حكم عُمان	جيفر بن الجلندي

29. الخريطة التي تشير إلى موقع بلاد المليبار والمشار إليه بالرمز: ()



السؤال الثاني :

1. الام يشير تعدد الوفود والرسائل التي ارسلها الرسول صلى الله عليه وسلم الى اهل عمان.
2. دللي على فضل اهل عمان في الاسلام من السنة النبوية الشريفة.
3. (تبع تحول اهل عمان للإسلام مكاسب عدة) دللي على ذلك.
4. اذكر ثلثا من العوامل التي سهلت على العمانيين نشر الاسلام في منطقة المحيط الهندي .
5. برهني على دور العمانيين في نشر الاسلام في سواحل المحيط الهندي.



6. امامك شكل يشير الى رسالة وصلت الى اهل عمان عند ظهور الاسلام .
ادرسها جيدا وأجيب عن الآتي:
أ. استخراجي من الرسالة الآتي:
- المرسل
- المستقبل
- ما يشير الى ترك الحكم بيد من ارسلت لهما الرسالة ان اسما
- النتائج المترتبة في حالة رفض الاسلام 1
2. 3
- ب. من حمل الرسالة الى اهل عمان؟

7. (اسهم العمانيين خلال فترة الرسالة والخلافة - الراشدة والاموية والعباسية - في دفع مسيرة الحضارة الانسانية الى الامام) ناقشي العبارة بذكر اهم انجازاتهم الحضارية.
8. دللي باثنين جهود حملة العلم خلال فترة الخلافة الاسلامية.
9. ما السمة الغالبة على المساجد الاسلامية في عصر الرسالة؟
7. كيف انتهى حكم النباهنة.
8. عرفي كلا من: الميد الشذاة والغرف.

10. امامك مجموعة من السمات الداخلية والخارجية التي ميزت عصر النباهنة صنفها في الجدول:

(فرض الضرائب / التنافس على السلطة / غزوات من البر الفارسي / طول المدة الزمنية / انشاء المجلس الاستشاري (جومب) / تحقيق الوحدة الوطنية في شرقي افريقيا / تعدد مراكز السلطة / اتخاذ بات عاصمة للعمارة العمانية في شرقي افريقيا / الميل الى حياة الترف) .

السمات الخارجية	السمات الداخلية

9. برهني على الانجازات الحضارية العمانية في العصر الاسلامي في كل من :

أ. التنظيم الاداري.

ب. الناحية الاقتصادية.

10. امامك مجموعة من الانجازات الادارية والاقتصادية والسياسية والدينية والعلمية والعمرانية للعُمانيين في العصر الاسلامي (ظهور هيئة الحل والعقد / تطور نمط الابنية / بروز مرحلة التدوين والتأليف / ازدهار الزراعة والصناعة / انتقال العاصمة من صحار الى نزوى / اعادة النظام الى جزيرة سقطرى / كتابي الانساب والامالي العمانية / النقوش والزخرفة للمساجد / القضاء على القرصنة / ظهور الصباغات / ظهور وظيفة المعدل / استخدام خشب الساج في البناء)

الادارية	الاقتصادية	السياسية	الدينية	العلمية	العمرانية

11. (كان للمرأة العمانية دورا اقتصاديا بارزا في العصر الاسلامي) برهني على صحة العبارة.

12. قيم كتاب الانساب للعلامة سلمة بن مسلم العوتبي .

13. اذكر اثنتين من الآثار المترتبة على نشاط حركة التدوين في عمان في القرن الخامس الهجري.



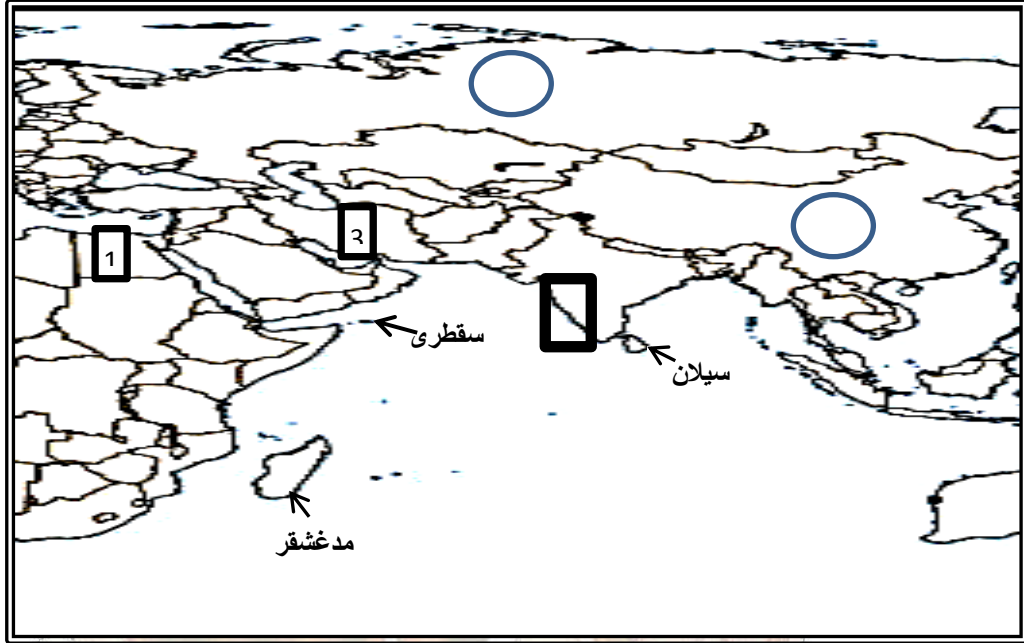
14. دلي بمثالين لكل مما يأتي:

أ. التأثيرات الحضارية العمانية في سواحل شرق أفريقيا خلال فترة حكم النباهنة.

وضح ما يأتي:

أ. اتسمت علاقات عُمان الخارجية خلال فترة حكم النباهنة بأمرين متناقضين.

السؤال الثالث : امامك خريطة لسواحل المحيط الهندي . ادرسيها جيدا واجيبي عن الآتي:



1. اكتب على الخريطة اسم الدولة التي كان يحكمها السامري.
2. ضعي دائرة على الخريطة حول الجزيرة التي اعاد العمانيين الامن والنظام فيها.
3. بم تعرف منطقة الساحل المحصورة داخل المربع في الخريطة حاليا.
4. ظللي امتداد العمارة العمانية في شرقي افريقيا زمن النباهنة.
5. سمي الجهة التي تقع فيها سلطنة عمان بالنسبة للهند.
6. استخرجي رقم الدولة التي نقل منها العمانيين النقوش والزخارف الى مساجدهم.
7. اكتب الرمز (س) داخل الدائرة الموجودة في الخريطة والتي تشير الى احد الموانئ التي وصل اليها التجار العمانيين.
8. اذكر اسم الدولة التي ارسل الرسول صلى الله عليه وسلم رسالته اليها بيد عمرو بن العاص.

ملتزمون بتحقيق رؤيتنا , الإجابة في موادنا

وفود النبي صلى الله عليه وسلم الى اهل عمان:

- مازن بن غضوبه : اول وفد اهل عمان الى النبي صلى الله عليه وسلم.
- كعب بن برشه الطاحي: ذهب الى بلاد الحجاز ورأى النبي صلى الله عليه وسلم وعاد الى عمان يخبرهم بصدق نبوة النبي صلى الله عليه وسلم.
- ضماد بن ثعلبة الأزدي: كان يحترف الرقية التماسا للشفاء من مرض او سحر وكان قد قدم الى مكة وسمعه يتحدثون عن النبي صلى الله عليه وسلم ويتهمونه بالجنون . فذهب للقاء النبي صلى الله عليه وسلم ليشفيه مما به فسمع من النبي صلى الله عليه وسلم عن الاسلام فبايعه على الإسلام عن نفسه وعن قومه.
- سلمه بن عياذ الأزدي: ذهب للقاء النبي صلى الله عليه وسلم وسمع عن الاسلام واسلم على يديه.
- اسد بن يبرح الطاحي: اسلم على يدي النبي صلى الله عليه وسلم .

رسائل النبي صلى الله عليه وسلم الى اهل عمان:

- ✚ رسالة حملها عمرو بن العاص الى عبد وجيفر في صحار.
- ✚ رسالة الى اهل دماء.
- ✚ رسالة الى الإسيديين ومن كان معهم من البحرين في عمان.
- ✚ رسالة الى عبدالله بن علي الثمالي ومسلية بن هزان الحداني في السيب.

اجابة الجدول رقم (3) في الكتاب المدرسي صفحة (17):

ملاحظات	أهم الأعمال		فترة الحكم	الامام
	الخارجية	الداخلية		
كانت الحملة العباسية بقيادة عيسى بن جعفر.	انتصر على الحملة التي ارسلها العباسيون الى عمان.	اقام العدل ونشر الأمن في عمان.	177 – 192هـ	الوارث بن كعب
عاصر الخليفة العباسي هارون الرشيد.	اول من أنشأ اسطولا بحريا في عمان في العصر الإسلامي وفي عهده سميت نزوى بيضة الإسلام.	تمكن من القضاء على القراصنة الميد الذين كانوا يغزون الشواطئ العمانية.	192 – 207هـ	عسان بن عبدالله
عاصر سته خلفاء من بني العباس (المتوكل / المنتصر / المستعين / المعتز / المعتمد / المهدي).	حرر جزيرة سقطرى من سيطرة الأحباش ونجح في طردهم.	اقام العدل واطهر الحق وتمسك بسيرة من سبقه من العمانيين.	237 – 272هـ	الصلت بن مالك
عاصر الخليفة العباسي المعتضد وفي عهده تعرضت عمان لعدد من الحملات العباسية لإخضاعها لحكم الدولة العباسية والتي فشلت في تحقيق ذلك.	مواجهة الحملة العباسية بقيادة محمد بن بور الذي تمكن العمانيين من طرده من عمان بعد معارك حاسمة.	توحيد الصفوف الداخلية في عمان لمواجهة الأخطار الخارجية واهتم بتنظيم شؤون الدولة وتكوين جيش.	277 – 280هـ	عزان بن تميم
ظهر في عهده عدد كبير من العلماء والفقهاء منهم: الشيخ علي بن محمد بن عبد الباقي والشيخ احمد بن صالح بن عمر بن احمد بن مفرج والشيخ عبدالله بن محمد بن مداد والشيخ محمد بن عبدالله بن مداد وغيرهم كثير.	-	نجح في هزيمة ملك النباهنة السلطان سليمان بن سليمان بن مظفر النباهني ومصادرة اموالهم.	بداية القرن 5هـ (عصر النباهنة)	محمد بن اسماعيل الإسماعيلي

الوحدة الاولى :التاريخ العماني... انجاز حضاري وتواصل ثقافي

عنوان الدرس : عمان بين القوة والتجديد

السؤال الاول: ظللي الرمز المقترن بالإجابة الصحيحة من بين البدائل المعطاة:

1. بدأ الاستعمار البرتغالي للمدن العمانية في القرن الميلادي:
أ. 15 ب. 16 ج. 17 د. 18
2. ارتبطت سيطرة البرتغاليين على سواحل الخليج العربي وهرمز بالسيطرة على سواحل:
أ. الهند ب. الصين ج. أفريقيا د. عمان
3. الامام الذي بايعه العمانيين بالإمامة عام 1624م هو:
أ. جيفر بن الجندى ب. ناصر بن مرشد ج. احمد بن سعيد د. سعيد بن سلطان
4. اختار العمانيين ناصر بن مرشد ليكون اماما على عمان في العام الميلادي:
أ. 1621 ب. 1622 ج. 1623 د. 1624
5. كان اهم مراكز البرتغاليين في الشرق عام 1509م :
أ. مدراس ب. سورات ج. جوا د. ديو
6. المحطة الاخيرة لتوسعات البرتغاليين البحرية في المحيط الهندي:
أ. لشبونة ب. مسقط ج. جوا د. ماکاو
7. تمكن العمانيين من تحرير مسقط ومطرح في العام الميلادي:
أ. 1645 ب. 1650 ج. 1655 د. 1660
8. الامام الذي طبق مبدأ (الرجل المناسب في المكن المناسب) عند اختيار الولاية:
أ. احمد بن سعيد ب. سعيد بن احمد ج. قابوس بن سعيد د. سعيد بن سلطان
9. تقع مكتبة دولة اليعاربة في ولاية:
أ. بهلا ب. نزوى ج. الرستاق د. صحار
10. تمكن الفرس من دخول الأراضي العمانية في العام الميلادي:
أ. 1725 ب. 1726 ج. 1727 د. 1728
11. تم تقديم احمد بن سعيد اماما على عمان في العام الميلادي:
أ. 1741 ب. 1742 ج. 1743 د. 1744
12. الامام اذي برع في مواجهة الفرس وطردهم من عمان منذ عام 1744 :
أ. ناصر بن مرشد ب. احمد بن سعيد ج. سعيد بن سلطان د. سعيد بن احمد
13. ان احمد بن سعيد قبل اختياره اماما على عمان واليا على :
أ. صحار ب. الرستاق ج. نزوى د. مسقط
14. جميع ما يلي يندرج ضمن السلطة التشريعية ماعدا:
أ. العلماء ب. الاعيان ج. القضاة د. الوجهاء
15. مقر القاضي الاول زمن الامام احمد بن سعيد ولاية:
أ. صحار ب. الرستاق ج. نزوى د. مسقط
16. المنصب الاداري الذي تشدد الامام احمد بن سعيد في اختيار من يقوم بمهامه هو:
أ. بيت المال ب. الشرطة ج. جباة الضرائب د. الولاية
17. المنصب الاداري المسئول عن استتباب الامن والاستقرار في عمان هو:
أ. الجيش ب. الشرطة ج. الحرس الخاص د. الاسطول
18. مقر الحرس الخاص زمن الامام احمد بن سعيد ولاية:
أ. صحار ب. الرستاق ج. نزوى د. مسقط

19. يصل عدد الحرس الخاص الذين يرافقون الامام احمد بن سعيد من الاشخاص اكثر من:

- أ. 1000 ب. 1500 ج. 2000 د. 2500
20. تتألف القوات البحرية العمانية من عدد من السفن الحربية الكبيرة التي يصل عددها:
- أ. 10 ب. 11 ج. 12 د. 13
21. قام الاسطول العماني بنجدة اهل البصرة من الحصار الفارسي في العام الميلادي:
- أ. 1773 ب. 1774 ج. 1775 د. 1776
22. انشأ الامام احمد بن سعيد مصنعين للسفن احدهما في مسقط والآخر في:
- أ. قلعات ب. صور ج. صحار د. مطرح
23. جميع الأنشطة التالية ارتبطت بازدهار الزراعة زمن الامام احمد بن سعيد ما عدا:
- أ. جمع العسل ب. تربية عسل النحل ج. دبغ الجلود د. تربية الحيوان
24. اهم مناطق عمان من حيث تصدير الخيول زمن الامام احمد بن سعيد:
- أ. صحار ب. الجبل الاخضر ج. ظفار د. بركا
25. عاصمة عمان زمن الامام احمد بن سعيد:
- أ. صحار ب. الرستاق ج. نزوى د. مسقط
26. توفي الامام احمد بن سعيد في العام الميلادي:
- أ. 1782 ب. 1783 ج. 1784 د. 1785
27. امتد النشاط التجاري زمن الامام احمد بن سعيد الى جزيرة موريشيوس الواقعة في المحيط الهندي من جهة:
- أ. الشرق ب. الغرب ج. الشمال د. الجنوب
28. الجزيرة التي امتد اليها النشاط التجاري زمن الامام احمد بن سعيد الواقعة في المحيط الهندي والتابعة لفرنسا:
- أ. سقطرى ب. موريشيوس ج. مدغشقر د. زنجبار
29. تعززت العلاقات التجارية بين الامام احمد بن سعيد وفرنسا باتفاق الطرفان بإقامة وكالة فرنسية في:
- أ. صحار ب. الرستاق ج. نزوى د. مسقط
30. تعتبر فترة حكمه العصر الذهبي لتاريخ عمان الحديث:
- أ. تركي بن سعيد ب. احمد بن سعيد ج. سعيد بن سلطان د. سعيد بن تيمور
31. اصبح الاسطول العماني زمن السيد سعيد بن سلطان عالميا القوة البحرية:
- أ. الاولى ب. الثانية ج. الثالثة د. الرابعة
32. اصبح الاسطول العماني زمن السيد سعيد بن سلطان في مياه المحيط الهندي القوة البحرية:
- أ. الاولى ب. الثانية ج. الثالثة د. الرابعة
33. قامت في عهده اول علاقات دبلوماسية مع الولايات المتحدة الامريكية:
- أ. تركي بن سعيد ب. احمد بن سعيد ج. سعيد بن سلطان د. سعيد بن تيمور
34. انشأت السفن التجارية والحربية لصالح السيد سعيد بن سلطان في احواض بناء السفن في:
- أ. الهند وإيطاليا ب. الهند والمانيا ج. الهند واسبانيا د. الهند وبريطانيا
35. الجزيرة التي امتد اليها النشاط التجاري زمن السيد سعيد بن سلطان الواقعة في المحيط الهندي:
- أ. سقطرى ب. موريشيوس ج. مدغشقر د. سيلان
36. العاصمة الثانية التي اتخذها السيد سعيد بن سلطان عاصمة لدولته:
- أ. ممباسا ب. كلوة ج. زنجبار د. دار السلام
37. انتقل السيد سعيد بن سلطان رسميا الى زنجبار في العام الميلادي:
- أ. 1830 ب. 1835 ج. 1840 د. 1845
38. انتهى حكم السيد سعيد بن سلطان بوفاته وكان ذلك في العام الميلادي:
- أ. 1855 ب. 1856 ج. 1857 د. 1858
39. الدولة التي تدخلت لتقسيم عمان بين ماجد وثويني ابني السيد سعيد بن سلطان بعد وفاته:
- أ. بريطانيا ب. فرنسا ج. الولايات المتحدة د. المانيا
40. تم تقسيم عمان بين ابني السيد سعيد بن سلطان ماجد وثويني في العام الميلادي:
- أ. 1857 ب. 1859 ج. 1861 د. 1863
41. حكم عمان خلال الفترة من (1888 – 1913 م) السيد:
- أ. سلطان بن احمد ب. سعيد بن سلطان ج. تركي بن سعيد د. فيصل بن تركي

42. جميع ما يلي من المنجزات التي تحققت في عصر السلطان تيمور بن فيصل ما عدا:

- أ. التنقيب عن النفط
ب. تشكيل مجلس الوزراء
ج. اكتشاف النفط
د. تطوير نظام الجمارك

43. تم اكتشاف النفط زمن السلطان:

- أ. تركي بن سعيد
ب. فيصل بن تركي
ج. تيمور بن فيصل
د. سعيد بن تيمور

44. السلطان الذي خطط لتدعيم عمان داخليا وخارجيا وتم في عهده اكتشاف النفط في السلطنة:

- أ. تركي بن سعيد
ب. فيصل بن تركي
ج. تيمور بن فيصل
د. سعيد بن تيمور

45. التقى السلطان سعيد بن تيمور اثناء زيارته الى الولايات المتحدة مع رئيسها:

- أ. روزفلت
ب. جون كندي
ج. جيمي كارتر
د. ريجن

46. السلطان العماني الذي تم في عهده توقيع اول اتفاقية للتنقيب عن النفط:

- أ. قابوس بن سعيد
ب. فيصل بن تركي
ج. تيمور بن فيصل
د. سعيد بن تيمور

47. تولى صاحب الجلالة السلطان قابوس بن سعيد قيادة سلطنة عمان في العام الميلادي:

- أ. 1970
ب. 1971
ج. 1972
د. 1973

48. السلطة التي يمثلها العلماء والوجهاء في الجهاز الاداري للإمام احمد بن سعيد:

- أ. الرقابية
ب. القضائية
ج. التشريعية
د. التنفيذية

49. السفينة العمانية التي قادت الاسطول العماني لفك الحصار الفارسي عن البصرة زمن الامام احمد بن سعيد:

- أ. شباب عمان
ب. سلطنة
ج. جوهرة مسقط
د. الرحماني

50. الترتيب الزمني من الاقدم الى الاحدث للأحداث التاريخية العمانية التالية :



51. الروايات التي اشارت الى دور العمانيين في نشر الاسلام في سواحل المحيط الهندي:

- أ. السومرية
ب. الهندية
ج. الفارسية
د. الصينية

52. أي من الآتي يعد وصفا صحيحا لفترة حكم الامام احمد بن سعيد والسيد سعيد بن سلطان:

الامام احمد بن سعيد	السيد سعيد بن سلطان	
اقام علاقات دبلوماسية مع فرنسا.	اقام علاقات دبلوماسية مع الولايات المتحدة الأمريكية.	○
امتد النشاط التجاري في عهده الى جزيرة موريشيوس.	امتد النشاط التجاري في عهده الى جزيرة سرنديب.	○
انشأ احواض لصناعة السفن العمانية في مسقط ومطرح وصور.	انشأ احواض لصناعة السفن العمانية في مسقط ومطرح.	○
توفي في الرستاق سنة 1785م.	توفي سنة 1856م.	○

53. تشير الدائرة على الخريطة التي امامك الى احدى الجزر التي امتد اليها النشاط التجاري للعُمانيين زمن حكم البوسعيد:



- أ. مدغشقر
ب. موريشيوس
ج. زنجبار
د. بمبا

53. أي من الآتي يعد وصفا صحيحا لفترة حكم اليعاربة والبوسعيد:

اليعاربة	البوسعيد
أ. بويع ناصر بن مرشد بالإمامة عام 1524م.	بويع احمد بن سعيد بالإمامة عام 1744م.
ب. تم جلب القرنفل من شرقي أفريقيا الى عمان.	تم جلب الزعفران من اليمن الى عمان.
ج. تمكنوا من اعادة الأمن والاستقرار الى جزيرة سقطرى.	تمكنوا من فك الحصار الفارسي عن البصرة.
د. حرروا عمان من سيطرة الفرس.	حرروا عمان من سيطرة البرتغاليين.

54. تشير الخريطة الى احد الجزر التي كانت عاصمة عمان الاقتصادية زمن حكم البوسعيد وهي:



- أ. سقطرى
ب. زنجبار
ج. مدغشقر
د. بمبا

55. خريطة الدولة التي تمثل اقصى امتداد للنفوذ البرتغالي في الشرق:



56. المدينة التي كانت مركز الحرس الخاص للإمام أحمد بن سعيد:

- أ. صحار
ب. الرستاق
ج. مسقط
د. نزوى

57. السلطان الذي تم في عهده توقيع أول اتفاقية نفطية في عُمان عام 1925 م:

- أ. تركي بن سعيد .
ب . فيصل بن تركي.
ج. تيمور بن فيصل .
د. سعيد بن تيمور

السؤال الثاني:

1. ما السمة المميزة لتاريخ عمان الحديث؟

2. عللي الاستعمار البرتغالي لسواحل عمان في مطلع القرن 16 الميلادي.

3. امامك مجموعة من الاسباب الجغرافية والسياسية والاقتصادية للاستعمار البرتغالي على عمان :

أ. ارتباط السيطرة على سواحل الخليج العربي وهرمز بالسيطرة على سواحل عمان.

مدرسة عاتكة للتعليم الاساسي

اعداد الاستاذة نعيمة البريكية

- ب. موقع ساحل عمان المهم بالنسبة لساحل غربي الهند.
 ت. أهمية تلك الموانئ في السيطرة على تجارة المحيط الهندي والخليج العربي.
 صنفها في الجدول بوضع الرمز الصحيح في المكان المناسب:

اقتصادية	سياسية	جغرافية

4. فسري تصدع الوحدة الوطنية في عمان زمن اليعاربة.

5. اعط ثلاثا من النتائج المترتبة على تصدع الوحدة الوطنية في عمان نهاية زمن اليعاربة.

- أ.
 ب.

6. امامك مجموعة من الانجازات السياسية والاقتصادية والدينية والعمرانية والعلمية التي حققها العمانيين زمن اليعاربة (التسامح بين المسلمين وغيرهم من الديانات الاخرى / التخلص من السيطرة البرتغالية / ظهور العلماء / ادخال محاصيل جديدة / انشاء التحصينات في نزوى والرسناق / القضاء على الصراعات الداخلية / تأسيس مدرسة جبرين / ازدهار اسواق منح ومطرح / بناء قصري جبرين والحزم / ملاحقة البرتغاليين على سواحل الهند / انشاء مكتبة دولة اليعاربة في الرسناق / استصلاح الاراضي للزراعة / شق الافلاج)
 صنفها في الجدول التالي:

السياسية	الاقتصادية	الدينية	العمرانية	العلمية

7. (تعتبر الوحدة الوطنية حجر الاساس في ردع الاخطار الخارجية) طبق هذه المقولة على تاريخ اليعاربة.

8. (الوحدة الوطنية تقود الى القوة والاستقلال وتخلخلها يؤدي الى الضعف والاحتلال) برهني على صحة العبارة من خلال دراستك لأحوال عمان زمن اليعاربة.

9. فرقي بين السلطة القضائية والسلطة التشريعية زمن الامام احمد بن سعيد.

- أ. السلطة القضائية
 ب. السلطة التشريعية

10. اكمل المخطط التالي:

الامام احمد بن سعيد المشرف على بيت المال

1. اوجه الاتفاق والصرف

3.

الرواتب

4.

الجيش

الفقراء

1.

الزكاة

الجزية

العشور

2.

الغنائم

11. اذكر المبدأ الذي سار عليه الامام احمد بن سعيد في اختياره لولاته.

12. ميز بين وظيفة (الوكيل) ووظيفة (المسؤول عن قلم الحساب) اللتان ظهرتتا في التنظيمات الادارية الخاصة بجباة الضرائب في عهد الامام احمد بن سعيد.

أ. الوكيل.....
ب. المسؤول عن قلم الحساب.....

13. برهني على قوة جهاز الشرطة زمن الامام احمد بن سعيد.

14. عللي اهتمام الامام احمد بن سعيد بتكوين كلا من:

أ. الجيش.....
ب. الاسطول.....

15. ما وظيفة الحرس الخاص زمن الامام احمد بن سعيد.

16. مما يتألف الاسطول زمن الامام احمد بن سعيد.

17. ابحثي حول عمل الامام احمد بن سعيد لنجدة اهل البصرة من حيث:

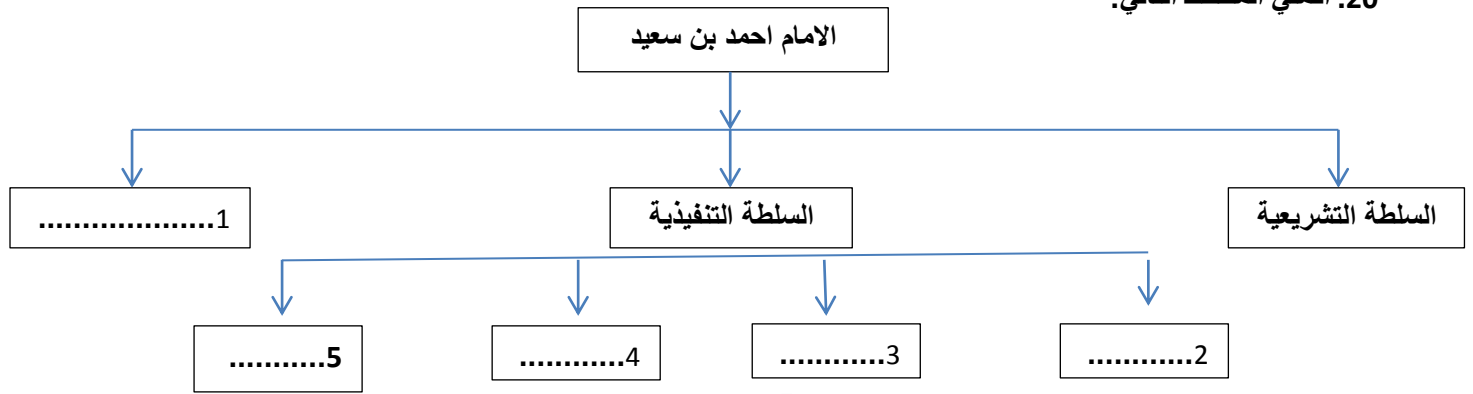
أ. الاسباب.....
ب. الاستعدادات.....
ت. خط سير الحملة.....
ث. النتيجة.....
ج. الدلائل التي تستنتجها.....

18. دللي على قوة الاسطول العماني زمن الامام احمد بن سعيد.

.....

19. اعط امثلة لاثنتين من الجهود التي قام بهما الامام احمد بن سعيد لزيادة كفاءة الموانئ العمانية

20. اكمل المخطط التالي:



24. اكمل المخطط التالي:



19. ما موقف الامام احمد بن سعيد من الصراع بين القوى الاوروبية خاصة بين فرنسا وبريطانيا؟

20. برهني على قوة العلاقات العمانية الفرنسية.

21. فسري زيادة قوة الاسطول التجاري زمن الامام احمد بن سعيد.

22. تتبعي امتداد نشاط الاسطول العماني التجاري زمن الامام احمد بن سعيد.

23. دللي على ازدهار الصناعة زمن الامام احمد بن سعيد.

24. دللي على اهتمام الامام احمد بن سعيد برجال العلم والعلماء.

25. اعط امثلة للعلوم التي برع العمانيون بها زمن الامام احمد بن سعيد. الإجابة في موادنا

26. كيف كانت علاقة الامام احمد بن سعيد مع الفرس؟

27. رتبي الاحداث التالية من الاقدم الى الاحداث:

- () توحيد البلاد واخراجها من دوامة الصراعات الداخلية.
- () ملاحقة البرتغاليين على سواحل الهند وشرقي افريقيا.
- () مبايعة الامام ناصر بن مرشد اليعربي.
- () حكم بني نبهان.
- () التخلص من السيطرة البرتغالية بتحرير مسقط ومطرح.
- () الاجتياح البرتغالي لسواحل عمان والمحيط الهندي.

28. (يعتبر المؤرخون عصر السيد سعيد بن سلطان العصر الذهبي لتاريخ عمان) عللي في ثلاث نقاط.

29. دلي على قوة الاسطول العماني زمن السيد سعيد بن سلطان.

30. اعط سببين لاختيار السيد سعيد بن سلطان من زنجبار عاصمة ثانية لعمان.

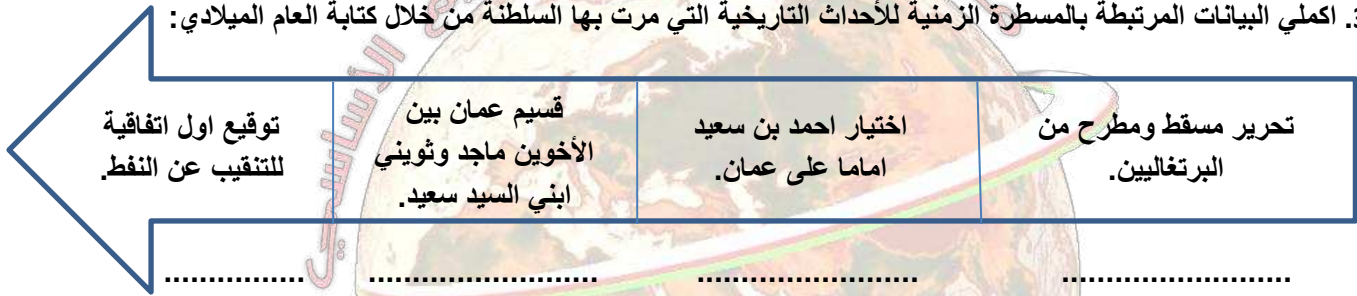
31. ما الاهداف الاساسية التي سعى السيد سعيد بن سلطان لتحقيقه في زنجبار.

32. اذكر النتائج المترتبة من توغل العمانيين في افريقيا زمن السيد سعيد بن سلطان.

33. ما الظروف الجديدة التي مرت بها عمان بعد وفاة السيد سعيد بن سلطان.

34. صححي ما تحته خط (اقامت السلطنة في عهد السيد سعيد بن سلطان عام 1833م علاقات دبلوماسية مع المانيا.

35. اكمل البيانات المرتبطة بالمسطرة الزمنية للأحداث التاريخية التي مرت بها السلطنة من خلال كتابة العام الميلادي:



36. علي تسمية عصر السيد سعيد بن سلطان بالعصر الذهبي لتاريخ عمان.

37. (كان لشخصية السيد سعيد بن سلطان مكانة مرموقة بين حكام عصره) علي.

38. فسري ازدهار عمان اقتصاديا في عصر السيد سعيد بن سلطان.

39. كيف حافظ السيد سعيد بن سلطان على مصالح عمان .

40. قارني بين المساجد العمانية في العصر الاسلامي وفي عصر الرسالة من حيث.

عصر الرسالة	العصر الاسلامي	وجه المقارنة
		السمة المميزة

41. صنّف المدخلات والمخرجات الآتية لبيت مال المسلمين زمن الإمام أحمد بن سعيد (التعمير - الجزية - العشور - الجيش - الغنائم - الرواتب) حسب الجدول أدناه:

المدخلات	المخرجات

42. دلل بمثاليين فقط:

قيام السيد سعيد بن سلطان بتحويل زنجبار إلى مركز للتجارة الدولية.

43. وضح ما يأتي:

- كان للوضع السياسي في عُمان دورًا واضحًا في نجاح السيطرة الفارسية عليها عام 1727 م.
 اكتب الشخصيات العمانية الآتية أمام الأحداث المرتبطة بها:
 (سعيد بن تيمور - سعيد بن سلطان - تيمور بن فيصل)
 أ. بدأ في عهده استخراج النفط وتصديره في عُمان:
 ب. تأثرت عُمان بالأزمة الاقتصادية العالمية التي وقعت في عهده:
 ج. أقام علاقات دبلوماسية مع الولايات المتحدة الأمريكية عام 1833 م:

44. بالاستعانة بالخريطة التالية اكمل الجدول الذي يليه بكتابة ما يدل عليه الرمز:



دلالة الرمز في الخريطة	رسم شكل الرمز / وصف الرمز
.....	نقط مظالة أو تظليل
.....	خط منقطع / خط منقطع أو منقطع
.....	نقط / نقطة / دائرة مظالة
.....	خط متصل / خطوط متصلة

45. اكتب في الجدول امامك اسم الشخصية المرتبطة بكل انجاز:

م	الشخصيات	الإنجازات التاريخية
1.		طرد الفرس من عمان خلال القرن الثامن عشر الميلادي.
2.		صاحب كتاب المسند.
3.		وقعت في عهده أول اتفاقية للتنقيب عن النفط في عمان.
4.		حاكم مصر الذي عمل على توثيق علاقته بالسيد سعيد بن سلطان.

46. علل اعتماد سلاطين العثمانيين على قوة الإمام أحمد بن سعيد في مياه المحيط الهندي.

47. دلي باثنين على دور اليعاربة في النهوض بالزراعة.

48. صممي جدولا بحكام عمان بعد السيد ثويني وحتى 1970م على ان يشمل:

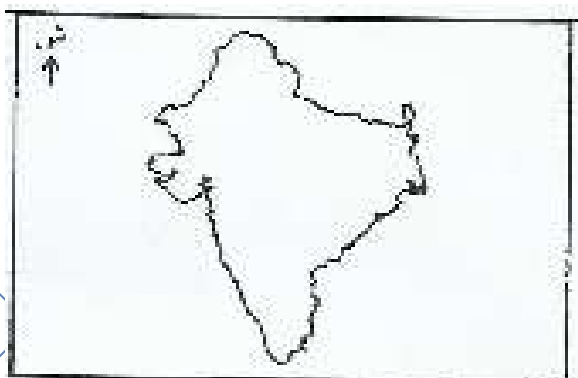
الحواع الءءوءاء	اهم اعماله	الفترة الزمنية	الحاكم
			السيد تركي بن سعيد
			السلطان فيصل بن تركي
			السلطان تيمور بن فيصل
			السيد سعيد بن تيمور
			السلطان قابوس بن سعيد

49. اكملئ الءباءاء المرءبءة بالمسءرة الزمنية للأءءاء الأارءءة الأء مرء بها السلءنة من ءلال ءءابة العام المءلءء:

افءار ناصر بن مرشد اماما على عمان.	ءءول الفرء الى عمان وسفاء الفوءى السفاءة والأمنفة.	فء الحصار الفارءى عن البصرة.	وفاة السيد سعيد بن سلطان.
.....

50. امامء مءوءة من الإنءازاء المءلفة والإءلمفة والأءوءة (ءءوع مءظم قوى الوءن العربى للقوى الأوروبفة / أأءر ءءارة عمان / الأءمة الأءءاءفة العالمفة / سوء الأءوال الأءءاءفة / نشوب الحرب العالمفة الأولى) صنفها فى الءءول الأءل:

مءلفا
أءلمفا
ءولفا



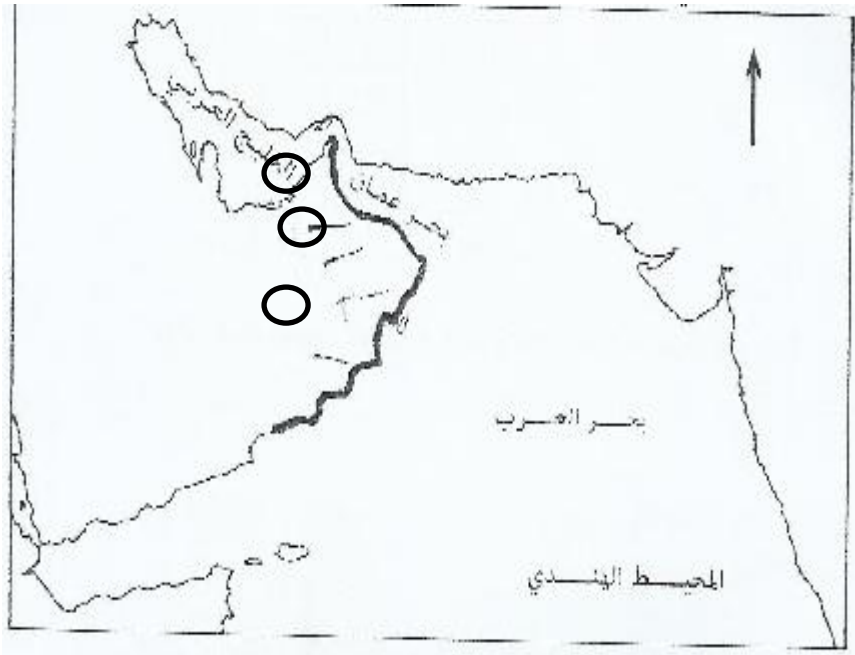
السؤال الأءل:

1. اءرسى الءرطفة الأءلفة واجببى عن الأءل:
 - ما الءولة الأء تمءلها الءرطفة؟
 - من ءان ءحكم الساحل الغربى منها؟
 - ما السلعة الأء اسءورءها العمانىون منها؟
 - ظللى على الءرطفة بلاد الملببار.

اعءاء الاسءاءة نعمة البرءءة

مءرسة عاءةءة للءءل

- اكتبى على الخريطة اسم المسطح المائي المشار اليه بالرقم (1).



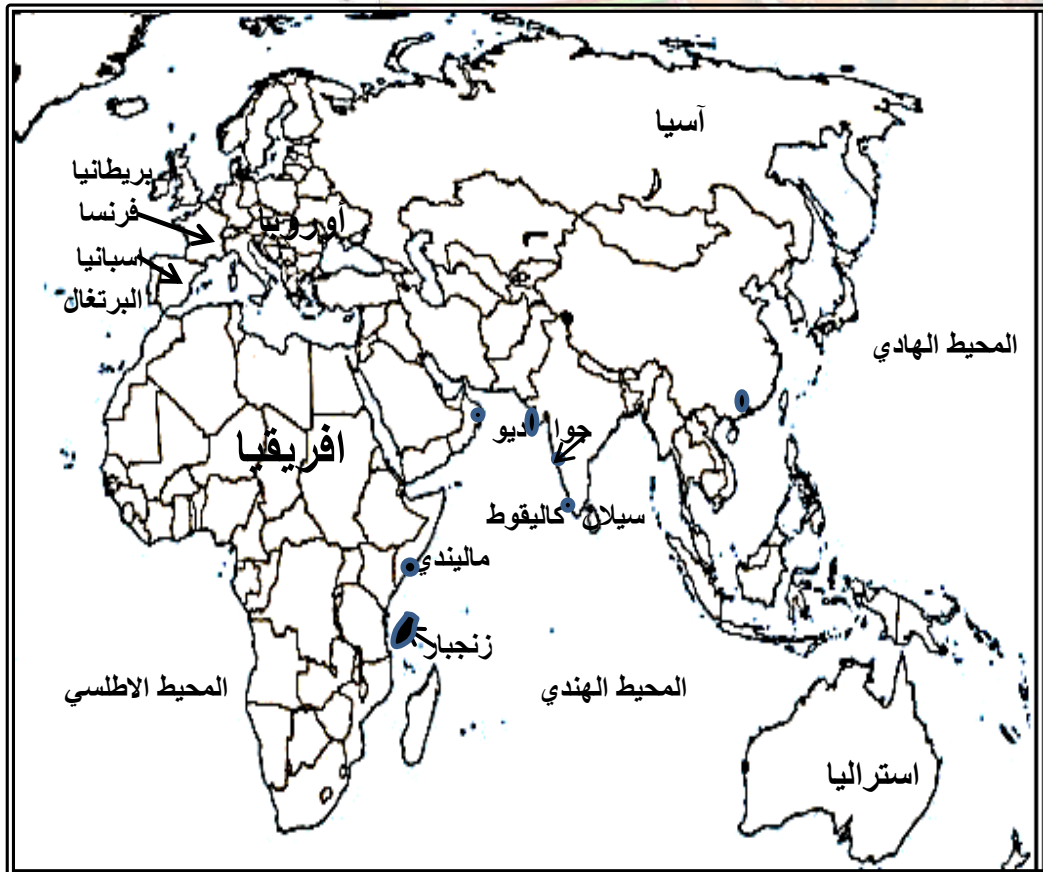
الدرس الخريطة التي امامك ثم اجب عن الأسئلة التي تليها:

- أ. اكتب رقم كل عبارة مما يأتي في الدائرة المناسبة على الخريطة أعلاه:
1. المدينة التي كانت مقر للقاضي الأول زمن الإمام احمد بن سعيد.

2. عاصمة عمان بعد انتقالها من صحار في العصر الإسلامي.

- ب. ما دوافع البرتغاليين في السيطرة على المنطقة المظللة في الخريطة مطلع القرن السادس عشر الميلادي؟

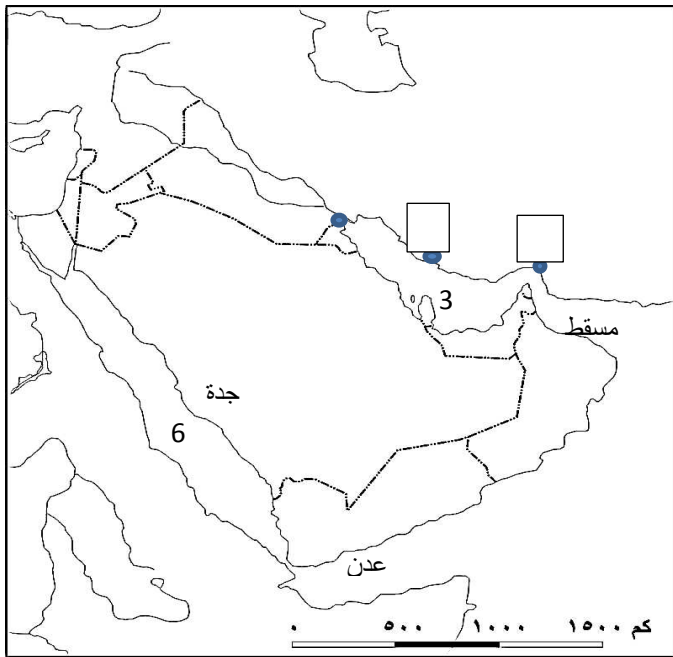
1. امامك خريطة للتوسع البحري البرتغالي . ادرسيها جيدا واجيبي عن الآتي:



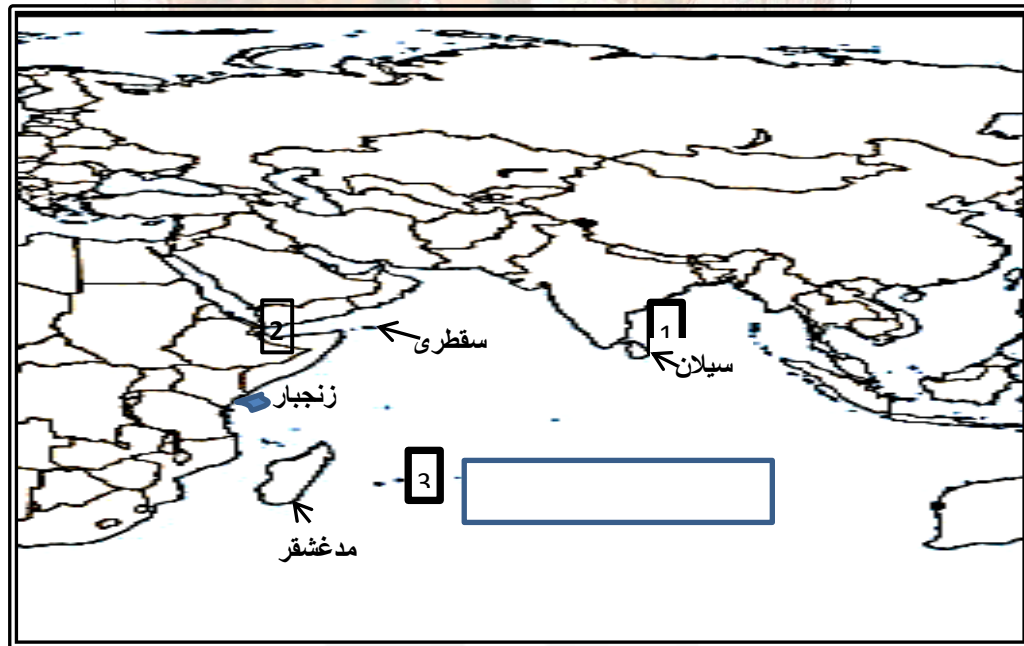
- ما اسم الدولة الأوروبية التي انطلقت منها الكشوفات البحرية.
- في أي جهة تقع زنجبار بالنسبة للساحل الأفريقي.
- ما المحيطات التي مرت بها الكشوف البحرية.
- كيف يمكن ان تثبت من خلال الخريطة سبب احتلال البرتغاليين للسواحل العمانية.
- اكتبى على الخريطة اسم المنطقة التي انتهت فيها الكشوف البحرية.
- ارسمي على الخريطة خط سير الكشوف البحرية موضحة نقطة الانطلاقة والنهاية بسهم يشير الى الجهة.
- ضعي دائرة حول المركز الرئيسي للبرتغاليين في الشرق.

2. امامك خريطة للخليج العربي درسيها جيدا واجيبي عن الاتي:

- ❖ اكتبي على الخريطة اسم المدينة التي حررها الاسطول العماني من الحصار الفارسي.
- ❖ ضعي دائرة حول احدى المدن التي انشأ فيها الامام احمد بن سعيد احد احواض السفن الحربية.
- ❖ ضعي الرمز (س) في المربع الصحيح على الخريطة والذي يشير الى واحدة من المواقع التي تعرضت عمان منها لغزوات خارجية .
- ❖ ارسمي على الخريطة خط سير الاسطول العماني لفك الحصار الفارسي بدأ من نقطة الانطلاقة الى نقطة النهاية بسهم يوضح ذلك.
- ❖ استخرجي رقم المسطح المائي الذي مر به الاسطول اثناء رحلته.
- ❖ ما الجهة التي تقع عليها المدينة التي حررها الاسطول بالنسبة للسلطنة.
- ❖ ظللي على الخريطة الدولة التي ينتمي اليها صاحب كتاب الامالي العمانية.

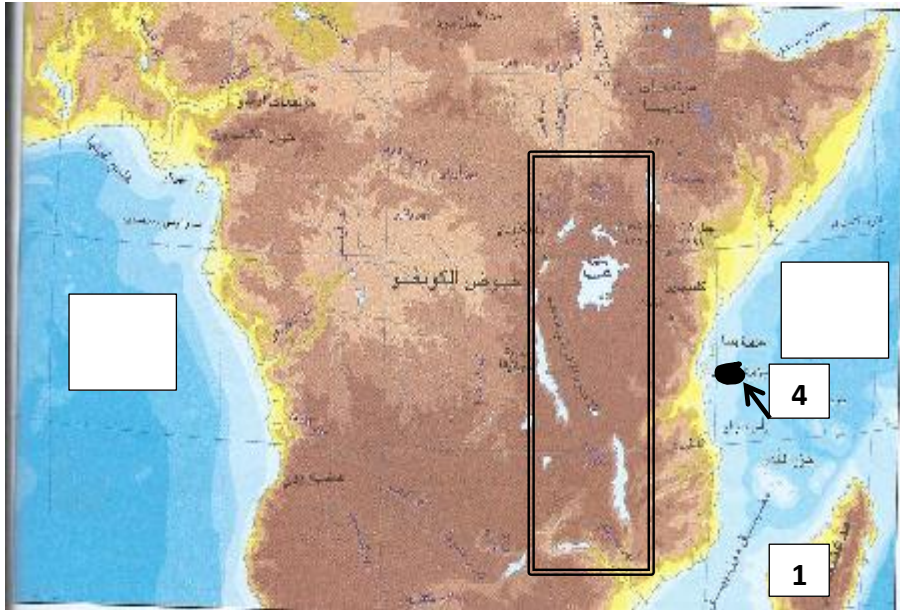


3. امامك خريطة لسواحل المحيط الهندي وجزره درسيها جيدا واجيبي عن الآتي:



- ✓ استخرجي اسم الجزيرة التي اتخذها السيد سعيد بن سلطان عاصمة ثانية لعمان.
- ✓ ما الرقم الذي يشير الى الجزيرة التي امتد اليها النشاط التجاري لعمان والتي كانت تابعة لفرنسا آنذاك.
- ✓ ضعي دائرة حول الجزيرة التي حررها العمانيون زمن اليعاربة.
- ✓ ما الجهة التي تقع عليها جزيرة مدغشقر بالنسبة للسلطنة.
- ✓ ظللي على الخريطة الدولة التي اشتهرت بتصدير الخيول زمن الامام احمد بن سعيد.
- ✓ وقعي على الخريطة اسم الدولة التي اجبر الامام احمد بن سعيد سلاطينها على احترام مكانة عمان .
- ✓ اكتبي اسم المسطح المائي داخل المستطيل على الخريطة.
- ✓ ما الرقم الدال على الدولة التي استورد منها العمانيون الزعفران زمن اليعاربة.
- ✓ ظللي امتداد ساحل بلاد المليبار على الخريطة.

4. امامك خريطة للبر الأفريقي وبنادر الصومال وزنجبار . ادرسيها جيدا واجيبي عن الآتي:



- ❖ ضعي دائرة على الخريطة حول الحوض الذي وصل اليه العمانيين بتشجيع من السيد سعيد بن سلطان.
- ❖ اكتبي على الخريطة اسم المحيط الذي وصل اليه العمانيون بتشجيع من السيد سعيد بن سلطان.
- ❖ سمي المنطقة التي يحيط بها المستطيل على الخريطة ووصل اليها نفوذ السيد سعيد بن سلطان.
- ❖ استخرجي من الخريطة الرقم الذي يشير الى الجزيرة التي كانت بمثابة العاصمة الاقتصادية لعمان زمن السيد سعيد بن سلطان.

5. امامك خريطة لمنطقة وصل اليها العمانيين زمن حكم اليوسعيد . ادرسيها جيدا واجيبي عن الآتي:



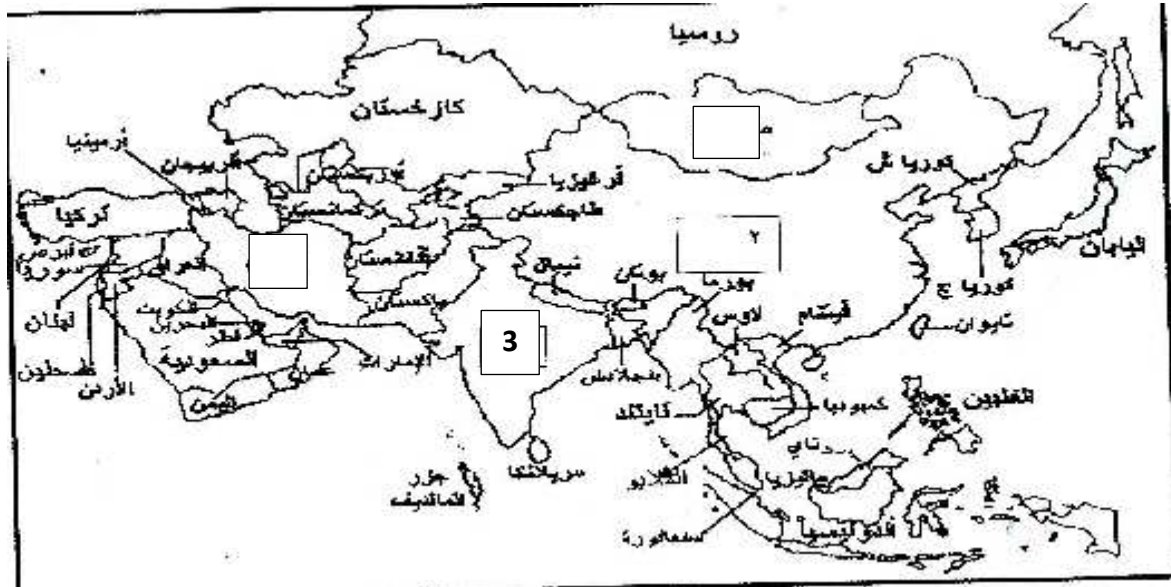
- ضعي عنوانا مناسباً للخريطة.
- استخرجي من الخريطة اسم الدولة التي تتبعها الجزيرة المحاطة داخل المربع على الخريطة.
- اكتبي على الخريطة اسم المحيط الذي تقع عليه الجزيرة.
- استنتجي من الخريطة سببا واحدا جعل السيد سعيد يتخذ منها عاصمة ثانية لعمان.
- ما الجهة التي تقع عليها الجزيرة بالنسبة لجزيرة ممبا الموجودة في الخريطة؟

6. امامك خريطة للخليج العربي ادرسيها جيدا واجيبي عن الآتي :



- ✚ استخرجي من الخريطة اسم المسطح المائي الذي عبره الاسطول العماني بقيادة السفينة الرحماني زمن الامام أحمد بن سعيد.
- ✚ ضعي دائرة على الخريطة حول المدينة التي اتجه اليها الاسطول لتحقيق اهدافه.
- ✚ اكتبي على الخريطة اسم الدولة التي يتبعها الاسطول في المكان المناسب.
- ✚ ما الجهة التي تقع عليها الدولة التي اخذ منها العمانيين النقوش والزخارف الى مساجدهم؟
- ✚ ضعي الرمز (س) في المربع المناسب على الخريطة والذي يشير الى الدولة التي استورد منها العمانيين الزعفران.

7. ادرسي الخريطة التي امامك واجيبي عن الآتي:



- استخرجي من الخريطة ما يلي:
- ✓ رقم الدولة التي كان للعمانيين دور في نشر الإسلام بين سكانها () .
- ✓ رقم الدولة التي انتهت فيها الكشوف البحرية البرتغالية () .
- ضعي دائرة حول الدولة التي ينتمي اليها صاحب كتاب الأمالي العمانية.
- اکتبي الرمز (س) في المربع المناسب على الخريطة والذي يشير الى تأثر العمانيون بأبنيتهم من حيث الارتفاع.
- ما الدولة التي نجح العمانيون في كسر الحصار الفارسي عنها؟
- ما الدولة التي ارسل منها النبي صلى الله عليه وسلم رسالته الى اهل عمان؟
- ظللي على الخريطة الدولة التي يقع فيها جامع سعال الذي بني سنة 8هـ.
- اکتبي على الخريطة اسم المحيط الذي تشرف السواحل التي توجه البرتغاليين للسيطرة عليها في القرن 16م.

8. امامك خريطة لسلطنة عمان ادرسيها جيدا واجيبي عن الآتي:

✚ اکتبي رقم كل عبارة مما يلي في الدائرة

المناسبة على الخريطة :

أ. المدينة التي كانت مقرا للقاضي

الأول زمن الإمام احمد بن سعيد.

ب. عاصمة عمان قبل انتقالها من

نزوى في العصر الإسلامي.

ج. المدينة التي يوجد بها مسجد الشواذنة

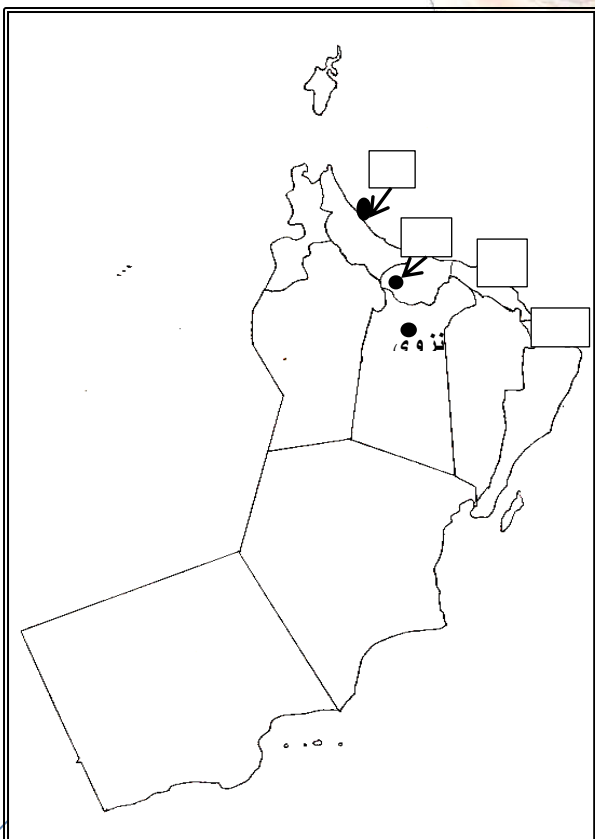
الذي بني سنة (7هـ).

✚ ضعي الرمز (س) في المربع المناسب على

الخريطة والذي يشير الى احد المدن التي

حررها العمانيون من الغزو البرتغالي عام 1650م في

عصر اليعاربة.



الفصل الدراسي الاول

الصف: الثاني عشر

المادة : الدراسات الاجتماعية

الوحدة الثانية : البيئة العمانية ... بين النمو السكاني وتأثيرات التنمية.

عنوان الدرس : بينتنا ... كيف نعمل على استدامتها؟

السؤال الاول: ظلي الرمز المقترن بالإجابة الصحيحة من بين البدائل المعطاة:

1. وصل الناتج الاجمالي من الثروة السمكية بالمليون ريال عماني عام 2004م :
أ. 53 ب. 55 ج. 57 د. 59
2. العام الميلادي الذي وصل فيه الناتج الاجمالي من عائدات الثروة السمكية الى (57) مليون ريال عماني:
أ. 2002 ب. 2004 ج. 2006 د. 2008
3. أكثر محافظات السلطنة تأثرا بمشكلة تملح المياه الجوفية هي سواحل:
أ. ظفار ب. الظاهرة ج. الباطنة د. مسندم
4. من مؤسسات العمل البيئي في سلطنة عمان (وزارة البيئة) تم تأسيسها في العام الميلادي :
أ. 1974 ب. 1979 ج. 1984 د. 1989
5. العام الميلادي الذي تم تأسيس المجلس الخاص لحماية البيئة ومكافحة التلوث في السلطنة:
أ. 1973 ب. 1974 ج. 1975 د. 1979
6. بدأ البناء المؤسسي للعمل البيئي في سلطنة عمان في العام الميلادي:
أ. 1971 ب. 1972 ج. 1973 د. 1974
7. الهدف من توقيع السلطنة لاتفاقية (ماربول) عام 1973م حماية البيئة:
أ. الصحراوية ب. الجبلية ج. البحرية د. السهلية
8. المخلفات التي يتم نقلها الى مواقع الطمر الصحي :
أ. الخطرة ب. السائلة ج. الصلبة د. العضوية
9. وافقت المنظمة البحرية الدولية على تصنيف المنطقة البحرية من رأس الحد الى حدود السلطنة الجنوبية مع اليمن منطقة بحرية خاصة في العام الميلادي :
أ. 2000 ب. 2001 ج. 2002 د. 2003
10. تم الاعلان عن جائزة السلطان قابوس لحماية البيئة في العام الميلادي:
أ. 1979 ب. 1983 ج. 1989 د. 1993
11. تمنح جائزة السلطان قابوس لحماية البيئة كل:
أ. عام ب. عامين ج. ثلاثة اعوام د. اربعة اعوام
12. يقام حفل اختيار الفائز بجائزة السلطان قابوس لحماية البيئة في منظمة :
أ. اليونسكو ب. الاليسكو ج. الاليسكو د. اليونيسيف
13. منحت جائزة السلطان قابوس لحماية البيئة لأول مرة في العام الميلادي :
أ. 1990 ب. 1991 ج. 1992 د. 1993
14. (ان الحفاظ على البيئة مسؤولية جماعية لا تحدها الحدود السياسية للدول) من اقوال صاحب الجلالة في مؤتمر قمة الارض في العام الميلادي:
أ. 1982 ب. 1984 ج. 1992 د. 1994
15. الجائزة العالمية التي يمنحها صاحب الجلالة كل عامين لمن له دور بارز في مجال المحافظة على:
أ. الصحة ب. التعليم ج. الامن د. البيئة
16. الصورة التي امامك تشير الى احد التدابير التي اتبعتها السلطنة لحماية البيئة ويتمثل في:
أ. حماية المناطق الساحلية ب. ادرة المخلفات الصلبة
ج. رصد ملوثات الهواء د. التخطيط البيئي للمشروعات



16. بلغ عدد مرات منح جائزة السلطان قابوس لحماية البيئة من عام (2005 – 2011 م):

- أ. 4 ب. 3 ج. 2 د. 1

17. الشكل الذي يوضح الخطوات التي تنتهجها السلطنة في مجال حماية البيئة:



18. المشكلات البيئية التي تعاني منها محافظتي (شمال وجنوب) الباطنة :

- أ. زحف الرمال وتملح المياه الجوفية. ب. تملح المياه الجوفية وتآكل الشواطئ
ج. تدهور المراعي وتآكل الشواطئ. د. زحف الرمال وتدهور المراعي.

19. يزيد حجم النشاط الإشعاعي في المخلفات الخطرة بالبيكريل / جم عن:

- أ. 100 ب. 150 ج. 200 د. 250

20. أي المناخات الآتية تظهر بشكل واضح في سلطنة عُمان؟

استوائية	<input type="radio"/>
شبه موسمية	
جافة	
معتدلة	

شبه جافة	<input type="radio"/>
معتدلة	
استوائية	
شبه موسمية	

جافة	<input type="radio"/>
شبه جافة	
استوائية	
موسمية	

معتدلة	<input type="radio"/>
شبه موسمية	
جافة	
شبه جافة	

21. جميع ما يأتي من أشكال المياه الجوفية في سلطنة عُمان عدا:
 أ. الآبار .
 ب. العيون المائية .
 ج. الأفلاج الداودية .
 د. الغيول

22. تم منح جائزة السلطان قابوس لحماية البيئة عام 2015 م للمرة:
 أ. الحادية عشر .
 ب. الثانية عشر .
 ج. الثالثة عشر .
 د. الرابعة عشر .

23. الدولة العربية التي أسست أول مجلس لحماية البيئة ومكافحة التلوث:
 أ. مصر .
 ب. عُمان .
 ج. العراق .
 د. الكويت .
 السؤال الثاني:

1. قيمي أهمية الامتداد الطولي لدوائر العرض التي تقع عليها سلطنة عمان .

2. عللي تنوع البيئات الطبيعية .

3. (شيد الانسان اعمانى بينته الحضرية اعتمادا على معطيات هذه البيئات) فسري هذه العبارة .

4. عرفي التنوع الاحيائي .

5. اذكرى اثنين من فوائد التنوع الاحيائي .

6. (تحتل السلطنة مكانة مرموقة على الصعيد الدولي في مجال المحافظة على البيئة) وضح العبارة بالأمثلة .

7. اذكرى اربعا من اولويات او محاور العمل البيئي في السلطنة .

8. صممي جدولا بأنواع الكائنات الحية في السلطنة على ان يشمل :

م	النوع	العدد
1.		
2.		
3.		
4.		
5.		
6.		
7.		

9. (وضعت السلطنة استراتيجية وطنية لحماية البيئة العمانية من اجل تحقيق عدة اهداف) عدد اثنين من هذه الاهداف .

10. اكمل المخطط التالي:



11. عرفي كلا من:

- أ. المخلفات.
ب. المخلفات الخطرة.
ت. التلوث البحري.

12. (تأتي عمليات ادرة المخلفات في صدارة الاهتمام بحماية البيئة) وضح العبارة بالأمثلة.

13. ما دور السلطنة في التخلص من المخلفات الخطرة؟

14. اذكر ثلاثا من خصائص المخلفات الخطرة.

15. (تمثل ادارة المناطق الساحلية وحماية البيئة البحرية اهمية كبيرة بالنسبة للسلطنة) عللي ذلك.

16. فسري وضع السلطنة خطة طوارئ لمكافحة التلوث الزيتي.

17. قارني بين المخلفات الخطرة والمخلفات الصلبة من حيث:

المخلفات الخطرة	المخلفات الصلبة	وجه المقارنة
<ul style="list-style-type: none"> ● المواد المشعة ● المواد السامة 		امثلة عليها
		مواقع التخلص منها

18. صممي جدولاً بالتدابير التي اتبعتها الحكومة في مجال حماية البيئة على ان يشمل:

م	التدابير	آلية التنفيذ	الهدف
1.	التخطيط البيئي للمشروعات	الحصول على التراخيص البيئية من الجهات المختصة.	معرفة التأثيرات السلبية على البيئة والتقليل منها.
2.	رصد ملوثات الهواء والمواد المشعة.	مراقبة عمليات استيراد وتخزين واستخدام المواد المشعة. متابعة الجهات المستخدمة لها.	تقليل المخاطر التي تسببها على الانسان والبيئة.
3.	متابعة مراحل انتاج المواد الكيماوية	الرصد والتقييم والرقابة لجميع مراحل انتاجها واستيرادها وتخزينها وتداولها واستخدامها والتخلص منها.	تقليل المخاطر التي تسببها على الانسان والبيئة.
4.	ادارة المخلفات: الصلبة والخطرة	<ul style="list-style-type: none"> تقوم البلديات الاقليمية بجمع المخلفات الصلبة ونقلها الى مواقع الطمر الصحي. اعادة تدوير الحديد والاوراق والزجاج وعلب الالمنيوم. اصدار التراخيص للمخلفات الخطرة وتطوير اجراءات التحكم فيها. اشتراط معالجتها عند مواقع الانتاج. 	حماية الانسان والبيئة من اضرارها.
5.	ادرة المناطق الساحلية وحماية البيئة البحرية.	<ul style="list-style-type: none"> توقيع الاتفاقيات الدولية مثل: اتفاقية ماربول 1973م اتفاقية الكويت الاقليمية 1978م. وضع خطة طوارئ لمكافحة التلوث الزيتي. وضع الخطط لحماية الموارد والبيئة البحرية 	حماية المياه الاقليمية من التلوث وحماية البيئة البحرية

19. صممي خريطة مفاهيم بالخطوات التي خطتها السلطنة في مجال البيئة.

20. صممي مسطرة زمنية توضح الأحداث المتعلقة بالبناء المؤسسي البيئي في عمان مستعينا بالمعطيات الآتية:

2007م - 1984م - 1989م	وزارة موارد المياه - وزارة البيئة - وزارة البيئة والشؤون المناخية
-----------------------	---

21. صممي جدولاً بجائزة السلطان قابوس لحماية البيئة على ان يشمل:

1.	سنة الاعلان عنها	1989م
2.	المنظمة الراعية لها	اليونسكو
3.	دورتها	كل عامين
4.	الجهات الممنوحة لها	<ul style="list-style-type: none"> فرد او مجموعة افراد. مؤسسات. معاهد. منظمات.
5.	اهدافها	<ul style="list-style-type: none"> صون البيئة. حماية المحيط الحيوي الحفاظ على التراث الطبيعي للإنسانية.
7.	اوائل الدول العربية في مجال حماية البيئة.	سلطنة عمان.
8.	مكوناتها	<ul style="list-style-type: none"> شهادة تقدير منحة مالية
9.	لجنة التحكيم	مكتب المجلس الدولي لتنسيق برنامج الانسان والمحيط الحيوي.
10.	آلية الاختيار	عن طريق الترشيح من الدول والافراد.
11.	الفائز الاول بها	معهد البيئة العربي بولاية قفلا كروز بالمكسيك عام 1991م.

22. (تمثل الثروة السمكية أهمية كبرى لمستقبل الاقتصاد العماني) برهني على صحة العبارة.

23. الصورة التي امامك تشير الى احد التدابير التي اتبعتها السلطنة لحماية البيئة. ادرسيها جيدا واجيبي عن الآتي:



- سمي نوع التدبير الذي اتبعته حكومة السلطنة لحماية البيئة.
- استنتجي من الصورة نوع التلوث الناتج.
- اين يتم استقبال هذا النوع من الناقلات في السلطنة.

24. الشكل الذي امامك يشير الى احد الخطوات التي اتبعتها في مجال التخطيط لصون البيئة:

ادرسه واجيبي عن الآتي:

الجدالات	سياسات استدامة تعميمها	الرؤية المستقبلية للاستراتيجية
أراضي والمياه	<ul style="list-style-type: none"> * استصلاح الأراضي وزيادة إنتاجيتها. * التركيز على زراعة المنتجات الجيدة. * استخدام المياه متوسمة الملوحة في الزراعة. * اكتشاف مصادر جديدة للمياه. 	<ul style="list-style-type: none"> * رصد الموارد المتجددة وتنوعها البيئي والأحيائي وتقييم أنماط وأساليب استخدامها إيجابياً وسلبياً. * تحديد العلاقة الهيكلية والوظيفية والاقتصادية بين الموارد المتجددة وغير المتجددة في السلطنة، وتقييم مدى توافق التنمية الاقتصادية والاجتماعية مع متطلبات البيئة وحماية الموارد الطبيعية. * تحديد وتقييم درجات تلوث البيئة العمانية وتدهور وانحسار مواردها.
الثروة السمكية	<ul style="list-style-type: none"> * تحسين المعارف عنها. * تحسين وترشيد إدارة صيد الأسماك. * تطبيق القوانين المتعلقة بها. 	<ul style="list-style-type: none"> * اقتراح آليات التي ينبغي أن تتفاعل بها السلطنة مع المجتمع الإقليمي والدولي من أجل تنفيذ الاستراتيجية الوطنية لحماية البيئة العمانية، وإبراز دورها في إصاحاب التنمية العالمية. والحفاظ على الموارد الطبيعية والتراث الحضاري العالمي.
الغابات والنباتات	<ul style="list-style-type: none"> * حماية المراعي وتطويرها. * استزراع الغابات والمراعي. 	<ul style="list-style-type: none"> * تحديد وتقييم درجات تلوث البيئة العمانية وتدهور وانحسار مواردها.
الغابات والنباتات	<ul style="list-style-type: none"> * ترشيد استهلاك الطاقة. * البحث عن مصادر جديدة للطاقة. 	<ul style="list-style-type: none"> * اقتراح آليات التي ينبغي أن تتفاعل بها السلطنة مع المجتمع الإقليمي والدولي من أجل تنفيذ الاستراتيجية الوطنية لحماية البيئة العمانية، وإبراز دورها في إصاحاب التنمية العالمية. والحفاظ على الموارد الطبيعية والتراث الحضاري العالمي.
المياه	<ul style="list-style-type: none"> * تحسين إدارة الموارد الطبيعية. * التقليل من الملوثة وإدارة المخلفات. * تطبيق التشريعات البيئية. 	<ul style="list-style-type: none"> * تحديد وتقييم درجات تلوث البيئة العمانية وتدهور وانحسار مواردها.

✚ اكتب اسم هذه الخطوة (الاجراء).

✚ ما نوع الموارد التي ركزت عليها.

✚ استنتجي من الشكل:

- موردا طبيعيا مستداما.
- موردا طبيعيا غير مستدام.

25. أمامك صورة لأحد التدابير التي اتبعتها الحكومة في مجال التخطيط لحماية البيئة. ادرسيها جيدا وأجيب عن الآتي:



أ. استنتجي نوع التدبير الذي اتبعته الحكومة من خلال الصورة.

ب. كيف اهتمت الحكومة بمعالجة هذا النوع.

ت. الى أي الانواع تنتمي :

- الصلبة
- السائلة
- الخطرة
- العضوية

تخيري الصواب بوضع دائرة حولها.

26. ما المشكلات البيئية التي تعاني منها سلطنة عمان؟

27. ناقشي بأسلوب البحث العلمي مشكلة التخلص من المخلفات في السلطنة:

• تحديد المشكلة:

مشكلة التخلص من المخلفات.

• أسباب المشكلة:

✚ النفايات المختلفة الناتجة عن العمليات:

الصناعية / التعدينية / الزراعية / الحرفية.

✚ نفايات (المنازل / المستشفيات / المنشآت العامة).

تنقسم الى:

أ. المخلفات الغير خطيرة: (الصلبة والسائلة).

ب. المخلفات الخطرة: (تحتفظ بسميتها / قابلة للانفجار او الاشتعال / لها نشاط اشعاعي / قدرتها على

احداث تآكل).

• فرض الحلول:

اولا: المخلفات الخطرة:

✚ التخطيط البيئي للمشروعات.

✚ رصد ملوثات الهواء والمواد المشعة.

✚ الرصد والتقييم والرقابة لجميع مراحل انتاج المواد الكيماوية.

✚ تطوير النظام الخاص باصدار التراخيص البيئية المتعلقة بالمخلفات الخطرة.

✚ تطوير اجراءات التحكم بالمخلفات الخطرة.

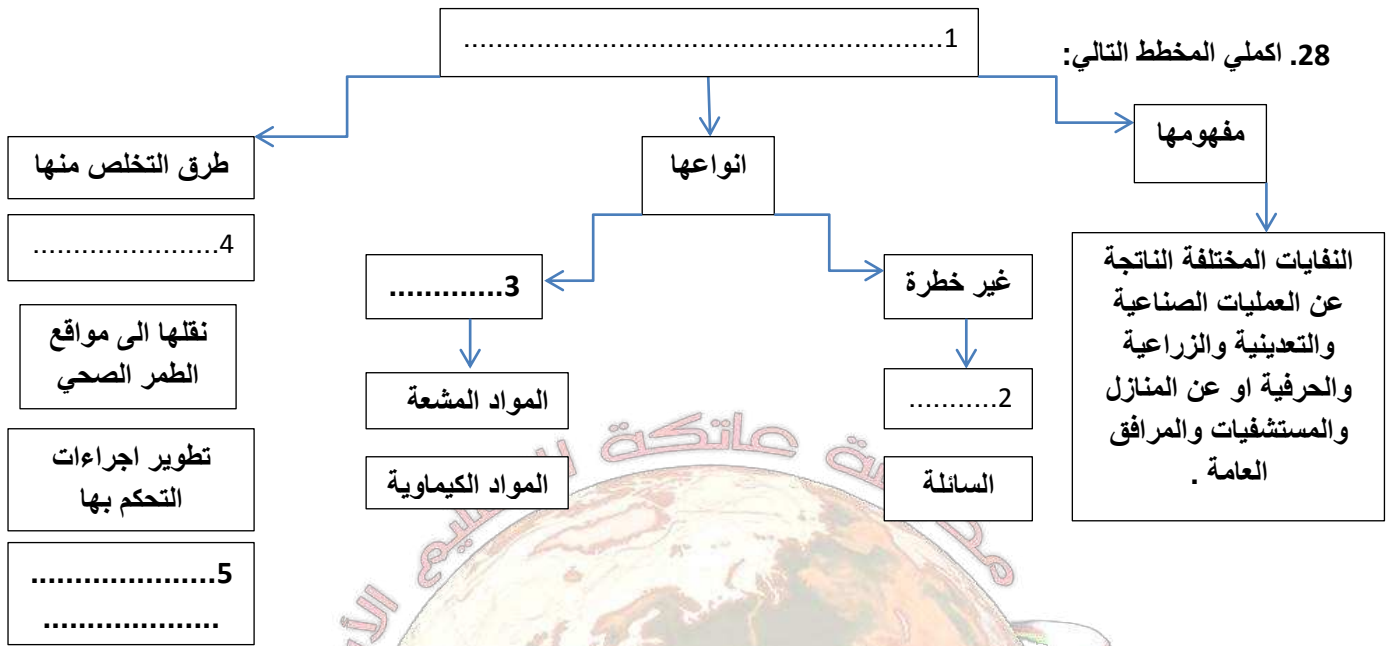
✚ اشتراط معالجة المخلفات الخطرة عند مواقع الانتاج.

ثانيا: المخلفات غير الخطرة:

✚ تقوم البلديات الاقليمية في سلطنة عمان ب:

✓ جمع المخلفات الصلبة ونقلها الى مواقع الطمر الصحي.

✓ اعادة تدوير بعض هذه المخلفات مثل: (الحديد / الورق / الألمنيوم / الزجاج).



29. عللي تنوع مهنة الإنسان العماني، وثقافته، وأساليب عمارته، وأنماط حياته، وعاداته وتقاليدته.

30. ناقشي بأسلوب البحث العلمي مشكلة امكانية تعرض التنوع الأحيائي للتدهور في سلطنة عمان.



المشكلة وتحديدها:

تعرض حيوان المها للانقراض.

اسباب المشكلة:

الاعتداء والصيد بالرغم من القوانين الصارمة.

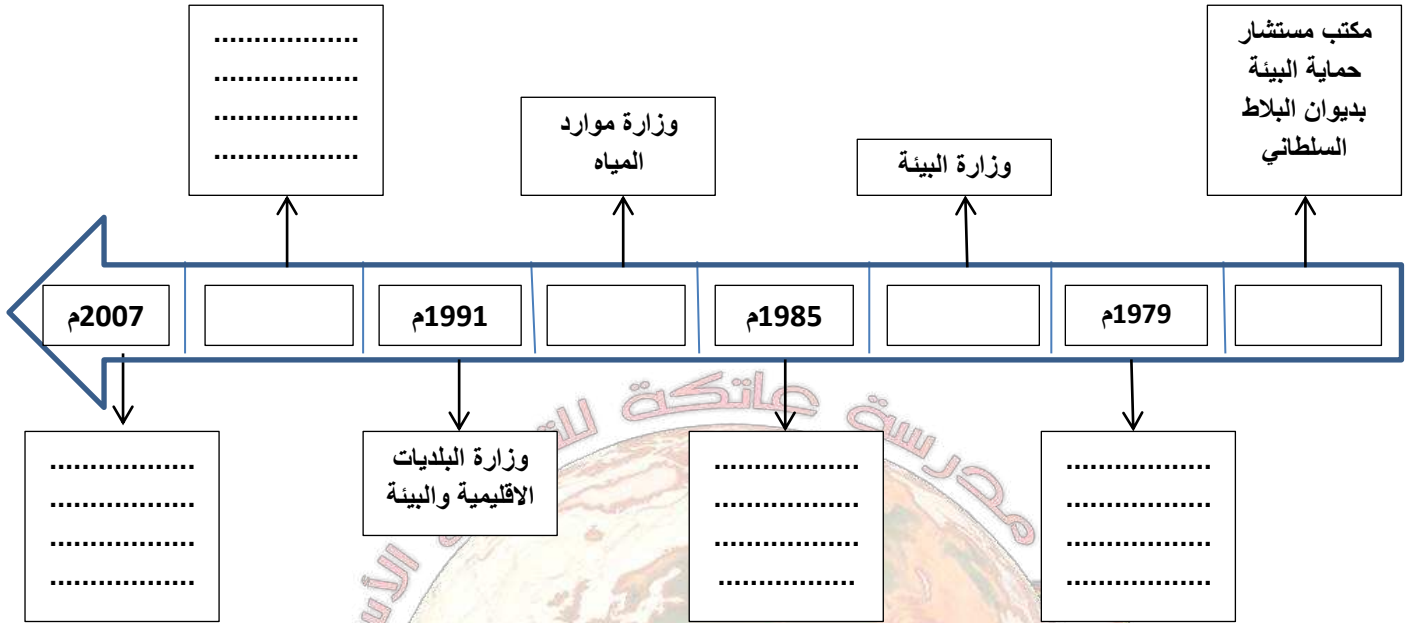
فروض الحل:

- ✓ زيادة عدد المحميات.
- ✓ الاستفادة من الخبرات الأجنبية في هذا المجال.
- ✓ تشديد حراسة هذه المحميات من المعتدين.
- ✓ فرض قوانين اضافية صارمة لمنع صيد المها.
- ✓ تربية هذا الحيوان في أماكن خارج السلطنة واكثاره ثم ارجاعها.

الحل الأمثل:؛

ملتر من بقاء المحميات، الإجابة في موادنا

31. اكمل البيانات المرتبطة بالمسطرة الزمنية التالية :



32. سمِّ المصطلح الدال على العبارات الآتية:

نظام تقليدي قديم لاستخراج المياه من الآبار المفتوحة بواسطة الحيوانات في سلطنة عُمان.

33. تتميز سلطنة عُمان بتنوع البيئات الطبيعية؟

34. "إن الحفاظ على البيئة مسؤولية جماعية لا تحدها الحدود السياسية للدول. ثبت ذلك غير مرّة، وعليه فإن الإنسان، أينما كان، عليه أن يساهم في الحفاظ على البيئة، وأن يتصالح معها، وأن يتعامل معها بعقلانية، وأن ينتبه للمسببات الكثيرة للتلوث، سواء كانت طبيعية أو بيولوجية، أو صناعية و كيميائية و فيزيائية. وعلى كثير من الشعوب أن تحد من التكاثر العشوائي، وتحافظ على ما تبقى لها من مراعي ومياه، بعيداً عن مؤثرات التصحر والجفاف..."

من خطاب جلالة السلطان قابوس المعظم حفظه الله ورعاه في قمة الأرض، عام 1992 م

في ضوء الخطاب السامي أجب عن الأسئلة الآتية:

أ. سمِّ المؤتمر الذي وجه جلالته هذا الخطاب إليه.

ب. استخرج اثنين من مجالات الاستراتيجية الوطنية لحماية البيئة العمانية الواردة في خطاب جلالته.

ج. اعط مثلاً واحداً على مشكلة بيئية وردت في خطاب جلالته.

35. أمامك صورتان تمثلان نماذج من البيئات العمانية. ادرسهما جيداً ثم أجب عن الأسئلة التي تليهما:



الصورة (2)



الصورة (1)

اتفاقية ماريبول 1973 م ترتبط ارتباطاً وثيقاً بالبيئة التي تمثلها الصورة:

ظنل الإجابة الصحيحة

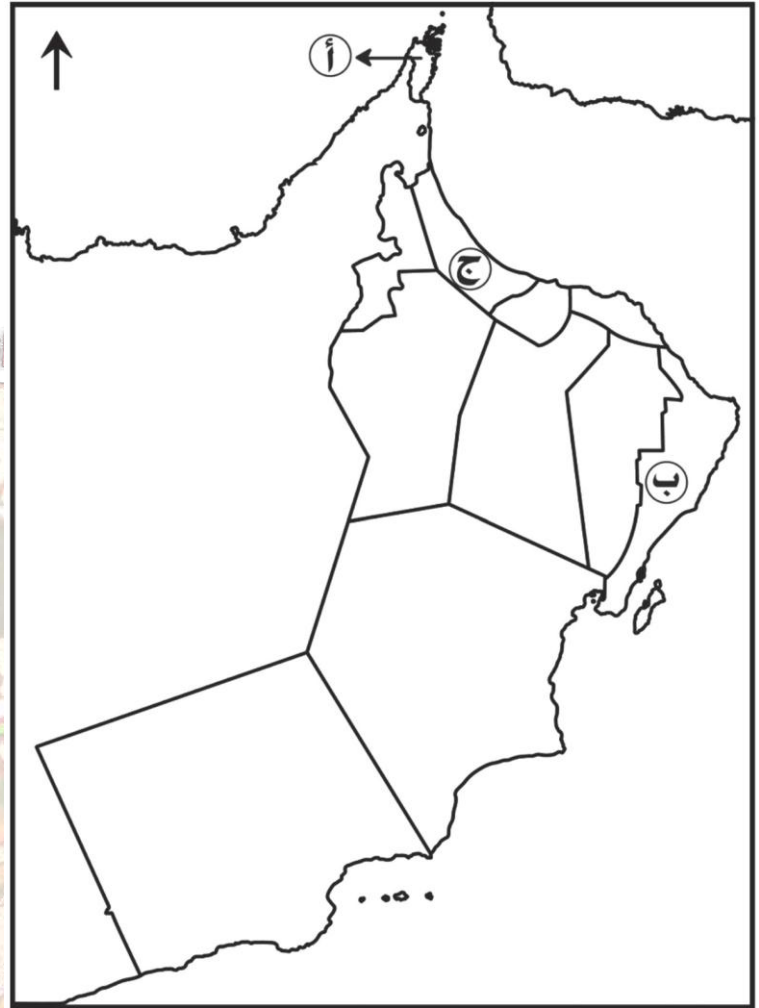
2 ○

1 ○

مدرسة عاتكة للتعليم الاساسي

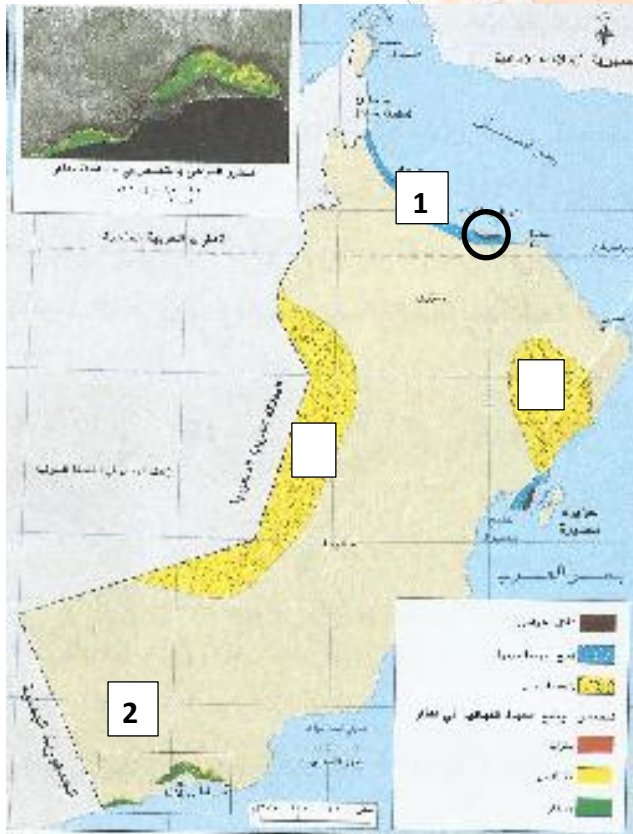
اعداد الاستاذة نعيمة البريكية

ب. فسّر إجابتك:



- أ. اكتب الرقم (1) على المحافظة التي لا يوجد بها أي نوع من أنواع الأفلاج.
 ب. ظلّل المحافظة التي أنشأ فيها الإمام أحمد بن سعيد مصانع للسفن الحربية.
 ج. ارسم شكل في المحافظة التي تعاني من مشكلة تدهور المراعي.
 د. تظهر مشكلة زحف الرمال في الموقع المشار إليه بالرمز:

- أ ج
 ب د
 تخير الصواب



السؤال الثالث:

1. امامك خريطة لسلطنة عمان ادرسيها جيدا واجيبي عن الآتي:

- ❖ ضعي عنوانا مناسب للخريطة.
- ❖ ما المحافظة الأكثر تعرضا لمشكلة تملح المياه الجوفية والمشار إليها بالرقم (1).
- ❖ اقترحي حلا للمشكلة البيئية في الموقع المشار إليه بالرقم (2).
- ❖ ما المشكلة البيئية في الموقع المحاط بدائرة على الخريطة.
- ❖ اكتبي على الخريطة اسم المحافظة التي توجد بها مشكلة تدهور المراعي والتصحر.
- ❖ ظللي المنطقة التي وافقت المنظمة البحرية الدولية على تصنيفها منطقة بحرية خاصة.
- ❖ ضعي الرمز (س) في المربع الصحيح على الخريطة والذي يشير الى مشكلة زحف الرمال.

أمامك خريطة سلطنة عُمان ادرسها، ثم أجب عن الأسئلة التي تليها:

أمامك خريطة لسلطنة عمان ادرسها واجيبي عن الآتي:

أ. ما المشكلة البيئية التي تعاني منها المحافظة المشار اليها بالرقم (2) على الخريطة.

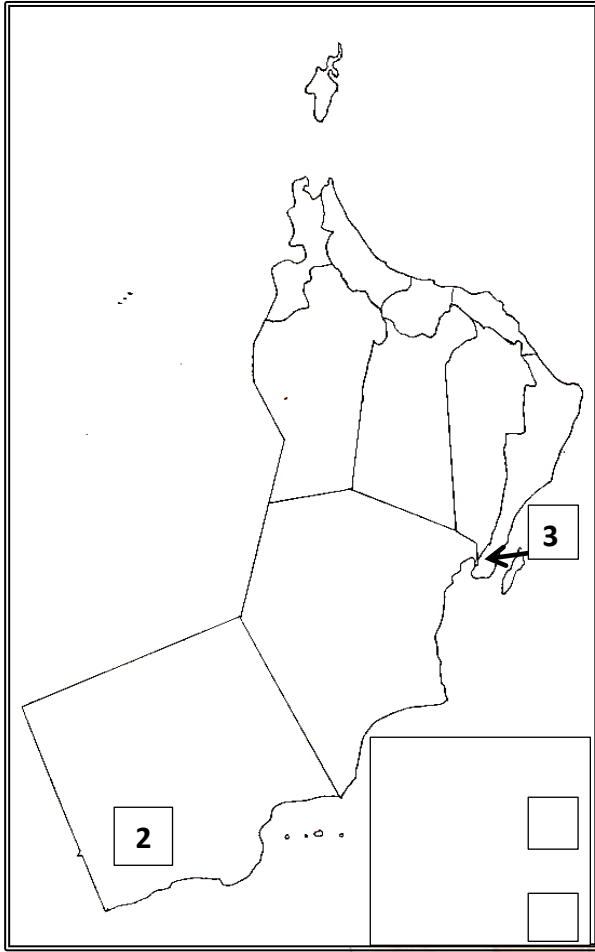
ب. ارسمي على الخريطة الآتي:

- ✓ مشكلة تملح المياه الجوفية في المحافظة الأكثر تأثراً بها.
- ✓ مشكلة زحف الرمال.

ث. ارسمي مفتاحاً للخريطة للمشكلات البيئية

السابقة في المكان المحدد على الخريطة.

ج. ما المشكلة البيئية في الموقع المشار اليه بالرقم (3).



ملتزمون بتحقيق رؤيتنا , الإجابة في موادنا

الفصل الدراسي الاول

الصف: الثاني عشر

المادة : الدراسات الاجتماعية

الوحدة الثانية : البيئة العمانية ... بين النمو السكاني وتأثيرات التنمية.

عنوان الدرس : الماء أساس الحياة بين الندرة والاستنزاف.

السؤال الاول: ظللي الرمز المقترن بالإجابة الصحيحة من بين البدائل المعطاة:

1. تعد احد اشكال الموارد المائية السطحية في سلطنة عمان:
أ. الأفلاج ب. الينابيع ج. العيون د. الاودية
2. جميع ما يلي من أشكال الموارد المائية الجوفية في السلطنة ما عدا:
أ. الأفلاج ب. الآبار ج. العيون د. الاودية
3. توجد اكبر محطة لتحلية المياه في سلطنة عمان:
أ. صور ب. بركاء ج. الغبرة د. صلالة
4. توجد اقدم محطة لتحلية المياه في سلطنة عمان:
أ. صور ب. بركاء ج. الغبرة د. صلالة
5. اول محطة لتحلية المياه في سلطنة عمان وتم افتتاحها عام 1975م:
أ. الغبرة ب. بركاء ج. الغبرة د. صلالة
6. تغذي محطة تحلية مياه بركاء ولايات محافظتي:
أ. جنوب الباطنة والظاهرة ب. شمال الباطنة والداخلية ج. جنوب الباطنة والداخلية د. شمال الباطنة والداخلية
7. الاسم المحلي لنظام السحارات الذي اوجده العمانيون يعرف ب:
أ. الأفلاج ب. الطواحين المائية ج. الزاجرة د. غراق فلاح
8. نظام اوجده العمانيون يمكن قنوات الأفلاج من عبور مجاري الاودية والمنخفضات:
أ. الزاجرة ب. الأفلاج ج. غراق فلاح د. الباده
9. يوازي نظام الباده مقدر من الساعات عددها:
أ. 3 ب. 6 ج. 12 د. 24
10. يصل عدد الآثار في كل بادة:
أ. 3 ب. 6 ج. 12 د. 24
11. يوازي الاثر مقدار من الوقت يساوي من الساعة:
أ. الربع ب. الثلث ج. النصف د. الساعة
12. يقسم العمانيون نظام توزيع مياه الأفلاج الى فترتين كل فترة تسمى:
أ. بادة ب. اثر ج. ساقية د. غراق
13. تصنف افلاج السلطنة على انها من النوع :
أ. الداودي ب. العيني ج. الغيلي د. العدي
14. اقل الأفلاج في السلطنة انتشارا النوع:
أ. الداودي ب. العيني ج. الغيلي د. العدي
15. عدد الأفلاج الداودية في محافظة الوسطى:
أ. صفر ب. اثنان ج. اربعة د. ستة
16. من خلال دراسة تقديرات الوضع المائي في السلطنة بين العرض والطلب للفترة من (1990 - 2020 م) تستنتج ان:
أ. زيادة الطلب على العرض ب. قلة الطلب على العرض ج. تناسب العرض مع الطلب د. زيادة العرض على الطلب
17. ثلث حجم الاستهلاك المائي في سلطنة عمان يأتي عن طريق :
أ. الأفلاج ب. المياه المحلاة ج. الآبار د. الاحواض المائية
18. اعتمد العمانيون على الآبار اليدوية التي تعتمد على قوة الحيوان لاستخراج المياه عن طريق نظام:
أ. الأفلاج ب. السحارات ج. الزاجرة د. العيون
19. الهدف من المشروع المائي الوطني الذي تم تنفيذه خلال الأعوام (1992 – 1995 م) حصر:
أ. الهدف من المشروع المائي الوطني الذي تم تنفيذه خلال الأعوام (1992 – 1995 م) حصر:
ب. الهدف من المشروع المائي الوطني الذي تم تنفيذه خلال الأعوام (1992 – 1995 م) حصر:
ج. الهدف من المشروع المائي الوطني الذي تم تنفيذه خلال الأعوام (1992 – 1995 م) حصر:
د. الهدف من المشروع المائي الوطني الذي تم تنفيذه خلال الأعوام (1992 – 1995 م) حصر:

د. السدود

ج. الأفلاج

ب. العيون

أ. الآبار

20. عدد الآثار في اليوم الواحد لنظام ادارة الأفلاج في عمان:

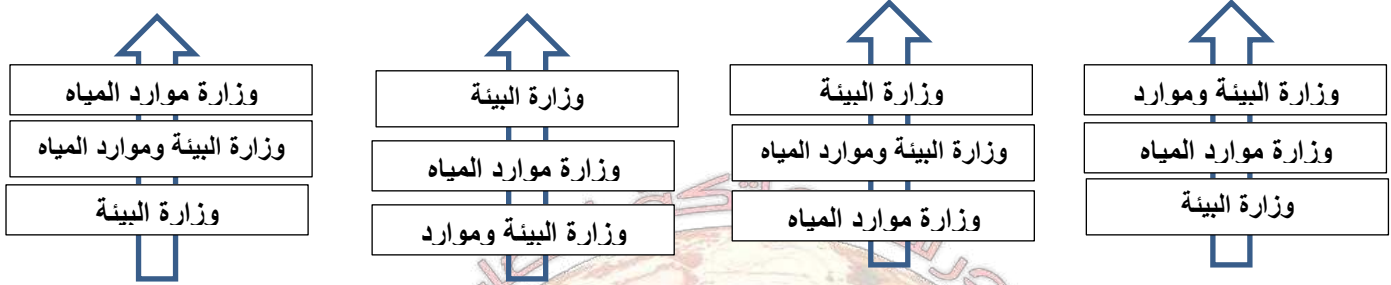
د. 48

ج. 24

ب. 12

أ. 6

21. الترتيب الزمني من الاقدم الى الاحدث للبناء المؤسسي للعمل البيئي في سلطنة عمان :



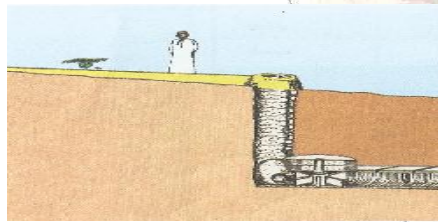
22. الصورة التي أمامك تشير الى واحدة من طرق ادارة العمانيين للمياه قديما هي:

ب. السحارات

د. عراق فلاح

أ. الافلاج

ج. الزاجرة



23. الصورة التي أمامك تشير الى استغلال العمانيين لمساقط المياه لطحن الحبوب وتعرف ب:

ب. السحارات

د. الأفلاج

أ. الطواحين المانية

ج. الزاجرة



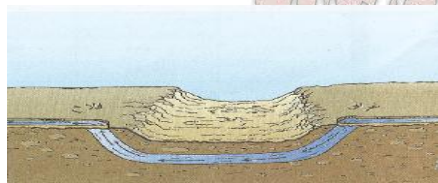
24. الصورة التي امامك تمثل احد اشكال المياه الجوفية وتعرف ب:

ب. الأحواض المانية

د. الآبار

أ. العيون

ج. الأفلاج



25. الصورة التي أمامك تشير الى واحدة من طرق ادارة العمانيين للمياه قديما هي:

ب. الأفلاج

د. عراق فلاح

أ. الطواحين المانية

ج. الزاجرة



26. الصورة التي أمامك تشير الى واحدة من طرق ادارة العمانيين للمياه قديما هي:

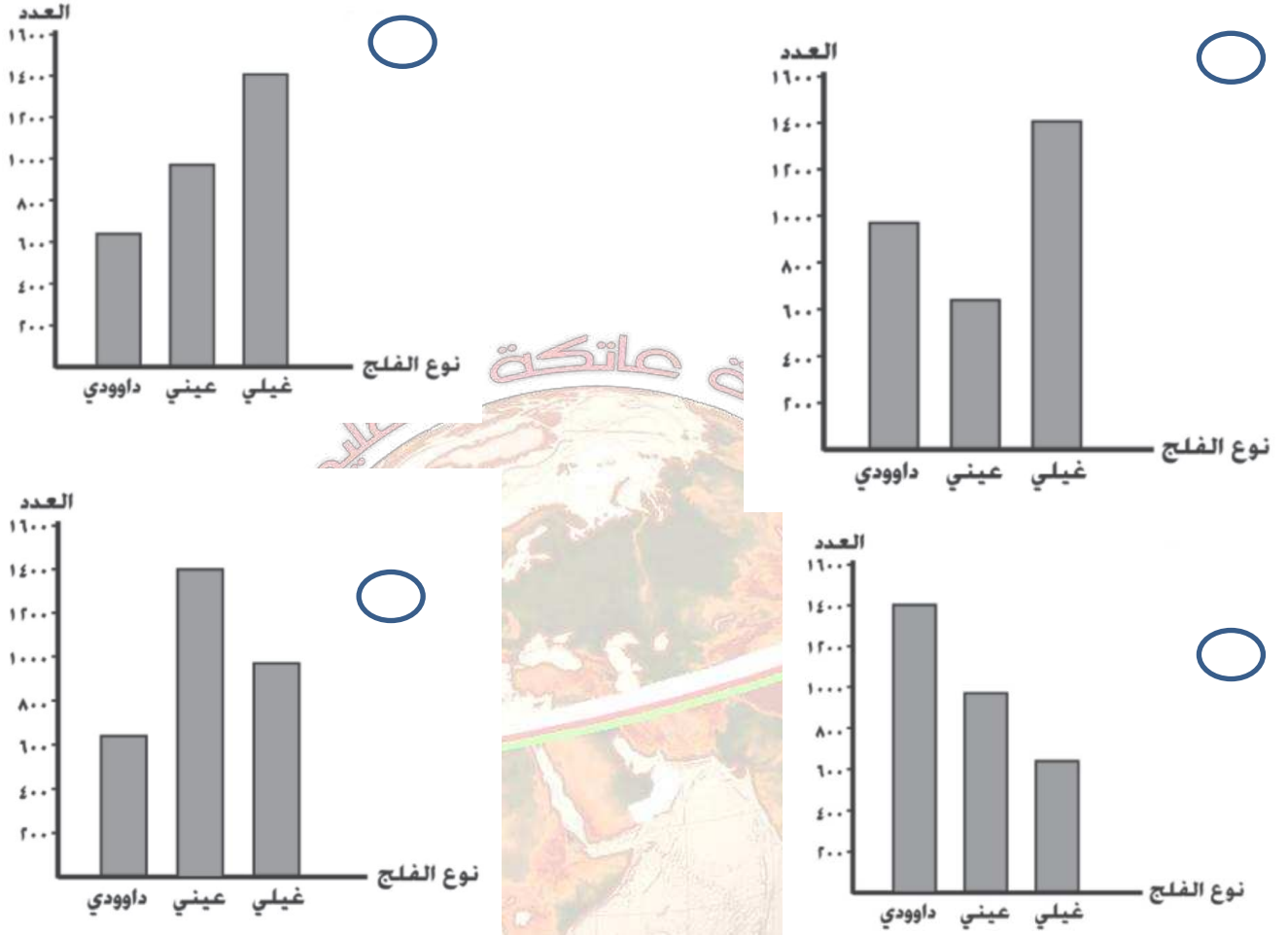
ب. السحارات

د. الآبار

أ. العيون

ج. الأفلاج

27. الرسم البياني الصحيح الذي يوضح عدد الأفلاج الحية في سلطنة عُمان:



28. المدينة التي يوجد بها فائض في الموازنة المائية:

المدينة	الطلب على المياه بالمتر 3	التغذية المائية بالمتر 3
أ	3011	2536
ب	2536	3011
ج	2536	2536
د	3011	1103

29. جميع ما يأتي من أشكال المياه الجوفية في سلطنة عُمان عدا:

- أ. الآبار . ب. العيون المائية. ج. الأفلاج الداودية . د. الغيول

السؤال الثاني:

1. (تندر المياه السطحية العذبة في سلطنة عمان ، وتقتصر على الجريان المؤقت للمياه في المجاري العليا للأودية ، والذي قد يستمر لأيام قليلة مما جعل السكان يعتمدون على المياه الجوفية ، ومياه التحلية لتلبية احتياجاتهم المائية) في ضوء العبارة السابقة اجب عن الأسئلة التالية:
- أ. سم المصطلح المحلي الذي يطلق على الجريان السطحي المؤقت في المجاري العليا للأودية.
- ب. عددي اثنين من العوامل التي تؤثر على الموارد المائية الجوفية في السلطنة.

2. قارني بين المياه السطحية والمياه الجوفية من حيث:

وجه المقارنة	المياه السطحية	المياه الجوفية
المصدر	أ.....	ب.....
العوامل المؤثرة فيها	ج.....	د.....

3. (ادى قيام سلطنة عمان بكل من تحلية مياه البحر ومعالجة مياه الصرف الصحي الى تحقيق فوائد ايجابية على المياه الجوفية) فسري العبارة موضحة فائدة واحدة لكل اجراء.

4. علي ايجاد العمانيون لنظام السحارات (عراق فلاح) .

5. صنف الادوار التالية لنظام الافلاج في سلطنة عمان حسب الجوانب التالية : (صيانة المساجد / استخراج المياه الجوفية وجعلها متاحة على سطح الارض / توفير مياه الشرب / الاستقرار السكاني / توزيع حصص مياه الافلاج بنظام متقن / ري الاراضي الزراعية / توفير فرص عمل / التعليم / مصدر للدخل)

اجتماعية	اقتصادية	هندسية

6. دلي على براعة العمانيين في ادارة الموارد المائية قديما.

7. امامك جدول لتصنيف الافلاج حسب انواعها ادرسيه جيدا واجيبي عن الاسئلة التي تليه:

نوع الفلج	حي	ميت
داوودي	627	340
عيني	989	163
غيلي	1401	592

أ. ما اكثر الافلاج انتشارا في السلطنة؟

ب. ما اقل انواع الافلاج انتشارا في السلطنة؟

ت. رتبي ترتيبا تنازليا افلاج السلطنة حسب انتشارها.

ث. احسبي اجمالي الافلاج الموجودة في السلطنة.

ج. احسبي اجمالي الافلاج العينية بالسلطنة.

ح. احسبي الفرق بين الافلاج الغيلية والافلاج الداوودية.

خ. احسبي نسبة الافلاج الميتة من مجموع الافلاج في السلطنة.

د. اقترحي بعض الحلول للمحافظة على الافلاج بالسلطنة.

ذ. ما اثر اندثار الافلاج على النشاط الزراعي.

ملرمون بنحمي رويتنا ، الإجدادة في موادنا

8. امامك جدول لتقديرات الوضع المائي بالسلطنة بين العرض والطلب في الفترة من (1990- 2020 م) ادرسيه جيدا واجيبي عن الاسئلة التي تليه:

السنة	التغذية المائية بالمترب مكعب		الطلب على المياه	
	مياه جوفية	مياه محلاة	استعمالات زراعية	استعمالات منزلية
1990م	899	41	1152	73
1995م	949	50	1152	156
2000م	1004	100	1250	185
2020م	1004	100	1250	460

أ. ضعي اكثر او اقل او يساوي:

❖ العرض من كمية المياه الطلب على المياه.

- ❖ استعمالات المياه في الاغراض الزراعية استعمالات المياه في الاغراض المنزلية.
- ❖ التغذية من المياه الجوفية التغذية من المياه المحلاة.
- ❖ يبين الجدول نوعين من مصادر المياه التي تعتمد عليهما السلطنة هما و
- ❖ اين يذهب اعلى معدل استهلاك مائي بالسلطنة؟
- ❖ صنف التغذية المائية الى جوفية وبشرية.
- ❖ أي قطاعات الاستهلاك ستطراً عليها الزيادة بشكل ملحوظ حتى عام 2020م.
- ❖ ما السبب في تزايد معدلات العجز المائي؟ دلي بمثال من الجدول.
- ❖ احسبي العجز المائي المتوقع في سلطنة عمان عام 2020م.
- ❖ احسبي اجمالي التغذية المائية في عام 2000م.
- ❖ احسبي الفرق بين الاستعمالات الزراعية والاستعمالات المنزلية في عام 1995م.
- ❖ احسبي اجمالي الاستعمالات المنزلية في الفترة من (1990 - 2000 م).
- ❖ احسبي نسبة استهلاك المياه عام 1990م.
- ❖ اقترحي حولا للمحافظة على المياه في السلطنة.

9. امامك جدول يوضح انواع الأفلاج في سلطنة عمان. ادرسيه ثم اجيبي عن الأسئلة التالية:

نوع الفلج	حي	ميت
داودي	627	340
عيني	163
غيلي	1401	592
المجموع	3017	1095

مثل بالأعمدة البيانية الأفلاج الميتة في سلطنة عمان في الشكل الآتي:

العدد
600
550
500
450
400
350
300
250
200
150
100

ملتزمون بتحقيق رؤيتنا ، الإجابة في موادنا



ب. كم عدد الافلاج العينية الحية في سلطنة عمان؟

10. وضح اثنتين من البرامج والسياسات التي اتبعتها سلطنة عمان لإدارة موارد المياه.

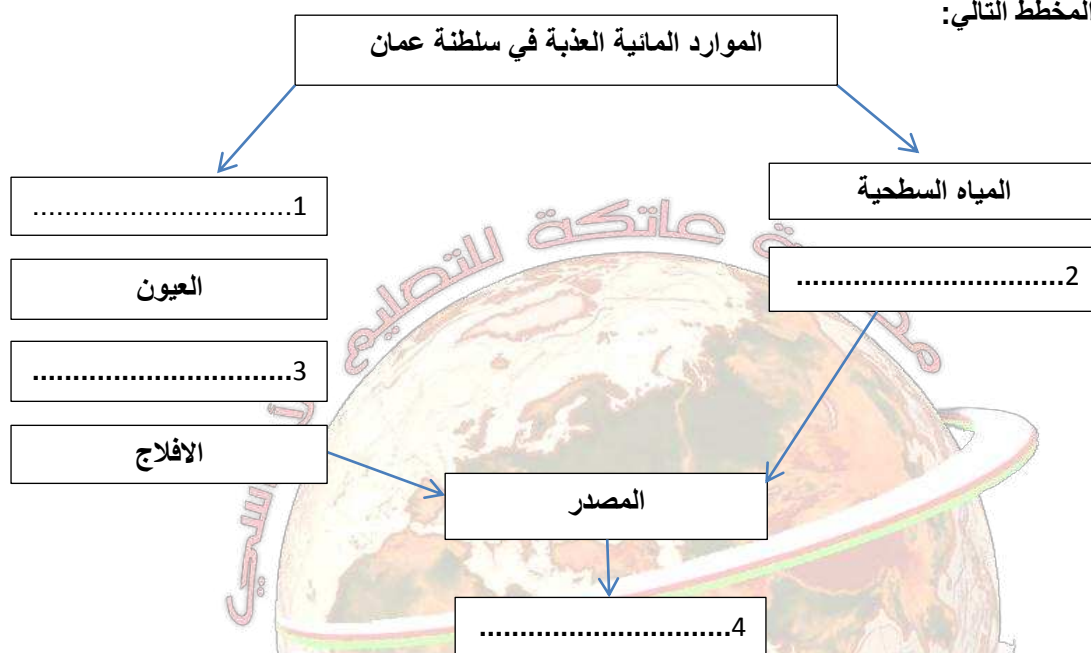
11. اذكر اربعا من الجوانب التي شملتها الرؤية الوطنية المستقبلية للموارد المائية بالسلطنة.

12. ما التحديات التي تواجه قطاع موارد المياه بالسلطنة؟

13. فرقي بين مفهومي المياه السطحية والمياه الجوفية.

14. صحي ما تحته خط (تم افتتاح أول محطة لتحلية مياه البحر عام 1975م في بركاء).

15. اكمل المخطط التالي:

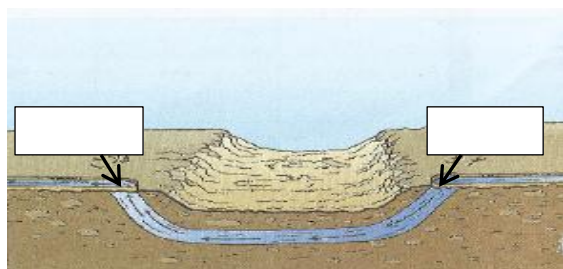


16. امامك مجموعة من اشكال الموارد المائية السطحية والجوفية . صنفها بكتابة رقم الصورة في الجدول في المكان المناسب:



المياه الجوفية	المياه السطحية

17. امامك صورة لطرق ادره العمانيين للمياه قديما . تأملها جيدا وأجيب عن الآتي:



- ❖ سمي النظام المائي الموضح في الصورة.
- ❖ بم عرف محليا بين العمانيين.
- ❖ استنتجي من الصورة فائدة استخدام هذا النظام.
- ❖ اكتب على الصورة اسمي البيئات الناقصة داخل المستطيل.

18. علي تركز الافلاج في شمال السلطنة واعتماد محافظة ظفار على العيون المائية.

19. اعط تعريفًا مناسبًا لمفهوم ادارة موارد المياه.

20. امامك مجموعة من الصور التي تشير الى ادارة العمانيين للمياه قديما رتبها من الاقدم الى الاحدث بوضع الرقم في المكان المناسب في الدول:

الصورة	المرحلة
	
	
	
	

21. ناقشي مشكلة الوضع المائي في السلطنة بأسلوب البحث العلمي:

قال تعالى: (وجعلنا من الماء كل شيء حي)
صدق الله العظيم

موقع السلطنة في العروض المناخية الجافة وشبه الجافة ويترتب عليها:

- أ. الجفاف.
- ب. قلة سقوط الأمطار او انقطاعها.
- ت. ارتفاع درجات الحرارة.
- ث. زيادة معدلات التبخر.

ثانيا: العوامل البشرية:

- التوسع العمراني.
- زيادة عدد السكان.
- المشروعات التنموية.
- زيادة معدلات الاستهلاك والإسراف في استخدام المياه.

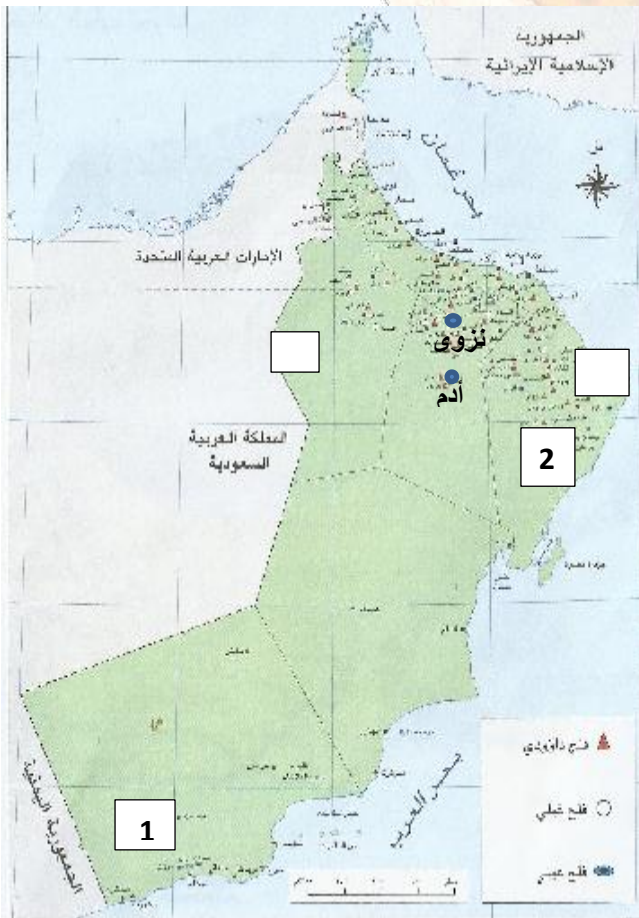
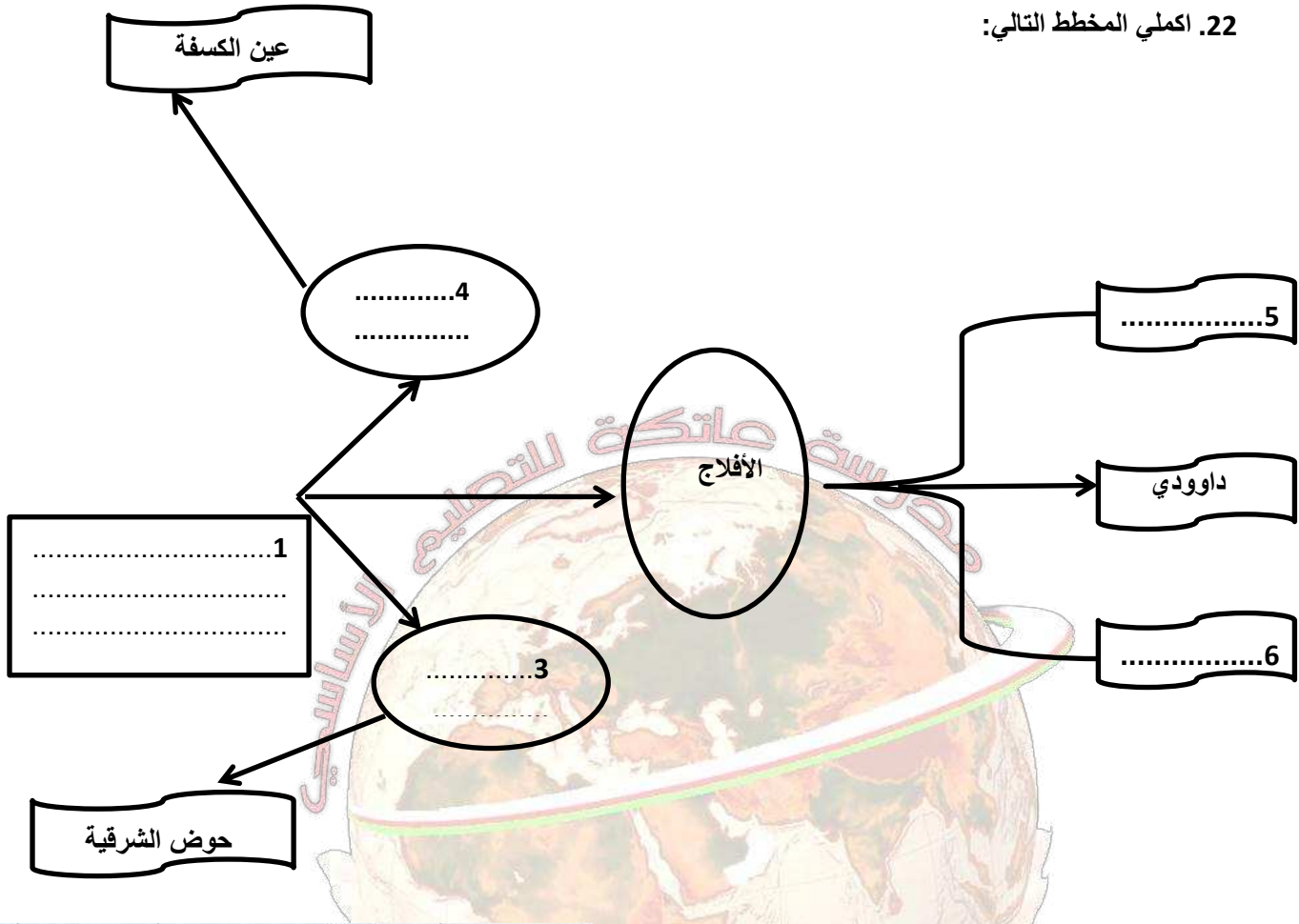
• فرض الحلول:

- ✓ تحلية مياه البحر رغم الكلفة العالية.
- ✓ مياه الصرف الصحي المعالجة.
- ✓ ادارة موارد المياه ويشمل:

- سن القوانين المتعلقة بالمياه وحماية مواردها.
- المشروع الوطني لحصر الآبار.
- مشروع حصر الأفلاج وحمايتها من الاندثار.
- انشاء السدود.
- البحث عن احواض مائية جديدة.
- تفعيل وسائل الاعلام من خلال البرامج الداعمة لترشيد استهلاك المياه.
- تنمية حس المواطن بأهمية المياه وضرورة المحافظة عليها.

• الحل الأمثل: تدبر قول الله تعالى (وجعلنا من الماء كل شيء حي) لإدراك اهمية المحافظة على المياه.

22. اكمل المخطط التالي:



امامك خريطة لسلطنة عمان ادرسيها جيدا واجيبي عن الآتي:

1. ضعي عنوانا مناسباً للخريطة.
2. سمي المورد المائي الذي تعتمد عليها المحافظة المشار إليها بالرقم (1).
3. ايهما اوسع انتشارا الافلاج الغيلية ام الافلاج العينية.
4. كم عدد الافلاج الداوودية في محافظة الوسطى؟
5. اكتب على الخريطة المحافظة التي توجد بها اكبر محطات التحلية بالسلطنة.
6. ظللي على الخريطة المحافظة التي توجد بها اقدم محطات التحلية بالسلطنة.
7. ما المشكلة البيئية التي تعاني منها المحافظة المشار إليها بالرقم (2).
8. ضعي الرمز (س) في المكان المناسب على الخريطة والذي اشتهر بصناعة السفن زمن السيد سعيد بن سلطان.
9. ضعي دائرة على الخريطة حول الولاية التي يوجد بها جامع سعال الذي بني سنة (8) هجرية.
10. ارسعي مستطيلا على الخريطة يحيط بالمدينة التي كان احمد بن سعيد واليا عليها.

23. امامك جدول لطرق ادارة العمانيين للمياه قديما ، اكمل كتابه البيانات الناقصة:

الطريقة	الاستخدام
.....	استخراج المياه من الآبار اليدوية المفتوحة.
.....	تمكين قنوات الأفلاج من عبور مجاري الأودية.

24. ادري الخريطة التي امامك واجيبي عن الآتي:

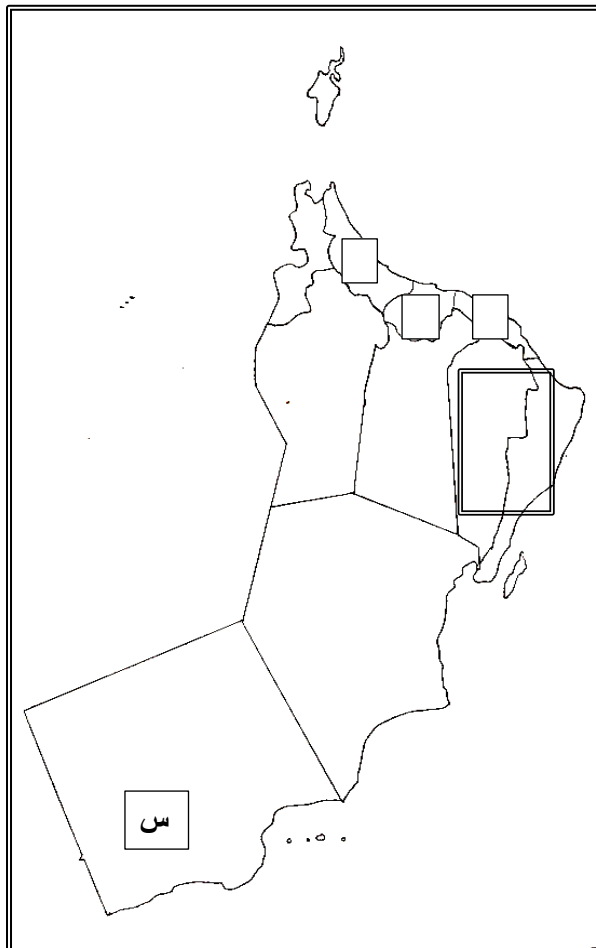
أ. اكتب رقم كل عبارة في المربع على الخريطة:

1. المحافظة التي تقع فيها اقدم محطات التحلية.
2. المحافظة التي تقع فيها اكبر محطات التحلية.

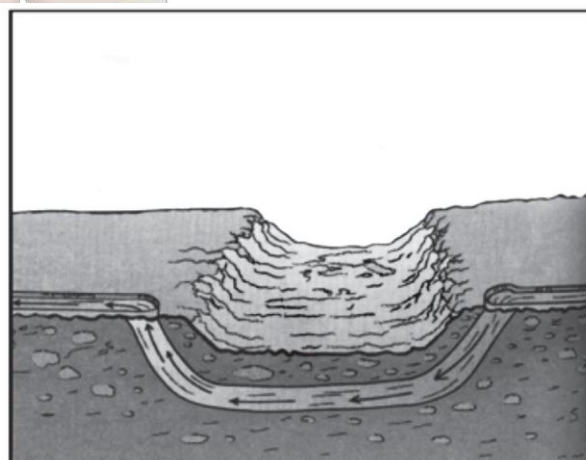

ب. سمي المورد المائي الجوفي الذي تعتمد عليه المحافظة المشار اليها بالرمز (س) على الخريطة.

ت. ظللي المحافظة التي يوجد بها حوض المسرات.

ث. سمي الحوض المائي في المحافظة المحاطة بمستطيل على الخريطة.



1. امامك صورتان مرتبطتان بنظام هندسة الأفلاج عند العمانيين قديما ادرسهما، ثم قارن بينهما وفق الجدول التالي:



الصورة (2)	الصورة (1)	وجه المقارنة
		اسم الطريقة
		الهدف منها

الوحدة الثالثة : الشباب العماني ... بين المواطنة والعولمة.

عنوان الدرس : الشباب العماني بين التنشئة الاجتماعية والمتغيرات الدولية.

السؤال الاول: ظللي الرمز المقترن بالإجابة الصحيحة من بين البدائل المعطاة:

1. البرامج التي تعتبر الاكثر فاعلية في عملية التنشئة الاجتماعية:
 - أ. الرياضية
 - ب. التعليمية
 - ج. الاعلامية
 - د. الدينية
2. أكثر المؤسسات فاعلية في التنشئة الاجتماعية:
 - أ. الاسرة والاعلام
 - ب. المدرسة والاعلام
 - ج. الاسرة والمدرسة
 - د. الاقران والاعلام
3. المؤسسة التي تسهم بدور مبكر في التنشئة الاجتماعية:
 - أ. الاسرة
 - ب. الاعلام
 - ج. المسجد
 - د. الاقران
4. تعد محورا اساسيا للعمليات الاجتماعية بسبب دورها المبكر والمتواصل في التنشئة الاجتماعية:
 - أ. المدرسة
 - ب. الاعلام
 - ج. الاسرة
 - د. المؤسسات الدينية
5. أكثر مؤسسات التنشئة الاجتماعية تأثيرا في تقوية الجانب الوجداني عند الشباب:
 - أ. وسائل الاتصال
 - ب. المؤسسات التعليمية
 - ج. المؤسسات الدينية
 - د. جماعة الاقران
6. تعرف الاستجابة الواعية للتوجهات الفكرية والثقافية والحضارية الداعية للتجديد في جوانب الحياة ب:
 - أ. الحداثة
 - ب. العولمة
 - ج. المعلوماتية
 - د. ما بعد العولمة
7. أكثر ظواهر العولمة وضوحا للمراقبين العولمة:
 - أ. السياسية
 - ب. الاجتماعية
 - ج. الثقافية
 - د. الاقتصادية
8. من النتائج المترتبة على ظاهرة الحداثة تزايد:
 - أ. الامام بالقيم المحلية
 - ب. الوعي بالقيم العالمية
 - ج. دور المنظمات الحكومية
 - د. قيود التعبير عن الرأي
9. ارتبطت العولمة الاقتصادية لدى المراقبين ب:
 - أ. تزايد دور القطاع الخاص
 - ب. تناقص دور منظمة التجارة العالمية
 - ج. تزايد دور القطاع الحكومي
 - د. تناقص القيم المادية
10. من المتغيرات العالمية التي ستمكن في السنوات القادمة من بناء جيل جديد يعرف ب عصر (ما بعد العولمة):
 - أ. المعلوماتية
 - ب. العولمة الاقتصادية
 - ج. الحداثة
 - د. العولمة السياسية
11. انتهج العمانيون التيار الثابت في التعامل مع العولمة وبه تفاعلوا مع اليونان في مجال:
 - أ. العلوم
 - ب. الارقام
 - ج. الفنون
 - د. العمران
12. انتهج العمانيون التيار الثابت في التعامل مع العولمة وبه تفاعلوا مع الهنود في مجال:
 - أ. العلوم
 - ب. الارقام
 - ج. الفنون
 - د. العمران
13. انتهج العمانيون التيار الثابت في التعامل مع العولمة وبه تفاعلوا مع الافارقة في مجال:
 - أ. العلوم
 - ب. الارقام
 - ج. الفنون
 - د. العمران
14. تحتل ظاهرة الحداثة في ترتيب المتغيرات العالمية المرحلة:
 - أ. الاولى
 - ب. الثانية
 - ج. الثالثة
 - د. الرابعة
15. تسمى مؤسسة التنشئة الاجتماعية في الصورة التي امامك ب:
 - أ. المدرسة
 - ب. الاعلام
 - ث. الاسرة
 - د. المؤسسة الدينية



16. الصورة التي امامك تدل على أكثر مؤسسات التنشئة الاجتماعية تأثيرا في الجانب الوجداني عند الشباب وهي:



- أ. المؤسسة التعليمية
- ب. الأندية الرياضية
- ج. الاعلام
- د. المؤسسة الدينية



17. تمثل الصورة أكثر الجماعات تأثيراً في سلوكيات الشباب للتفاعل الدائم بينها وتعرف بـ:


- أ. المؤسسة التعليمية
ب. الأندية الرياضية
ج. جماعة الأقران
د. المؤسسة الدينية



18. المؤسسة في الصورة التي أمامك تسهم بدور مبكر في التنشئة الاجتماعية وتعرف بـ:

- أ. المدرسة
ب. الإعلام
ج. الأسرة
د. المؤسسة الدينية

19. أسهمت الصورة التي أمامك في تحويل العالم إلى قرية كونية صغيرة وتسمى بـ:



- أ. المؤسسة التعليمية
ب. الأندية الرياضية
ج. وسائل الاتصال
د. المؤسسة الدينية

20. تلعب المؤسسة في الصورة التي أمامك دوراً بارزاً في التنشئة الاجتماعية لاسيما للدارسين والعاملين فيها:



- أ. المؤسسة التعليمية
ب. الأندية الرياضية
ج. منظمات العمل التطوعي
د. المؤسسة الدينية

21. المصطلح الذي يطلق على الاستجابة الواعية للتوجهات الفكرية والثقافية والحضارية التي تدعو إلى التجديد والتغيير:

- أ. المعلوماتية
ب. الحدثة
ج. العولمة
د. المواطنة

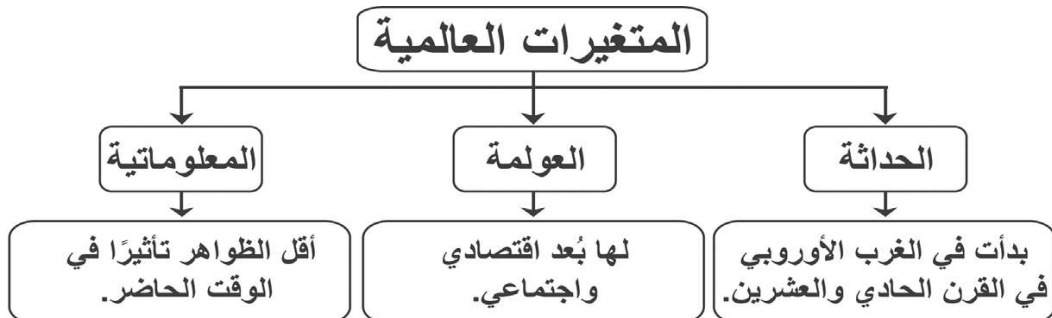
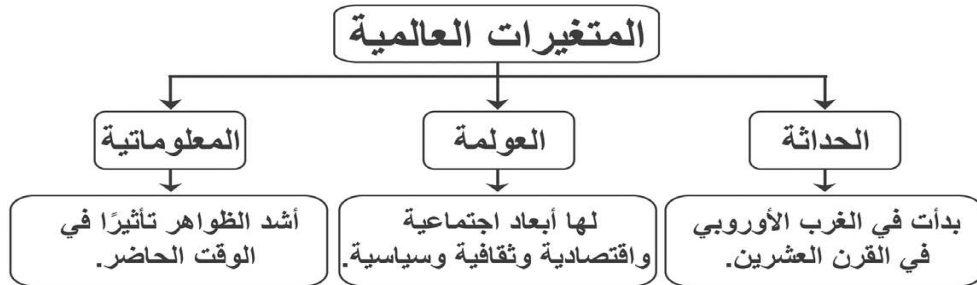
22. تعد أكثر مؤسسات التنشئة الاجتماعية تأثيراً وفاعلية لاسيما في المراحل العمرية الأولى:

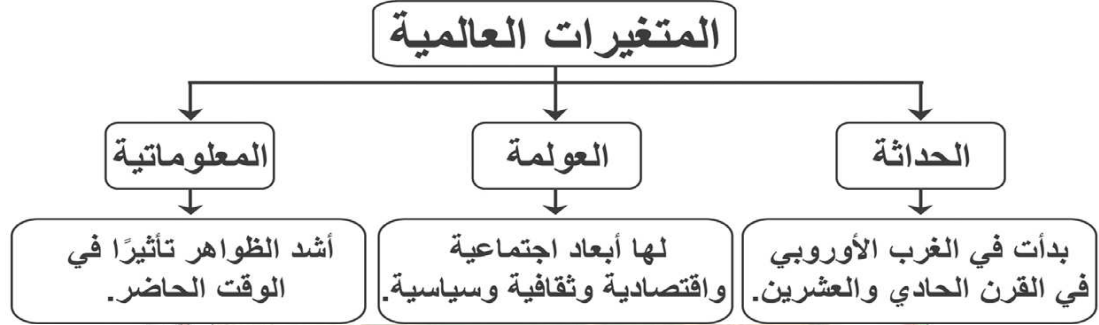
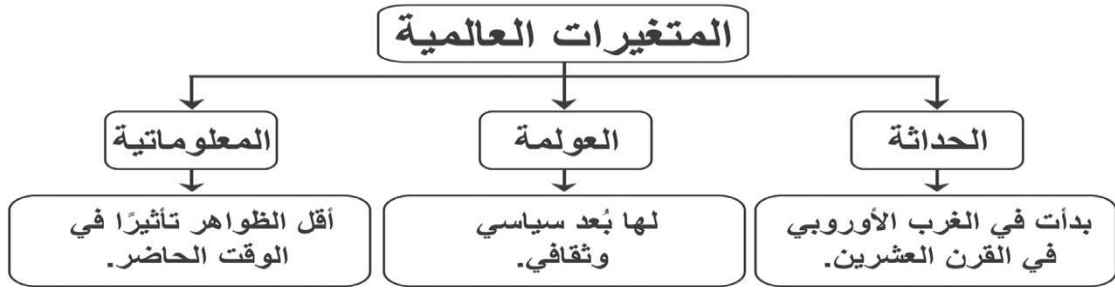
- أ. الأسرة والمدرسة
ب. الأقران والمدرسة
ج. الأسرة والإعلام
د. الأقران والإعلام

23. المصطلح الذي يرتبط بتمسك الفرد بهويته وقيمه وثقافتها:

- أ. المواطنة
ب. العولمة
ج. المعلوماتية
د. الحدثة

24. الشكل الصحيح الذي يعبر عن المتغيرات العالمية:





السؤال الثاني:

1. عرف مفهوم التنشئة الاجتماعية.

2. علي تقلص وظائف الاسرة تربويا في الوقت الحاضر.

3. اذكر اوجه الدعم الذي تقدمه الحكومة للأسرة العمانية.

4. وضح تأثير وسائل الاعلام والاتصال على الشباب.

5. علل حدوث عملية تشويش للثقافة الوطنية اثناء التنشئة الاجتماعية.

6. قارن بين المؤسسات الدينية والتعليمية من حيث:

المؤسسات التعليمية	المؤسسات الدينية	وجه المقارنة دورها في التنشئة الاجتماعية

7. كيف تقوم المؤسسات التعليمية بتطوير أدائها لخدمة التنشئة الاجتماعية والثقافية للشباب؟

8. علي تمثل جماعة الاقران دورا مهما في تشكيل العديد من السلوكيات لدى فئة الشباب.

9. علي اهتمام الدولة بالتنشئة الاجتماعية السليمة للشباب.

10. (يترتب على الاهتمام بالتنشئة الاجتماعية السليمة للشباب بناء جيل قادر على خدمة مجتمعه) حللي العبارة السابقة موضحا الدور الاجتماعي الذي يمثله الشباب.

	الحدثة
	المعلوماتية
	العولمة



11. اعط تعريفًا مناسبًا لكل من:

12. اكمل الجدول التالي:

أفريقيا	اليونان	الدولة / القارة
	الارقام والأشجار		مجال تأثر السلطنة

13. امامك مجموعة من الصور التي تمثل مؤسسات التنشئة الاجتماعية بالسلطنة. صنفها في الجدول في المكان المناسب

بكتابة رقم الصورة:



الرقم	المؤسسة
	الاسرة
	الاعلام ووسائل الاتصال
	المؤسسات التعليمية
	المؤسسة الدينية
	الأندية الرياضية ومنظمات العمل التطوعي
	جماعة الأقران



14. وضح دور الشباب العماني في التعامل مع المتغيرات العالمية في ظل العولمة. موادنا

15. (تعتبر ظاهرة العولمة من المتغيرات العالمية التي تشهدها الساحة الدولية اليوم) في ضوء العبارة السابقة اجب عن

الأسئلة التالية:

أ. ماذا يقصد بظاهرة العولمة؟

ب. أي شكل من أشكال العولمة أكثر وضوحاً برأي المراقبين في العالم اليوم.

16. اكتب المصطلح او المفهوم (المنظومة المعرفية المتجددة التي ترتبط بكافة اشكال المعرفة وآخر الانجازات التقنية في الثورة

التكنولوجية)

17. (تعددت الآراء حول ظاهرة العولمة وما جاءت به وظهرت تيارات ثلاثة حول ذلك) في ضوء العبارة اجيبي عن:

أ. عدد التيارات الثلاثة.

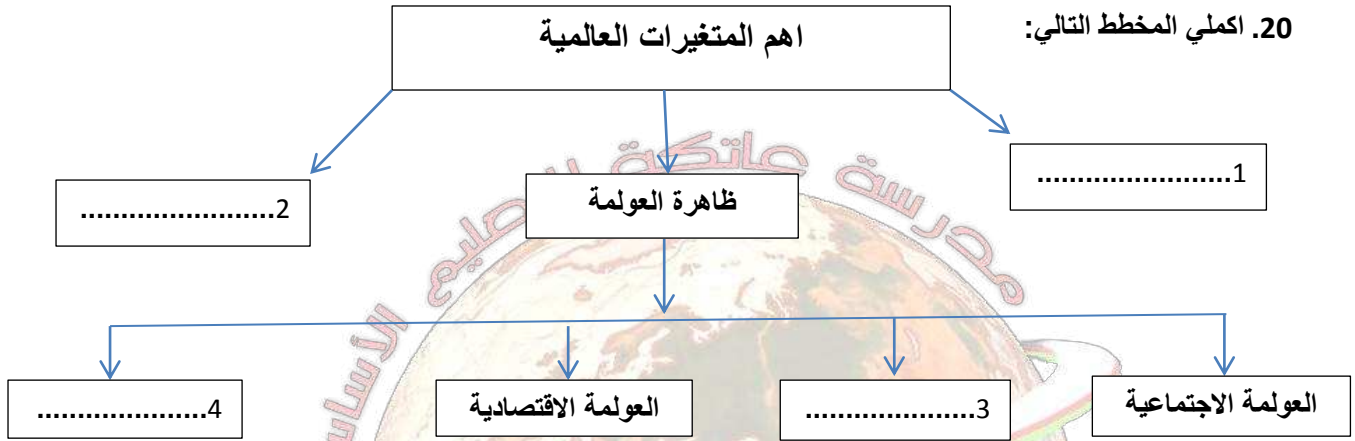
مدرسة عاتكة للتعليم الاساسي

اعداد الاستاذة نعيمة البريكية

ب. أي التيارات الثلاثة انتهج العمانيون؟ وكيف تم ذلك؟

18. (انتهج العمانيون التيار الثابت الذي يدعو الى الاخذ بالإيجابيات مع الحفاظ على الموروث الثقافي) اثبت صحة العبارة.

19. اعط مثالين للحضارات التي تواصل معها العمانيون.



21. بما تفسر:

أ . حدوث عملية تشويش للثقافة الوطنية أثناء التنشئة الاجتماعية؟

22. الوظائف التربوية والاقتصادية والثقافية والتشريعية للأسرة في الوقت الحاضر:

ظلل الإجابة الصحيحة

- . تقلصت .

أ . - . تعاضت

ب . فسر إجابتك:

23. عدد اثنين من:

أ . الأنشطة التي تقوم بها المؤسسات الدينية في عملية التنشئة الاجتماعية.

ب . آثار الظواهر العالمية على قطاع الشباب.

السؤال الثالث:

1. امامك خريطة للعالم . ادريها جيدا واجيبي الآتي:

✓ سمي الدولة الاوروبية التي استفاد

العمانيون من علومها.

✓ ضعي الرمز (س) في المربع المناسب

على الخريطة والذي يشير الى الدولة التي

اخذ العمانيون منها ارقامها.

✓ ظلي على الخريطة القارة التي اخذ

العمانيون منها فنونها.

✓ ما الظاهرة العالمية التي ظهرت في بدايتها

في المنطقة المحاطة بمربع على الخريطة

وانعكست آثارها على الشباب.



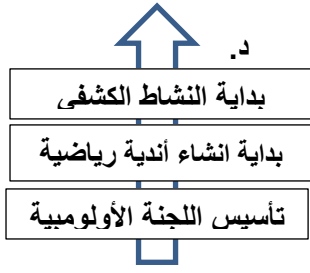
الوحدة الثالثة : الشباب العماني ... بين المواطنة والعولمة.

عنوان الدرس : الشباب بين الدعم والرعاية ورفع اسم عمان بجدارة.

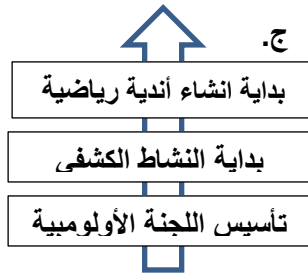
السؤال الاول: ظللي الرمز المقترن بالإجابة الصحيحة من بين البدائل المعطاة:

1. بلغ عدد الاندية الرياضية عند بداية انشائها عام 1975م:
 - أ. 35
 - ب. 38
 - ج. 45
 - د. 48
2. وصل عدد الاندية الرياضية عام 1980م:
 - أ. 35
 - ب. 38
 - ج. 45
 - د. 48
3. خصص عام 1983م في السلطنة عاما:
 - أ. للصناعة
 - ب. للزراعة
 - ج. للشباب
 - د. للشبيبة
4. حرصت القيادة العمانية على صقل مواهب الشباب ومهاراتهم فخصصت عاما للشبيبة العمانية سنة:
 - أ. 1981
 - ب. 1982
 - ج. 1983
 - د. 1984
5. بدأت عمليات المسح والاحصاء للأنشطة الشبابية في العام الميلادي:
 - أ. 1981
 - ب. 1989
 - ج. 1991
 - د. 1999
6. تم تأسيس اللجنة الاولمبية العمانية عام :
 - أ. 1980
 - ب. 1981
 - ج. 1982
 - د. 1983
7. يعد عام 1980م عاما مهما في مسيرة الرعاية الشبابية في سلطنة عمان لارتباطها ب:
 - أ. بداية المشاركات الخارجية للأندية
 - ب. عام الشبيبة العمانية
 - ج. تأسيس المجلس الاعلى للشباب
 - د. تأسيس اللجنة الاولمبية
8. حصل المنتخب العماني لكرة القدم على المركز الثاني عام 2004م في خليجي:
 - أ. 14
 - ب. 15
 - ج. 16
 - د. 17
9. المركز الذي حققه منتخب الناشئين لكرة القدم في كأس العالم عام 1995م:
 - أ. الثاني
 - ب. الثالث
 - ج. الرابع
 - د. الخامس
10. سفينة عمانية تعد رحلتها فكرة وطنية لإحياء التراث البحري ونشر الوعي والمعرفة عن عمان:
 - أ. الرحماني
 - ب. سلطنة
 - ج. جوهرة مسقط
 - د. شباب عمان
11. السفينة العمانية التي شاركت في الاحتفال بمرور 100 عام على تمثال الحرية بمدينة نيويورك :
 - أ. شباب عمان
 - ب. فلك السلامة
 - ج. فتح الخير
 - د. جوهرة مسقط
12. استطاعت سفينة شباب عمان توصيل رسالتها من خلال تواصلها العالمي وزيارتها عام 1988م:
 - أ. الولايات المتحدة
 - ب. استراليا
 - ج. بريطانيا
 - د. فرنسا
13. شاركت سلطنة عمان عام 1986م في الاحتفال بمرور 100 عام على تمثال الحرية بمدينة:
 - أ. باريس
 - ب. لندن
 - ج. برلين
 - د. نيويورك
14. تعود بدايات النشاط الكشفي للشباب العماني الى العام الميلادي:
 - أ. 1932
 - ب. 1942
 - ج. 1952
 - د. 1962
15. الدولة العربية التي استضافت جولة دول مجلس التعاون الخليجي عام 2004م:
 - أ. مصر
 - ب. الامارات
 - ج. سلطنة عمان
 - د. قطر
16. شاركت سلطنة عمان في أنشطة المنظمة الكشفية العربية سنة 2004م مع دولة:
 - أ. مصر
 - ب. الامارات
 - ج. المغرب
 - د. قطر
17. المدينة العربية التي استضافت جولة دول مجلس التعاون الخليجي عام 2004م:
 - أ. القاهرة
 - ب. ابوظبي
 - ج. مسقط
 - د. الدوحة
18. المدينة العربية التي شاركت سلطنة عمان في أنشطة المنظمة الكشفية العربية سنة 2004م هي:
 - أ. القاهرة
 - ب. ابوظبي
 - ج. مسقط
 - د. الدوحة
19. يصل عدد الفرق الكشفية والارشادية في الهيئة القومية للكشافة والمرشدات:
 - أ. 19
 - ب. 18
 - ج. 17
 - د. 16

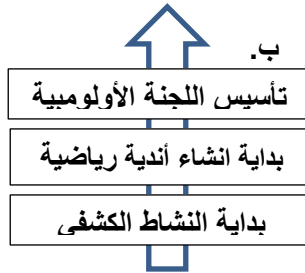
د. 840



ج. 830



ب. 820



أ. 810



20. الترتيب الزمني من الأقدم الى الأحدث للمراحل الأساسية لرعاية الشباب العماني :

21. تمثل الصورة التي امامك الصورة الفائزة بالميدالية الفضية على مستوى العالم في العام الميلادي:



ب. 2002

أ. 2000

د. 2006

ب. 2004

22. الدولة التي استضافت نهائيات بطولة كأس العالم لكرة القدم للناشئين عام 1995م:

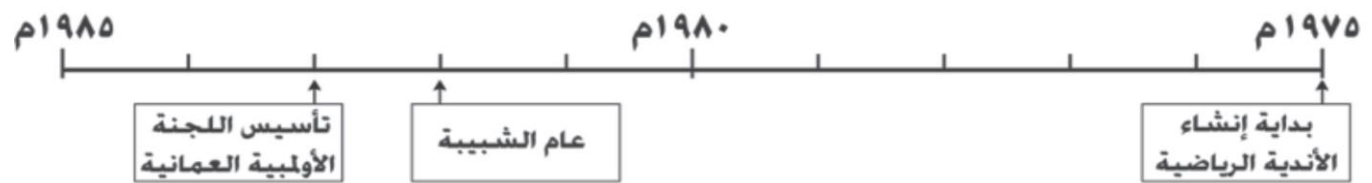
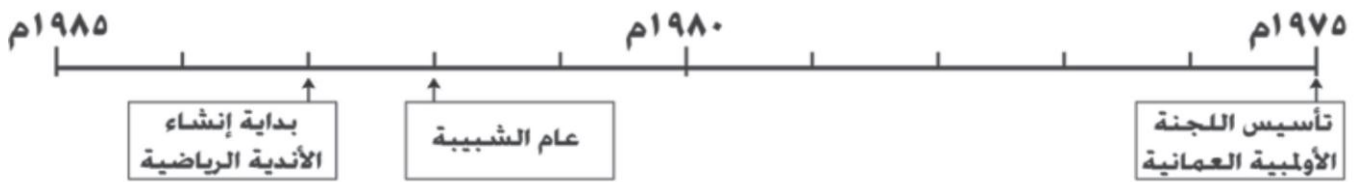
د. اسبانيا

ج. البرازيل

ب. الإكوادور

أ. ألمانيا

23. المسطرة الزمنية التي تشير إلى التسلسل الصحيح للأحداث في مجال الرعاية الشبابية بسلطنة عُمان:



السؤال الثاني :

1. رتبي بوضع الرقم المناسب في المكان الصحيح من الأقدم الى الأحدث:
 - تخصيص عاماً للشبيبة العمانية () .
 - بداية انشاء الأندية الشبابية () .
 - تأسيس المجلس الأعلى للشباب والرياضة () .
 - بدء عمليات المسح والاحصاء للأنشطة الشبابية () .

2. رتبي بوضع الرقم المناسب في المكان الصحيح من الأقدم الى الأحدث:
 - ❖ فوز منتخب الناشئين بالمركز الرابع في الاكوادور () .
 - ❖ بداية النشاط الكشفي للشباب العماني () .
 - ❖ بداية المشاركات الخارجية للأندية العمانية () .
 - ❖ تأسيس اللجنة الأولمبية العمانية () .

3. علي يعتبر عام 1982م عاماً مهماً في مسيرة الرعاية الشبابية.

4. أمامك صورة لسفينة عمانية . تأملها جيداً وأجبني عن الآتي:



- ✓ سم السفينة الموضحة في الصورة.
- ✓ أذكرني اثنين من مشاركتها.

5. (تهدف الحركة الكشفية الى تنمية الشباب جسدياً وعقلياً ووجدانياً واجتماعياً) دلي على هذه العبارة من خلال دراستك لأهداف الحركة الكشفية.

6. عط اثنين من الأدوار التي تلعبها الرحلات البحرية الدولية.

7. اعط تعريفاً مناسباً لمفهوم الحركة الكشفية.

8. اكمل البيانات المرتبطة بالمسطرة الزمنية للمراحل التي وضعتها السلطنة لرعاية الشباب من خلال كتابة العام الميلادي.

فوز منتخب الناشئين بالمركز الرابع في الاكوادور.	مشاركة سفينة شباب عمان احتفالات استراليا.	بدء عمليات المسح والاحصاء للأنشطة الشبابية.	بداية انشاء الأندية الرياضية.
---	---	---	-------------------------------

9. وضح أهمية الرعاية الوطنية للشباب العماني المتمثلة في تنظيم الرحلات الداخلية والخارجية.

10. وضح دور سفينة شباب عمان في بناء جسور الصداقة والسلام مع دول العالم.

11. دلي باثنين على الدور المحلي للكشافة والمرشدات في سلطنة عمان.

12. دلي على تعاون وزارتي الشؤون الرياضية والتراث والثقافة في رعاية الشباب.

13. صحي ما تحته خط: (قامت سفينة فلك السلامة بزيارة استراليا عام 1988م.

14. اكمل البيانات المرتبطة بالمسطرة الزمنية للمراحل التي وضعتها السلطنة لرعاية الشباب من خلال كتابة العام الميلادي.

استضافت السلطنة لجماعة دول مجلس التعاون الخليجي.	انشاء المجلس الاعلى للشباب والرياضة.	بداية المشاركات الخارجية للأندية الرياضية.	بداية النشاط الكشفي في السلطنة.
--	--------------------------------------	--	---------------------------------

15. اكمل المخطط التالي:



16. الصورة التي امامك مشاركة من احدى السفن العمانية لبناء جسور الصداقة والسلام بين دول العالم. تأملها جيدا واجيبي عن الآتي:



- ما اسم السفينة العمانية التي قامت بهذا الدور؟
- ما الدولة التي شاركتها احتفالاتها عام 1988م وتعتبر عنها الصورة؟
- برأيك ما أهمية هذا النوع من المشاركات؟
- الميناء الذي وصلت اليه السفينة من خلال الصورة هو:

- لندن
- سيدني
- نيويورك
- امستردام

تخيري الصواب بوضع دائرة حول الصحيح منها.

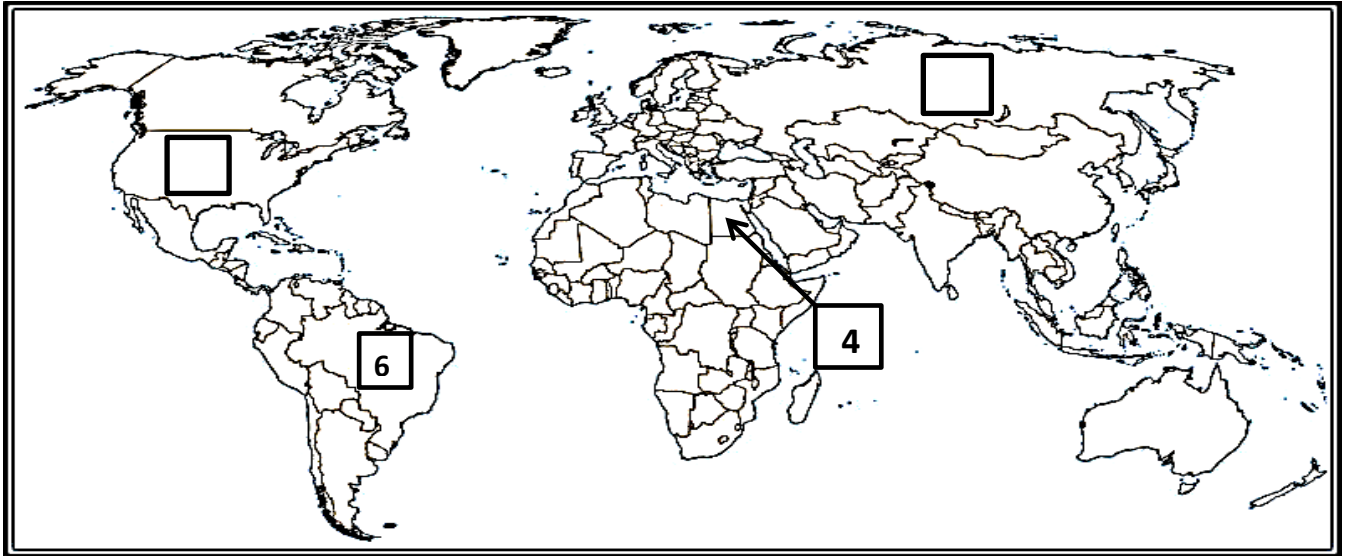
17. " نال النشاط الكشفي في سلطنة عُمان رعايةً واهتماماً واضحاً منذ بداية النهضة المباركة."

في ضوء هذه العبارة أجب عن الأسئلة الآتية:

أ. عرّف الحركة الكشفية.

ب. أذكر اثنين من الأهداف التي تسعى لتحقيقها الهيئة القومية للكشافة والمرشدات بالسلطنة.

1. امامك خريطة للعالم . ادرسيها جيدا واجيبي عن الآتي :



- سمي القارة التي تقع فيها الاكوادور والتي حصل فيها منتخب الناشئين لكرة القدم المركز الرابع عام 1995م.
- ضعي الرمز (س) على الخريطة في المربع المناسب والذي يشير الى مشاركة السلطنة احتفالهم بمرور 100 عام على تمثال الحرية.
- استخرجي رقم الدولة التي شاركت معها السلطنة في أنشطة المنظمة الكشفية العربية سنة 2004م.
- ظللي على الخريطة الدولة التي استضافت جولة مجلس التعاون الخليجي عام 2004م.
- ما الدولتان الاوروبيتان اللتان وصلت اليهما رحلات سفينة شباب عمان من خلال دراستك للموضوع في الكتاب المدرسي.
- اكتبني على الخريطة اسم الدولة التي شاركت معها سفينة شباب عمان عام 1988م.

ملتزمون بتحقيق رؤيتنا , الإجابة في موادنا

الوحدة الثالثة :الشباب العماني ... بين المواطنة والعولمة.

عنوان الدرس : الشباب من الإعداد العلمي والعمل الى تلبية النداء الوطني.

السؤال الاول: ظللي الرمز المقترن بالإجابة الصحيحة من بين البدائل المعطاة:

1. أنشأ العمانيون عام 2001م برنامج لتدريب الشباب ودفعهم نحو القطاع الخاص هو:
 - أ. سند
 - ب. انطلاقة
 - ج. الطيف
 - د. روافد
2. أهم أهداف برنامج انطلاقة التوجه نحو العمال:
 - أ. الحكومية
 - ب. التطوعية
 - ج. الخيرية
 - د. الحرة
3. يهدف برنامج انطلاقة لتشجيع الشباب العماني للتوجه نحو:
 - أ. التعليم العالي
 - ب. العمل الحر
 - ج. المشاركة الاجتماعية
 - د. العمل الحكومي
4. استضافت سلطنة عمان عام 2006م مؤتمر عمان الدولي للسياحة:
 - أ. الدينية
 - ب. البيئية
 - ج. العلاجية
 - د. التاريخية
5. استضافت سلطنة عمان مؤتمر عمان الدولي للسياحة البيئية في العام الميلادي:
 - أ. 2002
 - ب. 2004
 - ج. 2006
 - د. 2008
6. أول دولة عربية أسست مجلسا خاصا لحماية البيئة ومكافحة التلوث:
 - أ. عمان
 - ب. الكويت
 - ج. البحرين
 - د. قطر
7. أنشأ برنامج انطلاقة في العام الميلادي:
 - أ. 2000
 - ب. 2001
 - ج. 2002
 - د. 2003
8. المحافظة التي تأتي في المرتبة الأخيرة من حيث عدد المشاريع الممولة من برنامج سند:
 - أ. مسقط
 - ب. مسندم
 - ج. الشرقية
 - د. ظفار

السؤال الثاني:

1. اذكر المسارات التي تتوافر في الساحة الوطنية لتحديد الخيارات المستقبلية للشباب العماني.
2. حدد الدور الذي تقوم به الجامعة لتنمية الشباب.
3. وضح دور مؤسسات التعليم العالي في دعم استراتيجيات التنمية الشاملة للشباب.
4. بيني أهداف حكومة سلطنة عمان من انشاء برنامج انطلاقة عام 2001م.
5. بالاستعانة بالجدول رقم (4) في الكتاب المدرسي صفحة (118) . استنتج حقيقة جغرافية عن محافظة مسندم.
6. عرفي برنامج انطلاقة.
7. ما اشكال الدعم التي يقدمها برنامج انطلاقة للشباب؟
8. ما ابرز أشكال المشاركة الاجتماعية للشباب في الأنشطة الاجتماعية للشباب.
9. ابحثي عن مجالات استثمار بيئية ناجحة من البيئة المحلية.
10. وضح دور الشباب خلال مراحل دراستهم لحماية بيئتهم مستفيدين من المهارات التي تم اكسابهم اياها في مؤسساتهم التعليمية.

11. عددي جهود المؤسسات التعليمية والتربوية في ضوء التطورات العالمية لاسيما للدارسين فيها.

12. اذكر الادوار التي يقوم بها الشباب العماني للمشاركة في حماية بيئتهم أثناء مراحل دراستهم.

13. اذكر الادوار التي يقوم بها الشباب العماني للمشاركة في حماية بيئتهم بعد الانتهاء من دراستهم.

14. اذكر اثنين من الشروط التي تساعد الشباب للاستمرار في مواصلة الدراسة والتعمق في التخصص.

15. دلي باثنين لتشجيع حكومة سلطنة عمان للتوجه نحو الأعمال الحرة.

المحافظة	عدد المشاريع	التوزيع النسبي (%)
مسقط	147	28.2
الباطنة	116	22.4
الداخلية	65	12.5
الشرقية	126	24.6
الظاهرة	38	7.3
ظفار	20	3.9
مسندم	3	0.6
الوسطى	7	0.5

16. ادرسي الجدول الذي امامك واجيبي عن الأسئلة التالية:

- ضعي عنوانا مناسباً للجدول.
- ما المحافظة التي تحتل اكبر عدد من المشاريع الممولة.
- ما المحافظة التي تحتل اقل عدد من المشاريع الممولة.
- رتبي المحافظات التالية ترتيباً تنازلياً من حيث عدد المشاريع (ظفار - الشرقية - الباطنة - الظاهرة).

ج. احسبي اجمالي عدد المشاريع الممولة من البرنامج.

ح. احسبي الفرق بين محافظتي مسقط والداخلية من حيث عدد المشاريع الممولة.

خ. يهدف البرنامج الى توجيه الشباب العماني نحو :

- التعليم العالي.
- العمل الحر.
- المشاركة الاجتماعية.
- العمل الحكومي.

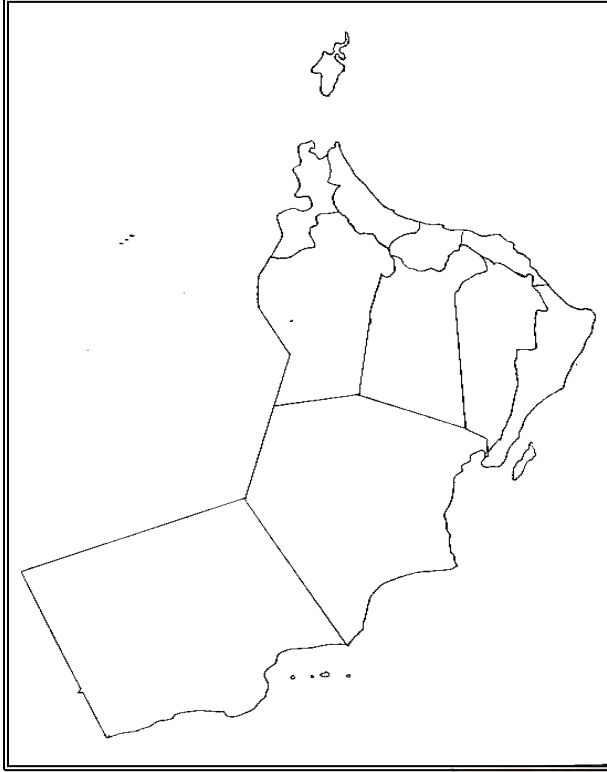
تخييري الصواب بوضع دائرة حول الإجابة الصحيحة.

1. ادرسي الجدول الآتي الذي يمثل التوزيع الجغرافي للمشاريع التي تمت الموافقة على تمويلها في برنامج سند. ثم أجب عن الأسئلة التي تليه:

المحافظة	عدد المشاريع	المبالغ المعتمدة (ر . ع)
مسقط	147	676640
الباطنة ش / ج	116	546130
الداخلية	65	206404
الشرقية ش / ج	126	571934
الظاهرة / البريمي	38	176861
ظفار	20	72536
مسندم	3	12000
الوسطى	7	16275
المجموع	522	2378780

- أ . ما المحافظة التي تأتي في المرتبة الرابعة من حيث المبالغ المعتمدة للمشاريع؟
ب . استنتج العلاقة بين المبالغ المعتمدة وعدد المشاريع.
ج . استخلص حقيقة تتعلق بمشاريع برنامج سند بمحافظة الوسطى.

17. سمّ المصطلح الدال على العبارات الآتية:
أ . برنامج يهدف لتشجيع الشباب العماني نحو الأعمال الحرة أنشئ عام 2001 م.



18. ادري الخريطة التالية واجيبي عن الآتي:

- أ . وقي على الخريطة المحافظة التي تأتي في المرتبة الأولى من حيث عدد المشاريع المعتمدة في برنامج سند.
ب . ظللي المحافظة التي تحتل المرتبة الرابعة من حيث عدد المشاريع الممولة من برنامج سند.
ت . ما المحافظة التي تحتل المرتبة الأخيرة من حيث عدد المشاريع الممولة من برنامج سند.

ملتزمون بتحقيق رؤيتنا , الإجابة في موادنا

