

تم تحميل هذا الملف من موقع المناهج العُمانية



*للحصول على أوراق عمل لجميع الصفوف وجميع المواد اضغط هنا

<https://almanahj.com/om>

* للحصول على أوراق عمل لجميع مواد الصف الثاني عشر اضغط هنا

<https://almanahj.com/om/12>

* للحصول على جميع أوراق الصف الثاني عشر في مادة هذا وطني ولجميع الفصول, اضغط هنا

<https://almanahj.com/om/12country>

* للحصول على أوراق عمل لجميع مواد الصف الثاني عشر في مادة هذا وطني الخاصة بـ الفصل الثاني اضغط هنا

<https://almanahj.com/om/12country2>

* لتحميل كتب جميع المواد في جميع الفصول للـ الصف الثاني عشر اضغط هنا

<https://almanahj.com/om/grade12>

* لتحميل جميع ملفات المدرس أسماء بنت محمد البلوشي اضغط هنا

للتحدث إلى بوت على تلغرام: اضغط هنا

https://t.me/omcourse_bot

أسئلة مراجعة في درس سوق العمل توجه

علمي واهتمام وطني

مادة هذا وطني للصف الثاني عشر

إعداد/ أ. أسماء بنت محمد البلوشي



1

الأسئلة الموضوعية: اختر الإجابة الصحيحة من بين البدائل المعطاة:

1- الرمز الذي يشير إلى المفهوم الصحيح لسوق العمل في الجدول التالي هو:

الرمز	المفهوم
أ	سوق افتراضي يتضمن العارضين لفرص العمل من المؤسسات الحكومية والخاصة فقط.
ب	سوق على أرض الواقع يتضمن القوى العاملة والعارضين لفرص العمل من المؤسسات الحكومية.
ج	سوق افتراضي يتضمن القوى العاملة والباحثين عن عمل من مختلف التخصصات التعليمية فقط.
د	سوق افتراضي يتضمن القوى العاملة والعارضين لفرص العمل من المؤسسات الحكومية والخاصة.

2- العنصران اللذان يتكون منهما سوق العمل هما:

العارضين للفرص من
المؤسسات الحكومية

د

العارضين للفرص من
المؤسسات الحكومية

ج

القوى العاملة

الباحثين عن عمل

ب

القوى العاملة

العارضين للفرص من
المؤسسات الحكومية
والخاصة

أ

3- إحدى المفردات التالية تدل على عنصر العرض في سوق العمل:

د- هيئة البيئة

ج- خريجو كلية الهندسة

ب- وزارة الإسكان

أ- شركة كهرباء مزون

4- جميع ما يلي يعبر عن عنصر الطلب في سوق العمل ما عدا:

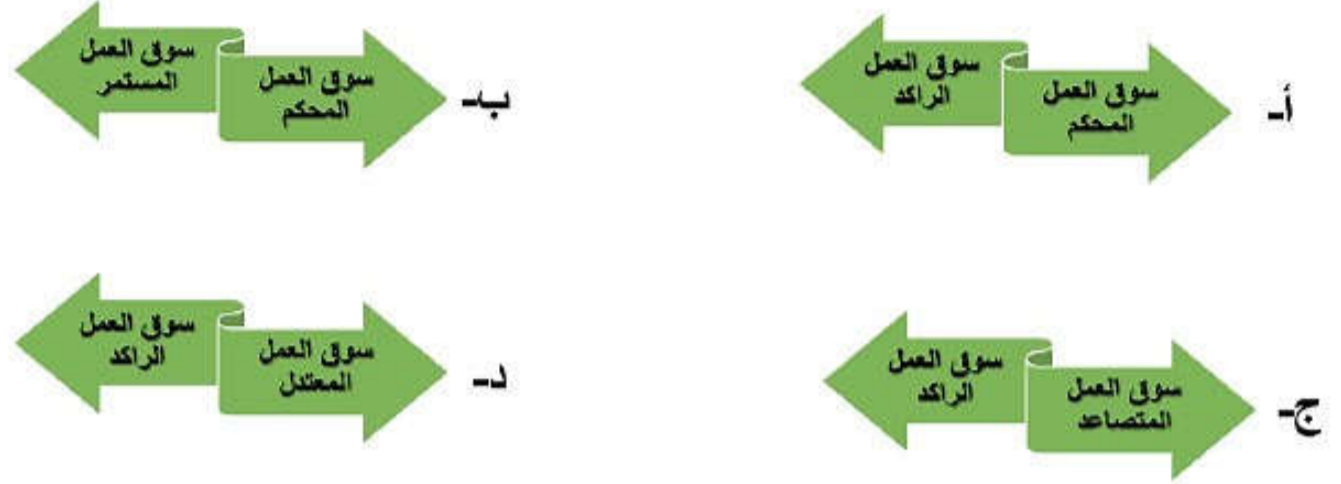
د- شركة مزون للألبان

ج- دبلوم تقنية الحاسوب

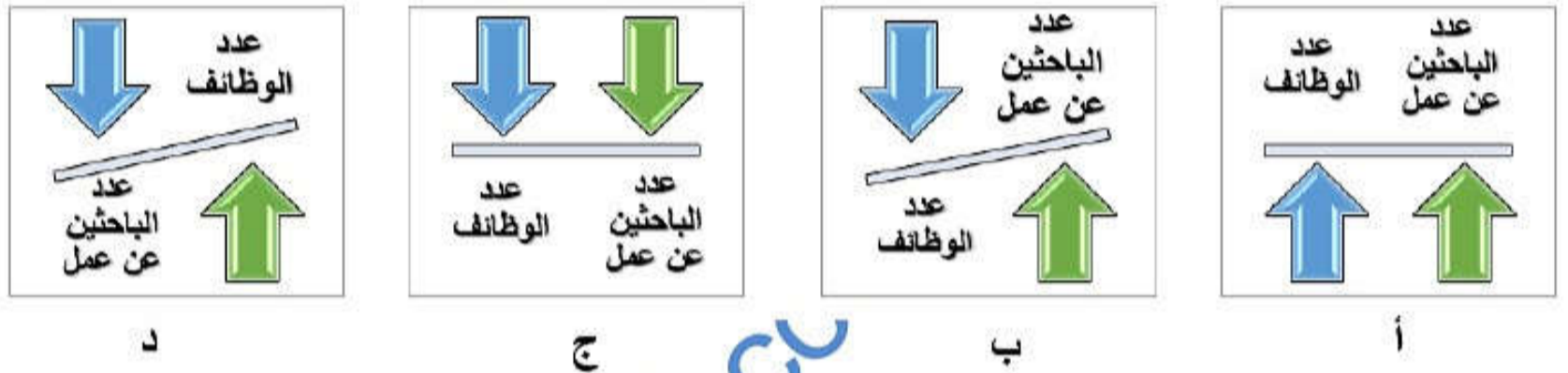
ب- أطباء الأسنان

أ- معلمات رياض الأطفال

5- الشكل الصحيح الذي يشير إلى أنواع سوق العمل هو:



6- الشكل الصحيح الذي يعبر عن نوع سوق العمل المُحكم هو:



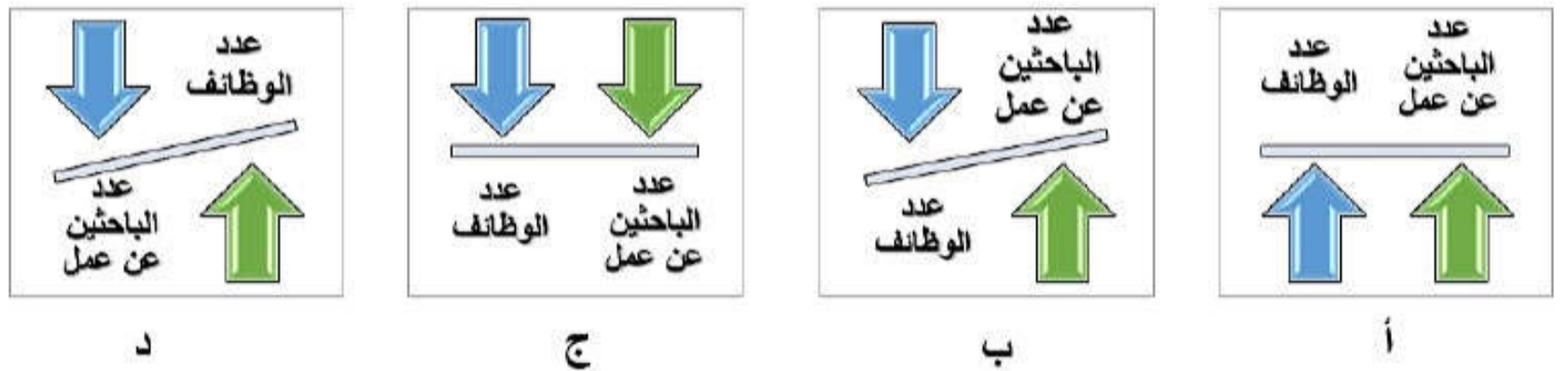
7- سوق العمل الذي يزيد فيه عدد الوظائف على عدد الباحثين عن عمل هو:

- أ- الراكد ب- المعتدل ج- المحكم د- المستمر

8- يسمى سوق العمل الذي يزيد فيه عدد الباحثين عن عمل على عدد الوظائف بـ:

- أ- الراكد ب- المعتدل ج- المحكم د- المستمر

9- الشكل الصحيح الذي يعبر عن نوع سوق العمل الراكد هو:



10- إحدى العوامل التالية يعبر عن العوامل الديموغرافية المؤثرة في سوق العمل:

- أ- الخصائص السكانية ب- العادات والتقاليد ج- الأزمات المالية د- القوانين

11- جميع ما يلي يعبر عن العوامل الثقافية والاجتماعية ما عدا:

أ- العادات والتقاليد ب- التطورات الاقتصادية ج- المستوى التعليمي د- مشاركة المرأة

12- يصنف العامل المؤثر الذي يعبر عنه الشرط رقم (1) في الإعلان الذي أمامك ضمن العوامل:

أ- الجغرافية ب- الديموغرافية

ج- الاقتصادية د- الثقافية والاجتماعية

MODERN COLLEGE OF BUSINESS & SCIENCE

الكلية الحديثة للتجارة والعلوم

إعلان توظيف

تعن الكلية الحديثة للتجارة والعلوم عن حاجتها الى تعيين اعضاء هيئة تدريس من حملة الدكتوراه للتدريس في برنامج ماجستير الادارة العامة باللغة العربية ومن التخصصات التالية:

• (إدارة عامة	• (استاذ مساعد/ استاذ مشارك)
• (إدارة مالية/ تمويل	• (استاذ مساعد , استاذ مشارك)

الشروط:

1- أن يكون حاصل على درجة الدكتوراه من جامعة معترف بها، من قبل وزارة التعليم العالي وبيدوم كامل.

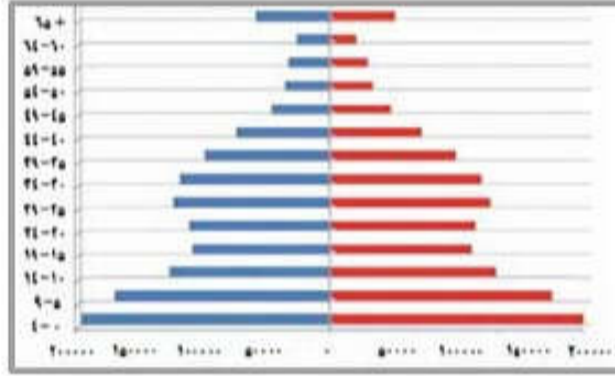
2- أن يكون لديه لديها خبرة أكاديمية لا تقل عن ثلاث سنوات بعد الحصول على درجة الدكتوراه في تدريس برامج الماجستير.

3- التفرغ الكامل للعمل بالكلية.

4- على من لخطيب عليهم الشروط أعلاه إرسال نسخة من السيرة الذاتية وصورة مصدقة من الشهادات العلمية على البريد الالكتروني jobs@mcb.edu.om

13- التركيبة السكانية الصحيحة التي يشير إليها الهرم السكاني لسلطنة عمان لعام 2019م هي:

- أ- ارتفاع فئة كبار السن وانخفاض فئة الشباب.
- ب- انخفاض فئة الشباب وارتفاع فئة الأطفال.
- ج- انخفاض فئة الأطفال وارتفاع فئة الشباب.
- د- ارتفاع فئة الشباب وارتفاع فئة الأطفال.



14- نتج عن إعادة المؤسسات الكبرى لهيكلتها نتيجة للتطور التقني والتكنولوجي:

- أ- توفر نسبة كبيرة من الوظائف.
- ب- اختزال عمليات الإنتاج والتوزيع على الأيدي البشرية.
- ج- اهتمام المؤسسات بتعيين أصحاب الخبرة والمهارات الوظيفية.
- د- التركيز على الشهادات العلمية.

15- الشكل الذي يعبر عن الرموز الصحيحة للقطاعات الاقتصادية الواعدة في سلطنة عمان هو:

السياحة	
الخدمات اللوجستية	
الصناعات التحويلية	

د

الصناعات التحويلية	
الخدمات اللوجستية	
السياحة	

ج

السياحة	
الخدمات اللوجستية	
الصناعات التحويلية	

ب

الخدمات اللوجستية	
السياحة	
الصناعات التحويلية	

أ

16- الرمز الذي يشير إلى قطاع التعدين هو:



17- الرمز الذي يشير إلى التحديات التي واجهها سوق العمل العالمي نظرا لتغير هيكله المؤسسات الكبرى:

الرمز	التحديات التي واجهها سوق العمل العالمي
أ	ارتفاع أعداد الباحثين عن عمل وامتلاك المخرجات التعليمية للمهارات اللازمة لسوق العمل
ب	ارتفاع أعداد الباحثين عن عمل وعدم امتلاك بعض المخرجات التعليمية للمهارات اللازمة لسوق العمل
ج	انخفاض أعداد الباحثين عن عمل وامتلاك المخرجات التعليمية للمهارات اللازمة لسوق العمل
د	انخفاض أعداد الباحثين عن عمل وعدم امتلاك بعض المخرجات التعليمية للمهارات اللازمة لسوق العمل

18- يُعرف الطريق المشار إليه بالسهم في الخريطة التي أمامك باسم:



ب- طريق (أدم - ثمریت)

أ- طريق (الباطنة السريع)

د- طريق (بدبد - صور)

ج- طريق (سناو - محوت - الدقم)

19- يُعرف الطريق المشار إليه بالسهم في الخريطة التي أمامك باسم:

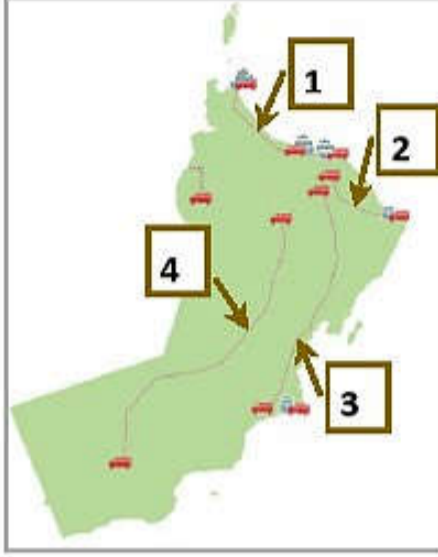


ب- طريق (أدم - ثمریت)

ب- طريق الباطنة السريع

د- طريق (بدبد - صور)

ج- طريق (سناو - محوت - الدقم)



20- الرقم الذي يشير إلى المشروع اللوجستي طريق (بدد - صور) هو:

- أ- (1)
 ب- (2)
 ج- (3)
 د- (4)

21- جميع ما يأتي يصنف ضمن أنشطة قطاع الصناعات التحويلية في سلطنة عمان ما عدا:

- أ- مشروع صلالة ميثانول للأمونيا
 ب- مشروع نماء للدواجن
 ج- مشروع شركة مزون للألبان
 د- مدينة خزائن الاقتصادية

22- الولاية التي أنشأ فيها مشروع الاستزراع السمكي هي:

- أ- قريات
 ب- صور
 ج- الدقم
 د- صلالة

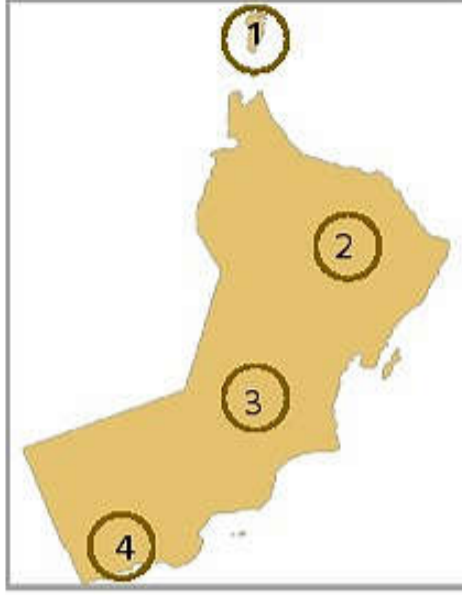


23- يربط المشروع اللوجستي المشار إليه بالسهم في الخريطة التي أمامك دولة سلطنة عمان بـ:

- أ- دولة الإمارات العربية المتحدة
 ب- دولة قطر
 ج- دولة المملكة العربية السعودية
 د- دولة اليمن

24- مشروع لإحدى الصناعات التحويلية يوجد في ولاية عبري هو:

- أ- مشروع مزون للألبان
 ب- مشروع نماء للدواجن
 ج- مشروع للصناعات البلاستيكية
 د- مشروع تعدين النحاس



25- الرقم الذي يشير إلى الموقع الصحيح لمشروع تعدين النحاس هو:

أ- (1)

ب- (2)

ج- (3)

د- (4)

26- الرمز الذي يشير إلى تصنيف قطاع المشروع الإقتصادي (مدينة العرفان) هو:



27- الجدول الصحيح الذي يمثل مشاريع القطاعات الاقتصادية الواعدة في سلطنة عمان هو:

القطاع الإقتصادي	اسم المشروع
الثروة السمكية	شركة مزون للألبان
الصناعات التحويلية	مطار مسقط الدولي
الخدمات اللوجستية	مدينة العرفان

ب-

القطاع الإقتصادي	اسم المشروع
الخدمات اللوجستية	شركة مزون للألبان
الصناعات التحويلية	مطار مسقط الدولي
السياحة	مدينة العرفان

أ-

القطاع الإقتصادي	اسم المشروع
الصناعات التحويلية	شركة مزون للألبان
الخدمات اللوجستية	مطار مسقط الدولي
السياحة	مدينة العرفان

د-

القطاع الإقتصادي	اسم المشروع
السياحة	شركة مزون للألبان
الخدمات اللوجستية	مطار مسقط الدولي
الصناعات التحويلية	مدينة العرفان

ج-

28- قامت السلطنة بتمكين الإدارات العمالية الوسطى والعليا في القطاع الخاص من خلال:

ب- تطوير حزم حلول من القوى العاملة

أ- إنشاء المديرية العامة للتشغيل

د- جعل القطاع الخاص أكثر جذبا.

ج- البرنامج الوطني للتطوير القيادي

29- الوزارة التي تتبعها المديرية العامة للتشغيل هي :

د- وزارة التربية والتعليم

ج- وزارة الصحة

ب- وزارة العمل

أ- وزارة الإسكان

30- المبادرة التي أطلقتها السلطنة لجعل القطاع الخاص أكثر جذبا للقوى العاملة العمانية:

- تطوير الاشتراطات والمزايا والمعايير المتعلقة ببيئة العمل في الشركات.
- إنشاء المديرية العامة للتشغيل.
- تطوير حزم حلول للقوى العاملة الوطنية في قطاعات التنوع الاقتصادي المستهدفة.
- تدريب الموارد البشرية.

31- تم انشاء وزارة العمل وفقا للمرسوم:

- أ- (2020/80) ب- (2020 / 89) ج- (2021 / 89) د- (2021 / 89)

الأسئلة المقالية:

- 1- عرّف المقصود بسوق العمل؟
- 2- حدّد أنواع سوق العمل؟
- 3- عرّف المفاهيم التالية: سوق العمل المُحكّم، سوق العمل الراكد.....
- 4- صنّف العوامل المؤثرة على سوق العمل؟
- 5- أكمل الفراغات في الجدول الآتي:

العوامل الثقافية و.....	العوامل	العوامل	العوامل الجغرافية
المستوى التعليمي و..... العادات والتقاليد	تشريعات وقوانين العمل	التطورات الاقتصادية	الخصائص السكانية

- 6- وضّح أهمية مشاركة المرأة في سوق العمل؟
- 7- فسّر: ظهور مجموعة من التغيرات في سوق العمل العالمي.....
- 8- ما النتيجة التي ترتبت على ظهور التطور العلمي والتكنولوجي في سوق العمل العالمي
- 9- أعطِ ثلاثة نتائج ترتبت على إعادة المؤسسات الكبرى لهيكلتها الاقتصادية حسب مقتضيات سوق العمل العالمي.
.....،.....،.....






10- عدد اثنين من التحديات التي ظهرت نتيجة لإعادة المؤسسات الكبرى لهيكلتها الاقتصادية.

11- وضح/ كيف ركزت رؤية عُمان 2040 في الاهتمام بسوق العمل العماني.....

12- ما النتيجة المترتبة على تنوع القطاعات الاقتصادية في سلطنة عمان.....

13- عدد القطاعات الاقتصادية الاستثمارية الواعدة في سلطنة عمان؟.....

14- أكمل الفراغات بتسمية القطاعات الاقتصادية حسب الرموز الواردة في الجدول التالي:

اسم القطاع
الرمز					

15- عدد أهم الإجراءات التي اتخذتها السلطنة في سبيل مواكبة التطورات التي حدثت في منظومة الإقتصاد العالمي.

16- استنتج دور البرنامج الوطني للتطوير القيادي في دعم سوق العمل العماني.....

17- وضح كيف تمكنت السلطنة من جعل القطاع الخاص أكثر جذبا للقوى العاملة العمانية.....

18- بالاستعانة بخريطة المشاريع الاقتصادية موزعة على محافظات السلطنة صفحة 84 (أسئلة تدريبية)

أ- استخراج اثنين من مشاريع الصناعات التحويلية في محافظة مسندم.

ب- وقّع على الخريطة المحافظة التي يقع فيها المشروع السياحي مدينة العرفان.

ج- اكتب المحافظة التي يقع فيها مشروع شركة مزون للألبان.

د- حدّد الولاية التي يقع فيها مشروع تعدين النحاس في محافظة الشرقية.

هـ- صنّف مشروع صلالة ميثاقول للأمنيا ضمن أي القطاعات الاقتصادية التي ينتمي إليها.

و- ما اسم الولاية التي يقع فيها مشاريع الاستزراع السمكي في محافظة مسقط.

ز- ظلل المحافظة التي يقع فيها مشروع النماء للدواجن.

ح- ضع الرمز (▲) على المحافظة التي يقع فيها مشروع خزائن الاقتصادية.

ط- يصنف مشروع مجمع لوى للصناعات البلاستيكية ضمن مشاريع قطاع :

الخدمات اللوجستية

الصناعات التحويلية (اختر الإجابة الصحيحة)

شكرا لكم .. أرجو لكم التوفيق والسداد في جميع اختباراتكم